

State Bank of India (SBI)

Clerks - Previous Paper

H i n d i V e r s i o n

Held on 3rd June 2012

www.Guide4BankExams.blogspot.in

For more materials and Previous Papers visit us at

www.Guide4BankExams.blogspot.in

एसबीआई लिपिकीय लिखित परीक्षा-3 जून 2012 (1st sitting) का प्रश्नपत्र

प्रश्नावली ।

सामान्य सचेतता

- प्र.1. निम्न में से किस एजेंसी/संस्था ने सीरिया पर प्रतिबंध लगाए हैं ?
(1) OPEC (2) NATO (3) विश्व बैंक (4) यूरोपीय संघ (5) G-8
- प्र.2. दूसरी अवधि के लिए UNO के महासचिव के रूप में सर्वसम्मति से निम्न में से किसे चुना गया है ?
(1) एलेन जॉनसन सरलीफ (2) नेल्सन मंडेला (3) हिलेरी आर क्लिंटन
(4) जेकब मैथ्यू (5) बान-की मून
- प्र.3. अन्तर्राष्ट्रीय परमाणु ऊर्जा एजेंसी (IAEA) ने निम्न में से किस देश के साथ बातचीत का नया दौर शुरू करने का निर्णय किया है क्योंकि यह चर्चा के पिछले दौर से संतुष्ट नहीं है ?
(1) ईराक (2) भारत (3) जापान (4) ईरान (5) जर्मनी
- प्र.4. UNESCO द्वारा किए गए निर्णय के अनुसार, 'अंतर्राष्ट्रीय साक्षरता दिवस' प्रति वर्ष निम्न में से किस दिन मनाया जाता है ?
(1) 8 सितंबर (2) 18 मार्च (3) 28 मार्च (4) 18 सितंबर (5) इनमें से कोई नहीं
- प्र.5. यूरोपीय संघ और IMF द्वारा लिए गए निर्णय के अनुसार, वर्ष 2014 तक 100 बिलियन यूरो की नई सहायता निम्न में से किस देश को मिलेगी ?
(1) इटली (2) ग्रीस (3) पुर्तगाल (4) स्पेन (5) बेल्जियम
- प्र.6. आंध्र प्रदेश का एक गांव 'कोव्वाडा' हाल में खबरों में था क्योंकि —
(1) वहां एक परमाणु संयंत्र विकसित किया जा रहा है
(2) वहां मारुति ने छोटी कार का संयंत्र बनाने का निर्णय किया है
(3) वहां RBI नया नोट प्रिंटिंग प्रेस स्थापित करने जा रहा है
(4) नगर में भूकम्प आया जिसमें बहुत से लोगों की मृत्यु हो गई
(5) यह नया अंतरिक्ष अनुसंधान केंद्र विकसित करने के लिए चुना गया स्थान है
- प्र.7. वित्त मंत्रालय द्वारा विकसित भारत का नया रेटिंग सूचकांक निम्न में से कौन सा है ?
(1) CECA (2) CRIS (3) SENSEX (4) TIEA (5) RTGS
- प्र.8. इन दिन अखबारों/पत्रिकाओं में हम अक्सर 'परफार्म, एचीव एंड ट्रेड' (PAT) शब्द पढ़ते हैं। PAT का संबंध निम्न में से किस क्षेत्र से है ?
(1) ऊर्जा दक्षता (2) इंदिरा आवास योजना (3) दोपहर का भोजन योजना
(4) भारत निर्माण (5) राष्ट्रीय वृद्धावस्था पेंशन योजना
- प्र.9. भारत में आरंभिक अवस्था में नवोन्मेष को प्रोत्साहित करने के लिए राष्ट्रीय नवोन्मेष निधि (NIF) स्थापित करने का निर्णय निम्न में से किस संस्था/एजेंसी ने लिया है ?
(1) विश्वविद्यालय अनुदान आयोग (2) भारतीय उद्योग परिसंघ (CII)
(3) विज्ञान एवं प्रौद्योगिकी विभाग, भारत सरकार (4) परमाणु ऊर्जा आयोग (AEC)
(5) औद्योगिक एवं वैज्ञानिक अनुसंधान परिषद (CSIR)
- प्र.10. निम्न में से कौन सा देश यूरोपीय संघ का सदस्यता लेने की कोशिश कर रहा है ?
(1) म्यांमार (2) ब्राजील (3) क्रोशिया (4) इटली (5) दक्षिण अफ्रिका
- प्र.11. जनवरी 2012 में निम्न में से किस देश में आम चुनाव हुए जिसमें मुस्लिम-ब्रदरहुड पार्टी जबदस्त बहुमत से विजयी हुई ?
(1) लेबनान (2) लीबिया (3) सीरिया (4) मिस्र (5) ईरान
- प्र.12. वेब आधारित रिवारक सिस्टम 'SCORES' की शुरुआत निम्न में से किस संस्था/एजेंसी ने की है ?
(1) कारपोरेट कार्य मंत्रालय (2) सेबी (3) RBI (4) भारतीय स्टेट बैंक (5) IBA

एसबीआई लिपिकीय लिखित परीक्षा जून 2012 (1st sitting) का प्रश्नपत्र

- प्र. 13. निम्न में से किस देश ने लोकतांत्रिक सुधार अपनाने के उपाय के रूप में राजनैतिक बंधियों को रिहा करने और माफ करने का निर्णय किया है ?
(1) म्यांमार (2) बांग्लादेश (3) माली (4) अफगानिस्तान (5) श्रीलंका
- प्र. 14. सतीश गुजराल ने निम्न में से कौन सी पुस्तक लिखी है ?
(1) अ जनरल एंड हिज आर्मी (2) अ बैंड इन द रिबर (3) अ सेकुलर एजेंडा
(4) अ ब्रश विद लाइफ (5) बेस्ट एंड ब्राइटस्ट
- प्र. 15. 2012 में पद्म भूषण से सम्मानित होने वाले जतिन दास एक प्रसिद्ध — हैं।
(1) चित्रकार (2) सिने अभिनेता (3) फिल्म निर्देशक (4) खिलाड़ी (5) समाज सेवक
- प्र. 16. उस अर्थव्यवस्था को — कहते हैं जिसमें सार्वजनिक और निजी दोनों क्षेत्रों का मिश्रण हो।
(1) क्लोज्ड अर्थव्यवस्था (2) मिक्स्ड अर्थव्यवस्था (3) ओपन अर्थव्यवस्था
(4) फ्री ट्रेड अर्थव्यवस्था (5) पब्लिक अर्थव्यवस्था
- प्र. 17. एशियाई विकास बैंक (ADB) निम्न में से क्या बनाने के लिए भारत को US \$ 500 मिलियन का ऋण देने के लिए सहमत हो गया है ?
(1) नक्सल प्रभावित इलाकों में सड़कें (2) उत्तर पूर्वी राज्यों रेल ट्रेक
(3) मानव रहित पार गमन रास्तों पर रेल फाटक (4) 'बिहार का दुख' के रूप में ज्ञात काली नदी पर छह पुल
(5) ओडिशा के गांवों में स्कूल भवन
- प्र. 18. इंग्लैंड के रॉबर्ट रॉक ने हाल में आबू धाबी में हुए एक अंतर्राष्ट्रीय खेल में जीत हासिल की। वह एक विख्यात — हैं।
(1) गोल्फ खिलाड़ी (2) बैडमिंटन खिलाड़ी (3) लॉन टेनिस खिलाड़ी
(4) टेबल टेनिस खिलाड़ी (5) शतरंज खिलाड़ी
- प्र. 19. जनवरी 2012 में खेला गया रणजी ट्रॉफी फाइनल निम्न में से किस टीम ने जीता ?
(1) तमिलनाडु (2) पंजाब (3) महाराष्ट्र (4) राजस्थान (5) हरियाणा
- प्र. 20. नए अनुमान के अनुसार भारत की प्रति व्यक्ति आय कितनी है ? (प्रति वर्ष)
(1) ₹ 30,000/- (2) ₹ 40,000/-
(3) ₹ 50,000/- से अधिक किंतु ₹ 58,000/- से कम (4) ₹ 60,000/-
(5) ₹ 75,000/- से अधिक किंतु ₹ 1 लाख से कम
- प्र. 21. भारतीय रिजर्व बैंक — निर्धारित नहीं करता है।
(1) रिपो एवं स्विस रिपो दर (2) मार्जिनल स्टैंडिंग फैसिलिटी दर (3) बैंक दर
(4) सरकारी कर्मचारियों को महंगाई भत्ते की दर (5) सांविधिक चलनिधि अनुपात
- प्र. 22. वित्तीय लेनदेनों में प्रयुक्त शब्द 'PAN' में 'P' अक्षर से क्या बनता है ?
(1) Primary (2) Partial (3) Permanent (4) Provisional (5) Public
- प्र. 23. डेनियल ऑटेंगा — के मौजूदा राष्ट्रपति हैं।
(1) नाइजीरिया (2) निकारागुआ (3) थाइलैंड (4) बेलारूस (5) इनमें से कोई नहीं
- प्र. 24. जनवरी 2012 में हुए 57वें फिल्मफेअर पुरस्कार समारोह में निम्न में से कौन सी सर्वश्रेष्ठ फिल्म आंकी गई ?
(1) डर्टी पिक्चर (2) रॉकस्टार (3) स्टैनली का डब्बा (4) डॉन 2 (5) जिंदगी न मिलेगी दोबारा
- प्र. 25. निम्न में से किस देश ने कहा है कि यदि अन्य देशों को तेल एवं पेट्रोलियम की बिक्री करने से रोका गया तो वह स्ट्रेट ऑफ होर्मज को ब्लॉक कर देगा ?
(1) ईराक (2) कुवैत (3) ओमान (4) सऊदी अरब (5) ईरान

एसबीआई लिपिकीय लिखित परीक्षा जून 2012 (1st sitting) का प्रश्नपत्र

- प्र.26. थॉमस कप का संबंध — के खेल से है ।
(1) गोल्फ (2) क्रिकेट (3) बैडमिंटन (4) फुटबाल (5) लॉन टेनिस
- प्र.27. MCX भारत के निम्न में से किस स्टॉक एक्सचेंज का सूचकांक है ?
(1) राष्ट्रीय स्टॉक एक्सचेंज (2) मुंबई स्टॉक एक्सचेंज (3) दिल्ली स्टॉक एक्सचेंज
(4) कोलकाता स्टॉक एक्सचेंज (5) मल्टी कमोडिटी स्टॉक एक्सचेंज
- प्र.28. मा - थिंग - जियो — के मौजूदा राष्ट्रपति हैं ।
(1) थाइलैंड (2) हांग कांग (3) ताइवान (4) म्यांमार (5) फिजी
- प्र.29. ब्राजील में निम्न में से किस मुद्रा का प्रयोग किया जाता है ?
(1) डॉलर (2) यूरो (3) रीयल (4) पेसो (5) फ्रैंक
- प्र.30. 2017 में आयोजित होने वाली विश्व एथलैटिक चैम्पियनशिप निम्न में से किस स्थान पर होगी ?
(1) टोकियो (2) पेरिस (3) न्यूयॉर्क (4) लंदन (5) मुंबई
- प्र.31. वनस्पति शास्त्र में निम्न में से किस शब्द का प्रयोग होता है ?
(1) रिसैशन (2) डम्पिंग (3) बार्टर सिस्टम (4) कार्टल (5) बेनियल
- प्र.32. 'निर्मल ग्राम पुरस्कार' — को बढ़ावा देने हेतु एक प्रोत्साहन है ।
(1) स्कूलों में अच्छी उपस्थिति (2) गावों में सम्पूर्ण स्वच्छता (3) मुफ्त एवं अनिवार्य शिक्षा
(4) महिला सशक्तिकरण के प्रति जागरूकता (5) ये सभी
- प्र.33. निम्न में से कौन सी एक विद्यीय संस्था / एजेंसी नहीं है ?
(1) IRDA (2) BCCI (3) FPSB (4) SEBI (5) CAG
- प्र.34. चेतन भगत ने निम्न में से कौन सी पुस्तक लिखी है ?
(1) अ जनरल एंड डिज आर्मी (2) अ पॉसिबल इंडिया (3) बिटर स्वीट
(4) चाइना पेसेज (5) रेबल्यूशन 2020
- प्र.35. निम्न में से कौन सा अंतरराष्ट्रीय मैचों के लिए क्रिकेट का प्रसिद्ध मैदान/स्टेडियम नहीं है ?
(1) इंडन गार्डन्स (2) ग्रीन पार्क (3) वानखेड़े स्टेडियम (4) चर्चॉक स्टेडियम (5) जंतर मंतर मैदान
- प्र.36. नीचे दिए गए खिलाड़ियों और उनके द्वारा खेले जाने वाले खेल के संयोजनों में से कौनसा सही नहीं है ?
(1) वी. वी. एस. लक्ष्मण - क्रिकेट (2) साइना नेहवाल - बैडमिंटन (3) सानिया मिर्जा - गोल्फ
(4) अभिनव बिंद्रा - शूटिंग (5) विश्वनाथन आनंद - शतरंज
- प्र.37. विज्ञान एवं प्रौद्योगिकी के क्षेत्र में अनुकरणीय योगदान के लिए निम्न में से कौन सा पुरस्कार दिया जाता है ?
(1) अर्जुन पुरस्कार (2) कालिदास सम्मान (3) द्रोणाचार्य पुरस्कार
(4) दादा साहेब फालके पुरस्कार (5) शांति स्वरूप भटनागर पुरस्कार
- प्र.38. बैंकिंग / वित्त में निम्न में से किस शब्द का प्रयोग नहीं होता है ?
(1) सार्वजनिक ऋण (2) प्लाज्मा (3) संयुक्त उद्यम
(4) निवल मांग एवं सावधि देयता (5) खजाना बिल
- प्र.39. वर्ष 2011 के लिए साहित्य अकादमी पुरस्कार निम्न में से किसे दिया गया था ?
(1) आनंद कुंमार (2) श्रीलाल शुक्ल (3) मृगाल पाण्डे
(4) सु. ब्रह्मचारी (5) वासुदेवन नायर
- प्र.40. विक्टोरिया अजिन्का ने — को हराकर आस्ट्रेलियाई ओपन महिला सिंगल टेनिस टूर्नामेंट 2012 जीता ।
(1) मारिया शारापोवा (2) वेशा ज्वोनारेवा (3) स्वेतलाना कुजन्सोवा
(4) बेथनी मैटक सैंड्स (5) सानिया मिर्जा

TEST II

GENERAL ENGLISH

- Q.41-55. Read the following passage carefully and answer the questions given below it. Certain words / phrases have been printed in **bold** to help you locate them while answering some of the questions.

Sheela and Jairam were a **poor** old couple. Their only **possession** was one cow. Once, Jairam fell very sick. Soon all their money was used up in buying medicines and they realised that they would have to sell their cow in order to bear the rest of the expenses. Sheela decided to go to the market and sell the cow. She set off, leading the cow by a rope. On the way, she met four young men. They were the local bullies who enjoyed teasing and tormenting old people. When they saw old Sheela with her cow, they decided to play a trick. One of them sneaked up behind her, untied the cow and tied a goat in its place. Sheela had been walking immersed in thought, worried about Jairam. Suddenly she heard a goat bleat behind her. She turned around and was surprised to see that her cow had **vanished**. She was leading a goat to the market. The four **bullies** came up to her and said, "There is magic in the air these days. See, it turned your cow into a goat." Poor Sheela walked on with the goat. After a little while, the boys untied the goat and tied a rooster in its place. The rooster crowed and Sheela was surprised again. The goat had turned into a rooster! The four bullies shouted, "Magic in the air, Grandma." She resumed walking with the rooster in tow. **After** a few minutes the boys crept up again, untied the rooster and tied a log of wood in its place. **A few** moments later Sheela realised that she was dragging a log of wood with a rope. Again, the bullies shouted, "Magic in the air, Grandma." After a few minutes, the boys untied the log of wood too and ran away with it. When Sheela finally reached the market, she ~~found that she had~~ nothing but a rope in her hand. She came back home **dejected** as she had lost the cow. She told Jairam the whole story. He immediately understood what had happened. "Make chapatti, vegetable and kheer for lunch tomorrow," he said. "Cook for atleast four people. I will come home with some guests. As soon as they come you must say, 'I cooked what the rabbit told me. Come, eat your lunch.' Leave everything else to me," Jairam reassured her. The next morning Jairam went and borrowed two identical rabbits from a friend. He left one at home, tied the other one with a string and started walking towards the market with it. On the way he too met the four bullies. "Hey Grandfather!" they yelled, "Your wife's cow vanished yesterday. Where are you taking this rabbit now?" Jairam sighed sadly and said, "This rabbit is like my son. It obeys everything I say. But now I am sick and we need money, so I am going to sell it in the market." The four bullies were surprised when they heard this. "Does it really understand what you say, Grandfather?" they asked. Jairam replied, "Of course it does. Here, watch me." Jairam turned towards the rabbit and said, "Hop home and tell Sheela to make chapattis, vegetable and kheer for four people." Then he untied the string and let the rabbit hop away. He turned towards the four boys and said, "Come home and have lunch with me." When they reached his house, his wife welcomed them and said, "I cooked what the rabbit asked me to cook. Come, eat your lunch." She served the chapattis, vegetable and kheer to all of them. The four bullies were stunned when they saw the rabbit sitting in the corner. They told Jairam, "We will buy your rabbit." Jairam pretended to think and said, "It is very precious to me." The four bullies immediately offered him a higher price. Jairam showed some reluctance. The moment he **agreed** to sell the rabbit they paid him the money and left with the rabbit immediately. The four bullies decided to test the rabbit's abilities. They had been blackmailing a landlord for money. So they told the rabbit, "Go and tell the landlord to bring us the money within ten minutes." The rabbit hopped off. They waited for an hour but the landlord did not come with the money. They marched to his house and yelled, "Give us the money and our rabbit." The landlord had been waiting for a chance to teach these bullies a lesson. He ordered his strongest bodyguard to give them a good **thrashing**. Bleeding and bruised they went back to Jairam's house and said, "You fooled us. Return our money at once." Jairam simply smiled and said, "The money has disappeared! There is magic in the air."

- Q.41. Why did Sheela and Jairam decide to sell the cow ?
- (1) They had spent all their money on Jairam's sickness and needed more money
 - (2) Sheela wanted to buy a rooster and they needed money for that
 - (3) They were fed up of the four bullies and wanted to teach them a lesson
 - (4) They wanted to invite the four bullies for lunch and needed money for buying the ingredients
 - (5) They owed money to the landlord

- Q.42.** Why was Jairam reluctant to sell the rabbit ?
(1) He only pretended to be reluctant in order to fool the bullies
(2) He was fond of the little rabbit and did not want to sell it to the bullies
(3) He wanted to gift the rabbits to the landlord
(4) He knew that the bullies would not take good care of the rabbit
(5) He wanted to sell the rabbit in the market and get a better price for it
- Q.43.** Which of the following maybe an appropriate title to the passage ?
(1) Magic in the air (2) Never steal a cow (3) The strongest bodyguard
(4) The smart bullies (5) The obedient rabbit
- Q.44.** What did Sheela do after reaching the market empty handed ?
(1) Determined to earn money, she managed to sell the rope that she was left with
(2) She returned home dejected and narrated the whole incident to her husband
(3) She bought two rabbits and devised a plan to get back at the bullies
(4) She went to the landlord and complained about the bullies
(5) She went home and cooked lunch for her husband and herself
- Q.45.** What did the four bullies tie to Sheela's rope immediately after untying the cow ?
(1) A log of wood (2) A rooster (3) A rabbit
(4) A goat (5) Not mentioned in the passage
- Q.46.** Why were the four bullies surprised when they were talking to Jairam ?
(1) They knew that Jairam was sick and had not expected to see him
(2) They had not expected Jairam to invite them for lunch
(3) They could not believe that the rabbit could understand and obey Jairam
(4) They knew that Jairam did not own a rabbit and were surprised to see him with one
(5) They could not believe that Jairam knew the rabbit's language
- Q.47.** What did the four bullies see when they reached Jairam's house ?
(1) They saw that two rabbits were sitting in the corner
(2) They saw that Sheela had not prepared any lunch
(3) They saw the cow they had stolen from Sheela on the previous day
(4) They saw the log of wood they had tied to Sheela's rope
(5) They saw that the same rabbit was sitting in the corner
- Q.48.** Arrange the following incidents in a chronological order as they occurred in the passage.
(A) Jairam and Sheela needed money
(B) The four bullies sent the rabbit to the landlord
(C) Sheela cooked chapattis, vegetable and kheer
(D) The four bullies tied a log of wood to the rope
(1) ADBC (2) ACDB (3) ADCB (4) DABC (5) DACB
- Q.49.** Which of the following is true according to the passage ?
(1) The four boys liked to help old people
(2) Jairam asked Sheela to cook lunch for atleast four people
(3) The rabbit could understand Jairam
(4) Jairam could not trick the four boys
(5) None is true
- Q.50.** What did the landlord do when the four bullies went to his house and yelled ?
(1) He got scared and immediately gave them the money
(2) He ran away and hid in the market
(3) He complained to Jairam about this
(4) He ordered his strongest bodyguard to thrash them
(5) He offered them lunch in order to calm them down

एसबीआई लिपिकीय लिखित परीक्षा जून 2012 (1st sitting) का प्रश्नपत्र

Q.51-53. Choose the word / group of words which is **most similar** in the meaning to the word / group of words printed in **bold** as used in the passage.

Q.51. Threshing : (1) Garbage (2) Beating (3) Shouting (4) Warning (5) Rejection

Q.52. Possession : (1) Control (2) Power (3) Custody (4) Keeping (5) Belonging

Q.53. Vanished : (1) Gone missing (2) Was found (3) Was killed
(4) Was left behind (5) Had exchanged

Q.54-55. Choose the word which is **most opposite** in meaning to the word printed in **bold** as used in the passage.

Q.54. Agreed : (1) Decided (2) Arranged (3) Accepted (4) Declined (5) Fixed

Q.55. Dejected : (1) Happy (2) Hurried (3) Crestfallen (4) Slowly (5) Angrily

Q.56-60. Each sentence below has two blanks, each blank indicating that something has been omitted. Choose the set of words for each blank which best fits the meaning of the sentence as a whole.

Q.56. The students _____ not reach on time _____ of the transport strike.
(1) can - as (2) could - because (3) may - account
(4) will - despite (5) should - for

Q.57. They were _____ to vacate that house as _____ as possible.
(1) asked - soon (2) ordered - easy (3) shown - early (4) told - later (5) found - fast

Q.58. The teacher _____ the concept by _____ practical examples.
(1) showed - telling (2) gave - speaking (3) liked - citing
(4) found - looking (5) explained - quoting

Q.59. The manager told us _____ Ramesh was very anxious _____ the meeting.
(1) about - in (2) that - before (3) like - during (4) the - for (5) said - after

Q.60. She did not tell _____ that she _____ attended the party.
(1) someone - have (2) no one - has (3) him - not (4) her - can (5) anyone - had

Q.61-65. Read each sentence to find out whether there is any grammatical error or idiomatic error in it. The error, if any, will be in one part of the sentence. The number of that part is the answer. If there is "No Error" the answer is '5'. (Ignore errors of punctuation if any.)

Q.61. The shepherd counted / his sheep and found / that one of / them is missing. No Error
(1) (2) (3) (4) (5)

Q.62. The teacher were / impressed by her performance / and asked her to / participate in the competition. No Error
(1) (2) (3) (4) (5)

Q.63. She asked her / son for help her / find a place to bury / the gold ornaments. No Error
(1) (2) (3) (4) (5)

Q.64. The painter was / ask to paint a / picture of the king, / sitting on his throne. No Error
(1) (2) (3) (4) (5)

Q.65. The story was / about how an / intelligent man had saving / himself from being robbed. No Error
(1) (2) (3) (4) (5)

एसबीआई लिपिकीय लिखित परीक्षा जून 2012 (1st sitting) का प्रश्नपत्र

- Q.66-70.** Which of the phrases (1), (2), (3) and (4) given below should replace the phrase given in **bold** in the following sentence to make the sentence grammatically meaningful and correct? If the sentence is correct as it is and 'No correction is required', mark (5) as the answer.
- Q.66.** They are **yet to decided** about buying the new furniture.
(1) still decide (2) yet to decision (3) yet to decide
(4) still decided (5) No correction required
- Q.67.** Rohan's mother was **feed up of** his laziness.
(1) fed up in (2) fed off (3) feeds up of
(4) fed up of (5) No correction required
- Q.68.** She was just looking outside the window when a beautiful bird **caught the eye**.
(1) catch the eye (2) eye catching (3) caught her eye
(4) catch her eyes (5) No correction required
- Q.69.** They **sent out** the invitations last evening.
(1) send out (2) sending out (3) sent at
(4) sending in (5) No correction required
- Q.70.** He had to **bear the brunt** of his father's mistakes.
(1) bear the burnt (2) bear the burns (3) bear a brunt
(4) bear and burn (5) No correction required
- Q.71-80.** In the following passage there are blanks, each of which has been numbered. These numbers are printed below the passage, against each, five words are suggested, one of which fits the blank appropriately. Find out the appropriate word in each case.

Emperor Akbar was fond of (71) tricky questions to Birbal. One day he asked Birbal what he would (72) if he were given a choice between justice and a gold coin. "The gold coin," said Birbal. Akbar was (73) aback. He had known Birbal for many years and he knew that Birbal was a just person. Then how could he choose the gold coin. "You would prefer a gold coin to justice?" he asked, incredulously. "Yes," said Birbal. The other courtiers were amazed by Birbal's (74) of idiocy. For years they had been trying to discredit Birbal in the emperor's eyes but without success and now the man had gone and (75) it himself! They could not believe their good fortune. "I would have been dismayed if even the lowliest of my servants had said this," continued the emperor. "But coming from you it's shocking - and sad. I did not (76) you were so debased! I never expected this from you. How could you be so shallow?"

One (77) for what one does not have, Your Majesty!" said Birbal, quietly. "You have (78) to it that in our country justice is available to everybody. So as justice is already available to me and as I'm always (79) of money I said I would choose the gold coin." The emperor laughed. He thought to himself, 'I should have known that Birbal would come up with a witty reply as always.' He was so pleased with Birbal's reply that he gave him (80) one but a thousand gold coins.

- Q.71.** (1) showing (2) asking (3) naming (4) finding (5) telling
Q.72. (1) look (2) said (3) think (4) choose (5) find
Q.73. (1) pushed (2) fallen (3) pulled (4) sent (5) taken
Q.74. (1) idea (2) display (3) reply (4) place (5) showing
Q.75. (1) speak (2) thought (3) done (4) create (5) told
Q.76. (1) felt (2) said (3) know (4) accept (5) saw
Q.77. (1) asks (2) chooses (3) look (4) find (5) wish
Q.78. (1) sure (2) put (3) shown (4) seen (5) made
Q.79. (1) no (2) rich (3) short (4) poor (5) plenty
Q.80. (1) but (2) not (3) and (4) so (5) only

प्रश्नावली III

संख्यात्मक अभियोयता

- प्र.81-95. निम्नलिखित प्रश्नों में प्रश्नचिह्न (?) के स्थान पर क्या मूल्य आयेगा ?
- प्र.81. $3.6 + 36.6 + 3.66 + 0.36 + 3.0 = ?$
(1) 44.22 (2) 77.22 (3) 74.22 (4) 47.22 (5) इनमें से कोई नहीं
- प्र.82. $23 \times 45 + 15 = ?$
(1) 69 (2) 65 (3) 63 (4) 71 (5) इनमें से कोई नहीं
- प्र.83. $4\frac{5}{6} + 7\frac{1}{2} - 5\frac{8}{11} = ?$
(1) $2\frac{10}{33}$ (2) $6\frac{20}{33}$ (3) $2\frac{20}{33}$ (4) $6\frac{10}{33}$ (5) इनमें से कोई नहीं
- प्र.84. $\frac{210}{14} \times \frac{17}{15} \times ? = 4046$
(1) 202 (2) 218 (3) 233 (4) 227 (5) इनमें से कोई नहीं
- प्र.85. 2350 का 83% = ?
(1) 1509.5 (2) 1950.5 (3) 1905.5 (4) 1590.5 (5) इनमें से कोई नहीं
- प्र.86. $\sqrt{1089} + 3 = (?)^2$
(1) 5 (2) 6 (3) 3 (4) 8 (5) 4
- प्र.87. $96 + 32 \times 5 - 31 = ?$
(1) 223 (2) 225 (3) 229 (4) 221 (5) इनमें से कोई नहीं
- प्र.88. $? + 36 = (7)^2 - 8$
(1) 1426 (2) 1449 (3) 1463 (4) 1476 (5) इनमें से कोई नहीं
- प्र.89. $\sqrt{8281} = ?$
(1) 89 (2) 97 (3) 93 (4) 91 (5) 83
- प्र.90. $(63)^2 - (12)^2 = ?$
(1) 3528 (2) 3852 (3) 3582 (4) 3825 (5) इनमें से कोई नहीं
- प्र.91. $1\frac{4}{5} + 3\frac{3}{5} = ? - 4\frac{3}{10}$
(1) $9\frac{7}{10}$ (2) $7\frac{7}{10}$ (3) $9\frac{3}{10}$ (4) $7\frac{9}{10}$ (5) इनमें से कोई नहीं
- प्र.92. $17 \times 19 \times 4 + ? = 161.5$
(1) 8 (2) 6 (3) 7 (4) 9 (5) इनमें से कोई नहीं
- प्र.93. $1798 + 31 \times ? = 348$
(1) 3 (2) 6 (3) 4 (4) 5 (5) इनमें से कोई नहीं

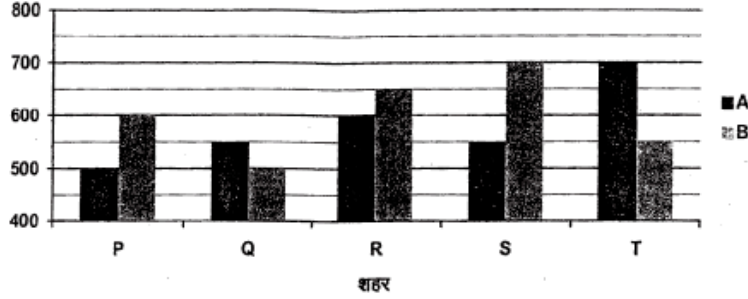
एसबीआई लिपिकीय लिखित परीक्षा जून 2012 (1st sitting) का प्रश्नपत्र

- प्र.94. $(9.8 \times 2.3 + 4.46) \div 3 = (3)^?$
(1) 3 (2) 9 (3) 5 (4) 2 (5) इनमें से कोई नहीं
- प्र.95. 600 का 43% + 300 का ?% = 399
(1) 45 (2) 41 (3) 42 (4) 47 (5) इनमें से कोई नहीं
- प्र.96. ₹ 7500/- की राशि पर 4 प्र.श.प्र.व. की दर से 2 वर्ष में चक्रवृद्धि ब्याज क्या होगा ?
(1) ₹ 618/- (2) ₹ 612/- (3) ₹ 624/- (4) ₹ 606/- (5) ₹ 621/-
- प्र.97. शब्द 'CREAM' के अक्षरों को अलग-अलग कितनी तरह से क्रमबद्ध किया जा सकता है ?
(1) 720 (2) 240 (3) 360 (4) 504 (5) इनमें से कोई नहीं
- प्र.98. एक वृत्त की परिधि 792 मीटर है। इसकी त्रिज्या क्या होगी ?
(1) 120 मीटर (2) 133 मीटर (3) 145 मीटर (4) 136 मीटर (5) इनमें से कोई नहीं
- प्र.99. 36 पेंनों और 42 पेंसिलों की कीमत ₹ 460/- है। 18 पेंनों और 21 पेंसिलों की कीमत क्या है ?
(1) ₹ 230/- (2) ₹ 203/- (3) ₹ 302/- (4) ₹ 320/- (5) इनमें से कोई नहीं
- प्र.100. सात वर्ष पहले A और B की आयु का अनुपात क्रमशः 3 : 4 था। अब से नौ वर्ष बाद उनकी आयु का अनुपात क्रमशः 7 : 8 होगा। B की वर्तमान आयु क्या है ?
(1) 16 वर्ष (2) 19 वर्ष (3) 28 वर्ष (4) 23 वर्ष (5) इनमें से कोई नहीं
- प्र.101. कितने वर्षों में ₹ 4600 की राशि 3 प्र.श.प्र.व. की साधारण ब्याज की दर से ₹ 5428 हो जाएगी ?
(1) 3 (2) 5 (3) 6 (4) 4 (5) इनमें से कोई नहीं
- प्र.102. स्कोर्स के निम्नलिखित सेट का औसत क्या होगा ?
59, 84, 44, 98, 30, 40, 58
(1) 62 (2) 66 (3) 75 (4) 52 (5) 59
- प्र.103. सतत तीन विषम संख्याओं का योग 1383 है। सबसे बड़ी संख्या क्या है ?
(1) 463 (2) 459 (3) 457 (4) 461 (5) इनमें से कोई नहीं
- प्र.104-106. नीचे दी गई जानकारी का अध्ययन कर नीचे दिए गए प्रश्नों के उत्तर दीजिए।
एक वस्तु ₹ 5600 में खरीदी गई थी। इसकी कीमत 12% अधिक अंकित की गई थी। इसके बाद इसे अंकित कीमत पर 5% घु सहित बेचा गया था।
- प्र.104. इस वस्तु की अंकित कीमत क्या थी ?
(1) ₹ 6207/- (2) ₹ 6242/- (3) ₹ 6292/- (4) ₹ 6192/- (5) ₹ 6272/-
- प्र.105. इस संव्यवहार पर कितने प्रतिशत लाभ हुआ था ?
(1) 6.8% (2) 6.3% (3) 6.4% (4) 6.6% (5) 6.2%
- प्र.106. कितनी राशि की कूट दी गई थी ?
(1) ₹ 319.6 (2) ₹ 303.6 (3) ₹ 306.3 (4) ₹ 313.6 (5) ₹ 316.9
- प्र.107. एक आयत का क्षेत्रफल 1209 वर्ग मीटर है। इसकी लंबाई 39 मीटर है। इसकी परिधि कितनी है ?
(1) 122 मीटर (2) 134 मीटर (3) 148 मीटर (4) 144 मीटर (5) इनमें से कोई नहीं

एसबीआई लिपिकीय लिखित परीक्षा-3 जून 2012 (1st sitting) का प्रश्नपत्र

प्र.108-112. नीचे दिए गए ग्राफ का ध्यान से अध्ययन कर उसके बाद दिए गए प्रश्नों के उत्तर दीजिए।

नीचे दिया गया ग्राफ 5 शहर P, Q, R, S और T में दो ब्रांड बैंड सेवाओं A और B के प्रयोक्ताओं की संख्या दर्शाता है।



- प्र.108. पांचों शहरों में मिलकर ब्रांड B के प्रयोक्ताओं की कुल संख्या क्या है ?
 (1) 2700 (2) 3000 (3) 3100 (4) 2900 (5) 3200
- प्र.109. शहर T में ब्रांड A के प्रयोक्ताओं की संख्या शहर Q में ब्रांड B के प्रयोक्ताओं की संख्या का कितना प्रतिशत है ?
 (1) 150 (2) 110 (3) 140 (4) 160 (5) 120
- प्र.110. पांचों शहरों में मिलकर ब्रांड A के प्रयोक्ताओं की औसत संख्या क्या है ?
 (1) 560 (2) 570 (3) 580 (4) 590 (5) 550
- प्र.111. शहर R में ब्रांड A और B का मिलकर प्रयोग करने वालों की कुल संख्या और शहर P में ब्रांड A और B का मिलकर प्रयोग करने वालों की कुल संख्या के बीच क्या अंतर है ?
 (1) 170 (2) 140 (3) 130 (4) 150 (5) 160
- प्र.112. शहर P में ब्रांड A के प्रयोक्ताओं की संख्या शहर S में ब्रांड B के प्रयोक्ताओं की संख्या से क्रमशः अनुपात क्या है ?
 (1) 5 : 7 (2) 4 : 7 (3) 2 : 5 (4) 3 : 4 (5) 5 : 6
- प्र.113. 21 वस्तुएं ₹ 6531 में खरीद कर ₹ 9954 में बेची गईं। प्रति वस्तु लगभग कितने प्रतिशत लाभ हुआ था ?
 (1) 56 % (2) 43% (3) 52% (4) 49% (5) 61%
- प्र.114. A और B एक विशेष कार्य 8 दिन में पूरा करते हैं। अकेला B इसे 10 दिन में पूरा कर सकता है, अकेले काम करने पर A इस काम को कितने दिन में पूरा कर पायेगा ?
 (1) 28 (2) 36 (3) 40 (4) 32 (5) इनमें से कोई नहीं
- प्र.115. एक वस्तु की कीमत ₹ 1700 है। यदि इसे ₹ 2006 की कीमत पर बेचा गया तो प्रतिशत लाभ क्या था ?
 (1) 18 (2) 12 (3) 10 (4) 15 (5) 20
- प्र.116-120. निम्नलिखित संख्या शृंखला में प्रश्नचिह्न (?) के स्थान पर क्या आयेगा ?
- प्र.116. 1 1 2 6 ? 120
 (1) 24 (2) 60 (3) 100 (4) 30 (5) इनमें से कोई नहीं
- प्र.117. 7 8 16 43 ? 232
 (1) 204 (2) 107 (3) 119 (4) 89 (5) इनमें से कोई नहीं
- प्र.118. 4 13 17 ? 30 39
 (1) 29 (2) 21 (3) 26 (4) 19 (5) इनमें से कोई नहीं
- प्र.119. 982 977 952 827 822 ?
 (1) 779 (2) 817 (3) 789 (4) 697 (5) इनमें से कोई नहीं
- प्र.120. 41472 5184 576 72 8 ?
 (1) 0 (2) 9 (3) 1 (4) 8 (5) इनमें से कोई नहीं

एसबीआई लिपिकीय लिखित परीक्षा जून 2012 (1st sitting) का प्रश्नपत्र

प्रश्नावली IV

तार्किक क्षमता

- प्र.121-125. निम्नलिखित प्रश्न नीचे दिए गए पांच शब्दों पर आधारित हैं :
- WIT BAR URN ELF TOP
- (उल्लिखित परिचालन करने के बाद बनने वाले नए शब्द अर्धपूर्ण अंग्रेजी शब्द हो भी सकते हैं लेकिन जरूरी नहीं कि हों ही !)
- प्र.121. यदि प्रत्येक शब्द में, सभी अक्षरों को शब्द के भीतर अंग्रेजी वर्णानुक्रम से लगाया जाए तो कितने शब्द स्वर से आरंभ नहीं होंगे ?
- (1) कोई नहीं (2) एक (3) दो (4) तीन (5) तीन से अधिक
- प्र.122. दिए गए शब्दों में दाएं से दूसरे शब्द के दूसरे अक्षर और बाएं से तीसरे शब्द के तीसरे अक्षर के बीच अंग्रेजी वर्णमाला में कितने अक्षर हैं ?
- (1) एक (2) दो (3) तीन (4) चार (5) पांच
- प्र.123. यदि दिए गए प्रत्येक शब्द में प्रत्येक व्यंजन को अंग्रेजी वर्णमाला के पिछले अक्षर और प्रत्येक स्वर को अगले अक्षर से बदल दिया जाए, तो इस तरह बने कितने शब्दों में कोई स्वर नहीं आएगा ?
- (1) कोई नहीं (2) एक (3) दो (4) तीन (5) तीन से अधिक
- प्र.124. यदि प्रत्येक शब्द के अंतिम अक्षर को अंग्रेजी वर्णमाला के अगले अक्षर से बदल दिया जाए तो ऐसे कितने शब्द बनेंगे जिनमें दो स्वर (एक ही या विभिन्न स्वर) हों ?
- (1) कोई नहीं (2) एक (3) दो (4) तीन (5) चार
- प्र.125. यदि दिए गए शब्द को उस क्रम में लगाया जाए जिस क्रम में वे बाएं से दाएं को शब्दकोश में दिखेंगे तो बाएं से चौथा निम्न में से कौन सा होगा ?
- (1) WIT (2) BAR (3) URN (4) ELF (5) TOP
- प्र.126. बीना उत्तर की तरफ 5 मीटर चली, बाएं मुड़ी और 7 मीटर चली। वह फिर बाएं मुड़ी और बाएं मुड़ कर 7 मीटर चलने से पहले 8 मीटर चली। फिर वह अंतिम बार बाएं मुड़ी और रुकने से पहले 1 मीटर चली। बीना आरंभिक बिंदु से कितनी दूर है ?
- (1) 3 मीटर (2) 6 मीटर (3) 4 मीटर (4) 2 मीटर (5) 7 मीटर
- प्र.127. एक खास कोड में IDEAS को HEDBR लिखा जाता है और WOULD को VPTMC लिखा जाता है। उसी कोड में RIGHT को कैसे लिखा जाएगा ?
- (1) QJHIS (2) QJFGS (3) SHHGU (4) QJFIU (5) QJFIS
- प्र.128-130. दिए गए प्रश्नों के उत्तर देने के लिए निम्नलिखित जानकारी को पढ़िए :
- पांच मित्रों A, B, C, D और E में से प्रत्येक ने अलग-अलग कीमत पर एक मोबाइल फोन खरीदा। A ने C व E दोनों से अधिक भुगतान किया। केवल B ने D से अधिक भुगतान किया। E ने न्यूनतम राशि अदा नहीं की। E ने फोन के लिए ₹ 8,000 दिए।
- प्र.128. दी गई जानकारी के संबंध में निम्न में से कौन सा सत्य है ?
- (1) B द्वारा अदा की गई कीमत से केवल दो लोगों ने कम कीमत अदा की
- (2) E ने C व B से अधिक भुगतान किया
- (3) C द्वारा अदा की गई राशि से अधिक का भुगतान किसी ने नहीं किया
- (4) पांच मित्रों में से, सबसे अधिक संभावना है कि C ने मोबाइल फोन के लिए ₹ 9,000 अदा किए
- (5) कोई सत्य नहीं है
- प्र.129. यदि D ने E द्वारा अंदा की गई कीमत से ₹ 17,000 अधिक अदा किए तो A ने निम्न में से कितना भुगतान किया होगा ?
- (1) ₹ 35,000 (2) ₹ 16,000 (3) ₹ 7500 (4) ₹ 26,000 (5) ₹ 6,500
- प्र.130. मोबाइल फोन के लिए तीसरी सर्वाधिक कीमत किसने अदा की ?
- (1) A (2) B (3) C (4) D (5) E

- प्र.131-135. नीचे दिए गए प्रत्येक प्रश्न में दो/तीन कथन और उसके बाद दो निष्कर्ष I और II दिए गए हैं। आपको दिए गए दोनों/तीनों कथनों को सत्य मानना है, भले ही वे सर्वज्ञात तथ्यों से भिन्न प्रतीत होते हों और फिर तय कीजिए कि दिया गया कौन सा निष्कर्ष दिए गए कथनों का तार्किक रूप से अनुसरण करता है, भले ही सर्वज्ञात तथ्य कुछ भी हों।
- उत्तर (1) दीजिए यदि केवल निष्कर्ष I अनुसरण करता है।
उत्तर (2) दीजिए यदि केवल निष्कर्ष II अनुसरण करता है।
उत्तर (3) दीजिए यदि या तो निष्कर्ष I या II अनुसरण करता है।
उत्तर (4) दीजिए यदि न तो निष्कर्ष I न ही II अनुसरण करता है।
उत्तर (5) दीजिए यदि दोनों निष्कर्ष I और II अनुसरण करते हैं।
- प्र.131. कथन : सभी काइट्स पक्षी हैं। सभी वायुयान काइट हैं। कोई पक्षी माछली नहीं है।
निष्कर्ष : I. कोई माछली काइट नहीं है।
II. सभी वायुयान पक्षी हैं।
- प्र.132. कथन : कुछ वायर्स फायर्स हैं। सभी फायर्स टायर्स हैं।
निष्कर्ष : I. कम से कम कुछ टायर्स वायर्स हैं।
II. कुछ फायर्स निश्चित रूप से वायर्स नहीं हैं।
- प्र.133. कथन : कोई क्लिप पिन नहीं है। सभी बैज पिन हैं।
निष्कर्ष : I. कोई बैज क्लिप नहीं है।
II. सभी पिन बैज हैं।
- प्र.134. कथन : कोई कलर पेंट नहीं है। कोई पेंट ब्रश नहीं है।
निष्कर्ष : I. कोई कलर ब्रश नहीं है।
II. सभी ब्रश कलर हैं।
- प्र.135. कथन : सभी तारे ग्रह हैं। सभी ग्रह आकाशगंगाएं हैं।
निष्कर्ष : I. सभी आकाशगंगाएं ग्रह हैं।
II. सभी तारे आकाशगंगाएं हैं।
- प्र.136-140. निम्नलिखित व्यवस्था को ध्यान से पढ़िए और नीचे दिए गए प्रश्नों के उत्तर दीजिए :
B U B D C E D B D E U B A D C B E A C D A E B A U A C D B C A C
- प्र.136. उपरोक्त व्यवस्था में मोटे रूप में दी गई अक्षरों की श्रृंखला (A से E) में अक्षरों के ऐसे कितने जोड़े हैं, जिनमें से प्रत्येक के बीच (आगे और पीछे दोनों दिशाओं में) उतने ही अक्षर हैं जितने कि अंग्रेजी वर्णमाला में उनके बीच हैं ?
(1) कोई नहीं (2) एक (3) दो (4) तीन (5) तीन से अधिक
- प्र.137. उपरोक्त व्यवस्था के बाएं छोर से बीसवें के बाएं को आठवां निम्न में से कौन सा है ?
(1) C (2) E (3) U (4) B (5) A
- प्र.138. उपरोक्त व्यवस्था के बाएं छोर से पहले, दूसरे, पांचवें और छठे अक्षरों से कितने अर्थपूर्ण शब्द बनाए जा सकते हैं ?
(1) कोई नहीं (2) एक (3) दो (4) तीन (5) तीन से अधिक
- प्र.139. उपरोक्त व्यवस्था में ऐसे कितने व्यंजन हैं जिनमें से प्रत्येक के एकदम पहले एक स्वर है और एकदम बाद में एक व्यंजन भी है ?
(1) एक (2) दो (3) तीन (4) चार (5) चार से अधिक
- प्र.140. यदि उपरोक्त व्यवस्था में से सभी A हटा दिए जाएं, तो उपरोक्त व्यवस्था के दाएं छोर से ग्यारहवां निम्न में से कौन सा होगा ?
(1) E (2) C (3) D (4) U (5) इनमें से कोई नहीं

एसबीआई लिपिकीय लिखित परीक्षा जून 2012 (1st sitting) का प्रश्नपत्र

प्र.141-145. दिए गए प्रश्नों के उत्तर देने के लिए निम्न जानकारी को पढ़िए :

आठ लोग, चार लोगों वाली दो समानांतर पंक्तियों में इस तरह बैठे हैं कि अगल-बगल के व्यक्ति के बीच समान दूरी है। पंक्ति-1 में P, Q, R और S बैठे हैं (पर जरूरी नहीं कि इसी क्रम में) और उन सभी का मुंह दक्षिण को है। पंक्ति-2 में A, B, C और D बैठे हैं (पर जरूरी नहीं कि इसी क्रम में) और उन सभी का मुंह उत्तर को है। इसलिए, बैठने की दी गई व्यवस्था में एक पंक्ति में बैठे एक व्यक्ति का मुंह दूसरी पंक्ति में बैठे दूसरे व्यक्ति की ओर है।

R, P दाएं को दूसरे स्थान पर बैठा है। A, उस व्यक्ति की बगल में बैठा है जिसका मुंह R की ओर है। Q उस व्यक्ति के बाएं को दूसरे स्थान पर बैठा है जिसका मुंह R की ओर है। B व C के बीच केवल एक व्यक्ति बैठा है। C का मुंह P की ओर नहीं है। C पंक्ति के किसी भी अंतिम छोर पर नहीं बैठा है।

प्र.141. दिए गए बैठने के स्थान के आधार पर निम्नलिखित पांच में से चार किसी प्रकार समान हैं इसलिए उनका एक समूह बनाता है। वह एक कौन सा है जो इस समूह में नहीं आता है ?

- (1) A (2) P (3) R (4) B (5) S

प्र.142. निम्न में से किसका मुंह B की ओर है ?

- (1) P (2) Q (3) R (4) S (5) निर्धारित नहीं किया जा सकता

प्र.143. S के संबंध में निम्न में से कौन सा सत्य है ?

- (1) S, R व P के ठीक बीच में बैठा है (2) S, Q के बाएं को दूसरे स्थान पर बैठा है
(3) P, S की बगल में बैठा है (4) D उस व्यक्ति की बगल में बैठा है जिसका मुंह S की ओर है
(5) कोई सत्य नहीं

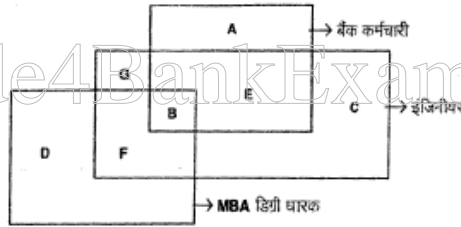
प्र.144. निम्न में से किसका मुंह Q की ओर है ?

- (1) A (2) B (3) C (4) D (5) निर्धारित नहीं किया जा सकता

प्र.145. निम्न में से किस का मुंह उस व्यक्ति की ओर है जो B व C के ठीक बीच में बैठा है ?

- (1) P (2) Q (3) R (4) S (5) निर्धारित नहीं किया जा सकता

प्र.146-150. निम्न प्रत्येक प्रश्न नीचे दी गई आकृति पर आधारित है। आकृति में तीन चित्र दिखाई पड़ते हैं जो इंजीनियरों, MBA डिग्री धारकों और बैंक कर्मचारियों का प्रतिनिधित्व करते हैं।



प्र.146. उपरोक्त आकृति में समूह B निम्न में से किसका प्रतिनिधित्व करता है ?

- (1) ऐसे सभी इंजीनियर जो MBA डिग्री धारक नहीं हैं
(2) ऐसे बैंक कर्मचारी जो इंजीनियर हैं लेकिन MBA डिग्री धारक नहीं हैं
(3) ऐसे सभी इंजीनियर जो MBA डिग्री धारक हैं लेकिन बैंक कर्मचारी नहीं हैं
(4) ऐसे सभी MBA डिग्री धारक जो बैंक कर्मचारी नहीं हैं
(5) ऐसे सभी बैंक कर्मचारी जो इंजीनियर और MBA डिग्री धारक हैं

प्र.147. निम्न में से कौन सा समूह उन सभी बैंक कर्मचारियों का प्रतिनिधित्व करता है जो MBA डिग्री धारक नहीं हैं ?

- (1) G, A, E व C (2) A, E व C (3) A व E (4) केवल A (5) A व C

प्र.148. निम्न में से कौन सा समूह उन सभी व्यक्तियों का प्रतिनिधित्व करता है जो MBA डिग्री धारक हैं लेकिन न तो इंजीनियर हैं, न ही बैंक कर्मचारी ?

- (1) केवल G (2) केवल D (3) D व G (4) केवल C (5) आकृति में उनका प्रतिनिधित्व नहीं हुआ है

प्र.149. निम्न में से कौन सा ऐसे इंजीनियरों का प्रतिनिधित्व करता है जो MBA डिग्री धारक हैं लेकिन बैंक कर्मचारी नहीं हैं ?

- (1) G व B (2) केवल F (3) D (4) G (5) इनमें से कोई नहीं

प्र.150. निम्न में से कौन सा ऐसे इंजीनियरों का ठीक-ठीक प्रतिनिधित्व करता है जो न तो बैंक कर्मचारी हैं, न MBA डिग्री धारक ?

- (1) केवल G (2) C व B (3) A व D (4) C व G (5) केवल C

एसबीआई लिपिकीय लिखित परीक्षा जून 2012 (1st sitting) का प्रश्नपत्र

प्र. 151-160. निम्नलिखित हर प्रश्न में यदि क्रम जारी रहा तो दाहिनी ओर दी गई पांच उत्तर आकृतियों में से कौनसी उत्तर आकृति बायीं ओर की प्रश्न-आकृतियों के तत्काल बाद आनी चाहिये ?

Q.151-160. In each of the questions given below which one of the five answer figures on the right should come after the problem figures on the left, if the sequence were continued ?

प्रश्न आकृतियाँ / PROBLEM FIGURES

उत्तर आकृतियाँ / ANSWER FIGURES

प्र./Q.151.

1 2 3 4	1 2 3 4	1 2 3 4	V J B T P 2 I A 5	B T P D V J I A 5
------------------	------------------	------------------	-------------------------------	-------------------------------

B D A 5	B G A 5	B T D J V G A 5	B D A 5	B D H P T A 5
1	2	3	4	5

प्र./Q.152.

B P 2 P R 5	q 5 E	P 2 3 q 5 E
L R 3 B L E 8 R L	B L 4 L R †	
5 C 4 2 2 †	5 C 4 2 R C B 2 C	

L 9 3 P 2 3 5 R 3 2 9 3 5 R 3
R 5 4 J 2 R 9 L † 9 J 4 9 L 4
B 5 C 8 2 † 8 5 C 8 5 C 8 5 C
1 2 3 4 5

प्र./Q.153.

10 dots, 10 dots, 10 dots, 10 dots, 10 dots	10 dots, 10 dots, 10 dots, 10 dots, 10 dots	10 dots, 10 dots, 10 dots, 10 dots, 10 dots	10 dots, 10 dots, 10 dots, 10 dots, 10 dots	10 dots, 10 dots, 10 dots, 10 dots, 10 dots
1	2	3	4	5

प्र./Q.154.

8 dots, 8 dots, 8 dots, 8 dots, 8 dots	8 dots, 8 dots, 8 dots, 8 dots, 8 dots	8 dots, 8 dots, 8 dots, 8 dots, 8 dots	8 dots, 8 dots, 8 dots, 8 dots, 8 dots	8 dots, 8 dots, 8 dots, 8 dots, 8 dots
1	2	3	4	5

प्र./Q.155.

1 square, 1 square, 1 square, 1 square, 1 square	1 square, 1 square, 1 square, 1 square, 1 square	1 square, 1 square, 1 square, 1 square, 1 square	1 square, 1 square, 1 square, 1 square, 1 square	1 square, 1 square, 1 square, 1 square, 1 square
1	2	3	4	5

प्र./Q.156.

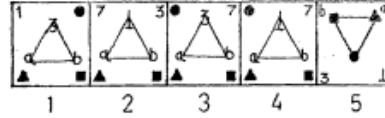
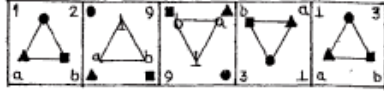
H, J, A, B, C, D, E, F, G, I, K, L, M, N, O, P, Q, R, S, T, U, V, W, X, Y, Z	H, J, A, B, C, D, E, F, G, I, K, L, M, N, O, P, Q, R, S, T, U, V, W, X, Y, Z	H, J, A, B, C, D, E, F, G, I, K, L, M, N, O, P, Q, R, S, T, U, V, W, X, Y, Z	H, J, A, B, C, D, E, F, G, I, K, L, M, N, O, P, Q, R, S, T, U, V, W, X, Y, Z	H, J, A, B, C, D, E, F, G, I, K, L, M, N, O, P, Q, R, S, T, U, V, W, X, Y, Z
1	2	3	4	5

एसबीआई लिपिकीय लिखित परीक्षा जून 2012 (1st sitting) का प्रश्नपत्र

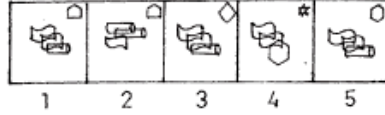
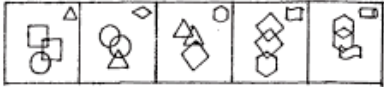
प्रश्न आकृतियाँ / PROBLEM FIGURES

उत्तर आकृतियाँ / ANSWER FIGURES

प्र./Q.157.



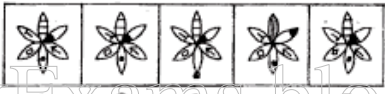
प्र./Q.158.



प्र./Q.159.



प्र./Q.160.



www.Guide4BankExams.blogspot.in

एसबीआई लिपिकीय लिखित परीक्षा जून 2012 (1st sitting) का प्रश्नपत्र

प्रश्नावली V

विपणन क्षमता / कंप्यूटर ज्ञान

- प्र. 161. विपणन — का कार्य है ।
(1) केवल सेल्स पर्सन (2) केवल काउंटर स्टाफ (3) केवल अर्हता प्राप्त व्यक्ति
(4) सर्वोच्च अधिकारी (5) सारे स्टाफ का समूहिक कार्य
- प्र. 162. किसी सेल्सपर्सन का कार्यनिष्पादन — पर निर्भर करता है ।
(1) सेल्स पर्सन की योग्यता और इच्छा (2) अदा किया जानेवाला प्रोत्साहन (3) सेल्स टीम की साइज
(4) टीम लीडर का स्वैया (5) उसके आह्वानक स्वभाव
- प्र. 163. अच्छी विपणन रणनीति में अच्छे और उचित — की परिकल्पना की जाती है ।
(1) उत्पाद वितरण (2) शाखा नेटवर्किंग (3) हाई प्रोड्रिंग
(4) काउंटर स्टाफ का प्लेसमेंट (5) रिलेशनशिप मैनेजमेंट
- प्र. 164. — में सेवा विपणन का सहारा लिया जाता है ।
(1) सभी MNCs (2) सभी प्रोडक्शन हाउसों (3) औद्योगिक यूनिटें
(4) बैंकों और बीमा कंपनियों (5) मछली बाजार
- प्र. 165. कस्टमाइजेशन का परिणाम है —
(1) कस्टमर एक्टिविटी (2) कस्टमर रिटेंशन (3) कस्टमर कंप्लेंट
(4) बेहतर तुलनपत्र आंकड़े (5) बेहतर टेक्नालाजी
- प्र. 166. चालू खाते मूलतः — होते हैं ।
(1) निवेश के प्रयोजन के लिए (2) बचत के प्रयोजन के लिए (3) पहचान के प्रयोजन के लिए
(4) विदेशी मुद्रा कमाने के लिए (5) किसी के कारोबार की रोजमर्रा की जरूरतों के लिए
- प्र. 167. विपणन का एकमात्र लक्ष्य है —
(1) तुलनपत्र के आंकड़े सुधारना (2) भर्ती बढ़ाना (3) लाभ वृद्धि
(4) उत्पादन वृद्धि (5) शाखा नेटवर्क बढ़ाना
- प्र. 168. — के कारण आक्रामक विपणन जरूरी है ।
(1) भ्रूंडलीकरण (2) बढ़ी हुई प्रतिस्पर्धा (3) बढ़े हुए उत्पादन
(4) बढ़े हुए रोजगार अवसर (5) बढ़े हुए स्टाफ
- प्र. 169. योजित मूल्य सेवा का अर्थ है —
(1) एचजी उत्पाद (2) अत्यधिक मूल्यवान उत्पाद (3) पुराने उत्पाद
(4) मौजूदा सेवाओं के अतिरिक्त और अधिक सेवाएं (5) सम-स्तरीय सेवाएं
- प्र. 170. बचत खाता कौन खोल सकता है ?
(1) KYC मानदंड पूरा करने वाले सभी व्यक्ति (2) केवल सभी कर दाता (3) 18 से अधिक उम्र के सभी व्यक्ति
(4) केवल सभी कारोबारी (5) 18 से कम आयु के सभी छात्र
- प्र. 171. किसी भी मार्केटिंग में बढ़ावा देने का श्रेष्ठ साधन है —
(1) पैंफ्लेट (2) न्यूजलेटर (3) मौखिक प्रचार (4) क्षेत्रीय विज्ञापन (5) वायरल मार्केटिंग
- प्र. 172. मार्केट इनफार्मेशन का अर्थ है —
(1) DSAs का ज्ञान स्तर (2) मार्केटिंग स्टाफ संबंधी जानकारी (3) शेयर बाजार संबंधी जानकारी
(4) संबद्ध बाजारों का ज्ञान (5) टेक्नालाजी प्रक्रिया संबंधी अद्यतन ज्ञान
- प्र. 173. दक्ष मार्केटिंग स्टाइल के लिए — जरूरी है ।
(1) समुचित आयोजना (2) अच्छा बहस कौशल (3) अमूर्त स्टाफ
(4) बहुत सी भाषाओं का ज्ञान (5) अज्ञानी ग्राहक

- प्र. 174. SME ऋणों का लक्ष्य समूह है ———
- (1) सभी SSIs (2) कालेज के सभी प्रोफेसर (3) सभी छात्र
(4) सभी नर्स (5) सभी वेतनभोगी व्यक्ति
- प्र. 175. मार्केटिंग सेगमेंटेशन का अर्थ है ———
- (1) सेल्स टीमों का समूह बनाना (2) ग्राहकों की आवश्यकता और रुचि के अनुसार उनका समूह बनाना
(3) विक्रय व्यवस्थाओं का समूह बनाना (4) काउंटर स्टाफ का समूह बनाना
(5) बैंक ऑफिस स्टाफ का समूह बनाना
- प्र. 176. लक्ष्य समूह का अर्थ है ———
- (1) सभी नियोक्ता (2) सभी सेल्सपर्सन (3) सभी अधिप्रेत क्रेता (4) सभी उद्योग (5) कॉल सेंटर पर्सन्स
- प्र. 177. SME का अर्थ है ———
- (1) Selling and Marketing Employees (2) Sales and Mergers of Entities
(3) Small and Micro Entities (4) Small and Medium Enterprises
(5) Sales Performance Measurement Program
- प्र. 178. अल्पावधि ऋण ——— के भीतर चुकौती योग्य होता है।
- (1) 20 वर्ष (2) 3 वर्ष (3) उधारकर्ता की इच्छानुसार
(4) गारंटर की इच्छानुसार (5) अल्पावधि ऋण चुकाना जरूरी नहीं है
- प्र. 179. मार्केटिंग की भाषा में "USP" का अर्थ है ———
- (1) Uniform Selling Practices (2) Unique Sales Person (3) Unique Selling Proposition
(4) Unique Savings Plans (5) Useful Sales Persons
- प्र. 180. IPO ऋण किस प्रयोजन के लिए होता है ?
- (1) निजी जरूरतों को पूरा करने के लिए (2) उच्च शिक्षा के लिए (3) चिकित्सा उपचार के लिए
(4) नया उद्योग शुरू करने के लिए (5) शेयर खरीदने के लिए
- प्र. 181. वे कौन सी डिवाइसें हैं जो जानकारी एंटर करती हैं और कंप्यूटर के साथ क्युनिकेट करने देती हैं ?
- (1) सॉफ्टवेयर (2) आउटपुट डिवाइसें (3) हार्डवेयर
(4) इनपुट डिवाइसें (5) इनपुट / आउटपुट डिवाइसें
- प्र. 182. सूचना के नियंत्रण के अंतर्गत आपरेट करने वाली इलेक्ट्रॉनिक डिवाइस जो डाटा को स्वीकार कर सकती है, डाटा को प्रोसेस कर सकती है, आउटपुट प्रोड्यूस करती है और भविष्य में प्रयोग के लिए परिणामों को स्टोर करती है ———
- (1) इनपुट (2) कंप्यूटर (3) सॉफ्टवेयर (4) हार्डवेयर (5) इनमें से कोई नहीं
- प्र. 183. कंप्यूटर के सेंट्रल प्रोसेसिंग यूनिट का फंक्शन क्या है ?
- (1) इनवाइस बनाता है (2) गणनाएं और प्रोसेसिंग करता है (3) डाटा डिलीट करता है
(4) डाटा को करंट करता है (5) इनमें से कोई नहीं
- प्र. 184. कोई डिवाइस जिन सभी करैक्टर्स का प्रयोग कर सकती है, उसे इसका ——— कहते हैं।
- (1) स्क्रिल सेट (2) करैक्टर अल्फाबेट (3) करैक्टर्स कोड्स
(4) कीबोर्ड करैक्टर्स (5) करैक्टर सेट
- प्र. 185. यदि आपका कंप्यूटर खुद को रीबूट करता रहता है तो संभावना है कि ———
- (1) इसमें वायरस है (2) इसमें पर्याप्त मेमरी नहीं है (3) इसमें प्रिंटर नहीं है
(4) इसमें बिजली की तेज तरंग आई है (5) इसमें CD-ROM की आवश्यकता है
- प्र. 186. RAM का पूर्ण रूप क्या है ?
- (1) Read Access Memory (2) Read Anywhere Memory (3) Random Anything Memory
(4) Random Access Module (5) Random Access Memory
- प्र. 187. 3½ इंच की फ्लॉपी ड्राइव किस प्रकार की डिवाइस है ?
- (1) इनपुट (2) आउटपुट (3) सॉफ्टवेयर (4) स्टोरेज (5) इनमें से कोई नहीं

- प्र. 188. फाइलों को ट्रांसफर करने और संदेशों को आदान-प्रदान करने के लिए किस यूटिलिटी का प्रयोग किया जाता है ?
(1) वेब ब्राउज़र्स (2) WWW (3) ई-मेल (4) हाइपरटेक्स्ट (5) सर्च इंजिन
- प्र. 189. CPU और I/O के बीच सिग्नलों के मूवमेंट को कौन नियंत्रित करता है ?
(1) ALU (2) कंट्रोल यूनिट (3) मेमरी यूनिट (4) सेकेंडरी स्टोरेज (5) इनमें से कोई नहीं
- प्र. 190. प्रोसेसर के तीन मुख्य भाग हैं —
(1) ALU, कंट्रोल यूनिट और रजिस्टर (2) ALU, कंट्रोल यूनिट और RAM (3) कैश, कंट्रोल यूनिट और रजिस्टर
(4) कंट्रोल यूनिट, रजिस्टर और RAM (5) RAM, ROM और CD-ROM
- प्र. 191. निम्न में से किस मेमरी चिप की गति अधिक तेज है ?
(1) कोई निश्चितता नहीं है (2) DRAM (3) SRAM
(4) DRAM बड़े चिप्स के लिए अधिक तेज है (5) इनमें से कोई नहीं
- प्र. 192. निम्न में से कौन सा इनपुट यूनिट से नहीं जुड़ता है ?
(1) यह बाहरी दुनिया से डाटा स्वीकार करता है
(2) यह डाटा को बाइनरी कोड में बदलता है जिसे कंप्यूटर समझता है
(3) यह बाइनरी डाटा को मानव द्वारा पढ़े जाने वाले रूप में बदलता है जिसे प्रयोक्ता समझ सकते हैं
(4) यह आगे प्रोसेसिंग के लिए डाटा को बाइनरी रूप में कंप्यूटर में भेजता है
(5) इनमें से कोई नहीं
- प्र. 193. निम्न में से कौन सा शब्द नेटवर्कों का सिर्फ एक संग्रह है जिसे एकसाथ जोड़ा जा सकता है ?
(1) वर्चुअल प्राइवेट नेटवर्क (2) LAN (3) इंटरनेट (4) एक्स्ट्रानेट (5) इंटरनेट
- प्र. 194. मूर्त, कंप्यूटर का भौतिक उपकरण जिसे देखा और छुआ जा सकता है — कहलाता है ।
(1) हार्डवेयर (2) सॉफ्टवेयर (3) स्टोरेज (4) इनपुट/आउटपुट (5) इनमें से कोई नहीं
- प्र. 195. निम्न में से RAM का दूसरा सबसे बड़ा भाग कौन सा है ?
(1) टेराबाइट (2) मेगाबाइट (3) बाइट (4) गीगाबाइट (5) मेगाहर्ट्ज
- प्र. 196. मदरबोर्ड में क्या रहता है जो मदरबोर्ड पर CPU को दूसरे पुर्जों से जोड़ता है ?
(1) इनपुट यूनिट (2) सिस्टम बस (3) ALU (4) प्राइमरी मेमरी (5) इनमें से कोई नहीं
- प्र. 197. फर्मवेयर से हमारा तात्पर्य है —
(1) कंप्यूटर सिस्टम में प्रयुक्त भौतिक उपकरण
(2) अनुदेशों का वह सेट जिससे कंप्यूटर एक या अधिक कार्य करता है
(3) कंप्यूटिंग प्रक्रिया में शामिल लोग
(4) प्रोग्रामों का सेट जो निर्माण के समय कंप्यूटर को रीड ओनली मेमरी में प्री-इन्स्टाल किया जाता है
(5) इनमें से कोई नहीं
- प्र. 198. सुपर कंप्यूटर —
(1) मेनफ्रेम कंप्यूटरों से आकार और प्रोसेसिंग क्षमता में छोटे हैं
(2) अधिकांश घरों में आम हैं
(3) में हजारों माइक्रोप्रोसेसर होते हैं
(4) उनकी कंप्यूटिंग क्षमता की कमी के कारण शोधकर्ताओं द्वारा बिरले ही प्रयोग किए जाते हैं
(5) लैपटॉप के ही आकार के होते हैं
- प्र. 199. कंप्यूटिंग पावर की दी गई मात्रा की लागत कंप्यूटर प्रौद्योगिकी में प्रगति के साथ नाटकीय ढंग से —
(1) उतनी ही रही है (2) अर्थव्यवस्था के साथ समानुपात में बदली है (3) बढ़ गई है
(4) कम - ज्यादा हुई है (5) घट गई है
- प्र. 200. बुनियादी कंप्यूटर प्रोसेसिंग चक्र में — शामिल होते हैं ।
(1) इनपुट, प्रोसेसिंग और आउटपुट (2) सिस्टम्स और एप्लिकेशन (3) डाटा, सूचना और एप्लिकेशन
(4) हार्डवेयर, सॉफ्टवेयर और स्टोरेज (5) इनमें से कोई नहीं

Answers

1	
2	(5)
3	(4)
4	(1)
5	(2)
6	(1)
7	(2)
8	(1)
9	(3)
10	(3)
11	(4)
12	(1)
13	(1)
14	(4)
15	(1)
16	(2)
17	(2)
18	(1)
19	(3)
20	(3)
21	(4)
22	(3)
23	(2)
24	(1)
25	(3)
26	(3)
27	(5)
28	(3)
29	(3)
30	(4)
31	(4)
32	(2)
33	(5)
34	(5)
35	(5)
36	(3)
37	(5)
38	(2)
39	(2)
40	(1)

41	(1)
42	(1)
43	(1)
44	(2)
45	(4)
46	(4)
47	(1)
48	(1)
49	(2)
50	(4)
51	(2)
52	(4)
53	(1)
54	(4)
55	(3)
56	(2)
57	(1)
58	(5)
59	(2)
60	(5)
61	(5)
62	(1)
63	(2)
64	(2)
65	(3)
66	(3)
67	(4)
68	(5)
69	(5)
70	(2)
71	(2)
72	(4)
73	(3)
74	(3)
75	(5)
76	(3)
77	(2)
78	(1)
79	(3)
80	(2)

81	(4)
82	(1)
83	(2)
84	(5)
85	(2)
86	(2)
87	(2)
88	(4)
89	(4)
90	(4)
91	(1)
92	(5)
93	(2)
94	
95	(4)
96	(2)
97	(5)
98	(5)
99	(1)
100	(4)
101	(3)
102	(5)
103	(1)
104	(5)
105	(3)
106	(4)
107	(5)
108	(2)
109	(3)
110	(3)
111	(4)
112	(1)
113	(3)
114	(3)
115	(1)
116	(1)
117	(2)
118	(2)
119	(5)
120	(3)

121	(2)
122	(5)
123	(3)
124	(3)
125	(3)
126	
127	(5)
128	(5)
129	(2)
130	(1)
131	(2)
132	(1)
133	(1)
134	(3)
135	(2)
136	(5)
137	(4)
138	
139	(4)
140	(1)
141	(1)
142	(1)
143	(5)
144	(1)
145	(2)
146	(5)
147	(3)
148	(2)
149	(2)
150	(4)
151	(5)
152	(2)
153	(1)
154	(5)
155	(2)
156	(1)
157	(4)
158	(1)
159	(2)
160	(4)

161	(5)
162	(1)
163	(5)
164	(4)
165	(4)
166	
167	(3)
168	(2)
169	(4)
170	(3)
171	(3)
172	(3)
173	(2)
174	(1)
175	(2)
176	(3)
177	(4)
178	(2)
179	(3)
180	(4)
181	(5)
182	(4)
183	(2)
184	(4)
185	
186	(5)
187	(4)
188	(3)
189	
190	(1)
191	
192	
193	(3)
194	(1)
195	
196	
197	
198	(3)
199	(2)
200	(1)

We are at Facebook.

Please Don't forget to **LIKE** us there
For more Materials and Previous Papers 😊



<http://www.facebook.com/Guide4BankExampage>

Thank You