

Solution Report For IBPS PO PRE 22 (Difficult)

Q. No	Question Status																														
Q.1	<p>निर्देश (1-5): निम्नलिखित प्रश्नों को ध्यानपूर्वक पढ़ें और प्रश्नों के उत्तर दें।</p> <p>एक निश्चित कोड भाषा में, 'newspaper enhance the knowledge' को 'yo no co po' में लिखा जाता है, 'new enhance good version' को 'co so ro jo' में लिखा जाता है, 'good knowledge is necessary' को 'bo to ro po' में लिखा जाता है, 'the new brand book' को 'qo jo do yo' में लिखा जाता है और 'book is necessary' is written as 'bo do to' में लिखा जाता है।</p> <p>Q- 'version' के लिए क्या कोड है ?</p> <p>a. so ✓ b. ro c. jo d. कहा नहीं जा सकता है e. इनमें से कोई नहीं</p>																														
<p>Not Attempt Correct Ans. a</p>																															
<p>Solution. Directions (1-5):</p> <table style="width: 100%; border-collapse: collapse;"> <tr> <td style="width: 40%;">Enhance</td> <td style="width: 10%; text-align: center;">→</td> <td style="width: 50%;">co</td> </tr> <tr> <td>Knowledge</td> <td style="text-align: center;">→</td> <td>Po</td> </tr> <tr> <td>The</td> <td style="text-align: center;">→</td> <td>Yo</td> </tr> <tr> <td>newspaper</td> <td style="text-align: center;">→</td> <td>no</td> </tr> <tr> <td>good</td> <td style="text-align: center;">→</td> <td>ro</td> </tr> <tr> <td>new</td> <td style="text-align: center;">→</td> <td>jo</td> </tr> <tr> <td>version</td> <td style="text-align: center;">→</td> <td>so</td> </tr> <tr> <td>book</td> <td style="text-align: center;">→</td> <td>do</td> </tr> <tr> <td>brand</td> <td style="text-align: center;">→</td> <td>qo</td> </tr> <tr> <td>is/necessary</td> <td style="text-align: center;">→</td> <td>bo/to</td> </tr> </table>		Enhance	→	co	Knowledge	→	Po	The	→	Yo	newspaper	→	no	good	→	ro	new	→	jo	version	→	so	book	→	do	brand	→	qo	is/necessary	→	bo/to
Enhance	→	co																													
Knowledge	→	Po																													
The	→	Yo																													
newspaper	→	no																													
good	→	ro																													
new	→	jo																													
version	→	so																													
book	→	do																													
brand	→	qo																													
is/necessary	→	bo/to																													
Q.2	<p>निर्देश (1-5): निम्नलिखित प्रश्नों को ध्यानपूर्वक पढ़ें और प्रश्नों के उत्तर दें।</p> <p>एक निश्चित कोड भाषा में, 'newspaper enhance the knowledge' को 'yo no co po' में लिखा जाता है, 'new enhance good version' को 'co so ro jo' में लिखा जाता है, 'good knowledge is necessary' को 'bo to ro po' में लिखा जाता है, 'the new brand book' को 'qo jo do yo' में लिखा जाता है और 'book is necessary' is written as 'bo do to' में लिखा जाता है।</p> <p>Q- निम्नलिखित में से कौन सा कोड 'brand enhance version' के लिये है ?</p> <p>a. do qo co b. so qo co ✓ c. do ro co d. कह नहीं सकते e. इनमें से कोई नहीं</p>																														

Not Attempt | Correct Ans. | **b**

Solution. | **-NA-**

Q.3 निर्देश (1-5):निम्नलिखित प्रश्नों को ध्यानपूर्वक पढ़ें और प्रश्नों के उत्तर दें।
एक निश्चित कोड भाषा में, 'newspaper enhance the knowledge' को 'yo no co po' में लिखा जाता है, 'new enhance good version' को 'co so ro jo' में लिखा जाता है, 'good knowledge is necessary' को 'bo to ro po' में लिखा जाता है, 'the new brand book' को 'qo jo do yo' में लिखा जाता है और 'book is necessary' is written as 'bo do to' में लिखा जाता है।

Q- 'new' के लिए क्या कोड है ?

- a. so
- b. ro
- c. jo ✓
- d. yo
- e. इनमें से कोई नहीं

Not Attempt | Correct Ans. | **c**

Solution. | **-NA-**

Q.4 निर्देश (1-5):निम्नलिखित प्रश्नों को ध्यानपूर्वक पढ़ें और प्रश्नों के उत्तर दें।
एक निश्चित कोड भाषा में, 'newspaper enhance the knowledge' को 'yo no co po' में लिखा जाता है, 'new enhance good version' को 'co so ro jo' में लिखा जाता है, 'good knowledge is necessary' को 'bo to ro po' में लिखा जाता है, 'the new brand book' को 'qo jo do yo' में लिखा जाता है और 'book is necessary' is written as 'bo do to' में लिखा जाता है।

Q- 'necessary' के लिए क्या कोड है ?

- a. bo
- b. to
- c. ro
- d. कह नहीं सकते ✓
- e. इनमें से कोई नहीं

Not Attempt | Correct Ans. | **d**

Solution. | **-NA-**

Q.5 निर्देश (1-5):निम्नलिखित प्रश्नों को ध्यानपूर्वक पढ़ें और प्रश्नों के उत्तर दें।
एक निश्चित कोड भाषा में, 'newspaper enhance the knowledge' को 'yo no co po' में लिखा जाता है, 'new enhance good version' को 'co so ro jo' में लिखा जाता है, 'good knowledge is necessary' को 'bo to ro po' में लिखा जाता है, 'the new brand book' को 'qo jo do yo' में लिखा जाता है और 'book is necessary' is written as 'bo do to' में लिखा जाता है।

Q- 'necessary is talent' को किस भाषा में लिखा जा सकता है ?

- a. mo bo to ✓
- b. mo lo to
- c. bo to no
- d. कह नहीं सकते
- e. इनमें से कोई नहीं

Not Attempt Correct Ans. a

Solution. -NA-

Q.6 निर्देश (6-10): नीचे दिए गए प्रत्येक प्रश्नों में दो/तीन कथन दिए गए हैं, जिसका अनुसरण दो निष्कर्षों। और II द्वारा दिया गया है। ज्ञात तथ्यों से अलग होने पर भी आपको दिए गए कथन को सत्य मानना है। दोनों कथनों को ध्यानपूर्वक पढ़िए और ज्ञात तथ्यों की अवहेलना करते हुए निर्णय कीजिये कि कौन सा निष्कर्ष दिए गए कथनों का तर्कपूर्ण अनुसरण करता है।

कथन :

कोई कैरम कोना नहीं है।

कोई कॉरिडोर कैरम नहीं है।

सभी कक्षाएं कोने हैं।

निष्कर्ष:

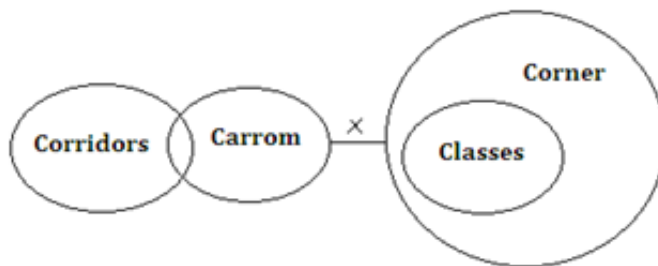
I. सभी कॉरिडोर के कोने होने की सम्भावना है।

II. सभी कैरम के कक्षा होने की सम्भावना है।

- a. यदि केवल निष्कर्ष I सत्य है
- b. यदि केवल निष्कर्ष II सत्य है
- c. यदि या तो निष्कर्ष I या निष्कर्ष II सत्य है
- d. यदि न तो निष्कर्ष I न तो निष्कर्ष II सत्य है ✓
- e. यदि निष्कर्ष I और II दोनों सत्य हैं

Not Attempt Correct Ans. d

Solution.



Q.7 निर्देश (6-10): नीचे दिए गए प्रत्येक प्रश्नों में दो/तीन कथन दिए गए हैं, जिसका अनुसरण दो निष्कर्षों। और II द्वारा दिया गया है। ज्ञात तथ्यों से अलग होने पर भी आपको दिए गए कथन को सत्य मानना है। दोनों कथनों को ध्यानपूर्वक पढ़िए और ज्ञात तथ्यों की अवहेलना करते हुए निर्णय कीजिये कि कौन सा निष्कर्ष दिए गए कथनों का तर्कपूर्ण अनुसरण करता है।

कथन :

कोई कैरम कोना नहीं है ।

कोई कॉरिडोर कैरम नहीं हैं ।

सभी कक्षाएं कोने हैं ।

निष्कर्ष:

I. कुछ कोने कॉरिडोर नहीं हैं ।

II. कोई कक्षा कैरम नहीं है ।

- यदि केवल निष्कर्ष I सत्य है
- यदि केवल निष्कर्ष II सत्य है ✓
- यदि या तो निष्कर्ष I या निष्कर्ष II सत्य है
- यदि न तो निष्कर्ष I न तो निष्कर्ष II सत्य है
- यदि निष्कर्ष I और II दोनों सत्य हैं

Not Attempt | Correct Ans. | **b**

Solution. | **-NA-**

Q.8 निर्देश (6-10): नीचे दिए गए प्रत्येक प्रश्नों में दो/तीन कथन दिए गए हैं, जिसका अनुसरण दो निष्कर्षों I और II द्वारा दिया गया है। ज्ञात तथ्यों से अलग होने पर भी आपको दिए गए कथन को सत्य मानना है। दोनों कथनों को ध्यानपूर्वक पढ़िए और ज्ञात तथ्यों की अवहेलना करते हुए निर्णय कीजिये कि कौन सा निष्कर्ष दिए गए कथनों का तर्कपूर्ण अनुसरण करता है।

कथन:

कुछ महासागर झीलें हैं ।

कुछ तालाब नदियाँ हैं ।

सभी नदियाँ झीलें हैं ।

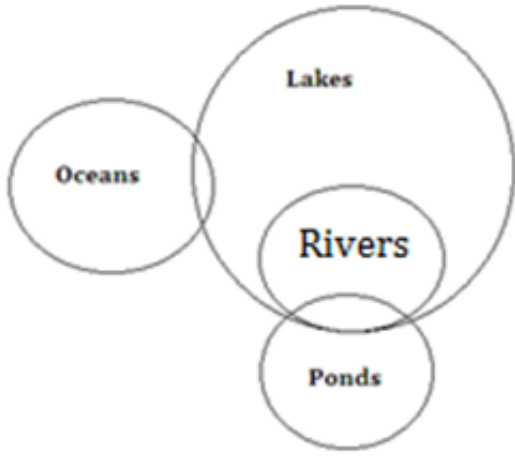
निष्कर्ष:

I. सभी महासागरों के नदी होने की सम्भावना है ।

II. कुछ झीलों के तालाब न होने की सम्भावना है ।

- यदि केवल निष्कर्ष I सत्य है
- यदि केवल निष्कर्ष II सत्य है
- यदि या तो निष्कर्ष I या निष्कर्ष II सत्य है
- यदि न तो निष्कर्ष I न तो निष्कर्ष II सत्य है
- यदि निष्कर्ष I और II दोनों सत्य हैं ✓

Not Attempt | Correct Ans. | **e**



Q.9 निर्देश (6-10): नीचे दिए गए प्रत्येक प्रश्नों में दो/तीन कथन दिए गए हैं, जिसका अनुसरण दो निष्कर्षों । और ॥ द्वारा दिया गया है। ज्ञात तथ्यों से अलग होने पर भी आपको दिए गए कथन को सत्य मानना है। दोनों कथनों को ध्यानपूर्वक पढ़िए और ज्ञात तथ्यों की अवहेलना करते हुए निर्णय कीजिये कि कौन सा निष्कर्ष दिए गए कथनों का तर्कपूर्ण अनुसरण करता है।

कथन :

सभी नीले भूरे हैं ।

सभी काले बैग हैं ।

सभी भूरे बैग नहीं हैं ।

निष्कर्ष:

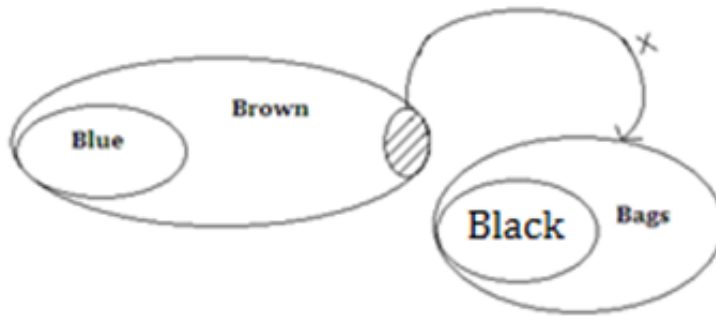
I. कुछ भूरे काले नहीं हैं ।

II. कोई नीला बैग नहीं है ।

- यदि केवल निष्कर्ष I सत्य है ✓
- यदि केवल निष्कर्ष II सत्य है
- यदि या तो निष्कर्ष I या निष्कर्ष II सत्य है
- यदि न तो निष्कर्ष I न तो निष्कर्ष II सत्य है
- यदि निष्कर्ष I और II दोनों सत्य हैं

Not Attempt Correct Ans. a

Solution.



Q.10 निर्देश (6-10): नीचे दिए गए प्रत्येक प्रश्नों में दो/तीन कथन दिए गए हैं, जिसका अनुसरण दो निष्कर्षों । और ॥ द्वारा दिया गया है। ज्ञात तथ्यों से अलग होने पर भी आपको दिए गए कथन को सत्य मानना है। दोनों कथनों को ध्यानपूर्वक पढ़िए और ज्ञात तथ्यों की अवहेलना करते हुए निर्णय कीजिये कि कौन सा निष्कर्ष दिए गए कथनों का तर्कपूर्ण अनुसरण करता है।

कथन :

कोई ट्रेन ट्रक नहीं है।

कुछ ट्रेने गिलास हैं।

सभी ट्रक खिलौने हैं।

निष्कर्ष:

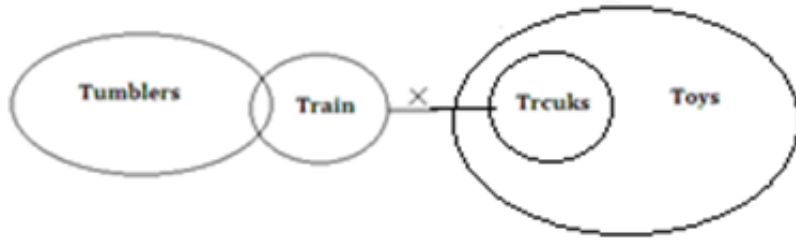
I. सभी ट्रकों के गिलास होने की सम्भावना है।

II. कुछ खिलौने ट्रेने नहीं हैं।

- यदि केवल निष्कर्ष I सत्य है
- यदि केवल निष्कर्ष II सत्य है
- यदि या तो निष्कर्ष I या निष्कर्ष II सत्य है
- यदि न तो निष्कर्ष I न तो निष्कर्ष II सत्य है
- यदि निष्कर्ष I और II दोनों सत्य हैं ✓

Not Attempt Correct Ans. e

Solution.



Essay for Question No.

11

निर्देश (11-15): निम्नलिखित जानकारी को ध्यानपूर्वक पढ़ें और प्रश्नों के उत्तर दें।

सात दोस्त —अनीता, विनोद, चांदनी, डेविड, इजाज़, फज़ल और गौरी हैं। सभी एक ही संस्थान में काम करते हैं और सभी लोग अलग-अलग फोन का प्रयोग करते हैं, जैसे —नोकिया, सैमसंग, स्पाइस, ब्लैकबेरी, मोटरोला, माइक्रोमैक्स और विडियोकोन पर आवश्यक नहीं है कि यह इसी क्रम में हो। इसके साथ ही वे अलग-अलग कंपनियों की सेवाओं का भी प्रयोग कर रहे हैं, जैसे एयरसेल, वोडाफोन, रिलायंस, आईडिया, टाटा, युनिनोर, और एयरटेल। आगे कुछ जानकारी दी गयी है।

- डेविड जो स्पाइस मोबाइल का प्रयोग करता है, वह एयरसेल का प्रयोग नहीं करता है। जो माइक्रोमैक्स का प्रयोग करता है वह टाटा का ग्राहक नहीं है।
- अनीता वोडाफोन का प्रयोग नहीं करती है, जबकि विनोद जो सैमसंग का प्रयोग करता है वह आईडिया का ग्राहक है इजाज़ और फज़ल माइक्रोमैक्स फोन का प्रयोग नहीं करते हैं।
- इजाज़ जो रिलायंस का ग्राहक है, उसके पास विडियोकोन का फ़ोन है, जबकि जो व्यक्ति ब्लैकबेरी मोबाइल का प्रयोग करता है, वह वोडाफोन का ग्राहक है।
- चांदनी युनिनोर की ग्राहक है, जबकि गौरी जिसके पास नोकिया का फोन नहीं है वह एयरसेल का प्रयोग करती है।

Q. No Question Status

Q.11 निम्नलिखित में से कौन ब्लैकबेरी का प्रयोग करता है ?

- a. गौरी
b. फ़ज़ल ✓
c. चांदनी
d. एजाज़
e. इनमें से कोई नहीं

Not Attempt Correct Ans. **b**

Solution. **Directions (11-14):**

Person	Phone	Service Provider
Anita	Micromax	Tata
Binod	Samsung	Idea
Chandni	Nokia	Uninor
David	Spice	Airtel
Ejaj	Videocon	Reliance
Fazal	Blackberry	Vodafone
Gauri	Motorola	Aircel

Q.12 अनीता निम्न में से किसकी ग्राहक है ?

- a. एयरटेल
b. एयरसेल
c. रिलायंस
d. टाटा ✓
e. इनमें से कोई नहीं

Not Attempt Correct Ans. **d**

Solution. **-NA-**

Q.13 दी गयी जानकारी के आधार पर निम्नलिखित में से कौन सा कथन गलत है ?

- a. फ़ज़ल विडियोकोन मोबाइल का प्रयोग करता है
b. अनीता एयरटेल की ग्राहक है
c. डेविड रिलायंस का ग्राहक है
d. सभी सत्य हैं
e. इनमें से कोई नहीं ✓

Not Attempt Correct Ans. **e**

Solution. **All are false**

Q.14	<p>निम्नलिखित में से कौन मोटरोला के मोबाइल फोन का प्रयोग करता है ?</p> <p>a. अनीता b. गौरी ✓ c. एजाज d. फज़ल e. चांदनी</p>
	<p>Not Attempt Correct Ans. b</p>
	<p>Solution. -NA-</p>
Q.15	<p>अपने घर से शुरू करके रश्मि 50 मी. उत्तर की ओर चलती है, इसके बाद बायाँ मोड़ लेती है और 20 मी. चलती है। इसके बाद वह दायाँ मोड़ लेती है और रजनी के घर तक पहुँचने के लिए 10 मी. चलती है। रजनी और रश्मि के घर के बीच कितना अंतर है ?</p> <p>a. $2\sqrt{10}$ मी b. 80 मी. c. $20\sqrt{10}$ मी. ✓ d. $20\sqrt{2}$ मी e. इनमें से कोई नहीं</p>
	<p>Not Attempt Correct Ans. c</p>
	<p>Solution. -NA-</p>

Q. No	Question Status
Q.16	<p>निर्देश (16-18): नीचे दिए गए प्रत्येक प्रश्न में दो एक कथन और दो तर्क। और II दिए गए हैं। आपको यह निर्धारित करना है कि कौन सा तर्क 'मज़बूत' है और कौन सा तर्क 'कमजोर' है</p> <p>कथन: क्या उद्यमियों को उत्साहित किया जाना चाहिए ? तर्क :</p> <p>I. हाँ, वे देश के औद्योगिक विकास में सहायता करेंगे। II. हाँ, वे रोजगार बाज़ार के बोझ को कम करेंगे।</p> <p>a. यदि तर्क I मज़बूत है। b. यदि तर्क II मज़बूत है। c. यदि केवल तर्क I या II मज़बूत है। d. यदि न तो I न ही II मज़बूत है। e. यदि दोनों तर्क I और II मज़बूत है। ✓</p>

Not Attempt Correct Ans. e

Solution. (5) Both the arguments are strong as they are both true and desirable

Q.17 निर्देश (16-18): नीचे दिए गए प्रत्येक प्रश्न में दो एक कथन और दो तर्क I और II दिए गए हैं। आपको यह निर्धारित करना है कि कौन सा तर्क 'मज़बूत' है और कौन सा तर्क 'कमजोर' है।

कथन:

क्या घूस लेने वाले अधिकारियों को सज़ा दी जानी चाहिए ?

तर्क :

- I. नहीं, कुछ परिस्थितियां उन्हें घूस लेने के लिए मजबूर कर सकती हैं।
- II. हाँ, जो जिम्मेदारी उन्हें सौंपी गयी है उसे इमानदारी से करना चाहिए।

- a. यदि तर्क I मज़बूत है।
- b. यदि तर्क II मज़बूत है। ✓
- c. यदि केवल तर्क I या II मज़बूत है।
- d. यदि न तो I न ही II मज़बूत है।
- e. यदि दोनों तर्क I और II मज़बूत है।

Not Attempt Correct Ans. b

Solution. (2)1 is not strong as it is trivial

Q.18 निर्देश (16-18): नीचे दिए गए प्रत्येक प्रश्न में दो एक कथन और दो तर्क I और II दिए गए हैं। आपको यह निर्धारित करना है कि कौन सा तर्क 'मज़बूत' है और कौन सा तर्क 'कमजोर' है।

कथन:

क्या भारत को उर्जा की पूर्ति के लिए सौर उर्जा के उपकरणों का प्रयोग करने के प्रयास करने चाहिये।

तर्क :

- I. हाँ, उर्जा के सभी स्रोतों का काफी हद तक प्रयोग हो चुका है।
- II. नहीं, सौर उर्जा का कोई भी उपकरण लगाने में अत्यधिक रकम की आवश्यकता होती है, भारत के पास जिसकी कमी है।

- a. यदि तर्क I मज़बूत है। ✓
- b. यदि तर्क II मज़बूत है।
- c. यदि केवल तर्क I या II मज़बूत है।
- d. यदि न तो I न ही II मज़बूत है।
- e. यदि दोनों तर्क I और II मज़बूत है।

Not Attempt Correct Ans. a

Solution.

(1) I is a strong argument as it is true that most of the present energy sources are exhaustible. II is not strong as it is not true. In fact, harnessing solar energy on the contrary is cheaper.

Q.19 निर्देश (19-20): नीचे दिए गए प्रत्येक प्रश्नों में तीन कार्यवाहियां दी गयी हैं, जिसका अनुसरण तीन निष्कर्षों I, II और III द्वारा दिया गया है। ज्ञात तथ्यों को आपको सत्य मानना है। दोनों कथनों को ध्यानपूर्वक पढ़िए और यह निर्धारित करें की कौन सी कार्यवाही कथनों का तर्कपूर्ण अनुसरण करती है।

कथन:

एक स्थानीय केमिस्ट से नकली दवाइयां खाने के कारण बड़ी संख्या में लोग बीमार पड़ गए हैं।

कार्यवाही:

I. सरकार को नकली दवा बेचने वाली दुकानों को तब तक के लिए बंद कर देना चाहिए जब तक की बची हुई दवाओं की विषाक्तता नहीं जांच ली जाती है।

II. केमिस्ट को अपनी शहर छोड़ने का आदेश देना चाहिए कि उसे कहीं और अपनी दुकान खोलनी चाहिये।

III. इस अपराधिक लापरवाही के लिए दुकान के मालिक को तुरंत गिरफ्तार किया जाना चाहिए।

- केवल I और II अनुसरण करता है
- केवल I और III अनुसरण करता है ✓
- केवल II अनुसरण करता है
- केवल II और III अनुसरण करता है
- सभी अनुसरण करते हैं

Not Attempt Correct Ans. b

Solution.

(2) Only I and III are valid courses if action. II is not valid as it does not solve the problem.

Q.20 निर्देश (19-20): नीचे दिए गए प्रत्येक प्रश्नों में तीन कार्यवाहियां दी गयी हैं, जिसका अनुसरण तीन निष्कर्षों I, II और III द्वारा दिया गया है। ज्ञात तथ्यों को आपको सत्य मानना है। दोनों कथनों को ध्यानपूर्वक पढ़िए और यह निर्धारित करें की कौन सी कार्यवाही कथनों का तर्कपूर्ण अनुसरण करती है।

कथन:

बहुत से निजी क्षेत्र बैंकों ने सार्वजनिक क्षेत्र के बैंकों की तुलना में बचत खतों पर ब्याज की दर बढ़ा दी है।

कार्यवाही :

I. सार्वजनिक क्षेत्रों के बैंकों को ऐसे मामलों को नियामक प्राधिकरण के समक्ष रखना चाहिए, जिससे कि वे ऐसे मामलों को वृद्धि की अनुमति न दे।

II. सार्वजनिक क्षेत्र के बैंकों को ऐसी पालिसी अपनानी चाहिए जिससे की वे प्रतियोगिता में बने रह सकें।

III. सार्वजनिक क्षेत्रों के बैंकों को अपनी विशिष्टताओं का विज्ञापन करना चाहिए जिससे कि वे भविष्य में अपने ग्राहकों को न खोएं।

- केवल I और II अनुसरण करता है ✗
- केवल I और III अनुसरण करता है
- या तो केवल II या III अनुसरण करता है

- d. सभी अनुसरण करते हैं
e. इनमें से कोई नहीं ✓

Attempt **Incorrect** Your Ans. **a** Correct Ans. **e**

Solution.

(5) Both II and III follow.

Don't go for (3), because it would be wiser to adopt a two pronged strategy – both II and III.

Essay for Question No.

21

निर्देश (21-27): निम्नलिखित जानकारी को ध्यानपूर्वक पढ़ें और प्रश्न

आठ दोस्त — सुषमा , सरिता , सुनीता , सुजाता , सुमन , शशि, स्नेहा और शालिनी— एक वृत्ताकार मेज़ के चारों ओर केंद्र की ओर मुंह करके बैठे हैं। प्रत्येक को अलग-अलग फिल्म पसंद है, जैसे — दीवार, डॉन, कालिया, त्रिशूल, अग्निपथ , काला पत्थर, अभिमान और जंजीर।

जिन लड़कियों को दीवार और डॉन फिल्म पसंद है उनके बीच दो लोग बैठे हैं, इनमें से कोई भी सुषमा के विपरीत नहीं बैठा है। सुनीता और स्नेहा निकटतम पड़ोसी हैं और इनमें से किसी को भी जंजीर या डॉन पसंद नहीं है।

सुषमा जिसे अभिमान, पसंद है वह जंजीर पसंद करने वाली लड़की के दायें से दूसरी है। सरिता और सुमन को न तो जंजीर पसंद है और न ही वे सुषमा के बगल में बैठी हैं। सुमन जिसे डॉन पसंद है, वह स्नेहा के बाएँ से दूसरी है, जिसे त्रिशूल पसंद है। सुनीता को दीवार पसंद नहीं है।

सुमन का निकटतम पड़ोसी सुनीता के विपरीत है जो अभिमान पसंद करने वाले के बाएँ से तीसरा है। शशि को जंजीर पसंद नहीं है।

सुजाता और शालिनी दोनों को ही दीवार और कालिया पसंद नहीं है। सरिता को काला पत्थर पसंद है जबकि सुजाता को अग्निपथ। सरिता, सुषमा की निकटतम पड़ोसी नहीं है।

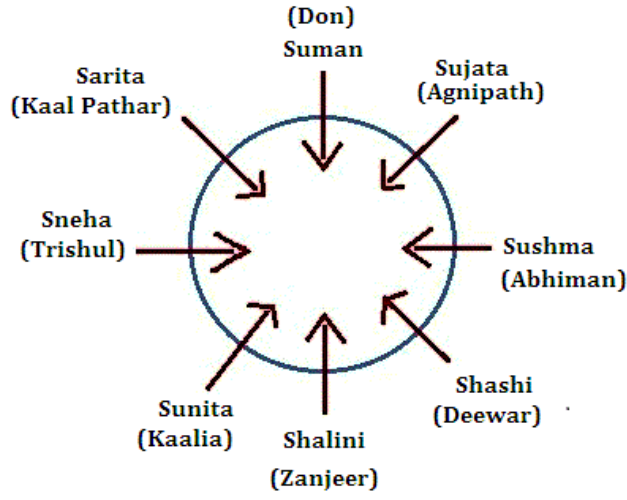
Q. No **Question Status**

Q.21 **निम्नलिखित में से कौन सा कथन सुमन के विषय में सत्य है ?**

- a. उसे डॉन पसंद है।
b. वह शालिनी के विपरीत है।
c. वह सुनीता की निकटतम पड़ोसी नहीं है।
d. कोई सत्य नहीं है।
e. सभी सत्य हैं। ✓

Not Attempt Correct Ans. **e**

Solution. **Directions (21-27)**



Q.22 इनमें से शशि की पसंदीदा फिल्म कौन सी है ?

- a. डॉन ❌
- b. दीवार ✔️
- c. जंजीर
- d. इनमें से कोई नहीं
- e. कहा नहीं जा सकता है

Attempt **Incorrect** Your Ans. **a** Correct Ans. **b**

Solution. **-NA-**

Q.23 स्नेहा और शालिनी के ठीक बीच में कौन बैठा है ?

- a. सरिता ❌
- b. शशि
- c. सुनीता ✔️
- d. सुजाता
- e. इनमें से कोई नहीं

Attempt **Incorrect** Your Ans. **a** Correct Ans. **c**

Solution. **-NA-**

Q.24 कालिया निम्नलिखित में से किस व्यक्ति की पसंदीदा फिल्म है ?

- a. सुमन ❌
- b. सुनीता ✔️
- c. शशि
- d. स्नेहा
- e. कहा नहीं जा सकता है

	<p>Attempt Incorrect Your Ans. a Correct Ans. b</p> <p>Solution. -NA-</p>
Q.25	<p>दी गयी वयवस्था में पांच में से चार एक समान हैं और एक समूह का निर्माण करते हैं। निम्नलिखित में से कौन इस समूह से सम्बंधित नहीं है ?</p> <p>a. सुषमा —अभिमान ✓ b. शालिनी — कालिया c. सुमन — अग्निपथ d. स्नेहा — काला पत्थर e. सरिता — डॉन</p> <p>Attempt Correct Correct Ans. a</p> <p>Solution. -NA-</p>
Q.26	<p>निम्नलिखित में से शालिनी की पसंदीदा फिल्म कौन सी है ?</p> <p>a. दीवार ✗ b. कालिया c. जंजीर ✓ d. इनमें से कोई नहीं e. कहा नहीं जा सकता है</p> <p>Attempt Incorrect Your Ans. a Correct Ans. c</p> <p>Solution. -NA-</p>
Q.27	<p>बैठने की व्यवस्था में देखा जाये तो जिस प्रकार अभिमान, त्रिशूल से एक निश्चित रूप से सम्बंधित है उसी प्रकार अग्निपथ, कालिया से सम्बंधित है। इसी आधार पर देखा जाये तो निम्नलिखित में से कौन दीवार से सम्बंधित है ?</p> <p>a. डॉन ✗ b. जंजीर c. काला पत्थर ✓ d. इनमें से कोई नहीं e. कहा नहीं जा सकता है</p> <p>Attempt Incorrect Your Ans. a Correct Ans. c</p> <p>Solution. -NA-</p>

Q. No **Question Status**

Q.28

निर्देश (28-31): निम्नलिखित प्रश्नों में, प्रतीक @, #, %, \$, और © दिए गए हैं, जिनका प्रयोग निम्नलिखित उदाहरणों के अर्थों में किया गया है :

P @ Q का अर्थ है P, Q से बड़ा नहीं है

P # Q का अर्थ है P न तो Q से बड़ा है और न ही उसके बराबर है

P % Q का अर्थ है P, Q से छोटा नहीं है

P \$ Q का अर्थ है P न तो Q से छोटा है और न ही उसके बराबर है

P © Q का अर्थ है P न तो Q से बड़ा है और न ही उसके बराबर है

निम्नलिखित प्रश्नों में दिए गए कथनों को सत्य मानना है, जिनके आधार पर चार निष्कर्ष I, II, III और IV दिए गए हैं। ये निष्कर्ष निश्चित रूप से सत्य हैं, तदनुसार अपना उत्तर दें।

कथन :

A % B, B \$ E, E @ F, F © R

निष्कर्ष:

I. A % F

II. A \$ E

III. E © R

- केवल I और II अनुसरण करता है
- केवल II और III अनुसरण करता है
- केवल I अनुसरण करता है
- केवल III अनुसरण करता है
- इनमें से कोई नहीं ✓

Not Attempt Correct Ans. e

Solution. Directions (28-31):

>	→	\$
≥	→	%
=	→	©
<	→	#
≤	→	@

Q.29 निर्देश (28-31): निम्नलिखित प्रश्नों में, प्रतीक @, #, %, \$, और © दिए गए हैं, जिनका प्रयोग निम्नलिखित उदाहरणों के अर्थों में किया गया है :

P @ Q का अर्थ है P, Q से बड़ा नहीं है

P # Q का अर्थ है P न तो Q से बड़ा है और न ही उसके बराबर है

P % Q का अर्थ है P, Q से छोटा नहीं है

P \$ Q का अर्थ है P न तो Q से छोटा है और न ही उसके बराबर है

P © Q का अर्थ है P न तो Q से बड़ा है और न ही उसके बराबर है

निम्नलिखित प्रश्नों में दिए गए कथनों को सत्य मानना है, जिनके आधार पर चार निष्कर्ष I, II, III और IV दिए गए हैं। ये निष्कर्ष निश्चित रूप से सत्य हैं, तदनुसार अपना उत्तर दें।

कथन :

R @ Q, Q @ T, T \$ P, P @ S

निष्कर्ष:

- I. R @ T
 II. T # S
 III. Q % P

- a. केवल I अनुसरण करता है ✓
 b. केवल II अनुसरण करता है
 c. केवल I और II अनुसरण करता है
 d. केवल III अनुसरण करता है
 e. इनमें से कोई नहीं

Not Attempt Correct Ans. a

Solution. -NA-

Q.30 निर्देश (28-31): निम्नलिखित प्रश्नों में, प्रतीक @, #, %, \$, और © दिए गए हैं, जिनका प्रयोग निम्नलिखित उदाहरणों के अर्थों में किया गया है :

P @ Q का अर्थ है P, Q से बड़ा नहीं है
 P # Q का अर्थ है P न तो Q से बड़ा है और न ही उसके बराबर है
 P % Q का अर्थ है P, Q से छोटा नहीं है
 P \$ Q का अर्थ है P न तो Q से छोटा है और न ही उसके बराबर है
 P © Q का अर्थ है P न तो Q से बड़ा है और न ही उसके बराबर है
 निम्नलिखित प्रश्नों में दिए गए कथनों को सत्य मानना है, जिनके आधार पर चार निष्कर्ष I, II, III और IV दिए गए हैं। ये निष्कर्ष निश्चित रूप से सत्य हैं, तदनुसार अपना उत्तर दें।

कथन :

R \$ S, T % S, T © F, F # K

निष्कर्ष:

I. R % T

II. F % S

III. K \$ T

- a. केवल I अनुसरण करता है
 b. केवल II अनुसरण करता है
 c. केवल III अनुसरण करता है
 d. दोनों I और II अनुसरण करते हैं
 e. दोनों II और III अनुसरण करते हैं ✓

Not Attempt Correct Ans. e

Solution. -NA-

Q.31 निर्देश (28-31): निम्नलिखित प्रश्नों में, प्रतीक @, #, %, \$, और © दिए गए हैं, जिनका प्रयोग निम्नलिखित उदाहरणों के अर्थों में किया गया है :

P @ Q का अर्थ है P, Q से बड़ा नहीं है
 P # Q का अर्थ है P न तो Q से बड़ा है और न ही उसके बराबर है
 P % Q का अर्थ है P, Q से छोटा नहीं है

P \$ Q का अर्थ है P न तो Q से छोटा है और न ही उसके बराबर है
P © Q का अर्थ है P न तो Q से बड़ा है और न ही उसके बराबर है
निम्नलिखित प्रश्नों में दिए गए कथनों को सत्य मानना है, जिनके आधार पर चार निष्कर्ष I, II, III और IV दिए गए हैं। ये निष्कर्ष निश्चित रूप से सत्य हैं, तदनुसार अपना उत्तर दें।

कथन :

N # B, Q @ B, Q % T, T \$ R

निष्कर्ष:

I. B # T

II. Q % R

III. N \$ Q

- केवल III अनुसरण करता है
- केवल II अनुसरण करता है
- केवल I अनुसरण करता है
- दोनों I और II अनुसरण करता है
- कोई अनुसरण नहीं करता है ✓

Not Attempt | Correct Ans. | e

Solution. | -NA-

Essay for Question No.

32

निर्देश (32-34): निम्नलिखित प्रश्नों को ध्यानपूर्वक पढ़ें और प्रश्नों के उत्तर दें।

शब्द और संख्या को व्यवस्थित करने वाली एक मशीन को शब्दों और संख्याओं की एक पंक्ति दिए जाने पर वह उसे निर्धारित नियमों के अनुसार प्रत्येक चरण में पुनर्व्यवस्थित करती है। निम्नलिखित, इनपुट और पुनर्व्यवस्था चरणों का एक उदाहरण है:

(सभी संख्या दो अंकों की हैं)

इनपुट: 75 17 sale 81 of the account48 never 12 by 29

चरण I: 12 75 17 sale 81 of the account48 never 29 by

चरण II: 17 12 75 sale 81 the account 48 never 29 by of

चरण III: 29 17 12 75 sale 81 account48 never by of the

चरण IV: 48 29 17 12 75 81 account never by of the sale

चरण V: 75 48 29 17 12 81 account by of the sale never

चरण VI: 81 75 48 29 17 12 by of the sale never account

चरण VI का अंतिम चरण है।

उपरोक्त चरण के नियमों के अनुसार, निम्नलिखित प्रश्नों में दिए गए इनपुट के लिए उचित चरणों को ज्ञात कीजिए।

इनपुट: 37 way all 76 this new 15 alone 66 55 is 90.

(इस व्यवस्था में दी गयी सभी संख्याएं दो अंको की हैं)

Q. No | Question Status

Q.32

इनमें से चरण III में पांचवे स्थान पर कौन सा शब्द/संख्या है ?

- a. 55
- b. 90
- c. 66 ✓
- d. alone
- e. इनमें से कोई नहीं

Not Attempt | Correct Ans. | c

Solution.

Directions (32-34):

In the above arrangement, numbers are finally arranged in descending order and words are arranged according to increasing number of letters in them. (In case of the number of letters is the same, the alphabetical order is followed.) In step I, the smallest number comes at the first place and the smallest word comes at the last place and the process is repeated thereafter.

Input: 37 way all 76 this new 15 alone 66 55 is 90

Step – I: 15 37 way all 76 this new alone 66 55 90 is

Step – II: 37 15 way 76 this new alone 66 55 90 is all

Step – III: 55 37 15 way 76 this alone 66 90 is all new

Step – IV: 66 55 37 15 76 this alone 90 is all new way

Step – V: 76 66 55 37 15 alone 90 is all new way this

Step – VI: 90 76 66 55 37 15 is all new way this alone

Q.33 इनमें से किस चरण का निम्नलिखित आउटपुट होगा ?
76 66 55 37 15 alone 90 is all new way this

- a. VI
- b. V ✓
- c. VII
- d. IV
- e. इनमें से कोई नहीं

Not Attempt | Correct Ans. | b

Solution. -NA-

Q.34 निम्नलिखित में से चरण IV कौन सा होगा ?

- a. 66 55 15 37 76 this alone 90 is all new way
- b. 66 55 37 15 76 this alone 90 is new all way
- c. 76 66 55 37 15 alone is all 90 new way this
- d. 66 55 37 15 76 this alone 90 is all new way ✓
- e. इनमें से कोई नहीं

Not Attempt | Correct Ans. **d**

Solution. **-NA-**

Q. No **Question Status**

Q.35 निर्देश (35): निम्नलिखित जानकारी को ध्यानपूर्वक पढ़ें और प्रश्नों के उत्तर दें।

जब से सरकार ने डीजल की कीमतों पर आंशिक विनियंत्रण की घोषणा की है, तब से ही बॉम्बे स्टॉक एक्सचेंज पर तेल कम्पनियों के स्टॉक में उछाल देखा गया है।
दिए गए कथन का अनुसरण निम्नलिखित में से कौन करता है ?

- (A) इस कदम के बाद तेल कंपनियां लाभ का इन्तजार कर रही हैं।
(B) भारतीय अर्थव्यवस्था प्रारंभिक अवस्था में हैं।
(C) तेल कंपनियों को घाटा हो रहा है।

- a. केवल A ✓
b. केवल B
c. केवल C
d. सभी A, B और C
e. इनमें से कोई नहीं

Not Attempt | Correct Ans. **a**

Solution. **(1)**
Stock prices surge on the assumption of a higher profit

Q.36 एक नदी के पास एक आयताकार मैदान है, जिसके तीनों तरफ बाड़ लगाई जानी है। आयताकार मैदान का जो हिस्सा नदी की तरफ है उसकी लम्बाई 100 मी. है और उसका क्षेत्रफल 6000 वर्ग मी. है, तो कितने लम्बे बाड़े की आवश्यकता होगी?

- a. 320 मी.
b. 260 मी.
c. 240 मी.
d. 220 मी. ✓
e. इनमें से कोई नहीं

Not Attempt | Correct Ans. **d**

Solution. **(d)** ∴ Width of field = $\frac{6000}{100} = 60$ meter
∴ Total Length of fenced wire = 60 + 60 + 100 = 220 m.

Q.37 एक आयताकार मैदान जिसकी लम्बाई 110 फीट और चौड़ाई 70 फीट है, मैदान के केंद्र में दो सड़कें हैं और प्रत्येक की चौड़ाई 8 फीट है। एक सड़क मैदान की लम्बाई के समानान्तर है और दूसरी मैदान की

चौड़ाई के समानान्तर है। सड़क पर 2.50 रु. प्रति वर्ग की दर से रेत डाला जाये तो कितना व्यय होगा ?

- a. 1581 रु.
- b. 15810 रु.
- c. 3162 रु.
- d. 31620 रु.
- e. इनमें से कोई नहीं ✓

Not Attempt | Correct Ans. | e

Solution. (e) Total Area of both road = $110 \times 8 + 70 \times 8 - 8 \times 8$
 $= 1376 \text{ feet}^2$
 \therefore Cost of spreading sand = $1376 \times 2.5 = 3440 \text{ Rs.}$

Q.38 A, B और C ने एक चारागाह को किराये पर लिया है। A अपने 10 बैलों को 7 महीने के लिए चराता है, B अपने 12 बैलों को 5 महीने के लिए और C अपने 15 बैलों को 3 महीने के लिए चराता है। यदि चारागाह का किराया 175 रु. है, तो बताएं की C की कितने रु. अदा करने होंगे?

- a. 45 रु. ✓
- b. 50 रु.
- c. 55 रु.
- d. 60 रु.
- e. इनमें से कोई नहीं

Not Attempt | Correct Ans. | a

Solution. (a) Ratio of their shares = $10 \times 7 : 12 \times 5 : 15 \times 3$
 $= 70 : 60 : 45$
 $= 14 : 12 : 9$
 \therefore Share of 'C' = $\frac{9}{35} \times 175 = 45 \text{ Rs.}$

Q.39 दो नल A और B एक तेल की टंकी को क्रमशः 15 और 18 मिनटों में भरते हैं, जबकि तीसरा नल उसे खाली करने के लिए प्रयोग किया जाता है। नल A और B को खोलने के 6 मिनट बाद तीसरे नल को खोला गया। यदि तीसरा नल खोलने के $16\frac{1}{2}$ मिनट बाद टंकी खाली हो जाती है, तो तीसरा नल भरी हुई टंकी को कितनी देर में खाली कर सकता है।

- a. 6 मिनट ✓
- b. 12 मिनट
- c. 10 मिनट
- d. 15 मिनट
- e. इनमें से कोई नहीं

Not Attempt | Correct Ans. | a

Solution. (a) Let Tap 'C' empty the tank in 't' minutes:

$$\therefore \frac{6+16\frac{1}{2}}{15} + \frac{6+16\frac{1}{2}}{18} - \frac{16\frac{1}{2}}{t} = 0$$

$$\therefore t = 6 \text{ minutes}$$

Q.40 विनीता ने एक निश्चित धनराशी को 8% वार्षिक ब्याज की दर से 5 वर्षों के लिए निवेश किया है और उसने 3800 रु. का साधारण ब्याज प्राप्त किया है। यदि वह दो वर्षों के लिए इसी ब्याज दर पर निवेश करती है, तो बताएं दो वर्षों के अंत में चक्रवृद्धि ब्याज पर उसे कितनी राशी प्राप्त होगी?

- a. 1,580.80 रु. ✓
 b. 1,520 रु.
 c. 1,550.50 रु.
 d. 1,550 रु.
 e. इनमें से कोई नहीं

Not Attempt | **Correct Ans.** a

Solution. (a) $= \frac{P \times R \times T}{100} = 3800$
 $\therefore P = 9500$
 $\therefore \text{C.I after 2 years} = 9500 \left[\left(1 + \frac{8}{100}\right)^2 \right]$
 $= 9500 \left(\frac{729}{625} - 1 \right) = 9500 \times \frac{104}{625}$
 $= 1580.80 \text{ Rs.}$

Q.41 एक 3000 रु. की राशी को आंशिक रूप से 4 वर्षों के लिए 8% वार्षिक ब्याज की दर से और आंशिक रूप से 5 वर्षों के लिए 6% वार्षिक ब्याज की दर से उधार दिया गया है। यदि साधारण ब्याज के दोनों हिस्सों का क्रमशः अनुपात 8:5 है, तो उसका पहला हिस्सा कितना था ?

- a. 1400 रु.
 b. 1600 रु.
 c. 1800 रु. ✓
 d. 2000 रु.
 e. इनमें से कोई नहीं

Not Attempt | **Correct Ans.** c

Solution. (c) Let first part be 'x' Rs.

$$\therefore \frac{x \times 8 \times 4}{100} + \frac{(3000-x) \times 6 \times 5}{100} = \frac{8}{5}$$

$$\frac{32x}{20} = \frac{240}{100} (3000 - x)$$

$$x = \frac{48 \times 3000}{80}$$

$$\therefore x = 1800 \text{ Rs.}$$

Q.42 एक उत्पादक 10% का लाभ कमाता है, एक थोक विक्रेता 15% और एक खुदरा विक्रेता 25% का लाभ प्राप्त करता है, तो उस मेज़ की लागत कीमत ज्ञात करें (रु. में) जिसका क्रय मूल्य 1265 रु. है ?

- a. 800 ✓
- b. 900
- c. 2000
- d. 2530
- e. इनमें से कोई नहीं

Not Attempt | Correct Ans. | a

Solution. (a) Manufacturing Cost = $1265 \times \frac{100}{125} \times \frac{100}{115} \times \frac{100}{110}$
= 8000 Rs.

Q.43 एक व्यक्ति ने एक घोड़ा 15% के लाभ पर बेचा है। यदि वह इसे 25% कम पर खरीदता और 60 रु. अधिक में बेचता, तो उसे 32% का लाभ प्राप्त होता। घोड़े का क्रय मूल्य क्या था ?

- a. 370 रु.
- b. 372 रु.
- c. 375 रु. ✓
- d. 378 रु.
- e. इनमें से कोई नहीं

Not Attempt | Correct Ans. | c

Solution. (c) Let cost price be 'x' then selling price = $\frac{115x}{100}$
Now cost price = $\frac{75x}{100}$, then selling price = $\frac{75x}{100} \times \frac{132}{100}$
From question = $\frac{115x}{100} - \frac{75x}{100} \times \frac{132}{100} = 60$
∴ x = 375 Rs.

Q.44 A और B की वर्तमान आयु का योग उनकी आयु के अंतर से 7 गुना अधिक है। पांच वर्षों के बाद उनकी आयु का योग उनकी आयु के अंतर से 9 गुना अधिक होगा। इनमें से जो बड़ा है उसकी आयु कितनी है (वर्षों में) ?

- a. 25
- b. 10 ✓
- c. 15
- d. 18
- e. इनमें से कोई नहीं

Not Attempt | Correct Ans. | b

Solution. (b) $\therefore A+B = 7(A-B) \Rightarrow 8B = 6A$
 And 5 years Hence,
 $(A+B+10) = 9(A-B)$
 Or
 $10B + 10 = 8A$
 $10 \times \frac{6A}{8} + 10 = 8A$
 $A = 20 \text{ Years}$

Q.45 एक पिता और उसका बेटा बिंदु A से शुरू करके क्रमशः 12 और 18 किमी. प्रतिघंटा की गति से चलकर अन्य बिंदु B तक पहुँचते हैं। यदि बेटा बिंदु A से अपने पिता से 60 मिनट बाद शुरू करता है और बिंदु B पर अपने पिता से 60 मिनट पहले पहुँच जाता है, तो बताएं कि बिंदु A और B के बीच कितना अंतर है ?

- a. 90 किमी.
 b. 72 किमी. ✓
 c. 36 किमी.
 d. 38 किमी.
 e. इनमें से कोई नहीं

Not Attempt Correct Ans. **b**

Solution. (b) $\therefore \text{Time taken by father} = \frac{x}{12}$
 $\text{Time taken by Son} = \frac{x}{18}$
 From question $-\frac{x}{12} - \frac{x}{18} = 2 \text{ hours} = n = 72 \text{ km.}$

Q.46 निर्देश—(46–50) : निम्नलिखित संख्या श्रेणी में प्रश्न चिन्ह (?) के स्थान पर क्या आना चाहिए ?

1 2 6 21 88 445 ?

- a. 2230
 b. 2676 ✓
 c. 2580
 d. 2670
 e. इनमें से कोई नहीं

Not Attempt Correct Ans. **b**

Solution. (b) Series is $\times 1 + 1, \times 2 + 2, \times 3 + 3, \times 4 + 4, \times 5 + 5, \dots \dots \dots \text{and so on}$

Q.47 निर्देश—(46–50) : निम्नलिखित संख्या श्रेणी में प्रश्न चिन्ह (?) के स्थान पर क्या आना चाहिए ?

20 21 25 34 50 ? 111

- a. 70
 b. 65
 c. 60

d. 75 ✓

e. इनमें से कोई नहीं

Not Attempt | Correct Ans. | d

Solution. | (d) Series is $+1^2, + 2^2, + 3^2, + 4^2, + 5^2, + 6^2, + 7^2$ So on.

Q.48 निर्देश—(46–50) : निम्नलिखित संख्या श्रेणी में प्रश्न चिन्ह (?) के स्थान पर क्या आना चाहिए ?

600 125 30 ? 7.2 6.44 6.288

a. 6

b. 10

c. 15

d. 12

e. इनमें से कोई नहीं ✓

Not Attempt | Correct Ans. | e

Solution. | (e) Series is $(\div 5)+5, (\div 5)+5, (\div 5)+5, (\div 5)+5, \dots$ and so on

Q.49 निर्देश—(46–50) : निम्नलिखित संख्या श्रेणी में प्रश्न चिन्ह (?) के स्थान पर क्या आना चाहिए

15 18 16 19 17 20 ?

a. 23

b. 22

c. 16

d. 18 ✓

e. इनमें से कोई नहीं

Not Attempt | Correct Ans. | d

Solution. | (d) Series is combination of two series, I. 15, 16, 17, 18 II. 18, 19, 20, 21

Q.50 निर्देश—(46–50) : निम्नलिखित संख्या श्रेणी में प्रश्न चिन्ह (?) के स्थान पर क्या आना चाहिए ?

1050 420 168 67.2 26.88 10.752 ?

a. 4.3008 ✓

b. 6.5038

c. 4.4015

d. 5.6002

e. इनमें से कोई नहीं

Not Attempt | Correct Ans. | a

Solution. (a) Series is -> $\div 2.5, \div 2.5, \div 2.5, \div 2.5$...and so on

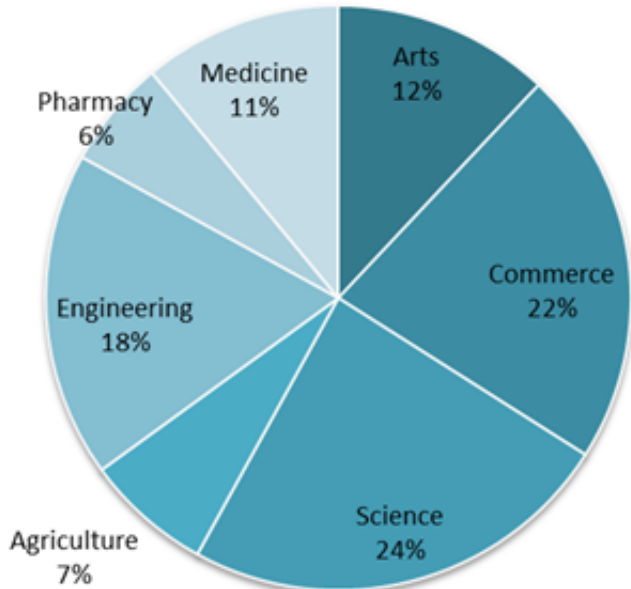
Essay for Question No.

51

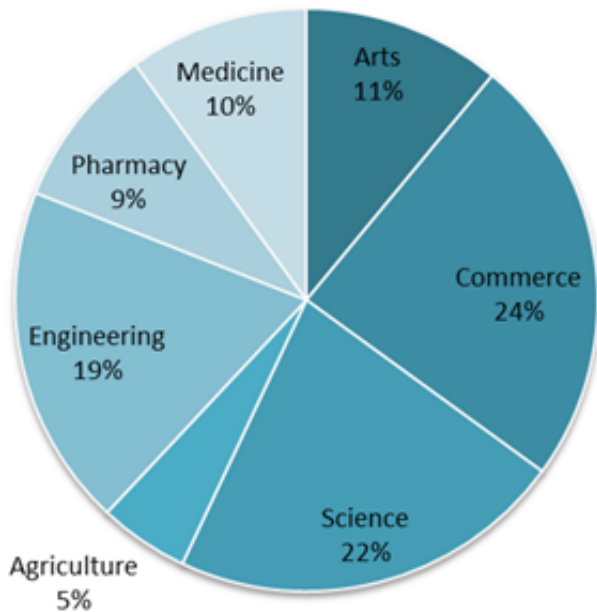
निर्देश (51-55) : निम्नलिखित पाई-ग्राफ को ध्यानपूर्वक पढ़ीं और प्रश्नों के उत्तर दें।

वर्ष 2001 और वर्ष 2002 में राज्य X विभिन्न संकायों में पढ़ने वाले छात्रों की संख्या को दर्शाया गया है।

Year- 2001 Total Students- 35000



Year- 2002 Total students - 40000



Q. No **Question Status**

Q.51 वर्ष 2001 से 2002 में निम्नलिखित में से किस संकाय में छात्रों की संख्या घटी है ?

- a. कोई नहीं
- b. आर्ट्स
- c. एग्रीकल्चर ✓
- d. फार्मेसी

e. इनमें से कोई नहीं

Not Attempt Correct Ans. **c**

Solution. **(3) In Agriculture**

Q.52 वर्ष 2001 और 2002 में फार्मसी पढने वाले छात्रों की संख्या का क्रमशः अनुपात कितना है ?

- a. 4 : 3
- b. 3 : 2
- c. 2 : 3
- d. 17 : 12
- e. इनमें से कोई नहीं ✓

Not Attempt Correct Ans. **e**

Solution. **(5) Ratio = $\frac{6 \times 350}{9 \times 400} = 7 : 12$**

Q.53 वर्ष 2001 से 2002 में इंजिनियरिंग के छात्रों की संख्या में लगभग कितने प्रतिशत की वृद्धि हुई है ?

- a. 17
- b. 15
- c. 25
- d. 23
- e. 20 ✓

Not Attempt Correct Ans. **e**

Solution. **(5) Percentage increase = $\frac{7600 - 6300}{6300} \times 100 = 20.63 = 20\%$**

Q.54 वर्ष 2001 में आर्ट्स और कॉमर्स दोनों में पढने वाले छात्रों की संख्या, वर्ष 2002 में आर्ट्स और कॉमर्स पढने वाले छात्रों की संख्या का कितना प्रतिशत थे ?

- a. 76
- b. 85 ✓
- c. 82
- d. 79
- e. इनमें से कोई नहीं

Not Attempt Correct Ans. **b**

Solution. **(2) Percentage = $\frac{34 \times 350}{35 \times 400} \times 100 = 85\%$**

Q.55

वर्ष 2001 से 2002 में से किस संकाय में बढ़ने वाले छात्रों की संख्या का वृद्धि प्रतिशत न्यूनतम था ?

- आर्ट्स
- साइंस
- कॉमर्स
- मेडिसिन ✓
- इंजिनियरिंग

Not Attempt | Correct Ans. | d

Solution.

$$(4) \text{ For Arts, } = \frac{440-420}{420} \times 100 = 4.76\%$$

$$\text{Science, } = \frac{8800-8400}{8400} \times 100 = 4.76\%$$

$$\text{Medicine } = \frac{4000-3850}{3850} \times 100 = 3.896\%$$

$$\text{Commerce } = \frac{9600-7700}{7700} \times 100 = 24.67\%$$

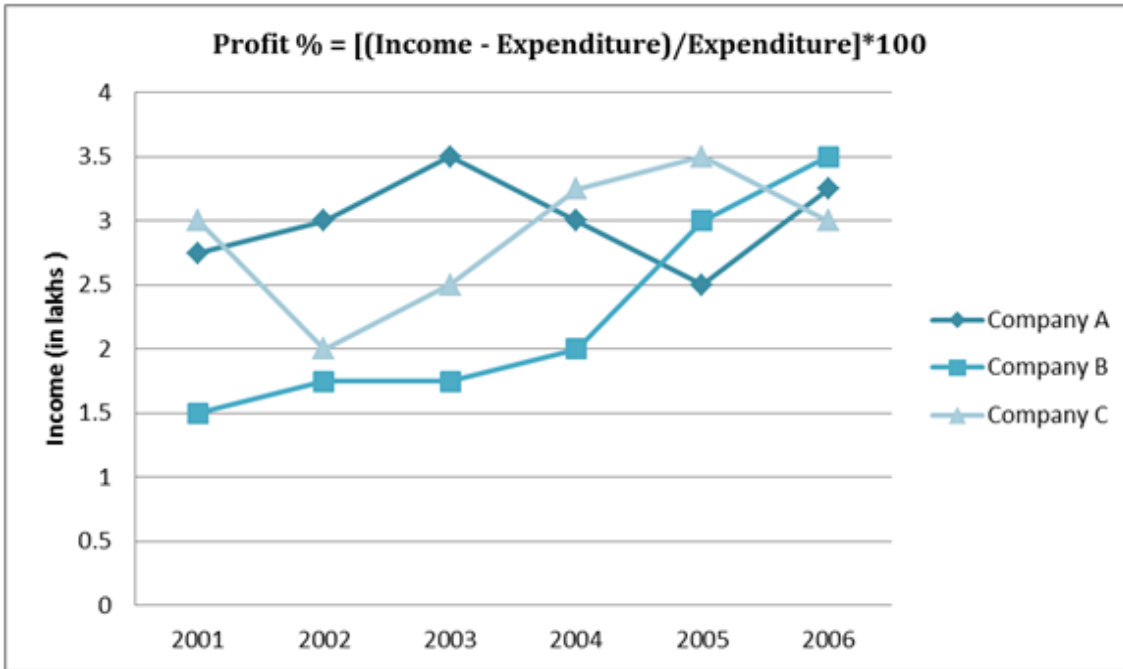
$$\text{Engineering } = \frac{7600-6300}{6300} \times 100 = 20.63\%$$

Hence, In medicine the increase in no of student was minimum

Essay for Question No.

56

निर्देश : (56-60) निम्नलिखित ग्राफ को ध्यानपूर्वक पढ़ें और प्रश्नों के उत्तर दें।
सभी वर्षों में कंपनी की आय (लाख रु. में)



Q. No Question Status

Q.56 यदि वर्ष 2002 में कंपनी A का लाभ प्रतिशत 20 था, तो उस वर्ष कंपनी का व्यय कितना था ?

- 250000 रु. ✓
- 275000 रु.

- c. 175000 रु.
d. 150000 रु.
e. इनमें से कोई नहीं

Not Attempt | Correct Ans. **a**

Solution. (1) Expenditure in 2002, was = $20 = \frac{300000 - E}{E} \times 100$
∴ E = 250000 Rs.

Q.57 यदि वर्ष 2003 में कंपनी C का व्यय 1.75 लाख रु. था, तो उस वर्ष कंपनी का लाभ कितना प्रतिशत था ? (दशमलव के बाद दो अंकों तक उत्तर दें)

- a. 38.29
b. 42.86 ✓
c. 53.41
d. 58.64
e. इनमें से कोई नहीं

Not Attempt | Correct Ans. **b**

Solution. (2) Profit of Company 'C' in 2003 % = $\frac{250000 - 175000}{175000} \times 100 = 42.857\% = 42.86\%$

Q.58 सभी वर्षों में कंपनी A की औसत आय कितनी थी ?

- a. 275000 रु.
b. 3000000 रु.
c. 2750000 रु.
d. 30000 रु.
e. इनमें से कोई नहीं ✓

Not Attempt | Correct Ans. **e**

Solution. (5) Average Income of company 'A' = $\frac{2.75 + 3 + 3.5 + 3 + 2.5 + 3.25}{6}$ Lakhs
= 3 Lakhs.

Q.59 वर्ष 2006 में कंपनी B की आय में पिछले वर्ष की तुलना में लगभग कितने प्रतिशत की वृद्धि हुई है ?

- a. 28
b. 11
c. 17 ✓
d. 8
e. 22

Not Attempt | Correct Ans. | c

Solution. (3) Percentage Increase in Income of company B = $\frac{3.5-3}{3} \times 100$
= 3 Lakhs.

Q.60 किस वर्ष में कंपनी C की आय अधिकतम घटी/बढ़ी है ?

- a. 2004 ✓
- b. 2006
- c. 2003
- d. 2002
- e. इनमें से कोई नहीं

Not Attempt | Correct Ans. | a

Solution. (1) For company 'C' in 2002, $\frac{1}{3} \times 100 = 33.33\% (-)$
In 2003 = $\frac{5}{2} \times 100 = 25\% (+)$
In 2004 = $\frac{.75}{2.5} \times 100 = 30\% (+)$
In 2005 = $\frac{.25}{3.25} \times 100 = 7.69\% (+)$
In 2006 = $\frac{5}{3.5} \times 100 = 14.28\% (-)$
Hence, in year 2004, the increase in income was highest.

Q. No Question Status

Q.61 निर्देश (Q.61-65): निम्नलिखित प्रत्येक प्रश्न में दो समीकरण दिए गए हैं। आपको दोनों समीकरणों को हल करने के बाद x या y का मान ज्ञात करना है और उत्तर देने हैं

I. $x = \sqrt{7921}$

II. $y = \sqrt[3]{704969}$

- a. यदि $x > y$
- b. यदि $x < y$
- c. यदि $x \geq y$
- d. यदि $x \leq y$ ✓
- e. यदि $x = y$ या सम्बंधित नहीं किया जा सकता है।

Not Attempt | Correct Ans. | d

Solution. (4) $x = \pm 89, y = 89, x \leq y$

Q.62 निर्देश (Q.61-65): निम्नलिखित प्रत्येक प्रश्न में दो समीकरण दिए गए हैं। आपको दोनों समीकरणों को हल करने के बाद x या y का मान ज्ञात करना है और उत्तर देने हैं

I. $x^2+9x+20 = 0$

II. $y^2+5y+6 = 0$

- a. यदि $x > y$
 b. यदि $x < y$ ✓
 c. यदि $x \geq y$
 d. यदि $x \leq y$
 e. यदि $x = y$ या सम्बंधित नहीं किया जा सकता है।

Not Attempt Correct Ans. **b**

Solution. (2) $x = -5, -4, y = -3, -2, x < y$

Q.63 निर्देश (Q.61-65): निम्नलिखित प्रत्येक प्रश्न में दो समीकरण दिए गए हैं। आपको दोनों समीकरणों को हल करने के बाद x या y का मान ज्ञात करना है और उत्तर देने हैं

I. $2x+4y = 13$

II. $4x+2y = 14$

- a. यदि $x > y$ ✓
 b. यदि $x < y$
 c. यदि $x \geq y$
 d. यदि $x \leq y$
 e. यदि $x = y$ या सम्बंधित नहीं किया जा सकता है।

Not Attempt Correct Ans. **a**

Solution. (1) $x = \frac{5}{2}, y = 2, x > y$

Q.64 निर्देश (Q.61-65): निम्नलिखित प्रत्येक प्रश्न में दो समीकरण दिए गए हैं। आपको दोनों समीकरणों को हल करने के बाद x या y का मान ज्ञात करना है और उत्तर देने हैं

I. $x^2+11x+30 = 0$

II. $y^2+13y+42 = 0$

- a. यदि $x > y$
 b. यदि $x < y$
 c. यदि $x \geq y$ ✓
 d. यदि $x \leq y$
 e. यदि $x = y$ या सम्बंधित नहीं किया जा सकता है।

Not Attempt Correct Ans. **c**

Solution. (3) $x = -6, -5, y = -7, -6, x \geq y$

Q.65 निर्देश (Q.61-65): निम्नलिखित प्रत्येक प्रश्न में दो समीकरण दिए गए हैं। आपको दोनों समीकरणों को हल

करने के बाद x या y का मान ज्ञात करना है और उत्तर देने हैं

I. $x^2 + 29x = -210$

II. $y^2 + 28y = -195$

- a. यदि $x > y$
- b. यदि $x < y$
- c. यदि $x \geq y$
- d. यदि $x \leq y$ ✓
- e. यदि $x = y$ या सम्बंधित नहीं किया जा सकता है।

Not Attempt | Correct Ans. **d**

Solution. (4) $x = -14, -15, y = -13, -15, x \leq y$

Q.66 निर्देश (66-70): निम्नलिखित प्रश्नों में प्रश्न चिन्ह के स्थान पर क्या मान आयगा?

$$[(3024 \div 189)^{\frac{1}{3}} + (684 \div 19)^2] = (?)^2 + 459$$

- a. -27
- b. 29 ✓
- c. 841
- d. 1089
- e. 927

Not Attempt | Correct Ans. **b**

Solution. -NA-

Q.67 निर्देश (66-70): निम्नलिखित प्रश्नों में प्रश्न चिन्ह के स्थान पर क्या मान आयगा?

$$(0.0729 \div 0.1)^3 \div (0.081 \times 10)^5 \times (0.3 \times 3)^5 = (0.9)^{7+}$$

- a. 2
- b. 0.5
- c. 1 ✓
- d. 3.9
- e. 4

Not Attempt | Correct Ans. **c**

Solution. -NA-

Q.68 निर्देश (66-70): निम्नलिखित प्रश्नों में प्रश्न चिन्ह के स्थान पर क्या मान आयगा?

$$(204 \times 111) + (222 \times 101) - (33 \times 11) + \sqrt{4225} - -\sqrt{3721} = ?$$

- a. 43139
- b. 42232
- c. 39201
- d. 44707 ✓
- e. 40501

Not Attempt | Correct Ans. **d**

Solution. **-NA-**

Q.69 निर्देश (66-70): निम्नलिखित प्रश्नों में प्रश्न चिन्ह के स्थान पर क्या मान आयगा?

$$9937 \div 19 \times 12029 \div 23 + 54 = ?$$

- a. 26179
- b. 273583 ✓
- c. 331257
- d. 28532
- e. 31241

Not Attempt | Correct Ans. **b**

Solution. **-NA-**

Q.70 निर्देश (66-70): निम्नलिखित प्रश्नों में प्रश्न चिन्ह के स्थान पर क्या मान आयगा?

$$1739 \div 47 + 2679 \div 57 + 3819 \div 67 + 5159 \div 77 + 6699 \div 87 + 1245 \div 83 = ?$$

- a. 315
- b. 300 ✓
- c. 285
- d. 250
- e. 245

Not Attempt | Correct Ans. **b**

Solution. **-NA-**

Essay for Question No.**71**

Directions (Q 71-80): Read the following passage carefully and answer the questions given below it. Certain words/ phrases have been printed in bold to help you locate them while answering some of the questions.

Our current approach to solving global warming will not work. It is flawed economically, because carbon taxes will cost a fortune and do little, and it is flawed politically because negotiations to reduce carbon-dioxide emissions will become even more **fraught** and divisive and even if you disagree on both **counts**. The current approach is also flawed technologically.

Many countries are now setting ambitious carbon cutting goals ahead of global negotiations. Let us imagine that the world ultimately agree on an ambitious target. Say, we decide to reduce carbon-dioxide emission by three-quarters by the year 2100 while maintaining **reasonable** growth. Herein lies the technological problem to meet this goal, non-carbon based sources of energy would have to be astounding 2.5 times greater in 2100 than that was in the year 2000.

These figures were calculated by economists of a foreign university. Their research shows that confronting global warming effectively required nothing short of a technological revolution. We are not taking this challenge seriously. If we continue on our current path, technological development will be nowhere near significant enough to make non-carbon based energy sources competitive with fossil fuels on price and effectiveness.

Sadly, during the international negotiations, the focus is on how much carbon to cut, rather than on how to do so. Little or no consideration will be given to whether the means of cutting emissions are sufficient to achieve the goals. Politicians will base their decisions on global warming models that simply assume that technological break-throughs will happen by themselves. This faith is sadly and dangerously misplaced. Economists examine the state of non-carbon based energy today – nuclear, wind, solar and geothermal and find that, taken together, alternative energy sources would get us less than halfway toward a path of stable carbon emissions by 2050, and only a tiny fraction of the way toward stabilization by 2100. We need many times more non-carbon based energy than is currently produced.

Yet the needed technology will not be ready in terms of scalability of stability. In many cases, there is still a need for the most basic research and development. We are not even close to getting this revolution started. Current technology is so inefficient that to take just one example, if we were serious about wind power, we would have to **blanket** most countries with wind turbines to generate enough energy for everybody, and we would still have the massive problem of storage: we don't know what to do when the wind does not blow. Policy makers should abandon fraught carbon reduction negotiations and instead make agreements to invest in research and development to get this technology to the level where it needs to.

Q. No	Question Status
Q.71	<p>Which of the following is suggested in the passage by which global warming can be reduced?</p> <p>a. To make the approach towards global warming completely free from political intervention</p> <p>b. By making non-carbon based energy methods as efficient and cost effective as the fossil fuels</p> <p>c. To force every country to confine to stricter terms of carbon emissions</p> <p>d. To avoid international negotiation on carbon cuts until the technological research comes out with a scalable and stable solution ✓</p> <p>e. All of the above</p> <p>Not Attempt Correct Ans. d</p> <p>Solution. (d); To avoid international negotiation on carbon cuts until the technological research comes out with a scalable and stable solution.</p>
Q.72	<p>Which of the following is not true in the context of the given passage ?</p> <p>(a) Non-carbon fuels are too expensive so they should not be used</p> <p>(b) Political ignorance is one of the main reasons behind the inappropriate approach to combat global warming</p> <p>(c) The generation of energy from non- carbon sources has to be increased for significant reduction in global warming</p> <p>a. Only (A) ✓</p> <p>b. Only (C)</p> <p>c. (A) and (C)</p> <p>d. Both (B) and (C)</p> <p>e. (A), (B) and (C)</p> <p>Not Attempt Correct Ans. a</p> <p>Solution. (a); (A) is not true in the context of the passage.</p>
Q.73	<p>Why, according to the author, are the international negotiations barely a solution to the problem of global warming?</p> <p>a. Many countries fail to confine to carbon –cut norms as set in these negotiations</p> <p>b. These negotiations emphasise on the amount of carbon to be cut and not on the ways in which it can be done ✓</p> <p>c. Recent research on the carbon-cut methods is overlooked by the politicians</p> <p>d. Such negotiations produce dominance of powerful countries over the others, thus hampering their industrial development</p> <p>e. none of these</p>

Not Attempt Correct Ans. **b**

Solution.

(b); These negotiations emphasise on the amount of carbon to be cut and not on the ways in which it can be done.

Q.74

Which of the following is intended in the given passage?

- a. To suggest the ways in which alternate forms of energy can reduce climate change
- b. To explain that the current technological developments are flawed and thus, fail to control the climate change
- c. To explain that the stable carbon emissions are impossible to achieve in this century
- d. To suggest to the policy makers to invest in research rather than futile negotiations ✓
- e. None of the above

Not Attempt Correct Ans. **d**

Solution.

(d); To suggest to the policy makers to invest in research rather than futile negotiations.

Q.75

Which challenge according to the author is not being taken seriously in the phrase “we are not taking this challenge seriously “ as used in the passage?

- (A) Cutting the carbon emissions to a scale of 2.5 times in the next decade**
- (B) The challenge of locating new fossil fuel reserves since the existing ones are depleting at a fast rate**
- (C) To carry out technological innovations for developing non-carbon based energy resources**

- a. Only (C) ✓
- b. (A) and (C)
- c. Only (B)
- d. (A) and (B)
- e. none of these

Not Attempt Correct Ans. **a**

Solution. **(a); Only (C)**

Q.76

Which of the following is true in the context of the passage?

- a. Many countries are refraining from taking part in global negotiations to check global warming
- b. There has been no improvement in carbon emissions world over
- c. Technological advancement through research is the need of the hour in order to meet the

directed goal of combating global warming ✓

- d. Most countries in the world are well equipped to produce sufficient non-carbon based energy sources
- e. All the above statements are true

Not Attempt | Correct Ans. **c**

Solution.

(c); Technological advancement through research is the need of the hour in order to meet the directed goal of combating global warming.

Q.77 Which of the following is most nearly the **SAME** in meaning as the word given in capitals as used in the passage

COUNTS

- a. Numbers
- b. Matters ✓
- c. Calculations
- d. Values
- e. Attributes

Not Attempt | Correct Ans. **b**

Solution.

(b) In the passage counts means 'point made during a discussion or an argument'. So, matters is most similar in meaning to it.

Q.78 Which of the following is most nearly the **SAME** in meaning as the word given in capitals as used in the passage

BLANKET

- a. Quilt
- b. Surround
- c. Sheet
- d. Encompass ✓
- e. Protect

Not Attempt | Correct Ans. **d**

Solution.

(d) In the passage blanket means 'to cover completely'. So, encompass is most similar in meaning to it.

Q.79 Which of the following is most **OPPOSITE** in meaning of the word given in capitals as used in the passage.

REASONABLE

- a. Fair
- b. Illogical
- c. Irrational
- d. Inadequate ✓
- e. Considerable

Not Attempt | Correct Ans. **d**

Solution. **(d) In the passage reasonable means 'sufficient or adequate'**

Q.80 Which of the following is most **OPPOSITE** in meaning of the word given in capitals as used in the passage.

FRAUGHT

- a. Distressful
- b. Amicable ✓
- c. Disagreement
- d. Desirable
- e. Anxious

Not Attempt | Correct Ans. **b**

Solution. **(b) In the passage fraught means 'causing worry and anxiety'. So, amicable is most opposite in meaning to it.**

Q. No **Question Status**

Q.81 **Directions (Q. 81-85): Which of the phrases (a), (b), (c), (d) given below should replace in the phrases given in bold in the following sentence to make it meaningful and grammatically correct. If the sentence is meaningful and correct as it is and no correction is required, mark (e) as the answer.**

Q- According to a court ruling, the owner of polluted land is liable for the clean up of the property even if the owner did not have the responsibility of that population.

- a. is not responsible for ✓
- b. responsibility is not there for
- c. did have the responsibility of
- d. has not been in charge of
- e. no correction required

Not Attempt Correct Ans. **a**

Solution.

(a) 'is not responsible for' fits the sentence appropriately as sentence is in present and preposition for is used after responsible.

Q.82 Directions (Q. 81-85): Which of the phrases (a), (b), (c), (d) given below should replace in the phrases given in bold in the following sentence to make it meaningful and grammatically correct. If the sentence is meaningful and correct as it is and no correction is required, mark (e) as the answer.

Q- Some research studies indicate that among distinguished artists , the rate of depression is ten times as prevalent as in the population at large.

- a. more than prevalent in the
- b. more prevalent as comparing
- c. as prevalent when comparative
- d. more prevalent than the ✓
- e. no correction required

Not Attempt Correct Ans. **d**

Solution. **(d) 'more prevalent than the' is the correct comparative phrase.**

Q.83 Directions (Q. 81-85): Which of the phrases (a), (b), (c), (d) given below should replace in the phrases given in bold in the following sentence to make it meaningful and grammatically correct. If the sentence is meaningful and correct as it is and no correction is required, mark (e) as the answer.

Q- House flies that batch in summer live only about three week, but they who hatch during winter live longer than six months.

- a. but those who
- b. than those
- c. than they who
- d. but those that ✓
- e. no correction required

Not Attempt Correct Ans. **d**

Solution.

(d) 'but those that' fits the sentence appropriately as 'who' is used for 'person' only whereas 'that' can be used for 'persons, animals and things'.

Q.84 Directions (Q. 81-85): Which of the phrases (a), (b), (c), (d) given below should replace in the phrases given in bold in the following sentence to make it meaningful and grammatically correct. If the sentence is meaningful and correct as it is and no

correction is required, mark (e) as the answer.

Q- In the last 50 years, many people have changed their preference from cars to sports vehicles.

- a. their preference to
- b. their preferencing from
- c. there preference from
- d. their preferring to
- e. no correction required ✓

Not Attempt Correct Ans. e

Solution. (e) The sentence is correct.

Q.85

Directions (Q. 81-85): Which of the phrases (a), (b), (c), (d) given below should replace in the phrases given in bold in the following sentence to make it meaningful and grammatically correct. If the sentence is meaningful and correct as it is and no correction is required, mark (e) as the answer.

Q- Scientists have suggested that once in every 10 million year or so, a truly colossal object from space cuts on the atmosphere and slams into Earth.

- a. cut against the atmosphere
- b. cuts the atmosphere
- c. cuts through the atmosphere ✓
- d. cutting on the atmosphere
- e. no correction required

Not Attempt Correct Ans. c

Solution. (c) 'cuts through the atmosphere' is the correct use.

Q.86

Directions (Q 86-90) Read each sentence to find out whether there is any grammatical error or idiomatic error in it. The error, if any, will be in one part of the sentence . The number of that part is the answer . If there is no error, the answer is (e) (ignore punctuation errors if any)

Q- Intense fear blocks (a) both to the generation (b)/ and expression (c)/of ideas (d)/ No error (e)

- a. a
- b. b ✓
- c. c
- d. d

e. e

Not Attempt Correct Ans. **b**Solution. **(b) Remove 'to'. Its use is superfluous.**

Q.87 Directions (Q 86-90) Read each sentence to find out whether there is any grammatical error or idiomatic error in it. The error, if any, will be in one part of the sentence . The number of that part is the answer . If there is no error, the answer is (e) (ignore punctuation errors if any)

Q- The Government officials have been met (a)/ heads of commercial Banks later this week (b)/ to get their views on liquidity (c)/ and growth in deposits (d)/ No error (e)

- a. a ✓
- b. b
- c. c
- d. d
- e. e

Not Attempt Correct Ans. **a**

Solution. **(a) Use 'will meet' in place of 'have been met'. Hence, simple Future Tense is required.**

Q.88 Directions (Q 86-90) Read each sentence to find out whether there is any grammatical error or idiomatic error in it. The error, if any, will be in one part of the sentence . The number of that part is the answer . If there is no error, the answer is (e) (ignore punctuation errors if any)

Q- Indian entrepreneurs are making waves (a)/ throughout the world; their ideas (b)/ and technical knowledge are yielded (c)/ unprecedented growth in income and employment (d) No error (e)

- a. a
- b. b
- c. c ✓
- d. d
- e. e

Not Attempt Correct Ans. **c**

Solution. **(c) Use 'yielding' in place of 'yielded'. The sentence is in Present Continuous Tense.**

Q.89 Directions (Q 86-90) Read each sentence to find out whether there is any grammatical error or idiomatic error in it. The error, if any, will be in one part of the sentence. The number of that part is the answer. If there is no error, the answer is (e) (ignore punctuation errors if any)

Q- If you go on letting (a)/ your dog chase cars (b)/ he will end by being (c)/ run down one day. (d)/ No error (e)

- a. a
- b. b
- c. c ✓
- d. d
- e. e

Not Attempt Correct Ans. **c**

Solution. **(c) Replace 'by' with 'up' because 'end up' means 'to meet one's end'.**

Q.90 Directions (Q 86-90) Read each sentence to find out whether there is any grammatical error or idiomatic error in it. The error, if any, will be in one part of the sentence. The number of that part is the answer. If there is no error, the answer is (e) (ignore punctuation errors if any)

Q- The aim of the course (a)/ will be to cater to students with diverted needs (b)/ from basic knowledge (c)/ to top research and publishing skills.(d)/ No error (e)

- a. a
- b. b ✓
- c. c
- d. d
- e. e

Not Attempt Correct Ans. **b**

Solution. **(b) Use 'diverse' place of 'diverted'. Here, an adjective is required.**

Q.91 Directions (Q 91-95) Rearrange the following sentences (A), (B), (C), (D), (E) and (F) to make a meaningful paragraph and then answer the questions given below.

(A) A group of media persons have now taken the responsibility of educating people regarding the reality shows

(B) This is because these shows are said to be staged fabricated and directed to improve TRPs.

(C) The reality shows on TV have been attracting a huge viewership recently.

(D) Owing to their efforts, the public has now realized the truth behind reality shows and such shows are fast losing their hold.

(E) through the name infers 'real' viewers are being exposed to a lot of 'unreal'

content.

(F) The public however is drawn to such contents of the reality shows unaware of this fabrication.

Which of the following sentence should be the FOURTH after rearrangement ?

- a. C
- b. B
- c. E
- d. F ✓
- e. D

Not Attempt Correct Ans. **d**

Solution.

For questions (91-95); The proper sequence of sentences to form a meaningful paragraph will be CEBFAD.

Q.92

Directions (Q 91-95) Rearrange the following sentences (A), (B), (C), (D), (E) and (F) to make a meaningful paragraph and then answer the questions given below.

(A) A group of media persons have now taken the responsibility of educating people regarding the reality shows

(B) This is because these shows are said to be staged fabricated and directed to improve TRPs.

(C) The reality shows on TV have been attracting a huge viewership recently.

(D) Owing to their efforts, the public has now realized the truth behind reality shows and such shows are fast losing their hold.

(E) through the name infers 'real' viewers are being exposed to a lot of 'unreal' content.

(F) The public however is drawn to such contents of the reality shows unaware of this fabrication.

Which of the following sentence should be the SIXTH (LAST) after rearrangement?


- a. B
- b. D ✓
- c. C
- d. E
- e. A

Not Attempt Correct Ans. **b**

Solution. **-NA-**

- Q.93** Directions (Q 91-95) Rearrange the following sentences (A), (B), (C), (D), (E) and (F) to make a meaningful paragraph and then answer the questions given below.
- (A) A group of media persons have now taken the responsibility of educating people regarding the reality shows
- (B) This is because these shows are said to be staged fabricated and directed to improve TRPs.
- (C) The reality shows on TV have been attracting a huge viewership recently.
- (D) Owing to their efforts, the public has now realized the truth behind reality shows and such shows are fast losing their hold.
- (E) through the name infers 'real' viewers are being exposed to a lot of 'unreal' content.
- (F) The public however is drawn to such contents of the reality shows unaware of this fabrication

Which of the following sentence should be the **FIRST** after rearrangement ?

- a. A
- b. C 
- c. D
- d. E
- e. F

Not Attempt | Correct Ans. **b**

Solution. **-NA-**

- Q.94** Directions (Q 91-95) Rearrange the following sentences (A), (B), (C), (D), (E) and (F) to make a meaningful paragraph and then answer the questions given below.
- (A) A group of media persons have now taken the responsibility of educating people regarding the reality shows
- (B) This is because these shows are said to be staged fabricated and directed to improve TRPs.
- (C) The reality shows on TV have been attracting a huge viewership recently.
- (D) Owing to their efforts, the public has now realized the truth behind reality shows and such shows are fast losing their hold.
- (E) through the name infers 'real' viewers are being exposed to a lot of 'unreal' content.
- (F) The public however is drawn to such contents of the reality shows unaware of this fabrication.

Which of the following sentences should be the **SECOND** after rearrangement?

- a. A
- b. B
- c. C
- d. D
- e. E ✓

Not Attempt | Correct Ans. | e

Solution. | -NA-

- Q.95** Directions (Q 91-95) Rearrange the following sentences (A), (B), (C), (D), (E) and (F) to make a meaningful paragraph and then answer the questions given below.
- (A) A group of media persons have now taken the responsibility of educating people regarding the reality shows
- (B) This is because these shows are said to be staged fabricated and directed to improve TRPs.
- (C) The reality shows on TV have been attracting a huge viewership recently.
- (D) Owing to their efforts, the public has now realized the truth behind reality shows and such shows are fast losing their hold.
- (E) through the name infers 'real' viewers are being exposed to a lot of 'unreal' content.
- (F) The public however is drawn to such contents of the reality shows unaware of this fabrication.

Which of the following sentences should be the THIRD after rearrangement?

- a. B ✓
- b. C
- c. F
- d. D
- e. A

Not Attempt | Correct Ans. | a

Solution. | -NA-

- Q.96** Directions (Q. 96-100): In the following passage there are blanks, each of which is numbered these numbers are printed below the passage and against each five words/ phrases are suggested, one of which fits the blanks appropriately. Find out the appropriate word/ phrase in each case.

Since independence and from the beginning of our planned development ,we have (96) increased production as supplementary to improved distribution of income. A high rate of growth of the gross national product by itself does not serve our purpose (97) it is more equitably shared, benefiting all sections of the population . To be effective, increased production with better distribution depends largely (98) to

assess the productivity of the small man, whether he is engaged in agriculture or industry. In agriculture the most critical inputs are water and credit (99) with cultivable land. Our land reform legislation has aimed at distributing land to small owners. There are sometimes political obstacles; but it is not known generally how many cases are pending in courts.

We must at least ensure that small owners have access to other essential inputs. In industry, we have (100) small scale and cottage industries. Greater availability of power along with assured market and credit arrangements can make tremendous difference to productivity.

Que:- 96

- a. regarded
- b. Thought
- c. observed
- d. attained ✓
- e. ordered

Not Attempt | Correct Ans. d

Solution. -NA-

Q.97 Directions (Q. 96-100) In the following passage there are blanks, each of which is numbered these numbers are printed below the passage and against each five words/phrases are suggested, one of which fits the blanks appropriately. Find out the appropriate word/ phrase in each case.

Since independence and from the beginning of our planned development, we have (96) increased production as supplementary to improved distribution of income. A high rate of growth of the gross national product by itself does not serve our purpose (97) it is more equitably shared, benefiting all sections of the population. To be effective, increased production with better distribution depends largely (98) to assess the productivity of the small man, whether he is engaged in agriculture or industry. In agriculture the most critical inputs are water and credit (99) with cultivable land. Our land reform legislation has aimed at distributing land to small owners. There are sometimes political obstacles; but it is not known generally how many cases are pending in courts.

We must at least ensure that small owners have access to other essential inputs. In industry, we have (100) small scale and cottage industries. Greater availability of power along with assured market and credit arrangements can make tremendous difference to productivity.

Que:- 97

- a. if
- b. until
- c. till
- d. either
- e. unless ✓

Not Attempt | Correct Ans. | e

Solution. | -NA-

Q.98 Directions (Q. 96-100) In the following passage there are blanks, each of which is numbered these numbers are printed below the passage and against each five words/ phrases are suggested, one of which fits the blanks appropriately. Find out the appropriate word/ phrase in each case.

Since independence and from the beginning of our planned development ,we have (96) increased production as supplementary to improved distribution of income. A high rate of growth of the gross national product by itself does not serve our purpose (97) it is more equitably shared, benefiting all sections of the population . To be effective, increased production with better distribution depends largely (98) to assess the productivity of the small man, whether he is engaged in agriculture or industry. In agriculture the most critical inputs are water and credit (99) with cultivable land. Our land reform legislaton has aimed at distributing land to small owners. There are sometimes political obstacles; but it is not known generally how many cases are pending in courts.

We must atleast ensure that small owners have access to other essential inputs. In industry, we have (100) small scale and cottage industries. Greater availability of power along with assured market and credit arrangements can make tremendous difference to productivity.

Que:- 98

- a. on our capacity
- b. to be able
- c. on our capability ✓
- d. our capability on
- e. our ability on

Not Attempt | Correct Ans. | c

Solution. | -NA-

Q.99 Directions (Q. 96-100) In the following passage there are blanks, each of which is numbered these numbers are printed below the passage and against each five words/ phrases are suggested, one of which fits the blanks appropriately. Find out the

appropriate word/ phrase in each case.

Since independence and from the beginning of our planned development ,we have (96) increased production as supplementary to improved distribution of income. A high rate of growth of the gross national product by itself does not serve our purpose (97) it is more equitably shared, benefiting all sections of the population . To be effective, increased production with better distribution depends largely (98) to assess the productivity of the small man, whether he is engaged in agriculture or industry. In agriculture the most critical inputs are water and credit (99) with cultivable land. Our land reform legislaton has aimed at distributing land to small owners. There are sometimes political obstacles; but it is not known generally how many cases are pending in courts.

We must atleast ensure that small owners have access to other essential inputs. In industry, we have (100) small scale and cottage industries. Greater availability of power along with assured market and credit arrangements can make tremendous difference to productivity.

Que:- 99

- a. attached
- b. agreed
- c. together ✓
- d. alternate
- e. also

Not Attempt | Correct Ans. | **C**

Solution. | **-NA-**

Q.100

Directions (Q. 96-100)In the following passage there are blanks, each of which is numbered these numbers are printed below the passage and against each five words/ phrases are suggested, one of which fits the blanks appropriately. Find out the appropriate word/ phrase in each case.

Since independence and from the beginning of our planned development ,we have (96) increased production as supplementary to improved distribution of income. A high rate of growth of the gross national product by itself does not serve our purpose (97) it is more equitably shared, benefiting all sections of the population . To be effective, increased production with better distribution depends largely (98) to assess the productivity of the small man, whether he is engaged in agriculture or industry. In agriculture the most critical inputs are water and credit (99) with cultivable land. Our land reform legislaton has aimed at distributing land to small owners. There are sometimes political obstacles; but it is not known generally how many cases are pending in courts.

We must atleast ensure that small owners have access to other essential inputs. In

industry, we have **(100)** small scale and cottage industries. Greater availability of power along with assured market and credit arrangements can make tremendous difference to productivity.

Que:- 100

- a. discouraged
- b. acquainted
- c. encouraged ✓
- d. ordered
- e. pulled out

Not Attempt | **Correct Ans.** | **c**

Solution. | **-NA-**