

രണ്ടാം പാഠോർഷിക മൂല്യനിർണ്ണയം 2015-16

സ്റ്റാൻഡേർഡ് : II ഉദ്ഗ്രഥിതം - രണ്ടാം ദിവസം

പേര്: സ്കൂൾ:.....
നിലവാര സൂചിക

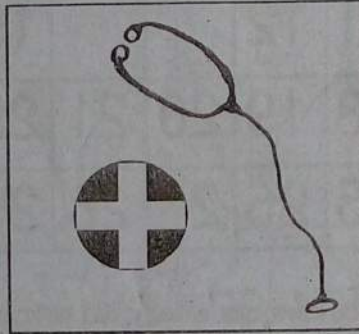
രോഗങ്ങൾ രോഗങ്ങൾ

പ്രമേഹം

എലിപ്പനി

ചിക്കൻപോക്സ്

ക്യാൻസർ



മഞ്ഞപ്പിത്തം

ഹൃദ്രോഗം

ജലദോഷം

ഡെങ്കിപ്പനി

ചെങ്കണ്ണ്



മുകളിൽ എഴുതിയ രോഗങ്ങളിൽ കൊതുക് പരത്തുന്ന രോഗം ഏത് ?

മറ്റ് രോഗങ്ങളെ പട്ടികപ്പെടുത്തൂ..

--	--

കലണ്ടർ പൂർത്തിയാക്കാം

കലണ്ടറിൽ വിട്ടുപോയ തീയതികൾ പൂരിപ്പിക്കുക.

2016 ജനുവരി						
ഞായർ	തിങ്കൾ	ചൊവ്വ	ബുധൻ	വ്യാഴം	വെള്ളി	ശനി
31	•	•	•	•	1	2
3	4	5			8	9
10	11	12			15	16
17	18	19	20	21	22	23
24	25	26	27	28	29	30


• 10-ാം തീയതി ഞായറാഴ്ച എങ്കിൽ അടുത്ത തിങ്കളാഴ്ച തീയതി എത്ര?

• ഫെബ്രുവരി 1 ഏത് ദിവസമാണ്

• വിട്ടുപോയ സംഖ്യ എഴുതൂ. 7, 14,,

മാസങ്ങൾക്ക് നമ്പർ നൽകൂ

<input type="radio"/>	<input type="radio"/>	<input type="radio"/>	<input type="radio"/>	<input type="radio"/>	<input checked="" type="radio"/>
ജൂലൈ	സെപ്തംബർ	നവംബർ	ആഗസ്റ്റ്	ഏപ്രിൽ	ജനുവരി
<input type="radio"/>	<input type="radio"/>	<input type="radio"/>	<input checked="" type="radio"/>	<input type="radio"/>	<input type="radio"/>
മാർച്ച്	ഒക്ടോബർ	ഫെബ്രുവരി	ഡിസംബർ	ജൂൺ	മേയ്



ഏതൊക്കെ വാങ്ങാം?

വിലവിവരപട്ടിക	
പാവ	35 രൂപ
കാർ	43 രൂപ
മുഖംമുടി	22 രൂപ
കരടി	30 രൂപ
ക്രിക്കറ്റ് ബാറ്റ്	25 രൂപ
ബസ്	40 രൂപ
തീവണ്ടി	35 രൂപ

Handwritten calculations:

$$\begin{array}{r} 43 \\ + 22 \\ \hline 65 \\ \hline 95 \end{array}$$

$$\begin{array}{r} 75 \\ - 22 \\ \hline 53 \end{array}$$

അശീന് 65 രൂപയുടെ കളിനോട്ടുകളാണ് കിട്ടിയത്. അവന് വാങ്ങിക്കുവാൻ സാധിക്കുന്ന സാധനങ്ങൾ ഏതൊക്കെയാണെന്ന് വരച്ച് ചേർക്കൂ...

തീവണ്ടിയും പാവയും
 $35+35$

മുഖംമുടിയും കരടിയും
 $22+30$




1 ക്രിക്കറ്റ് ബാറ്റും ബസ്സും
 $25+40$

പാവയും കരടിയും
 $35+30$

• തീവണ്ടിയും പാവയും വാങ്ങാൻ അശീന് ഇനി എത്ര രൂപ കൂടി വേണം ?

• 95 രൂപയ്ക്ക് വാങ്ങാവുന്ന 3 സാധനങ്ങൾ ഏതൊക്കെ ?

രണ്ടാം ദിവസം



നിറം നൽകാം



വിവരണം തയ്യാറാക്കാം

A large rectangular area with a grid pattern, intended for students to write their descriptions of the illustration.