


രണ്ടാം പാദവാർഷിക മൂല്യനിർണ്ണയം 2015-16

സ്റ്റാൻഡേർഡ് : I ഉദ്ദേശ്യം - ഒന്നാം ദിവസം

പേര്: സ്കൂൾ:.....

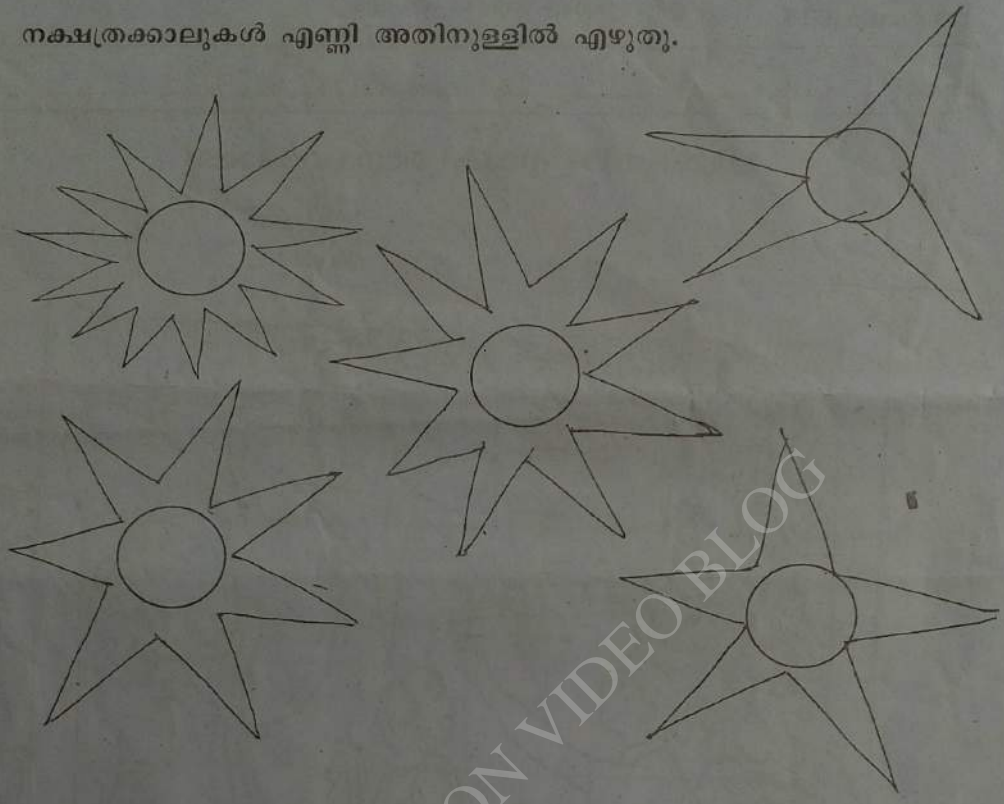
ചിത്രം നിറം നൽകി മനോഹരമാക്കൂ



ഒന്നാം ദിവസം

നക്ഷത്രങ്ങൾ നക്ഷത്രങ്ങൾ

നക്ഷത്രക്കാലുകൾ എണ്ണി അതിനുള്ളിൽ എഴുതൂ.




ഏതാണ് ഒന്നാമതായി തൂക്കുന്ന നക്ഷത്രം?

തൂക്കുന്ന ക്രമം അനുസരിച്ച് നക്ഷത്രങ്ങളുടെ കാലുകളുടെ എണ്ണം




ഹായ് ! പുൽക്കൂട്



മനോ ദിവസം



ആകെ എത്ര മിറായികൾ



പേര്	പച്ച മിറായി	ചുവന്ന മിറായി	ആകെ
മരിയ	4	6	4+6=.....
അപ്പു	3	4

അമ്മുവിന് കിട്ടിയത് 2 പച്ച മിറായിയും 4 ചുവന്ന മിറായിയുമാണ്. അവൾക്ക് ആകെ കിട്ടിയ മിറായികൾ എത്ര ?

പച്ച മിറായി

ചുവന്ന മിറായി

ആകെ മിറായി