

രണ്ടാം പാദവാർഷിക മൂല്യനിർണ്ണയം 2016-17

സ്റ്റാൻഡേർഡ് : I ഉദ്ദേശ്യം - മൂന്നാം ദിവസം

പേര്: .....സ്കൂൾ:.....




വർഷം 9

ശ്രേണി

പച്ചക്കറികൾ

പച്ചക്കറികളിൽ ബാക്കി കണ്ടെത്താം



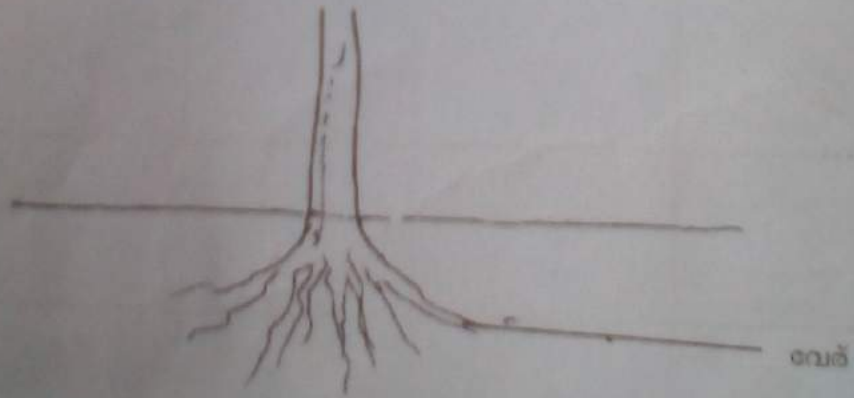
പച്ചക്കറി	വാങ്ങിയത്	കോടായത്	ബാക്കി
 വെണ്ട	9	4	$9 - 4 =$
 മത്തൻ	8	3	
 വഴുതന	5	2	

വർഷം: [ ] ന

ശ്രേണി: [ ]

വായ്പക്കടം എഴുതാം

ചെടിയുടെ ഭാഗങ്ങൾ വരച്ച് ചേർത്ത് പേരെഴുതൂ.



ചായക്കപ്പുകൾ  
ഏതു കപ്പാണ് കൂടുതൽ?



മാളുവിന്റെ സമ്മാനപ്പൊതിയിൽ 3 ചുവന്ന കപ്പുകളും 4 നീലക്കപ്പുകളും ഉണ്ട്.

അനീസയുടെ പൊതിയിൽ 5 ചുവന്ന കപ്പുകളും 6 നീലക്കപ്പുകളും ഉണ്ട്. ആകെ ഉള്ളതിൽ ഏതു നിറത്തിലുള്ള കപ്പുകളാണ് കൂടുതൽ?

മാളു	ചുവന്ന കപ്പ്	=	<input type="text"/>
	നീല കപ്പ്	=	<input type="text"/>
അനീസ	ചുവന്ന കപ്പ്	=	<input type="text"/>
	നീല കപ്പ്	=	<input type="text"/>
ആകെ	<input type="text"/>	=	<input type="text"/>
	<input type="text"/>	=	<input type="text"/>

ലഘുവും ജിലേബിയയും

ഓരോരുത്തർക്കും കിട്ടിയതെത്ര?

