


1. Which is called Gossen's second law ?
 - (A) Law of Equi-marginal Utility
 - (B) Law of Diminishing Marginal Utility
 - (C) Revealed Preference Theory
 - (D) Indifference Curve Approach

 2. When a consumer is in equilibrium, MRS_{XY} is 2.5. If the price of commodity Y is 16, then what will be the price of commodity X ?
 - (A) 40
 - (B) 6.4
 - (C) 23.2
 - (D) 24

 3. Which of the conditions support long run equilibrium in monopolistic competition ?
 - (A) $MR = MC, AR = AC$
 - (B) $P = MC, AR = AC$
 - (C) $MR = MC = AR = AC$
 - (D) $AR = MC = AC$

 4. Who explained importance of time element in price determination, for the first time ?
 - (A) Chamberlin
 - (B) Stigler
 - (C) Mrs. Joan Robinson
 - (D) Marshall

 5. Law of diminishing returns begins to operate when :
 - (A) Total product begins to rise.
 - (B) Total product begins to fall.
 - (C) Marginal product begins to rise.
 - (D) Marginal product begins to fall.
- 

अर्थशास्त्र
प्रश्नपत्र – II

निर्देश : इस प्रश्नपत्र में **पचास (50)** बहु-विकल्पीय प्रश्न हैं । प्रत्येक प्रश्न के **दो (2)** अंक हैं । **सभी** प्रश्न अनिवार्य हैं ।

1. गॉसेन का द्वितीय नियम किसे कहा जाता है ?
 - (A) सम-सीमांत उपयोगिता का नियम
 - (B) हासमान सीमांत उपयोगिता का नियम
 - (C) प्रकटित अधिमानता सिद्धांत
 - (D) तटस्थता वक्र अभिगम

2. जब कोई उपभोक्ता साम्यावस्था में है, MRS_{XY} 2.5 होता है । अगर वस्तु Y का मूल्य 16 है, तो वस्तु X का मूल्य क्या होगा ?
 - (A) 40
 - (B) 6.4
 - (C) 23.2
 - (D) 24

3. एकाधिकार वाली प्रतिस्पर्धा में निम्नांकित में से कौन सी शर्त दीर्घकालीन साम्य का समर्थन करती है ?
 - (A) $MR = MC, AR = AC$
 - (B) $P = MC, AR = AC$
 - (C) $MR = MC = AR = AC$
 - (D) $AR = MC = AC$

4. पहली बार मूल्य निर्धारण में समय कारकों के महत्त्व को किसने स्पष्ट किया ?
 - (A) चैम्बरलिन
 - (B) स्टिगलर
 - (C) मिसेज जॉन राबिन्सन
 - (D) मार्शल

5. हासमान प्रतिलाभ का नियम तब लागू होता है जब :
 - (A) कुल उत्पाद में वृद्धि शुरू हो जाती है ।
 - (B) कुल उत्पाद में गिरावट आने लगती है ।
 - (C) सीमांत उत्पाद में वृद्धि होने लगती है ।
 - (D) सीमांत उत्पाद में गिरावट आने लगती है ।

6. Consider the following statements regarding Edgeworth Duopoly model :

- I. It takes as given output decision of rival.
- II. It takes as given price decision of rival.
- III. It is an explanation of price rigidity.

Of these, the correct answer is :

- (A) Only Statement I is true.
- (B) Both I & II are true.
- (C) Both II & III are true.
- (D) Only III is true.

7. Public goods are characterised by

- 1. Collective consumption
- 2. Divisibility
- 3. Non-exclusion
- 4. Rival consumption

Select the correct answer from the code given below :

Codes :

- (A) 1 & 2 are correct.
- (B) 1 & 3 are correct.
- (C) 1 & 4 are correct.
- (D) 2 & 4 are correct.

8. Among the following what causes market failure ?

- 1. Externality
- 2. Asymmetry of information
- 3. Perfect competition

Choose the correct answer from the code given below :

Codes :

- (A) 1, 2 & 3 are correct.
- (B) Only 1 is correct.
- (C) 1 & 2 are correct.
- (D) 2 & 3 are correct.

9. Assuming wage-price flexibility, the classical economists asserted that a decline in money wages and price would lead to

- (A) Unemployment
- (B) Deflation
- (C) High level of employment and output
- (D) Unemployment and decline in output



6. एजवर्थ ड्यूयोपॉली मॉडल के संबंध में निम्नांकित कथनों पर विचार करें :

- I. इसमें प्रतिस्पर्धी का उत्पाद निर्णय दिया गया माना जाता है ।
- II. इसमें प्रतिस्पर्धी के मूल्य निर्णय को दिया गया माना जाता है ।
- III. यह मूल्य कठोरता की व्याख्या है ।

निम्नांकित में से कौन सा उत्तर सही है ?

- (A) केवल कथन I सही है । (B) I और II दोनों सही हैं ।
(C) II और III दोनों सही हैं । (D) केवल III सही है ।

7. सार्वजनिक वस्तु की विशेषता होती है

1. सामूहिक उपभोग
2. विभाज्यता
3. बहिर्वेशन नहीं किया जाता
4. प्रतिस्पर्धी उपभोग

नीचे दिए गए कूट से सही उत्तर का चयन करें :

कूट :

- (A) 1 और 2 सही हैं । (B) 1 और 3 सही हैं ।
(C) 1 और 4 सही हैं । (D) 2 और 4 सही हैं ।

8. निम्नांकित में कौन बाजार विफलता का कारण है ?

1. बाह्यता
2. सूचना की असममितता
3. पूर्ण प्रतिस्पर्धा

नीचे दिए गए कूट से सही उत्तर का चयन करें :

कूट :

- (A) 1, 2 और 3 सही हैं । (B) केवल 1 सही है
(C) 1 और 2 सही हैं । (D) 2 और 3 सही हैं ।

9. परम्परावादी अर्थशास्त्रियों ने मजदूरी-मूल्य लोचशीलता को मानते हुए इस बात पर बल दिया है कि मुद्रा मजदूरी और मूल्य में गिरावट से निम्न स्थिति पैदा होती है

- (A) बेरोजगारी
(B) अवस्फीति
(C) रोजगार और उत्पादन का उच्च स्तर
(D) बेरोजगारी और उत्पादन में गिरावट

10. The classical theory of interest postulates that both savings and investments are a function of
- (A) the level of National income
 - (B) the level of employment and output
 - (C) monetary and fiscal policy
 - (D) rate of interest
11. The relative income hypothesis of Duesenberry suggests that as income increases, consumption function curve shifts above and therefore,
- (A) Average propensity to consume rises.
 - (B) Average propensity to consume falls.
 - (C) Average propensity to consume remains constant.
 - (D) Average propensity to consume is equal to 1.
12. Who among the following said, “Inflation is everywhere and always a monetary phenomenon” ?
- (A) James Tobin
 - (B) John M. Keynes
 - (C) Milton Friedman
 - (D) Anna J. Schwartz
13. Accelerator is most closely related to
- (A) interest rate
 - (B) inventories
 - (C) idle capacity
 - (D) induced investment

14. Match List – I and List – II and select the correct answer from the codes given below :

List – I	List – II
Concept	Economist
a. Liquidity trap	1. Milton Friedman
b. Demonstration Effect	2. A.C. Pigou
c. Permanent Income Hypothesis	3. J. Duesenberry
d. Wealth Effect	4. J.M. Keynes

Codes :

	a	b	c	d
(A)	4	3	1	2
(B)	1	2	4	3
(C)	4	2	1	3
(D)	1	3	4	2

10. ब्याज अभिधारणा का परम्परावादी सिद्धांत है कि बचत और निवेश दोनों निम्नलिखित में से एक के फलन हैं :
- (A) राष्ट्रीय आय का स्तर
 (B) रोजगार और उत्पादन का स्तर
 (C) मौद्रिक और राजकोषीय नीति
 (D) ब्याज दर
11. ड्यूसेनबेरी की सापेक्ष आय अवधारणा यह बताती है कि जैसे-जैसे आय बढ़ती है वैसे-वैसे उपभोग प्रकार्य वक्र ऊपर की ओर बढ़ता जाता है और इसलिए
- (A) औसत उपभोग प्रवृत्ति बढ़ती है ।
 (B) औसत उपभोग प्रवृत्ति घटती है ।
 (C) औसत उपभोग प्रवृत्ति स्थिर रहती है ।
 (D) औसत उपभोग प्रवृत्ति 1 के बराबर रहती है ।
12. निम्नलिखित में से किसने कहा था कि “मुद्रास्फीति हर जगह होती है और यह हमेशा ही एक मौद्रिक घटना है” ?
- (A) जेम्स टोबिन (B) जोन एम. कीन्स
 (C) मिल्टन फ्रीडमैन (D) अन्ना जे. श्वार्ज
13. त्वरित्र का निम्नलिखित में से किससे निकट संबंध है ?
- (A) ब्याज दर (B) रहतिया
 (C) बेकार पड़ी क्षमता (D) प्रेरित निवेश
14. सूची – I और सूची – II को सुमेलित करें और नीचे दिए गए कूटों में से सही उत्तर चुने :

सूची – I

अवधारणा

- a. तरलता जाल
 b. प्रदर्शन प्रभाव
 c. स्थायी आय परिकल्पना
 d. सम्पदा प्रभाव


सूची – II

अर्थशास्त्री

1. मिल्टन फ्रीडमैन
 2. ए.सी. पीगू
 3. जे. ड्यूसेनबेरी
 4. जे.एम. कीन्स

कूट :

- | | a | b | c | d |
|-----|---|---|---|---|
| (A) | 4 | 3 | 1 | 2 |
| (B) | 1 | 2 | 4 | 3 |
| (C) | 4 | 2 | 1 | 3 |
| (D) | 1 | 3 | 4 | 2 |

15. Which one of the following would be inconsistent with the Keynesian view about the effectiveness of monetary policy ?
- (A) Velocity of money is relatively stable.
 - (B) The demand for money is unstable.
 - (C) The demand for money is interest sensitive.
 - (D) Investment demand is unstable.
16. Which of the following statement is true ?
- (A) Sporadic dumping is selling of goods at a low price in the foreign market to get rid of the inventory stocks.
 - (B) Predatory dumping is destroying of competitors even at a loss initially and then, after eliminating of competitors, selling product at a high price.
 - (C) Persistent dumping is selling a product at a lower price in foreign markets due to differences in elasticity of demand at home and in the foreign market.
 - (D) All the above.
17. According to Comparative Advantage Theory, International Trade will not take place if
- (A) one country is efficient in the production of both the products.
 - (B) one country is inefficient in the production of both the products.
 - (C) opportunity costs of the two products are same in both the countries.
 - (D) None of the above.
18. Imposition of tariff will lead to
- (A) Deterioration in terms of trade
 - (B) Improvement in terms of trade
 - (C) No effect on terms of trade
 - (D) None of the above
19. Under a freely exchange rate system, a deficit in a Nation's Balance of Payments Account is automatically corrected by
- (A) a depreciation of its currency
 - (B) an appreciation of its currency
 - (C) domestic inflation
 - (D) deflation and rise in National income
- 

15. मौद्रिक नीति की प्रभावशीलता के संबंध में कीन्स के विचार से निम्नलिखित में से कौन सा कथन मेल नहीं खाता है ?
- (A) मुद्रा वेग तुलनात्मक रूप से स्थिर है ।
(B) मुद्रा की मांग अस्थिर है ।
(C) मुद्रा की मांग ब्याज संवेदी है ।
(D) निवेश की मांग अस्थिर है ।
16. निम्नलिखित में से कौन सा कथन सही है ?
- (A) छुट-पुट अल्प मूल्य विक्रय, वस्तुओं के स्टॉक को हटाने के लिए विदेशी बाजार में उनको कम कीमत पर बेचना है ।
(B) आक्रामक अल्प मूल्य विक्रय, शुरुआत में घाटे में बेचकर प्रतिस्पर्धियों को बर्बाद करना और उन्हें हटाने के पश्चात् उत्पादों को उच्च मूल्य पर बेचना है ।
(C) सतत् अल्प मूल्य विक्रय, घरेलू बाजार और विदेशी बाजार में मांग की लोच में अंतर के कारण वस्तुओं को विदेशी बाजारों में कम मूल्य पर बेचना है ।
(D) उपर्युक्त सभी ।
17. तुलनात्मक लाभ सिद्धांत के अनुसार निम्नलिखित स्थिति में अंतर्राष्ट्रीय व्यापार नहीं होगा
- (A) कोई देश दोनों ही उत्पादों के उत्पादन में दक्ष है ।
(B) कोई देश दोनों ही उत्पादों के उत्पादन में अदक्ष है ।
(C) दोनों देशों में दोनों ही उत्पादों की अवसर लागत समान है ।
(D) उपर्युक्त में से कोई नहीं
18. प्रशुल्क के अधिरोपण से निम्नलिखित में क्या होगा ?
- (A) व्यापार शर्तों में हास होगा ।
(B) व्यापार शर्तों में सुधार होगा ।
(C) व्यापार शर्तों में कोई सुधार नहीं होगा ।
(D) उपर्युक्त में कोई नहीं
19. मुक्त विनिमय दर प्रणाली के अंतर्गत किसी राष्ट्र के भुगतान संतुलन खाते में कमी निम्न द्वारा स्वतः ही पूरी हो जाती है
- (A) उसकी मुद्रा के मूल्यहास से
(B) उसकी मुद्रा के मूल्यवृद्धि से
(C) घरेलू मुद्रास्फीति से
(D) अवस्फीति और राष्ट्रीय आय में वृद्धि से

20. Maastricht Treaty led to the creation of which one of the following ?

- (A) European Parliament (B) Euro
(C) European Court of Justice (D) European Union

21. **Assertion (A)** : According to Mundell, “Imbalances in the balance of payments is caused by initial differences in unit factor costs.”

Reason (R) : Free movement of goods will correct the imbalance in the balance of payments of two countries.

In the context of the two statements, which one of the following is correct ?

Codes :

- (A) Both (A) and (R) are true and (R) is the correct explanation of (A).
(B) Both (A) and (R) are true and (R) is not the correct explanation of (A).
(C) (A) is true, but (R) is false.
(D) (A) is false, but (R) is true.

22. The Stolper-Samuelson theorem postulates that the imposition of a tariff by a nation causes the real income of the nation's

- (A) abundant factor to rise (B) scarce factor to rise
(C) scarce factor to fall (D) both (A) & (B) are possible

23. What is perspective planning ?

- (A) Overall appraisal of planning.
(B) Review of planning in different fields.
(C) Taking up past experience and reviewing the future in that light.
(D) Planning for future so as to meet the long term requirement of development in the country.

24. Who formulated the 'People's Plan' for India in 1944 ?

- (A) J.L. Nehru (B) M.N. Roy
(C) Subhas Chandra Bose (D) Mahatma Gandhi

20. मैस्ट्रिच संधि से निम्न में से किसका सृजन हुआ ?

- (A) यूरोपीय संसद का (B) यूरो का
(C) यूरोपीय न्यायालय का (D) यूरोपीय संघ का

21. **अभिकथन (A) :** मुन्डेल के अनुसार, “साधनों की इकाई लागत में शुरुआती अंतर के कारण भुगतान संतुलन में असंतुलन आता है।”

तर्क (R) : वस्तुओं की निर्बाध आवाजाही से दो देशों के भुगतान संतुलन में होने वाला असंतुलन सही होगा।

दोनों कथनों के संदर्भ में निम्नलिखित में से कौन सही है ?

कूट :

- (A) (A) और (R) दोनों सही हैं और (R), (A) की सही व्याख्या है।
(B) (A) और (R) दोनों सही हैं और (R), (A) की सही व्याख्या नहीं है।
(C) (A) सही है, किंतु (R) गलत है।
(D) (A) गलत है, किंतु (R) सही है।

22. स्टोलपर सेम्यूलसन प्रमेय के अनुसार राष्ट्र द्वारा अध्यारोपित प्रशुल्क द्वारा देश की वास्तविक आय में निम्नलिखित में क्या होता है ?

- (A) प्रचुर साधन की आय बढ़ती है। (B) दुर्लभ साधन की आय बढ़ती है।
(C) दुर्लभ साधन की आय घटती है। (D) उपर्युक्त (A) तथा (B) दोनों संभव हैं।

23. संदर्भी योजना क्या है ?

- (A) योजना का समग्र मूल्यांकन
(B) विभिन्न क्षेत्रों में योजना की समीक्षा
(C) विगत अनुभवों का अवलोकन और उस आलोक में भविष्य की समीक्षा
(D) देश में विकास की दीर्घावधि जरूरतों को पूरा करने हेतु भविष्य की योजना तैयार करना

24. वर्ष 1944 में भारत के लिए ‘जनता योजना’ किसने तैयार की थी ?

- (A) जे.एल. नेहरू (B) एम.एन. राय
(C) सुभाष चन्द्र बोस (D) महात्मा गांधी

25. "Trickle down" strategy implies
- (A) growing GNP taking care of poverty.
 - (B) reduction in the income of the upper class by deliberate redistribution.
 - (C) direct achievement of better nourishment, health, education, etc. instead of growth of GNP first.
 - (D) to target a particular sector of economy for betterment.

26. What is the correct sequence of the following approaches to development in terms of their chronological emergency ?

1. Basic needs approach
2. Per capita income approach
3. Human Development Index approach

Choose the correct answer from the codes given below :

Codes :

- (A) 1, 2, 3
- (B) 2, 1, 3
- (C) 2, 3, 1
- (D) 1, 3, 2

27. Choose the correct statements for economic development and answer from the code below :

- Statements :** I. Continuous process
II. Short-term process
III. Long-term process

Codes :

- (A) II only
- (B) I and III
- (C) III only
- (D) I and II

28. Which of the following economists are proponents of dependency theory of development ?
Choose from the code below :

- I. Ragnar Nurkse
- II. Andre Gunther Frank
- III. Raul Prebisch
- IV. John Kenneth Galbraith

Codes :

- (A) I, II and III are correct.
- (B) II and III are correct.
- (C) II, III and IV are correct.
- (D) III and IV are correct.

25. "ट्रिकल डाउन" रणनीति लागू होती है

- (A) बढ़ते हुए सकल राष्ट्रीय उत्पाद के द्वारा निर्धनता निवारण ।
- (B) सुविचारित पुनर्वितरण के माध्यम से उच्च वर्ग की आय घटाना ।
- (C) सकल राष्ट्रीय उत्पाद में वृद्धि करने के स्थान पर बेहतर पोषण, स्वास्थ्य, शिक्षा आदि में प्रत्यक्षतः उपलब्धि हासिल करना ।
- (D) अर्थव्यवस्था के विशेष क्षेत्र को सुलाभ हेतु लक्ष्यांकित करना ।

26. विकास के निम्नलिखित दृष्टिकोणों का उनके आविर्भाव के कालक्रमानुसार सही क्रम क्या है ?

1. मूलभूत आवश्यकता दृष्टिकोण
2. प्रति व्यक्ति आय दृष्टिकोण
3. मानव विकास सूचकांक दृष्टिकोण

निम्नांकित दिये कूटों में से सही उत्तर चुनें :

कूट :

- (A) 1, 2, 3
- (B) 2, 1, 3
- (C) 2, 3, 1
- (D) 1, 3, 2

27. आर्थिक विकास के लिए सही वक्तव्य का चयन करें और नीचे दिए गए कूट से सही उत्तर चुने :

- वक्तव्य :**
- I. सतत प्रक्रिया
 - II. अल्पावधि प्रक्रिया
 - III. दीर्घावधि प्रक्रिया

कूट :

- (A) सिर्फ II
- (B) I और III
- (C) सिर्फ III
- (D) I और II

28. निम्नलिखित में से कौन अर्थशास्त्री विकास के डिपेन्डेंसी सिद्धांत के प्रतिपादक हैं ? नीचे दिए गए कूट से चयन करें :

- I. रैगनर नर्क्स
- II. आन्द्रे गुंथर फ्रैंक
- III. रॉल प्रैबिस
- IV. जॉन केनेथ गालब्रेथ

कूट :

- (A) I, II और III सही हैं ।
- (B) II और III सही हैं ।
- (C) II, III और IV सही हैं ।
- (D) III और IV सही हैं ।

29. नियो-क्लासिकल विकास मॉडलों के बारे में क्या सही है ?

- I. ब्याज दर तथा लाभ लोचशील है ।
- II. पूँजी असमांगी है ।
- III. पूर्ण प्रतिस्पर्धा होती है ।
- IV. पूँजी तथा श्रम प्रतिस्थापित किए जा सकते हैं ।

निम्नांकित दिये कूटों में से सही उत्तर का चयन कीजिए :

कूट :

- (A) केवल I, II और III सही हैं ।
- (B) केवल II और III सही हैं ।
- (C) केवल I, III और IV सही हैं ।
- (D) उपर्युक्त सभी सही हैं ।

30. वर्ष 2013-14 में भारत के तीन शीर्ष व्यापार भागीदार कौन थे ?

- I. संयुक्त अरब अमीरात (यू.ए.ई.)
- II. कोरिया
- III. चीन
- IV. संयुक्त राज्य अमेरिका

सही कूट का चयन करें :

कूट :

- (A) I, II, III
- (B) II, III, IV
- (C) I, III, IV
- (D) II, I, IV

31. निम्नांकित में से कौन सा घाटा युग्म भारतीय अर्थव्यवस्था के लिए सर्वाधिक महत्त्वपूर्ण है ?

- (A) राजकोषीय घाटा और राजस्व घाटा
- (B) राजस्व घाटा और प्राथमिक घाटा
- (C) बजट घाटा और राजकोषीय घाटा
- (D) चालू खाता घाटा और राजकोषीय घाटा

32. Of the following, which sector witnessed the highest growth rate in year 2013-14 ?

- (A) Agriculture, forestry and fishery
- (B) Mining and quarrying
- (C) Manufacturing
- (D) Construction

33. Who has advocated the concept of PURA (Providing Urban Amenities in Rural Areas) for our country ?

- (A) A.P.J. Abdul Kalam
- (B) Manmohan Singh
- (C) Charan Singh
- (D) None of the above

34. ECOMARC is a symbol related to

- (A) Export Goods
- (B) Import Goods
- (C) Goods Safe for Environment
- (D) Best Quality Goods

35. Arrange following countries as per their HDI rank in the descending order (on the basis of 2013, UNDP Report on Human Development) :

- 1. Vietnam
- 2. China
- 3. India
- 4. Sri Lanka

Choose the correct answer from the codes given below :

Codes :

- (A) 4, 2, 1, 3
- (B) 2, 1, 4, 3
- (C) 2, 4, 3, 1
- (D) 1, 2, 3, 4


36. Consider the following export groups from India for the year 2013-14 :

- 1. Agri. and allied products
- 2. Engineering goods
- 3. Gems and Jewellery
- 4. Textile and Readymade Garments

Arrange them in descending order of magnitude as a percent to total exports.

- (A) 2, 1, 4, 3
- (B) 2, 1, 3, 4
- (C) 4, 2, 1, 3
- (D) 3, 4, 2, 1

32. वर्ष 2013-14 के दौरान निम्नांकित में किस क्षेत्र में सर्वाधिक वृद्धि दर दर्ज की गई ?
- (A) कृषि, वानिकी और मत्स्ययन
(B) खनन और खदान
(C) विनिर्माण
(D) निर्माण
33. निम्नांकित में किसने हमारे देश के लिए पी.यू.आर.ए. (ग्रामीण क्षेत्रों में शहरी सुविधाएँ प्रदान किया जाना) की अवधारणा की वकालत की ?
- (A) ए.पी.जे. अब्दुल कलाम
(B) मनमोहन सिंह
(C) चरण सिंह
(D) उपर्युक्त में कोई नहीं
34. इकोमार्क लेबल किससे संबंधित है ?
- (A) निर्यात वस्तुओं
(B) आयात वस्तुओं
(C) पर्यावरण के लिए सुरक्षित वस्तुओं
(D) सर्वोत्तम गुणवत्ता वाली वस्तुओं
35. निम्नांकित देशों को उनके मानव-विकास सूचकांक (एच.डी.आई.) स्थान के अनुसार घटते हुए क्रम में व्यवस्थित करें (मानव विकास संबंधी यू.एन.डी.पी. रिपोर्ट, 2013 के आधार पर) :
1. वियतनाम
2. चीन
3. भारत
4. श्रीलंका
- निम्नांकित दिये कूटों में से सही उत्तर का चुनाव करें :
- कूट :
- (A) 4, 2, 1, 3
(B) 2, 1, 4, 3
(C) 2, 4, 3, 1
(D) 1, 2, 3, 4
36. वर्ष 2013-14 के लिए भारत से निम्नांकित निर्यात समूहों पर विचार करें :
1. कृषि एवं सम्बद्ध उत्पाद
2. इंजीनियरिंग वस्तुएँ
3. रत्न और आभूषण
4. वस्त्र एवं सिले सिलाए कपड़े
- इन्हें कुल निर्यात के प्रतिशत के रूप में इनकी घटती मात्रा के अनुसार व्यवस्थित करें :
- (A) 2, 1, 4, 3
(B) 2, 1, 3, 4
(C) 4, 2, 1, 3
(D) 3, 4, 2, 1

37. Techniques used to encourage the production and consumption of goods that generate positive externalities are referred to as
- (A) Tax incentives and vouchers (B) Fees and fines
(C) Taxes and charges (D) Special assessment
38. Which of the canons of taxations have been propounded by Adam Smith ?
- (A) Economy, Elasticity, Simplicity and Sufficiency
(B) Equity, Certainty, Convenience and Economy
(C) Certainty, Convenience, Economy and Elasticity
(D) Economy, Coordination, Convenience and Expediency
39. Displacement effect explained in Peacock-Wiseman hypothesis implies :
- (A) An upward displacement of public expenditure according to higher economic growth
(B) The movement from older level of public expenditure and taxation to a newer and higher level
(C) Public expenditure increases at steady rate and reaches higher level
(D) Government undertakes more and more newer activities and hence public expenditure rises steeply upwards
40. The most important characteristic of a federation is :
- (A) Perfect match between the functions and resources of the Central and State Governments
(B) Non-correspondence between the functions and resources of the Central and State Governments
(C) Centre's supremacy over the States
(D) None of the above
41. Fiscal consolidation at the Centre can be achieved by :
- (A) Rationalization of major subsidies alone
(B) Reducing the defence expenditure only
(C) Raising the tax-GDP ratio and rationalisation of subsidies
(D) Minimising the Central assistance to the States
- 

37. सकारात्मक बाह्य प्रभावों का सृजन करने वाले उत्पादन तथा उपभोग को प्रोत्साहित करने के लिए उपयोग की जाने वाली तकनीकों को कहा जाता है
- (A) कर प्रोत्साहन तथा वाउचर्स (B) शुल्क तथा दंड
(C) कर तथा प्रभार (D) विशेष आकलन
38. एडम स्मिथ द्वारा कराधान के किन नियमों का प्रतिपादन किया गया है ?
- (A) मितव्ययिता, लोचशीलता, सरलता तथा पर्याप्तता
(B) समता, निश्चितता, सुविधा तथा मितव्ययिता
(C) निश्चितता, सुविधा, मितव्ययिता तथा लोचशीलता
(D) मितव्ययिता, समन्वय, सुविधा तथा आवश्यकता
39. पीकॉक-वाइजमैन अवधारणा में वर्णित विस्थापन प्रभाव का अर्थ है
- (A) उच्च आर्थिक वृद्धि के अनुसार लोक व्यय का उर्ध्वगामी प्रतिस्थापन ।
(B) लोक व्यय तथा कराधान के पुराने रूझान से नए तथा उच्चतर स्तर की ओर गमन ।
(C) लोक व्यय में स्थिर दर से वृद्धि होती है तथा यह उच्चतर स्तर पर पहुँचता है ।
(D) सरकार अधिकाधिक नए कार्यक्रमलाप शुरू करती है तथा इस प्रकार लोक व्यय में तेजी से वृद्धि होती है ।
40. किसी परिसंघ की सर्वाधिक महत्त्वपूर्ण विशेषता है
- (A) केंद्र तथा राज्य सरकारों के कार्यों तथा संसाधनों के बीच पूर्ण मिलान
(B) केंद्र तथा राज्य सरकारों के कार्यों तथा संसाधनों के बीच तदनु रूपता नहीं होना ।
(C) राज्यों पर केंद्र की सर्वोच्चता ।
(D) उपर्युक्त में कोई नहीं ।
41. केंद्र में वित्तीय समेकन किया जा सकता है
- (A) केवल प्रमुख सब्सिडियों को युक्तिसंगत बनाकर ।
(B) रक्षा व्यय में कटौती कर ।
(C) कर-सकल घरेलू उत्पाद अनुपात में वृद्धि कर तथा सब्सिडियों को युक्तिसंगत बनाकर ।
(D) राज्य को केंद्रीय सहायता न्यूनतम करके ।

42. Arrange the following Reports in chronological order :

- I. Direct Taxes Enquiry Committee, Final Report
- II. Final Report on Rationalising and Simplifications of the Tax Structure
- III. Indian Tax Reforms – Report of a Survey
- IV. Taxation Enquiry Commission

Choose the correct answer from the codes given below :

Codes :

- (A) IV, III, II, I
- (B) I, II, III, IV
- (C) III, I, IV, II
- (D) II, III, I, IV

43. Identify correctly the taxes in State List (List – II) of the Constitution of India :

- I. Taxes on mineral rights
- II. Taxes on luxuries
- III. Rates of stamp duty in respect of bills of exchange, cheques and promissory notes
- IV. Excise duties on tobacco

Choose the right answer from the codes given below :

Codes :

- (A) I and III are correct.
- (B) I and II are correct.
- (C) I, III and IV are correct.
- (D) II, III and IV are correct.

44. Lump sum grant means :

- (A) A grant whose amount is sufficient to meet the expenditure.
- (B) A matching and conditional grant.
- (C) Grant given for a special purpose and it can be utilised only for that purpose.
- (D) A grant whose amount is not dependent on any matching effort of the recipient.

45. Geometric mean of Laspeyre's and Paasche's indices provides :

- (A) Marshall-Edgeworth Index
- (B) Bowley's Index
- (C) Fisher's Index
- (D) Kelley's Index



42. निम्नांकित रिपोर्टों को कालक्रमानुसार व्यवस्थित करें :

- I. प्रत्यक्ष कर जाँच समिति, अंतिम रिपोर्ट
- II. कर संरचना को युक्तिसंगत तथा सरल बनाए जाने संबंधी अंतिम रिपोर्ट
- III. भारतीय कर सुधार – सर्वेक्षण की रिपोर्ट
- IV. कर जाँच आयोग

निम्नांकित दिए कूटों में से सही उत्तर चुनें :

कूट :

- | | |
|--------------------|--------------------|
| (A) IV, III, II, I | (B) I, II, III, IV |
| (C) III, I, IV, II | (D) II, III, I, IV |

43. भारतीय संविधान में राज्य सूची (सूची – II) में करों की सही पहचान करें :

- I. खनिज अधिकार पर कर
- II. विलासिता वस्तुओं पर कर
- III. विनिमय बिलों, चेकों और प्रॉमिसरी नोट्स के संदर्भ में स्टाम्प शुल्क की दर
- IV. तम्बाकू पर उत्पाद शुल्क

निम्नांकित दिये गये कूटों में से सही उत्तर चुनें :

कूट :

- | | |
|----------------------------|-----------------------------|
| (A) I और III सही हैं । | (B) I और II सही हैं । |
| (C) I, III और IV सही हैं । | (D) II, III और IV सही हैं । |

44. एकमुश्त अनुदान का तात्पर्य है :

- (A) ऐसा अनुदान जिसकी राशि व्यय को पूरा करने के लिए पर्याप्त है ।
- (B) एक तुल्य तथा सशर्त अनुदान
- (C) एक विशेष उद्देश्य हेतु प्रदत्त अनुदान जिसे मात्र उसी उद्देश्य के लिए व्यय किया जा सकता हो ।
- (D) ऐसा अनुदान जिसकी राशि प्राप्तकर्ताओं के तुल्य प्रयास पर निर्भर नहीं हो ।

45. लैस्पेर और पाशे के सूचकांकों का गुणोत्तर माध्य प्रदान करता है :

- | | |
|---------------------------|----------------------|
| (A) मार्शल-एजवर्थ सूचकांक | (B) बाउले का सूचकांक |
| (C) फिशर का सूचकांक | (D) केली का सूचकांक |

- 46. Assertion (A) :** Moving averages method can be used to estimate trend in time series.
Reasoning (R) : Moving averages is a device to smoothen the fluctuations in time series.
Choose the correct answer from the codes given below :
- Codes :**
- (A) Both (A) and (R) are correct and (R) is a correct explanation of (A).
 - (B) Both (A) and (R) are correct, but (R) is not a correct explanation of (A).
 - (C) (A) is correct, but (R) is incorrect.
 - (D) (R) is correct, but (A) is incorrect.
- 47.** Which one of the following denotes the power of the Test ? [α is probability of Type I error and β is probability of Type II error]
- (A) α
 - (B) β
 - (C) $1 - \alpha$
 - (D) $1 - \beta$
- 48.** In a frequency distribution the standard deviation of which is 15.8, the value of median is more than mean by 4, what will be its coefficient of skewness ?
- (A) -0.76
 - (B) $+0.76$
 - (C) -0.86
 - (D) $+0.86$
- 49.** Three coins are tossed simultaneously. What is the probability that they will fall 2 heads and 1 tail ?
- (A) $\frac{1}{2}$
 - (B) $\frac{1}{4}$
 - (C) $\frac{3}{4}$
 - (D) $\frac{3}{8}$
- 50.** In a frequency distribution if each item is multiplied by 5, the coefficient of variation will remain
- (A) unchanged
 - (B) will be multiplied by 5
 - (C) will be multiplied by 25
 - (D) will be multiplied by $1/5$
-

46. **अभिकथन (A) :** चल औसत पद्धति का प्रयोग समय शृंखला में प्रवृत्ति का आँकलन करने हेतु किया जा सकता है ।

तर्क (R) : चल औसत समय शृंखला में उतार-चढ़ाव को निष्कोणित बनाने का एक साधन है ।

निम्नांकित दिये गये कूटों में से सही कूट का चयन कीजिए :

कूट :

- (A) (A) और (R) दोनों सही हैं और (R), (A) की सही व्याख्या है ।
(B) (A) और (R) दोनों सही हैं, परन्तु (R), (A) की सही व्याख्या नहीं है ।
(C) (A) सही है, परन्तु (R) सही नहीं है ।
(D) (R) सही है, परन्तु (A) सही नहीं है ।

47. निम्नलिखित में से कौन परीक्षण की शक्ति को इंगित करता है ? [α प्रकार I त्रुटि की संभाव्यता है और β प्रकार II त्रुटि की संभाव्यता है]

- (A) α (B) β
(C) $1 - \alpha$ (D) $1 - \beta$

48. एक आवृत्ति वितरण में जिसका प्रमाप विचलन 15.8 है, जिसकी माध्यिका उसके माध्य से 4 अधिक है, तो इसका विषमता गुणांक कितना होगा ?

- (A) -0.76 (B) $+0.76$
(C) -0.86 (D) $+0.86$

49. तीन सिक्कों को एक साथ उछाला जाता है । इन सिक्कों के 2 चित्त और 1 पट होने की क्या प्रायिकता होगी ?

- (A) $\frac{1}{2}$ (B) $\frac{1}{4}$
(C) $\frac{3}{4}$ (D) $\frac{3}{8}$

50. आवृत्ति बंटन में यदि प्रत्येक मद को 5 से गुणा किया जाता है तो विचलन गुणांक

- (A) अपरिवर्तित रहेगा । (B) 5 द्वारा गुणित होगा ।
(C) 25 द्वारा गुणित होगा । (D) $1/5$ द्वारा गुणित होगा ।