

II] താഴെകൊടുത്തിരിക്കുന്നവയിൽ ഏതെല്ലാം സാമൂഹ്യ പ്രശ്നങ്ങളാണ് ചർച്ച ചെയ്യുന്നത് ?

- 1) കാടവിടെ മക്കളെ...
 മേടവിടെ മക്കളെ...
 കാട്ടുപുൽത്തകിടിയുടെ വേരവിടെ മക്കളെ
 കാട്ടു പൂഞ്ചോലയുടെ കുളിരവിടെ മക്കളെ..

(സ്കോർ 1)


- 2) പൊട്ടിയൊരോട്ടുകിണ്ണത്തിൽ
 പാടകെട്ടിയൊരി പഴം കഞ്ഞി വെള്ളത്തിൽ
 ഇത്തിരിവറ്റിനായി പരതി
 പരൽ മീനാം വിരലുകൾ
 കെഞ്ചിക്കെഞ്ചി നീട്ടിയ കൈകളിൽ
 കൈയൊഴിയുവാനായ്
 നീക്കിവെച്ചുതന്നോരിക്കിണ്ണത്തിൽ
 തെളിയുവതാർത്തിമൂത്ത്
 മുത്തിക്കുടിക്കുവാൻ
 അടുത്തണയും മുഖം

(സ്കോർ 1)

III] മുകളിൽ കൊടുത്തിരിക്കുന്ന ഏതെങ്കിലും ഒരു വിഷയത്തെക്കുറിച്ച് ഒരു പ്രസംഗം തയ്യാറാക്കുക?
 (സ്കോർ 3)

IV] ജീവിത രേഖ പരിശോധിക്കൂ..

പേര്:.....
 1475നും 1575 നും മധ്യേ ജീവിത കാലഘട്ടം
 മലയാള ഭാഷയുടെ പിതാവ്
 ലളിതവും കോമളവും ആയിരുന്നു കാവ്യശൈലി
 മലയാള ഭാഷയുടെ പിതാവ്
 മലപ്പുറം തിരുരിനടുത്ത് തുഞ്ചൻപറമ്പിൽ ജനനം
 കിളിപ്പാട്ട് പ്രസ്ഥാനത്തിന്റെ ഉപജ്ഞാതാവ്



- 1) ഈ കവിയുടെ പേര്? (സ്കോർ 1)
- 2) ഇദ്ദേഹത്തിന്റെ രണ്ട് വിശിഷ്ട കൃതികൾ? (സ്കോർ 1)
- 3) ഈ കവിയുടെ ലഘു ജീവചരിത്രക്കുറിപ്പ് തയ്യാറാക്കൂ... (സ്കോർ 3)



**LSS EXAMINATION 2018
MODEL QUESTION PAPER
PAPER 1(PART-A) ENGLISH**

SET1

A. Choose a most suitable signboard to put in our school. (score 1)

- a) Don't pluck flowers
- b) No parking
- c) Don't throw waste papers
- d) Walk through zebra line

B. Rearrange the words and phrases to form meaningful sentences: (score 1)

close / don't / to the / sit / television

**C. The child recollected the memories happened in the festivalground.
He was very happy now with his parents. After the dinner he took his diary
and started to write about that unforgettable day. (score 3)**

Date:


D .Choose the opposite of Tall
(Tiny, Short, Little, Small)

E. Write the given words in alphabetical order. (Score1)

(who,what , when,where , why)

F .Read the following sentences.Rearrange the sentences and write in the flowchart .Learn how to prepare a cup of tea.

- Keep the vessel on the stove
- Stir the hot water with sugar.
- Add milk
- Light the stove
- Put a spoon full of teapowder.
- Keep the vessel to boil the water.
- Put off the stove
- Pour some water in to an empty vessel.





**LSS EXAMINATION 2018
MODEL QUESTION PAPER
PAPER 2(PART-A) EVS**

SET1

I] ഉത്തരം എഴുതുക?

(score 10x1)

1) ഇന്ത്യൻ സ്വാതന്ത്ര്യസമരത്തിന്റെ ഭാഗമായി 1930 ഏപ്രിൽ 6 ന് നടന്ന സമരം ?

- എ) ക്വിറ്റ് ഇന്ത്യ സമരം
- ബി) ഉപ്പ് സത്യാഗ്രഹം
- സി) ജാലിയൻ വാലാബാഗ് കൂട്ടക്കൊല
- ഡി) വാഗൺ ട്രാജഡി

2) ഉഷ്ണമേഖല അളക്കുന്നതിനുള്ള ഉപകരണം?

- എ) ബാരോമീറ്റർ
- ബി) ഗാൽവനോമീറ്റർ
- സി) ഹൈഡ്രോമീറ്റർ
- ഡി) തെർമോമീറ്റർ

3) 'ജനഗണമന' യുടെ രചയിതാവ് ?

- എ) സുഭാഷ് ചന്ദ്രബോസ്
- ബി) മുഹമ്മദ് ഇക്ബാൽ
- സി) രവീന്ദ്രനാഥ ടാഗോർ
- ഡി) ബങ്കിം ചന്ദ്ര ചാറ്റർജി

4) ഒരു ചരിത്ര സ്മാരകത്തിന്റെ ചിത്രമാണ് താഴെ കൊടുത്തിരിക്കുന്നത്. എന്താണിത് ?



- എ) അത്താണി
- ബി) കുടക്കല്ല്
- സി) കലപ്പ
- ഡി) മുനിയറ

5) ഒരു ജീവിക്ക് അതിന്റെ വാസസ്ഥലത്തിനനുസരിച്ച് ജീവിക്കാനുള്ള സവിശേഷതയാണ്.....

- എ) ആവാസവ്യവസ്ഥ
- ബി) പരസ്പരാശ്രയത്വം
- സി) അനുകൂലനം
- ഡി) പരസ്പരബന്ധം

6) ഏറ്റവും കൂടുതൽ കടൽത്തീരമുള്ള ജില്ല ഏത് ?

- എ) എറണാകുളം
- ബി) കൊല്ലം
- സി) കണ്ണൂർ
- ഡി) മലപ്പുറം

7) ഒ.ആർ.എസ് ലായനി ഏത് അസുഖവുമായി ബന്ധപ്പെട്ടിരിക്കുന്നു?

- എ) അഞ്ചാം പനി
- സി) ടൈഫോയ്ഡ്

- ബി) വയറിളക്കം
- ഡി) വില്ലൻ ചുമ

8) രാവു പകലും മാറിമാറി അനുഭവപ്പെടുന്നത് എന്തുകൊണ്ടാണ്?

- എ) ഭൂമി പരിക്രമണം ചെയ്യുന്നതുകൊണ്ട്
- സി) ഭൂമി ഉരുണ്ടതായതുകൊണ്ട്
- ബി) ഭൂമി ഭ്രമണം ചെയ്യുന്നതുകൊണ്ട്
- ഡി) ചന്ദ്രൻ ഭൂമിയുടെ ഉപഗ്രഹമായതുകൊണ്ട്

9) താഴെ കൊടുത്തിട്ടുള്ളവയിൽ ക്ഷേത്രകല ഏതാണ്?

- എ) പരിചമുട്ടുകളി
- സി) കഥകളി
- ബി) കോൽക്കളി
- ഡി) മാർഗ്ഗംകളി

10) കേരളത്തിലെ റോക്കറ്റ് വിക്ഷേപണ കേന്ദ്രം ഏതാണ്?

- എ) ശ്രീഹരിക്കോട്ട
- സി) നെടുമ്പാശ്ശേരി
- ബി) തൃശ്ശൂർ
- ഡി) ഹാസൻ

II] താഴെ കൊടുത്തിരിക്കുന്ന പക്ഷികളുടെ ശാരീരിക പ്രത്യേകതകൾ എഴുതുക? (3 എണ്ണം വീതം)

തേൻ കുരുവി (Score1)

പരുന്ത് (Score1)

താറാവ് (Score1)

ഒരു ദേശാടനപ്പക്ഷിയുടെ പേരെഴുതുക? (Score1)

പക്ഷികൾ ദേശാടനം നടത്തുന്നത് എന്തിനാണ്? (Score1)

III] താഴെ കാണുന്ന സൂചനകൾ വായിച്ച് ജില്ലകൾ കണ്ടെത്തി ഭൂപടത്തിൽ അടയാളപ്പെടുത്തൂ

1) തുറമുഖമുള്ള ജില്ല

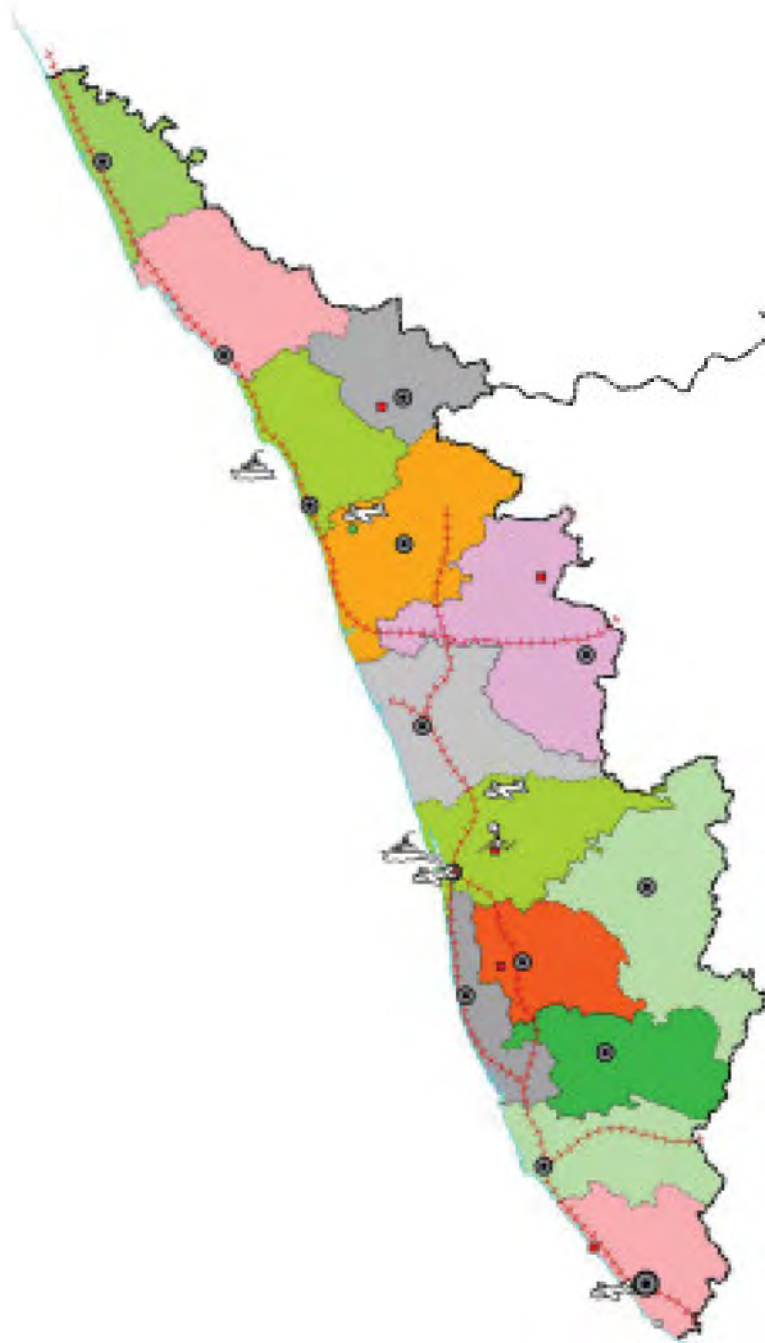
2) എടക്കൽ ഗുഹ

3) ഏറ്റവും ഒടുവിൽ നിലവിൽ വന്ന വിമാനത്താവളം

4) മറയൂർ ചന്ദനക്കാടുകൾ

5) വരയാടുകളെ കൂടുതൽ കാണുന്ന ജില്ല

(Score 5)





LSS EXAMINATION 2018
MODEL QUESTION PAPER
PAPER 2(PART-B) MATHS

SET1

I] ഉത്തരം എഴുതുക?

(score 10x1)

1) $88 \times 99 = \dots\dots\dots$

എ) 8899

ബി) 8989

സി) 8712

ഡി) 8812

2) 66 എന്ന സംഖ്യ റോമൻ അക്കത്തിൽ എഴുതിയാൽ.....

എ) LXVI

ബി) XXXXXXVI

സി) CVI

ഡി) MVI

3) 5 കൊണ്ട് ഹരിക്കുമ്പോൾ ശിഷ്ടം വരാത്ത ഏറ്റവും ചെറിയ നാലക്കസംഖ്യ ഏത് ?

എ) 1020

ബി) 1200

സി) 1001

ഡി) 5555

4) 60 ചെടികൾ നട്ടു. അതിൽ $\frac{1}{4}$ ഭാഗം കരിഞ്ഞുപോയി. കരിയാത്ത ചെടികളുടെ എണ്ണം ?

എ) 45

ബി) 30

സി) 15

ഡി) 50

5) 22.45 ന് പുറപ്പെട്ട ട്രെയിൻ പിറ്റേദിവസം 2.20 ന് എത്തി. യാത്രക്കെടുത്ത സമയം എത്ര?

എ) 3 മണിക്കൂർ 35 മിനിറ്റ്

ബി) 5 മണിക്കൂർ 35 മിനിറ്റ്

സി) 4 മണിക്കൂർ 35 മിനിറ്റ്

ഡി) 3 മണിക്കൂർ 15 മിനിറ്റ്

6) 56200 ൽ എത്ര നൂറുകൾ ഉണ്ട്?

എ) 56

ബി) 562

സി) 62

ഡി) 200

7) 1 മുതൽ ഏതാനും ഒറ്റസംഖ്യകളുടെ തുക 81 ആണ്. എത്ര ഒറ്റസംഖ്യകളുടെ തുകയാണത് ?

എ) 10

ബി) 8

സി) 9

ഡി) 11

8) ആമിനയുടെ സഞ്ചിയിൽ കുറേ ഓറഞ്ചുകൾ ഉണ്ട്. അവയെ 3 ന്റെ കൂട്ടങ്ങളാക്കിയപ്പോൾ 2 എണ്ണം ബാക്കിയായി. 4 ന്റെ കൂട്ടങ്ങളാക്കിയപ്പോൾ ബാക്കി 2 തന്നെ. 5 ന്റെ കൂട്ടങ്ങളാക്കിയപ്പോൾ 2 തന്നെ ബാക്കി. എങ്കിൽ സഞ്ചിയിൽ കുറഞ്ഞത് എത്ര ഓറഞ്ചുകൾ ഉണ്ടാകും?

എ) 42

ബി) 62

സി) 32

ഡി) 72

9) ഒരു റോഡിന്റെ ഇരുവശത്തും 100 മീറ്റർ ഇടവിട്ട് തൂണുകൾ നാട്ടണം. ഒരു കിലോമീറ്ററിൽ പരമാവധി എത്ര തൂണുകൾ നാട്ടാം?

എ) 10

ബി) 11

സി) 21

ഡി) 12

10) ആഗസ്റ്റ് 15 ചൊവ്വാഴ്ചയാണെങ്കിൽ ആഗസ്റ്റ് 1 എന്താഴ്ചയായിരിക്കും?

എ) ചൊവ്വ

ബി) ബുധൻ

സി) തിങ്കൾ

ഡി) ഞായർ

II] രാമുവിന്റെ കടയിൽ 5 വീതം 2000 ന്റെയും 500 ന്റെയും 100 ന്റെയും 50 ന്റെയും നോട്ടുകൾ ഉണ്ട്. സാജു കടയിൽ നിന്നും സാധനങ്ങൾ വാങ്ങി രാമുവിന് 2000 രൂപ നൽകി. രാമു ബാക്കി തിരിച്ചു കൊടുത്തു. ഇപ്പോൾ കടയിൽ 2000 രൂപയുടെ 6 ഉം 500 ന്റെ 3 ഉം 100 ന്റെ 4 ഉം 50 ന്റെ 5 ഉം കുറുപ്പുകൾ ഉണ്ട്. എങ്കിൽ എത്ര രൂപയുടെ സാധനമാണ് സാജു വാങ്ങിയത്? **(Score 5)**

III] എന്റെ മുമ്പിൽ 5 പെട്ടികളുണ്ട്. അതിൽ ഒന്നാമത്തെയും രണ്ടാമത്തെയും പെട്ടിയുടെ ആകെ ഭാരം 420 kg ആണ്. രണ്ടും മൂന്നും പെട്ടി ചേർന്നാൽ 380 kg ഭാരവും മൂന്നും നാലും ചേർന്നാൽ 340kg ഭാരവും ആണ്. നാലാമത്തെയും അഞ്ചാമത്തെയും പെട്ടികൾ ചേർന്നാൽ 330kg ആവുമെങ്കിൽ ഓരോ പെട്ടിയുടെയും ഭാരം എത്രയാകും? **(Score 5)**