

Practice Paper 3
Mathematics X
Published on 02-10-2017

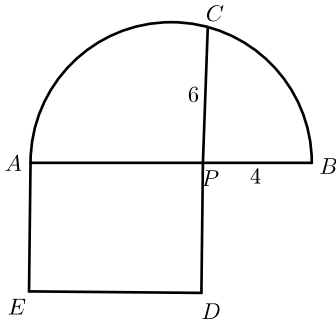
80 Marks

2 hours 30 minutes

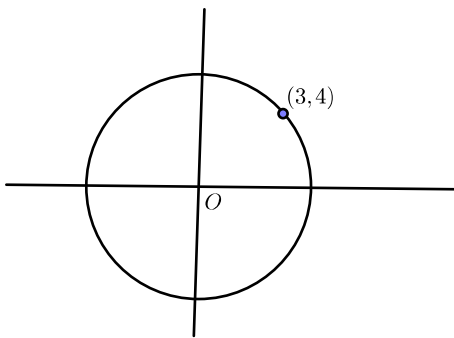
SECTION A

Answer any 4 in the section A. Each carries 2 mark

- x, y, z സമാന്തരശ്രേണിയിലാണ് . $y - x = k(x - z)$ ആയാൽ k യുടെ വില എത്ര?
If x, y, z are in an arithmetic sequence and $(y - x) = k(x - z)$ then find the value of k .
- ചിത്രത്തിൽ AB എന്നത് അർദ്ധവൃത്തത്തിന്റെ വ്യാസമാണ് . AB യ്ക്ക് ലംബമാണ് PC . $PB = 4, PC = 6$ ആയാൽ $APDE$ എന്ന സമചതുരത്തിന്റെ പരപ്പളവ് കണക്കാക്കുക



- ഒരു സംഖ്യയുടെയും അതിന്റെ വ്യുൽക്രമത്തിന്റെയും തുക $\frac{25}{12}$ ആണ്. സംഖ്യ x ആയി കണക്കാക്കി രണ്ടാംക്വതി സമവാക്യം ഉപയോഗിക്കുക.
- പട്ടിക നോക്കാതെ ചിത്രം വരക്കാതെ $\sin 32^\circ, \cos 14^\circ, \sin 49^\circ, \cos 13^\circ$ എന്നിവ ആരോഹണക്രമത്തിലെഴുതുക
- ചിത്രത്തിൽ വൃത്തകേന്ദ്രം ആധാരമിടുവാണ് . ഈ വൃത്തത്തിലെ ഒരു ബിന്ദുവാണ് $(3, 4)$ എങ്കിൽ ആരം കണക്കാക്കുക. ഈ വൃത്തത്തിലെ മൂന്ന് ബിന്ദുക്കളുടെ സൂചകസംഖ്യകൾ എഴുതുക



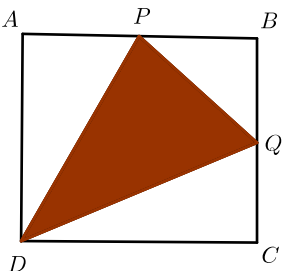
- 8 സെന്റീമീറ്റർ ആരമുള്ള വൃത്തത്തിന്റെ കേന്ദ്രത്തിൽനിന്നും 10 സെന്റീമീറ്റർ അകലെയുള്ള ബിന്ദുവിൽനിന്നും വരക്കുന്ന ഞാണിന്റെ നീളം കണക്കാക്കുക

SECTION B

Answer any 4 in the section B. Each carries 3 mark

- 13 പദങ്ങളുള്ള സമാന്തരശ്രേണിയുടെ 7 മത്തെ പദം 24 ആയാൽ മൂന്നാം പദത്തിന്റെയും പതിനൊന്നാം പദത്തിന്റെയും തുക എത്രയായിരിക്കും ? അഞ്ചാം പദത്തിന്റെയും ഒൻപതാം പദത്തിന്റെയും തുക എത്രയായിരിക്കും ? ശ്രേണിയിലെ പദങ്ങളുടെ തുക കണക്കാക്കുക
- ത്രികോണം ABC യിൽ $\angle A = 80^\circ, \angle B = 70^\circ$ ആണ് . പരിവൃത്തത്തിന്റെ ആരം 4 സെന്റീമീറ്റർ . ത്രികോണം നിർമ്മിക്കുക

- $ABCD$ എന്ന സമചതുരത്തിന്റെ AB, BC എന്നീ വശങ്ങളുടെ മധ്യബിന്ദുക്കളാണ് P, Q . ത്രികോണം PDQ ഷേഡ് ചെയ്തിരിക്കുന്നു. ഇതിലേക്ക് ഒരു കുത്തിട്ടാൽ ആ കുത്തത് ഷേഡ്ഡിൽ വീഴാനുള്ള സാധ്യത കണക്കാക്കുക

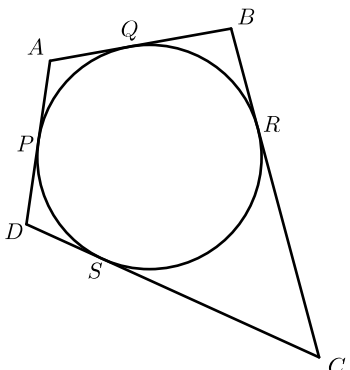


- ഒരു മട്ടത്രികോണത്തിന്റെ ചുറ്റളവ് 60 സെന്റീമീറ്റർ. കർണ്ണം 25 സെന്റീമീറ്റർ . ലംബവശങ്ങളുടെ നീളം കണക്കാക്കുക. ത്രികോണത്തിന്റെ പരപ്പളവ് കണക്കാക്കുക
- ത്രികോണം ABC വരക്കുന്നതിനായി AB എന്ന വശം 12 സെന്റീമീറ്ററായി ഒരു വര വരച്ചു. A യിൽ 40° കോൺ വരച്ച് കോണിന്റെ രണ്ടാമത്തെ ഭുജം വരച്ചു. ഇത്തരം ഒരു ചിത്രം വരച്ച് A യ്ക്ക് എതിരെയുള്ള വശത്തിന്റെ നീളം ഏറ്റവും കുറഞ്ഞിരിക്കത്തക്കവിധം C അടയാളപ്പെടുത്തുക. BC, AC എന്നിവ കണക്കാക്കുക. ത്രികോണത്തിന്റെ പരപ്പളവ് എത്ര?
- $ABCD$ എന്ന സാമാന്തരികത്തിന്റെ ശീഷങ്ങൾ $A(3, 2), B(7, 2), C(9, 6)$ ആയാൽ D യുടെ സൂചകസംഖ്യകൾ എഴുതുക. സാമാന്തരികത്തിന്റെ പരപ്പളവ് കണക്കാക്കുക

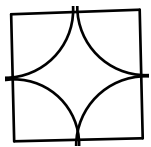
SECTION C

Answer any 10 in the section C. Each carries 4 mark

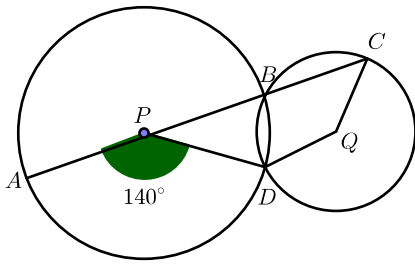
- ഒരു ചതുർഭുജത്തിന്റെ നാല് വശങ്ങളെയും തൊട്ടുകൊണ്ട് ഒരു വൃത്തം വരച്ചിരിക്കുന്നു. ഇത്തരം ചതുർഭുജങ്ങളുടെ എതിർവശങ്ങളുടെ തുക തുല്യമാണെന്ന് തെളിയിക്കുക. ഈ ചതുർഭുജം സാമാന്തരികമായാൽ അത് സമഭുജസാമാന്തരികമായിരിക്കുമെന്ന് സ്ഥാപിക്കുക.



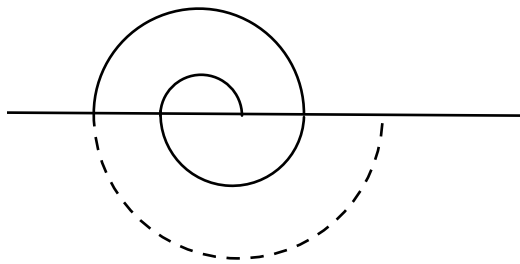
- $A(x, y)$ എന്ന ബിന്ദു $B(2, -3), C(-4, 5)$ എന്ന ബിന്ദുവിൽനിന്നും തുല്യ അകലത്തിലായാൽ $4x + 3y + 1 = 0$ എന്ന് തെളിയിക്കുക
- 100 മീറ്റർ ഉയരമുള്ള ഒരു ലൈറ്റ് ഹസിൽനിന്നും കടലിലേക്ക് അകന്നു പോകുന്ന ഒരു ബോട്ടിൽ നിന്നും നോക്കുമ്പോൾ ലൈറ്റ് ഹസിയുടെ മുകളറ്റം 60° മേൽകോണിൽ കണ്ടു. രണ്ട് മിനിറ്റ് കഴിഞ്ഞപ്പോൾ 45° മേൽകോണിൽ കാണപ്പെട്ടു. ബോട്ടിന്റെ വേഗത കണക്കാക്കുക
- രണ്ട് സമചതുരങ്ങളുടെ പരപ്പളവുകളുടെ തുക 400 ചതുരശ്രസെന്റീമീറ്ററാണ്. ചുറ്റളവുകളുടെ വ്യത്യാസം 16 സെന്റീമീറ്റർ . വശത്തിന്റെ നീളം കണക്കാക്കുക
- ഒരേ വലുപ്പമുള്ള നാല് വൃത്തഭാഗങ്ങൾ ചേർത്തുവെച്ച രൂപമാണ് ചിത്രത്തിൽ കാണുന്നത് . ഇവ സമചതുരത്തിന്റെ മൂലകളിലാണ് ക്രമീകരിച്ചിട്ടുള്ളത് . ഇതിലേക്ക് നോക്കാതെ ഒരു കുത്തിട്ടാൽ ആ കുത്തത് വൃത്തഭാഗങ്ങൾക്ക് പുറത്തായി സമചതുരത്തിനുള്ളിലുള്ള സ്ഥലത്ത് ആകാനുള്ള സാധ്യത കണക്കാക്കുക



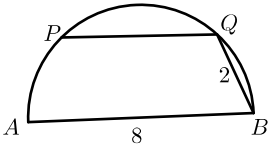
18. രണ്ട് വൃത്തങ്ങൾ B, D എന്നീ ബിന്ദുക്കളിൽ ഖണ്ഡിക്കുന്നു. P, Q വൃത്തങ്ങളുടെ കേന്ദ്രമാണ് . കോൺ $APD = 140^\circ$ ആയാൽ കോൺ DQC കണക്കാക്കുക



19. ഒരു വരയുടെ മുകളിലും താഴെയുമായി അർദ്ധവൃത്തങ്ങൾ വരച്ച് ഒരു വർത്തുളർപ്പം രൂപീകരിക്കുന്നു. ഓരോ അർദ്ധവൃത്തത്തിന്റെയും ആരം $0.5, 1.0, 1.5 \dots$ എന്ന ക്രമത്തിലാണ് . ഇത്തരം പതിമൂന്ന് അർദ്ധവൃത്തങ്ങൾ ചേർത്ത വർത്തുളർപ്പത്തിന്റെ നീളം കണക്കാക്കുക



20. ഒരു ത്രികോണത്തിന്റെ വശങ്ങൾ 80 സെന്റീമീറ്റർ , 100 സെന്റീമീറ്റർ , 120 സെന്റീമീറ്റർ വീതമാണ് . ഇത് ഉപയോഗിച്ച് 30 സെന്റീമീറ്റർ ആരമുള്ള വൃത്തസ്തംഭപാത്രം മുടാൻ സാധിക്കുമോ? വിശദമാക്കുക
21. 6 സെന്റീമീറ്റർ , 8 സെന്റീമീറ്റർ , 9 സെന്റീമീറ്റർ വീതം വശമുള്ള ത്രികോണം വരച്ച് തുല്യപരപ്പുള്ള സമചതുരം നിർമ്മിക്കുക . സമചതുരത്തിന്റെ വശം അളന്നെഴുതുക
22. ഒരു പെട്ടിയിൽ ആറ് കുത്തമുത്തുകളും നാല് വെളുത്തമുത്തുകളും ഉണ്ട് . മറ്റൊരു പെട്ടിയിൽ അഞ്ച് കുത്തമുത്തുകളും മൂന്ന് വെളുത്തമുത്തുകളും ഉണ്ട് . ഇതിൽനിന്ന് നോക്കാതെ ഒരേണ്ണം എടുക്കുന്നു. കിട്ടുന്നത് രണ്ടും കുത്തതാകാനുള്ള സാധ്യത കണക്കാക്കുക. രണ്ടും വെളുത്തമുത്തായി കിട്ടാനുള്ള സാധ്യത കണക്കാക്കുക. ഒരു വെളുത്തമുത്തും ഒരു കുത്തമുത്തും കിട്ടാനുള്ള സാധ്യത കണക്കാക്കുക. ഒരേണ്ണമെങ്കിലും കുത്തതാകാനുള്ള സാധ്യത കണക്കാക്കുക
23. $5^2, 5^4, 5^6 \dots = 0.008^{-30}$ ആയാൽ n ന്റെ വില കണക്കാക്കുക
24. ചിത്രത്തിൽ AB അർദ്ധവൃത്തത്തിന്റെ വ്യാസമാണ് . PQ എന്ന വര AB യ്ക്ക് സമാന്തരം . $BQ = 2, AB = 8$ ആയാൽ PQ കണക്കാക്കുക



SECTION D

Answer any 4 in the section D. Each carries 5 mark

25. ഒരു സമാന്തരശ്രേണിയുടെ ബീജഗണിതരൂപം $2n + 9$ ആണ്. ഈ ശ്രേണിയുടെ ആദ്യപദവും പൊതുവ്യത്യാസവും എത്രയാണ് ? ഈ ശ്രേണിയുടെ ആദ്യത്തെ n പദങ്ങളുടെ തുക എത്ര ? ഇതുപയോഗിച്ച് ആദ്യത്തെ 20 പദങ്ങളുടെ തുക കണക്കാക്കുക. ഈ ശ്രേണിയുടെ ഏതെങ്കിലും 30 പദങ്ങളുടെ തുക 3000 ആകുമോ? എന്തുകൊണ്ട് ?
26. രണ്ട് ടാപ്പുകൾ ഒന്നിച്ച് പ്രവർത്തിച്ചാൽ ഒരു ടാക്ക് $3\frac{1}{3}$ മിനിറ്റ് കൊണ്ട് നിറയും. ഇതിൽ വലിയ ടാപ്പ് മാത്രം ഉപയോഗിച്ചാൽ ചെറിയ ടാപ്പ് മാത്രം ഉപയോഗിക്കുന്നതിനേക്കാൾ 3 മിനിറ്റ് കുറഞ്ഞസമയം കൊണ്ട് ടാക്ക് നിറയ്ക്കും . ഓരോ ടാപ്പും എത്ര സമയം കൊണ്ട് ടാക്ക് നിറയ്ക്കുമെന്ന് കണക്കാക്കുക

27. വൃത്തത്തിന് പുറത്തുള്ള P എന്ന ബിന്ദുവിൽനിന്ന് വൃത്തത്തിലേക്ക് രണ്ട് വരകൾ വരക്കുന്നു. ഒരു വര വൃത്തത്തെ A, B എന്നീ ബിന്ദുക്കളിൽ ഖണ്ഡിക്കുന്നു. മറ്റേ വര വൃത്തത്തെ T യിൽ തൊടുന്നു. ഏകദേശചിത്രം വരക്കുക . PA, PB, PT എന്നീ ഭാഗങ്ങളുടെ നീളം എങ്ങനെ പരസ്പരം ബന്ധപ്പെട്ടിരിക്കുന്നു. ഈ ആശയം ഉപയോഗിച്ച് 4 സെന്റീമീറ്റർ വശമുള്ള സമചതുരം വരച്ച് തുല്യപരപ്പുള്ള മറ്റൊരു ചതുരം വരക്കുക.
28. ഒരു ടവറിന്റെ ഉയരം 60 മീറ്ററാണ് . അതിന്റെ മുകളിൽ നിന്ന് നോക്കുമ്പോൾ കുറച്ചുകലെയുള്ള ഒരു കെട്ടിടത്തിന്റെ മുകളറ്റം 40° കീഴ് കോണിലും ചുവട് 50° കീഴ് കോണിലും കണ്ടു. ഈ ആശയം വ്യക്തമാക്കുന്ന ഏകദേശചിത്രം വരക്കുക. കെട്ടിടത്തിന്റെ ഉയരം കണക്കാക്കുക.
29. വൃത്തസ്തംഭകൃതിയിലുള്ള ഒരു പാത്രത്തിൽ കുറച്ച് വെള്ളമെടുത്ത് അതിലേക്ക് ഒരു ലോഹഗോളം താഴ്ത്തിയിട്ടുടച്ചോൾ ജലനിരപ്പിന് അല്പം ഉയർന്നു. ജലനിരപ്പിനുമേലായ ഉയർച്ച 0.5 സെന്റീമീറ്റർ ആണ് . ഇതിന്റെ ഇരട്ടി ആരമുള്ള ഗോളം താഴ്ത്തിയിട്ടാൽ ജലനിരപ്പ് 1 സെന്റീമീറ്റർ ഉയരുന്നെന്ന് അമ്മു കരുതി. അമ്മുവിന്റെ കരുതൽ ശരിയാണോ ? ഗണിതപരമായി സമർത്ഥിക്കുക. എത്ര സെന്റീമീറ്റർ ആണ് ജലനിരപ്പ് ഉയരുന്നത് ?
30. വികർണ്ണങ്ങൾ തുല്യമായ ലംബകം ചക്രിയലംബകം ആയിരിക്കുമെന്ന് തെളിയിക്കുക

¹This paper is prepared on the first seven chapters. This is not a model paper. Prepared for the students expecting higher grades