

വാർഷിക മൂല്യനിർണ്ണയം 2016-17

സ്റ്റാൻഡേർഡ് : II

ഉദ്ദേശ്യം - രണ്ടാം ദിവസം



പേര്:സ്കൂൾ:.....

വർഷം 7

വെള്ളം വെള്ളം സർവ്വത!

ശ്രേണി

ചിത്രം നോക്കി ജലം പാഴായിപ്പോകുന്ന സന്ദർഭങ്ങൾ എഴുതൂ.



1.

2.

ജലം പാഴായിപ്പോകുന്ന മറ്റ് 3 സന്ദർഭങ്ങൾ കൂടി കണ്ടെത്തി എഴുതൂ.



ആവണി, മിനിമോൾ, കിരൺ എന്നിവരുടെ വീട്ടിൽ കഴിഞ്ഞ രണ്ട് ദിവസങ്ങളിൽ പല ആവശ്യങ്ങൾക്കായി ഉപയോഗിച്ച വെള്ളത്തിന്റെ അളവ് നോക്കൂ.

ആവശ്യം	കിരൺ	മിനിമോൾ	ആവണി
വീട്ടാവശ്യം	46 ബക്കറ്റ്	34 ബക്കറ്റ്	32 ബക്കറ്റ്
പച്ചക്കറി നനയ്ക്കാൻ	14 ബക്കറ്റ്	16 ബക്കറ്റ്	14 ബക്കറ്റ്
കന്നുകാലികളെ കുളിപ്പിക്കാൻ	30 ബക്കറ്റ്	26 ബക്കറ്റ്	13 ബക്കറ്റ്

- ആരുടെ വീട്ടിലാണ് ഏറ്റവും കൂടുതൽ വെള്ളം ഉപയോഗിക്കുന്നത്? ഉത്തരം ക്രിയസഹിതം എഴുതൂ.



ജലം അമൂല്യമാണ്. ഒരു തുള്ളി പോലും പാഴാക്കരുത്.

കൂടുതൽ പോസ്റ്റർ വാക്യങ്ങൾ എഴുതുക

- 1.
- 2.
- 3.
- 4.
- 5.



കളിപ്പാട്ടക്കടയിലേക്ക് വാങ്ങിയ സാധനങ്ങൾ

കളിപ്പാട്ടം	വില	വാങ്ങിയ എണ്ണം	ക്രിയാരൂപം	ആകെ വില
പമ്പരം	5	4		
പീപ്പി	10	3		
ബലൂൺ	2	6		

ഏണിയും പാമ്പും കളിക്കാനുള്ള 4 ബോർഡ് കൂടി വാങ്ങണം. ഒരെണ്ണത്തിന് 10 രൂപയാണ്. ആകെ എത്ര രൂപ വേണം?

വർഷം: 11

ഒളിഞ്ഞിരിക്കുന്നതാര്?

ശ്രേണി

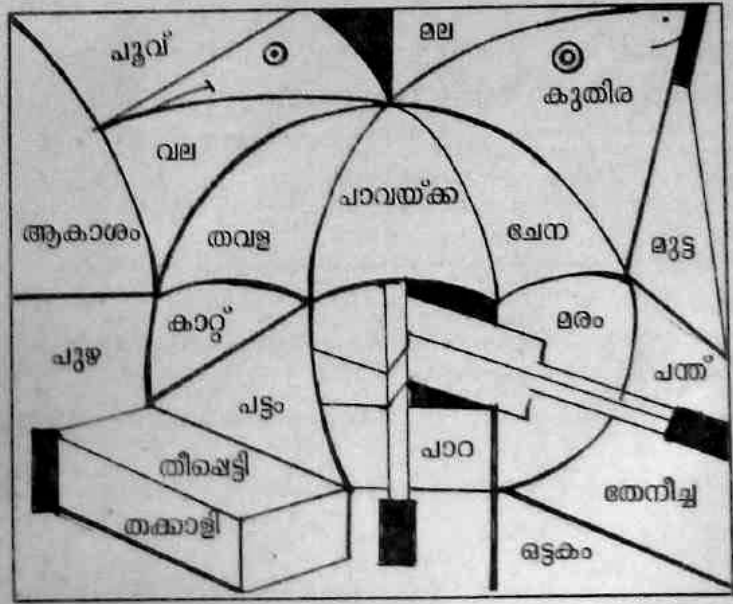
കടങ്കഥകൾക്ക് ഉത്തരം എഴുതുക.

അടി തളിക
നടു വടി
മേൽക്കൂട

തുളുണ് മുരിക്കല്ല
വാലുണ് വാനരനല്ല
കൈപ്പുണ് കാഞ്ഞിരമല്ല

ആനയ്ക്കും നിലയില്ല
പാപ്പാനും നിലയില്ല
അമ്പാടിക്കൂട്ടന്
അരയോളം വെള്ളമു

കടങ്കഥകളുടെ ഉത്തരം വരുന്ന കോളങ്ങൾ ചേർത്ത് ചിത്രം കണ്ടെത്തുക.



ഒളിഞ്ഞിരിക്കുന്ന ചിത്രം ഉത്തരമായി വരുന്ന കടങ്കഥ തയ്യാറാക്കുക.