

വാർഷിക മൂല്യനിർണയം 2016-17

സ്റ്റാൻഡേർഡ് : I ഉദ്ഗ്രഹണം - രണ്ടാം ദിവസം

പേര്:സ്കൂൾ:.....

വാർഷിക് - 6 കളിപ്പാട്ടക്കടയിലേക്ക് ശ്രേയ്

ജന്തു വാങ്ങിയ സാധനങ്ങൾ	സുബ്ബു വാങ്ങിയ സാധനങ്ങൾ
പത്ത്	പീപ്പി
പീപ്പി	മാല

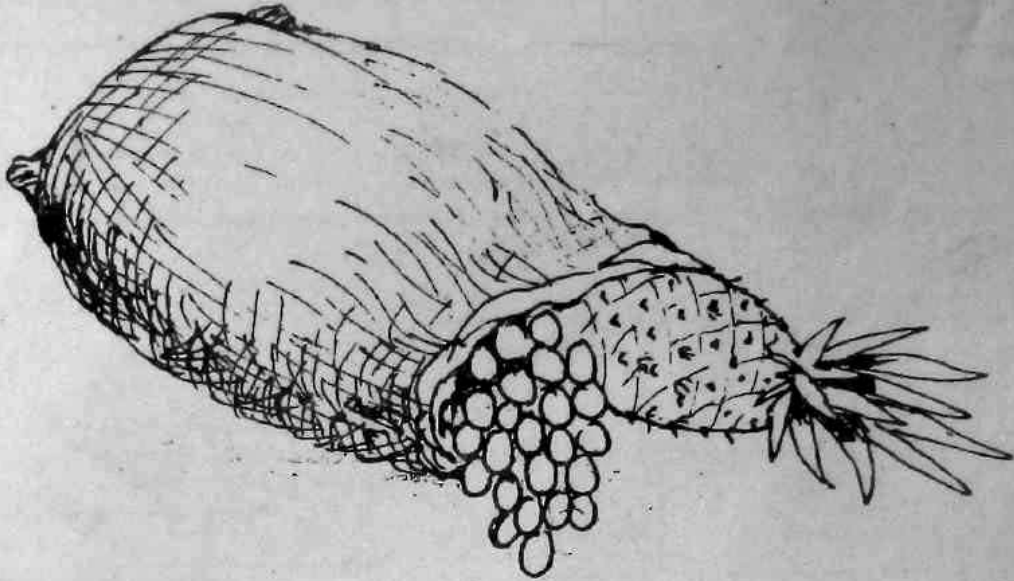
കുക്കു സ്റ്റോർ

വിലവിവരപ്പട്ടിക	
സാധനം	വില
പീപ്പി	4 രൂപ
പത്ത്	6 രൂപ
മാല	2 രൂപ

ജന്തു കടക്കാൻ കൊടുക്കേണ്ട തുക

സുബ്ബു കടക്കാൻ കൊടുക്കേണ്ട തുക



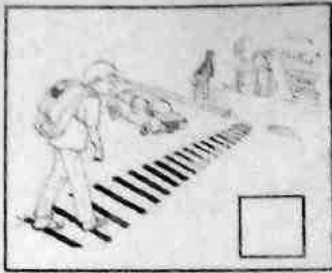
രണ്ടുപേരും കൂടി 25 രൂപ കടക്കാൻ കൊടുത്തു. ബാക്കി കിട്ടുമോ? എത്ര?



മുന്തിരിയും കൈതച്ചക്കയും കണ്ടില്ലേ? ഓരോന്നിന്റെ പറ്റിയും എഴുതിനോക്കൂ.

മുന്തിരി	കൈതച്ചക്ക


ചിത്രങ്ങൾ നോക്കി ശരിയും (✓) തെറ്റും (X) അടയാളപ്പെടുത്തുക.



റോഡു നിയമങ്ങളെക്കുറിച്ച് ഞാൻ മനസ്സിലാക്കിയ കാര്യങ്ങൾ.



ഓരോരുത്തർക്കും വേണ്ട ബെൽറ്റ് ചിത്രത്തിന് ചുവടെയുള്ള കളത്തിൽ വരച്ച് നീളം വിരലുകൊണ്ട് അളന്നെഴുതുക.



Empty rectangular box for writing the answer for the elephant.

ബെൽറ്റിന്റെ നീളം = വിരലുകൾ



Empty rectangular box for writing the answer for the bear.

ബെൽറ്റിന്റെ നീളം = വിരലുകൾ



Empty rectangular box for writing the answer for the man.

ബെൽറ്റിന്റെ നീളം = വിരലുകൾ