

വാർഷിക മൂല്യനിർണയം 2016-17

സ്റ്റാൻഡേർഡ് : I

ഉദ്ഗ്രഹണം - മൂന്നാം ദിവസം

പേര്: ..... സ്കൂൾ:.....

വർഷം - 10 പഴക്കടയിലേക്ക്

ശ്രേണി

	ആപ്പിൾ	ഓറഞ്ച്	പേരയ്ക്ക
സുബ്ബു	4 എണ്ണം	3 എണ്ണം	5 എണ്ണം
ജഗ്ഗു	9 എണ്ണം	8 എണ്ണം	0
രജൻ	10 എണ്ണം	8 എണ്ണം	0


സുബ്ബു ആകെ എത്ര പഴങ്ങളാണ് വാങ്ങിയത്?

ജഗ്ഗു ആകെ വാങ്ങിയ പഴങ്ങളുടെ എണ്ണം


രജൻ ആകെ വാങ്ങിയ പഴങ്ങളുടെ എണ്ണം

കൂടുതൽ പഴങ്ങൾ വാങ്ങിയതാര്?

ഏറ്റവും കുറവ് ആർക്കാണ്?





ഇതുപോലെ നിങ്ങൾക്ക് ഇഷ്ടപ്പെട്ട വാഹനത്തെക്കുറിച്ച് എഴുതിനോക്കൂ.





പഴങ്ങൾ	ആകെ എണ്ണം	കടായത്ത്	നല്ലത്
ആപ്പിൾ	13	3	
ഓറഞ്ച്	11	5	
പേരയ്ക്ക	5	2	



അടുത്ത ചിത്രം വരയ്ക്കൂ.

ചിത്രങ്ങൾ നോക്കി കഥ എഴുതൂ. തലക്കെട്ടും നൽകൂ.