

വാർഷിക മൂല്യനിർണയം 2015-16

പരിസരപഠനം

സ്റ്റാൻഡേർഡ് - IV

സമയം : 2 മണിക്കൂർ

കുട്ടിയുടെ പേര്

വിദ്യാലയത്തിന്റെ പേര്

രക്ഷിതാവിന്റെ ഒപ്പ്

അധ്യാപകന്റെ ഒപ്പ്

പ്രവർത്തനങ്ങൾ	നിലവാര സ്തൂചിക
1	
2	
3	
4	
5	
6	
ഓവറോൾ ഗ്രേഡ്	

പ്രവർത്തനം 1

ചുവടെ കൊടുത്തിരിക്കുന്ന വേരുപടലങ്ങൾ ഏതാണെന്ന് തിരിച്ചറിഞ്ഞ് രേഖപ്പെടുത്തുക.

ചോദ്യം 1



ചോദ്യം 2





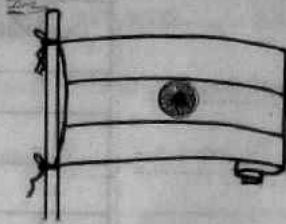

ഇവയുടെ പ്രത്യേകതകൾ വിവരിക്കൂ.

പ്രവർത്തനം 2

ചോദ്യം 1

ചിത്രങ്ങൾ ശ്രദ്ധിക്കൂ

ഇവയിൽ ഇന്ത്യയുടെ ദേശീയ അടയാളങ്ങൾ ഏതൊക്കെയാണെന്ന് കണ്ടെത്തി ചുവടെ എഴുതി ചേർക്കൂ.



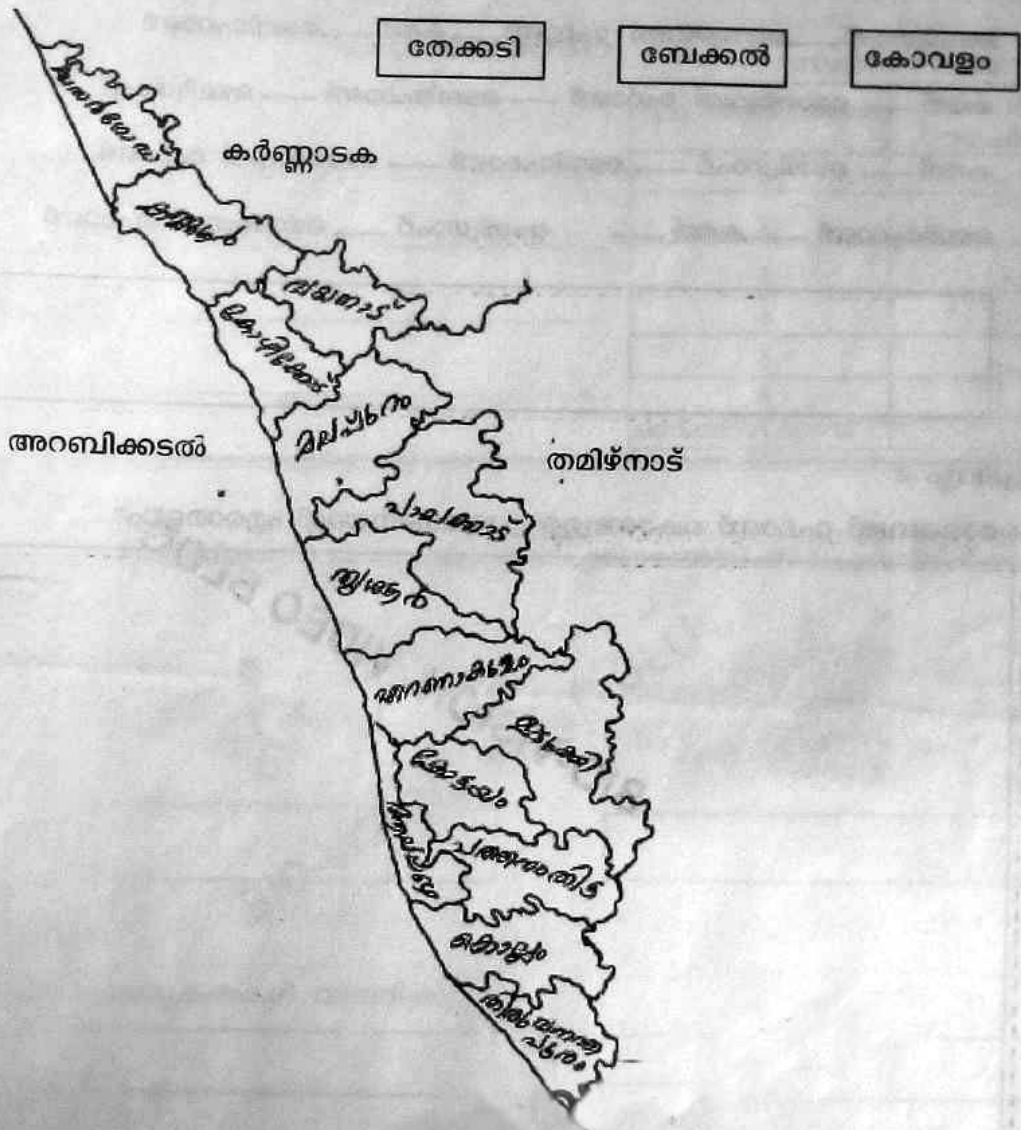
ചോദ്യം 2

ദേശീയപതാകയുടെ പ്രത്യേകതകൾ ഉൾപ്പെടുത്തി ഒരു കുറിപ്പ് തയ്യാറാക്കൂ.

Blank writing area for the student's response.

പ്രവർത്തനം 3

താഴെ സൂചിപ്പിച്ചിരിക്കുന്ന വിനോദ സഞ്ചാരകേന്ദ്രങ്ങളെ കേരളത്തിന്റെ ഭൂപടത്തിൽ അവ സ്ഥിതിചെയ്യുന്ന ജില്ലകളിലേക്ക് വരച്ച് യോജിപ്പിക്കൂ.



തന്നിരിക്കുന്ന ഭൂപടത്തിൽ നിന്ന് നിങ്ങൾ താമസിക്കുന്ന ജില്ല, ആ ജില്ലയുമായി അതിർത്തി പങ്കിടുന്ന ജില്ലകൾ/സംസ്ഥാനങ്ങൾ ഇവ കണ്ടെത്തി എഴുതുക.

പ്രവർത്തനം 4


ചോദ്യം 1

താഴെകൊടുത്തിരിക്കുന്നവയിൽ ശരിയായ ക്രമം കണ്ടെത്തി എഴുതൂ.

- 1 ടെലിഗ്രാഫ് → മൊബൈൽ ഫോൺ → കത്ത് → ടെലിഫോൺ
- 2 കത്ത് → മൊബൈൽ ഫോൺ → ടെലിഫോൺ → ടെലിഗ്രാഫ്
- 3 കത്ത് → ടെലിഗ്രാഫ് → ടെലിഫോൺ → മൊബൈൽ ഫോൺ
- 4 ടെലിഫോൺ → കത്ത് → ടെലിഗ്രാഫ് → മൊബൈൽ ഫോൺ

ചോദ്യം 2

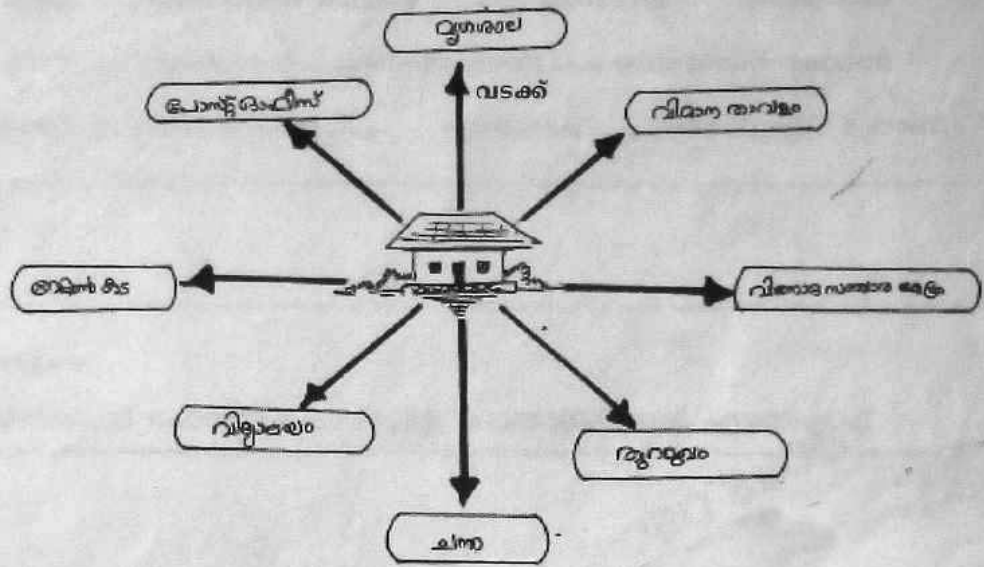
മൊബൈൽ ഫോൺ കൊണ്ടുള്ള പ്രയോജനങ്ങൾ എന്തെല്ലാം?



പ്രവർത്തനം 5

ചോദ്യം 1

പാർവ്വതിയുടെ വീടാണ് ചിത്രത്തിൽ മധ്യഭാഗത്ത് കാണുന്നത്. ചിത്രത്തിലെ ഓരോ സ്ഥാപനവും വീടിന്റെ ഏത് ദിക്കിലാണെന്ന് എഴുതൂ.



സ്ഥാപനം	ദിക്ക്
പോസ്റ്റോഫീസ്	വടക്കു പടിഞ്ഞാറ്
മുഗശാല	
വിമാനത്താവളം	
വിനോദസഞ്ചാരകേന്ദ്രം	
തുറമുഖം	
ചന്ത	
വിദ്യാലയം	
റേഷൻകട	

ചോദ്യം 2

പാർവ്വതിയുടെ വീടിന്റെ തെക്കുപടിഞ്ഞാറുള്ള സ്ഥാപനത്തോട് ചേർന്നുതന്നെയാണ് പഞ്ചായത്ത് ഓഫീസ് സ്ഥിതിചെയ്യുന്നത്. തന്നിരിക്കുന്ന ചിത്രത്തിൽ അതുകൂടി വരച്ചു ചേർക്കൂ.