


- Question 1
- Question 2
- Question 3
- Question 4
- Question 5
- Question 6
- Question 7
- Question 8
- Question 9
- Question 10

വിവരങ്ങൾ പരസ്പരം കൈമാറത്തക്ക വിധത്തിൽ കമ്പ്യൂട്ടറുകളെ ബന്ധിപ്പിക്കുന്ന സംവിധാനത്തിന്റെ പേരെന്ത്?



A കമ്പ്യൂട്ടർ നെറ്റ്‌വർക്കിങ്ങ്

B ബ്ലോഗ്

C ഫയൽസിസ്റ്റം

D ഓപ്പറേറ്റിങ്ങ് സിസ്റ്റം

0 out of 10 questions answered

Question 1

Question 2

Question 3

Question 4

Question 5

Question 6

Question 7

Question 8

Question 9

Question 10

കമ്പ്യൂട്ടറിൽ വിവരങ്ങൾ പ്രൊസസ് ചെയ്യുന്നതും സൂക്ഷിക്കുന്നതും ഏതു രൂപത്തിലാണ്?

A ഡിജിറ്റൽ

B അനലോഗ്

C ഡെസിമൽ

D RF തരംഗം

- Question 1
- Question 2
- Question 3
- Question 4
- Question 5
- Question 6
- Question 7
- Question 8
- Question 9
- Question 10

ചുവടെ കൊടുത്തിരിക്കുന്നവയിൽ ലിബർട്രാഫീസ് ബേസിന്റെ പ്രധാന ജാലകത്തിൽ കാണപ്പെടാത്തത് ഏത്?

A ഡാറ്റാബേസ് പാനൽ

B ടാബ് പാനൽ

C വർക്ക് ഏരിയ

D ഡ്രോയിങ്ങ് പാനൽ

- Question 1
- Question 2
- Question 3
- Question 4**
- Question 5
- Question 6
- Question 7
- Question 8
- Question 9
- Question 10

ചുവടെ നൽകിയിരിക്കുന്നവയിൽ ലിബർക്കാഫീസ് ബേസിഡെ ഫോം (Forms) നിർമ്മാണമായി ബന്ധമില്ലാത്ത പ്രവർത്തനം ഏത് ?

A Use Wizard to Create Form
വഴി ഫോം തയ്യാറാക്കുക.

B Arrange controls എന്നതിൽ നിന്നും അനുയോജ്യമായ Arrangement തിരഞ്ഞെടുക്കുക

C Apply Style എന്നതിൽ നിന്നും ഉചിതമായ Style തിരഞ്ഞെടുക്കുക.

D Create Table In Design View
വഴി ഫോം തയ്യാറാക്കുക.

- Question 1
- Question 2
- Question 3
- Question 4
- Question 5**
- Question 6
- Question 7
- Question 8
- Question 9
- Question 10

സൺക്ലോക്ക് സോഫ്റ്റ്‌വെയറിലെ ക്ലോക്ക് & മാപ്പ് ജാലകത്തിൽ പ്രധാനഅക്ഷാംശരേഖകളെ പ്രത്യക്ഷമാക്കുന്നതിനും അപ്രത്യക്ഷമാക്കുന്നതിനും മെനുബാറിലെ ഏത് ടൂളാണ് ഉപയോഗിക്കുന്നത്?

A M ബട്ടൺ

B N ബട്ടൺ

C Y ബട്ടൺ

D T ബട്ടൺ

- Question 1
- Question 2
- Question 3
- Question 4
- Question 5
- Question 6**
- Question 7
- Question 8
- Question 9
- Question 10

സൺക്ലോക്ക് സോഫ്റ്റ്‌വെയർ മെനുവിലെ A ബട്ടൺ ഉപയോഗിക്കുന്നതെന്തിന് ?

A സൺക്ലോക്കിലെ സമയം മുന്നോട്ട് നീക്കുന്നതിന്


B സൺക്ലോക്കിലെ സമയം പിന്നോട്ട് നീക്കുന്നതിന്

C സൂര്യനെ പ്രത്യക്ഷമാക്കാൻ

D രേഖാംശരേഖകളെ പ്രത്യക്ഷമാക്കാൻ

- Question 1
- Question 2
- Question 3
- Question 4
- Question 5
- Question 6
- Question 7**
- Question 8
- Question 9
- Question 10

ഇക്സ്പ്ലിയിൽ വരച്ച കപ്പാ സോസറ്റം ഒരുമിച്ച് ചേർക്കുന്നതിന് അനുയോജ്യമായ ഓപ്ഷൻ ഏത് ?



A Group

B Ungroup

C Mask

D Raise

0 out of 10 questions answered

Question 1

Question 2

Question 3

Question 4

Question 5

Question 6


Question 7

Question 8

Question 9

Question 10

സിൻഫിൾ സ്റ്റുഡിയോ സോഫ്റ്റ്‌വെയറിൽ ചെയ്യുന്ന പ്രവർത്തനങ്ങൾ പ്രോജക്റ്റ് ഫയലായി സേവ് ചെയ്യപ്പെടുന്നത് ഏത് എക്സ്റ്റൻഷനോടുകൂടിയാണ് ?



- Question 1
- Question 2
- Question 3
- Question 4
- Question 5
- Question 6
- Question 7
- Question 8
- Question 9
- Question 10

വെബ്സൈറ്റുകളുമായി ബന്ധപ്പെട്ട ശരിയായ പ്രസ്താവന ചുവടെ നൽകിയവയിൽ നിന്നും തിരഞ്ഞെടുക്കുക

A ഒരു വെബ്സൈറ്റിനതന്നെ ഒന്നിലധികം IP വിലാസങ്ങൾ ഉണ്ടായിരിക്കാം.

B ഒരു വെബ്സൈറ്റിന് ഒരു IP വിലാസം മാത്രമാണുള്ളത്.

C വെബ് വിലാസങ്ങളെ ഐ. പി. വിലാസങ്ങളായി മാറ്റിയെടുക്കാൻ സംവിധാനമില്ല.

D IP വിലാസങ്ങളെ ഓർക്കാൻ എളുപ്പമുള്ള പേരുകളായി മാറ്റാൻ സാധ്യമല്ല.

Question 1

Question 2

Question 3

Question 4

Question 5

Question 6


Question 7

Question 8

Question 9

Question 10

ഓൺലൈൻ ഇടപാടുകളെ കൂടുതൽ സുരക്ഷിതമാക്കാൻ ഉപയോഗിക്കുന്ന OTP സങ്കേതം ചുവടെ കൊടുത്തിട്ടുള്ള ഏത് മാധ്യമം വഴിയാണ് ഉപയോക്താവിനെ അറിയിക്കുന്നത് ?



A

ടെലിവിഷൻ



C

മൊബൈൽ ഫോൺ



B

ദിനപ്പത്രം



D

റേഡിയോ



- Question 1
- Question 2
- Question 3
- Question 4
- Question 5

വെബ്‌പേജ് നിർമ്മാണത്തിൽ ഉപയോഗിക്കാവുന്ന Inline കാസ്‌കേഡിങ്ങ് സ്റ്റൈലുമായി ബന്ധപ്പെട്ട ശരിയായ പ്രസ്താവനകൾ തിരഞ്ഞെടുക്കുക.

A `<head>` ടാഗിനുള്ളിൽ `<style>` ടാഗ് നൽകുന്നു

C `<body style="background-color:blue;">` ഈ രീതിക്ക് ഉദാഹരണമാണ്

E style.html എന്ന ഫയൽ `<head>` ടാഗിൽ ഉൾപ്പെടുത്തുന്നു

B ടാഗ് ഉൾപ്പെടുത്തുന്നതിനൊപ്പം സ്വീദശേഷതകൾ കൊടുക്കുന്നു

D style.css എന്ന ഫയൽ `<head>` ടാഗിൽ ഉൾപ്പെടുത്തുന്നു

- Question 1
- Question 2
- Question 3
- Question 4
- Question 5

ചുവടെ കൊടുത്തിട്ടുള്ളവയിൽ ഏതെല്ലാമാണ് ഒരു കമ്പ്യൂട്ടറിന്റെ ഹാർഡ്‌വെയർ ഘടകങ്ങളെ പ്രവർത്തിപ്പിക്കുന്നതിനുള്ള പ്രോഗ്രാമുകൾ?

A ഷെൽ

C കേർണൽ

E ആപ്ലിക്കേഷൻ സോഫ്റ്റ്‌വെയർ

B ഗ്രാഫിക്കൽ യൂസർ ഇന്റർഫേസ്

D ഡ്രൈവർ സോഫ്റ്റ്‌വെയർ

- Question 1
- Question 2
- Question 3
- Question 4
- Question 5

LibreOffice Writer ൽ തയ്യാറാക്കിയ റിപ്പോർട്ടിലെ ശീർഷകങ്ങൾക്ക് Apply Style Box ലെ Heading1 എന്ന സ്റ്റൈൽ നൽകി. ഈ സ്റ്റൈലിന് മാറ്റം വരുത്തണം. ഇതിനുള്ള ശരിയായ പ്രവർത്തനഘട്ടങ്ങൾ ചുവടെ കൊടുത്തിട്ടുള്ളവയിൽ നിന്നും തിരഞ്ഞെടുക്കുക.

A **Format** മെനുവിൽ നിന്ന് **Styles and Formatting** ജാലകം തുറക്കുക.

C **Format** മെനുവിൽനിന്ന് **Character** ക്ലിക്ക് ചെയ്ത് മാറ്റങ്ങൾ വരുത്തുക.

E **Insert** മെനുവിൽ നിന്ന് **Indexes and Tables** ജാലകം തുറക്കുക.

B ശീർഷകമുൾപ്പെടുന്ന പാരഗ്രാഫ് മുഴുവനായി സെലക്ട് ചെയ്യുക

D **Heading 1** എന്ന സ്റ്റൈലിൽ റൈറ്റ് ക്ലിക്ക് ചെയ്ത് **Modify** സെലക്ട് ചെയ്യുക. മാറ്റങ്ങൾ വരുത്തുക.

- Question 1
- Question 2
- Question 3
- Question 4
- Question 5

ഇക്സ്‌പ്ലേറ്റ് സോഫ്റ്റ്‌വെയറിൽ അർദ്ധവൃത്തത്തിനനുസരിച്ച് അക്ഷരങ്ങളെ കമാനാകൃതിയിൽ ക്രമീകരിക്കുന്നതിനുള്ള രണ്ട് പ്രവർത്തനങ്ങൾ ചുവടെ നിന്ന് തിരഞ്ഞെടുക്കുക.

A അക്ഷരങ്ങൾ സെലക്ട് ചെയ്യുക.

C Object → Group സങ്കേതം ഉപയോഗിക്കുക.

E Text → Put on Path സങ്കേതം ഉപയോഗിക്കുക.

B അക്ഷരങ്ങളും അർദ്ധവൃത്തവും സെലക്ട് ചെയ്യുക.

D Path → Difference സങ്കേതം ഉപയോഗിക്കുക.

- Question 1
- Question 2
- Question 3
- Question 4
- Question 5

ഒരു സമചതുരം വരച്ച് നിറം നൽകാനായി തയ്യാറാക്കിയ പൈത്തൺ പ്രോഗ്രാമിൽ `color("red","green")` എന്ന നിർദ്ദേശത്തോടൊപ്പം ചുവടെ നൽകിയ ഏതെല്ലാം നിർദ്ദേശങ്ങൾ കൂടി വേണം ?

A `begin_fill()`

B `color_fill()`

C `stop_fill()`

D `end_fill()`

E `begin_end_fill()`

0 out of 10 questions answered

Question 1

Question 2

Question 3

Question 4

Question 5

Question 6

Question 7

Question 8

Question 9

Question 10

svg ഫോർമാറ്റിലുള്ള ചിത്രങ്ങൾ Synfig Studio സോഫ്റ്റ്‌വെയറിന്റെ Canvas ലേക്ക് ചേർക്കാൻ ചുവടെ നൽകിയിരിക്കുന്ന ഏത് സങ്കേതം ഉപയോഗിക്കാം?

A Insert

C Import

B Open

D Render

- Question 1
- Question 2
- Question 3
- Question 4
- Question 5
- Question 6
- Question 7
- Question 8
- Question 9
- Question 10

നൽകിയിരിക്കുന്ന പ്രസ്താവനകളിൽ നിന്നും Synfig Studio സോഫ്റ്റ്‌വെയറിനെക്കുറിച്ച് ശരിയായ പ്രസ്താവന തിരഞ്ഞെടുക്കുക.

[Click here to zoom image](#)

A ദ്വിമാന അനിമേഷൻ സോഫ്റ്റ്‌വെയറാണ്.

B ത്രിമാന അനിമേഷൻ സോഫ്റ്റ്‌വെയറാണ്

C ഇന്ററാക്ടീവ് ഗണിത സോഫ്റ്റ്‌വെയറാണ്

D സൗണ്ട് എഡിറ്റിംഗ് സോഫ്റ്റ്‌വെയറാണ്.

0 out of 10 questions answered

Question 1

Question 2

Question 3

Question 4

Question 5

Question 6

Question 7

Question 8

Question 9

Question 10

ചുവടെകൊടുത്തിട്ടുള്ളവയിൽ ഏതാണ് ഒരു ആപ്ലിക്കേഷൻ സോഫ്റ്റ്‌വെയർ?

A GNU HURD

C Abiword

B Free BSD

D Linux

- Question 1
- Question 2
- Question 3
- Question 4
- Question 5
- Question 6
- Question 7
- Question 8
- Question 9
- Question 10

ഒരു ഹാർഡ് ഡിസ്കിനെ വിവിധ ഭാഗങ്ങളായി തിരിക്കുന്ന പ്രവർത്തനത്തിന് പറയുന്ന പേരെന്ത്?

A ബൂട്ടിങ്

B സ്വാപിങ്

C പ്രോഗ്രാമിങ്

D പാർട്ടീഷനിങ്

Question 1

Question 2

Question 3

Question 4

Question 5

Question 6

Question 7

Question 8

Question 9

Question 10

ലിബർ ഓഫീസ് ഡാറ്റാബേസിന്റെ ഒരു ഫീൽഡിലെ വിവരങ്ങളാണ് ചിത്രത്തിൽ കാണിച്ചിരിക്കുന്നത് ഇതിൽ പ്രൈമറി കീ ആയി സെറ്റ് ചെയ്യുന്നതിന് ഏറ്റവും അനുയോജ്യമായത് ഏതാണ്?

Field Name
Admission_No
Name
Gender
Class

A

Class

B

Name

C

Admission Number

D

Gender

- Question 1
- Question 2
- Question 3
- Question 4
- Question 5
- Question 6
- Question 7
- Question 8
- Question 9
- Question 10

ലിബർട്രാഫീസ് ഡാറ്റാ ബേസിൽ ഒരു ഫീൽഡിനെ പ്രൈമറി കീ ആയി സെറ്റ് ചെയ്യാലുള്ള പ്രത്യേകത എന്താണ്?

A ആവർത്തിക്കാത്തവിധം വിവരങ്ങൾ ചേർക്കാം

B ആവർത്തിക്കുന്നവിധം വിവരങ്ങൾ ചേർക്കാം

C വിവരങ്ങൾ ചേർക്കാൻ സാധ്യമല്ല

D അക്ഷരരൂപത്തിലോ അക്കരൂപത്തിലോ ഉള്ള വിവരങ്ങൾ ചേർക്കാൻ സാധ്യമല്ല.

- Question 1
- Question 2
- Question 3
- Question 4
- Question 5
- Question 6
- Question 7**
- Question 8
- Question 9
- Question 10

Synfig Studio യിൽ കീഫ്രെയിമുകൾ നിശ്ചയിച്ചാൽ അവയ്ക്കിടയിലെ ഫ്രെയിമുകളെ സോഫ്റ്റ്‌വെയർ സ്വയം പൂർത്തിയാക്കുന്ന സങ്കേതത്തിന് പറയുന്ന പേരെന്ത്?

A Tweening

B Export

C Render

D Preview

- Question 1
- Question 2
- Question 3
- Question 4
- Question 5
- Question 6
- Question 7
- Question 8
- Question 9
- Question 10

ചുവടെ കൊടുത്തിരിക്കുന്നവയിൽ വെക്ടർ ചിത്രങ്ങളെക്കുറിച്ച് ശരിയായ പ്രസ്താവന ഏതാണ്?

A svg ചിത്രങ്ങൾ വെക്ടർ ചിത്രങ്ങളാണ്.

B വെക്ടർ ചിത്രങ്ങൾ സ്റ്റേയിൽ ചെയ്യുമ്പോൾ വ്യക്തത നഷ്ടപ്പെടുന്നു.

C ബിറ്റ് മാപ്പ് ചിത്രങ്ങളെ വെക്ടർ ചിത്രങ്ങൾ എന്നും പറയാം.

D വെക്ടർ ചിത്രങ്ങൾ തയ്യാറാക്കുന്ന സോഫ്റ്റ്‌വെയർ ആണ് ജിമ്പ്.

- Question 1
- Question 2
- Question 3
- Question 4
- Question 5
- Question 6
- Question 7
- Question 8
- Question 9
- Question 10

വേഡ് പ്രോസസറിൽ തയ്യാറാക്കിയ ഡോക്യുമെന്റിലെ ഒരു പദത്തിന് നൽകിയിട്ടുള്ള ഫോർമാറ്റുകൾ അതേപടി മറ്റ് വാക്കുകൾക്ക് നൽകാനുള്ള എളുപ്പവഴി താഴെപ്പറയുന്നവയിൽ ഏതാണ്?

A Paragraph Formatting

B Clone Formatting

C Character Formatting

D Page Formatting

- Question 1
- Question 2
- Question 3
- Question 4
- Question 5
- Question 6
- Question 7
- Question 8
- Question 9
- Question 10

ഒരു ഡോക്യുമെന്റിൽ ഉള്ളടക്കപട്ടിക ഉൾപ്പെടുത്തിയശേഷം അത് പിഡിഎഫ് ആയി എക്സ്പോർട്ട് ചെയ്തു. ഈ ഫയൽ തുറന്ന് ഉള്ളടക്കപട്ടികയിൽ നിന്ന് ഒരു പ്രത്യേക ഉള്ളടക്കത്തിലേക്ക് പോകാൻ എന്താണ് ചെയ്യേണ്ടത്?

A ഉള്ളടക്കപട്ടികയിലെ അതത് ലിങ്കിൽ ക്ലിക്ക് ചെയ്താൽ മതി

B ഉള്ളടക്കപട്ടികയിലെ ലിങ്കിൽ Alt കീ അമർത്തിപ്പിടിച്ച് ക്ലിക്ക് ചെയ്താൽ മതി

C ഉള്ളടക്കപട്ടികയിലെ ലിങ്കിൽ Ctrl കീ അമർത്തിപ്പിടിച്ച് ക്ലിക്ക് ചെയ്താൽ മതി

D പിഡിഎഫ് ആയി എക്സ്പോർട്ട് ചെയ്താൽ ഉള്ളടക്ക പട്ടിക പ്രവർത്തിക്കാതാകുന്നു.

- Question 1
- Question 2
- Question 3
- Question 4
- Question 5

താഴെ കൊടുത്തവയിൽ നിന്നും ഈമെയിൽ സേവന ദാതാക്കളെ കണ്ടെത്തുക.

A Gmail

C Yahoo mail.

E Picasa.

B Hscap

D Gmain.

- Question 1
- Question 2
- Question 3
- Question 4
- Question 5

നെറ്റ്‌വർക്കിലുൾപ്പെട്ടിരിക്കുന്ന കമ്പ്യൂട്ടറുകൾക്ക് ഐ പി അഡ്രസ് നൽകുന്നതിന് ഇപ്പോൾ നിലവിലുള്ള പ്രോട്ടോക്കോളുകൾ ചുവടെ കൊടുത്തിട്ടുള്ളവയിൽ ഏതൊക്കെയാണ് ?

A IPv4

C RJ-45

E RJ-11

B SSH

D IPv6

- Question 1
- Question 2
- Question 3
- Question 4
- Question 5

സൺക്ലോക്ക് ജാലകത്തിൽ പ്രധാന അക്ഷാംശരേഖകളെ പ്രദർശിപ്പിക്കുന്നതിനുള്ള ക്രമം ചുവടെ കൊടുത്തിരിക്കുന്നവയിൽ നിന്നും കണ്ടെത്തുക.

A ക്ലോക്ക് & മാപ്പ് ടൂൾ ഉപയോഗിച്ച് സമയമേഖലാ ഭൂപടം പ്രദർശിപ്പിക്കുക.

C ടോഗിൾ മെറീഡിയൻ (M) ടൂൾ ക്ലിക്ക് ചെയ്യുക

E പ്രോഗ്രസ് വാല്യൂ 1 day ആയി ക്രമീകരിക്കുക

B ഫോർവേഡ് ടൈം ടൂൾ (A) ക്ലിക്ക് ചെയ്യുക

D ടോഗിൾ ട്രോപിക്ക് (T) ടൂൾ ക്ലിക്ക് ചെയ്യുക

- Question 1
- Question 2
- Question 3
- Question 4
- Question 5

```
from turtle import *
for i in range(6):
    .....
    .....
```

50 യൂണിറ്റ് നീളമുള്ള വശങ്ങളോടു കൂടിയ സമചതുരം നിർമ്മിക്കുന്നതിനുള്ള ഒരുപെരുത്തൻ പ്രോഗ്രാമിന്റെ അവസാനത്തെ രണ്ട് വരികൾ വീടു പോയിരിക്കുന്നു. പ്രോഗ്രാം പൂർണ്ണമാക്കുന്നതിനുള്ള ശരിയായ നിർദ്ദേശങ്ങൾ താഴെ തന്നിട്ടുള്ളവയിൽ നിന്നും തിരഞ്ഞെടുക്കുക.

A forward(50)

C left(60)

E pensize(50)

B forward(72)

D left(120)

- Question 1
- Question 2
- Question 3
- Question 4
- Question 5

```
<html><head><style>
p.red{font-face:Verdana; color:red;}
</style></head>
<body>
<p ="red">Oppana</p></body></html>
```

മുകളിൽ കൊടുത്തിട്ടുള്ള html നിർദ്ദേശങ്ങളിൽ രണ്ടാമത്തെയും അഞ്ചാമത്തെയും വരികളിൽ തെറ്റുകളുണ്ട്. ശരിയായ വരികൾ ചുവടെ നൽകിയവയിൽനിന്ന് കണ്ടെത്തുക.

A രണ്ടാമത്തെ വരി
p{font-face:Verdana; color:red;}

B രണ്ടാമത്തെ വരി
p.red{font-family:Verdana; color:red;}

C അഞ്ചാമത്തെ വരി
<p class="p.red">Oppana</p></body></html>

D അഞ്ചാമത്തെ വരി
<p.red ="red">Oppana</p></body></html>

E അഞ്ചാമത്തെ വരി
<p class="red">Oppana</p></body></html>

- Question 1
- Question 2
- Question 3
- Question 4
- Question 5
- Question 6
- Question 7
- Question 8
- Question 9
- Question 10

വിവരങ്ങൾ പരസ്പരം കൈമാറത്തക്ക വിധത്തിൽ കമ്പ്യൂട്ടറുകളെ ബന്ധിപ്പിക്കുന്ന സംവിധാനത്തിന്റെ പേരെന്ത്?

[Click here to zoom Image](#)

A കമ്പ്യൂട്ടർ നെറ്റ്‌വർക്കിങ്ങ്

B ബ്ലോഗ്

C ഫയൽസിസ്റ്റം

D ഓപ്പറേറ്റിങ്ങ് സിസ്റ്റം

0 out of 10 questions answered

Question 1

Question 2

Question 3

Question 4

Question 5

Question 6

Question 7

Question 8

Question 9

Question 10

കമ്പ്യൂട്ടറിൽ വിവരങ്ങൾ പ്രൊസസ് ചെയ്യുന്നതും സൂക്ഷിക്കുന്നതും ഏതു രൂപത്തിലാണ്?

A ഡിജിറ്റൽ

C ഡെസിമൽ

B അനലോഗ്

D RF തരംഗം

0 out of 10 questions answered

Question 1

Question 2

Question 3

Question 4

Question 5

Question 6

Question 7

Question 8

Question 9

Question 10

പൈത്തൺ ഗ്രാഫിക്സിൽ നിർമ്മിക്കുന്ന ജ്യോമിതീയ രൂപങ്ങൾക്ക് നിറങ്ങൾ ലഭിക്കുന്നതിനുള്ള നിർദ്ദേശം ഏത്?

A right()

C forward()

B backward()

D color()

Question 1

Question 2

Question 3

Question 4

Question 5

Question 6

Question 7

Question 8

Question 9

Question 10

താഴെ തന്നിരിക്കുന്ന പ്രസ്താവനകളിൽ ശരിയായ ചൈത്തൺ നിർദ്ദേശം ഏതാണ്?

A for c in range(4)

C for c in range(4)*

B for c in range(4):

D for c in range(4),

Question 1

Question 2

Question 3

Question 4

Question 5

Question 6

Question 7

Question 8

Question 9

Question 10

ചുവടെ കൊടുത്തിട്ടുള്ളവയിൽ നവസാമൂഹികമാധ്യമം (Social media) ഏത്?

A

ശുശ്രൂഷ

C

വിക്രിപീഡിയ

B

യാഹൂ

D

ഫേസ്ബുക്ക്

- Question 1
- Question 2
- Question 3
- Question 4
- Question 5
- Question 6
- Question 7
- Question 8
- Question 9
- Question 10

സെർവർ കമ്പ്യൂട്ടറുകളെക്കുറിച്ചുള്ള ശരിയായ പ്രസ്താവന ചുവടെ നൽകിയവയിൽ നിന്ന് തിരഞ്ഞെടുക്കുക.

A ഒരു വെബ്സൈറ്റിന് ഒരു സെർവർ കമ്പ്യൂട്ടർ എന്ന ക്രമത്തിലാണ് ഇവ സ്ഥാപിച്ചിരിക്കുക.

C സെർവർ കമ്പ്യൂട്ടറുകളിൽ ഓഡിയോ ഫയലുകൾ മാത്രമാണ് സൂക്ഷിക്കുക.

B സെർവർ കമ്പ്യൂട്ടറുകളിൽ വീഡിയോ ഫയലുകൾ മാത്രമാണ് സൂക്ഷിക്കുക.

D ഒരു സെർവർ കമ്പ്യൂട്ടറിന് ഒന്നിലധികം വെബ്സൈറ്റുകളെ സൂക്ഷിക്കാൻ സാധിക്കും.

Question 1

Question 2

Question 3

Question 4

Question 5

Question 6

Question 7

Question 8

Question 9

Question 10

Admission_No	Name	Gender	Class
1234	ANIL	B	6
2345	SUNIL	B	7
4567	SUNITHA	G	6
7856	SUNITHA	G	7
7894	ANILA	G	6

ലിബർ ഓഫീസ് ഡാറ്റാബേസിന്റെ ഒരു ഭാഗമാണ് ചിത്രത്തിൽ കാണിച്ചിരിക്കുന്നത്. ഇതിൽ പച്ച നിറമുള്ള ചതുരമുപയോഗിച്ച് അടയാളപ്പെടുത്തിയിരിക്കുന്നതിനെ വിളിക്കുന്ന പേര് എന്താണ്?

A

റിക്കോർഡ്

B

ഫീൽഡ്

C

ടേബിൾ

D

ഫോറം

Question 1

Question 2

Question 3

Question 4

Question 5

Question 6

Question 7

Question 8

Question 9

Question 10

സൂൾ ലൈബ്രറിക്ക് വേണ്ടി ലിബർ ഓഫീസ് ബേസ് ഉപയോഗിച്ച് തയാറാക്കുന്ന ഒരു ടേബിളിലെ ഫീൽഡുകളും ഫീൽഡ് ടൈപ്പുകളുമാണ് ചുവടെ നൽകിയിരിക്കുന്നത്. ഇവയിൽ ശരിയല്ലാത്തത് ഏത്?

	Field Name	Field Type
	Book_No	Number [NUMERIC]
	Book_Name	Text [VARCHAR]
	Author_Name	Number [NUMERIC]
	Book_Price	Decimal [DECIMAL]

A Book_No - Number[NUMERIC]

B Book_Name - Text [VARCHAR]

C Author_Name - Number[Numeric]

D Book_Price - Decimal [DECIMAL]

Question 1

Question 2

Question 3

Question 4

Question 5

Question 6

Question 7

Question 8

Question 9

Question 10

സൺക്ലോക്ക് സോഫ്റ്റ്‌വെയർ തുറക്കുമ്പോൾ ലഭിക്കുന്ന ജാലകം ഏത്?

A

ക്ലോക്ക് ജാലകം

B

മാപ്പ് ജാലകം

C

ക്ലോക്ക് & മാപ്പ് ജാലകം

D

ലാൻഡ് വാട്ടർ ജാലകം

- Question 1
- Question 2
- Question 3
- Question 4
- Question 5
- Question 6
- Question 7
- Question 8
- Question 9
- Question 10

സൺക്ലോക്ക് സോഫ്റ്റ്‌വെയറിലെ ക്ലോക്ക്മാപ്പ് ജാലകത്തിൽ Y ബട്ടൺ തുടർച്ചയായി അമർത്തിയാൽ

A സൂര്യനേയും ചന്ദ്രനേയും പ്രത്യക്ഷമാക്കാനും അപ്രത്യക്ഷമാക്കാനും കഴിയും

B അക്ഷാംശരേഖകൾ പ്രത്യക്ഷമാക്കാനും അപ്രത്യക്ഷമാക്കാനും കഴിയും

C രേഖാംശരേഖകൾ പ്രത്യക്ഷമാക്കാനും അപ്രത്യക്ഷമാക്കാനും കഴിയും

D രാത്രിയുടേയും പകലിന്റെയും വേർതിരിവ് പ്രത്യക്ഷമാക്കാനും അപ്രത്യക്ഷമാക്കാനും കഴിയും

- Question 1
- Question 2
- Question 3
- Question 4
- Question 5

ഒരു കമ്പ്യൂട്ടർ പ്രോഗ്രാം സ്വതന്ത്ര സോഫ്റ്റ്‌വെയർ ആയിരിക്കാൻ താഴെ പറയുന്ന ഏതെല്ലാം കാര്യങ്ങൾ നിർബന്ധമാണ് ?

A പ്രോഗ്രാമിന്റെ സോഴ്സുകോഡ് ലഭ്യമായിരിക്കണം.

B പ്രോഗ്രാം സൗജന്യമായി ലഭ്യമാക്കിയിരിക്കണം.

C പ്രോഗ്രാം ശാ/ലിനക്സിൽ പ്രവർത്തിക്കണം.

D പ്രോഗ്രാമിന്റെ ഒബ്ജക്ട് കോഡ് സൗജന്യമായിരിക്കണം

E സോഴ്സുകോഡ് തിരുത്തി പുതിയത് നിർമ്മിക്കാൻ സാധിക്കണം.

[Click here to zoom Image](#)

- Question 1
- Question 2
- Question 3
- Question 4
- Question 5

റാസ്റ്റർ, വെക്ടർ ചിത്രങ്ങളെ സംബന്ധിച്ച ചില പ്രസ്താവനകൾ ചുവടെ കൊടുത്തിരിക്കുന്നു. ഇവയിൽ ശരിയായവ ഏതെല്ലാം ?

A റാസ്റ്റർ ചിത്രങ്ങൾ വലുതാക്കുമ്പോൾ വ്യക്തത നിലനിർത്തുന്നു

C വെക്ടർ ചിത്രങ്ങൾ വലുതാക്കുമ്പോൾ വ്യക്തത നിലനിർത്തുന്നു

E വെക്ടർ ചിത്രങ്ങൾ ആരംഭ ബിന്ദുവിനും അന്ത്യ ബിന്ദുവിനും ഇടയിൽ നിർവചിക്കുന്ന പാതയെ അടിസ്ഥാനമാക്കി നിർമ്മിക്കുന്നു

B ബിറ്റ്മാപ്പ് ചിത്രങ്ങൾ വെക്ടർ ചിത്രങ്ങൾ എന്നറിയപ്പെടുന്നു.

D റാസ്റ്റർ ചിത്രങ്ങൾ ആരംഭ ബിന്ദുവിനും അന്ത്യ ബിന്ദുവിനും ഇടയിൽ നിർവചിക്കുന്ന പാതയെ അടിസ്ഥാനമാക്കി നിർമ്മിക്കുന്നു

- Question 1
- Question 2
- Question 3
- Question 4
- Question 5

LibreOffice Writer ൽ തയ്യാറാക്കിയ റിപ്പോർട്ടിലെ ശീർഷകങ്ങൾക്ക് Apply Style Box ലെ Heading 1 എന്ന സ്റ്റൈൽ നൽകി. ഈ സ്റ്റൈലിന് മാറ്റം വരുത്തണം. ഇതിനുള്ള ശരിയായ പ്രവർത്തനഘട്ടങ്ങൾ ചുവടെ കൊടുത്തിട്ടുള്ളവയിൽ നിന്നും തിരഞ്ഞെടുക്കുക.

A **Format** മെനുവിൽ നിന്ന് **Styles and Formatting** ജാലകം തുറക്കുക.

C **Format** മെനുവിൽനിന്ന് **Character** ക്ലിക്ക് ചെയ്ത് മാറ്റങ്ങൾ വരുത്തുക.

E **Insert** മെനുവിൽ നിന്ന് **Indexes and Tables** ജാലകം തുറക്കുക.

B ശീർഷകമുൾപ്പെടുന്ന പാഠശ്രാഫ് മുഴുവനായി സെലക്ട് ചെയ്യുക

D **Heading 1** എന്ന സ്റ്റൈലിൽ റൈറ്റ് ക്ലിക്ക് ചെയ്ത് **Modify** സെലക്ട് ചെയ്യുക. മാറ്റങ്ങൾ വരുത്തുക.

- Question 1
- Question 2
- Question 3
- Question 4
- Question 5

Synfig Studio യിലെ Layer നെ സംബന്ധിച്ച ശരിയായ രണ്ട് പ്രസ്താവനകൾ ചുവടെ നൽകിയവയിൽ നിന്നും തിരഞ്ഞെടുക്കുക?

A ഉൾപ്പെടുത്തുന്ന എല്ലാ Object കളും വ്യത്യസ്ത ലെയറുകളിൽ ആയിരിക്കും.

C ഒരു Object നെ ഒഴിവാക്കുമ്പോൾ ആ ഒബ്ജക്ട് ഉൾപ്പെടുന്ന ലെയർ മാത്രം നഷ്ടപ്പെടുന്നു.

E Preview കാണുമ്പോൾ ഒരു ലെയർ മാത്രമേ ദൃശ്യമാവൂ.

B ഉൾപ്പെടുത്തുന്ന എല്ലാ Object കളും ഒരു ലെയറിൽ തന്നെ ആയിരിക്കും.

D ഏതെങ്കിലും ഒരു Object നെ ഒഴിവാക്കുമ്പോൾ എല്ലാ ലെയറുകളും നഷ്ടപ്പെടുന്നു.

- Question 1
- Question 2
- Question 3
- Question 4
- Question 5

കാസുകേഡിങ്ങ് സ്റ്റൈലുകളുമായി ബന്ധപ്പെട്ട ശരിയായ പ്രസ്താവനകൾ തിരഞ്ഞെടുക്കുക.

A **html ടാഗുകളുടേയും സവിശേഷതകളുടേയും ആവർത്തനം ഒഴിവാക്കാൻ സഹായിക്കുന്നു**

C എത്ര പാശ്ചാത്യകൾ ആവാം എന്ന് നിർണ്ണയിക്കുന്ന സംവിധാനമാണിത്

E **Mark-up ഭാഷയിലെ പേജ് എങ്ങനെ ദൃശ്യമാക്കണമെന്ന് പ്രതിപാദിക്കുന്നു**

B ചിത്രത്തിന്റെ നിറം പ്രതിപാദിക്കുകയാണ് ഇതിന്റെ ധർമ്മം

D ഉള്ളടക്കം എങ്ങനെ പ്രിന്റ് ചെയ്യണം എന്ന് നിർണ്ണയിക്കുന്ന സംവിധാനമാണിത്

- Question 1
- Question 2
- Question 3
- Question 4
- Question 5
- Question 6
- Question 7
- Question 8
- Question 9
- Question 10

വേൾഡ് വൈഡ് വെബിന്റെ ഉപജ്ഞാതാവ് ആര്?

[Click here to zoom image](#)

A ലിനസ് ടോർവാൾഡ്സ്

C ടിം ബെർണേഴ്സ് ലി

B റിച്ചാർഡ് മാത്യൂ സ്റ്റാൾമാൻ

D ഡൊണാൾഡ് ക്നുത്ത്

0 out of 10 questions answered

Question 1

Question 2

Question 3

Question 4

Question 5

Question 6

Question 7

Question 8

Question 9

Question 10

വെബ് വിലാസങ്ങളുമായി ബന്ധപ്പെട്ട് DNS എന്നതിന്റെ പൂർണ്ണരൂപം എന്ത്?

A

Domain Name Server

B

Domain Network Server

C

Data Name Server

D

Data Network Server

0 out of 10 questions answered

Question 1

Question 2

Question 3

Question 4

Question 5

Question 6

Question 7

Question 8

Question 9

Question 10

ഒരു രാജ്യം മുഴുവൻ വ്യാപിച്ചുകിടക്കുന്ന കമ്പ്യൂട്ടറുകളെ പരസ്പരം ബന്ധിപ്പിക്കുന്ന നെറ്റ്‌വർക്കിന് പറയുന്ന പേരെന്താണ്?

A WAN

B LAN

C MAN

D RAM

- Question 1
- Question 2
- Question 3
- Question 4
- Question 5
- Question 6
- Question 7
- Question 8
- Question 9
- Question 10

കമ്പ്യൂട്ടറിൽ വിവരങ്ങൾ പ്രൊസസ് ചെയ്യുന്നതും സൂക്ഷിക്കുന്നതും ഏതു രൂപത്തിലാണ്?

A ഡിജിറ്റൽ

B അനലോഗ്

C ഡെസിമൽ

D RF തരംഗം

Question 1

Question 2

Question 3

Question 4

Question 5

Question 6

Question 7

Question 8

Question 9

Question 10

താഴെ കൊടുത്തിരിക്കുന്നവയിൽ ഒരു ഓൺലൈൻ ഭൂപടസംവിധാനം ഏത് ?

A ഗൂഗിൾ മാപ്പ്സ്

B ജിയോജിബ്ര

C സൺക്ലോക്ക്

D വിക്രിപീഡിയ

- Question 1
- Question 2
- Question 3
- Question 4
- Question 5
- Question 6**
- Question 7
- Question 8
- Question 9
- Question 10

സൺക്ലോക്ക് സോഫ്റ്റ്‌വെയർ മെനുവിലെ G ബട്ടൺ ഉപയോഗിക്കുന്നതെന്തിന്?

A ക്ലോക്ക് & മാപ്പ് ജാലകം
വ്യത്യാസപ്പെടുത്താൻ

B അഡ്ജസ്റ്റ് പ്രോഗ്രസ് വാല്യൂ നിരക്ക്
വ്യത്യാസപ്പെടുത്താൻ

C സൂര്യനെയും ചന്ദ്രനെയും
പ്രത്യക്ഷമാക്കാൻ

D രേഖാംശരേഖകളെ
പ്രത്യക്ഷമാക്കാൻ

0 out of 10 questions answered

Question 1

Question 2

Question 3

Question 4

Question 5

Question 6

Question 7

Question 8

Question 9

Question 10

ചൈത്തൻ ഗ്രാഫിക്സ് പ്രോഗ്രാമിൽ 150 യൂണിറ്റ് നീളമുള്ള വര വരയ്ക്കാൻ ഉപയോഗിക്കാവുന്ന നിർദ്ദേശം ഏതാണ്?

A rt(150)

C fd(150)

B lt(150)

D left(150)

Question 1

Question 2

Question 3

Question 4

Question 5

Question 6

Question 7

Question 8

Question 9

Question 10

```
from turtle import *
for i in range(3):
    forward(50)
    right(120)
```

ഈ പൈത്തൺ പ്രോഗ്രാമിൽ for i in range(3): എന്ന നിർദ്ദേശം എന്തിനുള്ളതാണ് ?

A

3 ചതുരങ്ങൾ വരക്കാൻ

C

for ലൂപ്പിനുള്ള നിർദ്ദേശങ്ങൾ 3
തവണ ആവർത്തിക്കാൻ

B

3 യൂണിറ്റ് നീളമുള്ള വര വരക്കാൻ

D

for ലൂപ്പിനുള്ള നിർദ്ദേശങ്ങൾ 4
തവണ ആവർത്തിക്കാൻ

- Question 1
- Question 2
- Question 3
- Question 4
- Question 5
- Question 6
- Question 7
- Question 8
- Question 9
- Question 10

ലിബർ ഓഫീസ് ബേസിന്റെ പട്ടികയിൽ പുസ്തകത്തിന്റെ പേര് രേഖപ്പെടുത്തുന്നതിന് ഉപയോഗിക്കാവുന്ന ഫീൽഡ് ടൈപ്പ് ഏതാണ്?

A Decimal[DECIMAL]

B Text[VARCHAR]

C Image[LONGVARBINARY]

D Number [NUMERIC]

- Question 1
- Question 2
- Question 3
- Question 4
- Question 5
- Question 6
- Question 7
- Question 8
- Question 9
- Question 10**

ചുവടെ നൽകിയിരിക്കുന്നവയിൽ ലിബർക്കാഫീസ് ബേസിക് ഫോം (Forms) നിർമ്മാണവുമായി ബന്ധമില്ലാത്ത പ്രവർത്തനം ഏത് ?

A Use Wizard to Create Form
വഴി ഫോം തയ്യാറാക്കുക.

B Arrange controls എന്നതിൽ നിന്നും അനുയോജ്യമായ Arrangement തിരഞ്ഞെടുക്കുക

C Apply Style എന്നതിൽ നിന്നും ഉചിതമായ Style തിരഞ്ഞെടുക്കുക.

D Create Table In Design View
വഴി ഫോം തയ്യാറാക്കുക.

- Question 1
- Question 2
- Question 3
- Question 4
- Question 5

png ഫോർമാറ്റിലുള്ള ഒരു ചിത്രം ജിമ്പ് സോഫ്റ്റ്‌വെയറിൽ തുറക്കുന്നു. ഇതിനെ സംബന്ധിച്ച ശരിയായ രണ്ട് പ്രസ്താവനകൾ ചുവടെ നൽകിയവയിൽ നിന്നും കണ്ടെത്തുക.

A ചിത്രത്തിന്റെ യഥാർത്ഥ വലുപ്പത്തിൽ നിന്ന് വളരെ കൂടിയ വലുപ്പത്തിലായിരിക്കും png ചിത്രം തുറന്നു വരുന്നത്.

C ചിത്രത്തിന്റെ കാൻവാസ് വലുപ്പം മാറ്റാൻ സാധിക്കുന്നു.

E ചിത്രത്തിന്റെ യഥാർത്ഥ നിറം നഷ്ടപ്പെടുന്നു.

B വലുപ്പം കൂടിയ കാൻവാസിലേക്ക് മാറ്റുന്നതോടും ചിത്രത്തിന്റെ വ്യക്തത വർദ്ധിക്കുന്നു.

D വലുപ്പം കൂടിയ കാൻവാസിലേക്ക് മാറ്റുന്നതോടും ചിത്രത്തിന്റെ വ്യക്തത നഷ്ടപ്പെടുന്നു.

- Question 1
- Question 2
- Question 3
- Question 4
- Question 5

p.blue

```
{font-family:verdana; color:blue; font-size:20px;}
```

ഈ നിർദ്ദേശത്തെക്കുറിച്ച് താഴെ കൊടുത്തിട്ടുള്ളവയിൽ നിന്ന് ശരിയായ പ്രസ്താവനകൾ കണ്ടെത്തുക

A ഇത് ഒരു ക്ലാസ്സ് സെലക്ടർ ആണ്.

B ഇത് ഒരു എലമെന്റ് സെലക്ടർ ആണ്.

C ഇതിൽ blue എന്നത് ക്ലാസ്സ് ആണ്.

D ഇതിൽ blue എന്നത് എലമെന്റ് ആണ്.

E ഇതിലെ സവിശേഷതകൾ ഉൾപ്പെടുത്തുന്നതിന് <p.blue="class"> എന്ന ടാഗുപയോഗിക്കണം

- Question 1
- Question 2
- Question 3
- Question 4
- Question 5

Synfig Studio ൽ ലെയറുകളെ സംബന്ധിച്ച് ചുവടെ നൽകിയിരിക്കുന്നവയിൽ നിന്ന് ശരിയായ പ്രസ്താവനകൾ തിരഞ്ഞെടുക്കുക.

A ലെയറുകൾ പ്രദർശിപ്പിക്കുന്നത് ടൈംടാക് പാനലിലാണ്.

C പുതിയ ലെയറുകൾ നിർമ്മിക്കാൻ സാധിക്കില്ല.

E പാനലിലുള്ള ലെയറുകളെ ആവശ്യാനുസരണം ഗ്രൂപ്പ് ചെയ്യാൻ സാധിക്കും.

B പാനലിലുള്ള ലെയറുകളുടെ ക്രമം മാറ്റാൻ സാധിക്കില്ല.

D പാനലിലുള്ള ലെയറുകളുടെ ക്രമം മാറ്റാൻ സാധിക്കും.

- Question 1
- Question 2
- Question 3
- Question 4
- Question 5

സ്വതന്ത്ര സോഫ്റ്റ്‌വെയറുകളെ സംബന്ധിച്ച് ചുവടെ കൊടുത്തിട്ടുള്ളവയിൽ നിന്ന് ശരിയായ രണ്ട് പ്രസ്താവനകൾ തിരഞ്ഞെടുക്കുക

A അവയുടെ സോഴ്സ് കോഡുകൾ ഉപയോക്താവിന് ലഭ്യമാക്കണം

C അവയുടെ സോഴ്സ് കോഡുകളിൽ ഉപയോക്താവിന് മാറ്റം വരുത്താം

E അവയുടെ പകർപ്പുകൾ എടുക്കാൻ ഉപയോക്താവിന് അനുമതിയില്ല

B അവയുടെ ഒബ്ജക്ട് കോഡുകൾ ഉപയോക്താവിന് ലഭിക്കുകയില്ല

D അവ എല്ലാ ഓപ്പറേറ്റിങ് സിസ്റ്റങ്ങളിലും പ്രവർത്തിപ്പിക്കാൻ സാധിക്കണം.

- Question 1
- Question 2
- Question 3
- Question 4
- Question 5

school_report.odt എന്ന ഫയലിലെ ശീർഷകങ്ങൾ ഒരു ഫോർമാറ്റിലാക്കണം. ലിബർഓഫീസ് റൈറ്ററിൽ ഇതിനപയോഗിക്കാവുന്ന മാർഗ്ഗങ്ങൾ ചുവടെ കൊടുത്തിട്ടുള്ളവയിൽ നിന്ന് തിരഞ്ഞെടുക്കുക.

A ശീർഷകങ്ങൾ സെലക്ട് ചെയ്ത് Apply Style Box ൽ നിന്നും Heading 1 ക്ലിക്ക് ചെയ്യുക.

C Ctrl കീ അമർത്തി ശീർഷകത്തിൽ ക്ലിക്ക് ചെയ്യുക.

E ഒരു ശീർഷകം ഫോർമാറ്റ് ചെയ്ത് സെലക്ട് ചെയ്യുക. Clone Formatting ടൂൾ ഡബ്ബിൾ ക്ലിക്ക് ചെയ്ത് മറ്റ് ശീർഷകത്തിൽ സെലക്ട് ചെയ്യുക.

B Insert മെനുവിലെ Indexes and Tables ജാലകം തുറന്ന ശേഷം മാറ്റങ്ങൾ വരുത്തുക.

D Insert മെനുവിൽ നിന്നും Fields, More Fields എന്ന ക്രമത്തിൽ ക്ലിക്ക് ചെയ്യുക.

- Question 1
- Question 2
- Question 3
- Question 4
- Question 5
- Question 6
- Question 7
- Question 8
- Question 9
- Question 10

വെബ്സൈറ്റുകളുമായി ബന്ധപ്പെട്ട ശരിയായ പ്രസ്താവന ചുവടെ നൽകിയവയിൽ നിന്നും തിരഞ്ഞെടുക്കുക

[Click here to zoom Image](#)

A ഒരു വെബ്സൈറ്റിനതന്നെ ഒന്നിലധികം IP വിലാസങ്ങൾ ഉണ്ടായിരിക്കാം.

C വെബ് വിലാസങ്ങളെ ഐ. പി. വിലാസങ്ങളായി മാറ്റിയെടുക്കാൻ സംവിധാനമില്ല.

B ഒരു വെബ്സൈറ്റിന് ഒരു IP വിലാസം മാത്രമാണുള്ളത്.

D IP വിലാസങ്ങളെ ഓർക്കാൻ എളുപ്പമുള്ള പേരുകളായി മാറ്റാൻ സാധ്യമല്ല.

0 out of 10 questions answered

Question 1

Question 2

Question 3

Question 4

Question 5

Question 6

Question 7

Question 8

Question 9

Question 10

<https://www.itschool.gov.in/2017/std5malayalam.pdf> എന്ന URL ലുമായി

ബന്ധപ്പെട്ട്, താഴെ പറയുന്നവയിൽ നിന്നും ശരിയായ പ്രസ്താവന കണ്ടെത്തുക

A ഫയൽ കൈമാറ്റസങ്കേതമായി ഉപയോഗിച്ചിരിക്കുന്നത് **gov.in** ആണ്

B ഫയൽ കൈമാറ്റസങ്കേതമായി ഉപയോഗിച്ചിരിക്കുന്നത് **https** ആണ്

C ഫയൽ കൈമാറ്റസങ്കേതമായി ഉപയോഗിച്ചിരിക്കുന്നത് **www** ആണ്

D ഫയൽ കൈമാറ്റസങ്കേതമായി ഉപയോഗിച്ചിരിക്കുന്നത് **pdf** ആണ്

Question 1

Question 2

Question 3

Question 4

Question 5

Question 6

Question 7

Question 8

Question 9

Question 10

ഒരു മുറിക്കുള്ളിലെയോ കെട്ടിടത്തിനുള്ളിലെയോ കമ്പ്യൂട്ടറുകളെ അന്യോന്യം ബന്ധിപ്പിക്കുന്ന സംവിധാനത്തിന് പറയുന്ന പേരെന്താണ്?

A

WAN

B

LAN

C

MAN

D

RAM

- Question 1
- Question 2
- Question 3
- Question 4
- Question 5
- Question 6
- Question 7
- Question 8
- Question 9
- Question 10

താഴെകൊടുത്തവയിൽ UTP നെറ്റ്‌വർക്ക് കേബിൾ വയറുകളിൽ കാണപ്പെടുന്ന നിറ ഏതാണ്?

A ചുവപ്പ്

B പിങ്ക്

C ഓറഞ്ച്

D കറുപ്പ്

- Question 1
- Question 2
- Question 3
- Question 4
- Question 5**
- Question 6
- Question 7
- Question 8
- Question 9
- Question 10

താഴെ തന്നിരിക്കുന്നവയിൽ ഡാറ്റാബേസ് മാനേജ്മെന്റ് സിസ്റ്റവുമായി ബന്ധപ്പെട്ട ശരിയായ പ്രസ്താവന എഴുതുക ?

A വിവരങ്ങൾ ഒരു പട്ടികയിൽ മാത്രം സൂക്ഷിക്കണം.

B പട്ടികകളായി സൂക്ഷിച്ച വിവരങ്ങളുമായി നേരിട്ട് സംവദിക്കാനാവില്ല.

C പട്ടികകളായി സൂക്ഷിച്ച വിവരങ്ങൾ ഇഷ്യാനുസരണം ലഭ്യമാക്കാനാവില്ല.

D പട്ടികകളായി സൂക്ഷിച്ച വിവരങ്ങൾ പിന്നീട് മാറ്റം വരുത്താനാവില്ല.

Question 1

Question 2

Question 3

Question 4

Question 5

Question 6

Question 7

Question 8

Question 9

Question 10

സൂൾ ലൈബ്രറിക്ക് വേണ്ടി ലിബർ ഓഫീസ് ബേസ് ഉപയോഗിച്ച് തയാറാക്കുന്ന ഒരു ടേബിളിലെ ഫീൽഡുകളും ഫീൽഡ് ടൈപ്പുകളുമാണ് ചുവടെ നൽകിയിരിക്കുന്നത്. ഇവയിൽ ശരിയല്ലാത്തത് ഏത്?

	Field Name	Field Type
	Book_No	Number [NUMERIC]
	Book_Name	Text [VARCHAR]
	Author_Name	Number [NUMERIC]
	Book_Price	Decimal [DECIMAL]

A Book_No - Number[NUMERIC]

B Book_Name - Text [VARCHAR]

C Author_Name - Number[Numeric]

D Book_Price - Decimal [DECIMAL]

0 out of 10 questions answered

Question 1

Question 2

Question 3

Question 4

Question 5

Question 6

Question 7

Question 8

Question 9

Question 10

പൈത്തൺ ഗ്രാഫിക്സിൽ നിർമ്മിക്കുന്ന ജ്യോമിതീയ രൂപങ്ങൾക്ക് നിറങ്ങൾ ലഭിക്കുന്നതിനുള്ള നിർദ്ദേശം ഏത്?

A

right()

C

forward()

B

backward()

D

color()

Question 1

Question 2

Question 3

Question 4

Question 5

Question 6

Question 7

Question 8

Question 9

Question 10

താഴെ തന്നിരിക്കുന്ന പ്രസ്താവനകളിൽ ശരിയായ പൈത്തൺ നിർദ്ദേശം ഏതാണ്?

A

```
for c in range(4)
```

C

```
for c in range(4)*
```

B

```
for c in range(4):
```

D

```
for c in range(4),
```


- Question 1
- Question 2
- Question 3
- Question 4
- Question 5
- Question 6
- Question 7
- Question 8
- Question 9
- Question 10

സൺക്ലോക്ക് സോഫ്റ്റ്‌വെയർ തുറക്കുമ്പോൾ ലഭിക്കുന്ന ജാലകം ഏത്?

A ക്ലോക്ക് ജാലകം

B മാപ്പ് ജാലകം

C ക്ലോക്ക് & മാപ്പ് ജാലകം

D ലാൻഡ് വാട്ടർ ജാലകം

- Question 1
- Question 2
- Question 3
- Question 4
- Question 5
- Question 6
- Question 7
- Question 8
- Question 9
- Question 10

സൺക്ലോക്ക് സോഫ്റ്റ്‌വെയറിലെ ക്ലോക്ക്മാപ്പ് ജാലകത്തിൽ T ബട്ടൺ തുടർച്ചയായി അമർത്തിയാൽ

A സൂര്യനേയും ചന്ദ്രനേയും പ്രത്യക്ഷമാക്കാനും അപ്രത്യക്ഷമാക്കാനും കഴിയും

C രേഖാംശരേഖകൾ പ്രത്യക്ഷമാക്കാനും അപ്രത്യക്ഷമാക്കാനും കഴിയും

B പ്രധാനഅക്ഷാംശരേഖകൾ പ്രത്യക്ഷമാക്കാനും അപ്രത്യക്ഷമാക്കാനും കഴിയും

D രാത്രിയുടേയും പകലിന്റെയും വേർതിരിവ് പ്രത്യക്ഷമാക്കാനും അപ്രത്യക്ഷമാക്കാനും കഴിയും

- Question 1
- Question 2
- Question 3
- Question 4
- Question 5

LibreOffice Writer ൽ തയ്യാറാക്കിയ റിപ്പോർട്ടിലെ ശീർഷകങ്ങൾക്ക് Apply Style Box ലെ Heading 1 എന്ന സ്റ്റൈൽ നൽകി. ഈ സ്റ്റൈലിന് മാറ്റം വരുത്തണം. ഇതിനുള്ള ശരിയായ പ്രവർത്തനഘട്ടങ്ങൾ ചുവടെ കൊടുത്തിട്ടുള്ളവയിൽ നിന്നും തിരഞ്ഞെടുക്കുക.

A **Format മെനുവിൽ നിന്ന് Styles and Formatting** ജാലകം തുറക്കുക.

C **Format മെനുവിൽനിന്ന് Character** ക്ലിക്ക് ചെയ്ത് മാറ്റങ്ങൾ വരുത്തുക.

E **Insert മെനുവിൽ നിന്ന് Indexes and Tables** ജാലകം തുറക്കുക.

B ശീർഷകമുൾപ്പെടുന്ന പാഠശ്രാഫ് മുഴുവനായി സെലക്ട് ചെയ്യുക

D **Heading 1 എന്ന സ്റ്റൈലിൽ റൈറ്റ് ക്ലിക്ക് ചെയ്ത് Modify** സെലക്ട് ചെയ്യുക. മാറ്റങ്ങൾ വരുത്തുക.

- Question 1
- Question 2
- Question 3
- Question 4
- Question 5

Synfig Studio ഉപയോഗിച്ച് തയ്യാറാക്കിയ രണ്ട് തരം ഫയലുകളാണ് birds.sifz, birds.flv എന്നിവ. ഇതുമായി ബന്ധപ്പെട്ട ശരിയായ രണ്ട് പ്രസ്താവനകൾ താഴെ കൊടുത്തിരിക്കുന്നവയിൽ നിന്നും കണ്ടെത്തുക

A Synfig Studio സോഫ്റ്റ്‌വെയറുപയോഗിച്ച് തയ്യാറാക്കിയ പ്രോജക്ട് ഫയലാണ് birds.sifz

C വീഡിയോ ഫയലായി എക്സ്‌പോർട്ട് ചെയ്തതാണ് birds.sifz

E Synfig Studio സോഫ്റ്റ്‌വെയറുപയോഗിച്ച് തയ്യാറാക്കിയ പ്രോജക്ട് ഫയലാണ് birds.flv

B pdf ആയി എക്സ്‌പോർട്ട് ചെയ്തതാണ് birds.sifz

D വീഡിയോ ഫയലായി എക്സ്‌പോർട്ട് ചെയ്തതാണ് birds.flv

- Question 1
- Question 2
- Question 3
- Question 4
- Question 5

Internal കാസ്കേഡിങ്ങ് സ്റ്റൈൽ ഉൾപ്പെടുത്താൻ html നിർദ്ദേശങ്ങളിൽ വരുത്തേണ്ട മാറ്റങ്ങൾ താഴെ കൊടുക്കുന്നു. ശരിയായ പ്രസ്താവനകൾ തിരഞ്ഞെടുക്കുക.

A ഫയലിന് style.css എന്ന പേര് കൊടുക്കുക

C <head> ടാഗിനുള്ളിൽ <style> ടാഗ് ഉൾപ്പെടുത്തുക

E ഉള്ളടക്കത്തിൽ വേണ്ട ടാഗിന് ശേഷം, സവിശേഷതകൾ { } ൽ ഉൾപ്പെടുത്തുന്നു

B <body> ടാഗിനുള്ളിൽ <style> ടാഗ് ഉൾപ്പെടുത്തുക

D <title> ടാഗിനുള്ളിൽ <style> ടാഗ് ഉൾപ്പെടുത്തുക

- Question 1
- Question 2
- Question 3
- Question 4
- Question 5

ഒരു കമ്പ്യൂട്ടർ പ്രോഗ്രാം സ്വതന്ത്ര സോഫ്റ്റ്‌വെയർ ആയിരിക്കാൻ താഴെ പറയുന്ന ഏതെല്ലാം കാര്യങ്ങൾ നിർബന്ധമാണ് ?

A പ്രോഗ്രാമിന്റെ സോഴ്സുകോഡ് ലഭ്യമായിരിക്കണം.

C പ്രോഗ്രാം ശു /ലിനക്സിൽ പ്രവർത്തിക്കണം.

E സോഴ്സുകോഡ് തിരുത്തി പുതിയത് നിർമ്മിക്കാൻ സാധിക്കണം.

B പ്രോഗ്രാം സൗജന്യമായി ലഭ്യമാക്കിയിരിക്കണം.

D പ്രോഗ്രാമിന്റെ ഒബ്ജക്ട് കോഡ് സൗജന്യമായിരിക്കണം

- Question 1
- Question 2
- Question 3
- Question 4
- Question 5

ഇക്സ്സെപ്റ്റ് ഉപയോഗിച്ച് ഒരു ചായക്കപ്പിന്റെ ചിത്രം വരക്കുന്നതിനു വേണ്ടി തയ്യാറാക്കിയ വർക്ക് ഷീറ്റിലെ ചില പ്രവർത്തന ഘട്ടങ്ങളാണ് ചുവടെ കൊടുത്തിരിക്കുന്നത്. ഇതിലെ ചില പ്രവർത്തന ഘട്ടങ്ങൾ തെറ്റാണ്. അവ ഏതൊക്കെ?

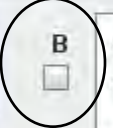
A വൃത്തം വരക്കുന്ന ടൂൾ ഉപയോഗിച്ച് ഒരു ദീർഘവൃത്തവും അതിനു മുകളിൽ ഒരു വൃത്തവും വരക്കുക.

C സെലക്ഷൻ ടൂളുപയോഗിച്ച് വൃത്തവും ദീർഘവൃത്തവും ഒരുമിച്ച് സെലക്ട് ചെയ്യുക.

E Path മെനുവിലെ Union ക്ലിക്ക് ചെയ്യുക

B സെലക്ഷൻ ടൂളുപയോഗിച്ച് വൃത്തം മാത്രം സെലക്ട് ചെയ്യുക.

D Path മെനുവിലെ Difference ക്ലിക്ക് ചെയ്യുക



- Question 1
- Question 2
- Question 3
- Question 4
- Question 5
- Question 6
- Question 7
- Question 8
- Question 9
- Question 10

സൺക്ലോക്ക് സോഫ്റ്റ്‌വെയറിലെ ക്ലോക്ക് & മാപ്പ് ജാലകത്തിൽ പ്രധാനഅക്ഷാംശരേഖകളെ പ്രത്യക്ഷമാക്കുന്നതിനും അപ്രത്യക്ഷമാക്കുന്നതിനും മെനുബാറിലെ ഏത് ടൂളാണ് ഉപയോഗിക്കുന്നത്?

[Click here to zoom In](#)

A M ബട്ടൺ

B N ബട്ടൺ

C Y ബട്ടൺ

D T ബട്ടൺ

- Question 1
- Question 2
- Question 3
- Question 4
- Question 5
- Question 6
- Question 7
- Question 8
- Question 9
- Question 10

Sunclock സോഫ്റ്റ്‌വെയറിൽ ഒരു പ്രദേശത്തിന്റെ സ്റ്റാൻഡേർഡ് സമയം പ്രദർശിപ്പിക്കുന്നതിന് ഉപയോഗിക്കുന്ന ടൂൾ ഏതാണ്?

A സോളാർ ടൈം മോഡ് (S)

B ലീഗൽ ടൈം മോഡ് (L)

C ടോഗിൾ നൈറ്റ് (N)

D ടോഗിൾ സൺ/മൂൺ (Y)

- Question 1
- Question 2
- Question 3
- Question 4
- Question 5
- Question 6
- Question 7
- Question 8
- Question 9
- Question 10

വിവരങ്ങൾ പരസ്പരം കൈമാറത്തക്ക വിധത്തിൽ കമ്പ്യൂട്ടറുകളെ ബന്ധിപ്പിക്കുന്ന സംവിധാനത്തിന്റെ പേരെന്ത്?

[Click here to zoom image](#)

A കമ്പ്യൂട്ടർ നെറ്റ്‌വർക്കിങ്ങ്


B ബ്ലോഗ്

C ഫയൽസിസ്റ്റം

D ഓപ്പറേറ്റിങ്ങ് സിസ്റ്റം

- Question 1
- Question 2
- Question 3
- Question 4
- Question 5
- Question 6
- Question 7
- Question 8
- Question 9
- Question 10

ചെലിഫോൺ ശൃംഖലയിലൂടെയോ മറ്റു കേബിൾ ശൃംഖലയിലൂടെയോ ഒരു നെറ്റ്‌വർക്കിൽ ഇന്റർനെറ്റ് സൗകര്യം ലഭ്യമാകുന്നതിന് നിർബന്ധമായും ഉണ്ടായിരിക്കേണ്ട ഉപകരണം ചുവടെ കൊടുത്തിട്ടുള്ളവയിൽ ഏതാണ്?



A മോഡം

B RJ 45

C RJ 11

D ഹബ്ബ്

- Question 1
- Question 2
- Question 3
- Question 4
- Question 5**
- Question 6
- Question 7
- Question 8
- Question 9
- Question 10

കുട്ടികളുടെ വിവരങ്ങൾ രേഖപ്പെടുത്തിയിരിക്കുന്ന ഒരു ഡാറ്റാബേസിൽ വരികളിൽ രേഖപ്പെടുത്തിയിരിക്കുന്ന വിവരങ്ങൾ ഏത് പേരിലാണ് അറിയപ്പെടുന്നത്?

A നിക്ഷേപങ്ങൾ.

B ഫീൽഡുകൾ

C ടേബിളുകൾ

D ഫോമുകൾ

- Question 1
- Question 2
- Question 3
- Question 4
- Question 5
- Question 6**
- Question 7
- Question 8
- Question 9
- Question 10

ലിബർ ഓഫീസ് ബേസിൽ ഫോമുകൾക്ക് അനുയോജ്യമായ ലേഔട്ടുകൾ നൽകുന്നതിന് ഉപയോഗിക്കാൻ പറ്റുന്ന പ്രവർത്തനം ഏത്?

A Arrange Controls

B Grouping

C Style Formatting

D Style fixing

- Question 1
- Question 2
- Question 3
- Question 4
- Question 5
- Question 6
- Question 7
- Question 8
- Question 9
- Question 10

വെബ്സൈറ്റുകളുമായി ബന്ധപ്പെട്ട ശരിയായ പ്രസ്താവന ചുവടെ നൽകിയവയിൽ നിന്നും തിരഞ്ഞെടുക്കുക

A ഒന്നോ അതിലധികമോ വെബ്പേജുകൾ ചേർന്നതാണ് ഒരു വെബ്സൈറ്റ്.

B ഒരു വെബ്സൈറ്റിനു ഒരു IP വിലാസം മാത്രമാണുള്ളത്.

C വെബ് വിലാസങ്ങളെ ഐ. പി. വിലാസങ്ങളായി മാറ്റിയെടുക്കാൻ സംവിധാനമില്ല.

D IP വിലാസങ്ങളെ ഓർക്കാൻ എളുപ്പമുള്ള പേരുകളായി മാറ്റാൻ സാധ്യമല്ല.

0 out of 10 questions answered

Question 1

Question 2

Question 3

Question 4

Question 5

Question 6

Question 7

Question 8

Question 9

Question 10

വെബ് വിലാസങ്ങളുമായി ബന്ധപ്പെട്ട് DNS എന്നതിന്റെ പൂർണ്ണരൂപം എന്ത്?

A

Domain Name Server

B

Domain Network Server

C

Data Name Server

D

Data Network Server

0 out of 10 questions answered

Question 1

Question 2

Question 3

Question 4

Question 5

Question 6

Question 7

Question 8

Question 9

Question 10

പൈത്തൺ ഗ്രാഫിക്സിൽ നിർമ്മിക്കുന്ന ജ്യോമിതീയ രൂപങ്ങൾക്ക് നിറങ്ങൾ ലഭിക്കുന്നതിനുള്ള നിർദ്ദേശം ഏതാണ്?

A

right()

C

forward()

B

backward()

D

color()

0 out of 10 questions answered

Question 1

Question 2

Question 3

Question 4

Question 5

Question 6

Question 7

Question 8

Question 9

Question 10

പൈത്തൺ പ്രോഗ്രാമുകളിൽ ആവർത്തന നിർദ്ദേശമായി ഉപയോഗിക്കുന്ന കമാന്റ് താഴെ തന്നിരിക്കുന്നവയിൽ ഏത്?

A

right()

C

range()

B

for

D

forward()

- Question 1
- Question 2
- Question 3
- Question 4
- Question 5

p.blue

```
{font-family:verdana; color:blue; font-size:20px;}
```

ഈ നിർദ്ദേശത്തെക്കുറിച്ച് താഴെ കൊടുത്തിട്ടുള്ളവയിൽ നിന്ന് ശരിയായ പ്രസ്താവനകൾ കണ്ടെത്തുക

[Click here to zoom image](#)

A ഇത് ഒരു ക്ലാസ്സ് സെലക്ടർ ആണ്.

C ഇതിൽ blue എന്നത് ക്ലാസ്സ് ആണ്.

E ഇതിലെ സവിശേഷതകൾ ഉൾപ്പെടുത്തുന്നതിന് <p.blue="class"> എന്ന ടാഗുപയോഗിക്കണം

B ഇത് ഒരു എലമെന്റ് സെലക്ടർ ആണ്.

D ഇതിൽ blue എന്നത് എലമെന്റ് ആണ്.

- Question 1
- Question 2
- Question 3
- Question 4
- Question 5

LibreOffice Writer ൽ തയ്യാറാക്കിയ റിപ്പോർട്ടിലെ ശീർഷകങ്ങൾക്ക് Apply Style Box ലെ Heading 1 എന്ന സ്റ്റൈൽ നൽകി. ഈ സ്റ്റൈലിന് മാറ്റം വരുത്തണം. ഇതിനുള്ള ശരിയായ പ്രവർത്തനഘട്ടങ്ങൾ ചുവടെ കൊടുത്തിട്ടുള്ളവയിൽ നിന്നും തിരഞ്ഞെടുക്കുക.

A **Format മെനുവിൽ നിന്ന് Styles and Formatting ജാലകം തുറക്കുക.**

C **Format മെനുവിൽനിന്ന് Character ക്ലിക്ക് ചെയ്ത് മാറ്റങ്ങൾ വരുത്തുക.**

E **Insert മെനുവിൽ നിന്ന് Indexes and Tables ജാലകം തുറക്കുക.**

B **ശീർഷകമുൾപ്പെടുന്ന പാഠശ്രാഫ് മുഴുവനായി സെലക്ട് ചെയ്യുക**

D **Heading 1 എന്ന സ്റ്റൈലിൽ റൈറ്റ് ക്ലിക്ക് ചെയ്ത് Modify സെലക്ട് ചെയ്യുക. മാറ്റങ്ങൾ വരുത്തുക.**

- Question 1
- Question 2
- Question 3
- Question 4
- Question 5

ഒരു കമ്പ്യൂട്ടർ പ്രോഗ്രാം സ്വതന്ത്ര സോഫ്റ്റ്‌വെയർ ആയിരിക്കാൻ താഴെ പറയുന്ന ഏതെല്ലാം കാര്യങ്ങൾ നിർബന്ധമാണ് ?

A പ്രോഗ്രാമിന്റെ സോഴ്സ് കോഡ് ലഭ്യമായിരിക്കണം.

C പ്രോഗ്രാം ശു / ലിനക്സിൽ പ്രവർത്തിക്കണം.

E സോഴ്സ് കോഡ് തിരുത്തി പുതിയത് നിർമ്മിക്കാൻ സാധിക്കണം.

B പ്രോഗ്രാം സൗജന്യമായി ലഭ്യമാക്കിയിരിക്കണം.

D പ്രോഗ്രാമിന്റെ ഒബ്ജക്ട് കോഡ് സൗജന്യമായിരിക്കണം.

- Question 1
- Question 2
- Question 3
- Question 4
- Question 5

റാസ്റ്റർ, വെക്ടർ ചിത്രങ്ങളെ സംബന്ധിച്ച ചില പ്രസ്താവനകൾ ചുവടെ കൊടുത്തിരിക്കുന്നു. ഇവയിൽ ശരിയായവ ഏതെല്ലാം ?

A റാസ്റ്റർ ചിത്രങ്ങൾ വലുതാക്കുമ്പോൾ വ്യക്തത നിലനിർത്തുന്നു

C വെക്ടർ ചിത്രങ്ങൾ വലുതാക്കുമ്പോൾ വ്യക്തത നിലനിർത്തുന്നു

E വെക്ടർ ചിത്രങ്ങൾ ആരംഭ ബിന്ദുവിനും അന്ത്യ ബിന്ദുവിനും ഇടയിൽ നിർവചിക്കുന്ന പാതയെ അടിസ്ഥാനമാക്കി നിർമ്മിക്കുന്നു

B ബിറ്റ്മാപ്പ് ചിത്രങ്ങൾ വെക്ടർ ചിത്രങ്ങൾ എന്നറിയപ്പെടുന്നു.

D റാസ്റ്റർ ചിത്രങ്ങൾ ആരംഭ ബിന്ദുവിനും അന്ത്യ ബിന്ദുവിനും ഇടയിൽ നിർവചിക്കുന്ന പാതയെ അടിസ്ഥാനമാക്കി നിർമ്മിക്കുന്നു

- Question 1
- Question 2
- Question 3
- Question 4
- Question 5

Synfig Studio ഉപയോഗിച്ച് തയ്യാറാക്കിയ രണ്ട് തരം ഫയലുകളാണ് birds.sifz, birds.flv എന്നിവ. ഇതുമായി ബന്ധപ്പെട്ട ശരിയായ രണ്ട് പ്രസ്താവനകൾ താഴെ കൊടുത്തിരിക്കുന്നവയിൽ നിന്നും കണ്ടെത്തുക

A Synfig Studio സോഫ്റ്റ്‌വെയറുപയോഗിച്ച് തയ്യാറാക്കിയ പ്രോജക്ട് ഫയലാണ് birds.sifz

C വീഡിയോ ഫയലായി എക്സ്‌പോർട്ട് ചെയ്തതാണ് birds.sifz

E Synfig Studio സോഫ്റ്റ്‌വെയറുപയോഗിച്ച് തയ്യാറാക്കിയ പ്രോജക്ട് ഫയലാണ് birds.flv

B pdf ആയി എക്സ്‌പോർട്ട് ചെയ്തതാണ് birds.sifz

D വീഡിയോ ഫയലായി എക്സ്‌പോർട്ട് ചെയ്തതാണ് birds.flv