

വാർഷിക മൂല്യനിർണ്ണയം 2015-16

പരിസരപഠനം

സമയം : 2 മണിക്കൂർ

സ്റ്റാൻഡേർഡ് - III

കൂട്ടിയുടെ പേര് .....

വിദ്യാലയത്തിന്റെ പേര് .....

ഡിവിഷൻ .....

രക്ഷിതാവിന്റെ ഒപ്പ് .....

അധ്യാപകന്റെ ഒപ്പ് .....

പ്രവർത്തനങ്ങൾ	നിലവാര സൂചിക
1	
2	
3	
4	
5	
6	
ഒാവറോൾ ഗ്രേഡ്	

പ്രവർത്തനം - 1

ചോദ്യം 1

- ഉണ്ണിക്കുട്ടൻ വെച്ച മനോഹരമായ ചിത്രം നോക്കൂ. ഈ ചെടിയുടെ ഭാഗങ്ങൾ അടയാളപ്പെടുത്തൂ.



**ചോദ്യം 2**

- ഈ ചെടിയുടെ ഭാഗങ്ങളും അവയുടെ ധർമ്മങ്ങളും എഴുതിയ പട്ടിക പൂർത്തിയാക്കൂ.

ഇല

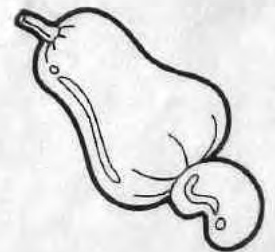
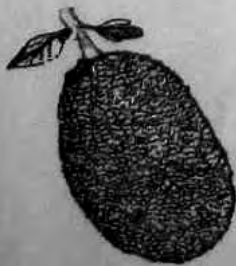
ഇലകളും പൂക്കളും കായ്കളും താങ്ങി നിർത്തുന്നു

വേര്

പുതിയ ചെടി ഉണ്ടാകാനുള്ള വിത്ത് സംരക്ഷിക്കുന്നു



**ചോദ്യം 3**

- ഉണ്ണിക്കുട്ടന് കൂട്ടുകാർ നൽകിയ പഴങ്ങളുടെ ചിത്രങ്ങൾ നോക്കൂ. ഇതിൽ ഒന്നിലധികം വിത്തുകൾ അടങ്ങിയ പഴങ്ങൾ കണ്ടെത്തി എഴുതൂ.



ചോദ്യം 1

- ഉണ്ണിക്കുട്ടന്റെ വീട്ടിലെ കിണറിലെ ജലം ഇപ്പോൾ കുടിക്കാൻ ഉപയോഗിക്കാറില്ല. ചിത്രത്തിലെ കിണറും പരിസരവും നിരീക്ഷിച്ച് കിണർജലം മലിനമാകാതിരിക്കാൻ ശ്രദ്ധിക്കേണ്ട കാര്യങ്ങൾ എന്തെല്ലാമെന്ന് എഴുതൂ.



ചോദ്യം 2

- ഉണ്ണിക്കുട്ടന്റെ ഗ്രാമത്തിൽ ഇത്തവണ കടുത്ത വരൾച്ച അനുഭവപ്പെട്ടു. ജലമില്ലാതായപ്പോൾ ആ ഗ്രാമത്തിലുള്ള ആളുകൾക്ക് എന്തെല്ലാം പ്രയാസങ്ങൾ അനുഭവപ്പെട്ടിട്ടുണ്ടാകും?



പ്രവർത്തനം - 3

ചോദ്യം 1

- പാഴ്വസ്തുക്കൾ നിക്ഷേപിക്കുന്നതിന് ഉണ്ണിക്കൂട്ടൻ രണ്ട് കുട്ടുകൾ തയ്യാറാക്കിയിട്ടുണ്ട്. വസ്തുക്കളുടെ പ്രത്യേകത അനുസരിച്ച് ഓരോ കുട്ടയിലും നിക്ഷേപിക്കുന്ന വസ്തുക്കൾ കണ്ടെത്തി എഴുതൂ.

വസ്തുക്കൾ
പ്ലാസ്റ്റിക് കുപ്പി
തെർമോക്കോൾ
അഴുകിയ പച്ചക്കറികൾ
തകരപ്പാട്ട
ചിഞ്ഞപഴം
പൊട്ടിയചെരുപ്പ്
പോളിയസ്റ്റർ വസ്ത്രങ്ങൾ
ആഹാര അവശിഷ്ടങ്ങൾ
കഞ്ഞിവെള്ളം
പൊട്ടിയകുപ്പി



**ചോദ്യം 2**

- മണ്ണിനെ സംരക്ഷിക്കുക എന്ന ആശയം പ്രചരിപ്പിക്കുന്നതിനുവേണ്ടി തയ്യാറാക്കിയ പോസ്റ്റർ ശ്രദ്ധിക്കൂ. ഇതിൽ രണ്ട് പോസ്റ്റർ വാക്യങ്ങൾ എഴുതിച്ചേർക്കൂ.



പ്രവർത്തനം - 4

**ചോദ്യം 1**

- പുത്രവാർത്ത ശ്രദ്ധിക്കൂ. റോഡ് അപകടങ്ങൾ സംഭവിക്കുന്നതിനുള്ള ഏതെങ്കിലും 4 കാരണങ്ങൾ എഴുതൂ.

കാരണങ്ങൾ

ബസ്സും റോറിയും കൂട്ടി ഇടിച്ച് 22 പേർക്ക് പരിക്ക്

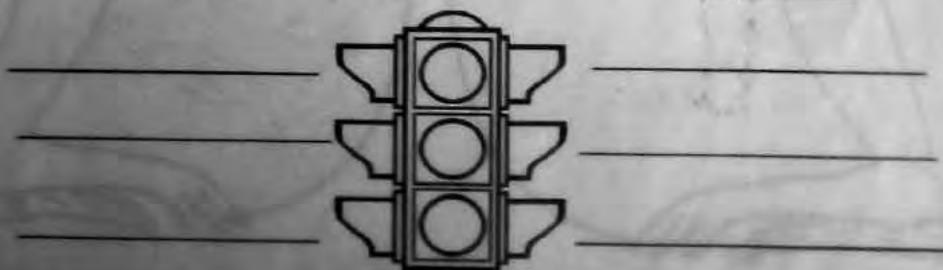
ദ്രോവപുരം വാഹനാപകടം: മരണ സംഖ്യ കൂടുമ്പോൾ

**ചോദ്യം 2**

- ഉണ്ണിക്കുട്ടൻ റോഡരികിൽ കണ്ട അടയാള വിളക്കിന്റെ ചിത്രം നോക്കൂ. ചിത്രത്തിൽ ശരിയായ നിറങ്ങളും സൂചനകളും രേഖപ്പെടുത്തൂ.

നിറങ്ങൾ

സൂചനകൾ



പ്രവർത്തനം - 5

ചോദ്യം 1

- ഉണ്ണിക്കുട്ടന്റെ ചിത്രപ്പതിപ്പിലെ ചില ചിത്രങ്ങളാണ് ചുവടെ കാണുന്നത്. ഇവയിൽ നിന്ന് നമ്മുടെ സംസ്ഥാനത്തിന്റെ ചില ഔദ്യോഗിക ചിഹ്നങ്ങൾ കണ്ടെത്തി എഴുതൂ.



- നമ്മുടെ സംസ്ഥാന മൃഗം - .....
- നമ്മുടെ സംസ്ഥാന പക്ഷി - .....
- നമ്മുടെ സംസ്ഥാന വൃക്ഷം - .....
- നമ്മുടെ സംസ്ഥാന പുഷ്പം - .....

- ഉണ്ണിക്കുട്ടൻ തന്റെ ജില്ലയെക്കുറിച്ചുള്ള കുറിപ്പ് തയ്യാറാക്കുന്ന ചിന്തയിലാണ്. നിങ്ങളുടെ ജില്ലയെക്കുറിച്ച് ഒരു കുറിപ്പ് തയ്യാറാക്കൂ.



ജില്ലയുടെ പേര്,  
ജില്ലാ ആസ്ഥാനം,  
ജില്ലയിലെ പ്രധാന സ്ഥലങ്ങൾ,  
പ്രധാന നദികൾ.....  
ഇവയൊക്കെ വേണം.

