

This Question Paper consists of 28 questions [Section-A (20) + Section-B (4+4)] and 12 printed pages.

इस प्रश्न-पत्र में 28 प्रश्न [ खण्ड-अ (20) + खण्ड-ब (4+4) ] तथा 12 मुद्रित पृष्ठ हैं।

Roll No. 

--	--	--	--	--	--	--	--	--	--	--	--

Code No. **54/HIS/2**  
कोड नं०

Set/सेट **A**

**GEOGRAPHY**  
**भूगोल**  
**(316)**

Day and Date of Examination .....  
(परीक्षा का दिन व दिनांक)

Signature of Invigilators 1. ....  
(निरीक्षकों के हस्ताक्षर)  
2. ....

**General Instructions :**

1. Candidate must write his/her Roll Number on the first page of the Question Paper.
2. Please check the Question Paper to verify that the total pages and total number of questions contained in the Question Paper are the same as those printed on the top of the first page. Also check to see that the questions are in sequential order.
3. Making any identification mark in the Answer-Book or writing Roll Number anywhere other than the specified places will lead to disqualification of the candidate.
4. Write your Question Paper Code No. 54/HIS/2, Set **A** on the Answer-Book.
5. (a) The Question Paper is in English/Hindi medium only. However, if you wish, you can answer in any one of the languages listed below :  
English, Hindi, Urdu, Punjabi, Bengali, Tamil, Malayalam, Kannada, Telugu, Marathi, Oriya, Gujarati, Konkani, Manipuri, Assamese, Nepali, Kashmiri, Sanskrit and Sindhi.  
You are required to indicate the language you have chosen to answer in the box provided in the Answer-Book.
- (b) If you choose to write the answer in the language other than Hindi and English, the responsibility for any errors/mistakes in understanding the questions will be yours only.

## सामान्य अनुदेश :

1. परीक्षार्थी प्रश्न-पत्र के पहले पृष्ठ पर अपना अनुक्रमांक अवश्य लिखें।
2. कृपया प्रश्न-पत्र को जाँच लें कि प्रश्न-पत्र के कुल पृष्ठों तथा प्रश्नों की उतनी ही संख्या है जितनी प्रथम पृष्ठ के सबसे ऊपर छपी है। इस बात की जाँच भी कर लें कि प्रश्न क्रमिक रूप में हैं।
3. उत्तर-पुस्तिका में पहचान-चिह्न बनाने अथवा निर्दिष्ट स्थानों के अतिरिक्त कहीं भी अनुक्रमांक लिखने पर परीक्षार्थी को अयोग्य ठहराया जायेगा।
4. अपनी उत्तर-पुस्तिका पर प्रश्न-पत्र का कोड नं० 54/HIS/2, सेट **A** लिखें।
5. (क) प्रश्न-पत्र केवल हिन्दी/अंग्रेजी में है। फिर भी, यदि आप चाहें तो नीचे दी गई किसी एक भाषा में उत्तर दे सकते हैं :

अंग्रेजी, हिन्दी, उर्दू, पंजाबी, बंगला, तमिल, मलयालम, कन्नड़, तेलुगू, मराठी, उड़िया, गुजराती, कोंकणी, मणिपुरी, असमिया, नेपाली, कश्मीरी, संस्कृत और सिन्धी।

कृपया उत्तर-पुस्तिका में दिए गए बॉक्स में लिखें कि आप किस भाषा में उत्तर लिख रहे हैं।

- (ख) यदि आप हिन्दी एवं अंग्रेजी के अतिरिक्त किसी अन्य भाषा में उत्तर लिखते हैं, तो प्रश्नों को समझने में होने वाली त्रुटियों/गलतियों की जिम्मेदारी केवल आपकी होगी।

# GEOGRAPHY

भूगोल

(316)

Time : 3 Hours ]

[ Maximum Marks : 80

समय : 3 घण्टे ]

[ पूर्णांक : 80

- Note :*
- (i) There are 24 questions in all.
  - (ii) All questions are compulsory.
  - (iii) Marks for each question are indicated against it.
  - (iv) Question Nos. **1** and **2** are on filling *Outline Maps of the World* and *India* respectively. Each question contains 4 test items of very short answers of *1 mark* each.
  - (v) Question Nos. **3** to **6** are very short answer questions carrying *1 mark* each. Answer to these questions should not exceed *30 words* each.
  - (vi) Question Nos. **7** to **11** and **21** & **22** are also very short answer questions carrying *2 marks* each. Answer to these questions should not exceed *60 words* each.
  - (vii) Question Nos. **12** to **15** and **23** & **24** are short answer questions carrying *4 marks* each. Answer to these questions should not exceed *100 words* each.
  - (viii) Question Nos. **16** to **20** are long answer questions of *6 marks* each. Answer of each of these questions should not exceed *140 words* each.
  - (ix) Use of templates or stencils for drawing outline maps in illustrating your answer is allowed.
  - (x) Answer of Question Nos. **21** to **24** of Section-B should be given from any *one* of the Options.

- निर्देश : (i) प्रश्नों की कुल संख्या 24 है।
- (ii) सभी प्रश्न अनिवार्य हैं।
- (iii) प्रत्येक प्रश्न के सामने उसके निर्धारित अंक दिए गए हैं।
- (iv) प्रश्न संख्या 1 और 2 क्रमशः संसार और भारत के रेखामानचित्रों के भरने पर हैं। प्रत्येक प्रश्न में अति लघु उत्तरों की 4 परीक्षण मर्दे 1-1 अंक की हैं।
- (v) प्रश्न संख्या 3 से 6 तक अति लघु उत्तरीय प्रश्न हैं और प्रत्येक प्रश्न का 1 अंक है। ऐसे प्रत्येक प्रश्न का उत्तर 30 शब्दों से अधिक का नहीं होना चाहिए।
- (vi) प्रश्न संख्या 7 से 11 तक और 21 तथा 22 भी अति लघु उत्तरीय प्रश्न हैं और प्रत्येक प्रश्न के 2 अंक हैं। इनमें से प्रत्येक प्रश्न का उत्तर 60 शब्दों से अधिक का नहीं होना चाहिए।
- (vii) प्रश्न संख्या 12 से 15 और 23 तथा 24 लघु उत्तरीय प्रश्न हैं, जिनमें से प्रत्येक के 4 अंक हैं। इनमें से प्रत्येक प्रश्न का उत्तर 100 शब्दों से अधिक का नहीं होना चाहिए।
- (viii) प्रश्न संख्या 16 से 20 तक दीर्घ-उत्तरीय प्रश्न हैं और प्रत्येक प्रश्न के 6 अंक हैं। ऐसे प्रत्येक प्रश्न का उत्तर 140 शब्दों से अधिक का नहीं होना चाहिए।
- (ix) अपने उत्तर को स्पष्ट करने हेतु रेखामानचित्र बनाने के लिए साँचों या स्टेंसिलों के प्रयोग की अनुमति दी जाती है।
- (x) खण्ड-ब में प्रश्न संख्या 21 से 24 तक के उत्तर किसी एक विकल्प में से दीजिए।

## SECTION-A

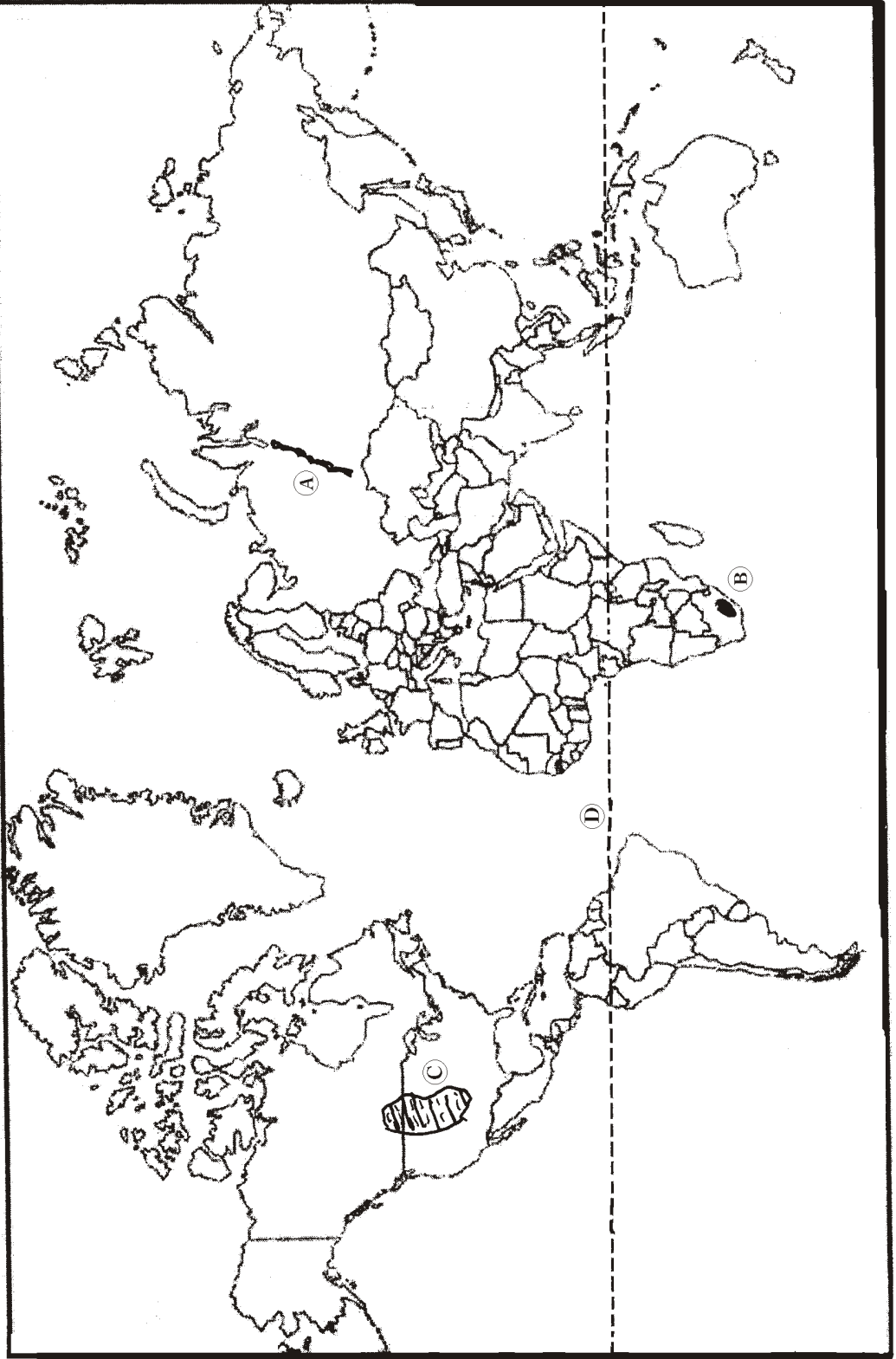
### खण्ड-अ

1. The following four geographical features are shown as (A), (B), (C) and (D) on the given Political Outline Map of the World. Identify these features with the help of the following information and write their correct names in your answer-book : 1×4=4

(A) A Mountain Range; (B) A Plateau; (C) Grasslands; (D) The Main Latitude

दिए गए संसार के राजनैतिक रेखामानचित्र में निम्नलिखित चार भौगोलिक लक्षणों को (A), (B), (C) और (D) के द्वारा दिखाया गया है। इन लक्षणों को निम्नलिखित जानकारी की मदद से पहचानिए और उनके सही नाम अपनी उत्तर-पुस्तिका में लिखिए :

(A) एक पर्वत श्रेणी; (B) एक पठार; (C) घासभूमियाँ; (D) मुख्य अक्षांश



2. The following four geographical features are shown as ①, ②, ③ and ④ on the given *Political Outline Map of India*. Identify these features with the help of the following information and write their correct names in your answer-book : 1×4=4

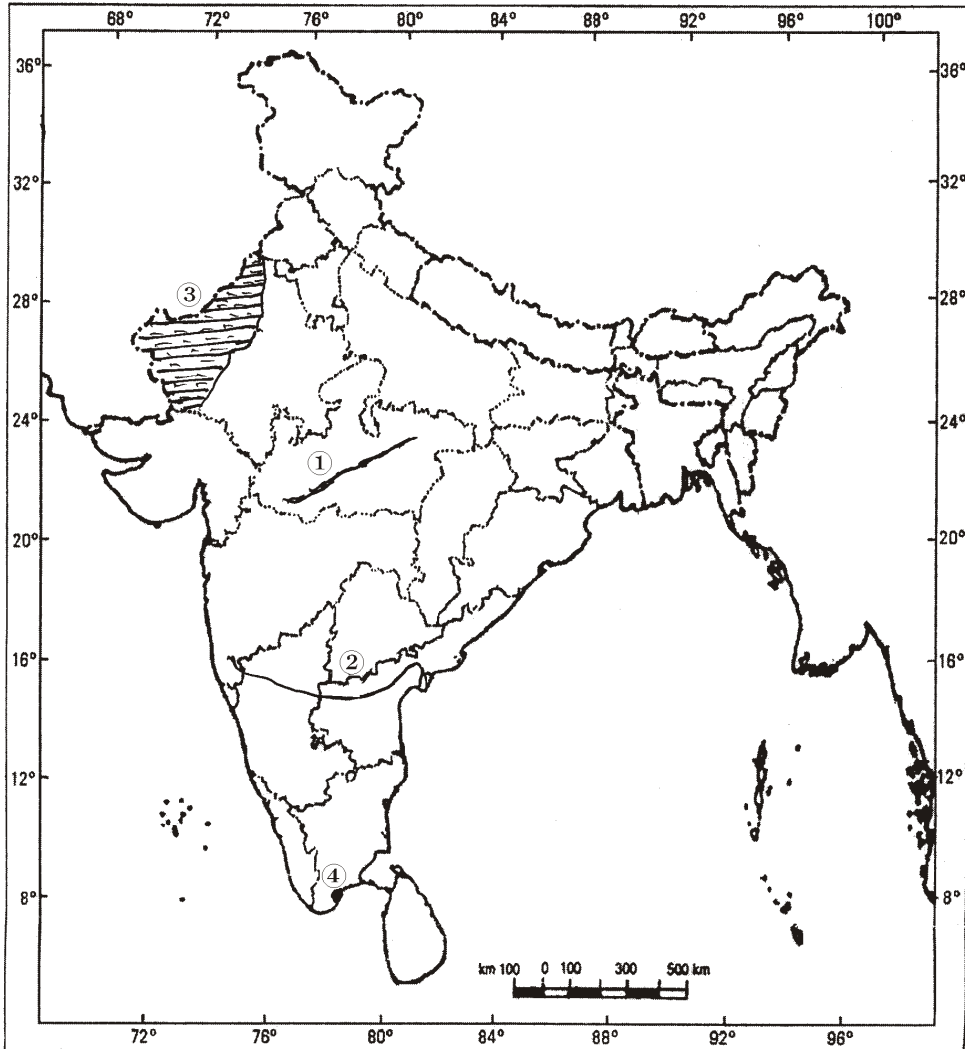
(1) A Mountain Range; (2) A River; (3) A Soil Type; (4) A Port

दिए गए भारत के राजनैतिक रेखामानचित्र में निम्नलिखित चार भौगोलिक लक्षणों को ①, ②, ③ और ④ के द्वारा दिखाया गया है। इन लक्षणों को नीचे दी गई जानकारी की मदद से पहचानिए और उनके सही नाम अपनी उत्तर-पुस्तिका में लिखिए :

(1) एक पर्वत श्रेणी; (2) एक नदी; (3) मृदा का प्रकार; (4) एक पत्तन

## INDIA-POLITICAL

## भारत-राजनैतिक



3. Define the term 'earthquake'.

‘भूकंप’ शब्द को परिभाषित कीजिए।

1

4. Mention any *two* topographical features made by glacial erosion.

$\frac{1}{2} + \frac{1}{2} = 1$

हिमानी अपरदन से बनी किन्हीं दो स्थलाकृतियों का उल्लेख कीजिए।

5. How is the birthrate measured?

1

जन्मदर का मापन किस प्रकार किया जाता है?

6. How is a long and healthy life measured?

1

स्वस्थ एवं दीर्घ जीवन का मापन किस प्रकार किया जाता है?

7. Which are the *four* factors responsible for bringing variation in the regulation and the size of tides?

$\frac{1}{2} \times 4 = 2$

ज्वार-भाटा के समय और आकार में परिवर्तन लाने के लिए कौन-से चार कारक उत्तरदायी हैं?

8. What are the latitudinal and longitudinal extents of the mainland of India?

$1 + 1 = 2$

भारत की मुख्य भूमि के अक्षांशीय और देशांतरीय विस्तार क्या हैं?

9. Describe any *two* importances of river linkages.

2

नदी संयोजनों के किन्हीं दो महत्त्वों का वर्णन कीजिए।

10. Name any *two* important renewable and pollution-free sources of energy. 1+1=2

ऊर्जा के किन्हीं दो महत्वपूर्ण नवीकरणीय एवं प्रदूषण-मुक्त स्रोतों के नाम लिखिए।

11. Differentiate between the wave height and wavelength. 2

तरंग की ऊँचाई और तरंग की लम्बाई में विभेद कीजिए।

12. Explain any *four* characteristics of the most important layer of the atmosphere. 1×4=4

वायुमण्डल की सबसे महत्वपूर्ण परत की किन्हीं चार विशेषताओं को स्पष्ट कीजिए।

13. Why do cold deserts have low productivity? Explain any *four* reasons responsible for it. 1×4=4

ठण्डे मरुस्थलों में निम्न उत्पादकता क्यों पायी जाती है? इसके लिए उत्तरदायी किन्हीं चार कारणों की व्याख्या कीजिए।

14. "Geography is an integrating science." Justify the statement with examples. 4

“भूगोल एक अन्तर्सम्बन्धित विज्ञान है।” इस कथन को उदाहरणों सहित न्यायसंगत ठहराइए।

15. Study the map given below showing average annual rainfall in India carefully and answer the questions that follow : 1+3=4

(a) Which *two* major regions receive less than 20 cm of annual rainfall?

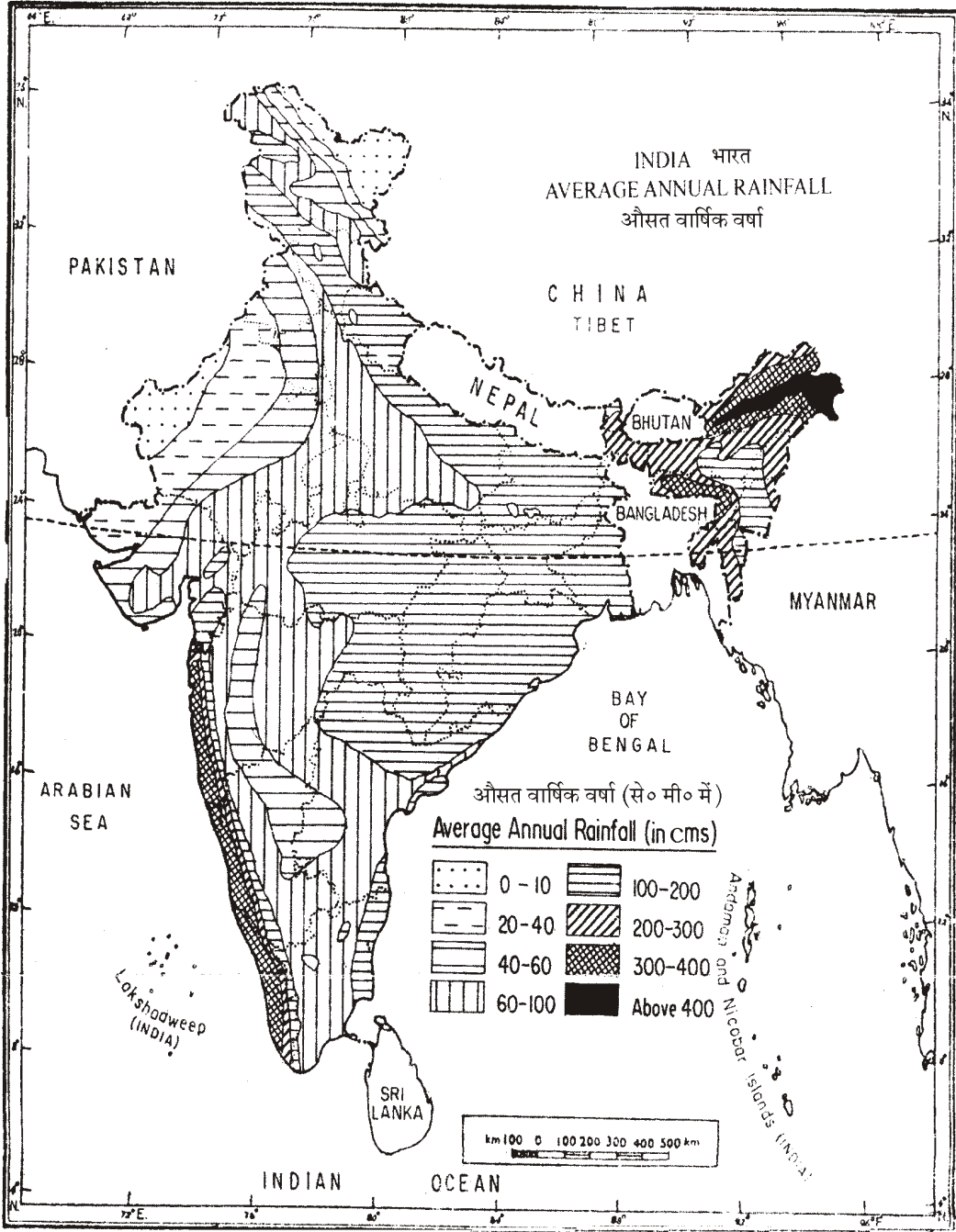
(b) Why do these regions receive less annual rainfall? Explain any *two* reasons.



नीचे दिए गए मानचित्र का सावधानीपूर्वक अध्ययन कीजिए, जिसमें भारत में औसत वार्षिक वर्षा को दिखाया गया है, और निम्नलिखित प्रश्नों के उत्तर लिखिए :

(क) कौन-से दो प्रमुख क्षेत्र 20 से० मी० से कम वार्षिक वर्षा प्राप्त करते हैं?

(ख) ये क्षेत्र कम वार्षिक वर्षा क्यों प्राप्त करते हैं? कोई दो कारण स्पष्ट कीजिए।



16. Describe any six factors affecting the climate of a region. 1×6=6

किसी क्षेत्र की जलवायु को प्रभावित करने वाले किन्हीं छः कारकों का वर्णन कीजिए।

17. Describe the distribution pattern of tribal population in India. 6

भारत में जनजातीय जनसंख्या के वितरण के प्रतिरूप का वर्णन कीजिए।

18. How are igneous rocks formed? Explain with suitable examples. 6

आग्नेय शैलों का निर्माण किस प्रकार होता है? उपयुक्त उदाहरणों सहित स्पष्ट कीजिए।

19. Explain any six features of policies and programmes formulated by the Government of India for conservation of our biotic and abiotic resources. 1×6=6

हमारे जैविक और अजैविक संसाधनों के संरक्षण के लिए भारत सरकार द्वारा बनाई गई नीतियों और कार्यक्रमों की किन्हीं छः विशेषताओं की व्याख्या कीजिए।

20. Explain any six major issues for the development of agriculture in India. 1×6=6

भारत में कृषि-विकास के किन्हीं छः प्रमुख मुद्दों को स्पष्ट कीजिए।

## SECTION-B

खण्ड-ब

OPTION-I / विकल्प-I

( Local Area Planning )

( स्थानीय क्षेत्र नियोजन )

21. Describe the utility of maps in managing the local area planning. 2

स्थानीय क्षेत्र नियोजन के प्रबंधन में मानचित्रों की उपयोगिता का वर्णन कीजिए।

22. How do the attributes of a local area reflect strong bonds of association with the location and people? Explain with example. 2

स्थानीय क्षेत्र की विशेषताएँ किस प्रकार स्थान और लोगों के साथ सम्बन्ध के शक्तिशाली बन्धन को प्रतिबिम्बित करती हैं? उदाहरण सहित स्पष्ट कीजिए।

23. What are slums? Describe the living conditions in slums. 2+2=4

गंदी बस्तियाँ क्या हैं? गंदी बस्तियों में रहने की दशाओं का वर्णन कीजिए।

24. Explain any four steps involved in secondary data collection. 1×4=4

द्वितीयक आँकड़ों के एकत्रीकरण में शामिल किन्हीं चार सोपानों को स्पष्ट कीजिए।

( **Geography of Tourism in India** )

( भारत में पर्यटन भूगोल )

21. Mention the contribution of Mohammad Hameed as a traveller tourist. 2

पर्यटक यात्री के रूप में मोहम्मद हमीद के योगदान का उल्लेख कीजिए।

22. "Wetlands are no longer considered as wastelands." Support this statement with an example. 2

“आर्द्रभूमियाँ अब ऊसरभूमियाँ नहीं समझी जाती हैं।” इस कथन की उदाहरण सहित पुष्टि कीजिए।

23. Describe any *four* features of motels. 1×4=4

मोटलों की किन्हीं चार विशेषताओं का वर्णन कीजिए।

24. How are the services rendered to foreign tourists visiting India called the invisible products of tourism industry? Explain. 4

भारत आने वाले विदेशी पर्यटकों को दी जा रही सेवाएँ किस प्रकार पर्यटन उद्योग के अदृश्य उत्पाद कही जाती हैं? स्पष्ट कीजिए।

★ ★ ★