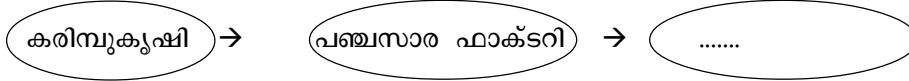


മാതൃകാചോദ്യപേപ്പർ

USS EXAMINATION - FEBRUARY 2016

Paper II - Part C - സാമൂഹ്യശാസ്ത്രം

1. സാമ്പത്തിക മേഖലകളുടെ പരസ്പര ബന്ധം വിശദമാക്കുന്ന ഭാഗം പൂർത്തീകരിക്കുക.



- A ഗതാഗത സംവിധാനം
- B റൈസ് മില്ലുകൾ
- C നിർമ്മാണ പ്രവർത്തനം
- D കച്ചവടം


2. ശരിയായത് കണ്ടെത്തുക

- A കിറ്റ് ഇന്ത്യാ സമരം - 1942
- B വൈക്കം സത്യാഗ്രഹം - 1930
- C നിസ്സഹകരണപ്രസ്ഥാനം - 1924
- D മലബാർ കലാപം - 1919

3. കച്ചവടത്തിനുവേണ്ടി ഇന്ത്യയിലെത്തിയ വിവിധ യൂറോപ്യൻ രാജ്യങ്ങളെ അവർ വന്ന ക്രമമനുസരിച്ച് ക്രമപ്പെടുത്തുക.

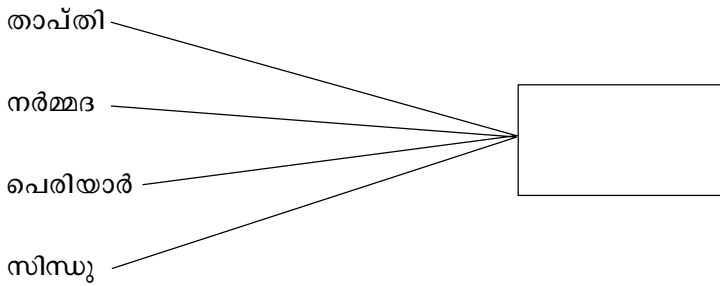
- a ഇംഗ്ലീഷുകാർ
 - b ഡച്ചുകാർ
 - c ഫ്രഞ്ചുകാർ
 - d പോർച്ചുഗീസുകാർ
- A (c) (d) (b) (a)
 - B (d) (c) (a) (b)
 - C (a) (b) (d) (c)
 - D (d) (b) (a) (c)

4. തന്നിരിക്കുന്ന ചിത്രത്തിലെ വ്യക്തിയെ തിരിച്ചറിയുക



- A സ്വാമിവിവേകാനന്ദൻ
- B സ്വാമി ദയാനന്ദ സരസ്വതി
- C സർ സയ്യിദ് അഹമ്മദ്ഖാൻ
- D ദാദാബായ് നവറോജി

5. താഴെ പറയുന്ന നദികൾ എത്തിച്ചേരുന്ന സമുദ്രം ഏതെന്നു കണ്ടെത്തുക.



- A ബംഗാൾ ഉൾക്കടൽ
- B അറബിക്കടൽ
- C പസഫിക് സമുദ്രം
- D അറ്റ്ലാന്റിക് സമുദ്രം

6. പട്ടിക പൂർത്തിയാക്കുക

....., അമൃത്സർ, പഞ്ചാബ്

- A തുണിമിൽ സമരം
- B ജാലിയൻ വാലാബാഗ് കൂട്ടക്കൊല
- C വാഗൺ ട്രാജഡി
- D ഉപ്പ് സത്യാഗ്രഹം

7. “ജനങ്ങൾ ജനങ്ങൾക്കുവേണ്ടി ജനങ്ങളാൽ” നേരിട്ട് നയിക്കപ്പെടുന്ന ഭരണ സമ്പ്രദായം

- A പ്രസിഡൻഷ്യൽ സമ്പ്രദായം
- B റിപ്പബ്ലിക്കൽ ഭരണ സമ്പ്രദായം
- C സുൽത്താൻ ഭരണം
- D ജനാധിപത്യം

8. ഇന്ത്യൻ ഭരണഘടനയുടെ ശില്പി എന്നറിയപ്പെടുന്ന വ്യക്തി

- A ജവഹർലാൽ നെഹ്റു
- B മഹാത്മാഗാന്ധി
- C സർദാർ വല്ലഭായി പട്ടേൽ
- D ഡോ. ബി.ആർ. അംബേദ്കർ

9. പെൺകുട്ടികളുടെ വിദ്യാഭ്യാസത്തിനു വേണ്ടി പോരാടിയതിന് 17-ാം വയസ്സിൽ സമാധാനത്തിനുള്ള നോബൽസമ്മാനം ലഭിച്ചത്.

- A ഇന്ദിരാഗാന്ധി
- B ആനിബസന്റ്
- C സരോജിനി നായിഡു
- D മലാല യൂസഫ്സായി

10. താഴെ പറയുന്ന ചരിത്ര സംഭവങ്ങളെ മുൻഗണനാക്രമത്തിൽ രേഖപ്പെടുത്തുക.

- A ഒന്നാം സ്വാതന്ത്ര്യസമരം
- B പ്ലാസിയുദ്ധം
- C വാസ്കോഡ ഗാമ കോഴിക്കോട്ട് എത്തി
- D ബക്സാർ യുദ്ധം

16. 'ഹോർത്തൂസ് മലബാറിക്കസ്' എന്ന ഗ്രന്ഥം പ്രസിദ്ധീകരിച്ച സ്ഥലം

- A ആംസ്റ്റർഡാം
- B റോം
- C പോളണ്ട്
- D ടെഹറാൻ

17. ഇന്ത്യയിലെ ഏറ്റവും ഉയരം കൂടിയ കൊടുമുടി

- A എവറസ്റ്റ്
- B കാരക്കോറം
- C മൗണ്ട് K₂
- D ഹിമാലയം

18. താഴെ പറയുന്ന സംഭവങ്ങളുടെ ടൈംലൈൻ പൂർത്തിയാക്കുക.

1921	+	വാഗൺ ട്രാജഡി
1931	+	ഗുരുവായൂർ സത്യാഗ്രഹം
.....	+	പുനം സന്ധി
1942	+	കിറ്റ് ഇന്ത്യാസമരം

- A 1932
- B 1933
- C 1934
- D 1935

19. പൂരിപ്പിക്കുക.

യന്ത്രങ്ങൾ	ശാസ്ത്രകാരന്മാർ
ഫ്ളെയിംഗ്ഷട്ടിൽ	ജോൺ കെയ്
സ്ഫിന്നിംഗ് ജെനി	ജയിംസ് ആർഗ്രീവ്സ്
സ്റ്റീംഎഞ്ചിൻ	ജയിംസ് വാട്ട്
ലോക്കോമോട്ടീവ്

- A ജോഹാനാസ് ഗുട്ടൻബർഗ്
- B കോപ്പർ നിക്കസ്
- C ലോറൻ സോ ഗിബർട്ടി
- D ജോർജ് സ്റ്റീഫൻസൺ

20. താഴെ തന്നിരിക്കുന്നതിൽ നിന്ന് ഇന്ത്യൻ ഭരണഘടനയുടെ ആമുഖലക്ഷ്യങ്ങളിൽ പെടാത്തത് കണ്ടെത്തുക.

- A പരമാധികാരം
- B ജനാധിപത്യം
- C ഏകാധിപത്യം
- D മതേതരത്വം

1. D
2. A
3. D
4. C
5. B
6. B
7. D
8. D
9. D
10. D
11. C
12. B
13. D
14. A
15. B
16. A
17. C
18. A
19. D
20. C