

IT Theory 100 Short Answer Questions

IT Theory Questions

100 Questions : SHORT ANSWER Type

1. ചുവടെ നൽകിയിരിക്കുന്നവയിൽ ചിത്ര ഫയൽഫോർമാറ്റ് ഏതാണ് ?

- A. dv
- B. mpeg
- C. **png**
- D. flv

2. ഒരു svg ചിത്രത്തെ ജിമ്പ് സോഫ്റ്റ്‌വെയറിൽ വലിയ കാൻവാസിലേക്ക് ഉൾപ്പെടുത്തിയാൽ ചിത്രത്തിന്റെ വ്യക്തതയ്ക്ക് എന്താണ് സംഭവിക്കുക ?

- A. വ്യക്തത നഷ്ടപ്പെടും
- B. **വ്യക്തത നഷ്ടപ്പെടുമ്പോൾ**
- C. വ്യക്തത കൂടുന്നു.
- D. വ്യക്തത വളരെയധികം കൂടുന്നു.

3. വേഡ് പ്രോസസർ ഡോക്യുമെന്റിലെ ശീർഷകങ്ങളുടേയും ഉപശീർഷകങ്ങളുടേയും ഏത് പ്രത്യേകത തിരിച്ചറിഞ്ഞാണ് കമ്പ്യൂട്ടർ അവയെ ഉള്ളടക്കപ്പട്ടിക (Index Table)യിൽ ഉൾപ്പെടുത്തുന്നത് ?

Answer Options:

- A. ശീർഷകങ്ങളുടേയും ഉപശീർഷകങ്ങളുടേയും നിറം (color)
- B. ശീർഷകങ്ങളുടേയും ഉപശീർഷകങ്ങളുടേയും വലുപ്പം (size)
- C. **ശീർഷകങ്ങളുടേയും ഉപശീർഷകങ്ങളുടേയും സ്റ്റൈൽ (style)**
- D. ശീർഷകങ്ങളുടേയും ഉപശീർഷകങ്ങളുടേയും ഇൻഡന്റ് (Indent)

4. വെബ് പേജുകൾ തയ്യാറാക്കുമ്പോൾ html ടാഗുകളുടേയും ആടിബ്ലൂട്ടുകളുടേയും ആവർത്തിച്ചുള്ള ഉപയോഗം ഒഴിവാക്കാൻ ഉപയോഗിക്കുന്ന സങ്കേതം ചുവടെ കൊടുത്തിരിക്കുന്നവയിൽ ഏത് ?

- A. **കാസ്റ്റേഡിങ്ങ് സ്റ്റൈൽ ഷീറ്റുകൾ**
- B. വെബ്കണ്ടന്റ് മാനേജ്മെന്റ് സിസ്റ്റം
- C. html എഡിറ്ററുകൾ
- D. ടെക്സ്റ്റ് എഡിറ്ററുകൾ

5. കാസ്കേഡിങ്ങ് സ്റ്റൈലുകൾ തയ്യാറാക്കുമ്പോൾ ഒരു ടാഗിന്റെ പേരിന് ശേഷം അതിന്റെ സവിശേഷതകൾ ചുവടെ കൊടുത്തിട്ടുള്ള ഏത് ചിഹ്നങ്ങൾക്കുള്ളിലാണ് ഉൾപ്പെടുത്തുക ?

- A. []
- B. < >
- C. { }
- D. ()

6. പൈത്തൺ ഗ്രാഫിക്സിൽ ഒരു പ്രോഗ്രാം തയ്യാറാക്കുമ്പോൾ ഒന്നാമതായി നൽകേണ്ട നിർദ്ദേശം താഴെ കൊടുത്തിട്ടുള്ളവയിൽ ഏതാണ് ?

- A for i in range (4):
- B begin_fill()
- C **from turtle import***
- D right()

7. പൈത്തൺ ഗ്രാഫിക്സ് പ്രോഗ്രാമിൽ right(90) എന്ന നിർദ്ദേശം സൂചിപ്പിക്കുന്നതെന്ത് ?

- A **turtle, 900 വലത്തേക്ക് തിരിയാൻ**
- B 90 യൂണിറ്റ് നീളത്തിൽ വര വരയ്ക്കാൻ
- C 90 യൂണിറ്റ് ആരമുള്ള വൃത്തം വരയ്ക്കാൻ
- D 90 യൂണിറ്റ് അകലത്തിൽ ഒരു ബിന്ദു അടയാളപ്പെടുത്താൻ

8.പൈത്തൺ പ്രോഗ്രാമിങ്ങ് ഭാഷയിൽ ജ്യോമിതീയ രൂപങ്ങൾ തയ്യാറാക്കാൻ സഹായിക്കുന്ന അനുബന്ധ സോഫ്റ്റ്‌വെയർ ഏത്?

- A turtle
- B import
- C python shell
- D IDLE

9.ഒരു സ്കൂളിലെ കലോൽസവ വിജയികളുടെ പട്ടിക ഒരു ഡാറ്റാബേസിലുണ്ട്. ഇതുപയോഗിച്ച് കുട്ടികൾക്കുള്ള സർട്ടിഫിക്കറ്റുകൾ വേഡ്‌പ്രോസസ്സറിൽ തയ്യാറാക്കണം. നൽകിയിരിക്കുന്നതിൽ ഏതു സങ്കേതമാണ് ഇതിന് അനുയോജ്യം?

- A. മെയിൽ മെർജ്
- B. മെയിൽ അറ്റാച്ച്
- C. ഡാറ്റാബേസ് ക്വറി
- D. എക്സ്പോർട്ട് പിഡിഎഫ്

10.ഒരു ഡോക്യുമെന്റിലെ ഉള്ളടക്കപ്പട്ടികയിൽ മൗസ് പോയിന്റർ എത്തിച്ചാൽ ചുവടെ നൽകിയിരിക്കുന്നതിൽ ഏത് സന്ദേശമാണ് ദൃശ്യമാവുക ?

- A. Shift-Click to follow link
- B. Ctrl - Click to follow link
- C. Alt - Click to follow link
- D. Esc - Click to follow link

11.ചുവടെ നൽകിയിരിക്കുന്നവയിൽ സ്വതന്ത്ര വെക്ടർ ഇമേജ് എഡിറ്റിങ്ങ് സോഫ്റ്റ്‌വെയർ ഏത് ?

- A. ജിമ്പ്
- B. കാർബൺ
- C. കോറൽ ഡ്രോ
- D. ഇങ്ക്സ്കേപ്പ്

12.കമ്പ്യൂട്ടറുകളെ പരസ്പരം ബന്ധിപ്പിക്കാനുപയോഗിക്കുന്ന കേബിളാണ് UTP കേബിളുകൾ. ഇവയിൽ എത്ര കേബിളുകളുണ്ട്?

- A 4
- B 12
- C 8
- D 2

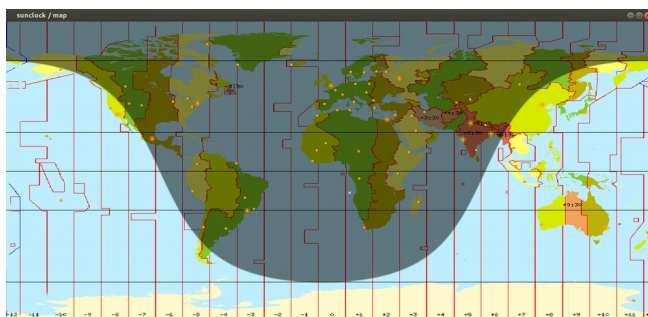
13.ഏത് ഉപകരണത്തെ മോഡറൂമായി ബന്ധിപ്പിക്കുന്നതിനാണ് സാധാരണയായി RJ 11 കണക്ടർ ഉപയോഗിക്കുന്നത്?

- A മോഡം
- B സിച്ച്
- C കമ്പ്യൂട്ടർ
- D ടെലിഫോൺ

14.ഒരു പ്രദേശത്തെ വിവിധ മാസങ്ങളിലെ രാത്രി ദൈർഘ്യം കണ്ടെത്തണം. ഇതിന് ചുവടെ നൽകിയിരിക്കുന്നതിൽ ഏത് സോഫ്റ്റ്‌വെയറാണ് അനുയോജ്യം?

- A Inkscape
- B Qgis
- C Sunclock
- D GeoGebra

15.നൽകിയിരിക്കുന്ന Sunclock സോഫ്റ്റ്‌വെയറിലെ ക്ലോക്ക് & മാപ്പ് ജാലകത്തിന്റെ ചിത്രം വിശകലനം ചെയ്ത് ചുവടെ കൊടുത്തിട്ടുള്ളവയിലെ ശരിയായ പ്രസ്താവന കണ്ടെത്തുക.



- A ദക്ഷിണാർധഗോളത്തിൽ രാത്രിയുടെ ദൈർഘ്യം കുറവാണ്
- B ഉത്തരാർധഗോളത്തിൽ രാത്രിയുടെ ദൈർഘ്യം കുറവാണ്
- C ഉത്തര-ദക്ഷിണാർധ ഗോളങ്ങളിൽ രാത്രി-പകൽ ദൈർഘ്യം തുല്യമാണ്
- D ദക്ഷിണാർധഗോളത്തിൽ പകലിന്റെ ദൈർഘ്യം കുറവാണ്

16. ഇന്റർനെറ്റിൽ പ്രവർത്തിക്കുന്ന വിവിധ സേവന സംവിധാനങ്ങളെ കുറിച്ച് താഴെ പറയുന്നവയിൽ ഏറ്റവും ശരിയായത് ഏതാണ് ?

- A ഹയർസെക്കന്ററി പ്രവേശനത്തിനുള്ള ഓൺലൈൻ സംവിധാനമാണ് www.hscap.kerala.gov.in
- B www.google.com എന്നത് ഒരു നവ സാമൂഹിക മാധ്യമമാണ്.
- C ഇന്റർനെറ്റിൽ പ്രവർത്തിക്കുന്ന ഒരു തിരച്ചിൽ സംവിധാനമാണ് www.olam.com
- D www.wiktionary.org എന്നത് മലയാളം വിക്കിപീഡിയയുടെ ഇമെയിൽ വിലാസമാണ്.

17. താഴെ നൽകിയിരിക്കുന്നവയിൽ ഏതാണ് നാം തയ്യാറാക്കുന്ന ചലച്ചിത്രങ്ങൾ പങ്കുവെക്കാൻ സഹായിക്കുന്ന ഒരു വെബ്സൈറ്റ് ?

- A) വിമിയോ
- B) വിക്ഷ്ണറി
- C) വേർഡ്പ്രസ്സ്
- D) ഗൂഗിൾ

18. ഒരു ഡാറ്റാബേസിന്റെ ഭാഗമായി എത്ര പട്ടികകൾ (Table) ഉൾപ്പെടുത്തുവാൻ സാധിക്കും?

- A. ഒരേണ്ണം മാത്രം
- B. രണ്ടോ അതിലധികമോ
- C. പരമാവധി മൂന്ന്
- D. നിരവധി

19. ലിബർ ഓഫീസ് ബേസിൽ ലഭ്യമല്ലാത്ത സൗകര്യം ചുവടെ നൽകിയവയിൽ ഏത് ?

- A. Tables
- B. Queries
- C. Forms
- D. Tweening

20. ലിബർ ഓഫീസ് ബേസിൽ ഫോമിന് (Forms) വ്യത്യസ്ത ലേഔട്ടുകൾ നൽകുന്നതിനായി തിരഞ്ഞെടുക്കേണ്ടത് ഏത്?

- A. Use Wizard to Create Form
- B. Fields in the Form

C. Arrange Controls

D. Apply Styles

21. ചുവടെ കൊടുത്തിരിക്കുന്നവയിൽ ഏതാണ് ആനിമേഷൻ നിർമ്മിക്കുന്നതിനുപയോഗിക്കുന്ന സോഫ്റ്റ്‌വെയർ ?

A LibreOffice Writer

B LibreOffice Calc

C Synfig Studio

D Quantum GIS

22. ചുവടെ നൽകിയിരിക്കുന്ന അനിമേഷൻ സോഫ്റ്റ്‌വെയറുകളിൽ ഒന്ന് സ്വതന്ത്ര സോഫ്റ്റ്‌വെയറാണ്. അത് ഏത് ?

A Adobe Flash

B Pencil

C Anim Studio

D ToonBoom

23. ചാൾസ് ബബേജ് നിർമ്മിക്കാൻ ശ്രമിച്ച, ലോകത്തിലെ ആദ്യ കമ്പ്യൂട്ടർ എന്ന് അറിയപ്പെടുന്ന യന്ത്രത്തിന്റെ പേര് എന്താണ് ?

A അനലിറ്റിക് എഞ്ചിൻ

B യൂനിക്സ്

C ഏനിയക്സ്

D ബിഎസ്ഡി

24. പ്രവർത്തനക്ഷമമായതും ആധുനിക കമ്പ്യൂട്ടറിന്റെ ആശയങ്ങളെല്ലാം ഉൾക്കൊള്ളിച്ച് നിർമ്മിക്കപ്പെട്ടതുമായ ആദ്യ കമ്പ്യൂട്ടർ ഏതാണ് ?

A ഏനിയക്സ്

B യൂനിക്സ്

C ബിഎസ്ഡി

D അനലിറ്റിക് എഞ്ചിൻ

25. യൂനിക്സ് എന്ന ഓപ്പറേറ്റിങ് സിസ്റ്റം ആദ്യമായി തയ്യാറാക്കിയത് താഴെ പറയുന്നവയിൽ ഏതു സ്ഥാപനമാണ് ?

A അമേരിക്കയിലെ ബെൽ ലബോറട്ടറി

B അമേരിക്കയിലെ കാലിഫോർണിയ യൂണിവേഴ്സിറ്റി

C ആപ്പിൾ കോർപ്പറേഷന്റെ കമ്പ്യൂട്ടർ നിർമ്മാണശാല

D ശാ പ്രോജക്റ്റിന്റെ കമ്പ്യൂട്ടർ നിർമ്മാണശാല

26. Synfig Studio സോഫ്റ്റ്‌വെയറിലെ ഒരു ടൂളിന്റെ ചിത്രമാണ് നൽകിയിരിക്കുന്നത്. ഏതാണ് ഈ ടൂൾ ?

A Transform Tool

B Smooth Move Tool

C Fill Tool

D Gradient Tool



27.നൽകിയിരിക്കുന്ന പ്രസ്താവനകളിൽ നിന്നും Synfig Studio സോഫ്റ്റ്‌വെയറിനെക്കുറിച്ച് ശരിയായ പ്രസ്താവന തിരഞ്ഞെടുക്കുക.

- A ഒരു സ്വതന്ത്ര ദ്വിമാന അനിമേഷൻ സോഫ്റ്റ്‌വെയറാണ്.
- B ഒരു സ്വതന്ത്ര ത്രിമാന അനിമേഷൻ സോഫ്റ്റ്‌വെയറാണ്.
- C ആകാശ നിരീക്ഷണത്തിനും പഠനത്തിനുമുള്ള സോഫ്റ്റ്‌വെയർ ആണ്.
- D ശബ്ദം റെക്കോർഡ് ചെയ്യുന്നതിനുള്ള സോഫ്റ്റ്‌വെയറാണ്.

28.ലിബർഓഫീസ് ബേസിൽ സൂൾ ലൈബ്രറിയിലെ എല്ലാ പുസ്തകങ്ങളും ഉൾപ്പെടുത്തി ഒരു ഡാറ്റാബേസ് നിർമ്മിച്ചിട്ടുണ്ട്. ഇതിൽ നിന്നും ഒരു എഴുത്തുകാരന്റെ ഏതൊക്കെ പുസ്തകങ്ങളാണ് ലഭ്യമായിട്ടുള്ളത് എന്നറിയുന്നതിന് ചുവടെ തന്നിരിക്കുന്നവയിൽ ഏത് സങ്കേതമാണ് പ്രയോജനപ്പെടുത്തേണ്ടത്?

- A. Tables
- B. Forms
- C. Queries
- D. Print

29.ചുവടെ കൊടുത്തിരിക്കുന്നവയിൽ ലിബർഓഫീസ് ബേസിൽ ഒരു ഡാറ്റാബേസുമായി ബന്ധമില്ലാത്തത് ഏത് ?]

- A. Slide
- B. Queries
- C. Forms
- D. Reports

30.രണ്ട് ഓപറേറ്റിങ്ങ് സിസ്റ്റങ്ങൾ ഇൻസ്റ്റാൾ ചെയ്യപ്പെട്ട ഒരു കമ്പ്യൂട്ടറിന്റെ ഹാർഡ് ഡിസ്ക് പരിശോധിച്ചപ്പോൾ താഴെ പറയുന്ന ഫയൽ സിസ്റ്റങ്ങൾ കണ്ടെത്തി.

1. Ext4 2. NTFS

എങ്കിൽ താഴെ പറയുന്ന ഏതെല്ലാം ഓപറേറ്റിങ്ങ് സിസ്റ്റങ്ങളായിരിക്കും സാധാരണഗതിയിൽ ഈ കമ്പ്യൂട്ടറിൽ ഉണ്ടായിരിക്കുക ?

- A ശു ലിനക്സ് മൈക്രോസോഫ്റ്റ് വിൻഡോസും
- B ആപ്പിൾ മാക് ഓഎസും മൈക്രോസോഫ്റ്റ് വിൻഡോസും
- C ശു ലിനക്സ് ആപ്പിൾ മാക് ഓഎസും
- D ഫ്രീ ബിഎസ്ഡിയും മൈക്രോസോഫ്റ്റ് വിൻഡോസും

31. ഇന്റർനെറ്റിൽ പ്രവർത്തിക്കുന്ന വിവിധ സേവന സംവിധാനങ്ങളെ കുറിച്ച് താഴെ പറയുന്നവയിൽ ഏറ്റവും ശരിയായത് ഏതാണ് ?

- A ഹയർസെക്കന്ററി പ്രവേശനത്തിനുള്ള ഓൺലൈൻ സംവിധാനമാണ് www.hscap.kerala.gov.in
- B www.google.com എന്നത് ഒരു നവ സാമൂഹിക മാധ്യമമാണ്.
- C ഇന്റർനെറ്റിൽ പ്രവർത്തിക്കുന്ന ഒരു തിരച്ചിൽ സംവിധാനമാണ് www.olam.com
- D www.wiktionary.org എന്നത് മലയാളം വികിപീഡിയയുടെ ഇമെയിൽ വിലാസമാണ്.

32.ചിത്രഫയലുകളെ സംബന്ധിച്ച് ചുവടെ കൊടുത്തിരിക്കുന്ന പ്രസ്താവനകളിൽ ശരിയായ പ്രസ്താവന ഏത്?

- A svg ചിത്രങ്ങൾ വെക്ടർ ചിത്രങ്ങളാണ്.
- B വെക്ടർ ചിത്രങ്ങൾ സ്ക്രീനിൽ ചെയ്യുമ്പോൾ വ്യക്തത നഷ്ടപ്പെടുന്നു.
- C ബിറ്റ് മാപ്പ് ചിത്രങ്ങളെ വെക്ടർ ചിത്രങ്ങൾ എന്നും പറയാം.
- D svg ചിത്രങ്ങൾ റാസ്റ്റർ ചിത്രങ്ങളാണ്.

33.ഇക്സ്റ്റേപിൽ തയ്യാറാക്കിയ ഒരു ചിത്രം png ഫോർമാറ്റിലേക്ക് സേവ് ചെയ്യുന്നതിനുള്ള പ്രവർത്തനക്രമം ചുവടെ നൽകിയവയിൽ നിന്ന് തിരഞ്ഞെടുക്കുക.

- A. File → Save As
- B. **File → Export PNG Image**
- C. File → Import Clip Art
- D. File → Save a Copy

34.ഒരു പദത്തിന് നൽകിയിട്ടുള്ള ഫോർമാറ്റുകൾ അതേപടി മറ്റ് വാക്കുകൾക്ക് നൽകാനുള്ള എളുപ്പവഴി താഴെപ്പറയുന്നവയിൽ ഏതാണ്?

- A. Paragraph Formatting
- B. **Clone Formatting**
- C. Character Formatting
- D. Page Formatting

35.ചുവടെ കൊടുത്തിരിക്കുന്നവയിൽ ഏതാണ് ഒരു ഭൂവിവരവ്യവസ്ഥാ സോഫ്റ്റ്‌വെയർ (Geographical Information System) ?

- A **Quantum GIS**
- B Python
- C GeoGebra
- D GIMP

ഇന്റർനെറ്റ് ഉപയോഗിച്ച് പ്രാവർത്തികമാക്കാവുന്ന ചില കാര്യങ്ങൾ താഴെ ലിസ്റ്റ് ചെയ്തിട്ടുണ്ട്. ഇവയിൽ ഏറ്റവും ശരിയായ പ്രസ്താവന ഏതാണ് ?

- A ഇന്റർനെറ്റ്, ഇ-മെയിലുകൾ അയക്കുന്നതിനായി ഉപയോഗിക്കുന്നതാണ്
- B ഡിജിറ്റൽ രൂപത്തിലുള്ള വിവരങ്ങൾ മറ്റുള്ളവരുമായി പങ്കുവെക്കുന്നതിനായി ഇന്റർനെറ്റ് ഉപയോഗിക്കുന്നു.
- C വിദൂരദേശങ്ങളിൽ താമസിക്കുന്നവരുമായി കണ്ടു സംസാരിക്കുന്നതിന് ഇന്റർനെറ്റ് ഉപയോഗിക്കുന്നു.
- D **ഇവയെല്ലാം ഇന്റർനെറ്റ് ഉപയോഗിച്ച് സാധിക്കും.**

36..വിവരങ്ങൾ പരസ്പരം കൈമാറത്തക്ക വിധത്തിൽ കമ്പ്യൂട്ടറുകളെ ബന്ധിപ്പിക്കുന്ന സംവിധാനത്തിന്റെ പേരെന്ത്?

- A. **കമ്പ്യൂട്ടർ നെറ്റ്‌വർക്കിങ്**
- B. ബ്ലോഗ്
- C. ഫയൽസിസ്റ്റം
- D. ഓപ്പറേറ്റിങ് സിസ്റ്റം

37.

```

from turtle import*
for i in range(10,101,10) :
    circle(i)

```

ചിത്രത്തിൽ കൊടുത്തിരിക്കുന്ന പൈത്തൺ ഗ്രാഫിക്സ് പ്രോഗ്രാം പ്രവർത്തിപ്പിക്കുമ്പോൾ ലഭിക്കുന്ന ഔട്ട്പുട്ടിൽ എത്ര വൃത്തങ്ങൾ ഉണ്ടായിരിക്കും?

- A. 0
- B. 101
- C. 10
- D. 3

38. ഒരു ഡോക്യുമെന്റിലെ പദങ്ങളെ ശീർഷകങ്ങളായി നിർവചിക്കാൻ വേഡ് പ്രോസസറിലുള്ള സങ്കേതം ഏത്?

- A. Styles and Formatting
- B. Paragraph Formatting
- C. Clone Formatting Tool
- D. Page Formatting

39. വേഡ് പ്രോസസർ ഡോക്യുമെന്റിൽ ഉള്ളടക്കപ്പട്ടികയിൽ നിന്ന് ബന്ധപ്പെട്ട പേജുകളിലേക്ക് പോകാനുള്ള വഴി എന്താണ്?

- A. Ctrl കീ അമർത്തിപ്പിടിച്ചുകൊണ്ട് ശീർഷകം ക്ലിക്ക് ചെയ്യുക.
- B. Alt കീ അമർത്തിപ്പിടിച്ചുകൊണ്ട് ശീർഷകം ക്ലിക്ക് ചെയ്യുക.
- C. Shift കീ അമർത്തിപ്പിടിച്ചുകൊണ്ട് ശീർഷകം ക്ലിക്ക് ചെയ്യുക.
- D. Enter കീ അമർത്തുക.

40. വെബ് പേജ് നിർമ്മാണത്തിൽ കോഡ് ആവർത്തനം ഒഴിവാക്കുന്നതിന് കാസ്റ്റേഡിങ് സ്റ്റൈലുകൾ എന്ന ആശയം അവതരിപ്പിച്ചത് ആരൊക്കെയാണ് ?

- A. Hakon Wium Lie, Bert Bos
- B. Sergey Brin, Larry Page
- C. Richard Stallman, Linus Torvalds
- D. Steve Jobs, Mark Zuckerberg

41. നെറ്റ് വർക്കിലുൾപ്പെട്ടിരിക്കുന്ന ഉപകരണങ്ങളുടെ നാമകരണത്തിലും മറ്റും പാലിക്കേണ്ട പൊതു നിയമങ്ങൾ ഏതുപേരിലറിയപ്പെടുന്നു?

- A. ഐ. പി. അഡ്രസ്സ്
- B. നെറ്റ് മാസ്ക്
- C. നെറ്റ് വർക്ക് പ്രോട്ടോക്കോളുകൾ

D. ഷെയറിംഗ്

42. കമ്പ്യൂട്ടറിൽ നിന്ന് മോഡത്തിലേക്ക് പോകുന്ന ഡാറ്റ ഏത് തരമായിരിക്കും?

- A ഡിജിറ്റൽ
- B അനലോഗ്
- C ഡെസിമൽ
- D ഹെക്സാഡെസിമൽ





43. താഴെ പറയുന്നവയിൽ വെക്ടർ ഇമേജ് ഫയൽ ഏതാണ് ?

- A. Circle.png
- B. Circle.jpg
- C. Circle.svg
- D. Circle.gif

44. ഇക്സ്റ്റേപ്പിനെ സംബന്ധിച്ച് ചുവടെയുള്ള പ്രസ്താവനകളിൽ ശരിയായത് ഏത്?

- A ഇക്സ്റ്റേപ്പിന്റെ ഡിഫാൾട്ട് കാൻവാസ് അതാര്യമാണ്.
- B ഇക്സ്റ്റേപ്പിന്റെ ഡിഫാൾട്ട് കാൻവാസ് സുതാര്യമാണ്.
- C ഇക്സ്റ്റേപ്പിന്റെ ഡിഫാൾട്ട് കാൻവാസ് അർദ്ധതാര്യമാണ്
- D ഇക്സ്റ്റേപ്പിന്റെ ഡിഫാൾട്ട് കാൻവാസ് നിറം നൽകിയതാണ്.

45.

	Smooth Move Tool	
	Gradient Tool		Fill Tool

Synfig Studio യിലെ ചില ടൂളുകളും അവയുടെ വിവരണങ്ങളും ആണ് പട്ടികയിൽ നൽകിയിരിക്കുന്നത്. വിട്ട് പോയ വിവരണ ഭാഗം ചുവടെ കൊടുത്തിരിക്കുന്നതിൽ നിന്ന് കണ്ടെത്തുക.

- A. Circle Tool
- B. Transform Tool
- C. Scale Tool
- D. Rotate Tool

46. Synfig Studio സോഫ്റ്റ്‌വെയറിലെ Gradient Tool ന്റെ ചിത്രമാണ് നൽകിയിരിക്കുന്നത്. ഇതിന്റെ ഉപയോഗമെന്ത് ?

- A ചതുരാകൃതിയിലുള്ള ഒബ്ജക്ട് ഉണ്ടാക്കാൻ
- B വൃത്താകൃതിയിലുള്ള ഒബ്ജക്ട് ഉണ്ടാക്കാൻ
- C ഒബ്ജക്ടുകൾ സെലക്ട് ചെയ്യാനും അതിന്റെ



ഹാൻഡ്‌ലുകളെ നിയന്ത്രിക്കാനും

D രണ്ടോ അതിലധികമോ വർണങ്ങൾ ലയിപ്പിക്കാൻ

47. താഴെ പറയുന്നവയിൽ ഏതാണ് ശ്രീ/ലിനക്സ് പ്രവർത്തിക്കുന്നതിന് അനുയോജ്യമായ ഫയൽ സിസ്റ്റം ?

- A Ext3
- B NTFS
- C HPFS
- D ReFS

48. ദിയ തയ്യാറാക്കിയ ഫയലുകളാണ് ചുവടെ കൊടുത്തിട്ടുള്ളത്. ഇതിൽ നിന്ന് വേഡ് പ്രോസസറിൽ തയ്യാറാക്കിയ ഫയൽ തിരഞ്ഞെടുക്കുക

- A. Certificate.ods
- B. **Certificate.odt**
- C. Certificate.odp
- D. Certificate.odg

49. താൻ നിർമ്മിച്ച ഒരു ഡോക്യുമെന്റിന്റെ ശീർഷകങ്ങൾക്ക് നല്ലാനായി അന്തർ ഒരു പുതിയ സ്റ്റൈൽ നിർമ്മിക്കാനുദ്ദേശിക്കുന്നു. ഇതിനായി ചുവടെ കൊടുത്തിരിക്കുന്ന രണ്ട് സെറ്റ് ഫോർമാറ്റുകൾ കൊടുക്കാൻ തീരുമാനിച്ചു.

1. അക്ഷര വലുപ്പം : 17, അക്ഷര ഫാമിലി : രചന, അക്ഷര നിറം : ചുവപ്പ്

2. മാർജിനിൽ നിന്നുള്ള അകലം : 12, ടെക്സ്റ്റ് അലൈൻമെന്റ് : ഇടത്

ഒരു തലക്കെട്ടിനെ സംബന്ധിച്ച് ഈ ഫോർമാറ്റുകളിൽ ഏതാണ് ശരിയായി ചെയ്യാൻ സാധിക്കുക ?

Answer Options:

A. രണ്ടു നിർദ്ദേശങ്ങളും തലക്കെട്ട് ഫോർമാറ്റ് ചെയ്യുന്നതിന് ഉപയോഗിക്കാൻ സാധിക്കുന്നവയാണ്.

B. ആദ്യ നിർദ്ദേശം മാത്രമേ തലക്കെട്ടിന് യോജിക്കുകയുള്ളൂ, രണ്ടാമത്തേത് ചെയ്യാനാകില്ല.

C. ആദ്യ നിർദ്ദേശം ചെയ്യാനാകില്ല. രണ്ടാമത്തെ നിർദ്ദേശം മാത്രമേ തലക്കെട്ടിന് യോജിക്കുകയുള്ളൂ.


D. രണ്ടു നിർദ്ദേശങ്ങളും തലക്കെട്ട് ഫോർമാറ്റ് ചെയ്യുന്നതിന് യോജിച്ചവയല്ല.

Correct Answer:

50. ഇങ്ക്സ്റ്റേപ്പിൽ വരച്ച ചിത്രത്തിൽ ടെക്സ്റ്റ് ഉൾപ്പെടുത്തുന്നതിന് ഉപയോഗിക്കാവുന്ന ടൂൾ ?

A Create  rectangles and squares

B Create and edit text  objects

C Create circles, ellipses  and arcs

D Create stars  and polygons