

IT Theory Questions
100 Questions : SHORT ANSWER Type

ചുവടെ നൽകിയിരിക്കുന്നവയിൽ ചിത്ര ഫയൽഫോർമാറ്റ് ഏതാണ് ?

Answer Options :

- A. dv
- B. mpeg
- C. png
- D. flv

ഒരു svg ചിത്രത്തെ ജിമ്പ് സോഫ്റ്റ്‌വെയറിൽ വലിയ കാൻവാസിലേക്ക് ഉൾപ്പെടുത്തിയാൽ ചിത്രത്തിന്റെ വക്രതയ്ക്ക് ഏന്താണ് സംഭവിക്കുക ?
വേഡ്‌പ്രോസസർ ഡോക്യുമെന്റിലെ ശീർഷകങ്ങളുടേയും ഉപശീർഷകങ്ങളുടേയും ഏത് പ്രത്യേകത തിരിച്ചറിഞ്ഞാണ് കമ്പ്യൂട്ടർ അവയെ ഉള്ളടക്കപ്പട്ടിക (Index Table)യിൽ ഉൾപ്പെടുത്തുന്നത് ?

Answer Options:

- A. ശീർഷകങ്ങളുടേയും ഉപശീർഷകങ്ങളുടേയും നിറം (color)
- B. ശീർഷകങ്ങളുടേയും ഉപശീർഷകങ്ങളുടേയും വലുപ്പം (size)
- C. ശീർഷകങ്ങളുടേയും ഉപശീർഷകങ്ങളുടേയും സ്റ്റൈൽ (style)
- D. ശീർഷകങ്ങളുടേയും ഉപശീർഷകങ്ങളുടേയും ഇൻഡന്റ് (Indent)

IT Theory 100 Short Answer Questions

വെബ്‌പേജുകൾ തയ്യാറാക്കുമ്പോൾ html ടാഗുകളുടേയും ആഭിബ്യൂട്ടുകളുടേയും ആവർത്തിച്ചുള്ള ഉപയോഗം ഒഴിവാക്കാൻ ഉപയോഗിക്കുന്ന സങ്കേതം ചുവടെ കൊടുത്തിരിക്കുന്നവയിൽ ഏത്?

Answer Options

- A. കാസ്കേഡിങ് സ്റ്റൈൽ ഷീറ്റുകൾ
- B. വെബ്‌കണ്ടന്റ് മാനേജ്മെന്റ് സിസ്റ്റം
- C. html എഡിറ്ററുകൾ
- D. ടെക്സ്റ്റ് എഡിറ്ററുകൾ

കാസ്കേഡിങ് സ്റ്റൈലുകൾ തയ്യാറാക്കുമ്പോൾ ഒരു ടാഗിന്റെ പേരിന് ശേഷം അതിന്റെ സവിശേഷതകൾ ചുവടെ കൊടുത്തിട്ടുള്ള ഏത് ചിഹ്നങ്ങൾക്കുള്ളിലാണ് ഉൾപ്പെടുത്തുക ?

Answer Options

- A. []
- B. < >
- C. { }
- D. ()

പൈത്തൺ ഗ്രാഫിക്സിൽ ഒരു പ്രോഗ്രാം തയ്യാറാക്കുമ്പോൾ ഒന്നാമതായി നൽകേണ്ട നിർദ്ദേശം താഴെ കൊടുത്തിട്ടുള്ളവയിൽ ഏതാണ്?

Options

- A for i in range (4):
- B begin_fill()
- C from turtle import*
- D right()

IT Theory 100 Short Answer Questions

പൈത്തൺ ഗ്രാഫിക്സ് പ്രോഗ്രാമിൽ right(90) എന്ന നിർദ്ദേശം സൂചിപ്പിക്കുന്നതെന്തിന് ?

Answer Options

- A turtle, 90° വലത്തേക്ക് തിരിയാൻ
- B 90 യൂണിറ്റ് നീളത്തിൽ വര വരയ്ക്കാൻ
- C 90 യൂണിറ്റ് ആരമുള്ള വൃത്തം വരയ്ക്കാൻ
- D 90 യൂണിറ്റ് അകലത്തിൽ ഒരു ബിന്ദു അടയാളപ്പെടുത്താൻ

പൈത്തൺ പ്രോഗ്രാമിങ്ങ് ഭാഷയിൽ ജ്യോമിതീയ രൂപങ്ങൾ തയ്യാറാക്കാൻ സഹായിക്കുന്ന അനുബന്ധ സോഫ്റ്റ്‌വെയർ ഏത്?

Answer Options

- A turtle
- B import
- C Inkscape
- D QGIS

ഒരു സ്കൂളിലെ കലോൽസവ വിജയികളുടെ പട്ടിക ഒരു ഡാറ്റാബേസിലുണ്ട്. ഇതുപയോഗിച്ച് കുട്ടികൾക്കുള്ള സർട്ടിഫിക്കറ്റുകൾ വേഡ് പ്രോസസ്സറിൽ തയ്യാറാക്കണം. നൽകിയിരിക്കുന്നതിൽ ഏതു സങ്കേതമാണ് ഇതിന് അനുയോജ്യം?

Answer Options:

- A. മെയിൽ മെർജ്
- B. മെയിൽ അറ്റാച്ച്
- C. ഡാറ്റാബേസ് ക്വറി
- D. എക്സ്പോർട്ട് പിഡിഎഫ്

IT Theory 100 Short Answer Questions

ഒരു ഡോക്യുമെന്റിലെ ഉള്ളടക്കപ്പട്ടികയിൽ മൗസ് പോയിന്റർ എത്തിച്ചാൽ ചുവടെ നൽകിയിരിക്കുന്നതിൽ ഏത് സന്ദേശമാണ് ദൃശ്യമാവുക ?

Answer Options:

- A. Shift-Click to follow link
- B. Ctrl - Click to follow link
- C. Alt - Click to follow link
- D. Esc - Click to follow link

ചുവടെ നൽകിയിരിക്കുന്നവയിൽ സ്വതന്ത്ര വെക്ടർ ഇമേജ് എഡിറ്റിങ്ങ് സോഫ്റ്റ്‌വെയർ ഏത് ?

Answer Options :

- A. ജിമ്പ്
- B. കാർബൺ
- C. കോറൽ ഡ്രോ
- D. ഇങ്ക്സ്പേർ

കമ്പ്യൂട്ടറുകളെ പരസ്പരം ബന്ധിപ്പിക്കാനുപയോഗിക്കുന്ന കേബിളാണ് UTP കേബിളുകൾ. ഇവയിൽ എത്ര കേബിളുകളുണ്ട്?

Answer Options :

- A 4
- B 12
- C 8
- D 2

IT Theory 100 Short Answer Questions

ഏത് ഉപകരണത്തെ മോഡറുമായി ബന്ധിപ്പിക്കുന്നതിനാണ് സാധാരണയായി RJ 11 കണക്ടർ ഉപയോഗിക്കുന്നത്?

Answer Options :

- A മോഡം
- B സ്വിച്ച്
- C കമ്പ്യൂട്ടർ
- D ടെലിഫോൺ

ഒരു പ്രദേശത്തെ വിവിധ മാസങ്ങളിലെ രാത്രി ദൈർഘ്യം കണ്ടെത്തണം. ഇതിന് ചുവടെ നൽകിയിരിക്കുന്നതിൽ ഏത് സോഫ്റ്റ്‌വെയറാണ് അനുയോജ്യം?

Answer Options

- A Inkscape
- B Qgis
- C Sunclock
- D GeoGebra

നൽകിയിരിക്കുന്ന Sunclock സോഫ്റ്റ്‌വെയറിലെ ക്ലോക്ക് & മാപ്പ് ജാലകത്തിന്റെ ചിത്രം വിശകലനം ചെയ്ത് ചുവടെ കൊടുത്തിട്ടുള്ളവയിലെ ശരിയായ പ്രസ്താവന കണ്ടെത്തുക.



Answer Options

- A ദക്ഷിണാർധഗോളത്തിൽ രാത്രിയുടെ ദൈർഘ്യം കുറവാണ്
- B ഉത്തരാർധഗോളത്തിൽ രാത്രിയുടെ ദൈർഘ്യം കുറവാണ്
- C ഉത്തര-ദക്ഷിണാർധ ഗോളങ്ങളിൽ രാത്രി-പകൽ ദൈർഘ്യം തുല്യമാണ്
- D ദക്ഷിണാർധഗോളത്തിൽ പകലിന്റെ ദൈർഘ്യം കുറവാണ്

IT Theory 100 Short Answer Questions

ഇന്റർനെറ്റിൽ പ്രവർത്തിക്കുന്ന വിവിധ സേവന സംവിധാനങ്ങളെ കുറിച്ച് താഴെ പറയുന്നവയിൽ ഏറ്റവും ശരിയായത് ഏതാണ്?

Answer Options

- A ഹയർസെക്കന്ററി പ്രവേശനത്തിനുള്ള ഓൺലൈൻ സംവിധാനമാണ് www.hscap.kerala.gov.in
- B www.google.com എന്നത് ഒരു നവ സാമൂഹിക മാധ്യമമാണ്.
- C ഇന്റർനെറ്റിൽ പ്രവർത്തിക്കുന്ന ഒരു തിരച്ചിൽ സംവിധാനമാണ് www.olam.com
- D www.wiktionary.org എന്നത് മലയാളം വികിപീഡിയയുടെ ഇമെയിൽ വിലാസമാണ്.

താഴെ നൽകിയിരിക്കുന്നവയിൽ ഏതാണ് നാം തയ്യാറാക്കുന്ന ചലച്ചിത്രങ്ങൾ പങ്കുവക്കാൻ സഹായിക്കുന്ന ഒരു വെബ്സൈറ്റ്?

Answer Options

- A) വിമിയോ
- B) വിക്ഷ്ണറി
- C) വേർഡ്പ്രസ്സ്
- D) ഗൂഗിൾ

ഒരു ഡാറ്റാബേസിന്റെ ഭാഗമായി എത്ര പട്ടികകൾ (Table) ഉൾപ്പെടുത്തുവാൻ സാധിക്കും?

Answer Options

- A. ഒരേണ്ണം മാത്രം
- B. രണ്ടോ അതിലധികമോ
- C. പരമാവധി മൂന്ന്
- D. നിരവധി

IT Theory 100 Short Answer Questions

1. ലിബർ ഓഫീസ് ബേസിൽ ലഭ്യമല്ലാത്ത സൗകര്യം ചുവടെ നൽകിയവയിൽ ഏത് ?

Answer Options

- A. Tables
- B. Queries
- C. Forms
- D. Tweening

2. ലിബർ ഓഫീസ് ബേസിൽ ഫോമിന് (Forms) വ്യത്യസ്ത ലേഔട്ടുകൾ നൽകുന്നതിനായി തിരഞ്ഞെടുക്കേണ്ടത് ഏത്?

Answer Options

- A. Use Wizard to Create Form
- B. Fields in the Form
- C. Arrange Controls
- D. Apply Styles

3. ചുവടെ കൊടുത്തിരിക്കുന്നവയിൽ ഏതാണ് ആനിമേഷൻ നിർമ്മിക്കുന്നതിനുപയോഗിക്കുന്ന സോഫ്റ്റ്‌വെയർ ?

Answer Options

- A. LibreOffice Writer
- B. LibreOffice Calc
- C. Synfig Studio
- D. Quantum GIS

IT Theory 100 Short Answer Questions

ചുവടെ നൽകിയിരിക്കുന്ന അനിമേഷൻ സോഫ്റ്റ്‌വെയറുകളിൽ ഒന്ന് സ്വതന്ത്ര സോഫ്റ്റ്‌വെയറാണ് . അത് ഏത്?

Answer Options

- A Adobe Flash
- B Pencil
- C Anim Studio
- D ToonBoom

ചാൾസ് ബബേജ് നിർമ്മിക്കാൻ ശ്രമിച്ച, ലോകത്തിലെ ആദ്യ കമ്പ്യൂട്ടർ എന്ന് അറിയപ്പെടുന്ന യന്ത്രത്തിന്റെ പേര് എന്താണ്?

Answer Options

- A അനലിറ്റിക് എഞ്ചിൻ
- B യൂനിക്സ്
- C ഏനിയക്
- D ബിഎസ്ഡി

IT Theory 100 Short Answer Questions

പ്രവർത്തനക്ഷമമായതും ആധുനിക കമ്പ്യൂട്ടറിന്റെ ആശയങ്ങളെല്ലാം ഉൾക്കൊള്ളിച്ച് നിർമ്മിക്കപ്പെട്ടതുമായ ആദ്യ കമ്പ്യൂട്ടർ ഏതാണ് ?

Answer Options

- A ഏനിയക്
- B യൂനികി
- C ബിഎസ്ഡി
- D അനലിറ്റിക് എഞ്ചിൻ

യൂനികി എന്ന ഓപറേറ്റിങ് സിസ്റ്റം ആദ്യമായി തയ്യാറാക്കിയത് താഴെ പറയുന്നവയിൽ ഏതു സ്ഥാപനമാണ് ?

Answer Options

- A അമേരിക്കയിലെ ബെൽ ലബോറട്ടറി
- B അമേരിക്കയിലെ കാലിഫോർണിയ യൂണിവേഴ്സിറ്റി
- C ആപ്പിൾ കോർപറേഷന്റെ കമ്പ്യൂട്ടർ നിർമ്മാണശാല
- D ശാ പ്രോജക്റ്റിന്റെ കമ്പ്യൂട്ടർ നിർമ്മാണശാല

Synfig Studio സോഫ്റ്റ്‌വെയറിൽ ഒരു ടൂളിന്റെ ചിത്രമാണ് നൽകിയിരിക്കുന്നത്. ഏതാണ് ഈ ടൂൾ ?

Answer Options

- A Transform Tool
 - B SmoothMove Tool
 - C Fill Tool
 - D Gradient Tool
- D Gradient Tool



IT Theory 100 Short Answer Questions

ഇന്റർനെറ്റ് ഉപയോഗിച്ച് പ്രാവർത്തികമാക്കാവുന്ന ചില കാര്യങ്ങൾ താഴെ ലിസ്റ്റ് ചെയ്തിട്ടുണ്ട്. ഇവയിൽ ഏറ്റവും ശരിയായ പ്രസ്താവന ഏതാണ്?

Answer Options

- A ഇന്റർനെറ്റ്, ഇ-മെയിലുകൾ അയക്കുന്നതിനായി ഉപയോഗിക്കുന്നതാണ്
- B ഡിജിറ്റൽ രൂപത്തിലുള്ള വിവരങ്ങൾ മറ്റുള്ളവരുമായി പങ്കുവെക്കുന്നതിനായി ഇന്റർനെറ്റ് ഉപയോഗിക്കുന്നു.
- C വിദൂരദേശങ്ങളിൽ താമസിക്കുന്നവരുമായി കണ്ടു സംസാരിക്കുന്നതിന് ഇന്റർനെറ്റ് ഉപയോഗിക്കുന്നു.
- D ഇവയെല്ലാം ഇന്റർനെറ്റ് ഉപയോഗിച്ച് സാധിക്കും.

വിവരങ്ങൾ പരസ്പരം കൈമാറത്തക്ക വിധത്തിൽ കമ്പ്യൂട്ടറുകളെ ബന്ധിപ്പിക്കുന്ന സംവിധാനത്തിന്റെ പേരെന്ത്?

Answer Options

- A. കമ്പ്യൂട്ടർ നെറ്റ്‌വർക്കിങ്
- B. ബ്ലോഗ്
- C. ഫയൽസിസ്റ്റം
- D. ഓപ്പറേറ്റിങ് സിസ്റ്റം

IT Theory 100 Short Answer Questions

```
from turtle import *  
for i in range(10,101,10):  
    circle(i)
```

ചിത്രത്തിൽ കൊടുത്തിരിക്കുന്ന പൈത്തൺ ഗ്രാഫിക്സ് പ്രോഗ്രാം പ്രവർത്തിപ്പിക്കുമ്പോൾ ലഭിക്കുന്ന ഔട്ട്പുട്ടിൽ എത്ര വൃത്തങ്ങൾ ഉണ്ടായിരിക്കും?

A

0

B

101

C

10

D

3

IT Theory 100 Short Answer Questions

ഒരു ഡോക്യുമെന്റിൽ പദങ്ങളെ ശീർഷകങ്ങളായി നിർവചിക്കാൻ വേഡ് പ്രോസസറിലുള്ള സങ്കേതം ഏത്?

A Styles and Formatting

B Paragraph Formatting

C Clone Formatting Tool

D Page Formatting

വേഡ് പ്രോസസർ ഡോക്യുമെന്റിൽ ഉള്ളടക്കപ്പെട്ടിടയിൽ നിന്ന് ബന്ധപ്പെട്ട പേജുകളിലേക്ക് പോകാനുള്ള വഴി എന്താണ്?

A Ctrl കീ അമർത്തിപ്പിടിച്ചുകൊണ്ട് ശീർഷകം ക്ലിക്ക് ചെയ്യുക.

B Alt കീ അമർത്തിപ്പിടിച്ചുകൊണ്ട് ശീർഷകം ക്ലിക്ക് ചെയ്യുക.

C Shift കീ അമർത്തിപ്പിടിച്ചുകൊണ്ട് ശീർഷകം ക്ലിക്ക് ചെയ്യുക.

D Enter കീ അമർത്തുക.

IT Theory 100 Short Answer Questions

വെബ്പേജ് നിർമ്മാണത്തിൽ കോഡ് ആവർത്തനം ഒഴിവാക്കുന്നതിന് കാസ്കേഡിങ് സ്റ്റൈലുകൾ എന്ന ആശയം അവതരിപ്പിച്ചത് ആരൊക്കെയാണ് ?

A Hakon Wium Lie, Bert Bos

B Sergey Brin, Larry Page

C Richard Stallman, Linus Torvalds

D Steve Jobs, Mark Zuckerberg

IT Theory 100 Short Answer Questions

നെറ്റ്‌വർക്കിലുൾപ്പെട്ടിരിക്കുന്ന ഉപകരണങ്ങളുടെ നാമകരണത്തിലും തറ്റും പാലിക്കേണ്ട പൊതു നിയമങ്ങൾ ഏതുപേരിലറിയപ്പെടുന്നു?

A ഐ. പി. അഡ്രസ്സ്

B നെറ്റ് മാസ്ക്

C നെറ്റ്‌വർക്ക് പ്രോട്ടോക്കോളുകൾ

D ഷെയറിംഗ്

കമ്പ്യൂട്ടറിൽ നിന്ന് മോഡത്തിലേക്ക് പോകുന്ന ഡാറ്റ എത് തരമായിരിക്കും?

A ഡിജിറ്റൽ

B അനലോഗ്

C ഡെസിമൽ

D ഹെക്സാഡെസിമൽ

IT Theory 100 Short Answer Questions

താഴെ പറയുന്നവയിൽ വെക്ടർ ഇമേജ് ഫയൽ ഏതാണ്?

A Circle.png

B Circle.jpg

C Circle.svg

D Circle.gif

IT Theory 100 Short Answer Questions

ഇക്സ്സൂപ്പിനെ സംബന്ധിച്ച് ശ്രദ്ധേയമായ സാധനങ്ങളിൽ ശരിയായത് എന്ത്?
[Click here to zoom Image](#)





A ഇക്സ്സൂപ്പിന്റെ ഡിഫാൾട്ട് കാൻവാസ് അതാര്യമാണ്.

B ഇക്സ്സൂപ്പിന്റെ ഡിഫാൾട്ട് കാൻവാസ് സുതാര്യമാണ്.

C ഇക്സ്സൂപ്പിന്റെ ഡിഫാൾട്ട് കാൻവാസ് അർദ്ധതാര്യമാണ്.

D ഇക്സ്സൂപ്പിന്റെ ഡിഫാൾട്ട് കാൻവാസ് നിറം നൽകിയതാണ്.

IT Theory 100 Short Answer Questions

	Smooth Move Tool	
	Gradient Tool		Fill Tool


Synfig Studio യിലെ ചില ടൂളുകളും അവയുടെ വിവരണങ്ങളും ആണ് പട്ടികയിൽ നൽകിയിരിക്കുന്നത്. വിട്ട് പോയ വിവരണ ഭാഗം ചുവടെ കൊടുത്തിരിക്കുന്നതിൽ നിന്ന് കണ്ടെത്തുക.

A Circle Tool

B Transform Tool

C Scale Tool

D Rotate Tool

Synfig Studio സോഫ്റ്റ്‌വെയറിലെ Gradient Tool ന്റെ ചിത്രമാണ് നൽകിയിരിക്കുന്നത് . ഇതിന്റെ ഉപയോഗമെന്ത് ? 

A ചതുരാകൃതിയിലുള്ള ബോക്സ് ഉണ്ടാക്കാൻ


B വൃത്താകൃതിയിലുള്ള ബോക്സ് ഉണ്ടാക്കാൻ

C ബോക്സുകൾ സെലക്ട് ചെയ്യാനും അതിന്റെ ഹാന്റിലുകളെ നിയന്ത്രിക്കാനും

D രണ്ടോ അതിലധികമോ വർണങ്ങൾ ലയിപ്പിക്കാൻ

IT Theory 100 Short Answer Questions

Synfig Studio സോഫ്റ്റ്‌വെയറിലെ Gradient Tool ന്റെ ചിത്രമാണ് നൽകിയിരിക്കുന്നത് . ഇതിന്റെ ഉപയോഗമെന്ത് ?



A

ചതുരാകൃതിയിലുള്ള ഒബ്ജക്റ്റ് ഉണ്ടാക്കാൻ

B

വൃത്താകൃതിയിലുള്ള ഒബ്ജക്റ്റ് ഉണ്ടാക്കാൻ

C

ഒബ്ജക്റ്റുകൾ സെലക്റ്റ് ചെയ്യാനും അതിന്റെ ഹാന്റിംഗുകളെ നിയന്ത്രിക്കാനും

D

രണ്ടോ അതിലധികമോ വർണങ്ങൾ ലയിപ്പിക്കാൻ

IT Theory 100 Short Answer Questions

താഴെ പറയുന്നവയിൽ ഏതാണ് ഗ്നു/ലിനക്സ് പ്രവർത്തിക്കുന്നതിന് അനുയോജ്യമായ ഫയൽ സിസ്റ്റം ?

A Ext3

B NTFS

C HPFS

D ReFS

IT Theory 100 Short Answer Questions

ദിയ തയ്യാറാക്കിയ ഫയലുകളാണ് ചുവടെ കൊടുത്തിട്ടുള്ളത്. ഇതിൽ നിന്ന് വേഡ് പ്രോസസറിൽ തയ്യാറാക്കിയ ഫയൽ തിരഞ്ഞെടുക്കുക

A Certificate.ods

B Certificate.odt

C Certificate.odp

D Certificate.odg

താൻ നിർമ്മിച്ച ഒരു ഡോക്യുമെന്റിന്റെ ശീർഷകങ്ങൾക്ക് നല്ലനായി അരുൺ ഒരു പുതിയ സ്റ്റൈൽ നിർമ്മിക്കാനാഗ്രേശിക്കുന്നു. ഇതിനായി ചുവടെ കൊടുത്തിരിക്കുന്ന രണ്ട് സെറ്റ് ഫോർമാറ്റുകൾ കൊടുക്കാൻ തീരുമാനിച്ചു.

1. അക്ഷര വലുപ്പം : 17, അക്ഷര ഫാമിലി : രചന, അക്ഷര നിറം : ചുവപ്പ്

2. മാർജിനിൽ നിന്നുള്ള അകലം : 12, ടെക്സ്റ്റ് അലൈൻമെന്റ് : ഇടത്

ഒരു തലക്കെട്ടിനെ സംബന്ധിച്ച് ഈ ഫോർമാറ്റുകളിൽ എതാണ് ശരിയായി ചെയ്യാൻ സാധിക്കുക ?

A രണ്ടു നിർദ്ദേശങ്ങളും തലക്കെട്ട് ഫോർമാറ്റ് ചെയ്യുന്നതിന് ഉപയോഗിക്കാൻ സാധിക്കുന്നവയാണ്.


B ആദ്യ നിർദ്ദേശം മാത്രമേ തലക്കെട്ടിന് യോജിക്കുകയുള്ളൂ, രണ്ടാമത്തേത് ചെയ്യാനാകില്ല.


C ആദ്യ നിർദ്ദേശം ചെയ്യാനാകില്ല, രണ്ടാമത്തെ നിർദ്ദേശം മാത്രമേ തലക്കെട്ടിന് യോജിക്കുകയുള്ളൂ.


D രണ്ടു നിർദ്ദേശങ്ങളും തലക്കെട്ട് ഫോർമാറ്റ് ചെയ്യുന്നതിന് യോജിച്ചവയല്ല.


IT Theory 100 Short Answer Questions

ഇങ്ക്സൂപ്പിൽ വരച്ച ചിത്രത്തിൽ ടെക്സ്റ്റ് ഉൾപ്പെടുത്തുന്നതിന് ഉപയോഗിക്കാവുന്ന ടൂൾ ?


A Create rectangles and squares 

B Create and edit text objects 

C Create circles, ellipses and arcs 

D Create stars and polygons 

IT Theory 100 Short Answer Questions

ഇക്സ്സൂപ്പ് സോഫ്റ്റ്‌വെയറിന്റെ ടൂൾ ബോക്സിൽ കാണുന്ന ഒരു ടൂലാണ് ചിത്രത്തിൽ. ഇതിന്റെ ഉപയോഗമെന്ത്? 

A ചതുരം വരക്കാൻ

B വൃത്തം വരക്കാൻ

C നോഡ് എഡിറ്റ് ചെയ്യാൻ

D അക്ഷരങ്ങൾ ഉൾപ്പെടുത്താൻ

IT Theory 100 Short Answer Questions

താഴെ കൊടുത്തിട്ടുള്ളവയിൽ ഓപ്പൺ സോഴ്സ് ലൈസൻസോടുകൂടിയ html എഡിറ്റർ ഏത് ?

A ജിയോജിബ്ര

B ക്വാണ്ടോ ജിസ്

C സിൻഹിഗ് സ്റ്റുഡിയോ

D കംപോസർ

ഒരു വെബ്സൈറ്റിൽ ഒരേ ടാഗ് ഉപയോഗിച്ച് ഉൾപ്പെടുത്തിയിരിക്കുന്ന വ്യത്യസ്ത ഉള്ളടക്കങ്ങൾക്ക് വെറുറെ സവിശേഷതകൾ കൊടുക്കണമെങ്കിൽ താഴെ കൊടുത്തിരിക്കുന്നവയിൽ ഉപയോഗിക്കേണ്ടത് ഏത് ?

A ക്ലാസ്സ് സെലക്ടർ

B ഹൈപ്പർ ലിങ്ക്

C എലമെന്റ് സെലക്ടർ

D ഒബ്ജക്ട് സെലക്ടർ

IT Theory 100 Short Answer Questions

ഒരു തയ്യാറാക്കിയ വെബ്‌പേജിൽ ധാരാളം പാഠശാലകൾ ഉണ്ട്.
ഈ പാഠശാലകൾക്കെല്ലാം കോമ്പ്യൂട്ടിങ്ങ് ടെക്സ്റ്റുകൾ ഉപയോഗിച്ച്
വ്യത്യസ്ത നിറം നൽകണമെങ്കിൽ ഉപയോഗിക്കാവുന്ന സെലക്ടർ ഏത്?

[Click here to zoom image](#)

A Element Selector

B Class Selector

C Internal Selector

D External Selector

IT Theory 100 Short Answer Questions

വെബ്പേജ് നിർമ്മാണത്തിൽ html ടാഗിന്റെ പേര് തന്നെ ട്രൈപ്പിൾ നിർവചിക്കാനും ഉപയോഗപ്പെടുത്തുന്ന സങ്കേതം ചുവടെ കൊടുത്തിരിക്കുന്നതിൽ ഏത്?

A Class Selector

B Hyperlink

C Element Selector

D WYSIWIG Editor

IT Theory 100 Short Answer Questions

ഒരു പദത്തിന് നൽകിയിട്ടുള്ള ഫോർമാറ്റുകൾ അതേപടി മറ്റ് വാക്കുകൾക്ക് നൽകാനുള്ള എളുപ്പവഴി താഴെപ്പറയുന്നവയിൽ ഏതാണ്?

A Paragraph Formatting

B Clone Formatting

C Character Formatting

D Page Formatting

ലിബ്രാറിയിൽ റൈറ്ററിലെ Apply Style Box ൽ നിന്ന് More Styles ക്ലിക്ക് ചെയ്യുമ്പോൾ തുറന്നുവരുന്ന ഷാലകത്തിന്റെ പേരെന്താണ്?

A Paragraph Formatting

B Styles and Formatting

C Character Formatting

D Page Formatting

IT Theory 100 Short Answer Questions

താഴെ കൊടുത്തിരിക്കുന്ന ഓപ്ഷനുകളിൽ സിസ്റ്റങ്ങളിൽ ലിനക്സ് അടിസ്ഥാനമാക്കിയുള്ളത് അല്ലാത്തത് ഏതാണ്?

A Debian

B Android

C Tizen

D iOS

IT Theory 100 Short Answer Questions

ചിത്രഘടകങ്ങളെ സംബന്ധിച്ച് ചുവടെ കൊടുത്തിരിക്കുന്ന പ്രസ്താവനകളിൽ ശരിയായ പ്രസ്താവന എന്ത്?

A B

svg ചിത്രങ്ങൾ വെബ്സൈറ്റ് ചിത്രങ്ങളാണ്. വെക്ടർ ചിത്രങ്ങൾ സ്ക്രീനിൽ ചെറുതാകുമ്പോൾ വ്യക്തത നഷ്ടപ്പെടുന്നു.

C D

ബിറ്റ് മാപ്പ് ചിത്രങ്ങളെ വെക്ടർ ചിത്രങ്ങൾ എന്നും പറയാം. svg ചിത്രങ്ങൾ റാസ്റ്റർ ചിത്രങ്ങളാണ്.

IT Theory 100 Short Answer Questions

ചിത്രപരമ്പരകളെ സംബന്ധിച്ച് ചുവടെ കൊടുത്തിരിക്കുന്ന പ്രസ്താവനകളിൽ ശരിയായ പ്രസ്താവന എന്ത്?


A svg ചിത്രങ്ങൾ വെക്ടർ ചിത്രങ്ങളാണ്.


B വെക്ടർ ചിത്രങ്ങൾ സ്ക്രീനിൽ ചെറുതാകുമ്പോൾ വ്യക്തത നഷ്ടപ്പെടുന്നു.


C ബിറ്റ് മാപ്പ് ചിത്രങ്ങളെ വെക്ടർ ചിത്രങ്ങൾ എന്നും പറയാം.


D svg ചിത്രങ്ങൾ റാസ്റ്റർ ചിത്രങ്ങളാണ്.

Synfig Studio സോഫ്റ്റ്‌വെയറിൽ തയ്യാറാക്കിയ ഒരു അനിമേഷൻ പ്രവർത്തിപ്പിക്കാൻ ചുവടെ നൽകിയിരിക്കുന്നതിൽ ഏത് ടൂളാണ് ഉപയോഗിക്കേണ്ടി വരിക ?

A 

B 

C 

D 

IT Theory 100 Short Answer Questions

Synfig Studio സോഫ്റ്റ്‌വെയറിൽ തയ്യാറാക്കുന്ന ഓരോ ചിത്രത്തെയും വിളിക്കുന്ന പേര് ചുവടെ നൽകിയിരിക്കുന്നതിൽ ഏതാണ്?

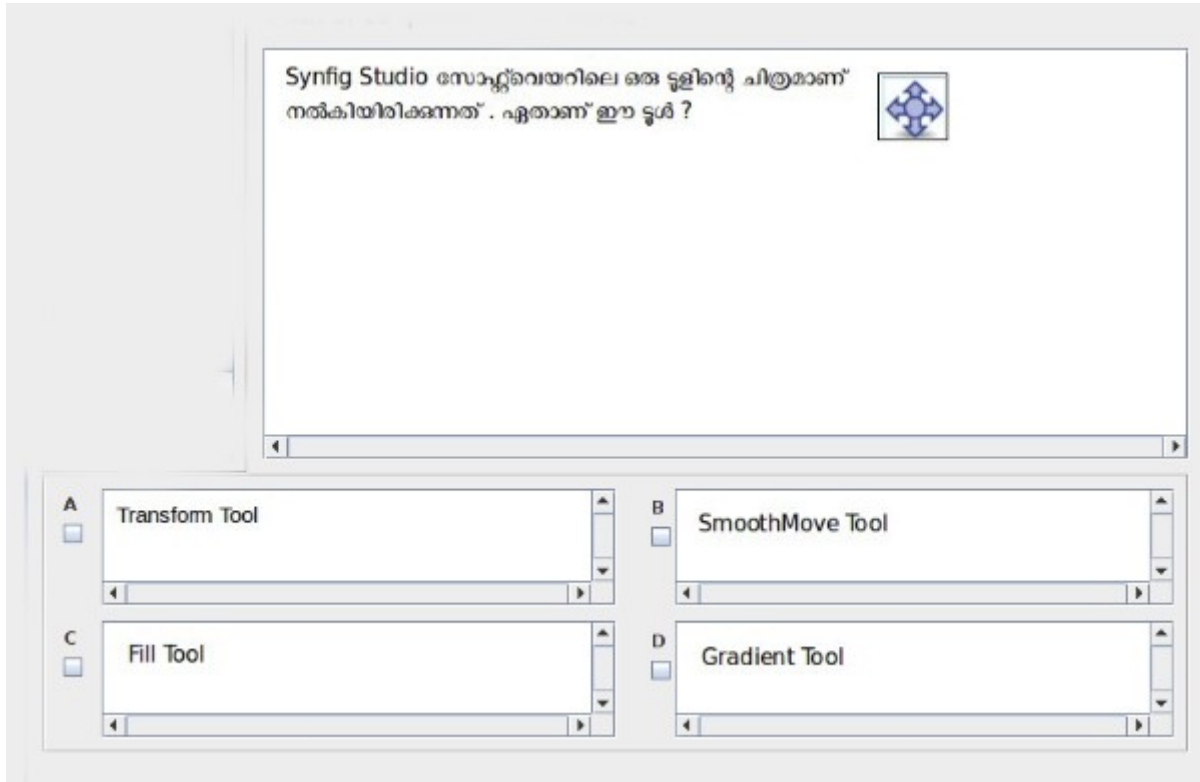
A ബ്ലാക്‌ട്രാക്കുകൾ

B അനിമേഷനുകൾ

C സ്ലൈഡുകൾ

D പാരമിറ്ററുകൾ

IT Theory 100 Short Answer Questions



IT Theory 100 Short Answer Questions

നൽകിയിരിക്കുന്ന പ്രസ്താവനകളിൽ നിന്നും Synfig Studio സോഫ്റ്റ്‌വെയറിനെക്കുറിച്ച് ശരിയായ പ്രസ്താവന തിരഞ്ഞെടുക്കുക.

A ഒരു സ്വതന്ത്ര ദ്വിമാന അനിമേഷൻ സോഫ്റ്റ്‌വെയറാണ് .

B ഒരു സ്വതന്ത്ര ത്രിമാന അനിമേഷൻ സോഫ്റ്റ്‌വെയറാണ് .

C ആകാശ നിരീക്ഷണത്തിനും പഠനത്തിനുമുള്ള സോഫ്റ്റ്‌വെയർ ആണ് .

D ശബ്ദം റെക്കോർഡ് ചെയ്യുന്നതിനുള്ള സോഫ്റ്റ്‌വെയറാണ് .

ലിബർഓഫീസ് ബേസിൽ സൂൾ ലൈബ്രറിയിലെ എല്ലാ പുസ്തകങ്ങളും ഉൾപ്പെടുത്തി ഒരു ഡാറ്റാബേസ് നിർമ്മിച്ചിട്ടുണ്ട്. ഇതിൽ നിന്നും ഒരു എഴുത്തുകാരന്റെ ഏതൊക്കെ പുസ്തകങ്ങളാണ് ലഭ്യമായിട്ടുള്ളത് എന്നറിയുന്നതിന് ചുവടെ തന്നിരിക്കുന്നവയിൽ ഏത് സമരംതമാണ് പ്രയോജനപ്പെടുത്തേണ്ടത്?

A Tables

B Forms

C Queries

D Print

IT Theory 100 Short Answer Questions

ചുവടെ കൊടുത്തിരിക്കുന്നവയിൽ ലിബർഓഫീസ് ബേസിൽ ഒരു ഡാറ്റാബേസുമായി ബന്ധമില്ലാത്തത് ഏത്?

A Slide

B Queries

C Forms

D Reports

രണ്ട് ഓപറേറ്റിങ് സിസ്റ്റങ്ങൾ ഇൻസ്റ്റാൾ ചെയ്യപ്പെട്ട ഒരു കമ്പ്യൂട്ടറിന്റെ ഹാർഡ് ഡിസ്ക് പരിശോധിച്ചപ്പോൾ താഴെ പറയുന്ന ഹയൽ സിസ്റ്റങ്ങൾ കണ്ടെത്തി.

1. Ext4 2. NTFS

എങ്കിൽ താഴെ പറയുന്ന ഏതെല്ലാം ഓപറേറ്റിങ് സിസ്റ്റങ്ങളായിരിക്കും സാധാരണഗതിയിൽ ഈ കമ്പ്യൂട്ടറിൽ ഉണ്ടായിരിക്കുക ?

A ശാ ലിനക്സ്
മൈക്രോസോഫ്റ്റ് വിൻഡോസും

B ആപ്പിൾ മാക് ഓഎസും
മൈക്രോസോഫ്റ്റ് വിൻഡോസും

C ശാ ലിനക്സ്
ആപ്പിൾ മാക് ഓഎസും

D ഫ്രീ ബിഎസ്ഡിയും
മൈക്രോസോഫ്റ്റ് വിൻഡോസും

IT Theory 100 Short Answer Questions

ഇന്റർനെറ്റിൽ പ്രവർത്തിക്കുന്ന വിവിധ സേവന സംവിധാനങ്ങളെ കുറിച്ച് താഴെ പറയുന്നവയിൽ ഏറ്റവും ശരിയായത് ഏതാണ് ?

A ഹയർസെക്കന്ററി പ്രവേശനത്തിനുള്ള ഓൺലൈൻ സംവിധാനമാണ് www.hscap.kerala.gov.in

B www.google.com എന്നത് ഒരു നവ സാമൂഹിക മാധ്യമമാണ്.

C ഇന്റർനെറ്റിൽ പ്രവർത്തിക്കുന്ന ഒരു തിരച്ചിൽ സംവിധാനമാണ് www.olam.com

D www.wiktionary.org എന്നത് മലയാളം വിക്കിപീഡിയയുടെ ഇമെയിൽ വിലാസമാണ്

IT Theory 100 Short Answer Questions

ചിത്രഘടകങ്ങളെ സംബന്ധിച്ച് ചുവടെ കൊടുത്തിരിക്കുന്ന പ്രസ്താവനകളിൽ ശരിയായ പ്രസ്താവന എന്ത്?

A svg ചിത്രങ്ങൾ വെബ്ബ് ചിത്രങ്ങളാണ്.

B വെക്ടർ ചിത്രങ്ങൾ സ്ക്രീനിൽ ചെമ്പുനോൾ വ്യക്തത നഷ്ടപ്പെടുന്നു.

C ബിറ്റ് മാപ്പ് ചിത്രങ്ങളെ വെബ്ബ് ചിത്രങ്ങൾ എന്നും പറയാം.

D svg ചിത്രങ്ങൾ റാസ്റ്റർ ചിത്രങ്ങളാണ്.

IT Theory 100 Short Answer Questions

ഇക്സ്പ്ലെയർയിൽ തയ്യാറാക്കിയ ഒരു ചിത്രം png ഫോർമാറ്റിലേക്ക് സേവ് ചെയ്യുന്നതിനുള്ള പ്രവർത്തനക്രമം ചുവടെ നൽകിയവയിൽ നിന്ന് തിരഞ്ഞെടുക്കുക.

A File → Save As

B File → Export PNG Image

C File → Import Clip Art

D File → Save a Copy

ഒരു പദത്തിന് നൽകിയിട്ടുള്ള ഫോർമാറ്റുകൾ അതേപടി മറ്റ് വാക്കുകൾക്ക് നൽകാനുള്ള എളുപ്പവഴി താഴെപ്പറയുന്നവയിൽ ഏതാണ്?

A Paragraph Formatting

B Clone Formatting

C Character Formatting

D Page Formatting

IT Theory 100 Short Answer Questions

ചുവടെ കൊടുത്തിരിക്കുന്നവയിൽ ഏതാണ് ഒരു ഭൂവിവരവ്യവസ്ഥാ സോഫ്റ്റ്‌വെയർ (Geographical Information System) ?

A Quantum GIS

B Python

C GeoGebra

D GIMP

ഒരു വെബ് പേജിലെ h2 വിഭാഗത്തിൽപ്പെട്ട ഹെഡിംഗുകൾക്കല്ലെങ്കിലും External കാമ്പുകൾക്ക് ടൈപ്പുകൾ ഉപയോഗിച്ച് ഒരു നിറം നൽകണം. ഇതിനായി CSS ഫയലിൽ ഉൾപ്പെടുത്തേണ്ട നിർദ്ദേശം ഏത് ?

A h2 - color = "#D6B0B0"

B h2 - colour = #D6B0B0

C h2 { color : #D6B0B0 ; }

D h2 < colour = #D6B0B0 >

IT Theory 100 Short Answer Questions

വെബ്സൈറ്റ് നിർമ്മാണത്തിൽ കോഡ് ആവർത്തനം ഒഴിവാക്കുന്നതിന് കാര്യമായിട്ട് ടെക്സ്റ്റ് ഫയലുകൾ എന്ന ആശയം അവതരിപ്പിച്ചത് ആരാണ്?

A Hakon Wium Lie, Bert Bos

B Sergey Brin, Larry Page

C Richard Stallman, Linus Torvalds

D Steve Jobs, Mark Zuckerberg

IT Theory 100 Short Answer Questions

സംഗ്രഹ് ഷീറ്റ്‌ൽ തയ്യാറാക്കിയ address.ods എന്ന പട്ടികയിലെ വിലാസങ്ങൾ letter.odt എന്ന കത്തിലേക്ക് ഉൾപ്പെടുത്തുന്നതിനുള്ള സാങ്കേതികത്വം?

A Export

B Mail Merge

C Wrap

D Import

IT Theory 100 Short Answer Questions

സബ്പ്രഡ് ഷീറ്റിൽ തയ്യാറാക്കിയ address.ods എന്ന പട്ടികയിലെ വിലാസങ്ങൾ letter.odt എന്ന കത്തിലേക്ക് ഉൾപ്പെടുത്തുന്നതിനുള്ള സങ്കേതമേത്?

A Export

B Mail Merge

C Wrap

D Import

വെബ്സൈറ്റ് നിർമ്മാണത്തിൽ കോഡ് ആവർത്തനം ഒഴിവാക്കുന്നതിന് കാസ്റ്റേഡിങ്ങ് ടെക്നിക്കുകൾ എന്ന ആശയം അവതരിപ്പിച്ചത് ആരൊക്കെയാണ്?

A Hakon Wium Lie, Bert Bos

B Sergey Brin, Larry Page

C Richard Stallman, Linus Torvalds

D Steve Jobs, Mark Zuckerberg

IT Theory 100 Short Answer Questions

ഒരു വെബ് പേജിലെ h2 വിഭാഗത്തിൽപ്പെട്ട ഹെഡ്ഡിംഗുകൾക്കെല്ലാം External കാമ്പുകഡിങ്ങ് ടൈപ്പുകൾ ഉപയോഗിച്ച് ഒരേ നിറം നൽകണം. ഇതിനായി css ഫയലിൽ ഉൾപ്പെടുത്തേണ്ട നിർദ്ദേശം ഏത്?

A

`h2 - color = "#D6B0B0"`

B

`h2 - colour = #D6B0B0`

C

`h2 { color : #D6B0B0 ; }`

D

`h2 < colour = #D6B0B0 >`

IT Theory 100 Short Answer Questions

ചുവടെ കൊടുത്തിരിക്കുന്നവയിൽ ഏതാണ് ഒരു ഭൂവിവരവ്യവസ്ഥാ സോഫ്റ്റ്‌വെയർ (Geographical Information System) ?

A Quantum GIS

B Python

C GeoGebra

D GIMP

IT Theory 100 Short Answer Questions

കൃഷിസ് പ്രപടത്തിലെ ഒരു ലെയറിലെ രേഖപ്പെടുത്തലുകളുടെ വിവരങ്ങൾ പ്രദർശിപ്പിക്കുന്നതിനുള്ള വഴി ഏത്?

A ലെയറിൽ റൈറ്റ് ക്ലിക്ക് ചെയ്ത് Open Attribute Table തുറക്കുക

B ലെയറിൽ റൈറ്റ് ക്ലിക്ക് ചെയ്ത് Toggle Editing തുറക്കുക

C ലെയറിൽ റൈറ്റ് ക്ലിക്ക് ചെയ്ത് Filter തുറക്കുക

D ലെയറിൽ റൈറ്റ് ക്ലിക്ക് ചെയ്ത് Properties തുറക്കുക

```
from turtle import*  
for a in range(4):  
    forward(100)  
    left(90)
```

ഒരു സമചതുരം തയ്യാറാക്കുന്നതിനുള്ള പൈത്തൺ പ്രോഗ്രാം നല്കിയിരിക്കുന്നു. ഈ സമചതുരത്തിന്റെ വശത്തിന്റെ കനം 5 യൂണിറ്റ് നൽകുന്നതിന് പ്രോഗ്രാമിൽ ചേർക്കേണ്ട നിർദ്ദേശം ചുവടെ തന്നിട്ടുള്ളതിൽ നിന്ന് തിരഞ്ഞെടുക്കുക.

A pencolor(5)

B pensize(5)

C pen_thickness(5)

D penline(5)

IT Theory 100 Short Answer Questions

```
from turtle import*  
for i in range(6):  
    forward(100)  
    right(60)
```

ചിത്രത്തിൽ തന്നിരിക്കുന്ന പൈത്തൺ പ്രോഗ്രാം പ്രവർത്തിക്കുമ്പോൾ ലഭിക്കുന്ന ഔട്ട്പുട്ട് താഴെ കൊടുത്തിട്ടുള്ളവയിൽ നിന്നും തിരഞ്ഞെടുക്കുക.

<input type="checkbox"/> A സമചതുരം	<input type="checkbox"/> B ദീർഘചതുരം
<input type="checkbox"/> C സമപഞ്ചജം	<input type="checkbox"/> D സമഷഡ്ജം

കമ്പ്യൂട്ടറിൽ വിവരങ്ങൾ പ്രോസസ് ചെയ്യുന്നതും സൂക്ഷിക്കുന്നതും ഏതു രൂപത്തിലാണ്?

<input type="checkbox"/> A ഡിജിറ്റൽ	<input type="checkbox"/> B അനലോഗ്
<input type="checkbox"/> C ഡെസിമൽ	<input type="checkbox"/> D ഇവയൊന്നുമല്ല

IT Theory 100 Short Answer Questions

ഒലിഫോൺ ശ്രാഖലയിൽ നിന്ന് മോഡത്തിലേക്ക് വരുന്ന ഡാറ്റ എത് തരമായിരിക്കും?

A ഡിജിറ്റൽ


B അനലോഗ്

C ഡെസിമൽ

D ഹെക്സാഡെസിമൽ

IT Theory 100 Short Answer Questions

ലിബർജാഫീസ് റൈറ്ററിലെ ചുവടെ കൊടുത്തിരിക്കുന്ന ടൂൾ ഏതാണ്?



[Click here to](#)

A Insert Chart

B Apply Style Box

C Add Decimal Place

D Clone Formatting

IT Theory 100 Short Answer Questions

ഒരു സ്കൂളിലെ കലോൽസവ വിജയികളുടെ പട്ടിക ഒരു ഡാറ്റാബേസിലുണ്ട്. ഇതുപയോഗിച്ച് കുട്ടികൾക്കുള്ള സർട്ടിഫിക്കറ്റുകൾ വേഡ് പ്രോസസ്സറിൽ തയ്യാറാക്കണം. നൽകിയിരിക്കുന്നതിൽ ഏതു സങ്കേതമാണ് ഇതിന് അനുയോജ്യം?

A മെയിൻ ഫ്രെയിം

B മെയിൻ ഓറ്റാച്ച്

C ഡാറ്റാബേസ് ക്വറി

D ഏക്സ്സെർട്ട് പിഡിഎഫ്

താഴെ പറയുന്നവയിൽ ചിത്രഫോർമാറ്റ് അല്ലാത്തതേത്?

A png

B jpg

C svg

D mpeg

IT Theory 100 Short Answer Questions

വെബ്സൈറ്റുകൾ നിർമ്മിക്കുമ്പോൾ ഒന്നിലധികം വെബ്പേജുകൾക്ക് ഒരേ ലേഔട്ട് നൽകാൻ സഹായിക്കുന്ന സംവിധാനം താഴെ കൊടുത്തിരിക്കുന്നവയിൽ ഏത്?

A വെബ് പ്രോസസറുകൾ

B വെബ് ബ്രൗസറുകൾ

C മാർക്ക് അപ് ഭാഷകൾ

D കാസ്റ്റഡിങ് സ്റ്റൈൽ ഷീറ്റുകൾ

കാസ്റ്റഡിങ് സ്റ്റൈലുകൾ ഉൾപ്പെടുത്തി വെബ്പേജുകൾ തയ്യാറാക്കുമ്പോൾ പശ്ചാത്തലനിറം നിർവ്വചിക്കാൻ സഹായിക്കുന്ന സവിശേഷത താഴെ കൊടുത്തിരിക്കുന്നവയിൽ ഏത്?

A background

B bg-color

C bgcolor

D back-color

IT Theory 100 Short Answer Questions

ചിത്രത്തിൽ കൊടുത്തിരിക്കുന്ന പൈത്തൺ പ്രോഗ്രാമിൽ രണ്ട് for നിർദ്ദേശങ്ങൾ ഉണ്ട്. ഈ വിധത്തിൽ ഒരു ആവർത്തന നിർദ്ദേശത്തിനുള്ളിൽ മറ്റൊരു ആവർത്തന നിർദ്ദേശം നൽകുന്ന രീതി എന്ത് പേരിൽ അറിയപ്പെടുന്നു ?

```
for i in range(6):  
    right(60)  
    for j in range(4):  
        forward(100)  
        right(90)
```

A ലൂപ്പ്

B ലൂപ്പ് സ്റ്റേറ്റ്‌മെന്റ്

C സ്റ്റേറ്റ്‌മെന്റ്

D നെസ്റ്റഡ് ലൂപ്പ്

IT Theory 100 Short Answer Questions

വയർലെസ് നെറ്റ്‌വർക്കുകളിൽ ഏത് തരം തരംഗങ്ങളാണ് പ്രയോജനപ്പെടുത്തുന്നത്?





A നേഡിയോ തരംഗങ്ങൾ

B ശബ്ദ തരംഗങ്ങൾ

C ഇൻഫ്രാറെഡ് തരംഗങ്ങൾ

D അൾട്രാവയലറ്റ് തരംഗങ്ങൾ

IT Theory 100 Short Answer Questions

	Smooth Move Tool	
	Gradient Tool		Fill Tool





Synfig Studio യിലെ ചില ടൂളുകളും അവയുടെ വിവരണങ്ങളും ആണ് പട്ടികയിൽ നൽകിയിരിക്കുന്നത്. വിട്ട് പോയ വിവരണ ഭാഗം ചുവടെ കൊടുത്തിയിരിക്കുന്നതിൽ നിന്ന് കണ്ടെത്തുക.

A Circle Tool

B Transform Tool

C Scale Tool

D Rotate Tool

	Smooth Move Tool	
	Gradient Tool		Fill Tool

Synfig Studio യിലെ ചില ടൂളുകളും അവയുടെ വിവരണങ്ങളും ആണ് പട്ടികയിൽ നൽകിയിരിക്കുന്നത്. വിട്ട് പോയ വിവരണ ഭാഗം ചുവടെ കൊടുത്തിയിരിക്കുന്നതിൽ നിന്ന് കണ്ടെത്തുക.

A Circle Tool

B Transform Tool

C Scale Tool

D Rotate Tool

IT Theory 100 Short Answer Questions

ചുവടെ നൽകിയിരിക്കുന്നവയിൽ ഏതാണ് Synfig Studio ഉപയോഗിച്ച് തയ്യാറാക്കിയ പ്രോജക്ട് ഫയൽ ?

A sky.xcf

B sky.osp

C sky.aup

D skysifz

തന്നിരിക്കുന്നവയിൽ ഡാറ്റാബേസ് മാനേജ്മെന്റ് സിസ്റ്റവുമായി ബന്ധപ്പെട്ട് ശരിയായ പ്രസ്താവന ഏത് ?

A ഉൾപ്പെടുത്താനാവാത്ത പട്ടികകളുടെ എണ്ണം പരിമിതമാണ്

B പട്ടികയിലെ വിവരങ്ങൾ ആവശ്യാനുസരണം നീക്കം ചെയ്യാം.

C ചിത്രങ്ങളെ വിവരങ്ങളായി ഉൾപ്പെടുത്താൻ കഴിയില്ല.

D ശരിയായ വിവരങ്ങൾ മാത്രമേ ഉൾപ്പെടുത്താൻ കഴിയൂ.

IT Theory 100 Short Answer Questions

ആദ്യത്തെ കമ്പ്യൂട്ടറായ അനലിറ്റിക് എഞ്ചിന് ആവശ്യമായ പ്രോഗ്രാം തയ്യാറാക്കാൻ ഏൽപ്പിച്ചിരുന്നതാരാണ് ?

A അഡ്വൈൻ

B ചാൾസ് ബാബേജ്

C റിച്ചാർഡ് സ്റ്റാൾമാൻ

D ഡെന്നീസ് റിച്ചി

ഇക്സ്സെപ്പിൾ വരച്ച ചിത്രത്തിന്റെ മുകളിലാണ് ഇംപോർട്ട് ചെയ്ത ചിത്രം വന്നിട്ടുള്ളത്. ചിത്രത്തെ പുറകിലേക്ക് മാറ്റുന്നതിന് ചിത്രം സെലക്ട് ചെയ്യുന്ന ശേഷം Object മെനുവിലെ ഏത് സങ്കേതമാണ് ഉപയോഗിക്കേണ്ടത്?

A Above

B Lower

C Up

D Down

IT Theory 100 Short Answer Questions

ഇങ്ക്സ്റ്റുപിൽ തയ്യാറാക്കിയ ഒരു ചിത്രത്തിന് നൽകിയ നിറത്തിന്റെ കടുപ്പം വ്യത്യാസപ്പെടുത്തുന്നതിന് ഉപയോഗിക്കുന്ന സങ്കേതം ചുവടെ നൽകിയതിൽ ഏതാണ് ?

A Group

B Opacity

C Difference

D Duplicate

IT Theory 100 Short Answer Questions

ലിബർടാഫീസ് റൈറ്ററിൽ തയ്യാറാക്കിയ ഡോക്യുമെന്റിലെ ഒരു തലക്കെട്ടിനെ ശീർഷകമായി നിർവചിക്കാൻ ചുവടെ കൊടുത്തിരിക്കുന്നവയിൽ ഏത് ഉപയോഗിക്കാം?

A Clone Formatting Tool

B Apply Style Box

C Formatting Tool

D Standard Tool

IT Theory 100 Short Answer Questions

ചെറുതെഴുതുന്ന ഗ്രാഫിക്സിൽ ഒരു പ്രോഗ്രാം തയ്യാറാക്കുമ്പോൾ ഒന്നാമതായി നൽകേണ്ട നിർദ്ദേശം താഴെ കൊടുത്തിട്ടുള്ളവയിൽ ഏതാണ് ?

A `for i in range(4):`

B `begin_fill()`

C `from turtle import*`

D `right()`

ചെറുതെഴുതുന്ന ഗ്രാഫിക്സ് പ്രോഗ്രാമുകൾ തയ്യാറാക്കുമ്പോൾ ഔട്ട്പുട്ട് ജാലകത്തിൽ നീല നിറത്തിൽ ഒരു ബിന്ദു രേഖപ്പെടുത്താൻ ഉപയോഗിക്കുന്ന നിർദ്ദേശം താഴെ കൊടുത്തിട്ടുള്ളവയിൽ ഏത് ?

A `dot(20, "blue")`

B `dot("blue", 20)`

C `point(20, "blue")`

D `point("blue", 20)`

IT Theory 100 Short Answer Questions

ഒരു മുറിക്കുള്ളിലെയോ, കെട്ടിടത്തിനുള്ളിലെയോ കമ്പ്യൂട്ടറുകളെ അന്യോന്യം ബന്ധിപ്പിച്ചിരിക്കുന്ന സംവിധാനത്തിന് പറയുന്ന പേരെന്ത് ?


A WAN

B LAN

C MAN

D RAM

ലിബർഓഫീസ് റൈറ്ററിലെ ചുവടെ കൊടുത്തിരിക്കുന്ന ടൂൾ ഏതാണ്?



A Insert Chart

B Apply Style Box

C Add Decimal Place

D Clone Formatting

IT Theory 100 Short Answer Questions

മെഡ് പ്രോഗ്രാമിംഗ് ഡോക്യുമെന്റിൽ ഉള്ളടക്കപ്പെട്ടിരിക്കുന്ന ഉൾപ്പെടുത്താനുള്ള പ്രവർത്തനം ഏത്?

A Insert → Indexes and Tables

B Format → Indexes and Tables

C view → Indexes and Tables

D Edit → Indexes and Tables

IT Theory 100 Short Answer Questions

Sunclock സോഫ്റ്റ്‌വെയറിൽ ആനിമേഷൻ ശ്രമിക്കണമെന്നായി പ്രയാജനപ്പെടുത്തുന്ന ടൂളുകൾ ചുവടെ നൽകിയിരിക്കുന്നവയിൽ നിന്ന് തിരഞ്ഞെടുക്കുക.

A H P T


B < ! X

C A B G

D N Y H

IT Theory 100 Short Answer Questions

നൽകിയിരിക്കുന്ന Sunclock സോഫ്റ്റ്‌വെയറിലെ ക്ലോക്ക് & മാപ്പ് ജാലകത്തിന്റെ ചിത്രം വിശകലനം ചെയ്ത് ചുവടെ കൊടുത്തിട്ടുള്ളവയിലെ ശരിയായ പ്രസ്താവന കണ്ടെത്തുക.



A ദക്ഷിണാർദ്ധഗോളത്തിൽ പകലിന്റെ ദൈർഘ്യം കൂടുതലാണ്

B ഉത്തരാർദ്ധഗോളത്തിൽ രാത്രിയുടെ ദൈർഘ്യം കൂടുതലാണ്

C ഉത്തര-ദക്ഷിണാർദ്ധ ഗോളങ്ങളിൽ രാത്രി-പകൽ ദൈർഘ്യം തുല്യമാണ്

D ഉത്തര-ദക്ഷിണാർദ്ധ ഗോളങ്ങളിൽ രാത്രി-പകൽ ദൈർഘ്യം തുല്യമല്ല

വെബ്സൈറ്റുകൾ തയ്യാറാക്കാൻ നമ്മെ സഹായിക്കുന്ന WCMS എന്നതിന്റെ പൂർണ്ണരൂപം എന്ത് ?

A Web Content Management System

B Web Control Machine System

C Wiki Content Management system

D Wiki Control Machine System

IT Theory 100 Short Answer Questions

താഴെ കൊടുത്തിട്ടുള്ളവയിൽ ഓപ്പൺ സോഴ്സ് ലൈസൻസോടുകൂടിയ html എഡിറ്റർ ഏത്?

A ജിയോജിബ്ര

B ക്യാഞ്ചോ ജിസ്

C സിൻഫിഗ് സ്റ്റുഡിയോ

D കാപോസർ

സെർവറുകളിൽ വെബ്സൈറ്റുകൾ സ്ഥാപിക്കുന്ന പ്രവർത്തനത്തെ വിളിക്കുന്ന പേരാണ് ?

A ബ്ലോഗിങ്

B ഹോർമാറ്റിങ്

C ഹോസ്റ്റിങ്

D ബുള്ളറ്റിയിങ്

IT Theory 100 Short Answer Questions

ഇന്റർനെറ്റിലെ Domain Name System നിയന്ത്രിക്കുന്ന സംഘടന ഏത്?

A The Internet Society

B The Internet Engineering Task Force (IETF)

C The Internet Corporation for Assigned Names and Numbers (ICANN)

D World Wide Web (WWW)

IT Theory 100 Short Answer Questions

ചുവടെ കൊടുത്തവയിൽ ഓപ്പൺസ്കീറ്റ് മാപ്പിനെക്കുറിച്ചുള്ള പ്രസ്താവനകളിൽ ശരിയായത് കണ്ടെത്തുക.

A ഒരു ദ്രവീവരവ്യവസ്ഥാ സോഫ്റ്റ്‌വെയറാണ്

B ഒരു ഓൺലൈൻ വിജ്ഞാനകോശമാണ്

C ഒരു ഓഫ്ലൈൻ വിജ്ഞാനകോശമാണ്

D ഒരു ഓൺലൈൻ പ്രവേശനവിധാനമാണ്

IT Theory 100 Short Answer Questions

ഒരു പ്രദേശത്തെ വിവിധ മാസങ്ങളിലെ രാത്രി ദൈർഘ്യം കണ്ടെത്തണം. ഇതിന് ചുവടെ നൽകിയിരിക്കുന്നതിൽ ഏത് സോഫ്റ്റ്‌വെയറാണ് അനുയോജ്യം?

A Inkscape

B Qgis

C Sunclock

D GeoGetra

പൈത്തൺ ഗ്രാഫിക്സ് പ്രോഗ്രാമുകൾ ഉപയോഗിച്ച് തയ്യാറാക്കുന്ന ജ്യോമെട്രിക് രൂപങ്ങൾക്ക് വ്യത്യസ്ത നിറങ്ങൾ നൽകുന്നതിന് താഴെ കൊടുത്തിട്ടുള്ളവയിൽ ഏത് നിർദ്ദേശം ഉപയോഗിക്കാം?

A pen-color()

B pencolour()

C colour()

D color()

IT Theory 100 Short Answer Questions

html ു കാസ്റ്റഡിങ്ങ് സ്റ്റൈലുകളും ഉപയോഗിച്ച് വെബ്‌പേജുകൾ തയ്യാറാക്കുമ്പോൾ html ടാഗുകളുടെ കൂടെ തന്നെ അവയുടെ സ്വീകരണരീതികളും ഉൾപ്പെടുത്താം. ഇത്തരത്തിലുള്ള കാസ്റ്റഡിങ്ങ് സ്റ്റൈലുകൾക്ക് പറയുന്ന പേരെന്ത്?

A Inline Style

B External Style Sheet

C Internal Style Sheet

D Styles Sheet

IP വേർഷൻ 4 പ്രകാരമുള്ള ഐ. പി വിലാസങ്ങൾക്ക് എത്ര ഭാഗങ്ങളാണുള്ളത്?

A 1

B 2

C 3

D 4

Collected By ITClub TSNMHS Kundurkunnu

Collected By ITClub TSNMHS Kundurkunnu