

**വാർഷിക മൂല്യനിർണയം 2017-18**  
**ഉദ്ദേശ്യം - മൂന്നാം ദിവസം**

ക്ലാസ് : I

പേര്: ..... സ്കൂൾ:.....

നിലവാരസൂചിക

**വാർഷിക് 11**

**വിത്തുപാക്കുകൾ**

ബാക്കിയായ വിത്തുപാക്കുകൾ കണ്ടെത്തൂ.



**മത്തൻ**

ആകെ പാക്കുകൾ	-	16
കുട്ടികൾക്കു കൊടുത്തത്	-	8
ബാക്കി		<input type="text"/>

**കുമ്പളം**

ആകെ പാക്കുകൾ	-	12
കുട്ടികൾക്കു കൊടുത്തത്	-	7
ബാക്കി		<input type="text"/>

**വെള്ളരി**

ആകെ പാക്കുകൾ	-	9
കുട്ടികൾക്കു കൊടുത്തത്	-	4
ബാക്കി		<input type="text"/>

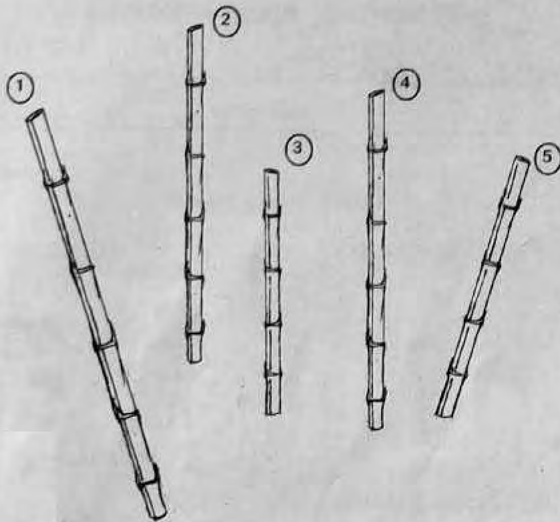
**വെണ്ട**

ആകെ പാക്കുകൾ	-	20
കുട്ടികൾക്കു കൊടുത്തത്	-	4
ബാക്കി		<input type="text"/>

ഏതു വിത്തുപാക്കുകളാണ് കൂടുതൽ ബാക്കി.



കമ്പുകളുടെ നീളം കണ്ടെത്തൂ...



	ഉറപ്പിച്ചത്	അളന്നത്
ഏറ്റവും നീളം കൂടിയ കമ്പ്		
ഏറ്റവും നീളം കുറഞ്ഞ കമ്പ്		

തുല്യനീളമുള്ള കമ്പുകൾ ഏതൊക്കെ?

ശരിയായവ തമ്മിൽ വരച്ചു യോജിപ്പിക്കൂ.



റേഷൻകട




പോസ്റ്റ് ഓഫീസ്



ആശുപത്രി



വായനശാല




സ്കൂൾ





മനുഷ്യന്റെ സർവ്വതയ്ക്കു വിലമതിക്കുന്നതെന്തെന്ന് എഴുതുക.



Handwriting practice lines consisting of multiple horizontal dashed lines on a solid background.

സംഖ്യാകാർഡിലെ സംഖ്യകൾ നോക്കി താഴെക്കൊടുത്ത ചോദ്യങ്ങൾക്ക് ഉത്തരമെഴുതൂ.

5	11	8	26
29	34	21	38
17	25	18	31
	16	35	

- 30-നും 40-നും ഇടയിലുള്ള സംഖ്യാകാർഡുകൾ ഏതൊക്കെ?

- 20-നും 30-നും ഇടയിലുള്ള സംഖ്യാകാർഡുകൾ വലുതിൽ നിന്ന് ചെറുതിലേക്ക് ക്രമീകരിക്കൂ.

- സംഖ്യാകാർഡുകളിൽ നിന്ന് രണ്ട് ഒറ്റ സംഖ്യകൾ കണ്ടെത്തി എഴുതൂ.