

A**CCE RF
REVISED**

ಕರ್ನಾಟಕ ಪ್ರೌಢ ಶಿಕ್ಷಣ ಪರೀಕ್ಷಾ ಮಂಡಳಿ, ಮಲ್ಲೇಶ್ವರಂ, ಬೆಂಗಳೂರು – 560 003
KARNATAKA SECONDARY EDUCATION EXAMINATION BOARD, MALLESWARAM,
BANGALORE – 560 003

ಎಸ್.ಎಸ್.ಎಲ್.ಸಿ. ಪರೀಕ್ಷೆ, ಮಾರ್ಚ್ / ಏಪ್ರಿಲ್, 2019
S.S.L.C. EXAMINATION, MARCH / APRIL, 2019

ಮಾದರಿ ಉತ್ತರಗಳು
MODEL ANSWERS

ದಿನಾಂಕ : 29. 03. 2019]

ಸಂಕೇತ ಸಂಖ್ಯೆ : **85-K**

Date : 29. 03. 2019]

CODE No. : **85-K**

ವಿಷಯ : ಸಮಾಜ ವಿಜ್ಞಾನ
Subject : SOCIAL SCIENCE
(ಕನ್ನಡ ಭಾಷಾಂತರ / Kannada Version)
(ಹೊಸ ಪಠ್ಯಕ್ರಮ / New Syllabus)
(ಶಾಲಾ ಅಭ್ಯರ್ಥಿ / Regular Fresh)

[ಗರಿಷ್ಠ ಅಂಕಗಳು : 80

[Max. Marks : 80

ಪ್ರಶ್ನೆ ಸಂಖ್ಯೆ	ಪ್ರಶ್ನಾನುಸಾರ ಮೌಲ್ಯಮಾಪನ	ಅಂಕಗಳು
I.	ಬಹು-ಆಯ್ಕೆ ಪ್ರಶ್ನೆ (ಕ್ರಮಾಕ್ಷರದೊಂದಿಗಿನ ಪ್ರತಿ ಸರಿಯುತ್ತರಕ್ಕೆ 1 ಅಂಕ) : $10 \times 1 = 10$	
1.	1909 ರಲ್ಲಿ ಪ್ರತ್ಯೇಕ ಚುನಾವಣಾ ಮತಗಟ್ಟೆ ವ್ಯವಸ್ಥೆಯನ್ನು ರಚಿಸಲು ಕಾರಣ (A) ಮುಸ್ಲಿಂರಿಗೆ ಪ್ರತ್ಯೇಕ ಪ್ರಾತಿನಿಧ್ಯ ನೀಡಲು (B) ಯೂರೋಪಿಯನ್ನರಿಗೆ ಪ್ರತ್ಯೇಕ ಕ್ಷೇತ್ರ ರಚಿಸಲು (C) ಸಿಖ್‌ರಿಗೆ ಪ್ರತ್ಯೇಕ ಪ್ರಾತಿನಿಧ್ಯ ನೀಡಲು (D) ಕ್ರೈಸ್ತರಿಗೆ ಕೆಲ ಸ್ಥಾನಗಳ ಮೀಸಲು ನೀಡಲು ಉತ್ತರ : (A) ಮುಸ್ಲಿಂರಿಗೆ ಪ್ರತ್ಯೇಕ ಪ್ರಾತಿನಿಧ್ಯ ನೀಡಲು	1

RF - (A) - 1016

[Turn over


ಪ್ರಶ್ನೆ ಸಂಖ್ಯೆ	ಪ್ರಶ್ನಾನುಸಾರ ಮೌಲ್ಯಮಾಪನ	ಅಂಕಗಳು
2.	<p>ಮೊದಲನೆಯ ಆಂಗ್ಲೋ-ಮೈಸೂರು ಯುದ್ಧವನ್ನು ಕೊನೆಗೊಳಿಸಿದ್ದು</p> <p>(A) ಮೈಸೂರು ಒಪ್ಪಂದ (B) ಮದ್ರಾಸ್ ಒಪ್ಪಂದ</p> <p>(C) ಮಂಗಳೂರು ಒಪ್ಪಂದ (D) ಶ್ರೀರಂಗಪಟ್ಟಣ ಒಪ್ಪಂದ</p> <p>ಉತ್ತರ : (B) ಮದ್ರಾಸ್ ಒಪ್ಪಂದ</p>	1
3.	<p>'ನ್ಯೂ ಇಂಡಿಯಾ' ವೃತ್ತ ಪತ್ರಿಕೆಯನ್ನು ಆರಂಭಿಸಿದವರು</p> <p>(A) ರಾಜಾ ರಾಮ್‌ಮೋಹನ ರಾಯ್ (B) ಮಹಾತ್ಮ ಗಾಂಧೀಜಿ</p> <p>(C) ಅನಿಬೆಸೆಂಟ್ (D) ದಯಾನಂದ ಸರಸ್ವತಿ</p> <p>ಉತ್ತರ : (C) ಅನಿಬೆಸೆಂಟ್</p>	1
4.	<p>ವಿಶ್ವಸಂಸ್ಥೆಯು ಮಾನವ ಹಕ್ಕುಗಳ ಘೋಷಣೆಯನ್ನು ಅಂಗೀಕರಿಸಿದ ವರ್ಷ</p> <p>(A) 1945 (B) 1950</p> <p>(C) 1947 (D) 1948</p> <p>ಉತ್ತರ : (D) 1948</p>	1
5.	<p>ವಿಶ್ವಸಂಸ್ಥೆಯ ಭದ್ರತಾ ಸಮಿತಿಗೆ ಸಂಬಂಧಿಸಿದಂತೆ ಸರಿಯಾದ ಹೇಳಿಕೆ</p> <p>(A) ಅದು 15 ಖಾಯಂ ಸದಸ್ಯರನ್ನು ಹೊಂದಿದೆ</p> <p>(B) ಅದು ವಿಶ್ವಸಂಸ್ಥೆಯ ಸಚಿವ ಸಂಪುಟವಿದ್ದಂತೆ</p> <p>(C) ಅದು ಪ್ಯಾರಿಸ್‌ನಲ್ಲಿ ತನ್ನ ಕೇಂದ್ರ ಕಚೇರಿ ಹೊಂದಿದೆ</p> <p>(D) ಇತ್ತೀಚೆಗೆ ಭಾರತ ಖಾಯಂ ಸದಸ್ಯತ್ವ ಪಡೆದಿದೆ</p> <p>ಉತ್ತರ : (B) ಅದು ವಿಶ್ವಸಂಸ್ಥೆಯ ಸಚಿವ ಸಂಪುಟವಿದ್ದಂತೆ</p>	1
6.	<p>'ಕಾಣದ ಹಸಿವು' ಎಂದರೆ</p> <p>(A) ಪೌಷ್ಟಿಕತೆ (B) ಅಪೌಷ್ಟಿಕತೆ</p> <p>(C) ಶ್ರೀಮಂತರಲ್ಲಿ ಹಸಿವು (D) ಸಮತೋಲನ ಆಹಾರ</p> <p>ಉತ್ತರ : (B) ಅಪೌಷ್ಟಿಕತೆ</p>	1

ಪ್ರಶ್ನೆ ಸಂಖ್ಯೆ	ಪ್ರಶ್ನಾನುಸಾರ ಮೌಲ್ಯಮಾಪನ	ಅಂಕಗಳು
7.	<p>ಕಪ್ಪು ಮಣ್ಣು ಒಣ ಬೇಸಾಯಕ್ಕೆ ಸೂಕ್ತವಾಗಿರಲು ಕಾರಣ</p> <p>(A) ಅಧಿಕ ಮಳೆ ಬೀಳುವ ಪ್ರದೇಶದಲ್ಲಿ ಉತ್ಪತ್ತಿಯಾಗಿದೆ</p> <p>(B) ಕಡಿಮೆ ತೇವಾಂಶ ಸಂಗ್ರಹ ಸಾಮರ್ಥ್ಯ ಹೊಂದಿದೆ</p> <p>(C) ದೀರ್ಘಕಾಲ ತೇವಾಂಶ ಹಿಡಿದಿಟ್ಟುಕೊಳ್ಳುವ ಸಾಮರ್ಥ್ಯ ಹೊಂದಿದೆ</p> <p>(D) ಸ್ಥಟಿಕ ಶಿಲೆಗಳ ಶಿಥಿಲೀಕರಣದಿಂದ ಉತ್ಪತ್ತಿಯಾಗಿದೆ</p> <p>ಉತ್ತರ : (C) ದೀರ್ಘಕಾಲ ತೇವಾಂಶ ಹಿಡಿದಿಟ್ಟುಕೊಳ್ಳುವ ಸಾಮರ್ಥ್ಯ ಹೊಂದಿದೆ</p>	1
8.	<p>ದಾಮೋದರ ನದಿಕಣಿವೆ ಯೋಜನೆಯ ನಿರ್ಮಾಣದಿಂದಾಗಿರುವ ಪರಿಣಾಮ</p> <p>(A) ದಾಮೋದರ ನದಿಯು ಬಂಗಾಳದ ದುಃಖ ನದಿಯಾಗಿ ಉಳಿದಿಲ್ಲ</p> <p>(B) ಭೂಕುಸಿತಗಳು ಹೆಚ್ಚಾಗಿವೆ</p> <p>(C) ಬಲಿಷ್ಠ ಭೂಕಂಪನಗಳನ್ನು ಉಂಟುಮಾಡಿದೆ</p> <p>(D) ಪ್ರಮುಖ ಕೈಗಾರಿಕಾ ಪ್ರದೇಶಗಳು ಮುಳುಗಡೆಯಾಗಿವೆ</p> <p>ಉತ್ತರ : (A) ದಾಮೋದರ ನದಿಯು ಬಂಗಾಳದ ದುಃಖ ನದಿಯಾಗಿ ಉಳಿದಿಲ್ಲ</p>	1
9.	<p>ಪ್ರತ್ಯಕ್ಷ ತೆರಿಗೆಗೆ ಒಂದು ಉದಾಹರಣೆ</p> <p>(A) ಮೌಲ್ಯವರ್ಧಿತ ತೆರಿಗೆ (B) ಕೇಂದ್ರ ಅಬಕಾರಿ ತೆರಿಗೆ</p> <p>(C) ಸ್ಟ್ಯಾಂಪ್ ಶುಲ್ಕ (D) ಸೇವಾ ತೆರಿಗೆ</p> <p>ಉತ್ತರ : (C) ಸ್ಟ್ಯಾಂಪ್ ಶುಲ್ಕ</p>	1
10.	<p>ಒಬ್ಬ ವ್ಯಕ್ತಿಯು 15 ಲಕ್ಷ ಬೆಲೆ ಬಾಳುವ ಕಾರನ್ನು ಕೊಂಡಿರುತ್ತಾನೆ. ಆ ಕಾರಿನಲ್ಲಿ ಕೆಲವು ತೊಂದರೆಗಳಿದ್ದರೂ ಆ ಕಾರು ಕಂಪನಿಯವರು ಸರಿಯಾಗಿ ಸ್ಪಂದಿಸುತ್ತಿಲ್ಲ. ಆಗ ಆ ವ್ಯಕ್ತಿಯು ಯಾವ ವೇದಿಕೆ / ಆಯೋಗಕ್ಕೆ ದೂರು ಸಲ್ಲಿಸಬೇಕು ?</p> <p>(A) ಜಿಲ್ಲಾ ಗ್ರಾಹಕರ ವೇದಿಕೆ</p> <p>(B) ರಾಜ್ಯ ಗ್ರಾಹಕರ ಆಯೋಗ</p> <p>(C) ರಾಷ್ಟ್ರೀಯ ಗ್ರಾಹಕರ ಆಯೋಗ</p> <p>(D) ಅಂತರರಾಜ್ಯ ಗ್ರಾಹಕರ ವೇದಿಕೆ</p> <p>ಉತ್ತರ : (A) ಜಿಲ್ಲಾ ಗ್ರಾಹಕರ ವೇದಿಕೆ</p>	1


ಪ್ರಶ್ನೆ ಸಂಖ್ಯೆ	ಪ್ರಶ್ನಾನುಸಾರ ಮೌಲ್ಯಮಾಪನ	ಅಂಕಗಳು
II.	ಒಂದೊಂದು ವಾಕ್ಯದಲ್ಲಿ ಉತ್ತರಿಸುವುದು : 14 × 1 = 14	
11.	ಶುದ್ಧ ಚಳುವಳಿಯನ್ನು ಏಕೆ ಆರಂಭಿಸಲಾಯಿತು ? ಉತ್ತರ : ಹಿಂದೂ ಧರ್ಮದಿಂದ ಇಸ್ಲಾಂ ಮತ್ತು ಕ್ರೈಸ್ತ ಧರ್ಮಕ್ಕೆ ಮತಾಂತರಗೊಂಡವರನ್ನು ಮತ್ತೆ ಹಿಂದೂ ಧರ್ಮಕ್ಕೆ ಸೇರಿಸಿಕೊಳ್ಳಲು.	1
12.	ಭಾರತೀಯ ಸ್ವನಿಕರು ರಾಯಲ್ ಎನ್‌ಫೀಲ್ಡ್ ಬಂದೂಕುಗಳ ಬಳಕೆಯನ್ನು ಏಕೆ ವಿರೋಧಿಸಿದರು ? ಉತ್ತರ : ಬಂದೂಕುಗಳಿಗೆ ಬಳಸುತ್ತಿದ್ದ ತುಪಾಕಿಗಳಿಗೆ ಹಂದಿ ಮತ್ತು ಹಸುವಿನ ಕೊಬ್ಬನ್ನು ಸವರಿದ್ದರಿಂದ.	1
13.	ಸರ್ದಾರ್ ವಲ್ಲಭಬಾಯಿ ಪಟೇಲ್‌ರನ್ನು 'ಭಾರತದ ಉಕ್ಕಿನ ಮನುಷ್ಯ' ಎಂದು ಏಕೆ ಕರೆಯಲಾಗಿದೆ ? ಉತ್ತರ : ಭಾರತದ ದೇಶೀಯ ಸಂಸ್ಥಾನಗಳನ್ನು ವಿಲೀನಗೊಳಿಸುವ ಕಾರ್ಯಭಾರವನ್ನು ಯಶಸ್ವಿಯಾಗಿ ನಿರ್ವಹಿಸಿದ್ದರು.	1
14.	ಸರ್ಕಾರವು ಟಿಬೆಟಿಯನ್ ನಿರಾಶ್ರಿತರ ಸಮಸ್ಯೆಯನ್ನು ಹೇಗೆ ಪರಿಹರಿಸಿತು ? ಉತ್ತರ : ಸರ್ಕಾರ ಮೈಸೂರು ಜಿಲ್ಲೆಯ ಬೈಲಕುಪ್ಪೆ ಎಂಬಲ್ಲಿ ಟಿಬೆಟಿಯನ್ ನಿರಾಶ್ರಿತರಿಗಾಗಿ ಸುಮಾರು 3000 ಎಕರೆಗಳ ಜಮೀನನ್ನು ಮಂಜೂರು ಮಾಡಿತು.	1
15.	ಅಮೆರಿಕಾದಲ್ಲಿ ಮೊದಲನೆಯ ಮಹಾಯುದ್ಧದ ನಂತರ ಕೃಷಿ ಉತ್ಪಾದನೆ ಕುಸಿಯಿತು. ಏಕೆ ? ಉತ್ತರ : ಆರ್ಥಿಕ ಮಹಾಕುಸಿತದಿಂದಾಗಿ ಅಮೆರಿಕಾದ ಆರ್ಥಿಕ ಬೆಳವಣಿಗೆಯು ಕುಂಠಿತಗೊಂಡಿದ್ದುದರ ಪರಿಣಾಮವಾಗಿ.	1
16.	ನಿಶ್ಚಿತಕರಣ ಎಂದರೇನು ? ಉತ್ತರ : * ಕೆಲವು ನಿರ್ದಿಷ್ಟ ಬಗೆಯ ಶಸ್ತ್ರಾಸ್ತ್ರಗಳನ್ನು ಹಂತ ಹಂತವಾಗಿ ಬಳಕೆಯಿಂದ ನಿಲ್ಲಿಸುವುದು. * ನಿರ್ದಿಷ್ಟ ಅಥವಾ ಎಲ್ಲಾ ಶಸ್ತ್ರಾಸ್ತ್ರಗಳನ್ನು ಕಡಿತಗೊಳಿಸುವ ಅಥವಾ ಬಳಕೆಯಿಂದ ಸಂಪೂರ್ಣವಾಗಿ ನಿಲ್ಲಿಸುವ ನೇರ ಪ್ರಕ್ರಿಯೆ. (ಯಾವುದಾದರೂ ಒಂದು)	1

ಪ್ರಶ್ನೆ ಸಂಖ್ಯೆ	ಪ್ರಶ್ನಾನುಸಾರ ಮೌಲ್ಯಮಾಪನ	ಅಂಕಗಳು
17.	‘ದಿ ರಿಪಬ್ಲಿಕ್’ ಪುಸ್ತಕವನ್ನು ಯಾರು ಬರೆದಿದ್ದಾರೆ ? ಉತ್ತರ : ಫ್ಲೇಟೋ	1
18.	ದೇವದಾಸಿ ಪದ್ಧತಿಯು ಒಂದು ಅಮಾನವೀಯ ಅಭ್ಯಾಸ. ಏಕೆ ? ಉತ್ತರ : * ಬಾಲ್ಯವಿವಾಹ ಮತ್ತು ಲೈಂಗಿಕ ಜೀತಕ್ಕೆ ದಾರಿ ಮಾಡಿಕೊಡುತ್ತದೆ. * ಮಹಿಳೆಯರ ಶೋಷಣೆ * ಲಿಂಗ ತಾರತಮ್ಯ (ಯಾವುದಾದರೂ ಒಂದು)	1
19.	ಭಾರತದ ಯಾವ ರಾಜ್ಯವು ಅತೀ ಹೆಚ್ಚು ಅರಣ್ಯ ಪ್ರದೇಶವನ್ನು ಹೊಂದಿದೆ ? ಉತ್ತರ : ಮಧ್ಯಪ್ರದೇಶ	1
20.	ಭಾರತದ ಪೂರ್ವ ಕರಾವಳಿಯ ನದಿ ಮುಖಜ ಭೂಮಿಗಳಲ್ಲಿ ಕಂಡುಬರುವ ಕಾಡುಗಳಾವುವು ? ಉತ್ತರ : ಮ್ಯಾಂಗ್ರೋವ್ ಕಾಡುಗಳು	1
21.	ಅಲ್ಯೂಮಿನಿಯಂಗೆ ನಿರ್ಮಾಣ ಕಂಪನಿಗಳಿಂದ ಹೆಚ್ಚಿನ ಬೇಡಿಕೆ ಇದೆ. ಏಕೆ ? ಉತ್ತರ : * ಉಕ್ಕು ಮತ್ತು ತಾಮ್ರಗಳ ಬದಲಿ ವಸ್ತುವಾಗಿ ನಿರ್ಮಾಣಗಳಲ್ಲಿ ಬಳಕೆಯಾಗುತ್ತಿದೆ * ವಿದ್ಯುತ್ ವಾಹಕ * ತುಕ್ಕು ನಿರೋಧಕ * ಬಹು ಉಪಯೋಗಿ * ಹಗುರವಾಗಿದೆ * ಅಗ್ಗ ಮತ್ತು ಬಲಿಷ್ಠ (ಯಾವುದಾದರೂ ಒಂದು)	1
22.	ಜನ ಸಾಂದ್ರತೆ ಎಂದರೇನು ? ಉತ್ತರ : ಪ್ರತಿ ಚದರ ಕಿಲೋಮೀಟರ್‌ನಲ್ಲಿ ವಾಸಿಸುವ ಜನರ ಸಂಖ್ಯೆಗೆ ಜನಸಾಂದ್ರತೆ ಎಂದು ಕರೆಯಲಾಗಿದೆ.	1
23.	1993 ರಲ್ಲಿ ಸಂವಿಧಾನದ 73ನೇಯ ತಿದ್ದುಪಡಿ ಕಾಯ್ದೆಯನ್ನು ಏಕೆ ಜಾರಿಗೊಳಿಸಲಾಯಿತು. ಉತ್ತರ : * ಏಕ ರೂಪದ ಪಂಚಾಯತ್ ರಾಜ್ಯ ಸಂಸ್ಥೆಗಳನ್ನು ಅಸ್ತಿತ್ವಕ್ಕೆ ತರಲು * ಅಧಿಕಾರ ವಿಕೇಂದ್ರೀಕರಣಗೊಳಿಸಲು (ಯಾವುದಾದರೂ ಒಂದು)	1
24.	ವಿಶ್ವ ಗ್ರಾಹಕ ದಿನಾಚರಣೆಯನ್ನು ಯಾವಾಗ ಆಚರಿಸಲಾಗುತ್ತದೆ ? ಉತ್ತರ : ಪ್ರತಿ ವರ್ಷ ಮಾರ್ಚ್ 15ನೇ ತಾರೀಖಿನಂದು	1

ಪ್ರಶ್ನೆ ಸಂಖ್ಯೆ	ಪ್ರಶ್ನಾನುಸಾರ ಮೌಲ್ಯಮಾಪನ	ಅಂಕಗಳು
III.	<p>ಎರಡು ವಾಕ್ಯಗಳಲ್ಲಿ ಉತ್ತರಿಸುವುದು : 15 × 2 = 30</p>	
25.	<p>ಬಕ್ಸಾರ್ ಕದನವು ಬ್ರಿಟಿಷರಿಗೆ ಅನೇಕ ಸೌಲಭ್ಯಗಳನ್ನು ಪಡೆಯಲು ಸಹಾಯ ಮಾಡಿತು. ಸೃಷ್ಟಿಕರಿಸಿ.</p> <p>ಉತ್ತರ :</p> <ul style="list-style-type: none"> * 'ದಿವಾನಿ' ಹಕ್ಕನ್ನು ಪಡೆಯಿತು. * ಬಂಗಾಳದ ಮೇಲಿನ ಎಲ್ಲಾ ಹಕ್ಕುಗಳನ್ನು ಪಡೆಯಿತು ರೂಪಾಯಿಗಳನ್ನು ಪಡೆಯಿತು. ಯುದ್ಧ ನಷ್ಟ ಪರಿಹಾರವಾಗಿ 50 ಲಕ್ಷ. * ಬಂಗಾಳದ ಪೂರ್ಣ ಆಡಳಿತವನ್ನು ಪಡೆಯಿತು. * ದ್ವಿಪ್ರಭುತ್ವ ಪದ್ಧತಿಯ ಮೂಲಕ ಭೂಕಂದಾಯ ವಸೂಲಿ ಹಕ್ಕನ್ನು ಹೊಂದಿದರು. (ಯಾವುದಾದರೂ ಎರಡು) 	2
26.	<p>ಸಹಾಯಕ ಸೈನ್ಯ ಪದ್ಧತಿಯು ಭಾರತೀಯ ಸಂಸ್ಥಾನಗಳನ್ನು ಹೇಗೆ ನಿಯಂತ್ರಿಸಿತ್ತು ?</p> <p>ಉತ್ತರ :</p> <ul style="list-style-type: none"> * ಬ್ರಿಟಿಷರ ಸೈನಿಕ ತುಕಡಿಯನ್ನು ತನ್ನ ರಾಜ್ಯದಲಿ ಇರಿಸಿಕೊಳ್ಳಬೇಕಾಗಿತ್ತು. * ಸೇನೆಯ ವೇತನ ಮತ್ತು ನಿರ್ವಹಣೆಯ ವೆಚ್ಚ ಭರಿಸಬೇಕಾಗಿತ್ತು. * ಆಸ್ಥಾನದಲ್ಲಿ ರೆಸಿಡೆಂಟನನ್ನು ನೇಮಿಸಿಕೊಳ್ಳಬೇಕಾಗಿತ್ತು. * ಯುರೋಪಿಯನ್ನರ ನೇಮಕಕ್ಕೆ ಅನುಮತಿ. * ಯುದ್ಧ ಅಥವಾ ಸಂಧಾನಕ್ಕೆ ಅನುಮತಿ. (ಯಾವುದಾದರೂ ಎರಡು) 	2
27.	<p>ಬ್ರಿಟಿಷರ ಸೈನ್ಯದಲ್ಲಿ ಭಾರತೀಯ ಸಿಪಾಯಿಗಳ ಸ್ಥಿತಿಯು ಶೋಚನೀಯವಾಗಿತ್ತು. ಸಮರ್ಥಿಸಿ.</p> <p>ಉತ್ತರ :</p> <ul style="list-style-type: none"> * ಆಂಗ್ಲ ಸೈನಿಕರಿಗಿದ್ದ ಸ್ಥಾನಮಾನ, ವೇತನ, ಬಡ್ಡಿ ಅವಕಾಶಗಳು ಭಾರತೀಯ ಸಿಪಾಯಿಗಳಿಗೆ ಇರಲಿಲ್ಲ. * ಭಾರತೀಯ ಸೈನಿಕರನ್ನು ಸಾಗರೋತ್ತರ ಸೇವೆಗೆ ಒತ್ತಾಯಿಸುತ್ತಿದ್ದರು. 	2

ಪ್ರಶ್ನೆ ಸಂಖ್ಯೆ	ಪ್ರಶ್ನಾನುಸಾರ ಮೌಲ್ಯಮಾಪನ	ಅಂಕಗಳು
28.	<p>ಕೊಟ್ಟಿರುವ ಚಿತ್ರಕ್ಕೆ ಸಂಬಂಧಿಸಿದ ಕೆಳಗಿನ ಪ್ರಶ್ನೆಗಳಿಗೆ ಉತ್ತರಿಸಿ :</p> <p>(a) ಚಿತ್ರದಲ್ಲಿರುವ ವ್ಯಕ್ತಿಯನ್ನು ಹೆಸರಿಸಿ.</p> <p>(b) ಆ ವ್ಯಕ್ತಿಯು ಬರೆದಿರುವ ಕೃತಿಯನ್ನು ಹೆಸರಿಸಿ.</p>  <p>ಉತ್ತರ :</p> <p>(a) ಬಾಲಗಂಗಾಧರ ತಿಲಕ</p> <p>(b) ಗೀತಾರಹಸ್ಯ</p>	2
29.	<p>ಫ್ಯಾಸಿಸ್ಟ್‌ವಾದದ ಲಕ್ಷಣಗಳೇನು ?</p> <p>ಅಥವಾ</p> <p>ರಷ್ಯಾದ ಅಧ್ಯಕ್ಷರಾಗಿ ಲೆನಿನ್‌ರವರ ಸಾಧನೆಗಳೇನು ?</p> <p>ಉತ್ತರ :</p> <ul style="list-style-type: none"> * ಉಗ್ರ ರಾಷ್ಟ್ರೀಯವಾದ * ಪರಕೀಯ ಶಕ್ತಿಗಳ ನಾಶ * ಹಿಂಸೆಯ ವೈಭವೀಕರಣ * ಜನಾಂಗೀಯ ಶ್ರೇಷ್ಠತೆ * ಸಾಮ್ರಾಜ್ಯವಾದದ ವಿಸ್ತರಣೆ * ನರಮೇಧಗಳಿಗೆ ಬೆಂಬಲ <p>(ಯಾವುದಾದರೂ ನಾಲ್ಕು) 4 × 1/2</p> <p>ಅಥವಾ</p> <ul style="list-style-type: none"> * ಭೂಮಿ ರೈತರಿಗೆ ಸೇರಿದ್ದು ಎಂದು ಘೋಷಿಸಿದರು. * ಉಚಿತವಾದ ಶಿಕ್ಷಣ, ಕ್ರೀಡೆ, ಆರೋಗ್ಯ, ವಸತಿ ಒದಗಿಸಿದರು. * ಹೊಸ ಆರ್ಥಿಕ ಮತ್ತು ರಾಜಕೀಯ ನೀತಿಗಳನ್ನು ಜಾರಿ ಮಾಡಿದರು. * ವೈಜ್ಞಾನಿಕ ಸಮಾಜವಾದದ ಚಿಂತನೆಯನ್ನು ಪ್ರಾಯೋಗಿಕವಾಗಿ ಜಾರಿ. 	2

ಪ್ರಶ್ನೆ ಸಂಖ್ಯೆ	ಪ್ರಶ್ನಾನುಸಾರ ಮೌಲ್ಯಮಾಪನ	ಅಂಕಗಳು
30.	<p>ಭಾರತವನ್ನು ವಿಶ್ವದ ಪ್ರಭಾವಶಾಲಿ ರಾಷ್ಟ್ರಗಳಲ್ಲಿ ಒಂದು ಎಂದು ಪರಿಗಣಿಸಲಾಗಿದೆ. ಏಕೆ ?</p> <p>ಉತ್ತರ :</p> <ul style="list-style-type: none"> * ವಿಪುಲ ಜನಸಂಖ್ಯೆ * ಅಪಾರ ಪ್ರಾಕೃತಿಕ ಸಂಪತ್ತು * ಪರಿಣಿತ ಬೌದ್ಧಿಕ ಸಾಮರ್ಥ್ಯ * ಪರಿಣಿತ ಔದ್ಯೋಗಿಕ ಸಾಮರ್ಥ್ಯ * ಬಲಾಢ್ಯ ಸೈನಿಕ ಬಲ * ನಿರ್ದಿಷ್ಟ ವಿದೇಶಾಂಗ ನೀತಿ (ಯಾವುದಾದರೂ ನಾಲ್ಕು) 4 × 1/2 	2
31.	<p>ಭಾರತ ಮತ್ತು ಚೀನಾಗಳ ನಡುವೆ ಗಡೀ ವಿವಾದವಿದ್ದರೂ ಕೂಡ ಅವುಗಳ ನಡುವಿನ ಸಂಬಂಧವನ್ನು ಹೇಗೆ ಉತ್ತಮಪಡಿಸಿಕೊಂಡಿವೆ ?</p> <p>ಉತ್ತರ :</p> <ul style="list-style-type: none"> * 1980 ರ ದಶಕದ ನಂತರ ಚೀನಾದೊಂದಿಗೆ ದೊಡ್ಡ ಮಟ್ಟದಲ್ಲಿ ವ್ಯಾಪಾರ ಮತ್ತು ವಾಣಿಜ್ಯ ಸಂಪರ್ಕ. * ಪಂಚಶೀಲ ತತ್ವ * 2015 ರ ನಂತರದಲ್ಲಿ BRICS ರಾಷ್ಟ್ರಗಳ ಗುಂಪು ಪ್ರಾರಂಭಿಸಿವೆ. (ಯಾವುದಾದರೂ ಎರಡು) 	2
32.	<p>ದೊಂಬಿಯು ಒಂದು ಸಮಾಜ ಘಾತುಕ ಚಟುವಟಿಕೆ. ಏಕೆ ?</p> <p>ಉತ್ತರ :</p> <ul style="list-style-type: none"> * ಸಾರ್ವಜನಿಕ ಆಸ್ತಿಪಾಸ್ತಿಗಳನ್ನು ಹಾಳು ಮಾಡುತ್ತದೆ. * ಗೊಂದಲವನ್ನು ಸೃಷ್ಟಿಸುತ್ತದೆ. * ಅಪಪ್ರಚಾರಗಳನ್ನು ನಡೆಸುತ್ತದೆ. * ಅಪಾರವಾದ ಜೀವ ಹಾನಿಯುಂಟು ಮಾಡುತ್ತದೆ. * ಕಾನೂನು ಸುವ್ಯವಸ್ಥೆಯನ್ನು ಹಾಳು ಮಾಡುತ್ತದೆ. * ಕೋಮುಗಲಭೆ, ಜಾತಿಗಲಭೆ, ಜನಾಂಗೀಯ ಕಲಹಗಳಿಗೆ ದಾರಿ ಮಾಡುತ್ತದೆ. (ಯಾವುದಾದರೂ ನಾಲ್ಕು) 4 × 1/2 	2

ಪ್ರಶ್ನೆ ಸಂಖ್ಯೆ	ಪ್ರಶ್ನಾನುಸಾರ ಮೌಲ್ಯಮಾಪನ	ಅಂಕಗಳು
33.	<p>ಕೊಟ್ಟಿರುವ ದಕ್ಷಿಣ ಭಾರತದ ನಕ್ಷೆಯಲ್ಲಿ ಗುರುತಿಸಿರುವ ಸ್ವಾಭಾವಿಕ ವಿಭಾಗವನ್ನು ಹೆಸರಿಸಿ ಮತ್ತು ಅದರ ಯಾವುದಾದರೂ ಎರಡು ಆರ್ಥಿಕ ಪ್ರಾಮುಖ್ಯತೆಯನ್ನು ತಿಳಿಸಿ.</p>  <p>ಉತ್ತರ :</p> <p>a) ಕರಾವಳಿ ಮೈದಾನಗಳು 1</p> <p>b) ನೈಸರ್ಗಿಕ ಬಂದರು</p> <ul style="list-style-type: none"> * ವಿದೇಶಿ ವ್ಯಾಪಾರಾಭಿವೃದ್ಧಿ * ಮೀನುಗಾರಿಕೆ * ಉಪ್ಪು ಉತ್ಪಾದನೆ * ಹಡಗು ನಿರ್ಮಾಣ ಕೈಗಾರಿಕೆ * ಕೃಷಿ * ನೌಕಾಯಾನ * ಪ್ರಾವಾಸೋದ್ಯಮ (ಯಾವುದಾದರೂ ಎರಡು) 2 × ½ 	2
34.	<p>ಭಾರತದ ವಾಯುಗುಣವು ಪ್ರದೇಶದಿಂದ ಪ್ರದೇಶಕ್ಕೆ ಬದಲಾಗುತ್ತದೆ. ಏಕೆ ?</p> <p>ಉತ್ತರ :</p> <ul style="list-style-type: none"> * ಸ್ಥಾನ * ಜಲರಾಶಿಗಳು * ಮೇಲ್ಮೈ ಲಕ್ಷಣ * ಮಾನ್ಸೂನ್ ಮಾರುತಗಳು * ಸಾಗರ ಪ್ರವಾಹಗಳು * ಅಕ್ಷಾಂಶಗಳು * ಸಮುದ್ರದಿಂದ ದೂರ (ಯಾವುದಾದರೂ ನಾಲ್ಕು) 4 × ½ 	2

ಪ್ರಶ್ನೆ ಸಂಖ್ಯೆ	ಪ್ರಶ್ನಾನುಸಾರ ಮೌಲ್ಯಮಾಪನ	ಅಂಕಗಳು
35.	<p>ಕೃಷಿಯು ದ್ವಿತೀಯ ಮತ್ತು ತೃತೀಯ ವಲಯಗಳ ಅಭಿವೃದ್ಧಿಗೆ ಹೇಗೆ ಸಹಾಯಕವಾಗಿದೆ ?</p> <p>ಉತ್ತರ :</p> <ul style="list-style-type: none"> * ದೇಶದ ತೃತೀಯ ವಲಯದ ವೃತ್ತಿಗಳಾದ ಸಾರಿಗೆ, ವ್ಯಾಪಾರ, ಬ್ಯಾಂಕಿಂಗ್, ವಿಮೆ, ರಫ್ತು ಮುಂತಾದವುಗಳಿಗೆ ನೆರವಾಗುತ್ತದೆ. * ಹತ್ತಿ ಸೆಣಬು, ಜವಳಿ, ಸಕ್ಕರೆ ಕೈಗಾರಿಕೆಗಳ ಪ್ರಗತಿಗೆ ನೆರವಾಗುವುದು. * ರಾಸಾಯನಿಕ ಮತ್ತು ಉಪಕರಣಗಳ ಕೈಗಾರಿಕೆಗೆ ಮಾರುಕಟ್ಟೆ ಒದಗಿಸುತ್ತದೆ. (ಯಾವುದಾದರೂ ಎರಡು) 	2
36.	<p>ಇತ್ತೀಚಿನ ದಿನಗಳಲ್ಲಿ ವಿದ್ಯುತ್ ಅಭಾವ ಭಾರತದ ಒಂದು ಪ್ರಮುಖ ಸಮಸ್ಯೆಯಾಗಿದೆ. ಏಕೆ ?</p> <p>ಉತ್ತರ :</p> <ul style="list-style-type: none"> * ಬೇಡಿಕೆಗೆ ತಕ್ಕಷ್ಟು ವಿದ್ಯುತ್ ಉತ್ಪಾದನೆಯಾಗುತ್ತಿಲ್ಲ. * ದೇಶದಲ್ಲಿ ಕಡಿಮೆ ಪೆಟ್ರೋಲಿಯಂ ನಿಕ್ಷೇಪ, ತೈಲದ ಕೊರತೆ. * ಕಡಿಮೆ ದರ್ಜೆಯ ಕಲ್ಲಿದ್ದಲು. * ಅಕಾಲಿಕ ಮಳೆ ಮತ್ತು ಜಲ ವಿದ್ಯುಚ್ಛಕ್ತಿ ಉತ್ಪಾದನೆಗೆ ನೀರಿನ ಕೊರತೆ. * ಪ್ರಸರಣ ಪ್ರಕ್ರಿಯೆಯಲ್ಲಾಗುವ ವಿದ್ಯುತ್‌ನ ನಷ್ಟ. * ಅಸಾಂಪ್ರದಾಯಿಕ ಶಕ್ತಿ ಸಂಪನ್ಮೂಲಗಳ ಕಡಿಮೆ ಬಳಕೆ. <p style="text-align: right;">(ಯಾವುದಾದರೂ ನಾಲ್ಕು) 4 × 1/2</p>	2
37.	<p>ರಸ್ತೆ ಸಾರಿಗೆಯು ರೈಲು ಸಾರಿಗೆಗಿಂತ ಉತ್ತಮವಾಗಿದೆ. ಸ್ಪಷ್ಟೀಕರಿಸಿ.</p> <p>ಉತ್ತರ :</p> <ul style="list-style-type: none"> * ರಸ್ತೆಗಳನ್ನು ಅರಣ್ಯ ಮತ್ತು ಗುಡ್ಡಗಾಡುಗಳಲ್ಲಿ ನಿರ್ಮಿಸಬಹುದು. * ಎಲ್ಲೋ ಇರುವ ಸ್ಥಳಗಳನ್ನು ಸಂಪರ್ಕಿಸುತ್ತವೆ. * ಮೂಲೆ ಮೂಲೆಗಳಲ್ಲಿರುವ ಹಳ್ಳಿಗಳನ್ನು ಸಂಪರ್ಕಿಸುತ್ತವೆ. * ಮನೆ ಮನೆಗೆ ಸೇವೆ ಕಲ್ಪಿಸುತ್ತವೆ. * ಗಡಿ ಪ್ರದೇಶಗಳಿಗೆ ಸೂಕ್ತವಾಗಿವೆ. <p style="text-align: right;">(ಯಾವುದಾದರೂ ನಾಲ್ಕು) 4 × 1/2</p>	2

ಪ್ರಶ್ನೆ ಸಂಖ್ಯೆ	ಪ್ರಶ್ನಾನುಸಾರ ಮೌಲ್ಯಮಾಪನ	ಅಂಕಗಳು
38.	<p>ಆರ್ಥಿಕ ಅಭಿವೃದ್ಧಿಯನ್ನು ಅಳೆಯಲು ಮಾನವ ಅಭಿವೃದ್ಧಿ ಸೂಚ್ಯಂಕ (HDI) ದ ರಚನೆ ಅಗತ್ಯ. ವಿವರಿಸಿ.</p> <p>ಉತ್ತರ :</p> <ul style="list-style-type: none"> * ರಾಷ್ಟ್ರೀಯ ವರಮಾನದ ಜೊತೆ ಜೊತೆಗೆ ಜನಸಂಖ್ಯೆಯ ಹೆಚ್ಚಳವೂ ಕಂಡು ಬಂದರೆ ಅದು ಆರ್ಥಿಕ ಪ್ರಗತಿಯ ವಾಸ್ತವ ಚಿತ್ರಣ ನೀಡುವುದಿಲ್ಲ. * ತಲಾವರಮಾನ ಜನರ ನಡುವಿನ ವರಮಾನ ಹಂಚಿಕೆ ತೋರಿಸುವುದಿಲ್ಲ. * ಆಹಾರ, ವಸತಿ, ಶಿಕ್ಷಣ, ಆರೋಗ್ಯ ಮತ್ತು ಇತರೆ ಸಾಮಾಜಿಕ ಅಂಶಗಳ ಲಭ್ಯತೆಯನ್ನು ಪರಿಗಣಿಸುವುದಿಲ್ಲ. (ಯಾವುದಾದರೂ ಎರಡು) 	2
39.	<p>ಜಾಗತೀಕರಣವು ಮಾನವನ ಆಹಾರ ಪದ್ಧತಿ ಮತ್ತು ಆರೋಗ್ಯದ ಮೇಲೆ ಪರಿಣಾಮ ಬೀರುತ್ತದೆ. ಹೇಗೆ ?</p> <p>ಉತ್ತರ :</p> <ul style="list-style-type: none"> * ಪ್ರಯೋಜನಕಾರಿಯಲ್ಲದ ಆಹಾರ ಸೇವನೆ ಜಾಸ್ತಿಯಾಗಿದೆ. * ಸಾಂಪ್ರದಾಯಿಕ ಆಹಾರ ಸೇವನೆಗಳು, ಕ್ರಮೇಣ ನಿರ್ಮೂಲ ಹೊಂದುತ್ತವೆ. * ಜನರ ಆರೋಗ್ಯದ ಅವನತಿ ಉಂಟಾಗಿ ಅನೇಕ ರೋಗರುಜಿನಗಳಿಗೆ ಎಡೆಮಾಡಿಕೊಡುತ್ತದೆ. * ಮಾರಣಾಂತಿಕ ವೈರಾಣುಗಳಿಂದ ಹಬ್ಬುವ ರೋಗಗಳು ವಿಶ್ವದಾದ್ಯಂತ ಹಬ್ಬುತ್ತವೆ. * ಪರಿಸರ ಮಾಲಿನ್ಯ ಹೆಚ್ಚಾಗುತ್ತಿದೆ. <p>(ಯಾವುದಾದರೂ ಎರಡು)</p>	2
IV. 40.	<p>ಆರು ವಾಕ್ಯಗಳಲ್ಲಿ ಉತ್ತರಿಸುವುದು : 6 × 3 = 18</p> <p>ಭಾರತದ ಚರಿತ್ರೆಯಲ್ಲಿ 18ನೇ ಶತಮಾನವನ್ನು 'ರಾಜಕೀಯ ಸಮಸ್ಯೆಗಳ ಶತಮಾನ'ವೆಂದು ಸಮರ್ಥಿಸಿ.</p> <p style="text-align: center;">ಅಥವಾ</p> <p>ಬ್ರಿಟಿಷ್ ಶಿಕ್ಷಣ ವ್ಯವಸ್ಥೆಯು ಅಭಿವೃದ್ಧಿಶೀಲ ಆಲೋಚನೆಗಳನ್ನೊಳಗೊಂಡ ಒಂದು ಹೊಸ ತಲೆಮಾರನ್ನು ಸೃಷ್ಟಿಸಿತು. ಸಮರ್ಥಿಸಿ.</p> <p>ಉತ್ತರ :</p> <ul style="list-style-type: none"> * ಫ್ರೆಂಚರು ಮತ್ತು ಇಂಗ್ಲಿಷರ ಭಾರತದ ರಾಜಕೀಯ ಕ್ಷೇತ್ರಕ್ಕೆ ಪ್ರವೇಶ 	

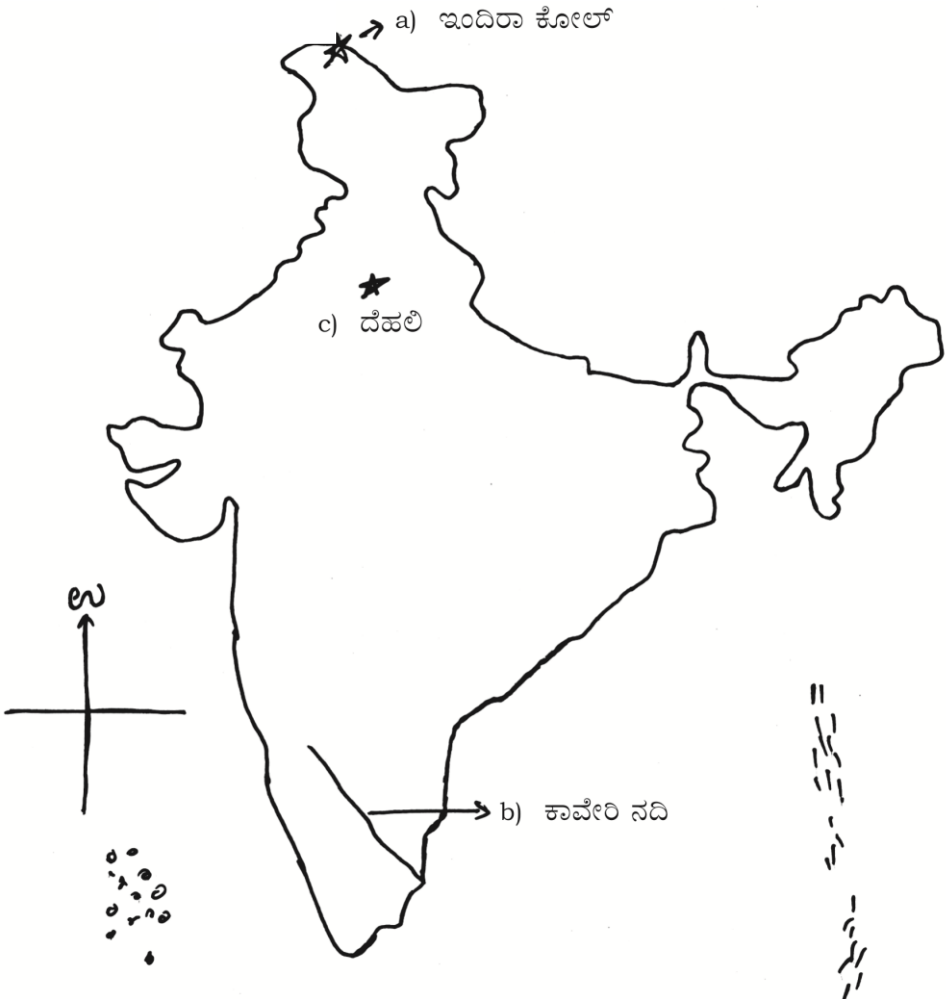
ಪ್ರಶ್ನೆ ಸಂಖ್ಯೆ	ಪ್ರಶ್ನಾನುಸಾರ ಮೌಲ್ಯಮಾಪನ	ಅಂಕಗಳು
	<ul style="list-style-type: none"> * ಔರಂಗಜೇಬ್‌ನ ಮರಣ * ಮೊಘಲರ ರಾಜಕೀಯ ಸಾರ್ವಭೌಮತ್ವ ಕುಗ್ಗಿತು * ದಕ್ಷಿಣ ಭಾರತದಲ್ಲಿ ಮೊಘಲರ ರಾಜಕೀಯ ಹತೋಟಿ ತಪ್ಪಿತು * ಕರ್ನಾಟಕ್ ಪ್ರದೇಶದಲ್ಲಿ ಅಧಿಕಾರಕ್ಕಾಗಿ ಕಿತ್ತಾಟ * ಚಿಕ್ಕ ದೇವರಾಜ ಒಡೆಯರ ಮರಣ * ಮೈಸೂರಿನಲ್ಲಿ ಉತ್ತರಾಧಿಕಾರತ್ವ ಸಮಸ್ಯೆ * ಮರಾಠರು, ಹೈದರಾಬಾದಿನ ನಿಜಾಮ ಮತ್ತು ಅರ್ಕಾಟಿನ ನವಾಬರ ನಡುವೆ ಹೋರಾಟ * ಆಂಗ್ಲೋ-ಮೈಸೂರು ಯುದ್ಧಗಳು ನಡೆದವು. <p style="text-align: right;">(ಯಾವುದಾದರೂ ಆರು) 6 × 1/2</p> <p style="text-align: center;">ಅಥವಾ</p> <ul style="list-style-type: none"> * ರಾಷ್ಟ್ರೀಯವಾದಿ ದೃಷ್ಟಿಕೋನಗಳ ಬೆಳವಣಿಗೆ * ಸ್ಥಳೀಯ ಭಾಷೆಗಳು ಮತ್ತು ಸಾಹಿತ್ಯ ರಚನೆಗೆ ಪ್ರೋತ್ಸಾಹ * ವೃತ್ತ ಪತ್ರಿಕೆಗಳು ಹುಟ್ಟಿ ಬೆಳೆದವು * ಹೊಸ ಸಾಮಾಜಿಕ ಮತ್ತು ಧಾರ್ಮಿಕ ಸುಧಾರಣಾ ಚಳುವಳಿಗಳು * ಆಲೋಚನಾ ಕ್ರಮದಲ್ಲಿ ನಾವೀನ್ಯತೆ * ಸ್ವಾತಂತ್ರ್ಯ ಚಳುವಳಿಯ ಮೇಲೆ ಪ್ರಭಾವ * ಸಾಂಸ್ಕೃತಿಕ ಪರಂಪರೆಗಳನ್ನು ಅರಿತುಕೊಳ್ಳಲು ಸಹಾಯ <p style="text-align: right;">(ಯಾವುದಾದರೂ ಆರು) 6 × 1/2</p>	3
41.	<p>ಭಾರತದಲ್ಲಿ ನಿರುದ್ಯೋಗವು ಒಂದು ದೊಡ್ಡ ಸಮಸ್ಯೆಯಾಗಿ ಬೆಳೆದಿದೆ. ಏಕೆ ?</p> <p style="text-align: center;">ಅಥವಾ</p> <p>ವಿಶ್ವಸಂಸ್ಥೆಯ ಧೈಯೋದ್ದೇಶಗಳನ್ನು ವಿವರಿಸಿ.</p> <p>ಉತ್ತರ :</p> <ul style="list-style-type: none"> * ಮಿತಿಮೀರಿದ ಜನಸಂಖ್ಯೆ * ಹೆಚ್ಚಾದ ತಂತ್ರಜ್ಞಾನದ ಬಳಕೆ * ನೈಸರ್ಗಿಕ ಸಂಪನ್ಮೂಲಗಳ ಕೊರತೆ * ಕೃಷಿಯ ಮೇಲಿನ ಅಧಿಕ ಅವಲಂಬನೆ * ಗೃಹ ಕೈಗಾರಿಕೆಗಳ ನಾಶ * ಕೌಶಲ್ಯ ಆಧಾರಿತ ಶಿಕ್ಷಣದ ಕೊರತೆ <p style="text-align: center;">ಅಥವಾ</p>	3

ಪ್ರಶ್ನೆ ಸಂಖ್ಯೆ	ಪ್ರಶ್ನಾನುಸಾರ ಮೌಲ್ಯಮಾಪನ	ಅಂಕಗಳು
43.	<p>* ಉದ್ಯಮಿ ಮತ್ತು ಕಾರ್ಮಿಕರ ನಡುವೆ ಕಾನೂನಾತ್ಮಕವಾಗಿ ಸಂಬಂಧ</p> <p>* ಹೆಚ್ಚಿನ ದುಡಿಮೆಗೆ ಹೆಚ್ಚುವರಿ ವೇತನ</p> <p>* ತೆರಿಗೆ ಪಾವತಿ ಕಡ್ಡಾಯ</p> <p>* ವಾರ್ಷಿಕ ಭತ್ಯೆ, ಸಂಚಿತ ಸೌಲಭ್ಯ</p> <p>* ಉದ್ಯೋಗ ನಿಯಮಗಳು</p> <p style="text-align: right;">(ಯಾವುದಾದರೂ ಆರು) 6 × 1/2</p> <p>ಒಂದು ದೇಶದ ಆರ್ಥಿಕ ಅಭಿವೃದ್ಧಿಯಲ್ಲಿ ಕೈಗಾರಿಕೆಗಳು ಹೇಗೆ ಸಹಾಯಕವಾಗಿವೆ. ವಿವರಿಸಿ.</p> <p style="text-align: center;">ಅಥವಾ</p> <p>ನೈಸರ್ಗಿಕ ಮತ್ತು ಮಾನವ ಶಕ್ತಿಗಳೆರಡೂ ಭೂಕುಸಿತಕ್ಕೆ ಹೇಗೆ ಕಾರಣವಾಗುತ್ತವೆಂದು ವಿವರಿಸಿ.</p> <p>ಉತ್ತರ :</p> <p>* ಪ್ರಾಥಮಿಕ ಸರಕುಗಳ ಅವಲಂಬನೆ ಕಡಿಮೆಯಾಗುತ್ತದೆ.</p> <p>* ಆಮದು ಕಡಿಮೆಯಾಗುತ್ತದೆ.</p> <p>* ರಾಷ್ಟ್ರದಾಯ ಹೆಚ್ಚಾಗುತ್ತದೆ.</p> <p>* ತಲಾದಾಯ ಹೆಚ್ಚಾಗುತ್ತದೆ.</p> <p>* ವಿದೇಶೀ ವಿನಿಮಯ ಗಳಿಕೆಯಲ್ಲಿ ವೃದ್ಧಿ</p> <p>* ಉದ್ಯೋಗಾವಕಾಶಗಳ ಹೆಚ್ಚಳ</p> <p>* ಜಿಡಿಪಿ ಹೆಚ್ಚಳ</p> <p>* ಜನರ ಜೀವನಮಟ್ಟದಲ್ಲಿ ಸುಧಾರಣೆ</p> <p>* ಕೃಷಿ ಅಭಿವೃದ್ಧಿ</p> <p>* ತೃತೀಯ ವಲಯದ ಅಭಿವೃದ್ಧಿ</p> <p style="text-align: right;">(ಯಾವುದಾದರೂ ಆರು) 6 × 1/2</p> <p style="text-align: center;">ಅಥವಾ</p> <p>* ನೈಸರ್ಗಿಕ ಕಾರಣಗಳು :</p> <p>* ಸಮುದ್ರದ ಅಲೆಗಳಿಂದ ಸವೆತ</p> <p>* ಅತ್ಯಧಿಕ ಮಳೆಯಿಂದ ಸವೆತ</p> <p>* ಭೂಕಂಪನದಿಂದ ಕುಸಿತ</p>	3
		3

ಪ್ರಶ್ನೆ ಸಂಖ್ಯೆ	ಪ್ರಶ್ನಾನುಸಾರ ಮೌಲ್ಯಮಾಪನ	ಅಂಕಗಳು
44.	<p>* ಮಾನವ ಕೃತ್ಯಗಳು :</p> <ul style="list-style-type: none"> * ಅರಣ್ಯ ನಾಶ * ರೈಲು ರಸ್ತೆಗಳು ಮತ್ತು ಅಣೆಕಟ್ಟುಗಳ ನಿರ್ಮಾಣ * ಜಲಾಶಯ ಮತ್ತು ಜಲವಿದ್ಯುತ್ ಯೋಜನೆಗಳ ನಿರ್ಮಾಣ * ಗಣಿಗಾರಿಕೆ ಮತ್ತು ಕಲ್ಲು ಗಣಿಗಾರಿಕೆ <p style="text-align: right;">(ಯಾವುದಾದರೂ ಆರು) 6 × 1/2</p> <p>ಭಾರತೀಯ ರಿಸರ್ವ್ ಬ್ಯಾಂಕ್‌ನ ಕಾರ್ಯಗಳೇನು ?</p> <p style="text-align: center;">ಅಥವಾ</p> <p>ಸಾರ್ವಜನಿಕ ವೆಚ್ಚದ ಗುರಿ / ಉದ್ದೇಶಗಳೇನು ?</p> <p>ಉತ್ತರ :</p> <ul style="list-style-type: none"> * ನೋಟು ಚಲಾವಣೆಯ ಏಕಸ್ವಾಮ್ಯ * ಸರ್ಕಾರದ ಬ್ಯಾಂಕು ಆಗಿ ಕಾರ್ಯನಿರ್ವಹಣೆ * ಬ್ಯಾಂಕುಗಳ ಬ್ಯಾಂಕು ಆಗಿ ಕಾರ್ಯನಿರ್ವಹಣೆ * ರಾಷ್ಟ್ರೀಯ ಸಂದಾಯ ಕೇಂದ್ರವಾಗಿ ಕಾರ್ಯನಿರ್ವಹಣೆ * ಸಾಲ ಪ್ರಮಾಣದ ನಿಯಂತ್ರಕ * ವಿದೇಶಿ ವಿನಿಮಯ ಸಂಗ್ರಹದ ಮೇಲ್ವಿಚಾರಕ * ಬ್ಯಾಂಕಿಂಗ್ ಹವ್ಯಾಸದ ಅಭಿವೃದ್ಧಿ <p style="text-align: right;">(ಯಾವುದಾದರೂ ಆರು) 6 × 1/2</p> <p style="text-align: center;">ಅಥವಾ</p> <ul style="list-style-type: none"> * ಆರ್ಥಿಕ ಬೆಳವಣಿಗೆ ತೀವ್ರಗೊಳಿಸುವುದು * ಉದ್ಯಮ, ವ್ಯವಹಾರ ಮತ್ತು ವಾಣಿಜ್ಯಗಳನ್ನು ಪ್ರೋತ್ಸಾಹಿಸುವುದು 	3

ಪ್ರಶ್ನೆ ಸಂಖ್ಯೆ	ಪ್ರಶ್ನಾನುಸಾರ ಮೌಲ್ಯಮಾಪನ	ಅಂಕಗಳು
45.	<p>* ಸಮತೋಲಿತ ಪ್ರಾದೇಶಿಕ ಬೆಳವಣಿಗೆ</p> <p>* ಕೃಷಿ ಹಾಗೂ ಗ್ರಾಮೀಣ ಅಭಿವೃದ್ಧಿ</p> <p>* ಸಾಮಾಜಿಕ, ಆರ್ಥಿಕ, ಮೂಲಭೂತ ಸೌಕರ್ಯಗಳನ್ನು ಒದಗಿಸುವುದು</p> <p>* ಸಂಪೂರ್ಣ ಉದ್ಯೋಗ ಸಾಧಿಸುವುದು</p> <p>* ಸಾಮಾಜಿಕ ಕಲ್ಯಾಣವನ್ನು ಅಧಿಕಗೊಳಿಸುವುದು</p> <p style="text-align: right;">(ಯಾವುದಾದರೂ ಆರು) 6 × 1/2</p> <p>ಉದ್ಯಮಿಯ ಕಾರ್ಯಗಳನ್ನು ಪಟ್ಟಿ ಮಾಡಿ.</p> <p style="text-align: center;">ಅಥವಾ</p> <p>ಬ್ಯಾಂಕಿನಲ್ಲಿ ಖಾತೆ ತೆರೆಯುವುದರಿಂದಾಗುವ ಉಪಯೋಗಗಳನ್ನು ಪಟ್ಟಿ ಮಾಡಿ.</p> <p>ಉತ್ತರ :</p> <p>* ವ್ಯಾಪಾರ ಚಟುವಟಿಕೆಗಳಿಗೆ ಯೋಜನೆ</p> <p>* ಉತ್ಪಾದನಾಂಗಗಳ ಸಂಯೋಜನೆ</p> <p>* ನಿರ್ಧಾರ ಕೈಗೊಳ್ಳುವುದು</p> <p>* ಅಂಶಗಳ ಸಮಂಜಸ ಸಂಯೋಜನೆ</p> <p>* ಹೊಸ ವಿಧಾನಗಳನ್ನು ರೂಢಿಗೆ ತರುವುದು</p> <p>* ಹಣಕಾಸಿನ ಆಯವ್ಯಯ ನಿಭಾಯಿಸುವುದು</p> <p>* ನಷ್ಟ ಮತ್ತು ಅನಿಶ್ಚಿತತೆಗಳ ಎದುರಿಸುವುದು</p> <p>* ಮಾರ್ಗದರ್ಶನ ನೀಡುವುದು</p> <p style="text-align: right;">(ಯಾವುದಾದರೂ ಆರು) 6 × 1/2</p> <p style="text-align: center;">ಅಥವಾ</p> <p>* ಹಣದ ಭದ್ರತೆ ಕಾಪಾಡುವುದು</p> <p>* ಹಣದ ಪಾವತಿಗಳನ್ನು ಮಾಡಲು ಸಹಾಯ</p>	3

ಪ್ರಶ್ನೆ ಸಂಖ್ಯೆ	ಪ್ರಶ್ನಾನುಸಾರ ಮೌಲ್ಯಮಾಪನ	ಅಂಕಗಳು
	<ul style="list-style-type: none"> * ಸಾಲ ಪಡೆಯಲು ಸಾಧ್ಯ * ವ್ಯವಹಾರಗಳನ್ನು ಸುಗಮವಾಗಿ ನಡೆಸಲು ಸಾಧ್ಯ * ಹಣವನ್ನು ವಸೂಲು ಮಾಡಲು ಸಹಾಯ * ಭದ್ರತಾ ಕಪಾಟುಗಳನ್ನು ಪಡೆಯಬಹುದು 	
	(ಯಾವುದಾದರೂ ಆರು)	6 × ½
V.	ಒಂಟರಿಂದ ಹತ್ತು ವಾಕ್ಯಗಳಲ್ಲಿ ಉತ್ತರಿಸುವುದು :	1 × 4 = 4
46.	<p>ರಾಷ್ಟ್ರೀಯ ಸ್ವಾತಂತ್ರ್ಯ ಸಂಗ್ರಾಮದಲ್ಲಿ ರೈತರು ಸಂಘಟಿಸಿದ ಪ್ರತಿಭಟನೆಗಳು ಪ್ರಮುಖವಾಗಿದ್ದವೆಂಬುದನ್ನು ವಿವರಿಸಿ.</p> <p>ಉತ್ತರ :</p> <ul style="list-style-type: none"> * ರಾಷ್ಟ್ರೀಯ ಕಾಂಗ್ರೆಸ್ ಮತ್ತು ಮಾರ್ಕ್ಸವಾದಗಳಿಂದ ಪ್ರಭಾವ * ಜಮೀನ್ದಾರರು ಮತ್ತು ಯೂರೋಪಿಯನ್ ಪ್ಲಾಂಟರ್‌ಗಳ ವಿರುದ್ಧ ದಂಗೆ * ಚಂಪಾರಣ್ಯ ಜಿಲ್ಲೆಯಲ್ಲಿ ನೀಲಿ ಬೆಳೆಯುವುದನ್ನು ವಿರೋಧಿಸಿದರು * ಭೂಕಂದಾಯದ ವಿರುದ್ಧ ಹರತಾಳ ನಡೆಸಿದರು * ಚಂಪಾರಣ್ಯ, ಖೇಡಾಗಳಲ್ಲಿ ಗಾಂಧಿಜೀಯವರ ಪ್ರಭಾವ * ತೇಭಾಗ ಮತ್ತು ಮಲಬಾರ್‌ಗಳಲ್ಲಿ ವಿರೋಧ * ಅಸಹಕಾರ ಆಂದೋಲನ, ಕರ ನಿರಾಕರಣೆ, ಕ್ವಿಟ್ ಇಂಡಿಯಾ ಚಳುವಳಿಗಳಲ್ಲಿ ರೈತರು * ಕಿಸಾನ್ ಸಭಾದ ಹೋರಾಟ * ತೆಲಂಗಾಣದ ರೈತರು, ಜಮೀನ್ದಾರರು ಮತ್ತು ರಜಾಕರ ವಿರುದ್ಧ ಹೋರಾಟ * ಬಂಗಾಳದ ರೈತರು ಜಮೀನ್ದಾರರ ಶೋಷಣೆ ವಿರುದ್ಧ ದಂಗೆ * ಮಹಾರಾಷ್ಟ್ರದಲ್ಲಿ ರೈತರು ಕಡಿಮೆ ಕೂಲಿ ವಿರುದ್ಧ ಚಳುವಳಿ 	
	(ಯಾವುದಾದರೂ ಎಂಟು)	8 × ½
		4

ಪ್ರಶ್ನೆ ಸಂಖ್ಯೆ	ಪ್ರಶ್ನಾನುಸಾರ ಮೌಲ್ಯಮಾಪನ	ಅಂಕಗಳು
VI. 47.	<p>ಭಾರತದ ನಕ್ಷೆಯನ್ನು ಬರೆದು, ಅದರಲ್ಲಿ ಈ ಕೆಳಗಿನವುಗಳನ್ನು ಗುರುತಿಸಿ :</p> <p>1 + 3 = 4</p> <p>a) ಇಂದಿರಾ ಕೋಲ್</p> <p>b) ಕಾವೇರಿ ನದಿ</p> <p>c) ದೆಹಲಿ</p>  <p>ದೃಷ್ಟಿ ವಿಕಲಚೇತನ ವಿದ್ಯಾರ್ಥಿಗಳಿಗೆ ಪರ್ಯಾಯ ಪ್ರಶ್ನೆ : (ಪ್ರಶ್ನೆ ಸಂಖ್ಯೆ 47ರ ಬದಲಿಗೆ)</p> <p>ವಿವಿಧೋದ್ದೇಶ ನದಿ ಕಣಿವೆ ಯೋಜನೆಗಳ ಪ್ರಮುಖ ಉದ್ದೇಶಗಳೇನು ?</p> <ul style="list-style-type: none"> * ನೀರಾವರಿ ಪೂರೈಕೆ * ಪ್ರವಾಹಗಳ ನಿಯಂತ್ರಣ * ಜಲವಿದ್ಯುತ್ ತಯಾರಿಕೆ 	

ಪ್ರಶ್ನೆ ಸಂಖ್ಯೆ	ಪ್ರಶ್ನಾನುಸಾರ ಮೌಲ್ಯಮಾಪನ	ಅಂಕಗಳು
	<ul style="list-style-type: none"> * ಮಣ್ಣಿನ ಸವಿತ ನಿಯಂತ್ರಣ * ಒಳನಾಡಿನ ನೌಕಾಯಾನ * ಒಳನಾಡಿನ ಮೀನುಗಾರಿಕೆ * ಮನರಂಜನೆ * ಗೃಹ ಬಳಕೆಗೆ ನೀರು * ಕೈಗಾರಿಕೆಗಳಿಗೆ ನೀರು * ಅರಣ್ಯ ಪೋಷಣೆ * ನಿರುಪಯುಕ್ತ ಭೂಮಿಯನ್ನು ಕೃಷಿಗಾಗಿ ಬಳಕೆ <p style="text-align: right;">(ಯಾವುದಾದರೂ ಎಂಟು) 8 × 1/2</p>	4