

A**CCE RF
REVISED**

ಕರ್ನಾಟಕ ಪ್ರೌಢ ಶಿಕ್ಷಣ ಪರಿಷತ್, ಮಂಡಳಿ, ಮಲ್ಲೇಶ್ವರಂ, ಬೆಂಗಳೂರು - 560 003
KARNATAKA SECONDARY EDUCATION EXAMINATION BOARD, MALLESWARAM,
BANGALORE - 560 003

ಎಸ್.ಎಸ್.ಎಲ್.ಸಿ. ಪರೀಕ್ಷೆ, ಮಾರ್ಚ್ / ಏಪ್ರಿಲ್ 2019
S. S. L. C. EXAMINATION, MARCH/APRIL, 2019

ಮಾದರಿ ಉತ್ತರಗಳು
MODEL ANSWERS

ದಿನಾಂಕ : 29. 03. 2019]
Date : 29. 03. 2019]

ಸಂಕೇತ ಸಂಖ್ಯೆ : **85-U**
Code No. : **85-U**

ವಿಷಯ : ಸಮಾಜ ವಿಜ್ಞಾನ
Subject : **SOCIAL SCIENCE**

(ಹೊಸ ಪಠ್ಯಕ್ರಮ / New Syllabus)

(ಶಾಲಾ ಅಭ್ಯರ್ಥಿ / Regular Fresh)

(ಉರ್ದು ಭಾಷಾಂತರ / Urdu Version)

[ಗರಿಷ್ಠ ಅಂಕಗಳು : 80

[Max. Marks : 80

ಮಾರ್ಕಸ್	ಮತೌಞ್ ಜೌಬಾತ	ಸೌಾಲ್ ನುಬ್ರಾತ
10 × 1 = 10	ಮಢ್ರೌಞ್ ಜೌಬಾತ : 1909 ಮಿಲ್ ಖಸೌಞ್ ಅಂತಿಬಾಿ ಡಲಞ್ ಜಾರಿ ಕರ್ನಿ ಕಿ ಂಜಿ (A) ಮಸಲಮಾನ್ ಕು ಖಸೌಞ್ ಸಿಾಸಿ ಮತಾಂ ದಿನಿ ಕಿ ಲೈ (B) ಯೂರಪ್ ಕಿ ಲೈ ಂಢ್ರಞ್ ಅಂತಿಬಾಿ ಡಲಞ್ ಜಾರಿ ಕರ್ನಾ (C) ಸಕಸೌಞ್ ಕು ಖಸೌಞ್ ಸಿಾಸಿ ಮತಾಂ ದಿನಿ ಕಿ ಲೈ (D) ಂಸಾಯಿನ್ ಕಿ ಲೈ ಸಿಡ್ ರಿಞ್ ಡಿಞ್ಷನ್ ಕರ್ನಾ 1 1	.I .1 .2
1	ಞ್ಬಾ : (A) ಮಸಲಮಾನ್ ಕು ಖಸೌಞ್ ಸಿಾಸಿ ಮತಾಂ ದಿನಿ ಕಿ ಲೈ ಞ್ಬಾ : (A) ಮಢ್ರಞ್ ಮಿಸೂರ್ (B) ಮಢ್ರಞ್ ಮದ್ರಾಸ್ (C) ಮಢ್ರಞ್ ಮಢ್ಗೂರ್ (D) ಮಢ್ರಞ್ ಸರಿ ರಢ್ಗಾ ಡಿಞ್ಷನ್ ಞ್ಬಾ : (B) ಮಢ್ರಞ್ ಮದ್ರಾಸ್	.2

Turn over]

RF (A) - 1021


سوال نمبرات	متوقع جوابات	مارکس
.3	ان میں کون ہے جس نے 'نیواٹڈیا' اخبار جاری کیا (A) راجہ رام موہن رائے (B) مہاتما گاندھی (C) اینی بیسنٹ (D) دیانند اسرسوتی	1
.4	تنظیم اقوام متحدہ نے انسانی حقوق کا اعلان اس سال کیا (A) 1945 (B) 1950 (C) 1947 (D) 1948	1
.5	اقوام متحدہ کی سلامتی کونسل کا صحیح بیان ہے (A) اس کے 15 مستقل ممبر ہیں۔ (B) اس کو اقوام متحدہ کی کابینہ بھی کہا جاتا ہے۔ (C) اس کا صدر دفتر پیارس میں ہے (D) حال ہی میں ہندوستان کو مستقل ممبر شپ مل گئی۔	1
.6	جواب : (D) 1948 "نا بیٹاک بھوک" ہوتی ہے۔ (A) تغذیہ غذا (B) ناقص تغذیہ (C) مالداروں کی بھوک (D) پرہیزی غذا (Diet) کا توازن	1
.7	جواب : (B) ناقص تغذیہ کالی مٹی خشک (سوکھی) کاشت کے لئے مناسب ہے کیونکہ (A) یہ شدید بارش والے علاقوں میں پائی جاتی ہے (B) اس مٹی میں پانی کی نمی کو ضبط کرنے کی قوت نہیں ہے (C) اس مٹی میں پانی کی نمی کو ضبط کرنے کی قوت ہوتی ہے (D) یہ چمکدار چٹانوں سے بنتی ہے	1
	جواب : (C) اس مٹی میں پانی کی نمی کو ضبط کرنے کی قوت ہوتی ہے	1

مارکس	متوقع جوابات	سوال نمبرات
	دامودر منصوبہ تعمیر کا نتیجہ ہے	.8
	(A) دامودر کا آفت بنگال نہ ہونا	
	(B) زمین کے کھسکنے میں اضافہ	
	(C) زلزلے واقع ہونا	
	(D) بہت سے صنعتوں کے علاقے شامل ہونا	
1	جواب : (A) دامودر کا آفت بنگال نہ ہونا	
	براہ راست ٹیکس کی مثال ہے	.9
	(A) کسٹم ٹیکس	
	(B) مرکزی جنگی ٹیکس	
	(C) اسٹامپ ٹیکس	
	(D) سرویس ٹیکس	
1	جواب : (C) اسٹامپ ٹیکس	
	ایک شخص 15 لاکھ روپیوں کی کار خریدتا ہے۔ اب اس میں کچھ مسائل کا سامنا کرنا پڑ رہا ہے۔ مگر کار کی کمپنی والے جواب نہیں دے رہے ہیں تو یہ شخص کس اجنبی کو شکایت کرنا۔	.10
	(A) ضلعی گاہوں کا منج	
	(B) ریاستی گاہوں کا کمیشن	
	(C) قومی گاہوں کا کمیشن	
	(D) بین الا ریاستی گاہوں کا منج	
1	جواب : (A) ضلعی گاہوں کا منج	


مارکس	متوقع جوابات	سوال نمبرات
	مندرجہ ذیل سوالوں کا ایک جملے میں جواب دیں : 14 × 1 = 14	.II
	شندھی تحریک کو کیوں جاری کیا ؟ جواب :	.11
1	ہندو دھرم سے اسلام اور عیسائی مذہب میں تبدیل ہونے والوں کو دوبارہ پھر ہندو دھرم میں شامل کر لینا۔	
	ہندوستانی سپاہیوں نے (رائفل) رائفل انفیلڈ استعمال کرنے کی کیوں خلاف ورزی کی ؟ جواب :	.12
1	ان کے کارتوس گائے اور سور کی چربی سے مڑھے گئے تھے۔ ہندوؤں کے نزدیک گائے مقدس تھی تو مسلمانوں کے نزدیک سو حرام تھا۔	
	سردار ولہ بھائی پٹیل کو ہندوستان کا مرد آہن کہا جاتا ہے۔ کیوں ؟ جواب :	.13
1	ان کی رہنمائی میں ہندوستانی اتحاد میں شامل کرنے کے عمل کو کامیابی سے پورا کیا گیا۔	
	حکومت نے تبت پناہ گزینوں کے مسئلہ کو کس طرح حل کیا ؟ جواب :	.14
1	حکومت نے میسور ضلع کے ”بیل کوپے“ نامی مقام پر تبت پناہ گزینوں کے لئے تقریباً 3000 ایکڑ زمین کو منظور بھی کیا۔	
	پہلی جنگ عظیم کے بعد امریکہ کی زراعتی علاقوں میں کمی آئی۔ کیوں ؟ جواب :	.15
1	امریکہ کی معیشت میں کافی گراوٹ آچکی تھی۔	
	تخفیف اسلحہ کسے کہتے ہیں ؟ جواب :	.16
1	چند مقررہ قسم کے ہتھیاروں کو مرحلہ بہ مرحلہ روکتے ہوئے اُس کو ختم کرنا ہی تخفیف اسلحہ کہلاتا ہے۔	

مارکس	متوقع جوابات	سوال نمبرات
1	”دی ریپبلک“ کتاب کس نے لکھی ؟ جواب : پلوٹونے	.17
1	دیوداسی رواج غیر انسانی ہے۔ کیوں ؟ جواب :	.18
1	بچپن کی شادی کرنے کے بعد انکو جنسی فروختی کے کام کرانا۔ ہندوستان کی کس ریاست میں سب سے زیادہ جنگلات کا علاقہ ہے ؟ جواب :	.19
1	مدھیہ پردیش ندیوں کے ڈیلٹاؤں اور ہندوستان کے مغربی ساحل کے کنارے کونسے جنگلات پائے جاتے ہیں ؟ جواب :	.20
1	مانگرو کے جنگلات کمپنیوں کی تعمیر کے لئے المونیم کی مانگ زیادہ ہے۔ کیوں ؟ جواب :	.21
1	تعمیر کے لئے فولاد اور تانبا کے بدلے استعمال کیا جاتا ہے۔ آبادی کی کثافت سے کیا مراد ہے ؟ جواب :	.22
1	ایک مربع کلومیٹر میں بسے ہوئے لوگوں کی گنجانی کو آبادی کی کثافت کہتے ہیں۔ 1993ء میں دستور کے 73 ویں ترمیم کیوں جاری کی گئی ؟ جواب :	.23
1	- پورے ملک میں ایک جیسے پنچایت راج ادارے قائم کئے گئے - لامرکزیت کا نظم و نسق (کوئی ایک)	

مارکس	متوقع جوابات	سوال نمبرات
1	<p>عالمی یوم صارفین کا دن کب منایا جاتا ہے ؟</p> <p>جواب :</p> <p>ہر سال کے 15 مارچ کے دن</p> <p>مندرجہ ذیل سوالوں کا دو جملوں میں جواب دیں :</p> <p>15 × 2 = 30</p>	.24
2	<p>جنگ بکسر کی مدد سے انگریزوں کو بہت فائدے حاصل ہوئے۔ واضح کیجئے۔</p> <p>جواب :</p> <p>☆ دیوانی کے حقوق حاصل کئے</p> <p>☆ بنگال پر اپنے تمام حقوق حاصل کئے</p> <p>☆ جنگ کے معاوضہ کے طور پر نواب سے 50 لاکھ روپے حاصل کئے</p> <p>☆ بنگال کے مکمل انتظام کو کمپنی نے اپنے حوالے کر لیا</p> <p>☆ لگان کی وصولی شروع کی (کوئی دو)</p> <p>☆ عہد معاہدہ سے ہندوستان کی ریاستوں کو اپنے قابو میں کیسے کیا ؟</p> <p>جواب :</p> <p>☆ انگریزی فوج کے دستے کو اپنی ریاست میں مقیم کرنا</p> <p>☆ فوج کے خرچ و اخراجات کو متعلقہ حکمران ہی کو بھرنے پڑتا تھا</p> <p>☆ ان کے دربار میں انگریزی افسر (ریسڈنٹ) کو موقع دلوانا</p> <p>☆ انگریزوں کی اجازت کے بغیر یورپی کو مقرر نہیں کرنا</p> <p>☆ جنگ کرنا ہو تو مشورے کی ضرورت تھی</p> <p>☆ انگریزی فوج میں ہندوستانی سپاہیوں کی حالت افسوس ناک تھی۔ واضح کیجئے۔</p> <p>جواب :</p> <p>☆ ہندوستانی سپاہی، رتبہ، تنخواہیں اور ترقی کے مواقع سے محروم تھے</p> <p>☆ ہندوستانی سپاہی مذہبی جذبات سے محروم تھے</p> <p>☆ بیرونی ممالک میں خدمات کے لئے سمندر پار کرنے پر مجبور کیا گیا</p>	.25
2	<p>☆ لگان کی وصولی شروع کی (کوئی دو)</p> <p>☆ عہد معاہدہ سے ہندوستان کی ریاستوں کو اپنے قابو میں کیسے کیا ؟</p> <p>جواب :</p> <p>☆ انگریزی فوج کے دستے کو اپنی ریاست میں مقیم کرنا</p> <p>☆ فوج کے خرچ و اخراجات کو متعلقہ حکمران ہی کو بھرنے پڑتا تھا</p> <p>☆ ان کے دربار میں انگریزی افسر (ریسڈنٹ) کو موقع دلوانا</p> <p>☆ انگریزوں کی اجازت کے بغیر یورپی کو مقرر نہیں کرنا</p> <p>☆ جنگ کرنا ہو تو مشورے کی ضرورت تھی</p> <p>☆ انگریزی فوج میں ہندوستانی سپاہیوں کی حالت افسوس ناک تھی۔ واضح کیجئے۔</p> <p>جواب :</p> <p>☆ ہندوستانی سپاہی، رتبہ، تنخواہیں اور ترقی کے مواقع سے محروم تھے</p> <p>☆ ہندوستانی سپاہی مذہبی جذبات سے محروم تھے</p> <p>☆ بیرونی ممالک میں خدمات کے لئے سمندر پار کرنے پر مجبور کیا گیا</p>	.26
2	<p>☆ لگان کی وصولی شروع کی (کوئی دو)</p> <p>☆ عہد معاہدہ سے ہندوستان کی ریاستوں کو اپنے قابو میں کیسے کیا ؟</p> <p>جواب :</p> <p>☆ انگریزی فوج کے دستے کو اپنی ریاست میں مقیم کرنا</p> <p>☆ فوج کے خرچ و اخراجات کو متعلقہ حکمران ہی کو بھرنے پڑتا تھا</p> <p>☆ ان کے دربار میں انگریزی افسر (ریسڈنٹ) کو موقع دلوانا</p> <p>☆ انگریزوں کی اجازت کے بغیر یورپی کو مقرر نہیں کرنا</p> <p>☆ جنگ کرنا ہو تو مشورے کی ضرورت تھی</p> <p>☆ انگریزی فوج میں ہندوستانی سپاہیوں کی حالت افسوس ناک تھی۔ واضح کیجئے۔</p> <p>جواب :</p> <p>☆ ہندوستانی سپاہی، رتبہ، تنخواہیں اور ترقی کے مواقع سے محروم تھے</p> <p>☆ ہندوستانی سپاہی مذہبی جذبات سے محروم تھے</p> <p>☆ بیرونی ممالک میں خدمات کے لئے سمندر پار کرنے پر مجبور کیا گیا</p>	.27

مارکس	متوقع جوابات	سوال نمبرات
	<p>درجہ ذیل سوالات کے جوابات اس تصویر کے تعلق سے لکھئے:</p>  <p>(a) اس تصویر میں دی گئی شخصیت کا نام کیا ہے ؟</p> <p>(b) ان کی لکھی ہوئی کتاب کا نام کیا ہے ؟</p> <p>جواب :</p> <p>(a) بال گنگا دھر تلک</p> <p>(b) گیتار ہسیا</p>	.28
2	<p>فاشت کی خصوصیات کون کونسے ہیں ؟</p> <p>یا</p> <p>لینن روس کا صدر ہونے پر کون کونسے کارنامے انجام دیئے ؟</p> <p>جواب :</p> <p>☆ والہانہ قومیت</p> <p>☆ آمر حکومتوں کی تباہی</p> <p>☆ تشدد کا خاتمہ</p> <p>☆ نسلی اعتقادات</p> <p>☆ اشتراکی نظریات کا پھیلاؤ</p> <p>☆ قوم پرستوں کی حمایت</p> <p>(کوئی چار)</p> <p>OR/یا</p>	.29
2	<p>$4 \times \frac{1}{2}$</p>	

مارکس	متوقع جوابات	سوال نمبرات
2	<p>☆ لیمنن نے صدر بننے ہی اعلان کیا کہ زمین کسانوں کی ہے</p> <p>☆ تمام روسی شہریوں کو مفت تعلیم مفت اسپورٹس، صحت و تندرستی کے انتظامات۔</p> <p>☆ معاشی اور سیاسی پالیسیوں کو شروع کیا۔</p> <p>☆ سائنسی اشتراکی نظریات کو تجرباتی طور پر پیش کیا۔</p>	.30
2	<p>ہندوستان کو دنیا کے تمام ممالک میں سے ایک مضبوط (طاقتور) ملک قرار دیا گیا ہے۔ کیوں ؟</p> <p>جواب :</p> <p>☆ کثیر آبادی</p> <p>☆ کثیر قدرتی وسائل</p> <p>☆ اعلیٰ ذہنی صلاحیت</p> <p>☆ عقلی صلاحیت</p> <p>☆ مستحکم فوجی قوت</p> <p>☆ خاص خارجہ پالیسی</p>	.31
2	<p>ہندوستان اور چین کے درمیان سرحدی تنازعہ ہونے کے باوجود وہ کیسے اپنے تعلقات قائم رکھے ہیں ؟</p> <p>جواب :</p> <p>☆ 1980 میں ہندوستان کے ساتھ چین سے تجارت اور لین دین کے بہترین تعلقات کو مضبوط کیا۔</p> <p>☆ 2015ء کے بعد سے ہندوستان اور چین کے درمیان کوششوں سے برکس ممالک کی تنظیم قائم ہوئی</p>	.32
2	<p>بے قابو بھیڑ کیوں سماجی سرگرمی ہوتی ہے ؟</p> <p>جواب :</p> <p>☆ حد درجہ تباہ کن صورت حال پیدا کرتی ہے</p> <p>☆ فرقہ وارانہ فساد</p> <p>☆ عوامی بے اطمینانی - گروہی ٹکڑ</p> <p>☆ غیر تہذیبی چال چلن</p> <p>☆ موت بھی ہو جاتی ہے</p> <p>☆ خبروں کو پھیلانا</p>	

مارکس	متوقع جوابات	سوال نمبرات
	جنوبی ہندوستان کے نقشہ میں طبعی حصوں کی نشاندہی کی گئی ہے۔ ان کے نام اور کوئی دو معاشی اہمیت لکھئے۔	.33
	 <p>جواب :</p> <p>(a) ساحلی میدان</p> <p>(b) قدرتی بندرگاہیں</p> <p>☆ غیر ملکی تجارت کا فروغ</p> <p>☆ ماہی گیری</p> <p>☆ نمک کی پیداوار</p> <p>☆ جہاز رانی</p> <p>☆ زراعت</p> <p>☆ سیاحوں کو متوجہ کرنا (کوئی چار)</p>	
2	ہندوستان کی آب و ہوا ایک علاقے سے دوسرے علاقے سے الگ ہوتی ہے۔ کیوں؟	.34
	<p>جواب :</p> <p>☆ طول البلدی</p> <p>☆ سطح سمندر سے بلندی</p> <p>☆ ہواؤں کا رخ</p> <p>☆ پہاڑی سلسلے</p> <p>☆ ساحل سے فاصلے</p> <p>☆ بحری مدوجزر</p> <p>☆ وقوع (کوئی چار)</p>	
2	$4 \times \frac{1}{2}$	

مارکس	متوقع جوابات	سوال نمبرات
	<p>زراعت ہر حلقہ کی ترقی میں مددگار ثابت ہوتی ہے۔ کیسے؟</p> <p>جواب :</p> <p>☆ زراعت محصولات - بینکنگ، بیمہ وغیرہ کو معاون ہوتی ہے</p> <p>☆ یہ کئی صنعتوں کو معاون ہے</p> <p>(مثلاً کپاس اور پٹسن یافتہ اور گنے کی صنعتیں)</p>	.35
2	<p>☆ مارکیٹ کی سہولیات فراہم کرتی ہے۔ (کوئی دو)</p>	
	<p>آج کل توانائی کی قلت ہندوستان کا اہم مسئلہ بن گئی ہے۔ کیوں؟</p> <p>جواب :</p> <p>☆ ناکافی تیل کے ذخائر اور ان کا بحران</p> <p>☆ غیر ماہیتی کوئلہ</p> <p>☆ غیر یقینی بارش کی وجہ</p> <p>☆ برقی قوت کے عمل رسائی کی قوت کا ضائع ہونا</p> <p>☆ غیر روایتی قوتوں کے ذرائع کا محدود استعمال</p>	.36
2		
	<p>آج کل ریلوے نقل و حمل سے بہتر سڑکوں کی نقل و حمل ہے۔ وضاحت کیجئے؟</p> <p>جواب :</p> <p>☆ یہ پہاڑی اور جنگلاتی علاقوں میں بھی تعمیر کئے جاسکتے ہیں</p> <p>☆ یہ دور دراز مقامات کو جوڑنے میں کافی مددگار ہوتے ہیں</p> <p>☆ یہ دور دراز علاقوں کو شہروں اور گاؤں سے جوڑتے ہیں</p> <p>☆ گھر گھر خدمات پہنچاتے ہیں</p>	.37
2	<p>☆ دفاعی شعبہ خصوصاً سرحدی علاقوں کے لئے کارآمد ہوتے ہیں۔ (کوئی چار)</p>	

مارکس	متوقع جوابات	سوال نمبرات
	انسانی ترقی کے اشاریے (HDI) معاشی ترقی کی جانچ کا صحیح پیمانہ ہے۔ سمجھائیے ؟	.38
	جواب :	
	☆ آبادی کی کثرت زیادہ ہو جائے تو معاشی ترقی کی حقیقی صورت معلوم نہیں ہوتی۔	
	☆ فی کس آمدنی ایک مقبول پیمائشی آلہ ہونے کے باوجود وہ لوگوں کی آمدنی کی مقررہ تقسیم نہیں دکھاتا	
2	☆ غذاء، رہائش، تعلیم، صحت اور دیگر سماجی سہولیات کی فراہمی کو بھی زیر غور نہیں لاتا۔	
	آفاقیت کے اثرات سے روایتی کھانوں اور عوامی صحت کی بگاڑ پیدا ہو رہی ہے۔ کیسے ؟	.39
	جواب :	
	☆ بے مصرف غذائی اشیاء کا استعمال بڑھ جاتا ہے۔	
	☆ روایتی کھانوں کا استعمال آہستہ آہستہ ختم ہو جاتا ہے۔	
	☆ صحت کا بگاڑ پیدا ہو کر کئی بیماریوں کے لئے مواقع فراہم ہوتے ہیں	
	☆ مہلک جراثیم ساری دنیا میں پھیل رہے ہیں	
2	☆ ماحول کی کثافت میں اضافہ	
	چھ جملوں والے سوالات کے جوابات :	.IV
	6 × 3 = 18	
	ہندوستان کی تاریخ میں 18 ویں صدی کو سیاسی مسائل سے بھرپور صدی کہا گیا ہے۔ وضاحت کیجئے۔	.40
	یا	
	ہندوستان میں جاری کئے گئے انگریزی تعلیمی نظام کا قدم جدید اور عقلمند ذہنوں کو پیدا کرنا ہے۔ وضاحت کیجئے۔	
	جواب :	
	☆ فرانسیسی اور انگریز ہندوستان کی سیاسی معاملات میں دخل اندازی	
	☆ اورنگ زیب کی موت	
	☆ مغلیہ سلطنت کے مستحکم اقتدار کا زوال	

مارکس	متوقع جوابات	سوال نمبرات
3	<p>☆ جنوبی ہندوستان میں مغلیہ سلطنت کی دوڑ بھاگ ختم</p> <p>☆ کرناٹک کے علاقے میں اقتدار کے لئے آپسی جھگڑے</p> <p>☆ چکا دیورا جاوڈیر کی موت</p> <p>☆ ریاست میسور کی سیاسی ترقی میں مضر اثرات</p> <p>☆ ارکاٹ کے نواب، مرہٹہ اور نظام میں آپسی جھگڑے</p> <p>☆ اینگلو میسور کی جنگ لڑی گئی (کوئی چھ)</p> <p>یا</p> <p>☆ قومیت کے جذبہ کو فروغ دینا</p> <p>☆ مقامی زبانیں اور ادبی تحقیقات کو بھی فروغ ملا</p> <p>☆ جدید سماجی اور مذہبی اصلاحی تحریکیں جنم لیں</p> <p>☆ ہندوستانی تعلیم یافتہ لوگوں کے غور و فکر اور حالات میں جدت پسندی کی ترغیب دلائی</p> <p>☆ آزادی کی جدوجہد کا اثر</p>	
3	<p>☆ ہندوستانیوں کو اپنے تہذیب و تمدن سے واقفیت ملی (کوئی چھ)</p> <p>یا</p> <p>☆ بے روزگاری ہندوستان کا اہم مسئلہ ہے۔ کیوں؟</p> <p>یا</p> <p>☆ تنظیم اقوام متحدہ کے مقاصد کیا ہیں؟ سمجھائیے۔</p> <p>☆ کثیر آبادی</p> <p>☆ زائد سائنس و ٹکنالوجی</p> <p>☆ قدرتی وسائل کی کمی</p>	41

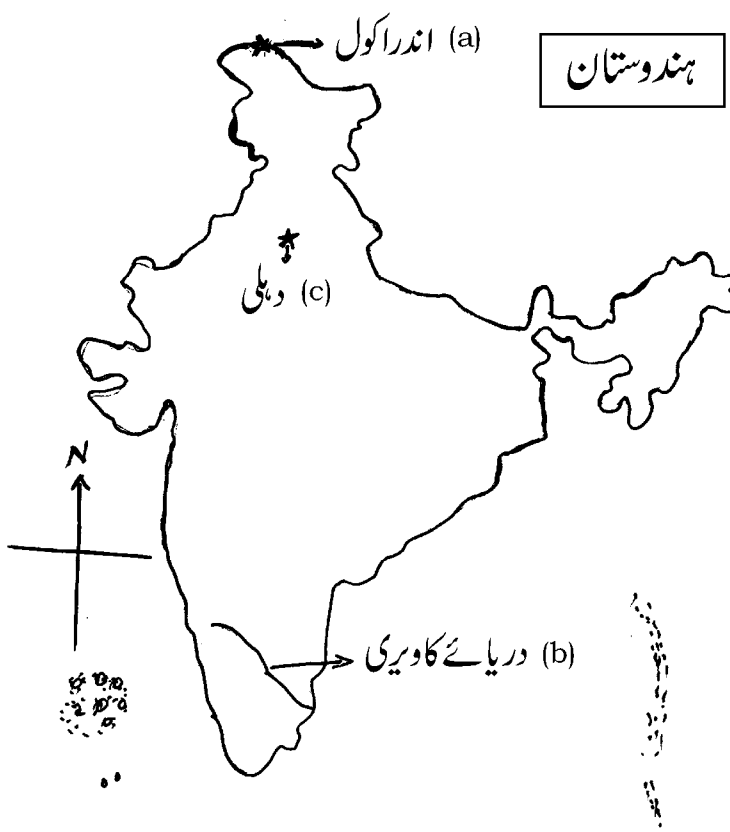
مارکس	متوقع جوابات	سوال نمبرات
3	<p>☆ زراعت پر منحصر رہنا</p> <p>☆ گھریلو کارخانہ کا خاتمہ</p> <p>☆ مہارتی تعلیم کی کمی</p> <p>یا</p> <p>☆ دنیا میں امن اور تحفظ کو برقرار رکھنا</p> <p>☆ ملکوں کے درمیان دوستانہ ماحول کو فروغ دینا</p> <p>☆ انسان کے بنیادی حقوق کے متعلق یقین دہانی کرانا</p> <p>☆ معاشی سماجی ثقافتی اور انسان نوازی کے مسائل کو بین الاقوامی تعاون سے حاصل کرنا</p> <p>☆ بین الاقوامی سطح پر انصاف معاہدوں اور شرطوں پر زور دینا ہی اس کا مقصد ہے</p>	
3	<p>☆ ملکوں میں باہمی تعاون کے لئے کام کرنا</p> <p>ہندوستان میں چھوٹ چھات کے خاتمہ کے لئے اٹھائے گئے اقدامات کونسے ہیں۔ سمجھائیے ؟</p> <p>یا</p> <p>منظم مزدوری کے شعبے کی خصوصیات لکھئے۔</p> <p>جواب :</p> <p>☆ دستور کے 17 ویں دفعہ</p> <p>☆ 1955 میں چھوٹ چھات سے متعلق جرائم کا قانون</p> <p>☆ 1976 میں شہریوں کے حقوق کے تحفظ کا قانون</p> <p>☆ دستوری قانون کے تحت عوامی حق رائے دہندگی اور مساوات کا حق</p> <p>☆ پس ماندہ ذاتوں کو تعلیم اور روزگاری کے لئے مواقع</p> <p>☆ 1989ء کے تحت حکومت کو ذمہ داری دی گئی کہ وہ ریاستوں میں چھوٹ چھات کا خاتمہ کریں۔</p> <p>☆ دفعہ 15 - 16 - 17 - 38 - 39 (کوئی چھ)</p> <p>یا</p>	.42
3	<p>6 × $\frac{1}{2}$</p>	

مارکس	متوقع جوابات	سوال نمبرات
3	<p>☆ کام کو پابند قانون کرنا</p> <p>☆ مقرر تنخواہ</p> <p>☆ روزگاری کا تحفظ</p> <p>☆ قانون (دستور) کے تحت تعلقات کو سمجھانا</p> <p>☆ ان کے لئے خصوصی مہارت، ہنر، تعلیمی صلاحیت کے مواقع رہتے ہیں</p> <p>☆ چھٹیوں کے دوران تنخواہ اور وظیفہ یابی کی سہولتیں (کوئی چھ)</p> <p>☆ ہندوستان کی معاشی ترقی میں صنعتیں کیسے مددگار ثابت ہوتی ہیں سمجھائیے؟</p> <p>یا</p> <p>☆ قدرتی اور انسانی قوتیں یہ دونوں زمین کے کھسکنے کا سبب کیسے بنتی ہیں؟ سمجھائیے۔</p> <p>جواب :</p> <p>☆ صنعتوں کی ترقی سے ابتدائی اشیاء پر انحصار کم ہوتا ہے۔</p> <p>☆ درآمدات میں کمی واقع ہوتی ہے</p> <p>☆ قومی و فی کس آمدنی کا اضافہ ہوتا ہے</p> <p>☆ غیر ملکی زرمبادلہ میں اضافہ</p> <p>☆ روزگار کے مواقع</p> <p>☆ جی ڈی پی میں اضافہ</p> <p>☆ لوگوں کا معیار زندگی بلند ہوتا ہے۔ (کوئی چھ)</p> <p>یا</p>	.43
3	<p>☆ لوگوں کا معیار زندگی بلند ہوتا ہے۔ (کوئی چھ)</p> <p>یا</p>	

مارکس	متوقع جوابات	سوال نمبرات
3	<p>قدرتی قوتیں :</p> <p>☆ سمندری لہریں ساحلی چٹانوں کی تہہ کو ڈھلوانوں کی جانب ٹکراتی ہیں</p> <p>☆ زلزلے</p> <p>☆ شدید بارش</p> <p>انسانی قوتیں :</p> <p>☆ جنگلات کی کٹائی</p> <p>☆ ریلوے لائن اور راستوں کی تعمیرات ندیوں پر باندھ۔</p> <p>☆ آبی ذخائر اور ہائیڈرو الیکٹرک پراجیکٹس کی تعمیرات</p> <p>☆ گہری کان کنی اور پتھروں کی کھدائی کرنا (کوئی چھ)</p> <p>ریزرو بینک آف انڈیا کے اہم کام کونسے ہیں ؟</p> <p>یا</p> <p>عوامی اخراجات کے مقاصد کونسے ہیں ؟</p> <p>جواب :</p> <p>☆ نوٹ چلن کی خود اختیاری</p> <p>☆ حکومت کی بینک</p> <p>☆ بینکوں کی بینک</p> <p>☆ قومی آمدنی کے مرکز طور پر خدمات</p> <p>☆ قرض کی حد پر قابو</p> <p>☆ بیرونی زرمبادلہ کی جمع پونجی کی نگرانی</p> <p>☆ بینکنگ رواج میں ترقی (کوئی چھ)</p> <p>یا</p>	.44
3	<p>6 × $\frac{1}{2}$</p> <p>6 × $\frac{1}{2}$</p>	

مارکس	متوقع جوابات	سوال نمبرات
3	<p>☆ معاشی ترقی کی رفتار کو تیز کرنا</p> <p>☆ صنعت کاروں اور تجارت کی ہمت افزائی کرنا</p> <p>☆ زراعت اور دیہی ترقی کو فروغ دینا</p> <p>☆ متوازی علاقوں کو ترقی کو فروغ دینا</p> <p>☆ سماجی و معاشی بنیادی سہولیات کا انتظام کرنا</p> <p>☆ مکمل روزگار فراہم کرنا</p> <p>☆ سماجی فلاح و بہبودی میں اضافہ کرنا (کوئی چھ)</p> <p>☆ صنعت کار کے عمل (اہم کام) کی فہرست بنائیے۔</p> <p>یا</p> <p>☆ بینک کا کھاتہ کھولنے کے فوائد کی فہرست بنائیے۔</p> <p>جواب :</p> <p>☆ صنعت کار تجارتی سرگرمیوں کے کئی منصوبوں کے ذریعہ کرنا ہے</p> <p>☆ صنعت کار پیداواری شعبوں میں استحکام لاتا ہے</p> <p>☆ صنعت کار نکات کو مناسب طریقہ سے پنپاتا ہے</p> <p>☆ صنعت کار اپنی صنعت کے اقتصاد کے آمد خرچ کا بار سنبھالتا ہے</p> <p>☆ صنعت کار نفع و نقصان اور غیر یقینی صورت حال کا سامنا کرنا پڑتا ہے</p> <p>☆ صنعت کار تجارت کی راہیں معلوم کر کے وہ صحیح طریقہ سے رو بہ عمل لانے کی رہنمائی کرتا ہے۔</p> <p>☆ صنعت کار پیداواری اشیاء کے بارے میں تکنیکی طور طریق کا فیصلہ لیتا ہے۔ (کوئی چھ)</p> <p>یا</p>	.45
3	<p>☆ صنعت کار پیداواری اشیاء کے بارے میں تکنیکی طور طریق کا فیصلہ لیتا ہے۔ (کوئی چھ)</p> <p>یا</p>	

مارکس	متوقع جوابات	سوال نمبرات
3	<p>☆ بینک کھاتوں میں پیسوں کی حفاظت ہوتی ہے</p> <p>☆ بینک کھاتہ رقم ادائیگی کے لئے سازگار ہے</p> <p>☆ بینک کھاتہ پیسے وصول کرنے میں مدد دیتا ہے</p> <p>☆ بینک کھاتے سے قرض اور پیشگی حاصل کر سکتے ہیں</p> <p>☆ بینک کھاتہ با آسانی مالیاتی کاروبار فراہم کرتا ہے</p>	
4	<p>آٹھ/دس جملوں والا سوالات کے جوابات :</p> <p>آزادی کی جدوجہد میں کسانوں کی احتجاجی تنظیموں نے نمایاں رول ادا کیا ہے ؟ سمجھائیے۔</p> <p>جواب :</p> <p>☆ کچھ تنظیمیں کانگریس سے متاثر تھیں تو کچھ مارکس کے نظریات سے</p> <p>☆ کسانوں نے زمینداروں اور باغات کے یورپی مالکان کے خلاف بغاوت کی</p> <p>☆ چمپارن ضلع میں نیل کی کاشت کرنے سے انکار کیا</p> <p>☆ لگان کے خلاف آواز اٹھائی</p> <p>☆ چمپارن، کھیڈ علاقوں میں کسانوں پر گاندھی جی کا کافی اثر پڑا</p> <p>☆ کسانوں کے مسائل تحریک عدم تعاون، تحریک ترک موالات اور ہندوستان چھوڑ دو سے وابستہ ہو گئے۔</p> <p>☆ کئی احتجاجات کسان سبھا کے تحت کئے گئے۔</p> <p>☆ تیلنگانہ کے کسانوں نے بغاوت کر کے زمینداروں کو چنوتی دی</p> <p>☆ بنگالی کسانوں نے زمینداروں کے استحصال کے خلاف آواز اٹھائی</p> <p>☆ مہاراشٹر میں کسانوں نے کم اجرتوں کے خلاف احتجاج کیا۔ (کوئی آٹھ)</p>	.V .46
4	<p>$8 \times \frac{1}{2}$</p>	

مارکس	متوقع جوابات	سوال نمبرات
4	<p>1 + 3 = 4</p> <p>ہندوستان کے نقشہ کا خاکہ بنا لیں اور اس میں مندرجہ ذیل کو نشان زد کریں :</p> <p>(a) اندراکول</p> <p>(b) دریائے کاویری</p> <p>(c) دہلی</p> <p>جواب :</p>  <p>The map shows the outline of India. A box labeled 'ہندوستان' (India) is placed to the right of the map. A north arrow is drawn on the left side. Three points are marked with arrows: (a) Andhra Pradesh at the top, (b) Kaveri River in the south, and (c) Delhi in the north-central region.</p>	.47 .VI

مارکس	متوقع جوابات	سوال نمبرات
4	<p>ناپینا امیدواروں کے لیے متبادل سوال: (سوال نمبر 47 کی جگہ)</p> <p>جواب :</p> <ul style="list-style-type: none"> ☆ آبپاشی کے لئے پانی مہیا کرنا ☆ سیلابوں پر قابو پانا ☆ آبی برقی قوت پیدا کرنا ☆ مٹی کی کٹائی کی روک تھام کرنا ☆ زیر زمین پانی کو بڑھانا ☆ زیر زمین ماہی گیری کرنا ☆ تفریحی مواقع فراہم کرنا ☆ گھریلو اور صنعتوں کے لئے پانی فراہم کرنا ☆ زراعت کے لئے زمین کو دوبارہ قابل کاشت بنانا ☆ جنگلات کا تحفظ وغیرہ 	
4	<p>$8 \times \frac{1}{2}$</p>	