

ക്ലാസ് - 4

പരിസരപഠനം

സമയം: 2 മണിക്കൂർ

കുട്ടിയുടെ പേര്.....
വിദ്യാലയത്തിന്റെ പേര്.....
ഡിവിഷൻ.....
അധ്യാപകന്റെ ഒപ്പ്.....
രക്ഷിതാവിന്റെ ഒപ്പ്.....

ക്രമ നമ്പർ	പ്രവർത്തനങ്ങൾ	ശ്രേണി
1	കൃഷിത്തോട്ടത്തിലേക്ക്	
2	കലയുടെ നാട്	
3	വാർത്തകൾ കൈമാറാം	
4	പ്രഥമ ശുശ്രൂഷ	
5	നാടറിയാം	
6	അവധിക്കാലം	
ഓവറോൾ ശ്രേണി		

നിർദ്ദേശങ്ങൾ

1. മൂല്യ നിർണയ പ്രവർത്തനങ്ങൾ ആരംഭിക്കുന്നതിന് മുമ്പ് 15 മിനിട്ട് ചോദ്യങ്ങൾ നന്നായി വായിച്ചു മനസ്സിലാക്കാനുള്ളതാണ്.
2. തന്നിരിക്കുന്ന ആറു പ്രവർത്തനങ്ങളിൽ അറിയാവുന്ന അഞ്ച് എണ്ണത്തിന് ഉത്തരമെഴുതിയാൽ മതി.
3. ഉത്തരമെഴുതാൻ തെരഞ്ഞെടുക്കുന്ന ചോദ്യങ്ങളുടെ എല്ലാ ഉപ ചോദ്യങ്ങൾക്കും ഉത്തരമെഴുതേണ്ടതാണ്.

പ്രവർത്തനം 1 - കൃഷിത്തോട്ടത്തിലേക്ക്.

അവണിയുടെ ക്ലാസ്സിലെ കുട്ടികളും ടീച്ചറും മികച്ച കർഷകനുള്ള അവാർഡ് ലഭിച്ച തോമസ് പേട്ടന്റെ തോട്ടം സന്ദർശിച്ചു. തോട്ടത്തിലെ ചില സസ്യങ്ങളാണ് ചുവടെ.

തെങ്ങ്, മാവ്, പന, മുള, അർയാൽ, പ്ലാവ്, പേര, കമുക



എ) സസ്യങ്ങളുടെ വേരുകളുടെ പ്രത്യേകതകളുടെ അടിസ്ഥാനത്തിൽ തരം തിരിച്ചറിയുന്ന പട്ടിക തയ്യാറാക്കുക.

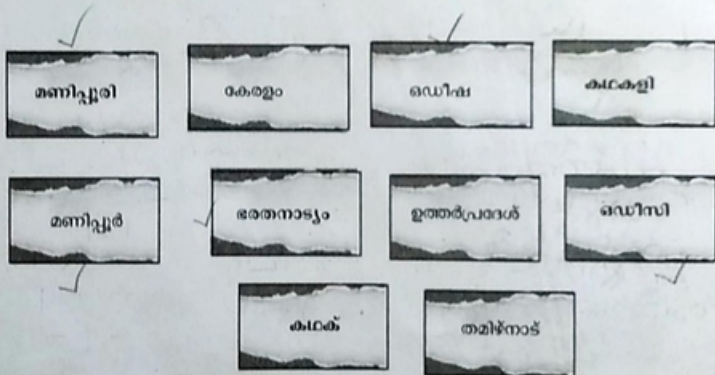
സമുദ്രവേര്.....	താല്പര്യവേര്.....
വേര്	വേര്
വേര്	വേര്
വേര്	വേര്
കുമ്പി	കുമ്പി

ബി) ഏക ബീജപുത്ര സസ്യമല്ലാത്തത് ? ശരിയായതിന്റെ നേരെ (✓) ചെങ്കുക.

- | | | | |
|--------|-------------------------------------|--------|-------------------------------------|
| നെല്ല് | <input checked="" type="checkbox"/> | കാപ്പി | <input type="checkbox"/> |
| ഇഞ്ചി | <input checked="" type="checkbox"/> | മഞ്ഞൾ | <input checked="" type="checkbox"/> |

പ്രവർത്തനം - 2 കലയുടെ നാട്

ഇന്ത്യയിലെ വിവിധ സംസ്ഥാനങ്ങളും കലാരൂപങ്ങളുമാണ് ചുവടെ.



എ) സംസ്ഥാനത്തിന്റെ പേരും അവയുടെ നേരെ ആ സംസ്ഥാനത്തെ കലാരൂപവും എഴുതുക.

സംസ്ഥാനം	കലാരൂപം
മഹാരാഷ്ട്രം	മഹാരിദ്ദി
തമിഴ്നാട്	ഭാരതനാട്യം
കേരളം	കഥകളി
കേരളം	കഥകളി

ബി) ഇവയിൽ നിന്ന് നിങ്ങൾക്കറിയാവുന്ന ഒരു കലാരൂപത്തെക്കുറിച്ച് കുറിപ്പ് എഴുതുക.

കഥകളി കലകളുടെ രാജാവാണ് അതി ഉണ്ടായെന്നും. കഠിനമായ പ്രവർത്തനം ഉണ്ടെങ്കിൽ മാത്രമേ കഥകളി കളിക്കാൻ പറ്റൂ. നൃത്തത്തിനും സാഹിത്യത്തിനും മുദ്ര ക്കാർ കഠിനമായ പ്രവർത്തനം വേണം



സി) ചിത്രത്തിൽ കാണുന്ന കലാരൂപം ഏത് ? അനുയോജ്യമായതിന് നേരെ (✓) ചിഹ്നം ഇടുക.

- എ. മാർഗം കളി
- ബി. തിരുവാതിരക്കളി
- സി. കഥകളി
- ഡി. പുലികളി

മുത്തച്ഛനും കൊച്ചു മോനും തമ്മിലുള്ള സംഭാഷണം വായിക്കൂ...



കത്തിന്റെ ആവശ്യമില്ലെന്ന് മനു പറഞ്ഞതെന്തുകൊണ്ടാണ്?

എ) എന്തെല്ലാം മാർഗങ്ങൾ ഉപയോഗിച്ച് മുത്തച്ഛൻ മനുവിന്റെ അച്ഛനെ കാര്യങ്ങൾ അറിയിക്കാം?

വാർത്താവിനിമയ ഉപകരണങ്ങൾ	വാർത്താവിനിമയ മാധ്യമം
ലാന്റ് ഫോൺ	ഫോൺ സന്ദേശം
ഇന്റർനെറ്റ്	എസ്.എം.എസ്
കമ്പ്യൂട്ടർ	ടൈപ്പിങ്
ഫാക്സ്	ഫാക്സ് സന്ദേശം
വാക്കി ടോക്കി	വേലിംഗ് സന്ദേശം

ബി) വാർത്താവിനിമയ രംഗത്ത് പ്രാവ്, ദൂതൻ, അഞ്ചലോട്ടക്കാർൻ തുടങ്ങിയവർ ഇപ്പോൾ നിലവിലില്ല. കാരണങ്ങൾ എഴുതുക.

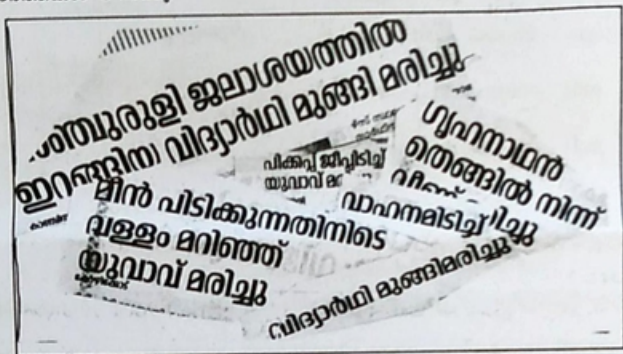
പണ്ട് മൂലങ്ങളിൽ മേൽക്കൂട്ടം ഉണ്ടായിരുന്ന തുടങ്ങിയവ ഇല്ല. അന്ന് പ്രാവ്, ദൂതൻ, അഞ്ചലോട്ടക്കാർൻ എന്നിവരായിരുന്നു. എന്നാൽ ഇപ്പോൾ അതിന്റെ ആവശ്യമില്ല. ഇപ്പോൾ മോൺ ഇറക്കിയിട്ടുള്ള തുടങ്ങിയവ ഉണ്ട്.

സി) ചുവടെ കൊടുത്തിരിക്കുന്നവയിൽ മാർക്കോണിയുടെ കണ്ടുപിടുത്തം ഏത്? അനുയോജ്യമായതിന് നേരെ (✓) ചിഹ്നം ഇടുക.

- എ. ടെലിവിഷൻ
- ബി. റേഡിയോ
- സി. കമ്പ്യൂട്ടർ
- ഡി. ടെലിഫോൺ

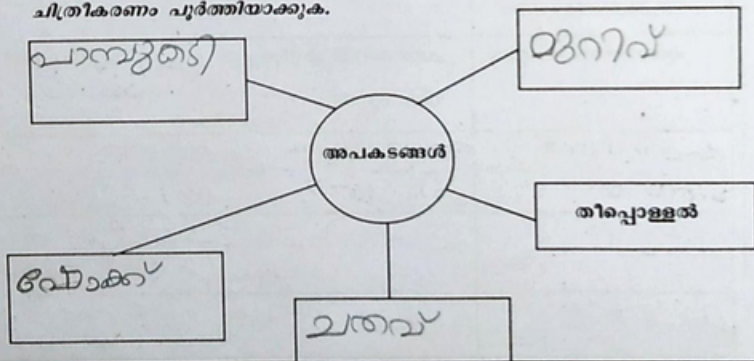
പ്രവർത്തനം 4 - പ്രഥമശ്യാശ്രേഷ്ഠ

പത്രവാർത്തകൾ നോക്കൂ.



എ) പത്രവാർത്ത വായിച്ചല്ലോ? സാധാരണയായി ഛെറുഞ്ഞല്ലോ അപകടങ്ങളാണ് സംഭവിക്കാറുള്ളത് ?

ചിത്രീകരണം പൂർത്തിയാക്കുക.



ബി) സ്കൂളിൽ കളിക്കുന്നതിനിടയിൽ മുറിയു പുറിയ കൂട്ടുകാരന് എന്തെല്ലാം പ്രശ്ന ശൃശൃഷ നൽകും ?

- ആശുപത്രിയിൽ പോകും
- വസ്തു നഷ്ടപ്പെടും

സി) വസ്തുക്കളിൽ തീ പിടിച്ചാൽ ചെയ്യാൻ പാടില്ലാത്തത്.

അനുയോജ്യമായത് (✓) ചെയ്യുക

- എ) നിലത്ത് കിടന്ന് ഉരുളണം
- ബി) വെള്ളം ഒഴിച്ച് തീ കെടുത്തണം.
- സി) ഒട്ടിപ്പിടിപ്പിച്ചിരിക്കുന്ന തൂണി നീക്കം ചെയ്യണം
- ഡി) കട്ടിയുള്ള പുതപ്പ്/ചാക്കുകൊണ്ട് പൊതിയണം

പ്രവർത്തനം 5 - നാടറിയാം


ചിറ്റാലിപുരം സ്കൂളിലെ ടീച്ചറും കുട്ടികളും പഞ്ചായത്ത് ഓഫീസ് സന്ദർശിച്ചു.

എ) പഞ്ചായത്ത് ഓഫീസിനു പുറമെ നിങ്ങൾക്കറിയാവുന്ന മറ്റു പൊതു സ്ഥാപനങ്ങൾ ഏതെല്ലാമാണ് ? അവ നൽകുന്ന സേവനങ്ങൾ എഴുതുക.

പൊതുസ്ഥാപനം	സേവനങ്ങൾ
പഞ്ചായത്ത് ഓഫീസ്	പ്രദേശത്തെ ജനങ്ങളുടെ പൊതു ആവശ്യങ്ങൾ നിറവേറ്റുന്നു.
പോലീസ് സ്റ്റേഷൻ	അറ്റം ചെയ്യുന്നവരെ ശിക്ഷിക്കും
ബാങ്ക്	പാവപ്പെട്ടവർക്ക് ലോണും ബെൻചും നൽകാൻ
അരിപ്പാലു	പാവപ്പെട്ടവർക്ക് ഭക്ഷണം നൽകാൻ

നിങ്ങൾ ഗ്രാമസഭയിൽ പങ്കെടുത്തിട്ടുണ്ടോ?

ബി) ഗ്രാമസഭയെക്കുറിച്ച് ഒരു കുറിപ്പ് തയ്യാറാക്കുക .



സമീപത്തുള്ള അച്ഛൻ മാർ
നാടിന്റെ നല്ല കാര്യങ്ങൾ
അറിയിച്ചുവാൻ

സി) കോർപ്പറേഷന്റെ ഭരണത്തലവനാർ ?

അനുയോജ്യമായത് (✓) ചെയ്യുക

എ. ചെയർപേഴ്സൺ

ബി. പ്രസിഡന്റ്

സി. മേയർ

ഡി. കൗൺസിലർ

പ്രവർത്തനം - 6 അവധിക്കാലം

എ) ഡൽഹിയിലുള്ള കൂട്ടുകാർ അവധിക്കാലത്ത് അനുവിനോടൊപ്പം സന്ദർശിക്കാൻ ആഗ്രഹിക്കുന്ന സ്ഥലങ്ങളാണ് ചുവടെ. അവ ഏതു ജില്ലയിലാണെന്ന് കണ്ടെത്തുക.

സന്ദർശിക്കുന്ന സ്ഥലം	സ്ഥിതി ചെയ്യുന്ന ജില്ല
ശാസ്താംകോട്ട കായൽ	
കേരള കലാ മണ്ഡലം	
കോവളം കടൽത്തീരം	
എടയ്ക്കൽ ഗൃഹ	

ബി) അനുവിന്റെ കൂട്ടുകാർ ഡൽഹിയിൽ നിന്ന് കേരളത്തിലെത്താൻ ഏതു ദിശയിൽ സഞ്ചരിക്കണം? അനുയോജ്യമായത് (✓) ചെയ്യുക

എ. വടക്ക് നിന്ന് പടിഞ്ഞാറോട്ട്

ബി. വടക്ക് നിന്ന് തെക്കോട്ട്

സി. തെക്ക് നിന്ന് വടക്കോട്ട്

ഡി. വടക്ക് നിന്ന് കിഴക്കോട്ട്

