

സമഗ്ര ശിക്ഷാ, കേരളം
അർധവാർഷിക മൂല്യനിർണ്ണയം 2019-20
പരിസരപഠനം

ക്ലാസ് - 4

സമയം: 2 മണിക്കൂർ

കുട്ടിയുടെ പേര്.....
 വിദ്യാലയത്തിന്റെ പേര്.....
 ഡിവിഷൻ.....
 രക്ഷിതാവിന്റെ ഒപ്പ്.....
 അധ്യാപകന്റെ ഒപ്പ്.....

ക്രമ നമ്പർ	പ്രവർത്തനങ്ങൾ	ലഭിച്ച ഗ്രേഡ്
1	പക്ഷിപഠനം	
2	കലാരൂപങ്ങൾ	
3	നമുക്ക് കണ്ടതൊ	
4	ചന്ദ്രക്കല	
5	കലയും സംഗീതവും	
6	എന്റെ കേരളം	
ഓവറോൾ ഗ്രേഡ്		

1. ആദ്യത്തെ 15 മിനിട്ട് ചോദ്യങ്ങൾ നന്നായി വായിച്ചു മനസ്സിലാക്കണം.
2. ആറ് പ്രവർത്തനങ്ങളിൽ ഏതെങ്കിലും അഞ്ചെണ്ണത്തിന് ഉത്തരമെഴുതിയാൽ മതി.
3. തിരഞ്ഞെടുക്കുന്ന ചോദ്യങ്ങളുടെ എല്ലാ ഉപചോദ്യങ്ങൾക്കും ഉത്തരമെഴുതണം

പ്രവർത്തനം 1 - പക്ഷിപഠനം

ചിന്നുവിന്റെ സ്കൂളിൽ പക്ഷിനിരീക്ഷണക്യാമ്പ് നടത്തി. വ്യത്യസ്തതയുള്ള ധാരാളം പക്ഷികളെ അവർ കണ്ടു. സ്കൂൾ വളപ്പിൽ കണ്ട ചില പക്ഷികളുടെ ചിത്രങ്ങളാണ് ചുവടെ. എ. പക്ഷികളുടെ പേരെഴുതുക.









ബി. ഏതെങ്കിലും രണ്ട് പക്ഷികളുടെ പേരും സവിശേഷതകളും എഴുതി പട്ടിക പൂർത്തിയാക്കുക.

പക്ഷിയുടെ പേര്	ശരീരത്തിന്റെ പ്രത്യേകതകൾ	പ്രയോജനങ്ങൾ
പരുന്ത്	വളഞ്ഞ ചുണ്ട് കൂർത്തനഖങ്ങൾ	ഇരയെ നാശം നൂം എളുപ്പത്തിൽ കൊത്തിക്കീറാനും

സി. ദേശാടനപക്ഷി ഏത്? (✓)ചെയ്യുക

കാക്ക മഞ്ഞക്കിളി പരുന്ത് തത്ത

പ്രവർത്തനം 2 - കലാരൂപങ്ങൾ

ചിന്നുവിന്റെ സ്കൂൾ മാസികയിൽ കേരളത്തിലെ കലാരൂപങ്ങളെക്കുറിച്ചുള്ള വിവരണങ്ങൾ ഉൾപ്പെടുത്തിയിട്ടുണ്ട്. മാസികയിലെ കലാരൂപങ്ങളുടെ ചിത്രങ്ങളാണ് ചുവടെ.

എ. ചിത്രം നോക്കി കലാരൂപങ്ങളുടെ പേരെഴുതുക



ബി. ഈ മനോഹരചിത്രം വരച്ചതാര്? (✓)ചെയ്യുക



രാമവർമ്മ രാജ

എം.വി. ദേവൻ

രാജാരവിവർമ്മ

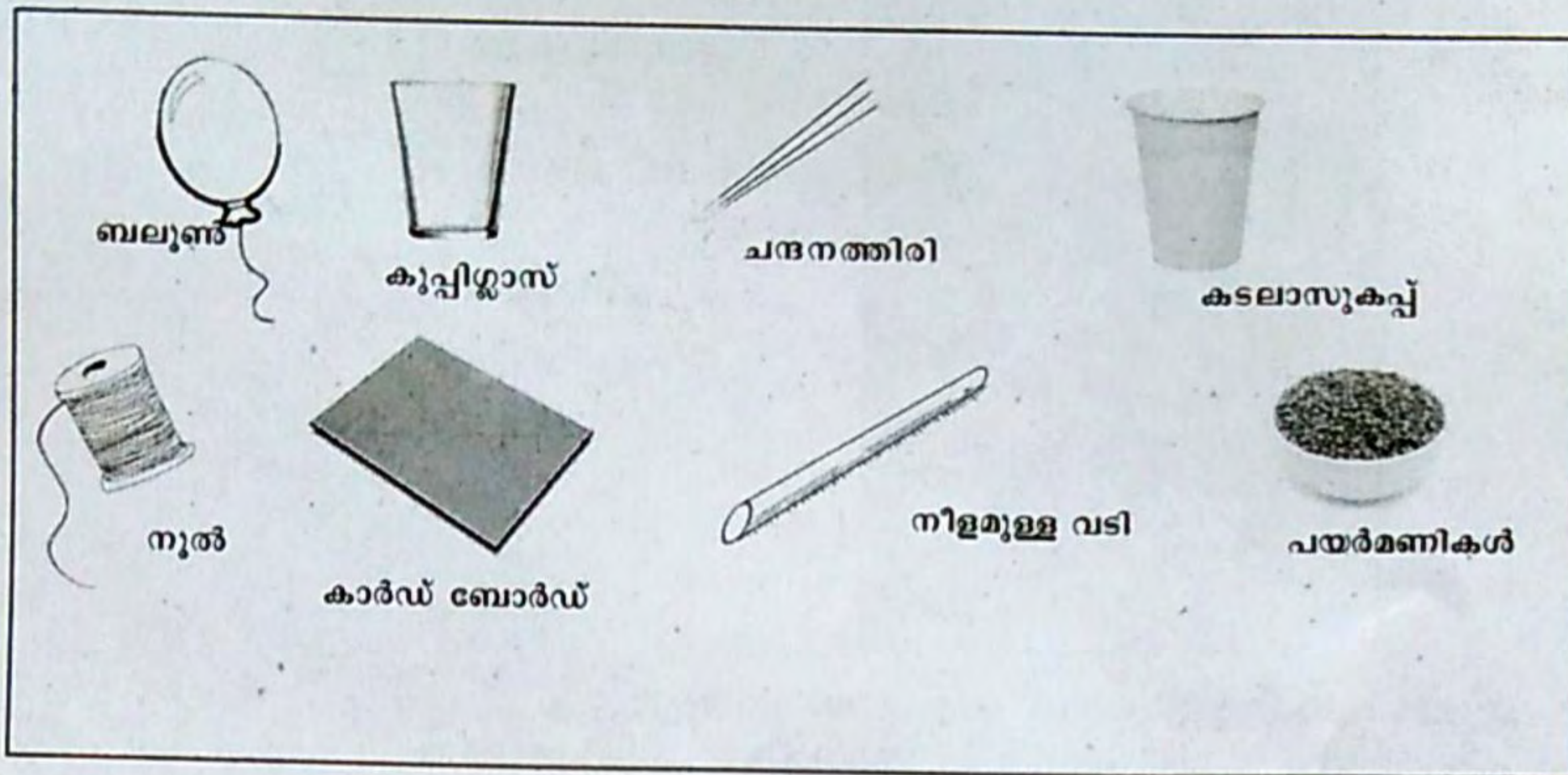
മദനൻ

ചുവടെ ചേർത്തിരിക്കുന്ന ചിത്രങ്ങൾ നോക്കൂ.
സി. ഏതെങ്കിലും ഒരു കലാരൂപത്തെക്കുറിച്ച് എഴുതുക.



പ്രവർത്തനം 3 - നമുക്ക് കണ്ടെത്താം

ചുവടെയുള്ള സാധനങ്ങൾ നോക്കൂ.



എ. ഇവ ഉപയോഗിച്ച് ചെയ്യാവുന്ന ഏതെങ്കിലും ഒരു പരീക്ഷണത്തിന്റെ കുറിപ്പ് എഴുതുക.

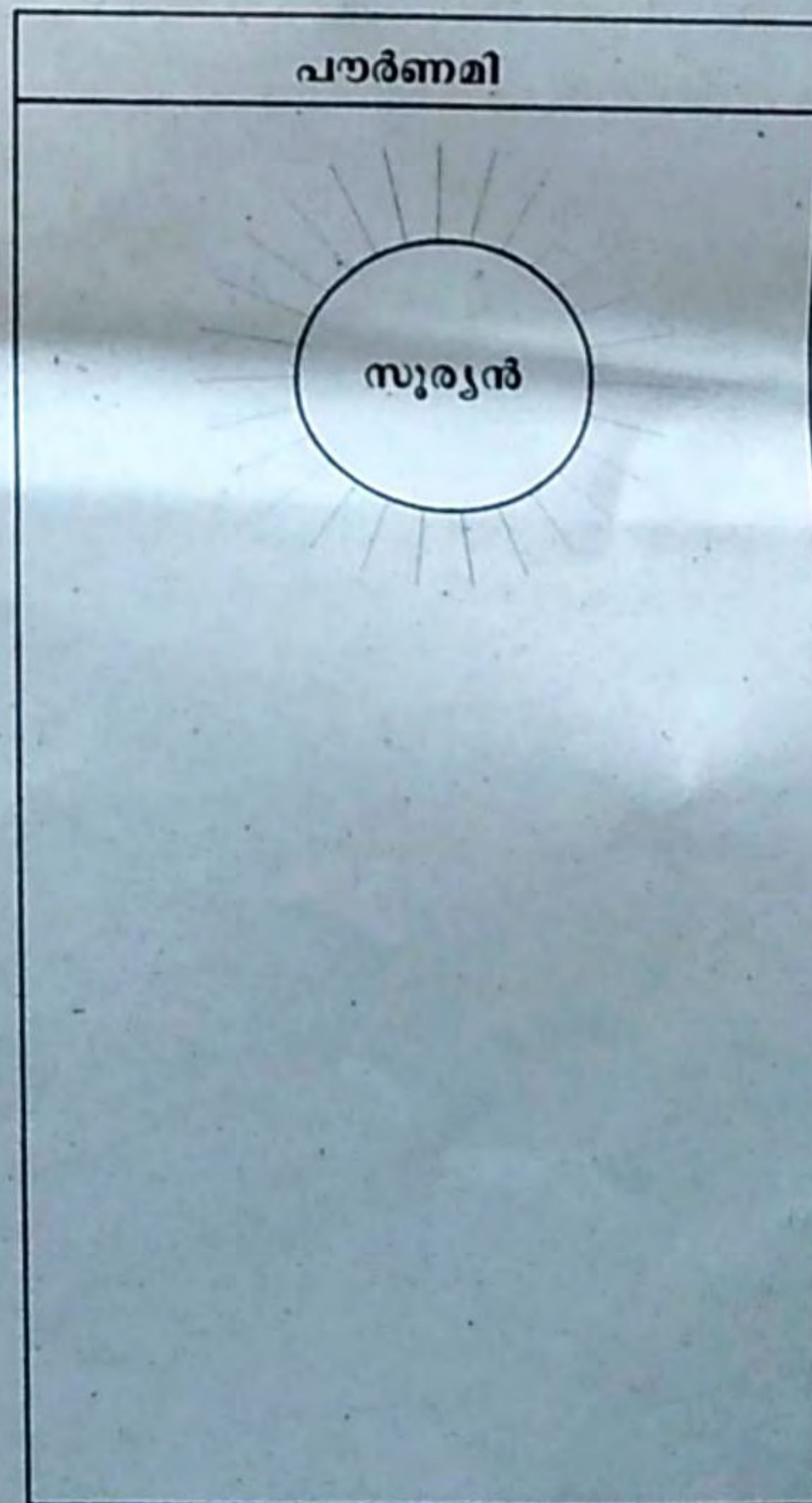
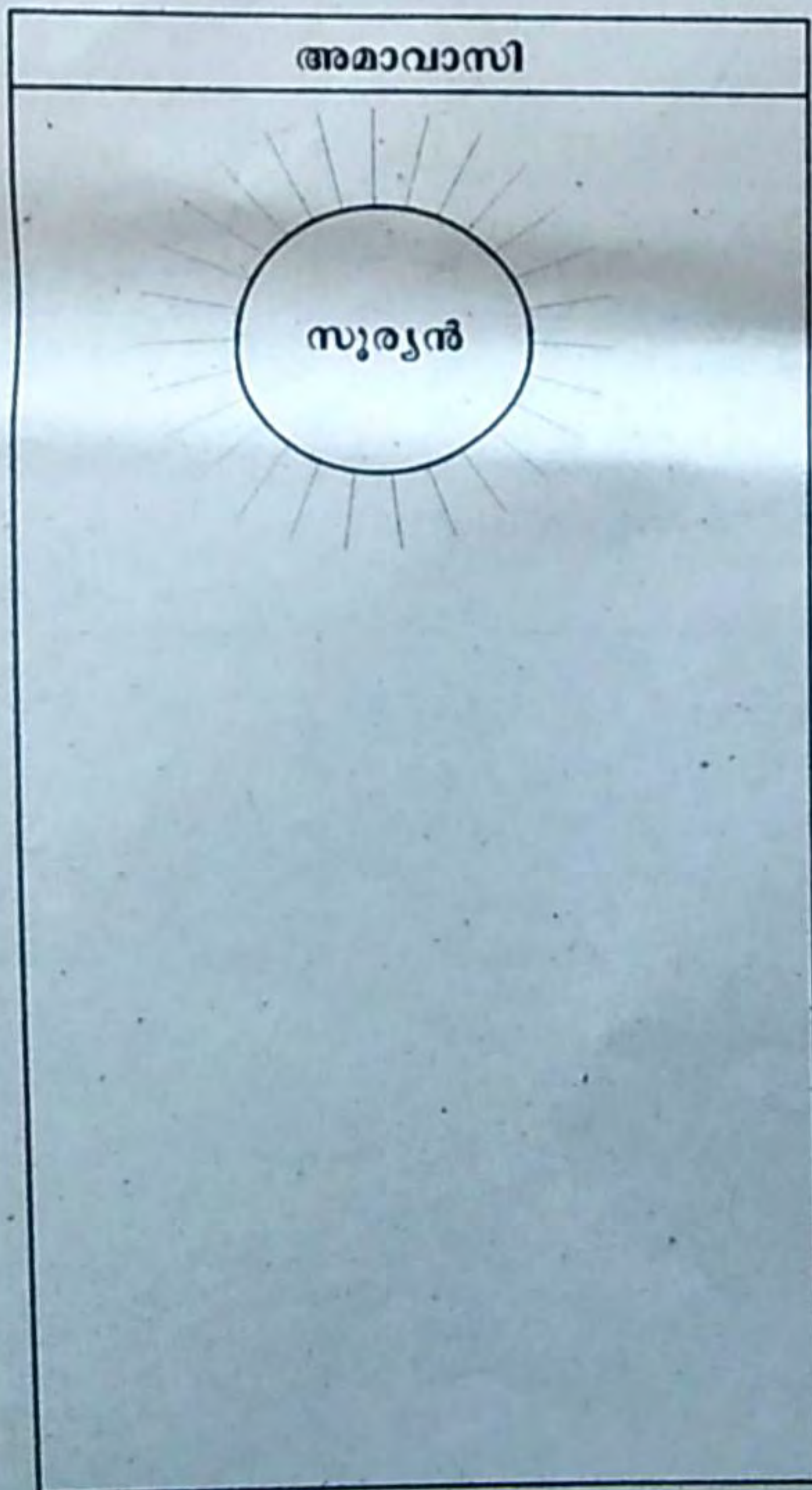
Blank area for writing the experiment procedure.

പദാർത്ഥങ്ങളുടെ അവസ്ഥയുമായി ബന്ധപ്പെട്ട് തയ്യാറാക്കിയ പട്ടികയാണ് ചുവടെ.
ബി. പട്ടിക പൂർത്തിയാക്കുക

പദാർത്ഥങ്ങൾ	നിശ്ചിതമായ ആകൃതി (ഉണ്ട്/ഇല്ല)	ഭാരം (ഉണ്ട്/ഇല്ല)	സ്ഥിതിചെയ്യാൻ സ്ഥലം (ആവശ്യമുണ്ട്/ഇല്ല)	അവസ്ഥ
കല്ല്	ഉണ്ട്	ഉണ്ട്	ആവശ്യമുണ്ട്	ഖരം
എണ്ണ				
നീരാവി		ഉണ്ട്		വാതകം

പ്രവർത്തനം 4 - ചന്ദ്രക്കല

എ. ചന്ദ്രനെയും ഭൂമിയെയും വരച്ചുചേർത്ത് അമാവാസി, പൗർണമി എന്നിവ ചിത്രീകരിക്കുക.



ചുവടെ തന്നിരിക്കുന്ന പ്രസ്താവനകൾ വായിക്കുക.

ബി. ശരിയായ പ്രസ്താവനയ്ക്ക് (✓) ചെയ്യുക.

അമാവാസി ദിവസം ചന്ദ്രനെ തീരെ കാണാൻ കഴിയില്ല

ജലിക്കുന്ന ആകാശഗോളങ്ങളാണ് ഗ്രഹങ്ങൾ

പൗർണമി ദിവസം ചന്ദ്രന്റെ പ്രകാശിത ഭാഗം പൂർണ്ണമായി കാണാൻ കഴിയും

ഭൂമി സ്വയം കറങ്ങുന്നതാണ് പരിക്രമണം

സി. ഭൂമിയുടെ ഉപഗ്രഹം (✓) ചെയ്യുക.

സൂര്യൻ

ചന്ദ്രൻ

വ്യാഴം

ചൊവ്വ

പ്രവർത്തനം 5 - കലയും സംഗീതവും



എ. ചിത്രം നോക്കി കലാരൂപത്തിന്റെ പേര് തലക്കെട്ടായി എഴുതി പ്രത്യേകതകൾ എഴുതുക.

ബി. മാതൃക നോക്കി അനുയോജ്യമായവ കളങ്ങളിൽ എഴുതുക



കേരളത്തിൽ രൂപംകൊണ്ട കലാരൂപം	കഥകളി

സി. കലകളുടെ രാജാവ് (✓) ചെയ്യുക.

- തുള്ളൽ
- കഥാപ്രസംഗം
- കഥകളി
- മോഹിനിയാട്ടം

പ്രവർത്തനം 6 - എന്റെ കേരളം
 കേരളത്തിന്റെ ഭൂപടം നോക്കൂ
 എ. ദിക്കുകൾ എഴുതുക



ഭൂപടത്തിലെ ചിഹ്നങ്ങൾനോക്കി ചുവടെയുള്ള ചോദ്യങ്ങൾക്ക് ഉത്തരം എഴുതുക.

ബി. സ്വന്തം ജില്ല കണ്ടെത്തി നിറം നൽകുക

സി. വിമാനത്താവളമുള്ള ഏതെങ്കിലും രണ്ടുജില്ലകളുടെ പേരെഴുതുക.

--	--

ഡി. തുറമുഖമുള്ള രണ്ടു ജില്ലകൾ

--	--