

**PERAMBRA AUP SCHOOL**  
**L.S.S. MODEL EXAMINATION 2019-20**

രജിസ്റ്റർ നമ്പർ അക്കത്തിൽ  
അക്ഷരത്തിൽ


സമയം 1 1/2 മണിക്കൂർ

ആകെ സ്കോർ : 40

---

**(Paper - I) (Paper - I)**

ഓഫീസ് ഉപയോഗത്തിനുവേണ്ടി

---

**പൊതു നിർദ്ദേശങ്ങൾ**

1. 10.15. എ.എം. മുതൽ 12 പി.എം വരെയാണ് പരീക്ഷാ സമയം.
2. ആദ്യത്തെ 15 മിനുട്ട് സമാശ്വാസസമയമാണ്. ചോദ്യങ്ങൾ വായിച്ചു മനസ്സിലാക്കുന്നതിന് ഈ സമയം ഉപയോഗപ്പെടുത്തേണ്ടതാണ്.
3. പേപ്പർ ഒന്നിലെ ചോദ്യങ്ങൾ മൂന്നു ഭാഗങ്ങളായി ഉൾപ്പെടുത്തിയിരിക്കുന്നു. പാർട്ട് (എ) ഒന്നാംഭാഷ- മലയാളം, പാർട്ട് (ബി)- ഇംഗ്ലീഷ്, പാർട്ട് (സി) പൊതു വിജ്ഞാനം
4. എല്ലാ ചോദ്യങ്ങൾക്കും ചോദ്യപേപ്പറിൽ നൽകിയിരിക്കുന്ന സ്ഥലത്ത് ഉത്തര മെഴുതേണ്ടതാണ്.
5. ബുക്ക്ലെറ്റിൽ ഏതെങ്കിലും തരത്തിലുള്ള വ്യക്തി വിവരങ്ങളോ അടയാളങ്ങളോ രേഖപ്പെടുത്താൻ പാടില്ല.
6. ബുക്ക്ലെറ്റ് ഇൻവിജിലേറ്ററെ ഏൽപ്പിച്ചതിന് ശേഷം മാത്രമേ പരീക്ഷാഹാൾ വിട്ട് പുറത്തുപോകുവാൻ പാടുള്ളൂ.

**PERAMBRA AUP SCHOOL**  
**L.S.S. MODEL EXAMINATION 2019-20**

**എൽ.എസ്.എസ് മാതൃകാപരീക്ഷ 2019-20**  
**പേപ്പർ 1, പാർട്ട് എ**  
**മലയാളം**

( ടോട്ടൽ സ്കോർ 20 )

- ❖ 1 മുതൽ 12 വരെയുള്ള ചോദ്യങ്ങളാണ് മലയാളത്തിൽ ഉൾപ്പെടുത്തിയിരിക്കുന്നത്
- ❖ ഓരോ ചോദ്യത്തിന് നേരെയും സ്കോർ രേഖപ്പെടുത്തിയിട്ടുണ്ട്.
- ❖ എല്ലാ ചോദ്യങ്ങൾക്കും ചോദ്യപേപ്പറിൽ നൽകിയിരിക്കുന്ന സ്ഥലത്ത് ഉത്തരമെഴുതേണ്ടതാണ്.

1. “സ്നേഹിക്കയില്ല ഞാൻ നോവുമാത്മാവിനെ  
 സ്നേഹിച്ചിടാഞ്ഞൊരു തത്വശാസ്ത്രത്തെയും”  
 ഈ വരികൾ ആരുടേതാണ്. ?  (1 സ്കോർ )

2. ‘ചെങ്കുതിർ’ എന്ന പദം പിരിച്ചെഴുതുക  (1 സ്കോർ )

3. 1931 മെയ് 27ന് ചവറയിൽ ജനിച്ചു. 1982 മുതൽ 1987വരെ കേന്ദ്രസാഹിത്യ അക്കാദമി അംഗമായിരുന്നു. 2007ലെ ജ്ഞാനപീഠ പുരസ്കാരം ലഭിച്ചു. ഈ പ്രസ്താവനകൾ ഏത് കവിയെ കുറിച്ചുള്ളതാണ്. ?  (1 സ്കോർ )

4. ആരുടെ തൂലികാനാമമാണ് ആഷാമേനോൻ ?  (1 സ്കോർ )

5. കൊണ്ടൽ എന്ന പദത്തിന്റെ അർത്ഥം എഴുതുക  (1 സ്കോർ )

**6 മുതൽ 10 വരെയുള്ള ചോദ്യങ്ങൾക്കുള്ള ഉത്തരങ്ങൾ തന്നിട്ടുള്ളവയിൽ നിന്നും തെരഞ്ഞെടുത്തെഴുതുക (ഓരോന്നിനും ഒരു സ്കോർ വീതം)**

6. തെറ്റായ ജോഡി കണ്ടെത്തുക (1 സ്കോർ )
- എ) എസ്.കെ. - കാപ്പിരികളുടെ നാട്ടിൽ
  - ബി) ചെറുശ്ശേരി - കൃഷ്ണഗാഥ
  - സി) കുഞ്ചൻനമ്പ്യാർ - ബാലരാമായണം
  - ഡി) ഇടശ്ശേരി - പുതപ്പാട്ട്

7. ചിഹ്നം ചേർക്കുക (1 സ്കോർ )

ഇതേതു വേഷമാണച്ഛാ

a) ; ,

b) “ ” ?

c) ‘ ’ !

d) ?

8. 'എഴുതാപ്പുറം വായിക്കരുത്' - എന്ന ശൈലി അർത്ഥമാക്കുന്നത് എന്ത് ?  
 എ) വേഗത്തിൽ വായിക്കുക, ബി) തെറ്റായ വ്യാഖ്യാനം നൽകരുത്  
 സി) എഴുതിയ പുറംമാത്രം വായിക്കുക ഡി) തെറ്റായ കാര്യം ചിന്തിക്കരുത് (1 സ്കോർ )

9. 'ചുവടെ കൊടുത്തവൽ ശരിയായ പദം ഏത് '  
 എ) പാണ്ടവർ ബി) വിജ്ഞാനം സി)ചിന്ഹം ഡി) ക്ഷുബ്ധിതൻ (1 സ്കോർ )

10. നളചരിതം ആട്ടകഥയെ അടിസ്ഥാനമാക്കി അവതരിപ്പിക്കുന്ന കലാരൂപമാണല്ലോ കഥകളി.  
 കഥകളിയിൽ സ്ത്രീകളുടെ വേഷത്തിന് പറയുന്ന പേര് ? (1 സ്കോർ )  
 എ) മിനുക്ക് ബി) പച്ച സി) കരി ഡി) താടി

11. താഴെകൊടുത്ത കവിത വായിക്കുക. തുടർന്നുള്ള ചോദ്യങ്ങൾക്ക് ഉത്തരമെഴുതുക

ചങ്ങാതി  
 കടലമ്മ പെറ്റ കതിർക്കുടമേ  
 കനകക്കുടമേ, നിനക്കു നന്ദി  
 പാരായ പാരൊക്കെ കൂരിരുളാൽ  
 പാരം നിറഞ്ഞു തളർന്നിടുമ്പോൾ  
 ആയിരം പൊൻകരം നീട്ടി നീട്ടി  
 ആയിരളൊക്കെയെകറ്റി ചാറ്റി  
 എന്നും കിഴക്കെ പടികടന്നു  
 വന്നുചേരുന്ന നിനക്കുനന്ദി !  
 ചെന്നിറച്ചെങ്ങിലയായതും നീ,  
 ചെങ്കനൽ കട്ടയായി നിന്നതും നീ,  
 വെള്ളത്തിൽ നിന്നും പുറത്തുവന്നാൽ  
 ഉള്ളുതുറന്നു ചിരിപ്പതും നീ  
 ആഴിയിൽ നിന്നും ഉയർന്നുപൊങ്ങി  
 ആകാശവീഥിയിലൂടെ നീങ്ങി  
 എങ്ങും വെളിച്ചം വിതച്ചുപോകും  
 ചങ്ങാതിയും നീ, നിനക്കുനന്ദി  
 (മോഹപക്ഷി) (മുല്ലനേഴി)

എ) ഈ കവിതയിൽ ആരെക്കുറിച്ചാണ് പറഞ്ഞിരിക്കുന്നത്. ? (1 സ്കോർ )

ബി) സൂര്യന് കവിതയിൽ നൽകുന്ന വിശേഷണങ്ങളിൽ ഏതെങ്കിലും ഒന്നെഴുതുക ?

(1 സ്കോർ )

സി) കവിതയ്ക്ക് ആസ്വാദനക്കുറിപ്പ് തയ്യാറാക്കുക

(3 സ്കോർ )

12.



ഞങ്ങളും ഞങ്ങളുടെ

അയൽപക്ക വിദ്യാലയങ്ങളും

അയൽപക്ക വിദ്യാലയങ്ങളിൽ LSS പരീക്ഷ എഴുതുന്ന വിദ്യാർത്ഥികളെ പങ്കെടുപ്പിച്ച് പേരാമ്പ്ര എ യു പി സ്കൂൾ സംഘടിപ്പിക്കുന്ന LSS മാതൃകാ പരീക്ഷ

25 / 01 / 2020 ശനി രാവിലെ  
9.30 മുതൽ

എ) പത്രവാർത്തയ്ക്ക് ഒരു തലക്കെട്ട് നൽകൂ

(1 സ്കോർ )

ബി) ഈ നോട്ടീസിനെ അടിസ്ഥാനമാക്കി ഒരു പത്രവാർത്ത തയ്യാറാക്കൂ.

(4 സ്കോർ )

**PERAMBRA AUP SCHOOL**  
**L.S.S. MODEL EXAMINATION 2019-20**

(Paper -1), (Part - B)  
ENGLISH

Total Score : 10

Write the answers to the questions in the space provided

- ❖ Questions 13 and 14 are included in the english section
- ❖ The score of each question is given against it.
- ❖ Answer all the questions

13. a) Fill in the blanks with suitable letters and write it in the column provided

Suddenly he heard a ..... sound

C			A			G
---	--	--	---	--	--	---

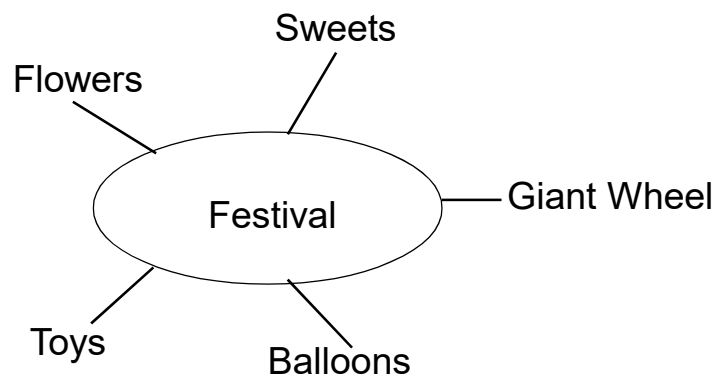
(1 Score )

b) Rearrange the letters given below

L	H	C	E	S	I
---	---	---	---	---	---

(1 Score )

c) Describe a festival ground by using these hints



(3 Score )

14. a) Rearrang the words and write the correct sentence

Ships/Saw/They/Waves/Many/Breaking/Huge

(1 Score )

b) Make a riddle about Tomato

(1 Score )

c) Odd one out

Captain, Ship, Ivan, Seed

(1 Score )

d) King Ivan decided to distribute saplings to all the women in the country.

Make a notice to inform the details of the event

(1 Score )

(2 Score )

**PERAMBRA AUP SCHOOL**  
**L.S.S. MODEL EXAMINATION 2019-20**

**എൽ.എസ്.എസ് മാതൃകാപരീക്ഷ 2019-20**

**പേപ്പർ 1, പാർട്ട് സി**

**പൊതു വിജ്ഞാനം**

( ടോട്ടൽ സ്കോർ 10 )

- ❖ 15 മുതൽ 24വരെയുള്ള ചോദ്യങ്ങളാണ് പൊതുവിജ്ഞാനത്തിൽ ഉൾപ്പെടുത്തിയിരിക്കുന്നത്
- ❖ ഓരോ ചോദ്യത്തിന് നേരെയും സ്കോർരേഖപ്പെടുത്തിയിട്ടുണ്ട്

15. 1950 ജനുവരി 26ന് റിപബ്ലിക്ക് ആയ നമ്മുടെ രാജ്യത്തിന്റെ ഭരണഘടനാ ശിൽപ്പി ഡോ: ബി. ആർ അംബേദ്കർ ആണെന്ന് അറിയാമല്ലോ. ഇന്ത്യൻ ഭരണഘടനയ്ക്ക് ആമുഖമെഴുതിയത് ആരാണ് ?  
 എ) ഗാന്ധിജി    ബി) നെഹ്റു    സി) ടാഗോർ    ഡി) ഡോ രാജേന്ദ്രപ്രസാദ്  
 (1 സ്കോർ )
16. ബാഡ്മിന്റൺ ലോക ചാമ്പ്യൻഷിപ്പിൽ സ്വർണ്ണം നേടുന്ന ആദ്യ ഇന്ത്യക്കാരി ?  
 എ) സൈന നഹ്വാൾ    ബി) ജാല ഗുട്ട    സി) പി.വി.സിന്ധു    ഡി) അശ്വിനിപൊന്നപ്പ  
 (1 സ്കോർ )
17. “വെളിച്ചം ദുഃഖമാണുണ്ണീ തമസ്സല്ലോ സുഖപ്രദം” 2019ലെ ജ്ഞാനപീഠ പുരസ്കാരം ലഭിച്ച അക്കിത്തം അച്യുതൻ നമ്പൂതിരിയുടെ ഏത് കൃതിയിലെ വരികളാണിവ ?  
 എ) മധുവിധു    ബി) ബലിദർശനം    സി) പൊളിഞ്ഞ ലോകം    ഡി) ഇരുപതാം നൂറ്റാണ്ടിന്റെ ഇതിഹാസം  
 (1 സ്കോർ )
18. ജമ്മു കാശ്മീരിന് പ്രത്യേക പദവി നൽകുന്ന ഭരണഘടനയുടെ എത്രാമത്തെ ആർട്ടിക്കിൾ ആണ് റദ്ദാക്കിയത്. ?  
 എ) ആർട്ടിക്കിൾ 370    ബി) ആർട്ടിക്കിൾ 170  
 സി) ആർട്ടിക്കിൾ 270    ഡി) ആർട്ടിക്കിൾ 470  
 (1 സ്കോർ )
19. ഭവനരഹിതർക്ക് ഭവനം യാഥാർത്ഥ്യമാക്കുക എന്ന ലക്ഷ്യത്തോടെ സംസ്ഥാന സർക്കാർ ആരംഭിച്ച പദ്ധതി ?  
 എ) ഹരിത കേരളം    ബി) ആർദ്രം    സി) ലൈഫ്    ഡി) വയോമിത്രം  
 (1 സ്കോർ )
20. വി.ജെ.ജെയിംസിന് വയലാർ അവാർഡ് നേടിക്കൊടുത്ത കൃതി ?  
 (1 സ്കോർ )
21. ദേശീയതപാൽദിനം എന്ന് ?  
 (1 സ്കോർ )
22. ഇന്ത്യയുടെ പുതിയ 10 രൂപ നോട്ടിൽ ആലേഖനം ചെയ്ത ചിത്രം ?  
 (1 സ്കോർ )
23. 2018ലെ മികച്ച ചിത്രത്തിനുള്ള ഓസ്കാർ അവാർഡ് ലഭിച്ച ചിത്രം  
 (1 സ്കോർ )
24. 2019 ഡിസംബർ 26ന് വലയസൂര്യഗ്രഹണവുമായി ബന്ധപ്പെട്ട പത്രവാർത്തകൾ നിങ്ങൾ ശ്രദ്ധിച്ചിട്ടുണ്ടാവുമല്ലോ. കേരളത്തിൽ ഇനി എപ്പോഴാണ് സൂര്യഗ്രഹണം ദൃശ്യമാവുക ?  
 (1 സ്കോർ )



രജിസ്റ്റർ നമ്പർ അക്കത്തിൽ  
അക്ഷരത്തിൽ


**PERAMBRA AUP SCHOOL**

**L.S.S. MODEL EXAMINATION 2019-20**

എൽ.എസ്.എസ് മാതൃകാപരീക്ഷ 2019-20

പേപ്പർ 2, പാർട്ട് എ

പരിസര പഠനം

( ടോട്ടൽ സ്കോർ 20 )

1. എ) വസ്തുക്കളുടെ പൊതുസ്വഭാവങ്ങൾ എന്തെല്ലാമാണെന്ന് നിങ്ങൾക്കറിയാമല്ലോ ?  
“ വസ്തുക്കൾക്ക് സ്ഥിതി ചെയ്യാൻ സ്ഥലം ആവശ്യമാണ്” എന്ന് തെളിയിക്കുന്ന പരീക്ഷണക്കുറിപ്പ് തയ്യാറാക്കുക (3 സ്കോർ )

- ബി) വസ്തുക്കൾക്ക് അവയുടെ അവസ്ഥ മാറ്റാൻ കഴിയുമല്ലോ. വെള്ളത്തിന്റെ അവസ്ഥ മാറ്റങ്ങൾ ഫ്ലോചാർട്ട് വരച്ച് വിശദീകരിക്കുക (2 സ്കോർ )

2. എ) ഇന്ത്യയിലെ സംസ്ഥാനങ്ങളുടെ വിവരങ്ങൾ അടങ്ങിയ പട്ടിക തയ്യാറാക്കുകയാണ് സോനൂ. പട്ടിക പൂർത്തിയാക്കുവാൻ സോനൂവിനെ സഹായിക്കാമോ ? (3 സ്കോർ )

സംസ്ഥാനം	തലസ്ഥാനം	ഭാഷ	കലാരൂപം
കർണാടക	ബംഗളൂരു	.....	.....
ഗുജറാത്ത്	.....	ഗുജറാത്തി	.....
ഹരിയാന	.....	.....	.....

ബി) ഇന്ത്യയിലെ 28 സംസ്ഥാനങ്ങളിൽ വടക്കുകിഴക്കു ഭാഗത്തുള്ള ഒരു സംസ്ഥാനത്തെ പറ്റി ലഘുകുറിപ്പു തയ്യാറാക്കുക. (2 സ്കോർ )

3. ദേശാടനപക്ഷി അല്ലാത്തത് ഏത് ? (1 സ്കോർ )  
 എ)നാക മോഹൻ      ബി) ആർട്ടിക് ടേൺ      സി) കൂയിൽ      ഡി ) മഞ്ഞക്കിളി

4. ഒരു ജീവിക്ക് അതിന്റെ വാസസ്ഥലത്ത് ജീവിക്കുവാൻ സഹായിക്കുന്ന തരത്തിലുള്ള സവിശേഷതയാണ് ? (1 സ്കോർ )  
 എ) പരസ്പരാശ്രയത്വം      ബി) ആവാസ വ്യവസ്ഥ      സി) അനുകൂലനം      ഡി) പരസ്പര ബന്ധം

5. കറുത്തവാവിന് അനുയോജ്യമായ പ്രസ്താവന ഏത് ? (1 സ്കോർ )  
 എ) ചന്ദ്രനെ കാണുന്നില്ല      ബി) ചന്ദ്രനെ കാണുന്നു  
 സി) ഭൂമിചന്ദ്രനും സൂര്യനുമിടയിൽ

6. ഇന്ത്യയുടെ കിഴക്കെ അറ്റത്തുള്ള സംസ്ഥാനമേത് ? (1 സ്കോർ )  
 എ) ഗുജറാത്ത്      ബി) അരുണാചൽപ്രദേശ്      സി) തമിഴ്നാട്      ഡി) ഹിമാചൽപ്രദേശ്

7. കൂട്ടത്തിൽപെടാത്തത് ഏത് ? (1 സ്കോർ )  
 കത്രിക, കോട്ടൺ, ബാൻഡേജ്, പേന, മരുന്നുകൾ

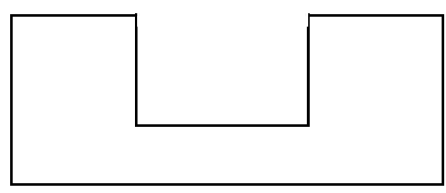
8. മുളക്കുന്ന വിത്തിന്റെ ഏത് ഭാഗമാണ് കാണുമായിമാറുന്നത്  (1 സ്കോർ)
9. ടെറിഡോ ഫൈറ്റുകൾക്ക് ഒരു ഉദാഹരണം എഴുതുക  (1 സ്കോർ)
10. ദിക്ക് അറിയുന്നതിന് ഉപയോഗിക്കുന്ന ഉപകരണം ഏത് ?  (1 സ്കോർ)
11. ഒരു വെളുത്തവാവിന് ശേഷം എത്രദിവസം കഴിഞ്ഞാണ് അടുത്ത വെളുത്തവാവ് ?  (1 സ്കോർ)
12. തീ, ഇടിമിന്നൽ എന്നിവ ദ്രവ്യത്തിന്റെ ..... അവസ്ഥയാണ്. ?  (1 സ്കോർ)

രജിസ്റ്റർ നമ്പർ	അക്കത്തിൽ	<input type="text"/>	<input type="text"/>	<input type="text"/>	<input type="text"/>	<input type="text"/>	<input type="text"/>
	അക്ഷരത്തിൽ	<input type="text"/>	<input type="text"/>	<input type="text"/>	<input type="text"/>	<input type="text"/>	<input type="text"/>

**PERAMBRA AUP SCHOOL**  
**L.S.S. MODEL EXAMINATION 2019-20**  
**എൽ.എസ്.എസ് മാതൃകാപരീക്ഷ 2019-20**  
**പേപ്പർ 2, പാർട്ട് ബി**  
**ഗണിതം**

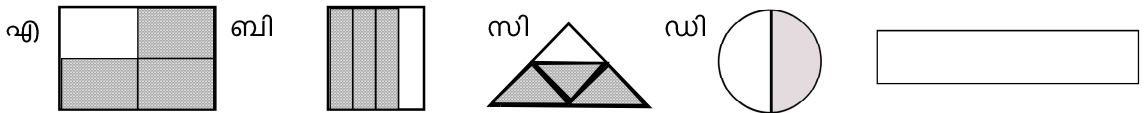
( ടോട്ടൽ സ്കോർ 20 )

13. രാജന്റെ ചതുരാകൃതിയായ പുരയിടത്തിന് 16 മീറ്റർ നീളവും 12 മീറ്റർ വീതിയുമുണ്ട്
- എ) പുരയിടത്തിന്റെ ചുറ്റളവ് എത്ര ?  (1 സ്കോർ)
- ബി) ഈ പുരയിടത്തിന് ചുറ്റും 3 വരി വേലികെട്ടാൻ എത്രമീറ്റർ കമ്പി വേണം ?  (1 സ്കോർ)
- സി) ഒരുമീറ്റർ കമ്പിക്ക് 7 രൂപ വിലയെങ്കിൽ ആകെ എത്രതുക ചെലവ് വരും ?  (1 സ്കോർ)
- ഡി) ഇതേചുറ്റളവുള്ള ഒരു സമചതുരാകൃതിയായ പുരയിടത്തിന്റെ നീളം എത്രമീറ്റർ ?  (1 സ്കോർ)
- ഇ) രാജൻ തന്റെ പുരയിടത്തിൽ നിന്നും 6 മീറ്റർ വശമുള്ള സമചതുരാകൃതിയായ ഒരു സ്ഥലം മുറിച്ചുവിടുകിൽ ബാക്കിയുള്ള പുരയിടത്തിന്റെ ചുറ്റളവ് എത്ര  (1 സ്കോർ)



14. ശങ്കരേട്ടന്റെ റബ്ബർതോട്ടത്തിലെ റബ്ബർവെട്ടുകാരനാണ് കേശു. തോട്ടത്തിൽ 160 റബ്ബർ മരങ്ങളുണ്ട്. റബ്ബറൊന്നിന് 12 രൂപയാണ് വെട്ടുകൂലി ഈ വർഷം റബ്ബർ 1ന് 500 ഗ്രാം വീതം വളം വാങ്ങിയിട്ടു. ആ ഇനത്തിൽ 1500 രൂപ ചെലവായി. പണിക്കൂലിയായി 4200 രൂപയും ചെലവായിട്ടുണ്ട്. ഷീറൊന്നിന് 9 രൂപവെച്ച് 8289 രൂപ വിറ്റുവരവുണ്ട്.
- എ) കേശുവിന് വെട്ടുകൂലി ഇനത്തിൽ എത്രരൂപ കിട്ടി ?  (1 സ്കോർ)
- ബി) ഈ വർഷം റബ്ബറിനായി എത്രരൂപ ചെലവാക്കി ?  (1 സ്കോർ)
- സി) ആകെ എത്ര കിലോഗ്രാം വളം വാങ്ങേണ്ടി വന്നു ?  (1 സ്കോർ)
- ഡി) എത്ര റബ്ബർഷീറാണ് വിൽപ്പന നടത്തിയത് ?  (1 സ്കോർ)
- ഇ ) ഈ വർഷം ശങ്കരേട്ടന് ലാഭമോ ? നഷ്ടമോ ? എത്ര ?  (1 സ്കോർ)

15. 2, 5, 0, 7 എന്നീ അക്കങ്ങൾ ഒരു പ്രാവശ്യംമാത്രം ഉപയോഗിച്ച് എത്ര നാലക്ക സംഖ്യകൾ ഉണ്ടാക്കാം. ?  (1 സ്കോർ)
16. 1, 4, 9, 16 ഈ സംഖ്യാശ്രേണിയിലെ 10-ാമത്തെ സംഖ്യയേത് ?
17. 34നെ 18കൊണ്ട് ഗുണിക്കാൻ 34നെ 8 കൊണ്ട് ഗുണിച്ചതിനോട് എത്രകൂടി കൂട്ടണം ?  (1 സ്കോർ)
18. ഒരുസംഖ്യയുടെ പകുതിയുടെ പകുതിയോട് 2 കൂട്ടിയാൽ 7 കിട്ടും സംഖ്യ ഏത് ?  (1 സ്കോർ)
19. കൂട്ടത്തിൽപെടാത്തത് ഏത്  (1 സ്കോർ)



20. 3 പേർ ജോലി ചെയ്ത സമയമാണ് താഴെകൊടുത്തിരിക്കുന്നത് (1 സ്കോർ)
- സുകു - 2 മണിക്കൂർ  
സീമ - 140 മിനുട്ട്  
സന്ധ്യ - 1 മണിക്കൂർ 30 മിനുട്ട്
- ആരാണ് ഏറ്റവും കുറവ് സമയം ജോലി ചെയ്തത് ?

21. 2 മീറ്റർ നീളമുള്ള കമ്പി 4 തുല്യഭാഗങ്ങളാക്കി മുറിച്ചാൽ ഓരോ കഷണത്തിന്റെയും നീളമെത്ര  (1 സ്കോർ)

22. വാരാപ്പുഴ എൽ.പി.സ്കൂളിൽ ഈ വർഷം ചേർന്ന കുട്ടികൾക്ക് നൽകിയ പ്രവേശന നമ്പർ 3714 മുതൽ 3749വരെയാണ് എങ്കിൽ ഈ വർഷം എത്രകുട്ടികൾ ചേർന്നു. ?  (1 സ്കോർ)

23. അടുത്തടുത്ത 3 സംഖ്യകളുടെ ഗുണനഫലം എപ്പോഴും  (1 സ്കോർ)
- എ) ഒറ്റസംഖ്യയായിരിക്കും ബി) ഇരട്ടസംഖ്യയായിരിക്കും  (1 സ്കോർ)
- സി) ഒറ്റസംഖ്യയോ ഇരട്ടസംഖ്യയോ ആവാം ഡി) ഇതൊന്നുമല്ല

24. ഒരു പെൻസിലിന്റെ ഇരട്ടി വിലയാണ് പേനയ്ക്ക്. പേനയുടെ ഇരട്ടിവിലയാണ് ബുക്കിന്. 5 ബുക്കിന് 60 രൂപയെങ്കിൽ ഒരു പെൻസിലിന്റെ വിലയെത്ര ?  (1 സ്കോർ)

ROUGH WORK