



# Silent Bells



ഫസ്റ്റ് ബെൽ - അനുബന്ധ പഠനസഹായകസാമഗ്രി

Lesson : മാനവവിഭവശേഷി വികസനം ഇന്ത്യയിൽ

**STANDARD**  
**10**

Subject : Social Science

Work Sheet : 10

Class Link:

1. ലോക ജനസംഖ്യ ദിനം എന്നാണ്?

2. ഇന്ത്യയുടെ ജനസംഖ്യാ വളർച്ചാ നിരക്ക് സൂചിപ്പിക്കുന്ന പട്ടിക ചുവടെ നൽകുന്നു. പട്ടിക പ്രയോജനപ്പെടുത്തി ചോദ്യങ്ങൾക്ക് ഉത്തരമെഴുതുക



വർഷം	ജനസംഖ്യ (കോടിയിൽ)	ദശാബ്ദവളർച്ച നിരക്ക് (ശതമാനത്തിൽ)
1951	36.11	13.31 (1941 - 51)
1961	43.90	21.64 (1951 - 61)
1971	54.82	24.80 (1961 - 71)
1981	68.33	24.66 (1971 - 81)
1991	84.64	23.87 (1981 - 91)
2001	102.87	21.54 (1991 - 2001)
2011	121.02	17.64 (2001 - 11)

a. ജനസംഖ്യാ വളർച്ചാ നിരക്കിൽ കുറവ് വന്ന വർഷം ഏതാണ്?

b. ജനസംഖ്യാ വളർച്ചാ നിരക്ക് കൂടിയവർഷങ്ങൾ ഏവ?

c. ഇതിനുള്ള കാരണങ്ങൾ എന്തൊക്കെയാകാം?

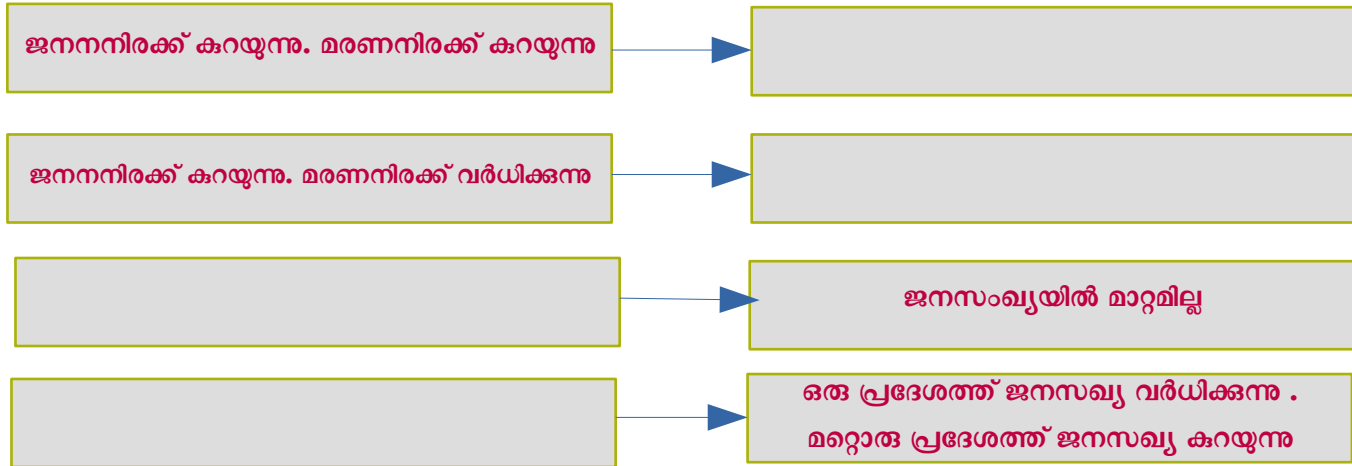


# Silent Bells



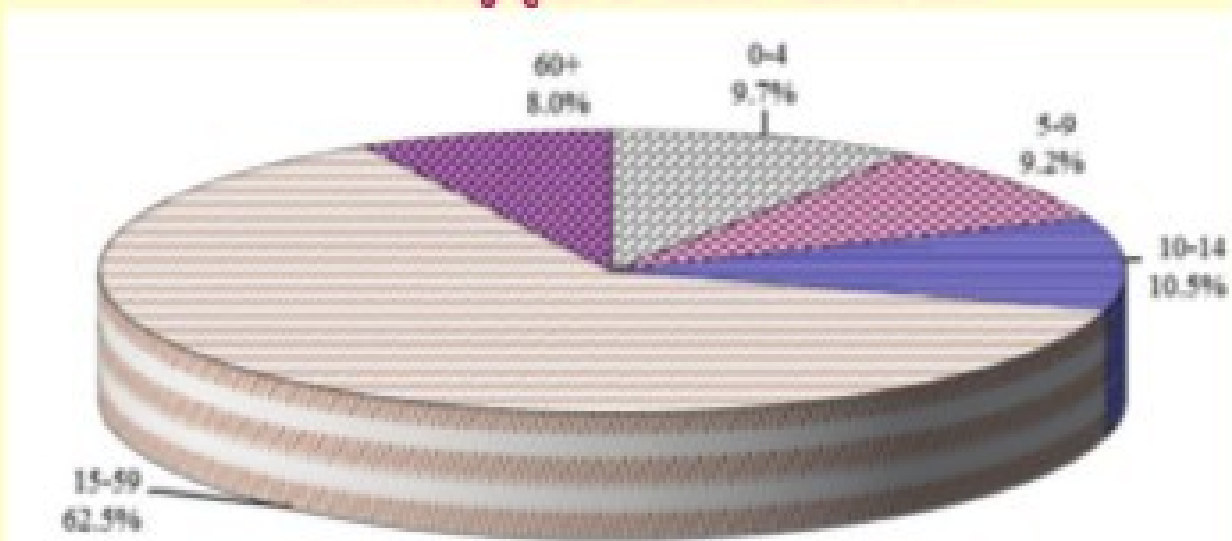
ഫസ്റ്റ് ബെൽ - അനുബന്ധ പഠനസഹായകസാമഗ്രി

3. ഒരു രാജ്യത്തിന്റെ ജനസംഖ്യയിൽ മാറ്റം വരുത്തുന്ന ഘടകങ്ങളാണ് ജനന നിരക്കും മരണനിരക്കും കുടിയേറ്റവും. താഴെ നൽകിയിട്ടുള്ള പട്ടിക പൂർത്തിയാക്കുക



4. ഡയഗ്രാം വിശകലനം ചെയ്ത് തന്നിരിക്കുന്ന ചോദ്യങ്ങൾക്ക് ഉത്തരമെഴുതുക.

ജനസംഖ്യാപ്രായഘടന വിതരണം



അവലംബം : സെൻസസ് ഇന്ത്യ - 2011



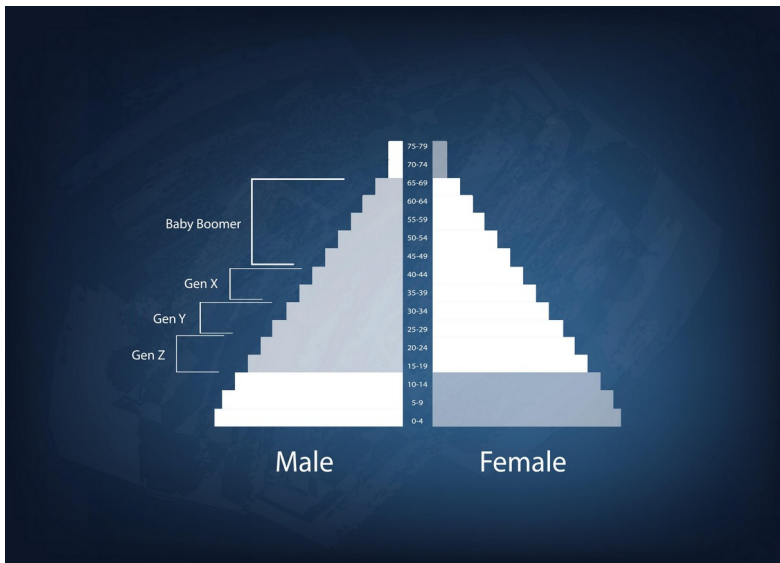
# Silent Bells



ഫസ്റ്റ് ബെൽ - അനുബന്ധ പഠനസഹായകസാമഗ്രി

a. 15-59 വയസ്സ് വിഭാഗത്തിൽ ഉൾപ്പെട്ടവർ ആകെ ജനസംഖ്യയുടെ എത്ര ശതമാനം?

b. ആശ്രയത്വ വിഭാഗത്തിൽപ്പെടുന്നവർ ആകെ ജനസംഖ്യയുടെ എത്ര ശതമാനം?



Click Image



5. തൊഴിൽ പങ്കാളിത്ത നിരക്ക്, ആശ്രയത്വ നിരക്ക് എന്നിവ എന്താണ്?