



# Silent Bells



ഫസ്റ്റ് ബെൽ - അനുബന്ധ പഠനസഹായകസാമഗ്രി

Class:10

Subject:ജീവശാസ്ത്രം

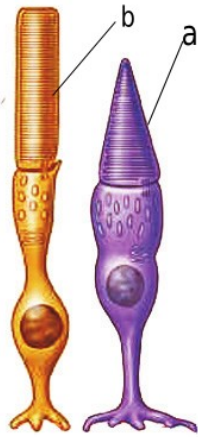
Date:17-07-2020

WorksheetNo:12

Class link: [▶ PLAY](#)

Lesson :അറിവിൻറെ വാതായനങ്ങൾ

1. താഴെ കൊടുത്തിരിക്കുന്ന ചിത്രത്തിലെ a ,b എന്നിവ തിരിച്ചറിയുക. റെറ്റിനയിൽ കൂടുതലായി കാണപ്പെടുന്നത് ഏത്?



2. താഴെ കൊടുത്തിരിക്കുന്ന പട്ടിക പൂർത്തിയാക്കുക.

	റോഡ് കോശം	കോൺ കോശം
വർണ്ണകം		
ആകൃതി		
ധർമ്മം		

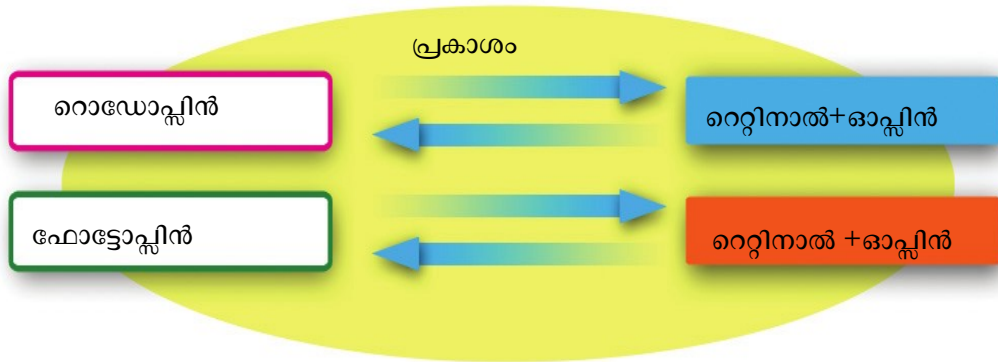


# Silent Bells

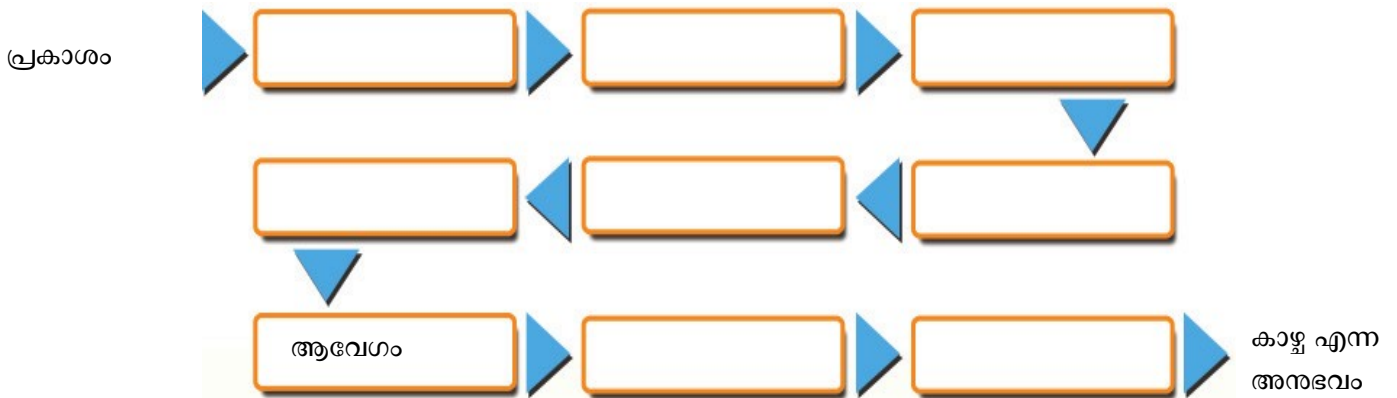


ഫസ്റ്റ് ബെൽ - അനുബന്ധ പഠനസഹായകസാമഗ്രി

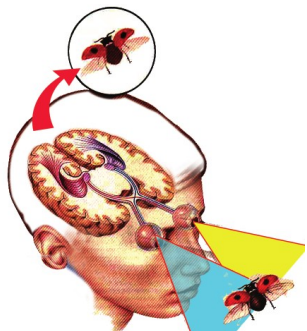
3. താഴെ കൊടുത്തിരിക്കുന്ന ചിത്രീകരണം നിരീക്ഷിച്ച് കാഴ്ചവർണകങ്ങളിലെ ഘടകങ്ങൾ തിരിച്ചറിഞ്ഞ് ആവേശങ്ങൾ രൂപപ്പെടുന്നതെങ്ങനെയെന്ന് എഴുതുക.



4. കാഴ്ച എന്ന അനുഭവവുമായി ബന്ധപ്പെട്ട ഫ്ലോചാർട്ട് പൂർത്തിയാക്കുക.



5. ചിത്രം എന്തിനെ സൂചിപ്പിക്കുന്നു? നിർവചിക്കുക. പ്രാധാന്യം എഴുതുക.



KUTTIPPURAM Sub dist.



# Silent Bells



ഫസ്റ്റ് ബെൽ - അനുബന്ധ പഠനസഹായകസാമഗ്രി

6. നേത്രരോഗങ്ങളുമായി ബന്ധപ്പെട്ട പട്ടിക പൂർത്തിയാക്കുക.

രോഗം	കാരണം	ലക്ഷണം	പരിഹാരം
നിശാന്ധത			വിറ്റാമിൻ എ അടങ്ങിയ ഭക്ഷണം
സീറോപ്ലാൽമിയ	വിറ്റാമിൻ എ-യുടെ തുടർച്ചയായ അഭാവം		
വർണാന്ധത			പരിഹാരമില്ല.ജനിതകരോഗം
തിമിരം	ലെൻസ് അതാര്യമാകുന്നു		
ഗ്ലോക്കോമ		കണ്ണിൽ മർദ്ദം വർദ്ധിക്കുന്നു	
ചെങ്കണ്ണ്		കണ്ണിൽ ചുവപ്പ്,ചൊറിച്ചിൽ	