

A JOINT VENTURE OF DIET AND SSK, PALAKKAD

രോഗി നിർത്താം **Keeping**
രോഗങ്ങളെ **Diseases Away**

മലയാളം മീഡിയം

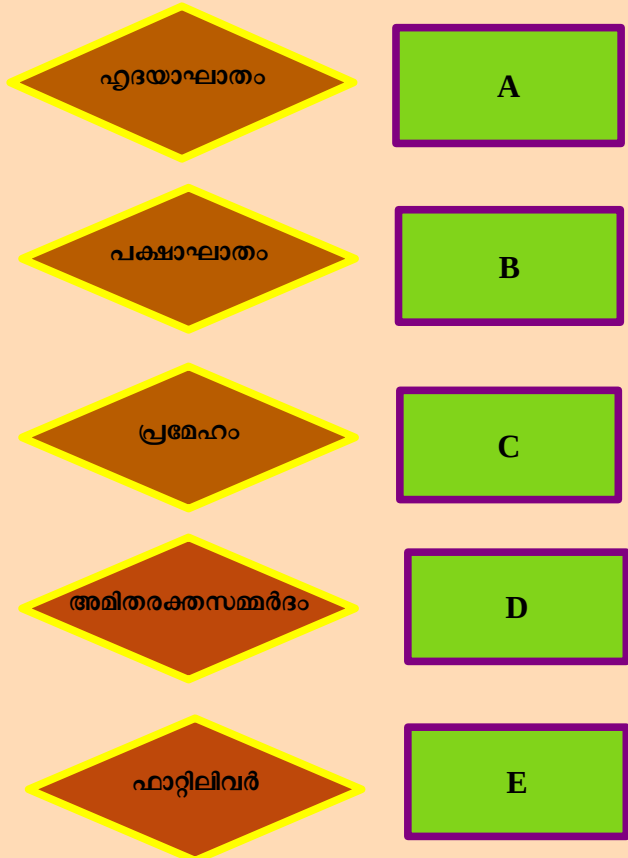
10th Biology
Chapter_04
Online class_28
work sheet_28
28th October 2020

1) പുകവലി മൂലമുണ്ടാകുന്ന ആരോഗ്യപ്രശ്നങ്ങളെപ്പറ്റി ബോധവൽക്കരിക്കുന്നതിനായി ഒരു പോസ്റ്റർ തയ്യാറാക്കുക.

2) മനുഷ്യ ജീവിതശൈലി രോഗങ്ങളുടെ കണ്ണികളെ ഉചിതമായി ക്രമീകരിക്കുക:

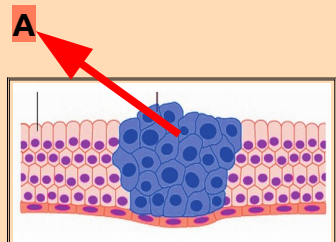
സൂചകങ്ങൾ

- *ഇൻസുലിന്റെ കുറവോ പ്രവർത്തനവൈകല്യമോ.
- *കരളിൽ കൊഴുപ്പ് അടിഞ്ഞുകൂടുവാൻ ഇടയാകുന്നത്.
- *മസ്തിഷ്കത്തിലെ രക്തക്കുഴലുകൾ പൊട്ടുന്നത്, രക്തപ്രവാഹം തടസ്സപ്പെടുന്നത്.
- * കൊഴുപ്പിടാത്ത രക്തധമനികളുടെ വ്യാസം കുറയുന്നത്.
- *ഹൃദയത്തിലേക്ക് രക്തം എത്തിക്കുന്ന കൊറോണറി ധമനികളിൽ കൊഴുപ്പിടാത്ത രക്തപ്രവാഹം തടസ്സപ്പെടുന്നത്.



3) ചിത്രം നിരീക്ഷിച്ച് താഴെ തന്നിരിക്കുന്ന ചോദ്യങ്ങൾക്ക് ഉത്തരം എഴുതുക.

- a) **A** എന്ന് അടയാളപ്പെടുത്തിയ ഭാഗത്തെ കോശങ്ങൾ തിരിച്ചറിയുക.
- b) ഈ കോശങ്ങൾ മൂലമുണ്ടാകുന്ന രോഗാവസ്ഥ എന്താണ്?



4) A കോളത്തിനനുസരിച്ച് B, C കോളങ്ങൾ ക്രമീകരിക്കുക.

A	B	C
i. ബ്ലൈറ്റ് രോഗം	a. വൈറസ്	P. കരുമുളക്
ii. ദ്രുതവാട്ടം	b. ബാക്ടീരിയ	Q. നെല്ല്
iii. കുറുനാസ്യ രോഗം	c. ഫംഗസ്	R. വാഴ

5) പദജോഡി ബന്ധം മനസിലാക്കി വിട്ടുപോയ ഭാഗം പൂരിപ്പിക്കുക.
 അകിടുവീക്കം ബാക്ടീരിയ
 കളമ്പു രോഗം -----

6) "സസ്യരോഗങ്ങൾ വ്യാപകമാകുന്നത് ഭക്ഷ്യസുരക്ഷയെ ബാധിക്കും."

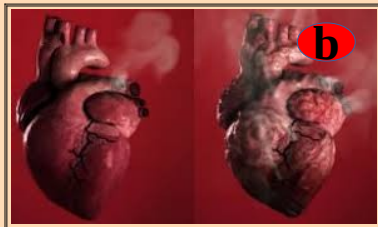
- a) ഈ പ്രസ്താവനയോട് നിങ്ങൾ യോജിക്കുന്നുണ്ടോ? എന്തുകൊണ്ട്?
- b) സസ്യരോഗങ്ങൾക്ക് രണ്ട് ഉദാഹരണങ്ങൾ എഴുതുക.

7) ഒറ്റപ്പെട്ടത് കണ്ടെത്തി മറ്റുള്ളവയുടെ പൊതുസ്വഭാവം എഴുതുക.
 ബ്ലൈറ്റ് രോഗം, ആന്ത്രാക്സ്, കുറുനാസ്യരോഗം, ദ്രുതവാട്ടം.

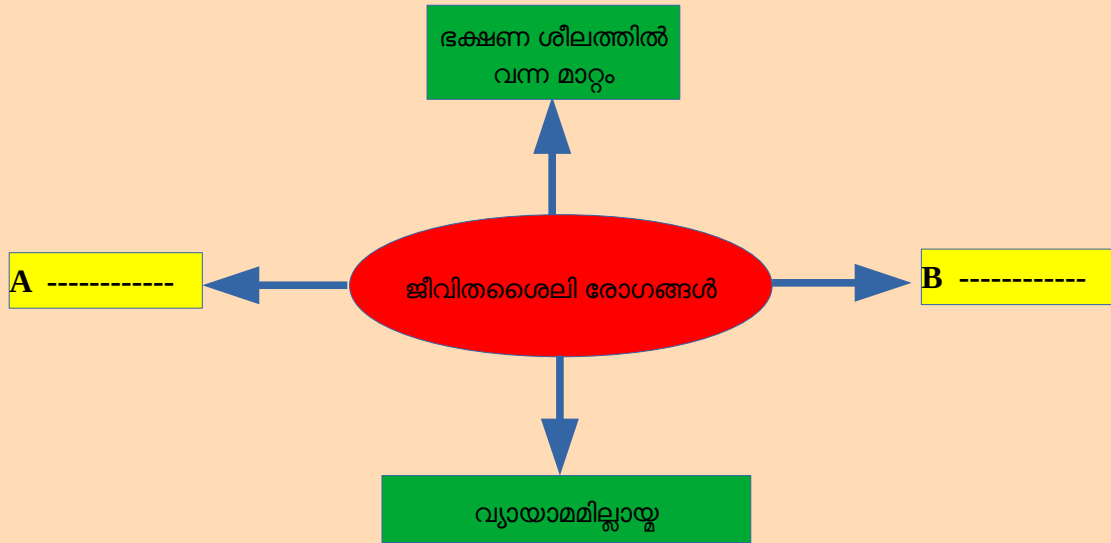
8) "ഇന്നത്തെക്കാലത്ത് കാൻസർ എന്നത് ലോകത്തിലെ ഭയാനകമായ രോഗങ്ങളിൽ ഒന്നാണ്."

- a) സാധാരണ കോശങ്ങൾ കാൻസർ കോശങ്ങളായി മാറുന്നതിനുള്ള നാല് കാരണങ്ങൾ പട്ടികപ്പെടുത്തുക.
- b) കാൻസർ ചികിത്സാ രീതികൾ ഏതെല്ലാം?

9) ചുവടെ കൊടുത്തിരിക്കുന്ന ചിത്രങ്ങൾ നിരീക്ഷിച്ച് പുകവലി മൂലം ഉണ്ടാകാവുന്ന ആരോഗ്യപ്രശ്നങ്ങൾ എന്തൊക്കെയാണെന്ന് എഴുതുക.



10) ചിത്രീകരണം പൂർത്തിയാക്കുക.



FOR ONLINE CLASS OF THIS WORKSHEET



FOR PREVIOUS ONLINE CLASSES WORKSHEET



For FirstBell Online classes link

