



Silent Bells




ഫസ്റ്റ് ബെൽ - അനുബന്ധ പഠനസഹായകസാമഗ്രി

Class :10 Subject: SOCIAL SCIENCE Date: 19.11.20 Worksheet No 33 Class link:

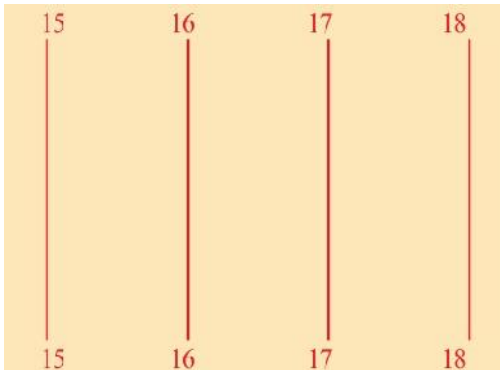


UNIT&LO-: ഭൂതലവിശകലനം ഭൂപടങ്ങളിലൂടെ


1. ഒരു ഭൂപടത്തിൽ അക്ഷാംശ രേഖാംശ രേഖകളുടെ പ്രാധാന്യം എന്താണ്?



2 ചിത്രങ്ങൾ വിശകലനം ചെയ്ത് ഈസ്റ്റിങ്സ് നോർത്തിങ്സ് ഇവയുടെ സവിശേഷതകൾ പട്ടികപ്പെടുത്തുക



ചിത്രം 1



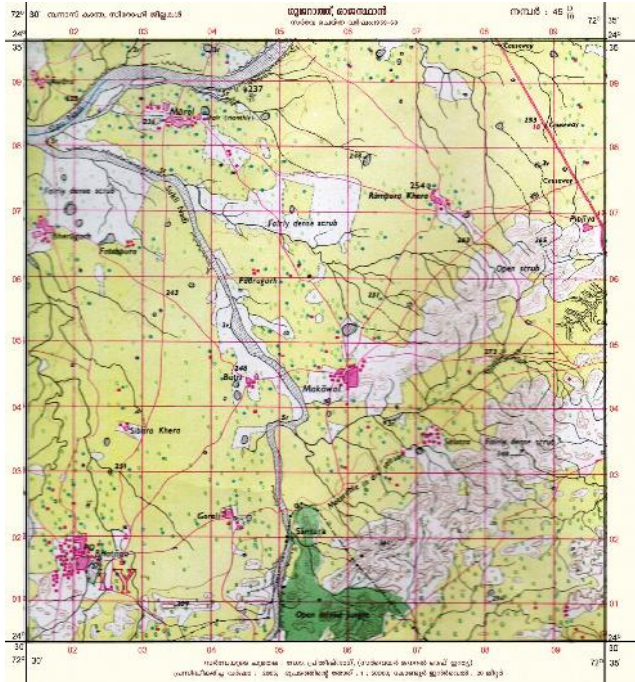
ചിത്രം 2

ചിത്രം 1 വേർ	ചിത്രം 2 വേർ
<ul style="list-style-type: none"> ◆ദിശയിൽ വരച്ചിട്ടുള്ള രേഖകൾ ◆ ഇവയുടെ മൂല്യം..... ദിശയിലേക്ക് കുടിവരുന്നു ◆ 	<ul style="list-style-type: none"> ◆ദിശയിൽ വരച്ചിട്ടുള്ള രേഖകൾ ◆ ഇവയുടെ മൂല്യം..... ദിശയിലേക്ക് കുടിവരുന്നു ◆

Silent Bells

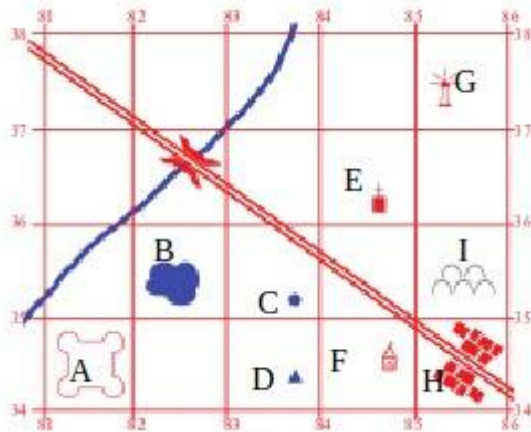
ഫസ്റ്റ് ബെൽ - അനുബന്ധ പഠനസഹായകസാമഗ്രി

3.നൽകിയിരിക്കുന്ന ധരാതലീയ ഭൂപടത്തിൽ ഈസ്റ്റിങ്സ് നോർത്തിങ്സ് രേഖകൾ കണ്ടെത്തി ഓരോന്നിനും രണ്ട് ഉദാഹരണങ്ങൾ എഴുതുക



4.ചെറുകുറിപ്പ് എഴുതുക റഫറൻസ് ഗ്രിഡ്

5. താഴെ നൽകിയിരിക്കുന്ന ഗ്രിഡ് നിരീക്ഷിച്ചു പട്ടിക പൂർത്തിയാക്കുക






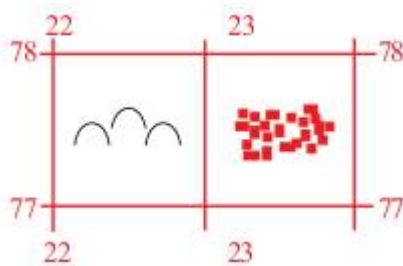
Silent Bells



ഫസ്റ്റ് ബെൽ - അനുബന്ധ പഠനസഹായകസാമഗ്രി

ഭൂസവിശേഷതകൾ	നാലക്ക /ആറക്ക ഗ്രിഡ് റഫറൻസിലൂടെ സ്ഥാനം നിർണ്ണയിക്കുക
A	8134
B	
C കിണർ	
D	
E	
F അമ്പലം	
G	
H	8534
i	

6. നൽകിയിട്ടുള്ള ഗ്രിഡിൽ പാർപ്പിടങ്ങൾ, ശവച്ചരമ്പ് എന്നിവയുടെ സ്ഥാനം നാലക്ക ഗ്രിഡ് റഫറൻസിലൂടെ കണ്ടെത്തുക



7. ചുവടെ നൽകിയിട്ടുള്ള ഗ്രിഡിൽ നീരുറവ ,മോസ്ക് റെയിൽവെ സ്റ്റേഷൻ, പോലീസ് സ്റ്റേഷൻ, കിണർ എന്നിവയുടെ സ്ഥാനം ആറക്ക ഗ്രിഡ് റഫറൻസിലൂടെ കണ്ടെത്തുക

