




# Silent Bells



ഫസ്റ്റ് ബെൽ - അനുബന്ധ പഠനസഹായകസാമഗ്രി

UNIT&LO:ഭൂതല വിശകലനം ഭൂപടങ്ങളിലൂടെ കോണ്ടൂർ വിശകലനം

Class:10 Subject:Social Science Date:26.11..20 Work SheetNo:34 Class link 

1.കോണ്ടൂർരേഖകളുടേയും അവ പ്രതിനിധാനംചെയ്യുന്ന ഭൂരൂപങ്ങളുടേയും ചിത്രങ്ങളാണ് എ യും ബി യും

എന്താണ് കോണ്ടൂർരേഖകൾ ?

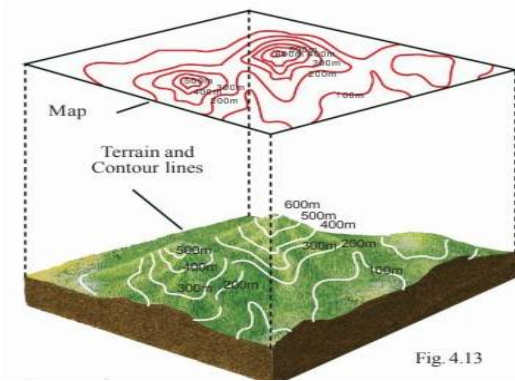
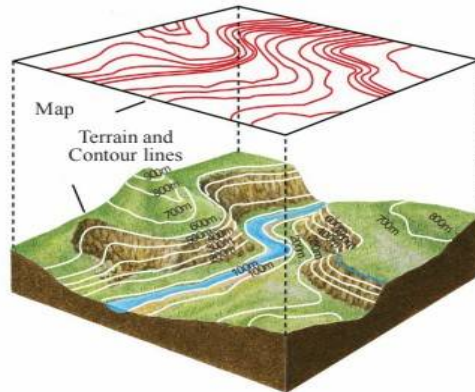


Fig. 4.13

എ



ബി



2. കോണ്ടൂർ രേഖകളുമായി ബന്ധപ്പെട്ട ഏതാനും പദങ്ങൾ താഴെ നൽകിയിരിക്കുന്നു അവ എന്താണെന്ന് വ്യക്തമാക്കുക

a)കോണ്ടൂർ മൂല്യങ്ങൾ

.....

b)കോണ്ടൂർ ഇടവേള

.....



3. ധരാതലീയ ഭൂപടത്തിൽ ചിത്രീകരിച്ചിരിക്കുന്ന കോണ്ടൂർ രേഖകളിൽനിന്ന് എന്തെല്ലാം കാര്യങ്ങൾ മനസ്സിലാക്കാം ?

A	
B	
C	

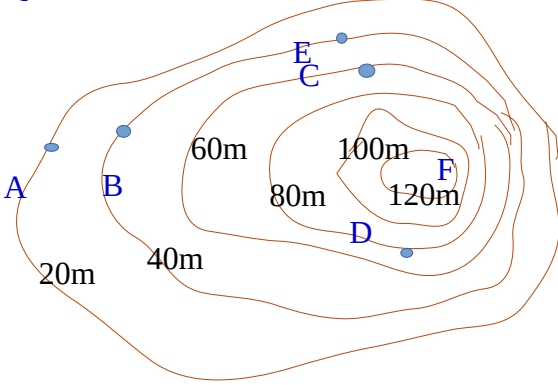


# Silent Bells



ഫസ്റ്റ് ബെൽ - അനുബന്ധ പഠനസഹായകസാമഗ്രി

## 4. ചിത്രം വിശകലനം ചെയ്ത് കണ്ടെത്തുക



i) കോണ്ടൂർ മൂല്യങ്ങൾ ഏതൊക്കെയാണ് ?

ii) കോണ്ടൂർ ഇടവേള എത്രയാണ്

iii) താഴെ നൽകിയിരിക്കുന്നവയിൽ ഏകദേശം ഒരേ ഉയരമുള്ള പ്രദേശങ്ങൾ ഏതൊക്കെയാണ്? എന്തുകൊണ്ട് ?

a) C യും D യും

b) D യും E യും

c) B യും E യും

iv) കൂടുതൽ ചരിവുള്ള പ്രദേശം ഏതുഭാഗത്തുള്ളതാണ്? എന്തുകൊണ്ട് ?

a) വടക്കുഭാഗം

b) തെക്കുഭാഗം

c) പടിഞ്ഞാറുഭാഗം

d) കിഴക്കുഭാഗം

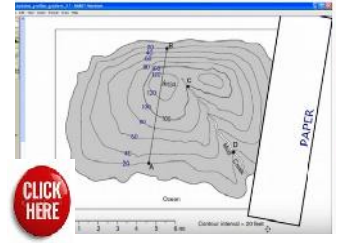
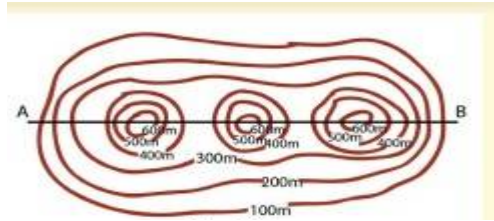
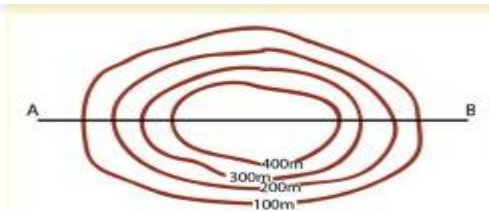


# Silent Bells



ഫസ്റ്റ് ബെൽ - അനുബന്ധ പഠനസഹായകസാമഗ്രി

5 താഴെ നൽകിയിരിക്കുന്ന കോണ്ടൂർരേഖകളിൽ നിന്നും സ്ഥലാകൃതി കണ്ടെത്തുക?



6 .A കോളത്തിലെ കോണ്ടൂറുകളുടെ ശരിയായ സ്ഥലാകൃതി B കോളത്തിൽനിന്നും കണ്ടെത്തി പട്ടിക ക്രമീകരിക്കുക

Contour A	Shape of landform B
1	A
2	B
3	C
4	D
5	E
6	F

