

തിരുവനന്തപുരം വിദ്യാഭ്യാസ ജില്ല

സാമൂഹ്യശാസ്ത്രം

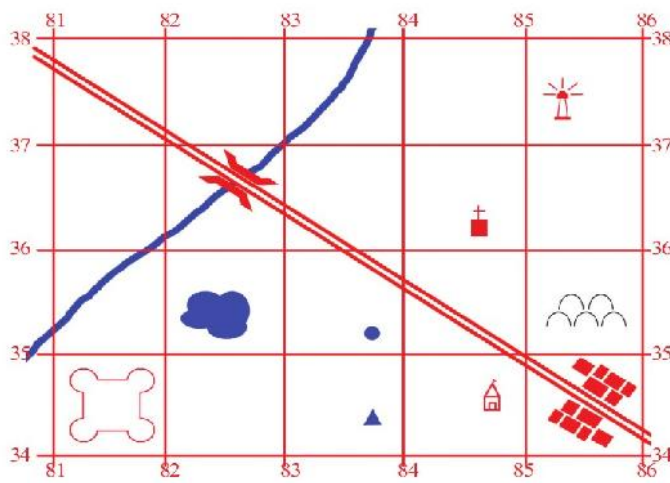
സ്റ്റാൻഡേർഡ് 10



Std 10
AK 12

ഭൂതലവിശകലനം ഭൂപടങ്ങളിലൂടെ

1 തന്നിട്ടുള്ള മാതൃകാഗ്രിഡ് പരിശോധിച്ച് കളങ്ങൾ പൂർത്തിയാക്കുക.





- (എ) ക്രിസ്ത്യൻപള്ളിയുടെ സ്ഥാനം 6 അക്കഗ്രിഡ് റഫറൻസ് രീതിയിൽ കണക്കാക്കുക 846362
- (ബി) വാസസ്ഥലങ്ങളുടെ സ്ഥാനം 4 അക്കഗ്രിഡ് റഫറൻസ് രീതിയിൽ കണക്കാക്കുക. 8534
- (സി) 853373 എന്ന 6 അക്കഗ്രിഡ് റഫറൻസിന്റെ ഭൂസവിശേഷത കണ്ടെത്തുക. ലൈറ്റ് ഹൗസ്
- (ഡി) ഗ്രിഡിൽ നൽകിയിരിക്കുന്ന ഭൗതികസവിശേഷതകൾ ഏതെല്ലാം? നദി, നീരമ്പ

2 ഡയഗ്രാം പൂർത്തിയാക്കുക.



3 പട്ടിക പൂർത്തിയാക്കുക.

| സവിശേഷതകൾ | അടയാളങ്ങളും ചിഹ്നങ്ങളും |
|-----------------------|--|
| നീരുവ | + |
| കിണർ | (എ) ● |
| (ബി) കഴൽക്കിണർ | ▲ |
| ശവപ്പറമ്പ് | (സി)  |
| (ഡി) ക്രിസ്ത്യൻ പള്ളി | + |
| കോട്ട | (ഇ)  |

4 സവിശേഷതകൾ കണ്ടെത്തി പട്ടിക പൂർത്തിയാക്കുക.

| ഈസ്റ്റിംഗ്സ് | നോർത്തിംഗ്സ് |
|--|--|
| <ul style="list-style-type: none"> വടക്ക്-തെക്ക് ദിശയിലുള്ള രേഖകൾ | <ul style="list-style-type: none"> കിഴക്ക്-പടിഞ്ഞാറ് ദിശയിൽ വരച്ചിട്ടുള്ള രേഖകൾ |
| <ul style="list-style-type: none"> മൂല്യം കിഴക്കു ദിശയിലേയ്ക്ക് കൂടിവരുന്നു | <ul style="list-style-type: none"> മൂല്യം വടക്കുദിശയിലേയ്ക്ക് കൂടിവരുന്നു |
| <ul style="list-style-type: none"> ഭൂപടത്തിലെ സവിശേഷതകൾക്ക് തൊട്ട് ഇടതുവശത്തായി കാണപ്പെടുന്ന ഈസ്റ്റിംഗിന്റെ മൂല്യമാണ് സ്ഥാനനിർണ്ണയത്തിന് പരിഗണിക്കുക. | <ul style="list-style-type: none"> ഭൂപടത്തിലെ സവിശേഷതകൾക്ക് തൊട്ട് തെക്കായി കാണപ്പെടുന്ന നോർത്തിംഗിന്റെ മൂല്യമാണ് സ്ഥാനനിർണ്ണയത്തിന് പരിഗണിക്കുക. |

5 ചേരംപടി ചേർക്കുക.

| എ | ബി |
|-----------|-------------------|
| തോത് | ടോപ്പോഷീറ്റുകൾ |
| 1:1000000 | മില്യൻ ഷീറ്റുകൾ |
| 1:250000 | ഡിഗ്രി ഷീറ്റുകൾ |
| 1:50000 | മിനിറ്റ് ഷീറ്റുകൾ |

6 സൂചനപ്രകാരം ഉത്തരങ്ങൾ കണ്ടെത്തുക.

സൂചന: ധരാതലീയ ഭൂപടത്തിന്റെ നമ്പർ-45D/10

- (1) ഈ ടോപ്പോഗ്രാഫിന്റെ തോത് 1:50000
- (2) മില്യൻ ഷീറ്റിനെ സൂചിപ്പിക്കുന്ന നമ്പർ 45
- (3) ഡിഗ്രി ഷീറ്റിനെ സൂചിപ്പിക്കുന്ന നമ്പർ D
- (4) മിനിറ്റ് ഷീറ്റിനെ സൂചിപ്പിക്കുന്ന നമ്പർ 10

7 പട്ടിക പൂർത്തിയാക്കുക .

| ഭൂസവിശേഷതകൾ | നിറം |
|-------------------------|---|
| അക്ഷാംശ- രേഖാംശരേഖകൾ | കറുപ്പ് |
| വനങ്ങൾ | (എ) പച്ച |
| കൃഷിസ്ഥലങ്ങൾ | (ബി) മഞ്ഞ |
| തരിശുഭൂമി | (സി) വെളുപ്പ് |
| പാർപ്പിടങ്ങൾ | (ഡി) ചുവപ്പ് |

8 ധരാതലീയ ഭൂപടത്തിൽ ചിത്രീകരിച്ചിരിക്കുന്ന കോണ്ടൂർരേഖകളിൽ നിന്ന് മനസ്സിലാക്കാൻ കഴിയുന്ന കാര്യങ്ങൾ ഏതെല്ലാം?



9 ശരിയായ ഉത്തരം തിരഞ്ഞെടുത്ത് കളങ്ങൾ പൂർത്തിയാക്കുക.

[കോണ്ടുർരേഖകൾ, കോണ്ടുർമൂല്യങ്ങൾ, കോണ്ടുർ ഇടവേള, സർവേ ഓഫ് ഇന്ത്യ, ധരാതലീയ ഭൂപടങ്ങൾ]

- (1) ഇന്ത്യയിൽ ധരാതലീയ ഭൂപടത്തിന്റെ നിർമ്മാണച്ചുമതല വഹിക്കുന്നു സർവേ ഓഫ് ഇന്ത്യ
- (2) സമുദ്രനിരപ്പിൽ നിന്ന് ഒരേ ഉയരത്തിലുള്ള സ്ഥലങ്ങളെ തമ്മിൽ യോജിപ്പിച്ച് വരയ്ക്കുന്ന സാങ്കല്പിക രേഖകൾ കോണ്ടുർരേഖകൾ
- (3) പ്രകൃതിദത്തവും മനുഷ്യനിർമ്മിതവുമായ എല്ലാ ഭൗമോപരിതല സവിശേഷതകളെയും വളരെ സൂക്ഷ്മമായി ചിത്രീകരിക്കുന്ന ഭൂപടം ധരാതലീയ ഭൂപടങ്ങൾ
- (4) അടുത്തടുത്ത രണ്ട് കോണ്ടുർരേഖകളുടെ മൂല്യവ്യത്യാസം കോണ്ടുർ ഇടവേള
- (5) ഓരോ കോണ്ടുർരേഖയോടൊപ്പം സമുദ്രനിരപ്പിൽ നിന്നുള്ള ഉയരം രേഖപ്പെടുത്തുന്നു കോണ്ടുർമൂല്യങ്ങൾ