

Question Paper - MATHS

1 Mark Questions

(1)

ഒരു സമാന്തരശ്രോണിയിലെ ആദ്യത്തെ 7 പദങ്ങളുടെ തുക 77 ആണെങ്കിൽ നാലാമത്തെ പദം എന്ത് ?

(2)

കൂട്ടിയാൽ -7 ഉം ഗുണിച്ചാൽ 10 ഉം ലഭിക്കുന്ന സംഖ്യകൾ ഏവ ?

(3)

$\sin 30$ ന്റെ വില എന്ത് ?

(4)

ആധാരബിന്ദുവിന്റെ സൂചകസംഖ്യ എഴുതുക ?

(5)

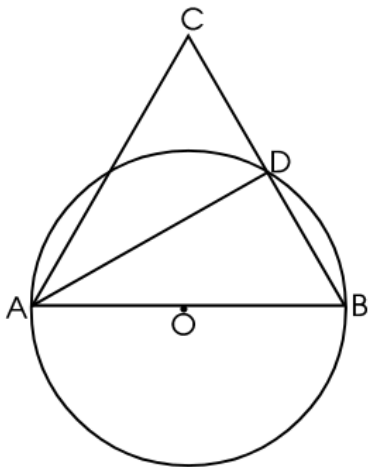
ബാഹ്യബിന്ദുവിൽ നിന്ന് വൃത്തത്തിലേക്ക് വരക്കാവുന്ന തൊട്ടുവരകളുടെ എണ്ണം ?

2 Mark Questions

(6)

ഒരു സമാന്തരികത്തിന്റെ വശങ്ങൾ 8 സെ. മീ. , 5 സെ. മീ. എന്നിവയും ഒരു കോണിന്റെ അളവ് 60° യും ആയാൽ പരപ്പളവ് കാണുക.

(7)

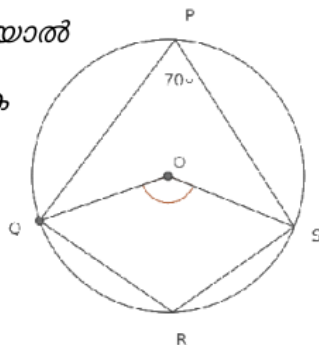


ചിത്രത്തിൽ AB വൃത്തത്തിന്റെ വ്യാസമാണ്. $AC = BC$, കൂടാതെ $\angle B = 70^\circ$, $\triangle ADC$ യുടെ കോണുകൾ എഴുതുക.

(8)

ചിത്രത്തിൽ $\angle P = 70^\circ$ ആയാൽ

$\angle OS$, $\angle R$ എന്നിവ കാണുക



(9)

(10)

ഒരു സംഖ്യയിൽ നിന്നും ഒന്ന് കുറച്ച സംഖ്യയുടെ വർഗം 9 ആകണമെങ്കിൽ സംഖ്യകളേ താകണം?

3 Mark Questions

(11)



ഈ ചതുരങ്ങളുടെ ചുറ്റളവ്, പരപ്പളവ്, വികർണ്ണത്തിന്റെ നീളം തുടങ്ങിയവയെ കാണിക്കുന്ന സംഖ്യാക്രമങ്ങൾ എഴുതുക.

(12)

ഒന്നാമത്തെ പെട്ടിയിൽ 10 ൽ കുറവായ എല്ലാ അഭാജ്യസംഖ്യകളും, രണ്ടാമത്തെ പെട്ടിയിൽ 5 വരെയുള്ള എല്ലാ എണ്ണൽസംഖ്യകളും എഴുതിയ സ്ലിപ്പുകൾ ഇട്ടു വെച്ചിരിക്കുന്നു.

ഒന്നാമത്തെ പെട്ടിയിൽ എത്ര സ്ലിപ്പുകൾ ഉണ്ടായിരിക്കും?
രണ്ടാമത്തെ പെട്ടിയിൽ അഭാജ്യസംഖ്യകൾ എഴുതിയ എത്ര സ്ലിപ്പുകൾ ഉണ്ടായിരിക്കും?

ഓരോ പെട്ടിയിൽ നിന്നും ഓരോ സ്ലിപ്പുകൾ വീതം എടുത്താൽ, ഇതു രണ്ടും അഭാജ്യസംഖ്യകളാകാനുള്ള സാധ്യത എത്രയാണ്?

(13)

A (1,-4), B (3, 2), C (4, 5) എന്നിവ ഒരു വരയിലെ മൂന്നു ബിന്ദുക്കളാകുമോ? AB യിലെ ഒരു ബിന്ദുവിന്റെ x സൂചക സംഖ്യ 2 ആയാൽ ആ ബിന്ദുവിന്റെ Y സൂചക സംഖ്യ എത്ര?

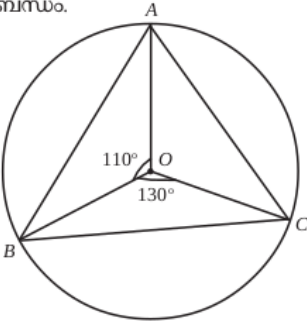
(14)

12 സെ.മീ. ആരമുള്ള ഒരു വൃത്തത്തെ നാലു തുല്യ ഭാഗങ്ങളാക്കി മുറിച്ചു. അവ ഉപയോഗിച്ച് വൃത്തസ്തുപികകൾ ഉണ്ടാക്കുന്നു എങ്കിൽ,

- എത്ര വൃത്തസ്തുപികകൾ ഉണ്ടാക്കാം ? അവയുടെ ചരിവുയരം എത്രയായിരിക്കും?
- അവയുടെ ആരം എന്തായിരിക്കും? വൃത്തസ്തുപികയുടെ ഉപരിതലപരപ്പളവ് എത്രയായിരിക്കും?

(15)

ബിന്ദുവിൽ ഉണ്ടാക്കുന്ന കോണും തമ്മിലുള്ള ബന്ധം.



ചിത്രത്തിൽ O വൃത്ത കേന്ദ്രമാണ്. $\angle BOC = 130^\circ$, $\angle AOB = 110^\circ$ എങ്കിൽ $\angle AOC$ എത്ര? ത്രികോണം ABC യുടെ എല്ലാ കോണളവുകളും കാണുക.

(16)

ഒരാളോട് ഒരു രണ്ടക്കസംഖ്യ പറയാൻ ആവശ്യപ്പെടുന്നു. പറയുന്ന സംഖ്യ പൂർണ്ണ വർഗമല്ലാതിരിക്കാനുള്ള സാധ്യത എത്ര?

(17)

ഒരു വൃത്തസ്തുപികയുടെ ആരവും ചരിവുയരവും തമ്മിലുള്ള അംശബന്ധം 2 : 3 ആണ്. ഈ വൃത്തസ്തുപിക ഉണ്ടാക്കുന്നതിന് ഉപയോഗിച്ച വൃത്താംശത്തിന്റെ കേന്ദ്ര കോൺ എത്ര?

(18)

3,7,11 ... എന്ന സമാന്തര ശ്രേണിയിലെ

1. ആദ്യപദം എത്ര ? പൊതുവ്യത്യാസം എത്ര ?
2. 35 ഈ ശ്രേണിയിലെ പദമാകുമോ ?
3. 25 ഈ ശ്രേണിയിലെ പദമാകുമോ ?

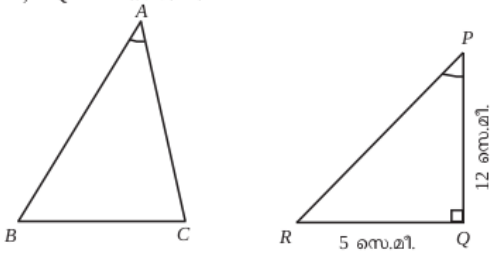
(19) അപ്പൂവിന് നാടകത്തിൽ അഭിനയിക്കാൻ വൃത്തസ്തുപികാകൃതിയിൽ ഒരു തൊപ്പിയുണ്ടാക്കണം. തൊപ്പിയുടെ പാദചുറ്റളവ് 12π cm ഉന്നതി 8 cm ആണ്.

- a) ഈ അളവിൽ തൊപ്പി നിർമ്മിക്കാൻ വെട്ടിയെടുക്കേണ്ട വൃത്താംശത്തിന്റെ ആരം എത്ര?
- b) വൃത്താംശത്തിന്റെ കേന്ദ്രകോൺ കണക്കാക്കുക?
- c) തൊപ്പി നിർമ്മിക്കാൻ എത്ര ചതുരശ്ര സെന്റിമീറ്റർ പേപ്പർ വേണം

(20) ലോഹം കൊണ്ടുണ്ടാക്കിയ ഒരു വൃത്തസ്തുപികയുടെ പാദത്തിന്റെ ആരം 15 സെ.മീ. ഉം ഉയരം 40 സെ.മീ. ഉം ആണ്. ഇത് ഉരുക്കി 5 സെ.മീ. ആരമുള്ള എത്ര ഗോളങ്ങൾ നിർമ്മിയ്ക്കാം?

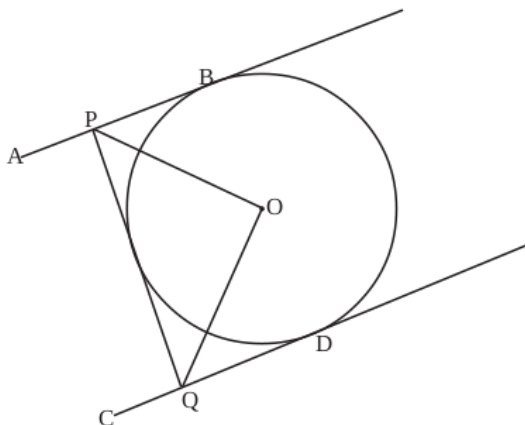
4 Mark Questions

(21) ചിത്രത്തിൽ ΔABC , ΔPQR എന്നിവയിൽ $BC = QR$, $\angle A = \angle P$; $\angle Q = 90^\circ$, $QR = 5$ സെ.മീ, $PQ = 12$ സെ.മീ.



ത്രികോണം ABC യുടെ പരിവൃത്ത വ്യാസം കണക്കാക്കുക.

(22) O കേന്ദ്രമായ വൃത്തത്തിലെ സമാന്തരമായ രണ്ട് തൊടുവരകളാണ് AB, CD ഇതേ വൃത്തത്തിന്റെ



മറ്റൊരുതൊടുവരയാണ് PQ. ΔPOQ ഒരു മട്ടത്രികോണമാണെന്ന് തെളിയിക്കുക. (4)

(23)

8, 15, 22, ... എന്ന സമാന്തരശ്രേണിയിലെ ആദ്യത്തെ രണ്ട് പദങ്ങളുടെ തുക 23 ആണല്ലോ. ഇത് ശ്രേണിയിലെ പദമല്ലല്ലോ. (4)

- a) ഈ ശ്രേണിയുടെ ബീജഗണിത രൂപം എന്ത്? $[(6n + 2 ; 7n + 1; 8n - 1; 8n)]$.
- b) ഈ ശ്രേണിയിലെ അടുത്തടുത്ത ഏതെങ്കിലും രണ്ട് പദങ്ങളുടെ തുക ഈ ശ്രേണിയിലെ തന്നെ ഒരു പദമാകുമോ? എന്തുകൊണ്ട്?
- c) ഈ ശ്രേണിയിലെ ഏതെങ്കിലും രണ്ട് പദങ്ങളുടെ തുക ഇതേ ശ്രേണിയിലെ തന്നെ പദമാകുമോ? എന്തുകൊണ്ട്?

(24)

ചുറ്റളവ് 100 മീറ്ററും പരപ്പളവ് 600 ചതുരശ്രമീറ്ററുമായ ചതുരത്തിന്റെ വശങ്ങളുടെ നീളം കാണുക. (സ്കോർ: 4, സമയം: 5 മിനിട്ട്)

(25)

$p(x) = x^2 + x - 1$ എന്ന ബഹുപദത്തോട് ഏത് സംഖ്യ കൂട്ടിയാൽ $(x - 2)$ ഘടകമായ ബഹുപദം ലഭിക്കും.

(26)

5, 8, 11, ... എന്ന സമാന്തരശ്രേണിയുടെ ആദ്യത്തെ 25 പദങ്ങളുടെ തുക എത്ര?

(27)

കർണ്ണം 6cm സമപാർശ്വമട്ടത്രികോണം വരയ്ക്കുക.

(28)

കേന്ദ്രം (2, 3) ഉം, ആരം 8 ആയ വൃത്തം അക്ഷങ്ങളെ മുറിക്കുന്ന ബിന്ദുക്കളുടെ സൂചകസംഖ്യകൾ കാണുക.

(29)

ആരം 25സെ.മീ. ആയ വൃത്തത്തിൽ നിന്നും കേന്ദ്രകോൺ 288° ആയ വൃത്താംശം ചുരുട്ടി ഒരു വൃത്തസ്തുപിക നിർമ്മിച്ചു.

- a) വൃത്തസ്തുപികയുടെ പാദആരം എത്ര?
- b) ഇതിന്റെ ഉയരം എത്ര?
- c) വൃത്തസ്തുപികയുടെ വക്രതല പരപ്പളവ് കാണുക
- d) വൃത്തസ്തുപികയുടെ വ്യാപ്തം കാണുക

(30)

9 സെ.മീറ്റർ ആരമുള്ള കട്ടിയായ ഒരു ലോഹഗോളത്തെ ഉറുക്കി അതേ ആരം പാദത്തിലുള്ള 2 വൃത്തസ്തുപികകൾ ഉണ്ടാക്കി. അത്തരത്തിലുള്ള 3 വൃത്തസ്തുപികകൾ കിട്ടിയെങ്കിൽ വൃത്തസ്തുപികയുടെ ഉയരം എത്രയായിരിക്കും? (4)

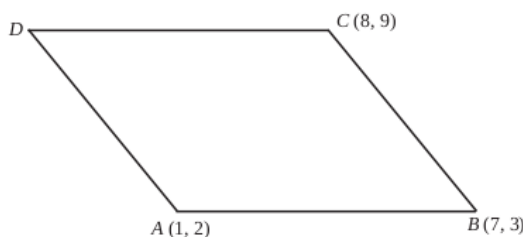
5 Mark Questions

(31)

ഒരു രണ്ടക്കസംഖ്യയിലെ അക്കങ്ങളുടെ ഗുണനഫലം 12 ആണ് ഈ സംഖ്യയോട് 36 കൂട്ടിയപ്പോൾ അക്കങ്ങൾ പരസ്പരം മാറിയ മറ്റൊരു സംഖ്യ കിട്ടി. എങ്കിൽ സംഖ്യ ഏത്?

(32)

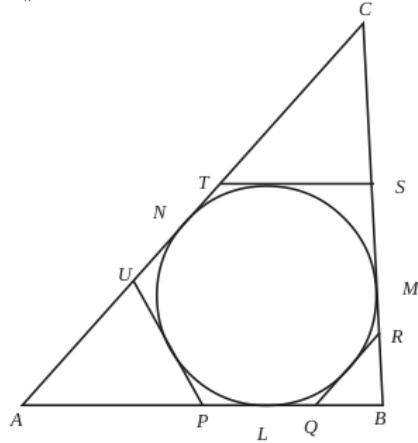
സാമാന്തരികം ABCD യിൽ A (1, 2), B (7, 3), C (8, 9) എന്നി വയാണ്.



- (a) D യുടെ സൂചക സംഖ്യകൾ കാണുക
- (b) വികർണങ്ങളുടെ വർഗങ്ങളുടെ തുക വശങ്ങളുടെ തുകക്ക് തുല്യമാണെന്ന് തെളിയിക്കുക.

(33)

ചിത്രത്തിൽ $\triangle ABC$ യുടെ അന്തർവൃത്തം വശങ്ങളെ L, M, N എന്നീ ബിന്ദുക്കളിൽ തൊടുന്നു. QR, ST, UP എന്നിവ വൃത്തത്തിന്റെ മറ്റു മൂന്ന് തൊടുവരകളുമാണ്. (5)



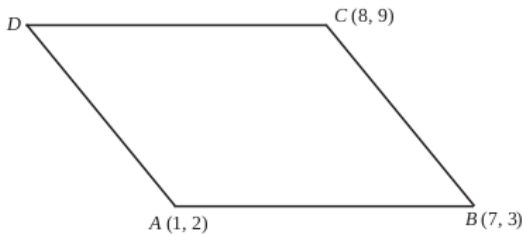
- (a) $\triangle APU$ ന്റെ ചുറ്റളവ് ന്റെ പകുതിയാണ് AL എന്ന് തെളിയിക്കുക.
- (b) $\triangle APU, \triangle BQR, \triangle CST$ എന്നിവയുടെ ചുറ്റളവുകൾ യഥാക്രമം 16 സെ.മീ., 12 സെ.മീ., 14 സെ.മീ., എന്നിങ്ങനെയാണ്. $\triangle ABC$ യുടെ വശങ്ങളുടെ നീളങ്ങൾ കണക്കാക്കുക.
- (c) $\triangle ABC$ യുടെ പരപ്പളവ് കാണുക.

(34)

ഒരു രണ്ടക്കസംഖ്യയിലെ ഒന്നിന്റെ സ്ഥാനത്തെ അക്കം പത്തിന്റെ സ്ഥാനത്തെ അക്കത്തെക്കാൾ 3 കൂടുതലാണ്. സംഖ്യയുടെയും അക്ക തുകയുടെയും ഗുണനഫലം അക്കതുകയുടെ രണ്ട് മടങ്ങിന്റെ വർഗത്തിന് തുല്യമാണ്. സംഖ്യ ഏത്?

(35)

സാമാന്തരികം ABCD യിൽ $A(1, 2), B(7, 3), C(8, 9)$ എന്നിവയാണ്.



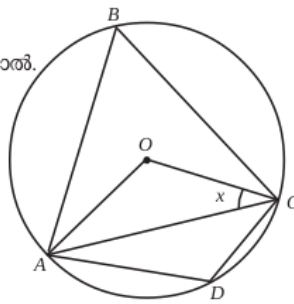
- (a) D യുടെ സൂചക സംഖ്യകൾ കാണുക
- (b) വികർണ്ണങ്ങളുടെ വർഗങ്ങളുടെ തുക വശങ്ങളുടെ വർഗങ്ങളുടെ തുകക്ക് തുല്യമാണെന്ന് തെളിയിക്കുക.

(36)

കോണം തമ്മിലുള്ള ബന്ധം.

ചിത്രത്തിൽ O വൃത്തകേന്ദ്രമാകുകയും, $\angle OCA = x^\circ$ ആയാൽ.

- a) $\angle OAC$ എത്ര?
- b) $\angle OCA + \angle ABC = 90^\circ$ എന്ന് തെളിയിക്കുക.
- c) $\angle ADC - \angle OCA = 90^\circ$ എന്ന് തെളിയിക്കുക.



(37)

ഒരാളോട് ഒരു രണ്ടക്കസംഖ്യ പറയാനാവശ്യപ്പെടുന്നു.

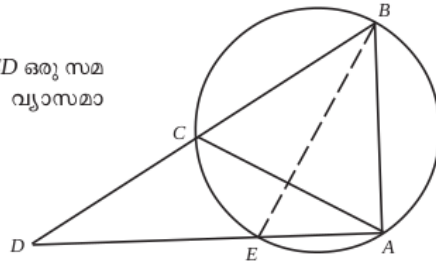
- (1) ഇതിലെ അക്കങ്ങൾ രണ്ടും വ്യത്യസ്തമാകാനുള്ള സാധ്യത എത്ര?
- (2) ആദ്യത്തെ അക്കം വലുതും രണ്ടാമത്തെ അക്കം ചെറുതുമായുള്ള സാധ്യത എത്ര?
- (3) ആദ്യത്തെ അക്കം ചെറുതും രണ്ടാമത്തെ അക്കം വലുതുമായുള്ള സാധ്യത എത്ര?

(38)

$(2, 5), (6, 5)$ യോജിപ്പിക്കുന്ന വരയുടെ ലംബസമഭാജിയിലാണ് P. P യുടെ x സൂചകസംഖ്യയും y സൂചകസംഖ്യയും തുല്യമെങ്കിൽ P യുടെ സൂചകസംഖ്യകൾ എഴുതുക.

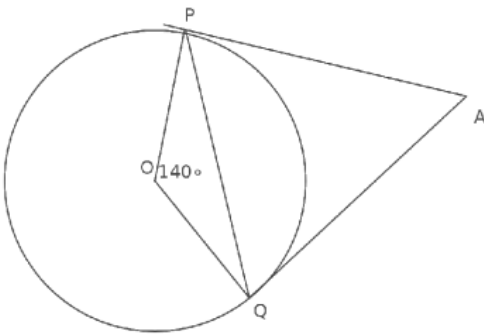
(39)

ചിത്രത്തിൽ ABC ഒരു സമഭുജത്രികോണവും ACD ഒരു സമ പാർശ്വത്രികോണവുമാണ്. BE വൃത്തത്തിന്റെ വ്യാസമാണെന്ന് സമർഥിക്കുക.



(40)

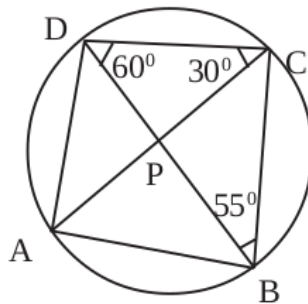
ചിത്രത്തിൽ O വൃത്തകേന്ദ്രവും PA, QA എന്നിവ തൊട്ടുവരകളുമാണ്



- $\angle A = \dots\dots\dots$
- $\angle OPA = \dots\dots\dots$
- $\angle OQA = \dots\dots\dots$
- $\angle OPQ = \dots\dots\dots$
- $\angle OQP = \dots\dots\dots$
- $\angle APQ = \dots\dots\dots$
- $\angle AQP = \dots\dots\dots$

(41)

ചിത്രത്തിൽ



- കോൺ ABD എത്ര
- കോൺ CAD എത്ര
- കോൺ BAC എത്ര
- കോൺ A, കോൺ B, കോൺ C, കോൺ D എത്ര

(42)

പണിതുകൊണ്ടിരിക്കുന്ന ഒരു കെട്ടിടത്തിന്റെ മുകൾഭാഗം 1.6 മീറ്റർ ഉയരമുള്ള ഒരു കുട്ടി 30° മേൽക്കോണിൽ കണ്ടു. 15 മീറ്റർ കൂടി ഉയർത്തി. കെട്ടിടം പണി തീർത്തപ്പോൾ അയാൾ അതേ സ്ഥാനത്തു നിന്ന് 60° മേൽക്കോണിലാണ് മുകൾ ഭാഗം കണ്ടത്. കെട്ടിടത്തിന്റെ ഉയരം എത്രയാണ്.

(43)

ജോൺ ഒരു മരത്തിന്റെ മുകളിൽ നിന്നും ഒരു തെരുവുനായയെ 60° കീഴ്കോണിൽ കാണുന്നു. അല്പം കഴിഞ്ഞപ്പോൾ ഈ തെരുവുനായയെ ആദ്യം നിന്ന സ്ഥലത്തുനിന്നും 10 മീറ്റർ അകലെ 30° കീഴ്കോണിലാണ് കാണുന്നത്. മരത്തിന്റെ ഉയരം എത്ര? തെരുവുനായ ആദ്യം നിന്ന സ്ഥലവും മരവും തമ്മിലുള്ള അകലം എത്ര? (5)

(44)

ഒരു ത്രികോണത്തിന്റെ രണ്ട് വശങ്ങൾ 6 സെ.മി., 8 സെ.മി ഉം അവ ചേരുന്ന കോൺ 70°യുമാണ്. ത്രികോണത്തിന്റെ അന്തർവൃത്തം വരച്ച് ആരം അളന്നെഴുതുക?

(45)

16 വശങ്ങൾ ഉള്ള ഒരു ബഹുഭുജത്തിന്റെ കോണുകൾ എണ്ണൽ സംഖ്യകളാണ്. കൂടാതെ അവ സമാന്തര ശ്രേണിയുമാണ്.

(a) ഏറ്റവും ചെറിയ കോണിന്റെയും ഏറ്റവും വലിയ കോണിന്റെയും തുക എത്ര?

(b) ഈ സമാന്തര ശ്രേണിയുടെ പൊതുവ്യത്യാസം എത്ര?