

**PHYSOL EXAMINATION SERIES**  
**CHAPTER 3- MOTION IN A STRAIGHT LINE**  
**SUNDAY 27-06-2021 @ 7.00pm**

**PES02**

**TIME: 1 HOUR**

**MAXIMUM SCORE:30**

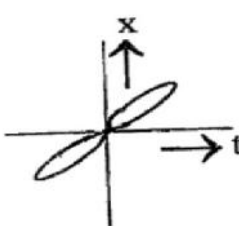
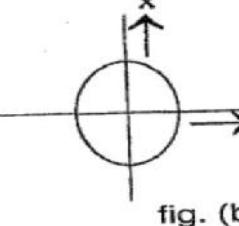
**General Instructions to Students**

- There is a ‘cool-off time’ of 15 minutes in addition to maximum writing time
- Use cool-off time to get familiarise with questions and their answers
- **Read questions and instructions carefully before answering**
- Calculations, figures, graphs should be shown in the answer sheet itself
- **You can write any number of questions fully or partially to get a maximum score of 30**
- Electronic devices except **non-programmable calculators** are not allowed in the examination

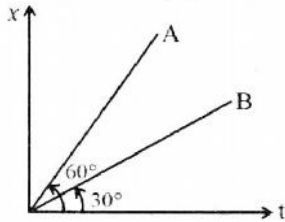
**Questions from 1 to 4 carries 1 score**

1	The ratio of distance to displacement of a moving body is always ----- a) =1 b) >1 c) <1 d) ≥1	<b>1</b>
2	“Free fall is an example of..... accelerated motion” (uniformly/non-uniformly)	<b>1</b>
3	The slope of position – time graph of a particle gives..... (Acceleration ,Displacement ,Velocity,Momentum )	<b>1</b>
4	An object travel towards east for 6m, then move towards north for 8m. Find its distance covered and it’s displacement	<b>1</b>

**Questions from 5 to 8 carries 2 score**

5	A car is moving along the circumference of a circle of radius ‘r’. a) What is the distance travelled in one revolution? b) What is the displacement in one revolution?	<b>1</b> <b>1</b>
6	Look at the graph in fig. (a) and fig.(b) carefully and state which of these can’t possibly represent one-dimensional motion with reasons  <div style="display: flex; justify-content: space-around; align-items: center;"> <div style="text-align: center;">  <p>fig. (a)</p> </div> <div style="text-align: center;">  <p>fig. (b)</p> </div> </div>	<b>2</b>
7	State in the following cases whether the motion is one, two or three dimensions. i. A butterfly flying around a flower. ii. A bus moving along a long and straight road.	<b>1</b> <b>1</b>

8 The position - time graph of two objects A and B are shown below.



(a) Which body has greater velocity?

1

(b) Find the ratio of velocities of A and B.

1

**Questions from 9 to 12 carries 3 score**

9 A car travels from A to B at 60 km/hr and returns to A at 90 km/hr. What is its average velocity and average speed?

3

10 Draw v-t graph of an object starts with an initial velocity  $v_0$  and moves with uniform acceleration. From this derive the relation  $S = v_0 t + \frac{1}{2} a t^2$

3

11 Velocity is defined as the rate of Change of position/Displacement.

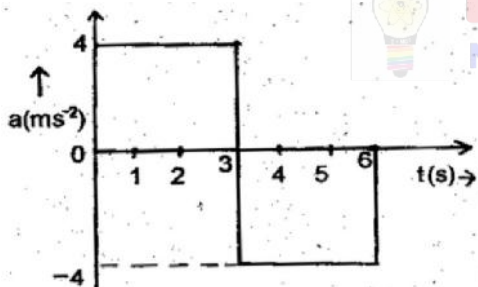
(a) Distinguish between average velocity and instantaneous velocity.

$1\frac{1}{2}$

(b) When does the average velocity becomes equal to the instantaneous velocity?

$1\frac{1}{2}$

12 Acceleration – time graph of a body starts from rest as shown below



a) What is the use of the acceleration-time graph?

1

b) Draw the velocity – time graph using the above graph.

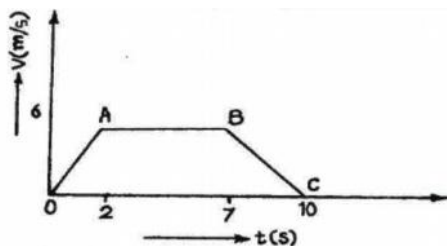
1

c) Find the displacement in the given interval of time from 0 to 3 seconds.

1

**Questions from 13 to 16 carries 4 score**

13 Velocity – time graph of a body is given below.



a) Which portion of the graph represents uniform retardation?

- (i) OA (ii)AB (iii) BC (iv) OC

b) Find the displacement in time 2s to 7s.

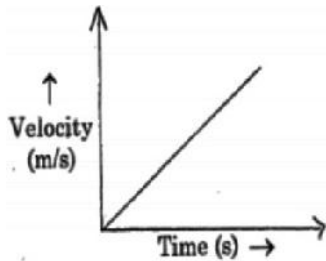
c) A stone is dropped from a height h. Arrive at an expression for the time taken to reach the ground.

1

$1\frac{1}{2}$

$1\frac{1}{2}$

14 Velocity – time graph of an object is given below.



a)What type of motion is indicated by the above graph?

b)Derive a relation connecting the displacement and time for this type of motion.

c)The ratio of velocity to speed of an object is.....

- i. One
- ii. Greater than one
- iii. Less than one
- iv. Either less than one or equal to one.

1

2

1

15 A man walks on a straight road from his home to a market 2.5 km away with a speed of 5 kmph . Finding market closed he instantly turns and walks back home with a speed of 7.5 kmph.

a) How long does the man take to reach the market from his home?

b) Calculate the time taken to return back to home from the market.


c) Find the average speed and magnitude of average velocity.

1

$1\frac{1}{2}$

$1\frac{1}{2}$

16 Figure given below shows the motion of a school bus starting from the point 'O' and travels along a straight line.



a) Complete the following table:

Time taken	Displacement from 0	Velocity
2s	10-0=10m	.....
10s	.....	5m/s

1

1

b) Is the motion of the bus uniform or non-uniform? Justify your answer.	1
c) Draw the position – time graph of the above motion.	
d) A student in the school bus notices the speedometer of the bus. Which type of speed is shown by the speedometer?	1

**Questions 17 and 18 scores 5 each**

17 Derive the following equations of motion for a body moving with uniform acceleration in a straight line.	
a) $v = v_0 + at$	1
b) $S = v_0 t + \frac{1}{2} at^2$	2
c) $v^2 = v_0^2 + 2as$	2
18 When brakes are applied on a moving vehicle, it stops after travelling a distance. This distance is called stopping distance.	
a) Derive an expression for stopping distance in terms of initial velocity ( $v_0$ ) and retardation ( $a$ ).	$1\frac{1}{2}$
b) If the initial speed is doubled keeping the retardation same, by how much will the stopping distance change?	$1\frac{1}{2}$
c) A car travelling at a speed 54 km/h is brought to rest in the 90s. Find the distance travelled by car before coming to rest.	2



Best wishes to all  
**HSPTA MALAPPURAM**

# PHYSOL EXAMINATION SERIES

അധ്യായം 3 - നേർരോചലനം

27-06-2021 ഞായർ 7.00 pm

PES02 M

സമയം : 1 മണിക്കൂർ

പരമാവധി സ്കോർ : 30

**വിദ്യാർത്ഥികൾക്കുള്ള പൊതുനിർദ്ദേശങ്ങൾ**

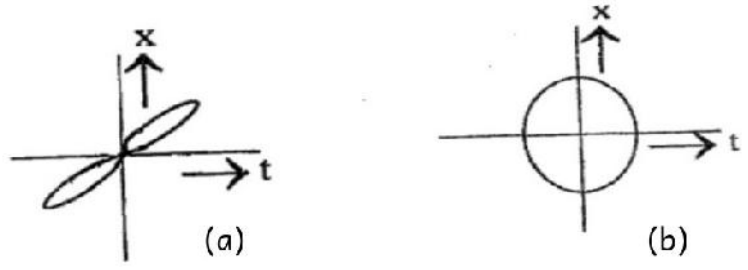
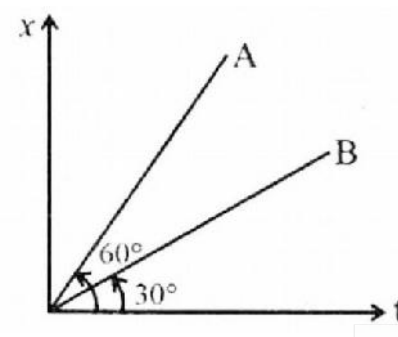
- \* നിർദ്ദിഷ്ട സമയത്തിന് പുറമെ 15 മിനിറ്റ് 'കൂൾ ഓഫ് ടൈം' ഉണ്ടായിരിക്കും.
- \* "കൂൾ ഓഫ് ടൈം" ചോദ്യങ്ങൾ പരിചയപ്പെടാനും ഉത്തരങ്ങൾ ആസൂത്രണം ചെയ്യാനും ഉപയോഗിക്കുക.
- \* ഉത്തരങ്ങൾ എഴുതുന്നതിന് മുമ്പ് ചോദ്യങ്ങൾ ശ്രദ്ധാപൂർവ്വം വായിക്കണം.
- \* കണക്ക്കൂട്ടലുകൾ, ചിത്രങ്ങൾ, ഗ്രാഫുകൾ, എന്നിവ ഉത്തരപേപ്പറിൽ തന്നെ ഉണ്ടായിരിക്കണം.
- \* പരമാവധി 30 സ്കോർ കിട്ടുന്നതിന് എത്ര ചോദ്യങ്ങൾ വേണമെങ്കിലും മുഴുവനായോ ഭാഗികമായോ എഴുതാം.
- \* പ്രോഗ്രാമുകൾ ചെയ്യാനാകാത്ത കാൽക്കലേറ്ററുകൾ ഒഴികെയുള്ള ഒരു ഇലക്ട്രോണിക് ഉപകരണവും ഉപയോഗിക്കുവാൻ പാടില്ല.

**1 മുതൽ 4 വരെയുള്ള ചോദ്യങ്ങൾക്ക് 1 സ്കോർ വീതം.**

1	ചലിക്കുന്ന വസ്തുവിന്റെ പാതദൈർഘ്യവും സ്ഥാനാന്തരവും തമ്മിലുള്ള അനുപാതം എല്ലായ്പ്പോഴും ..... ആയിരിക്കും. a) = 1                      b) > 1                      c) < 1                      d) ≥ 1	1
2	നിർബാധ വീഴ്ച എന്നത് ..... ത്വരണ ചലനത്തിന് ഉദാഹരണമാണ്. (സമ/അസമ )	1
3	സ്ഥാന-സമയ ഗ്രാഫിന്റെ ചരിവ് സൂചിപ്പിക്കുന്നത് (ത്വരണം, സ്ഥാനാന്തരം, പ്രവേഗം, ആക്കം)	1
4	ഒരു വസ്തു കിഴക്കോട്ട് 6 മീറ്റർ സഞ്ചരിക്കുന്നു, തുടർന്ന് വടക്കോട്ട് 8 മീറ്ററും സഞ്ചരിക്കുന്നു. അതിന്റെ പാതദൈർഘ്യവും സ്ഥാനാന്തരവും കണ്ടെത്തുക.	1

**5 മുതൽ 8 വരെയുള്ള ചോദ്യങ്ങൾക്ക് 2 സ്കോർ വീതം.**

5	'r' ആരമുള്ള ഒരു വൃത്തത്തിന്റെ ചുറ്റളവിലൂടെ ഒരു കാർ നീങ്ങുന്നു. (a) ഒരു പരിക്രമണത്തിൽ കാർ സഞ്ചരിച്ച ദൂരം എത്ര? (b) ഒരു പരിക്രമണത്തിലെ സ്ഥാനാന്തരം എത്ര?	1 1
6	a, b എന്നീ ഗ്രാഫുകൾ ശ്രദ്ധാപൂർവ്വം നിരീക്ഷിച്ച് ഇവയിൽ ഏതാണ് ഏകമാന ചലനത്തെ പ്രതിനിധീകരിക്കാൻ സാധ്യമല്ലാത്തത് എന്ന് കാരണങ്ങൾ സഹിതം പ്രസ്താവിക്കുക.	

		2
7	<p>താഴെ പറയുന്ന സന്ദർഭങ്ങളിൽ ചലനം ഏകമാനമാണോ , ദ്വിമാനമാണോ, ത്രിമാനമാണോ എന്ന് പ്രസ്താവിക്കുക.</p> <p>i. ഒരു പൂവിന് ചുറ്റും പറക്കുന്ന ചിത്രശലഭം.</p> <p>ii. നീളമുള്ളതും നേർരേഖയിലുള്ളതുമായ റോഡിലൂടെ സഞ്ചരിക്കുന്ന ഒരു ബസ്.</p>	1 1
8	<p>A, B എന്നീ രണ്ട് വസ്തുക്കളുടെ സ്ഥാന-സമയ ഗ്രാഫ് ചുവടെ കാണിച്ചിരിക്കുന്നു.</p>  <p>(a) ഏത് വസ്തുവിനാണ് കൂടുതൽ പ്രവേഗം?</p> <p>(b) A, B എന്നിവയുടെ പ്രവേഗങ്ങൾ തമ്മിലുള്ള അനുപാതം കണ്ടെത്തുക.</p>	1 1

**9 മുതൽ 12 വരെയുള്ള ചോദ്യങ്ങൾക്ക് 3 സ്കോർ വീതം.**

9	<p>ഒരു കാർ മണിക്കൂറിൽ 60 കിലോമീറ്റർ വേഗതയിൽ A മുതൽ B വരെ സഞ്ചരിച്ച് മണിക്കൂറിൽ 90 കിലോമീറ്റർ വേഗതയിൽ A യിലേക്ക് മടങ്ങുന്നു. അതിന്റെ ശരാശരി പ്രവേഗവും ശരാശരി വേഗതയും എത്ര?</p>	3
10	<p>എന്ന പ്രാരംഭ പ്രവേഗത്തിൽ ആരംഭിച്ച് സമത്വരണത്തിൽ ചലിക്കുന്ന ഒരു വസ്തുവിന്റെ പ്രവേഗ-സമയ ഗ്രാഫ് വരയ്ക്കുക.</p> <p>ഈ ഗ്രാഫിൽനിന്ന് <math>S = v_0t + \frac{1}{2}at^2</math> എന്ന ബന്ധം രൂപീകരിക്കുക</p>	$1\frac{1}{2}$ $1\frac{1}{2}$
11	<p>സ്ഥാനാന്തരത്തിന്റെ സമയനിരക്കിനെ പ്രവേഗം എന്നു നിർവചിക്കുന്നു.</p> <p>(a) ശരാശരിപ്രവേഗവും തൽക്ഷണപ്രവേഗവും തമ്മിലുള്ള വ്യത്യാസമെന്ത്?</p> <p>(b) എപ്പോഴാണ് ശരാശരി പ്രവേഗം തൽക്ഷണ പ്രവേഗത്തിന് തുല്യമാകുന്നത്?</p>	$1\frac{1}{2}$ $1\frac{1}{2}$
12	<p>നിശ്ചലാവസ്ഥയിൽ നിന്ന് ആരംഭിക്കുന്ന ഒരു വസ്തുവിന്റെ ത്വരണ - സമയ ഗ്രാഫ് ചുവടെ കാണിച്ചിരിക്കുന്നു.</p>	

<p>(a) ത്വരണ - സമയ ഗ്രാഫിന്റെ ഉപയോഗങ്ങൾ എന്താണ്?</p> <p>(b) മുകളിലുള്ള ഗ്രാഫ് ഉപയോഗിച്ച് പ്രവേഗ - സമയ ഗ്രാഫ് വരയ്ക്കുക..</p> <p>(c) 0 മുതൽ 3 സെക്കൻഡ് വരെയുള്ള നിശ്ചിത ഇടവേളയിലെ സ്ഥാനാന്തരം കണ്ടെത്തുക.</p>	<p>1</p> <p>1</p> <p>1</p>

13 മുതൽ 16 വരെയുള്ള ചോദ്യങ്ങൾക്ക് 4 സ്കോർ വീതം.

<p>13 ഒരു വസ്തുവിന്റെ പ്രവേഗ - സമയ ഗ്രാഫ് ചുവടെ നൽകിയിരിക്കുന്നു.</p>		
<p>a) ഗ്രാഫിന്റെ ഏത് ഭാഗമാണ് സമ മന്ദീകരണത്തെ പ്രതിനിധീകരിക്കുന്നത് ?          (i) OA    (ii) AB    (iii) BC    (iv) OC</p> <p>b) 2 സെക്കൻഡ് മുതൽ 7 സെക്കൻഡ് വരെയുള്ള സ്ഥാനാന്തരം കണ്ടുപിടിക്കുക</p> <p>c) h ഉയരത്തിൽ നിന്ന് ഒരു കല്ല് താഴേക്ക് പതിക്കുന്നു. തറയിൽ എത്തിച്ചേരാൻ എടുക്കുന്ന സമയത്തിന്റെ സമവാക്യം രൂപീകരിക്കുക.</p>	<p>1</p> <p><math>1\frac{1}{2}</math></p> <p><math>1\frac{1}{2}</math></p>	
<p>14 ഒരു വസ്തുവിന്റെ പ്രവേഗ - സമയ ഗ്രാഫ് ചുവടെ നൽകിയിരിക്കുന്നു.</p>		

	<p>(a) മുകളിലുള്ള ഗ്രാഫ് ഏത് തരം ചലനത്തെയാണ് സൂചിപ്പിക്കുന്നത്?</p> <p>(b) ഇത്തരത്തിലുള്ള ചലനത്തിൽ സ്ഥാനാന്തരവും സമയവും തമ്മിലുള്ള ബന്ധം രൂപീകരിക്കുക.</p> <p>c) പ്രവേഗവും വേഗതയുമായുള്ള അംഗബന്ധം :</p> <p>i) ഒന്നായിരിക്കും</p> <p>ii) ഒന്നിനെക്കാൾ വലുതായിരിക്കും</p> <p>iii) ഒന്നിനെക്കാൾ ചെറുതായിരിക്കും</p> <p>iv) ഒന്നിനെക്കാൾ ചെറുതോ അല്ലെങ്കിൽ തുല്യമോ ആയിരിക്കും</p>	<p>1</p> <p>2</p> <p>1</p>									
<p>15</p>	<p>ഒരാൾ അയാളുടെ വീട്ടിൽനിന്നു 2.5 km അകലെയുള്ള ചന്തയിലേക്ക് നേരെയുള്ള റോഡിലൂടെ 5 km/h വേഗത്തിൽ നടക്കുന്നു. ചന്ത അടച്ചതിനാൽ അപ്പോൾത്തന്നെ അയാൾ തിരിച്ച് 7.5 km/h വേഗത്തിൽ വീട്ടിലേക്കു നടക്കുകയും ചെയ്തു.</p> <p>(a) വീട്ടിൽനിന്ന് ചന്തയിലെത്താൻ അയാൾ എത്ര സമയമെടുത്തു?</p> <p>(b) ചന്തയിൽനിന്ന് തിരിച്ച് വീട്ടിലേക്കെത്താൻ അയാളെടുത്ത സമയം കണക്കാക്കുക</p> <p>(c) ശരാശരി വേഗതയുടെയും ശരാശരി പ്രവേഗത്തിന്റെയും പരിമാണം കണ്ടെത്തുക.</p>	<p>1</p> <p><math>1\frac{1}{2}</math></p> <p><math>1\frac{1}{2}</math></p>									
<p>16</p>	<p>O എന്ന ബിന്ദുവിൽനിന്നാരംഭിച്ച് നേർ രേഖയിൽ സഞ്ചരിക്കുന്ന ഒരു സ്കൂൾ ബസിന്റെ ചലനമാണ് ചിത്രത്തിൽ കാണിച്ചിരിക്കുന്നത്.</p> <div style="text-align: center;"> <p style="text-align: center;">             0S    2S    4S    6S    8S    10S    12S    14S              O    A    B    C    D    E    F    G              0m    10m    20m    30m    40m    50m    60m    70m           </p> </div> <p>(a) താഴെ തന്നിരിക്കുന്ന പട്ടിക പൂർത്തിയാക്കുക</p> <table border="1" style="margin-left: auto; margin-right: auto;"> <thead> <tr> <th>സമയം</th> <th>O യിൽ നിന്നുള്ള സ്ഥാനാന്തരം</th> <th>പ്രവേഗം</th> </tr> </thead> <tbody> <tr> <td>2 s</td> <td><math>10 - 0 = 10 \text{ m}</math></td> <td>.....</td> </tr> <tr> <td>10 s</td> <td>.....</td> <td>5 m/s</td> </tr> </tbody> </table> <p>(b) ബസിന്റേത് സമചലനമാണോ അസമചലനമാണോ? നിങ്ങളുടെ ഉത്തരം ന്യായീകരിക്കുക</p> <p>(c) മുകളിലെ ചലനത്തിന്റെ സ്ഥാന-സമയ ഗ്രാഫ് വരയ്ക്കുക.</p>	സമയം	O യിൽ നിന്നുള്ള സ്ഥാനാന്തരം	പ്രവേഗം	2 s	$10 - 0 = 10 \text{ m}$	.....	10 s	.....	5 m/s	<p>1</p> <p>1</p> <p>1</p>
സമയം	O യിൽ നിന്നുള്ള സ്ഥാനാന്തരം	പ്രവേഗം									
2 s	$10 - 0 = 10 \text{ m}$	.....									
10 s	.....	5 m/s									



(d) സ്കൂൾ ബസിലെ ഒരു വിദ്യാർത്ഥി ബസിന്റെ സ്റ്റീഡോമീറ്റർ ശ്രദ്ധിക്കുന്നു. ഏത് തരം വേഗതയാണ് സ്റ്റീഡോമീറ്റർ കാണിക്കുന്നത്?	1
--	---

**17 മുതൽ 18 വരെയുള്ള ചോദ്യങ്ങൾക്ക് 5 സ്കോർ വീതം.**

17 നേർരേഖയിൽ സമത്വരണത്തിലുള്ള വസ്തുവിന്റെ താഴെപ്പറഞ്ഞിരിക്കുന്ന ചലന സമവാക്യങ്ങൾ രൂപീകരിക്കുക. (a) $v = v_0 + at$ (b) $S = v_0t + \frac{1}{2}at^2$ (c) $v^2 = v_0^2 + 2aS$	1 2 2
18 ചലിച്ചുകൊണ്ടിരിക്കുന്ന വാഹനത്തിൽ ബ്രേക്ക് പ്രയോഗിക്കുമ്പോൾ നിശ്ചിതദൂരം സഞ്ചരിച്ച ശേഷം അതിന്റെ സഞ്ചാരം നിലക്കുന്നു. ഈ ദൂരത്തെ വിരാമദൂരം എന്ന് വിളിക്കുന്നു. a) $v_0$ , $a$ ഇവ ഉൾപ്പെടുന്ന തരത്തിൽ ഒരു വാഹനത്തിന്റെ വിരാമദൂരം കാണാനുള്ള സമവാക്യം രൂപീകരിക്കുക. b) മനീകരണം അതേപടി നിലനിർത്തി പ്രാരംഭ വേഗത ഇരട്ടിയാക്കിയാൽ, വിരാമദൂരത്തിൽ എത്രത്തോളം മാറ്റം ഉണ്ടായിരിക്കും? c) 54 km/h വേഗതയിൽ സഞ്ചരിച്ചുകൊണ്ടിരിക്കുന്ന ഒരു കാറിന്റെ വേഗത 90 സെക്കൻഡ് കൊണ്ട് നിശ്ചലമാകുന്നു. കാർ നിശ്ചലമാകുന്നതിന് മുമ്പ് സഞ്ചരിച്ച ദൂരം കണ്ടു പിടിക്കുക	$1\frac{1}{2}$ $1\frac{1}{2}$ 2

**PHYSOL-The solution for learning Physics**

Prepared by

Higher Secondary Physics Teachers Association Malappuram