

രണ്ടാം പാദവാർഷിക മൂല്യനിർണ്ണയം 2015-16
ഗണിതം

സ്റ്റാൻഡേർഡ് - III

സമയം : 2 മണിക്കൂർ

കുട്ടിയുടെ പേര്

വിദ്യാലയത്തിന്റെ പേര്


രക്ഷിതാവിന്റെ ഒപ്പ്

അധ്യാപകന്റെ ഒപ്പ്

നം.	പ്രവർത്തനങ്ങൾ	നിലവാര സൂചിക
1	ഗണിതകോർണർ	
2	ബില്ലി പൂർത്തിയാക്കാം	
3	ആകാശവാണി	
4	കുപ്പിയിൽ വെള്ളം നിറയ്ക്കൽ	
5	നവംബർ മാസത്തിൽ	
	ശ്രേഡ്	

പ്രവർത്തനം 1 - ഗണിതകോർണർ

ഗണിതമൂലയിൽ പ്രദർശിപ്പിക്കാനായി റാഷിദ് വരച്ച ചിത്രമാണിത്



◆ ചിത്രത്തിൽ എത്ര ചതുരങ്ങളുണ്ട്?

◆ എത്ര വട്ടങ്ങളുണ്ട്?

◆ ചിത്രത്തിലെ ത്രികോണങ്ങൾക്ക് മുഴുവൻ നിറം നൽകുക

◆ തുടർന്ന് വരാവുന്ന ചിത്രങ്ങൾ വരച്ച് ചേർക്കുക.

പ്രവർത്തനം 2 - ബില്ലി പൂർത്തിയാക്കാം

ഷീബ വർണം ഫാൻസി കടയിൽ പോയി ചില സാധനങ്ങൾ വാങ്ങി.


◆ അതിന്റെ ബില്ലി പൂർത്തിയാക്കൂ....

വർണം ഫാൻസി സ്റ്റോർ		Bill No .113	
പേര് : ഷീബ		തീയതി : 12.10.2015	
ഇനം	വില (ഒന്നിന്)	എണ്ണം	ആകെ
വള	6 രൂപ	8	
മാല	13 രൂപ	5	65 രൂപ
കമ്മൽ	40 രൂപ	6	
ഹെയർബാൻഡ്	23 രൂപ	7	
ആകെ			

◆ ഷീബ കടക്കാരുന് ഒരു അഞ്ഞൂറുരൂപാ നോട്ടും ഒരു അൻപതു രൂപനോട്ടും നൽകി. എത്ര രൂപ അവൾക്ക് ബാക്കി കിട്ടി?

പ്രവർത്തനം 3 - ആകാശവാണി

ആകാശവാണിയിൽ വചനാമൃതം പരിപാടി ആരംഭിക്കുന്ന സമയം ക്ലോക്കിൽ രേഖപ്പെടുത്തിയിരിക്കുന്നു




◆ ക്ലോക്ക് നോക്കി സമയം എഴുതുക

ആകാശവാണിയുടെ തിങ്കളാഴ്ചത്തെ ചില പരിപാടികൾ ചുവടെ നൽകുന്നു.

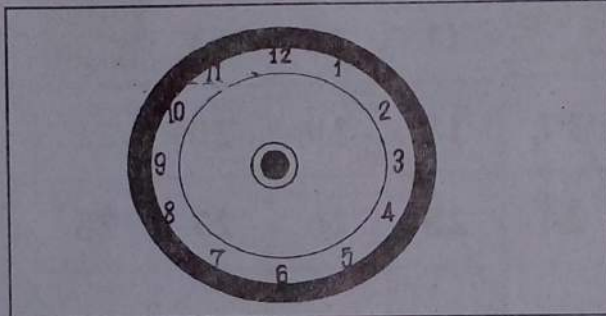
06.10	പ്രഭാതഗീതം
06.25	ശ്രദ്ധ
07.00	കാവ്യാഞ്ജലി
07.35	ആരോഗ്യജീവിതം
07.50	നാട്ടുവിശേഷം
08.30	ലളിതസംഗീതപാഠം
09.00	റേഡിയോ ഹെൽത്ത്
09.15	മഴവില്ല്

10 മണിക്ക് പ്രഭാത പരിപാടികൾ സമാപിക്കുന്നു.



◆ നാട്ടുവിശേഷം പരിപാടിക്ക് ആകെ എത്ര സമയമെടുക്കും?


◆ ക്ലോക്കിൽ കാവ്യാഞ്ജലി തുടങ്ങുന്ന സമയം വരച്ച് കാണിക്കുക



◆ പ്രഭാതഗീതം മുതൽ പ്രഭാത പരിപാടികൾ അവസാനിക്കുന്നതുവരെ ആകെ എത്ര സമയം ഉണ്ട്?

പ്രവർത്തനം 4 - കുപ്പിയിൽ വെള്ളം നിറയ്ക്കൽ

കുപ്പിയിൽ വെള്ളം നിറയ്ക്കൽ മത്സരത്തിനായി നറുക്കെടുത്തു. ഒരേ ഉത്തരം കിട്ടുന്നവർ ഗ്രൂപ്പായി. പക്ഷെ താഴെയുള്ള ഒരാൾ ഗ്രൂപ്പിൽപ്പെടില്ല. ആ കുട്ടിയുടെ കാർഡിന് വട്ടം വരയ്ക്കുക.



◆ ഓണാഘോഷത്തിന്റെ ഭാഗമായി വിവിധ മത്സരങ്ങൾ സംഘടിപ്പിച്ചു. സമ്മാനം നൽകാനായി 9 രൂപ വിലയുള്ള 23 ഗ്ലാസ്സുകൾ വാങ്ങി. ലഘു ഭക്ഷണത്തിന് 325 രൂപയും ചെലവായി. ആകെ എത്ര രൂപ ചെലവായി?

{പവർത്തനം 5 - നവംബർ മാസത്തിൽ

2015 നവംബർ						
ഞായർ	തിങ്കൾ	ചൊവ്വ	ബുധൻ	വ്യാഴം	വെള്ളി	ശനി
1	2	3	4	5	6	7
8	9	10 ദിപാവലി	11	12	13	14 ശിശുദിനം
15	16	17	18	19	20	21
22	23	24	25	26	27	28
29	30					

◆ ഈ വർഷത്തെ ശിശുദിനാഘോഷത്തിന്റെ തീയതിയും ദിവസവും എഴുതുക.

◆ 2015 ഡിസംബർ മാസത്തെ ആദ്യത്തെ ശനിയാഴ്ച എത്രാം തീയതിയായിരിക്കും?

◆ 2015 നവംബർ മാസത്തെ സ്കൂൾ പ്രവൃത്തി ദിവസങ്ങൾ എത്ര?

◆ ആര്യയുടെ സ്കൂളിൽ ഒരു ദിവസം 9 കിലോഗ്രാം അരിയാണ് ഉച്ചഭക്ഷണത്തിന് ഉപയോഗിക്കുന്നത്. എങ്കിൽ നവംബർ മാസം എത്ര കിലോഗ്രാം അരി വേണ്ടി വരും?