

USS 2021

(മലയാളം മീഡിയം)

അടിസ്ഥാനശാസ്ത്രം പാർട്ട് (ഇ) Question Numbers 45 - 57

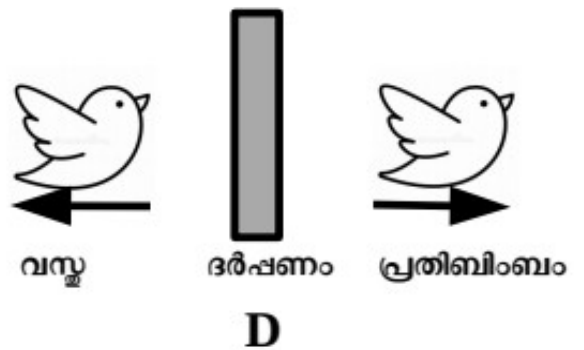
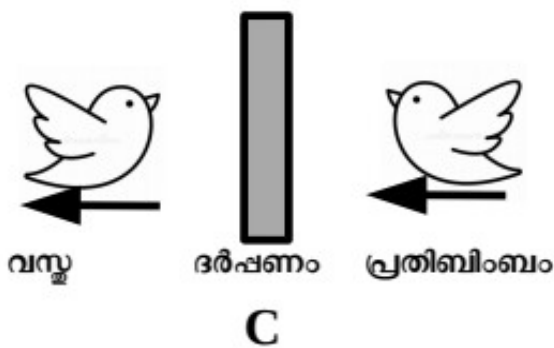
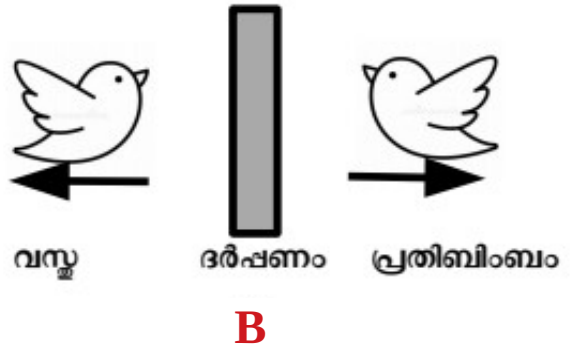
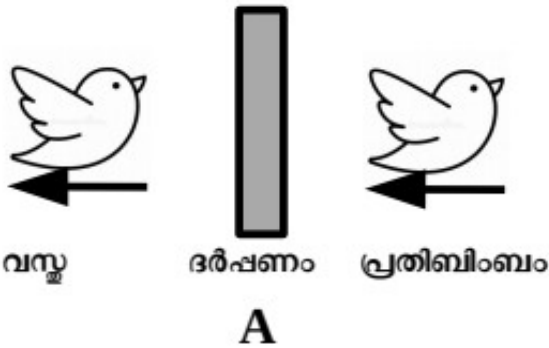
45. ആതിഥേയസസ്യത്തിൽനിന്ന് ജലവും ലവണങ്ങളും വലിച്ചെടുക്കുകയും സ്വയം ആഹാരം നിർമ്മിക്കുകയും ചെയ്യുന്നു. താഴെക്കൊടുത്തവയിൽ ഏതിനാണ് ഈ പ്രസ്താവന ശരിയാവുന്നത്?

- A മുടില്ലാത്താളി
- B കൂൺ
- C **ഇത്തിശ്ശക്കണ്ണി**
- D മരവാഴ

46. യൂറോപ്പിന്റെ ബഹിരാകാശ ഏജൻസി ഏതാണ്?

- A ISRO
- B NASA
- C **ESA**
- D RSA

47. ഒരു വസ്തുവിന്റെ പ്രതിബിംബം സമതലദർപ്പണത്തിൽ കാണുന്നതാണ് ചിത്രത്തിൽ സൂചിപ്പിച്ചിരിക്കുന്നത്. ഏതാണ് ശരിയായ ചിത്രീകരണം?



48. തന്നിരിക്കുന്നവയിൽ ശരിയായ ജോടി ഏത്?

- A വിറ്റാമിൻ സി - കണ
- B വിറ്റാമിൻ ഡി - നിശാസത
- C വിറ്റാമിൻ എ - സൂർവി
- D **വിറ്റാമിൻ ബി - വായ്പുണ്ണ്**

49. പോഷണപ്രക്രിയയിലെ ഘട്ടങ്ങളിൽ ഉൾപ്പെടാത്തത് ഏത്?

- A ആഗിരണം
- B സ്വാംശീകരണം
- C ദഹനം
- D ശ്വസനം

50. താഴെ പറയുന്നതിൽ ഏതാണ് ശരിയായ പ്രസ്താവന?

A pH പേപ്പർ ഉപയോഗിച്ച് ആസിഡുകളെയും ആൽക്കലികളെയും നിർവീര്യ വസ്തുക്കളെയും തിരിച്ചറിയാം

B ചുവപ്പ് ലിറ്റ്മസ് പേപ്പർ ഉപയോഗിച്ച് ആസിഡുകളെ തിരിച്ചറിയാം.

C നീല ലിറ്റ്മസ് പേപ്പർ ഉപയോഗിച്ച് ആൽക്കലികളെ തിരിച്ചറിയാം.

D നീല ചെമ്പരത്തിപ്പേപ്പർ ഉപയോഗിച്ച് നിർവീര്യവസ്തുക്കളെ തിരിച്ചറിയാം.

51. ആരോഗ്യമുള്ള ഒരാളുടെ സാധാരണ ശരീരതാപനില എത്രയാണ്?

- A 94.4° F
- B 98.6° F
- C 99.8° F
- D 95.2° F

52. വൈദ്യുതസെർക്കിട്ട് ചിത്രീകരിക്കുമ്പോൾ ഉപയോഗിക്കുന്ന ഒരു ചിഹ്നമാണിത്. ഈ ചിഹ്നം എന്തിനെ സൂചിപ്പിക്കുന്നു?



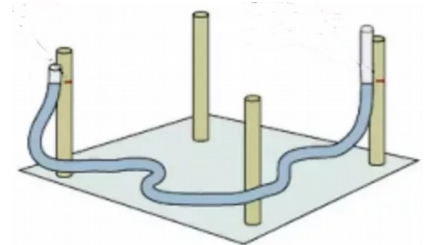
- A സ്വിച്ച് ഓഫ്
- B സ്വിച്ച് ഓൺ
- C ഫ്യൂസ്
- D ബസർ

53. ഏത് പദാർത്ഥമാണ് തുരിശ് എന്ന പേരിൽ അറിയപ്പെടുന്നത്?

- A കാത്സ്യം കാർബണേറ്റ്
- B കോപ്പർ സൾഫേറ്റ്
- C പൊട്ടാസ്യം പെർമാംഗനേറ്റ്
- D സോഡിയം ക്ലോറൈഡ്

54. കെട്ടിടനിർമ്മാണം പോലുള്ള പ്രവൃത്തികൾ ചെയ്യുന്നവർ പ്ലാസ്റ്റിക് പൈപ്പിൽ വെള്ളം നിറച്ച് പിടിച്ചുനോക്കുന്നത് കണ്ടിട്ടില്ലേ?

ജലത്തിന്റെ എന്ത് സവിശേഷതയാണ് ഇവിടെ പ്രയോജനപ്പെടുത്തുന്നത്?



- A. ജലം മൂന്ന് അവസ്ഥകളിലും സ്ഥിതിചെയ്യുന്നു.
- B. ജലത്തിന് സ്ഥിതിചെയ്യാൻ സ്ഥലം വേണം.
- C. ജലം വിതാനം പാലിക്കുന്നു.
- D. ഒഴുകുന്ന ജലത്തിന് ശക്തിയുണ്ട്.

55. താഴെക്കൊടുത്തവയിൽ ഏതാണ് വലുപ്പക്രമത്തിൽ എഴുതിയത്?

- A സൂര്യൻ - വ്യാഴം - തിരുവാതിര
- B സൂര്യൻ - തിരുവാതിര - വ്യാഴം
- C തിരുവാതിര - വ്യാഴം - സൂര്യൻ
- D വ്യാഴം - സൂര്യൻ - തിരുവാതിര

56. തന്നിരിക്കുന്നവയിൽ തെറ്റായ ജോടി ഏത്?

- A. ബയോപ്പി - കാൻസർ രോഗനിർണ്ണയം
- B. ഇസിജി - ഹൃദ്രോഗനിർണ്ണയം
- C. എൻഡോസോപ്പി - ദഹനവ്യവസ്ഥയുടെ തകരാർ
- D. **ആർ.ടി-പി.സി.ആർ - ഷിഗല്ല രോഗനിർണ്ണയം**

57. പോമ്പാനോ എന്ന മത്സ്യവുമായി ബന്ധപ്പെട്ട് ശരിയല്ലാത്ത പ്രസ്താവന ഏത്?

- A. വറ്റ എന്നും അറിയപ്പെടുന്നു.
- B. **ശുദ്ധജലത്തിൽ ജീവിക്കുന്ന മത്സ്യമാണ്.**
- C. കടലിലും കായലിലും വളർത്താം.
- D. കുളങ്ങളിൽ വളർത്തുന്നതിനുള്ള ഗവേഷണപ്രവർത്തനങ്ങൾ നടന്നുവരുന്നു.