



SET - 7

ഡയറ്റ് കോട്ടയം

യു.എസ്.എസ് മാതൃകാ പരീക്ഷ മെയ് 2021

മാതൃകാ ചോദ്യപേപ്പർ - 7

(പേപ്പർ-1)

സമയം : 2 മണിക്കൂർ

ആകെ സ്കോർ: 60

പേര്.....ഫോൺ:.....

സ്കൂൾ.....

നിർദ്ദേശങ്ങൾ

ചോദ്യബുക്ക്ലെറ്റിന്റെ കവർ പേജിലും, ഒ.എം.ആർ. ഷീറ്റിലും നൽകിയിട്ടുള്ള നിർദ്ദേശങ്ങൾ വളരെ ശ്രദ്ധയോടെ വായിക്കേണ്ടതാണ്.

1. പരീക്ഷാസമയമായ 2 മണിക്കൂറിന് പുറമേയുള്ള 20 മിനിട്ട് “കൂൾ ഓഫ് ടൈം” ആയിരിക്കും.
2. ഈ സമയത്ത് ചോദ്യങ്ങൾക്ക് ഉത്തരമെഴുതാനും മറ്റുള്ളവരുമായി ആശയവിനിമയം നടത്തുവാനും പാടില്ല.
3. ഉത്തരങ്ങൾ എഴുതുന്നതിന് മുമ്പ് ചോദ്യങ്ങൾ ശ്രദ്ധാപൂർവ്വം വായിക്കണം.
4. പേപ്പർ ഒന്നിൽ **എഴുപത് (70)** ചോദ്യങ്ങൾ ഉണ്ടായിരിക്കും. എല്ലാ ചോദ്യങ്ങൾക്കും കുട്ടികൾ ഉത്തരമെഴുതാവുന്നതാണ്. പാർട്ട് - എ ഒന്നാം ഭാഷ (AT) - 10 ചോദ്യങ്ങൾ. (എല്ലാ ചോദ്യങ്ങൾക്കും ഉത്തരമെഴുതണം) പാർട്ട് - ബി ഒന്നാം ഭാഷ (BT) - 14 ചോദ്യങ്ങൾ (ശരിയായി ഉത്തരമെഴുതിയ 10 ചോദ്യങ്ങളുടെ മാർക്ക് മാത്രമേ പരിഗണിക്കുകയുള്ളൂ.) പാർട്ട്- സി- ഗണിതശാസ്ത്രം - 10 ചോദ്യങ്ങൾ. (എല്ലാ ചോദ്യങ്ങൾക്കും ഉത്തരമെഴുതണം) പാർട്ട്-ഡി- ഇംഗ്ലീഷ് - 10 ചോദ്യങ്ങൾ. (എല്ലാ ചോദ്യങ്ങൾക്കും ഉത്തരമെഴുതണം) പാർട്ട് ഇ - അടിസ്ഥാനശാസ്ത്രം - 13 ചോദ്യങ്ങൾ (ശരിയായി ഉത്തരമെഴുതിയ 10 ചോദ്യങ്ങളുടെ മാർക്ക് മാത്രമേ പരിഗണിക്കുകയുള്ളൂ.) പാർട്ട് എഫ് - സാമൂഹ്യശാസ്ത്രം - 13 ചോദ്യങ്ങൾ (ശരിയായി ഉത്തരമെഴുതിയ 10 ചോദ്യങ്ങളുടെ മാർക്ക് മാത്രമേ പരിഗണിക്കുകയുള്ളൂ.)
5. ഉത്തരങ്ങൾക്ക് നെഗറ്റീവ് മാർക്ക് (മൈനസ് മാർക്ക്) ഉണ്ടായിരിക്കില്ല.
6. ഉത്തരമെഴുതുവാൻ ഒ.എം.ആർ ഷീറ്റിലും, ചോദ്യപേപ്പറിലും തന്നിട്ടുള്ള നിർദ്ദേശങ്ങൾ നിർബന്ധമായും പാലിക്കേണ്ടതാണ്.
7. ഉത്തരങ്ങൾ എഴുതുന്നതിന് മുമ്പായി ഒ.എം.ആർ ഷീറ്റിന്റെ മുകൾഭാഗത്തുള്ള കളങ്ങൾ പൂരിപ്പിക്കുക.
8. ഒ.എം.ആർ ഷീറ്റിൽ ഉത്തരങ്ങൾ അടയാളപ്പെടുത്തുന്നതിന് നീല മഷിയോ, കറുപ്പ് മഷിയോ ഉള്ള ബോൾ പേയിന്റ് പേനകൾ മാത്രം ഉപയോഗിക്കുക.
9. ഒ.എം.ആർ ഷീറ്റിൽ ഏതെങ്കിലും വിധത്തിലുള്ള വ്യക്തി വിവരങ്ങളോ, അടയാളങ്ങളോ രേഖപ്പെടുത്തുവാൻ പാടില്ല. അങ്ങനെ ചെയ്താൽ അവരുടെ ഒ.എം.ആർ ഷീറ്റ് റദ്ദാക്കുന്നതാണ്.

10 മാർക്ക്

- ◆ ആകെ ചോദ്യങ്ങൾ 10.
- ◆ എല്ലാ ചോദ്യങ്ങൾക്കും ഉത്തരം എഴുതുക.
- ◆ പരമാവധി സ്കോർ 10.

1. കേരളത്തിൽ വർഷങ്ങൾക്കു മുമ്പ് നിലനിന്നിരുന്ന ജന്മി-കുടിയാൻ-വ്യവസ്ഥയിൽ കൃഷി ഭൂമിയുടെ ഉടമസ്ഥർ ജന്മിമാരും കൃഷിപ്പണിയെടുക്കുന്നവർ കുടിയാന്മാരും ആയിരുന്നു. സമാനവ്യവസ്ഥ ഉത്തരേന്ത്യയിലും ഉണ്ടായിരുന്നു. ഈ വ്യവസ്ഥയിൽ ഭൂവുടമയ്ക്ക് പറയുന്ന പേരെന്താണ്?

- A. പ്രഭു
- B. നാടുവാഴി
- C. സുബേദാർ
- D. ജമീന്ദാർ

2. ഇഷ്ടനായകനെ ജനക്കൂട്ടം കൺനിയെ കണ്ടു- കൺനിയെ കാണുക എന്നശൈലിയുടെ അർത്ഥമെന്താണ്

- A. കണ്ണിരണിഞ്ഞുകൊണ്ടു കാണുക
- B. കാഴ്ചമറയുന്നതുവരെ കാണുക
- C. കണ്ട് തൃപ്തിവരുക
- D. അടുത്തുനിന്നു കാണുക

3. 2020-ലെ എഴുത്തച്ഛൻ പുരസ്കാരം ലഭിച്ച സാഹിത്യകാരൻ?

- A. ആനന്ദ്
- B. സക്കറിയ
- C. എം. മുകുന്ദൻ
- D. കെ. സച്ചിദാനന്ദൻ

4. ആകാശം എന്ന പദത്തിന് അർത്ഥം വരാത്ത പദം കണ്ടെത്തുക.

- A. വാനം
- B. അന്തം
- C. ഗഗനം
- D. വ്യോമം

5. യാത്രാവിവരണം എന്ന വിഭാഗത്തിൽപ്പെടുന്ന കൃതി ഏതാണ്?

- A. താമരപ്പൊയ്ക
- B. നേരമില്ലാത്തനേരത്ത്
- C. കാപ്പിരികളുടെ നാട്ടിൽ
- D. ഒരു ദേശത്തിന്റെ കഥ

6. മലയാളത്തിലെ പ്രസിദ്ധരായ എഴുത്തുകാരെക്കുറിച്ചുള്ള രചനകളാണ് താഴെകൊടുത്തിരിക്കുന്നത് ശരിയായ ജോഡി കണ്ടെത്തുക

- A. ചങ്ങമ്പുഴ - മാടവനപ്പുറവിലെ ചിത
- B. എൻ.എൻ.കക്കാട് - പാടുന്ന മൺതരികൾ
- C. വൈലോപ്പള്ളി - ഇവനെക്കുടി
- D. കേസരിബാലകൃഷ്ണപിള്ള - കോഴിക്കോട്ടെ ഒരു രാത്രി

7. താഴെ തന്നിരിക്കുന്ന ക്രിയകളിൽ വേറിട്ടു നിൽക്കുന്നത് കണ്ടെത്തുക

- A. ഉറക്കുക
- B. അടിക്കുക
- C. ചിരിക്കുക
- D. ഓടിക്കുക

8. ഭാരതപര്യടനമെന്ന കുട്ടികൃഷ്ണമാരാരുടെ കൃതി ഏത് സാഹിത്യവിഭാഗത്തിൽപ്പെടുന്നു?
- A. സഞ്ചാരസാഹിത്യം
B. ചെറുകഥ
C. മഹാകാവ്യം
D. നിരൂപണം
9. ലോക മാതൃഭാഷാദിനം
- A. ഏപ്രിൽ 23
B. ജൂൺ 19
C. ജൂലൈ 5
D. ഫെബ്രുവരി 21
10. കൂട്ടത്തിൽപ്പെടാത്തതേത്?
- A. ക്ഷ
B. സ
C. ത്വ
D. ശ്വ

DIET
KOTTAYAM

10 മാർക്ക്

- ◆ ആകെ ചോദ്യങ്ങൾ 14.
- ◆ എല്ലാ ചോദ്യങ്ങൾക്കും ഉത്തരം എഴുതേണ്ടതാണ്.
- ◆ പരമാവധി സ്കോർ 10.

- 1 കൂട്ടത്തിൽ പെടാത്ത പദം ഏത്?

A. കാറ്റ്	B. മാരുതൻ
C. തെന്നൽ	D. അനലൻ

- 2 തെയ്യത്തിനുതാ തിനുത്തിനും താരാ താരാതിനുതാ തിനുത്തിനും താരാ ഈ വായ്ത്താരിക്ക് യോജിക്കുന്ന നാടൻപാട്ട്

A. ഒരു ചാലുഴുതില്ല ഒരു വിത്തും വിതച്ചില്ല താനേമുളച്ചൊരുപൊൻതകര	B. ഒന്നാനിം കൊച്ചുതുമ്പി എന്റെ കൂടെ പോരുമോനീ
C. കല്ലേലിരിക്കുന്ന കല്ലരിതണ്ടേ കല്ലേന്നൊട്ടപ്പുറം മാറിരിതണ്ടേ	D. കുഞ്ഞിക്കുഞ്ഞിക്കുറുക നിനക്കെന്തുവെരുത്തം.

- 3 “ഉള്ളതുകൊണ്ട് ഓണം പോലെ” എന്ന ചൊല്ലിന്റെ അർത്ഥം?

A. ഉള്ളതെല്ലാം വിറ്റ് ഓണം ആഘോഷിക്കുക.	B. ഓണം ആഘോഷിക്കാനായി ആവുന്നത്രസമ്പാദിക്കുക.
C. എല്ലാദിവസവും ഓണം പോലെ കഴിയുക.	D. കൈയിലുള്ളതുകൊണ്ട് സംതൃപ്തമാവുക.

- 4 മാതൃഭൂമിയുടെ സ്ഥാപക പത്രാധിപർ ആര്?

A. കെ.പി.കേശവമേനോൻ	B. സ്വദേശാഭിമാനി രാമകൃഷ്ണപിള്ള
C. എം.പി.വിരേന്ദ്രകുമാർ	D. മാമ്മൻ മാപ്പിള്ള

- 5 ടി.പത്മനാഭൻ വയലാർ അവാർഡ് നേടിക്കൊടുത്ത കൃതി.

A. ഉപ്പ്	B. അവകാശികൾ
C. തത്ത്വമസി	D. പുഴ കടന്നു മരങ്ങളുടെ ഇടയിലേക്ക്

6. 'പ്രകാശപുരിതം' എന്ന പദത്തിന്റെ വിഗ്രഹരൂപം ഏത്?
- A. പ്രകാശത്താൽ പുരിതം
B. പ്രകാശമാകുന്ന പുരിതം
C. പ്രകാശത്തിന്റെ പുരിതം
D. പ്രകാശവും പുരിതവും
7. "വെളിച്ചം ദുഃഖമാണുണ്ണി
തമസ്സല്ലോ സുഖപ്രദം" ഈ കവിതാശകലം ആരുടേതാണ്
- A. അക്കിത്തം അച്യുതൻ നമ്പൂതിരി
B. അയ്യപ്പപ്പണിക്കർ
C. കടമ്മനിട്ട
D. ഒളപ്പമണ്ണ
8. 'കണ്ണീരും കിനാവും' ആരുടെ ആത്മകഥയാണ്?
- A. വി.ടി ഭട്ടതിരിപ്പാട്
B. എം.ആർ. കേസി
C. മുർക്കോത്ത് കുമാരൻ
D. കലാമണ്ഡലം കൃഷ്ണൻനായർ
9. താഴെ കൊടുത്തിരിക്കുന്നതിൽ കയർ എന്ന പദത്തിന് സമാനമല്ലാത്ത പദമേത്?
- A. പാശം
B. രജജു
C. ഗുണം
D. താലം
10. 'ഉരുളയ്ക്കുപ്പേരി' എന്ന ശൈലിയുടെ അർത്ഥം
- A. ഉചിതമായ മറുപടി
B. മത്സരിക്കുക
C. പ്രധാനമായുള്ളത്
D. എതിർത്ത് പറയുക
11. നോവലിന് കേന്ദ്രസാഹിത്യ അക്കാദമി അവാർഡ് നേടിയ പ്രഥമ മലയാളി എഴുത്തുകാരൻ ആര്?
- A. ഒ. ചന്തുമേനോൻ
B. തക്ഷി ശിവശങ്കരപ്പിള്ള
C. എം.ടി. വാസുദേവൻ നായർ
D. കേശവദാസ്
12. 'ലോകത്തെ സംബന്ധിച്ചത്' - ലൗകികം എങ്കിൽ 'വിസ്തരിക്കേണ്ടത്' എന്ന അർത്ഥത്തിലുള്ള പദമേത്?
- A. വിസ്തരം
B. വിസ്തൃതം
C. വിസ്തൃതി
D. വിസ്തൃതം
13. താഴെ കൊടുത്തവയിൽ 'പടയണി' എന്ന കലാരൂപവുമായി ബന്ധമില്ലാത്ത പ്രസ്താവന ഏത്?
- A. ഇതിന്റെ പുരാവൃത്തത്തിന് ദാരികാസുരവധവുമായി ബന്ധമുണ്ട്
B. കളമെഴുത്തും പാട്ടുമാണ് പടയണിയുടെ പ്രാരംഭ ചടങ്ങുകൾ
C. മാടൻ, ദൈരവൻ, യക്ഷി എന്നിവ പടയണി കോലങ്ങളാണ്
D. പടയണി ഉത്തരകേരളത്തിലെ പ്രധാന കലാരൂപമാണ്.
14. ചുവടെ കൊടുത്തിരിക്കുന്നവയിൽ കൂട്ടത്തിൽപ്പെടാതെ നിൽക്കുന്ന പദമേത്?
- A. അനുചിതം
B. അനുദിനം
C. അനുക്ഷണം
D. അനുക്രമം

PART C ഗണിതം

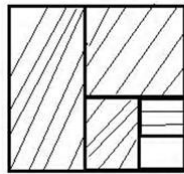
10 മാർക്ക്

- ◆ ആകെ ചോദ്യങ്ങൾ 10.
- ◆ എല്ലാ ചോദ്യങ്ങൾക്കും ഉത്തരം എഴുതുക.
- ◆ പരമാവധി സ്കോർ 10.

1 ഒരു കലണ്ടറിലെ ഒമ്പതുസംഖ്യകളുടെ സമാതൂരത്തിൽ സംഖ്യകളുടെ തുക 189 ആയാൽ ആദ്യത്തെ സംഖ്യ എത്ര?

- A. 13 B. 21
C. 15 D. 14

2.



ചിത്രത്തിൽ ഷെയ്ഡ് ചെയ്തിരിക്കുന്ന ഭാഗം

- A. $1 - \frac{1}{2^4}$ B. $1 + \frac{1}{2^4}$
C. $1 - \frac{1}{2^2}$ D. $1 - \frac{1}{2^3}$

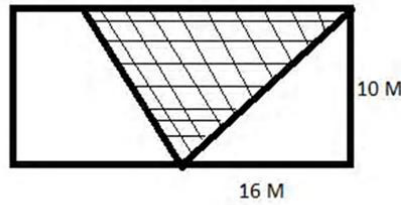
3. 2^{30} ന്റെ പകുതി 2 ന്റെ എത്രാമത്തെ കൃതിയാണ്?

- A. 15 B. 29
C. 20 D. 28

4. $\left[\left(\frac{1}{3}\right)^2\right]^5 \times \left(\frac{1}{3}\right)^4$ ലഘൂകരിച്ചാൽ $\frac{1}{3}$ ന്റെ കൃതി

- A. 11 B. 14
C. 10 D. 9

5.



ഷെയ്ഡ് ചെയ്തഭാഗത്തിന്റെ പരപ്പളവ്

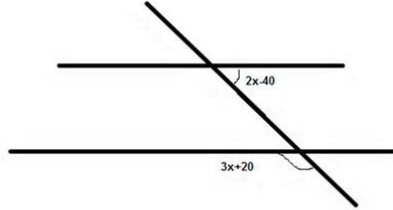
- A. 160 ച.മീ B. 80 ച.മീ
C. 100 ച.മീ D. 140 ച.മീ

തയ്യാറാക്കിയത് - റിസോഴ്സ് ടീം
ഡയറ്റ് കോട്ടയം - 8129322914

6. ഒരു പുസ്തകത്തിനും പേനയ്ക്കും കൂടി 32 രൂപ വിലയാണ്. പുസ്തകത്തിന്റെ വില പേനയേക്കാൾ 20 രൂപ കൂടുതലാണ്. എങ്കിൽ പുസ്തകത്തിന്റെ വില എന്ത്?

- A. 24
- B. 25
- C. 20
- D. 26

7.



ചിത്രത്തിൽ $AB \parallel CD$ എങ്കിൽ x ന്റെ വില എത്ര?

- A. 40°
- B. 60°
- C. 50°
- D. 30°

8. $72 = 2^3 \times 3^2$ ആയാൽ ഘടകങ്ങളുടെ എണ്ണം എത്ര?

- A. 10
- B. 5
- C. 6
- D. 12

9. $29 \times 29 = 841$ ആയാൽ $(0.29)^2 = ?$

- A. 0.841
- B. 0.0841
- C. 8.41
- D. 84.1

10. താഴെ പറയുന്നവയിൽ പൂർണ്ണ വർഗ സംഖ്യ അല്ലാത്തത് ഏത്?

- A. 4900
- B. 16×10^{26}
- C. 16000
- D. 4×10^8

PART D ENGLISH

10 Marks

1. Total Questions - 10
2. Answer all the questions
3. Maximum score - 10

Read the following passage and answer all the questions. select the correct options

Andrew Fang is a legend in bowling. He was voted Sportsman of the Year in 2000. Andrew is only 23. He started bowling when he was nine, picking up the sport from his parents.. “When I was just starting out, my family supported me by paying for my training and equipment,” says the Arts undergraduate whose major is economics. Competition or not, Andrew has no problem keeping fit. “I like biking. Rain or shine, you’ll find me on my mountain bike cycling for at least two hours at Bukit Timah, four times a week. It takes my mind off problems and troubles,” says Andrew. Rest and recreation are as important as exercise.

“I love sleeping,” Andrew says. “When I’m preparing for tournaments, I usually sleep eight to nine hours a day.” He also likes playing pool, reading a good novel or watching a show with his friends. When it comes to food, Andrew says he takes everything in moderation and stays away from fried and fatty food. He takes in more protein than the average person and tries to drink as much water as he can to prevent dehydration since he cycles so much. Because of his discipline, Andrew’s working relationship with his coach has been very smooth. Andrew’s priority, however, is education. “Getting my degree is my biggest wish now. After that, I can concentrate fully on professional bowling,” Andrew states firmly.

1. Andrew Fang is introduced to bowling by his _
 - (a) parents
 - (b) friends
 - (c) coach
 - (d) teacher
2. What does Andrew do when he is stressed?
 - (a) He goes bowling.
 - (b) He climbs up Bukit Timah Hill.
 - (c) He eats fried and fatty food.
 - (d) He goes cycling on his mountain bike.

3. How does Andrew prepare himself for tournaments?
- (a) He cycles for two hours every day.
 - (b) He sleeps at least eight hours a day.
 - (c) He plays pool and reads a good novel.
 - (d) He takes in less protein and drinks more water.
4. Which one of the following is most important to Andrew now? It is to
- (a) be a professional bowler
 - (b) graduate from university
 - (c) be voted as Sportsman of the Year
 - (d) pay his parents for his training and the equipment

Question 5-10 select the correct answer for each question from given options .

5 What is the synonym for ERRONEOUS?

- A. Enormous
- B. Wrong
- C. Eraded
- D. Weak

6. Choose the correct plural form of BASIS

- A. bassis
- B. bases
- C. basises
- D. basium

Fill in the blanks using words from the given options

7 You must be back ___ four o'clock.

- A. by
- B. to
- C. in
- D. for

8. She held the bag _____, even though her arm hurt _____

- A. Tight; badly
- B. Tightly; bad
- C. Tight; bad
- D. Tightly; badly

Imrove the sentence by choosing the correct option

9 They were all shocked at his failure in the competition

- A. were shocked at all
- B. had all shocked at
- C. had all shocked by
- D. No correction required

Fill in the blanks by choosing the correct option

10 Arun has to work late tonight, _____?

- A. hasn't he
- B. B. does he
- C. C. doesn't he
- D. D. did he

PART E അടിസ്ഥാനശാസ്ത്രം

SET - 7

- ◆ ആകെ ചോദ്യങ്ങൾ 13.
- ◆ എല്ലാ ചോദ്യങ്ങൾക്കും ഉത്തരം എഴുതേണ്ടതാണ്.
- ◆ പരമാവധി സ്കോർ 10.

1 ഫാക്ടറികളിൽ നിന്നും പുറന്തള്ളുന്ന പുകയിലെ ഏത് ഘടകമാണ് അമ്ലമഴയ്ക്ക് (acid rain) കാരണമാകുന്നത്?

- A. നൈട്രസ് ഓക്സൈഡ്
- B. കാർബൺ മോണോക്സൈഡ്
- C. കാർബൺ ഡയോക്സൈഡ്
- D. ഇവയെല്ലാം

2. അന്തരീക്ഷവായുവിലെ ഓക്സിജന്റെ അളവ്

- A. 48%
- B. 21%
- C. 78%
- D. 04%

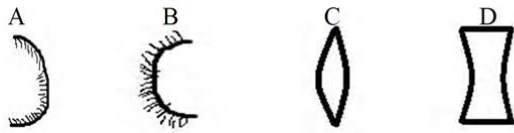
3. വൈദ്യുതകാന്തത്തിന്റെ ശക്തികൂട്ടുവാൻ

- A. ബൾബിന്റെ പ്രകാശം കൂട്ടണം
- B. ബാറ്ററിയുടെ എണ്ണം കൂട്ടണം
- C. കമ്പിയുടെ വണ്ണം കുറയ്ക്കണം
- D. ഇവയെല്ലാം കൂട്ടണം

4. വിസരിത പ്രതിപതനത്തിന്റെ ഒരു ഫലം താഴെക്കൊടുത്തിരിക്കുന്നവയിൽ ഏതാണ്?

- A. പകൽ മുറിക്കുള്ളിൽ പ്രകാശം ലഭിക്കുന്നു.
- B. പ്രകാശം നേർരേഖയിൽ സഞ്ചരിക്കുന്നു.
- C. ചൂട് വർദ്ധിക്കുന്നു.
- D. പ്രകാശം ഒരു ബിന്ദുവിലേക്ക് കേന്ദ്രീകരിക്കുന്നു.

5. താഴെക്കാണുന്നവയിൽ ഏതാണ് കോൺവെക്സ് ദർപ്പണം



6. സ്റ്റോറേജ് ബാറ്ററികളിൽ ഉപയോഗിക്കുന്ന ആസിഡ്.

- A. നൈട്രിക് ആസിഡ്
- B. ഹൈഡ്രോക്ലോറിക്കാസിഡ്
- C. സൾഫ്യൂരികാസിഡ്
- D. കാർബോണിക്കാസിഡ്

6. സോഡാ വെള്ളത്തിൽ യൂണിവേഴ്സൽ ഇൻഡിക്കേറ്ററിന്റെ നിറം?

- A. പച്ച
- B. വയലറ്റ്
- C. ചുവപ്പ്
- D. മഞ്ഞ കലർന്ന ഓറഞ്ച്

തയ്യാറാക്കിയത് - റിസോഴ്സ് ടീം
ഡയറ്റ് കോട്ടയം - 8129322914

8. ഹൃദയത്തിൽ നിന്നും രക്തം ശരീരത്തിന്റെ വിവിധ ഭാഗങ്ങളിലേക്ക് വഹിക്കുന്ന രക്തക്കുഴലുകൾ

- A. സിരകൾ
- B. വാൽവുകൾ
- C. ധമനികൾ
- D. ഇവയൊന്നുമല്ല

9. ഡ്യൂയോഡിനം എന്നത്

- A. ആമാശയത്തിന്റെ ഭാഗം
- B. അന്നനാളത്തിന്റെ ഭാഗം
- C. വൻകുടലിന്റെ ഭാഗം
- D. ചെറുകുടലിന്റെ ഭാഗം

10. ജന്തുക്കളിലെ വിയർക്കലിന് സമാനമായി സസ്യങ്ങളിൽ സംഭവിക്കുന്നത്.

- A. പ്രകാശസംശ്ലേഷണം
- B. ട്രാൻസ്പിരേഷൻ
- C. റസ്പിരേഷൻ (ശ്വാസം)
- D. ഓസ്മോറഗുലേഷൻ

11. ZBNF ആരുമായി ബന്ധപ്പെട്ടതാണ്?

- A. മസനോബു ഫുക്കുവോക്ക
- B. സുഭാഷ് പലേക്കർ
- C. M.S സാമിനാഥൻ
- D. മേയ പട്കർ

12. താഴെ പറയുന്നവയിൽ മാവിനം അല്ലാത്തത്

- A. സുവർണ
- B. നീലം
- C. അർഫോൻസ
- D. മല്ലിക

13. IISR എന്ന ഗവേഷണ സ്ഥാപനത്തിന്റെ പരിധിയിൽ വരുന്ന സസ്യം ഏത്?

- A. കശുമാവ്
- B. റബ്ബർ
- C. നെല്ല്
- D. ഏലം

PART E സോഷ്യൽ സയൻസ്

SET - 7

- ◆ ആകെ ചോദ്യങ്ങൾ 13.
- ◆ എല്ലാ ചോദ്യങ്ങൾക്കും ഉത്തരം എഴുതേണ്ടതാണ്.
- ◆ പരമാവധി സ്കോർ 10.

1. സാമ്പത്തിക മേഖലകളിൽ ഏറ്റവും കൂടുതൽ തൊഴിലവസരങ്ങൾ ലഭ്യമാകുന്ന മേഖല?

A. പ്രാഥമിക മേഖല	B. ദ്വിതീയ മേഖല
C. തൃതീയ മേഖല	D. ഇവയൊന്നുമല്ല
2. ആനിബസന്റിനോടൊപ്പം ഹോംറൂൾ രൂപീകരണത്തിന് നേതൃത്വം കൊടുത്ത ഇന്ത്യൻ നേതാവ്?

A. ഗോപാലകൃഷ്ണ ഗോഖല	B. ബാലഗംഗാധരതിലക്
C. ലാലാ ലജ്പത് റായ്	D. ബിപിൻ ചന്ദ്രപാൽ
3. ഹഗിയ സോഫിയ പണികഴിപ്പിച്ചത് ഏത് നൂറ്റാണ്ടിലാണ്?

A. A.D. 20 -ാം നൂറ്റാണ്ട്	B. A.D. 6 -ാം നൂറ്റാണ്ട്
C. A.D. 8 -ാം നൂറ്റാണ്ട്	D. A.D. 15 -ാം നൂറ്റാണ്ട്
4. താഴെ തന്നിരിക്കുന്നവയിൽ തെറ്റായ ജോഡി കണ്ടെത്തുക?

A. സ്വാമി ദയാനന്ദ സരസ്വതി - ആര്യമഹിളാസഭ
B. ജ്യോതി റാവുഫുലെ - സത്യ ശോധക് സമാജ്
C. സ്വാമി വിവേകാനന്ദൻ - രാമകൃഷ്ണമിഷൻ
D. രാജാറാം മോഹൻ റോയ് - ബ്രഹ്മസമാജം
5. സ്വച്ഛഭാരതമിഷൻ എന്ന ഭാരതസർക്കാരിന്റെ പദ്ധതി ഏത് മേഖലയുമായി ബന്ധപ്പെട്ടിരിക്കുന്നു?

A. ശുചിത്വം	B. വിദ്യാഭ്യാസം
C. ആരോഗ്യം	D. കായികം
6. കർണാടക, തമിഴ്നാട് എന്നീ അയൽ സംസ്ഥാനങ്ങളുമായി അതിർത്തി പങ്കിടുന്ന കേരളത്തിലെ ജില്ല

A. വയനാട്	B. കോഴിക്കോട്
C. കണ്ണൂർ	D. കാസർഗോഡ്
7. ഇന്ത്യയിലെ ഭരണസംവിധാനം കുറെക്കൂടി പരിഷ്കൃതമാകണമെന്നും നമ്മെയും ഭരണത്തിൽ പങ്കാളികളാക്കണമെന്നും നാം ആഗ്രഹിക്കുന്നു. ഇന്ത്യൻ നാഷണൽ കോൺഗ്രസിന്റെ രൂപീകരണ സമ്മേളനത്തിൽ അധ്യക്ഷത വഹിച്ചുകൊണ്ട് ആർ പറഞ്ഞതാണ് ഈ വാക്കുകൾ?

A. എ.ഒ.ഹ്യൂ	B. W.C.ബാനർജി
C. മുഹമ്മദ് ഇഖ്ബാൽ	D. ബങ്കിം ചന്ദ്ര ചാറ്റർജി

തയ്യാറാക്കിയത് - റിസോഴ്സ് ടീം
ഡയറ്റ് കോട്ടയം - 8129322914

8. ഭൂമിയുടെ ഉത്തരധ്രുവത്തെയും ദക്ഷിണധ്രുവത്തെയും തമ്മിൽ ബന്ധിപ്പിക്കുന്ന അർദ്ധവൃത്താകൃതിയിലുള്ള സാങ്കല്പിക രേഖകൾ ഏത് പേരിലറിയപ്പെടുന്നു?

- A. അക്ഷാംശരേഖകൾ
- B. രേഖാംശരേഖകൾ
- C. ഭൂമധ്യരേഖ
- D. ഗ്രീനിച്ച് രേഖ

9. സർവ്വേത്യാ മുസ്ലിംലീഗ് രൂപീകൃതമായ വർഷം?

- A. 1885
- B. 1905
- C. 1906
- D. 1919

10. ഭൂപടത്തിൽ കൊടുത്തിരിക്കുന്ന അംഗീകൃത നിറങ്ങളിൽ കൃഷിയിടങ്ങളെ സൂചിപ്പിക്കുന്ന നിറം ഏത്?

- A. മഞ്ഞ
- B. നീല
- C. വെള്ള
- D. പച്ച

11. ബംഗാളിലെ കർഷക കലാപങ്ങൾ ഏത് പേരിൽ അറിയപ്പെടുന്നു?

- A. മാപ്പിള കലാപങ്ങൾ
- B. കുരിച്യർ കലാപങ്ങൾ
- C. ഫറാസി കലാപങ്ങൾ
- D. സാന്താൾ കലാപങ്ങൾ

12. 'ഇന്ത്യയുടെ ധാന്യപ്പുര' എന്നറിയപ്പെടുന്ന സംസ്ഥാനം

- A. ഉത്തർ പ്രദേശ്
- B. പഞ്ചാബ്
- C. മഹാരാഷ്ട്ര
- D. ഹരിയാന

13. ബ്രട്ടീഷുകാർക്കെതിരെയുള്ള പോരാട്ടത്തിൽ പഴശ്ശിരാജയെ സഹായിച്ച ഗോത്രവിഭാഗം ഏത്?

- A. ഭീലൂക്കൾ
- B. സാന്താൾ
- C. കുരിച്യർ
- D. കോളുകൾ