



ജില്ലാ വിദ്യാഭ്യാസ പരിശീലന ഇൻസ്റ്റിറ്റ്യൂട്ട് (ഡയറ്റ്)
തൃശ്ശൂർ



വെളിച്ചം

എൽ. എസ്. എസ്. മാതൃകാ പരീക്ഷാ ചോദ്യപേപ്പറുകൾ - 2021

English Medium

District Institute of Education and Training
Ramavarmapuram (P.O), Thrissur (Dist), Kerala, Pin : 680631
Ph : 0487 2332070, Email : diettcr@gmail.com
Web : www.dietthrissur.org



ജില്ലാ വിദ്യാഭ്യാസ പരിശീലന ഇൻസ്റ്റിറ്റ്യൂട്ട് (ഡയറ്റ്)

രാമവർമ്മപുരം. പി.ഒ., തൃശൂർ 680631

വെളിച്ചം

എൽ. എസ്. എസ് മാതൃകാ ചോദ്യപേപ്പറുകൾ

മാർച്ച് 2021

നന്ദി

എൽ എസ്എസ് യു എസ് എസ് സ്റ്റോളർഷിപ്പ് പരീക്ഷ എഴുതുന്ന വിദ്യാർത്ഥികൾക്ക് സഹായകമാകുന്ന മാതൃകാ ചോദ്യപേപ്പറുകൾ തയ്യാറാക്കുന്നതിന് ഞങ്ങൾക്ക് പ്രചോദനവും പ്രോത്സാഹനവും നൽകിയ ബഹുമാനപ്പെട്ട തൃശ്ശൂർ ജില്ലാ വിദ്യാഭ്യാസ ഉപഡയറക്ടർ ശ്രീമതി എൻ. ഗീത, തൃശൂർ എസ് എസ് കെ യുടെ ജില്ലാ പ്രോജക്ട് കോർഡിനേറ്റർ ശ്രീമതി. ബിന്ദു പരമേശ്വരൻ, തൃശ്ശൂർ ജില്ലയിലെ ജില്ലാ വിദ്യാഭ്യാസ ഓഫീസർമാർ, ഉപജില്ലാ വിദ്യാഭ്യാസ ഓഫീസർമാർ, എസ് എസ് കെ ബി പി സി മാർ, ട്രെയിനർമാർ , സി ആർ സി മാർ ഡാറ്റ എൻട്രി ഓപ്പറേറ്റർമാർ, പ്രധാനാധ്യാപകർ, ശിൽപശാലകളിൽ പങ്കെടുത്ത അധ്യാപകർ എന്നിവരുടെ പിന്തുണ ഈ പ്രോജക്ട് പൂർത്തിയാക്കുന്നതിന് ഞങ്ങൾക്ക് സഹായകമായിട്ടുണ്ട് ഇവരോടുള്ള കൃതജ്ഞത ഈ അവസരത്തിൽ പ്രകാശിപ്പിക്കുന്നു.

രമേഷ് എൻ കെ
പ്രോജക്ട് കോർഡിനേറ്റർ
ലക്ചറർ, സി എം ഡി ഇ , ഡയറ്റ് തൃശ്ശൂർ

ആമുഖം

വിദ്യാഭ്യാസമാണല്ലോ ഒരു കുട്ടിയെ പൂർണ്ണനാക്കുന്നത്, അതുകൊണ്ടു തന്നെ ഗുണനിലവാരമുള്ള വിദ്യാഭ്യാസം കുട്ടികളുടെ അവകാശം എന്ന ലക്ഷ്യത്തിൽ ഉന്നിയുള്ള കർമ്മപദ്ധതികൾക്കാണ് തൃശ്ശൂർ ഡയറ്റ് എന്നും പ്രാധാന്യം നൽകിയിട്ടുള്ളത്. ഒരു സ്റ്റോളർഷിപ്പ് പരീക്ഷ എന്നതിനേക്കാൾ പ്രൈമറി വിദ്യാലയങ്ങളിലെ കുട്ടികളുടെ അക്കാദമിക് നിലവാരം അളക്കുന്നതിനുള്ള ഒരു മൂല്യനിർണയ ഉപാധി കൂടിയാണ് എൽ എസ് എസ്/ യു എസ് എസ് പരീക്ഷകൾ. പലപ്പോഴും എൽ എസ് എസ് / യു.എസ്.എസ് പരീക്ഷകളിൽ കുട്ടികൾ നേടുന്ന മുന്നേറ്റം വിദ്യാലയത്തിന്റെ തന്നെ അക്കാദമിക് നിലവാര സൂചനകളായി പരിഗണിച്ചു വരുന്നത് കാണാം. കോവിഡ് 19 നൽകിയ കെട്ടുകാലത്തിലൂടെ കടന്നു പോയവരാണ് ഇന്നത്തെ കുട്ടികൾ. നേരിട്ടുള്ള പഠനാനുഭവങ്ങളും ജൈവിക ക്ലാസ് മുറികളും ഈ കുട്ടികൾക്ക് ലഭിച്ചിട്ടില്ല, അതുകൊണ്ടുതന്നെ എൽ എസ് എസ്/ യു.എസ്.എസ് സ്റ്റോളർഷിപ്പ് പരീക്ഷകൾക്കായി കുട്ടികളെ ഒരുക്കുന്നതോടൊപ്പം പ്രൈമറി അധ്യാപകരുടെ ഉത്കണ്ഠ കൂടി അകറ്റുക എന്നതാണ് തൃശ്ശൂർ ഡയറ്റ് "വെളിച്ചം " എന്ന പേരിൽ തയ്യാറാക്കിയിരിക്കുന്ന എൽ എസ് എസ് യു എസ് എസ് മാതൃക ചോദ്യപേപ്പറുകളുടെ ലക്ഷ്യം.

തൃശ്ശൂർ ജില്ലയിലെ 12 ഉപജില്ലകളിലായി വിവിധ വിഷയങ്ങളിൽ വിദഗ്ദ്ധരായ അധ്യാപകരുടെ ശില്പശാലകളിൽ നിന്നും തയ്യാറാക്കിയതാണ് " വെളിച്ചം " എന്ന എൽ എസ് എസ് /യു എസ് എസ് മാതൃകാ ചോദ്യസമാഹാരം. നമ്മുടെ കുട്ടികളെ മികച്ച പഠിതാക്കളാക്കി മാറ്റുന്നതിന് അധ്യാപകർക്കും രക്ഷിതാക്കൾക്കും ഒരു പോലെ വെളിച്ചം നൽകുന്നതായിരിക്കും മാതൃകാ ചോദ്യപേപ്പറുകളുടെ ഈ സമാഹാരം. എൽ എസ് എസ് /യു എസ് എസ് പരീക്ഷകളിൽ മികച്ച വിജയം കരസ്ഥമാക്കാൻ നമ്മുടെ കുട്ടികൾക്ക് സാധിക്കട്ടെ എന്ന അഭിലാഷത്തോടെ "വെളിച്ചം " സസന്തോഷം സമർപ്പിക്കുന്നു.

രാമവർമ്മപുരം.
31.03.2021.

ശ്രീ. അബ്ദുൾ നാസിർ.ടി.
പ്രിൻസിപ്പാൾ
ഡയറ്റ് തൃശ്ശൂർ.

വെളിച്ചം

ചീഫ് എഡിറ്റർ: ശ്രീ അബ്ദുൾ നാസിർ ടി, പ്രിൻസിപ്പാൾ ഡയറ്റ് തൃശ്ശൂർ

എഡിറ്റർ : ഡോ സി മധുസൂദനൻ, സീനിയർ ലക്ചറർ, സി എം ഡി ഇ , ഡയറ്റ് തൃശ്ശൂർ

പ്രോജക്ട് കോഡിനേറ്റർ: രമേഷ് എൻ കെ , ലക്ചറർ, സി എം ഡി ഇ , ഡയറ്റ് തൃശ്ശൂർ

അക്കാദമിക നേതൃത്വം

എൽ എസ് എസ്: അനിത സി, ലക്ചറർ, ഡയറ്റ് തൃശ്ശൂർ

യു എസ് എസ്: ടി ശ്രീകല, ലക്ചറർ, ഡയറ്റ് തൃശ്ശൂർ

ശില്പശാലകൾക്ക് നേതൃത്വം നൽകിയവർ

മിനി ചെറിയാൻ, സീനിയർ ലക്ചറർ, ഡയറ്റ് തൃശ്ശൂർ

ഡോ. ശ്രീകല. എം സീനിയർ ലക്ചറർ, ഡയറ്റ് തൃശ്ശൂർ

ഡോ. പ്രമോദ്. കെ. , സീനിയർ ലക്ചറർ, ഡയറ്റ് തൃശ്ശൂർ

ഡോ. ശ്രീജ. ഡി. , സീനിയർ ലക്ചറർ, ഡയറ്റ് തൃശ്ശൂർ

മനോരമ. എ, സീനിയർ ലക്ചറർ, ഡയറ്റ് തൃശ്ശൂർ

ശശിധരൻ ഇ, ലക്ചറർ, ഡയറ്റ് തൃശ്ശൂർ

പ്രസീ പി, ലക്ചറർ, ഡയറ്റ് തൃശ്ശൂർ

കവിത പി എസ്, ലക്ചറർ, ഡയറ്റ് തൃശ്ശൂർ

ഡോ. സിജി പി സി, ലക്ചറർ, ഡയറ്റ് തൃശ്ശൂർ

ഡോ. സംഗീത കെ കെ പി, ലക്ചറർ, ഡയറ്റ് തൃശ്ശൂർ

സനോജ് എം ആർ, ലക്ചറർ, ഡയറ്റ് തൃശ്ശൂർ

(തൃശൂർ ജില്ലയിലെ 12 ഉപജില്ലകളിൽ നടന്ന ശില്പശാലകളിൽ പങ്കെടുത്ത നിന്നുള്ള വിഷയ വിദഗ്ദ്ധരായ പ്രൈമറി അധ്യാപകരാണ് ചോദ്യ പേപ്പറുകൾ തയ്യാറാക്കിയത്)

വെളിച്ചത്തെക്കുറിച്ച്.....

ഒരു അതിസൂക്ഷ്മ വൈറസ് സൃഷ്ടിച്ച ആശങ്കകൾ നിറഞ്ഞ ചുറ്റുപാടുകളിലൂടെയാണ് നാം ഇന്ന് കടന്നു പോകുന്നത്. ജീവിതത്തിന്റെ സമസ്ത മേഖലകളെയും കോവിഡ് 19 പ്രതിസന്ധിയിലാക്കിയിരിക്കുന്നു. 2020-2021 അധ്യയനവർഷം ഇതുവരെയുള്ള അധ്യയന വർഷങ്ങളിൽ നിന്നും തികച്ചും വീദിന്നമാണ്. പ്രതിസന്ധികൾക്കു മുമ്പിൽ പകച്ചു നിൽക്കാതെ കേരളത്തിലെ വിദ്യാഭ്യാസ രംഗം വിവേകപൂർവ്വം മുന്നേറുന്ന ചിത്രമാണ് നാം കാണുന്നത്. സാധാരണ പോലെ സ്കൂളിൽ പോയി സഹപാഠികളോടൊപ്പം അധ്യാപകരുടെ നേതൃത്വത്തിൽ പഠനപ്രവർത്തനങ്ങളിൽ ഏർപ്പെടാൻ ഈ വർഷം നമ്മുടെ കുട്ടികൾക്ക് സാധിച്ചിട്ടില്ല. പകരം സംസ്ഥാനതലത്തിൽ സംപ്രേഷണം ചെയ്യുന്ന വീഡിയോ ക്ലാസുകൾ വീട്ടിലിരുന്ന് കാണുകയും, അധ്യാപകരുടെ സഹായത്തോടെ പഠനം മുന്നോട്ടു കൊണ്ടുപോവുകയുമാണ് കുട്ടികൾ ചെയ്തത്.

എൽ എസ് എസ് / യു എസ് എസ് സ്റ്റോളർഷീപ്പ് പരീക്ഷകൾ പ്രൈമറി ക്ലാസുകളിലെ മിടുക്കരായ കുട്ടികളുടെ പഠന മികവുകൾ മാറ്റുരക്കുന്നതിനുള്ള ഒരു വേദിയാണ്. ഈ വർഷത്തെ പ്രത്യേക സാഹചര്യം പരിഗണിച്ച് കുട്ടികൾക്ക് അടിയന്തരമായി ഒരു പിന്തുണ ഉറപ്പാക്കുക എന്നതാണ് വെളിച്ചമെന്ന മാതൃക ചോദ്യപേപ്പർ സമാഹാരത്തിലൂടെ തൃശൂർ ഡയറ്റ് ശ്രമിക്കുന്നത്. 2020 ൽ നടത്തിയ എൽ എസ് എസ്/ യു എസ് എസ് മാതൃക പരീക്ഷകൾ വിദ്യാർത്ഥി സമൂഹത്തിന് ഏറെ സഹായമായതായി അധ്യാപകർ അംഗീകരിച്ചത് ഈ വർഷത്തെ എൽ എസ് എസ് / യു എസ് പ്രവർത്തനം ഏറ്റെടുക്കാൻ ഞങ്ങളെ നിർബന്ധിതരാക്കുകയായിരുന്നു. ഈ വർഷം ഒരു മാതൃക പരീക്ഷ നടത്തുക സാധ്യമല്ല എന്നതുകൊണ്ട് കുട്ടികൾക്കുവേണ്ടി മാതൃക ചോദ്യപേപ്പറുകളുടെ ഒരു സമാഹാരം തന്നെ തയ്യാറാക്കുകയും അതിലൂടെ കുട്ടികളെ പരീക്ഷക്ക് ഒരുക്കാൻ സഹായിക്കുക എന്നതാണ് വെളിച്ചം എന്ന പദ്ധതിയിലൂടെ തൃശൂർ ഡയറ്റ് ലക്ഷ്യമാക്കിയത്.

തൃശ്ശൂർ ജില്ലയിലെ പന്ത്രണ്ട് ഉപജില്ലയിലും രണ്ടു ദിവസത്തെ ക്രിയേറ്റീവ് ശിൽപശാലകളിലാണ് ഈ ചോദ്യപേപ്പറുകൾ തയ്യാറായത്. ഉപജില്ലകളിലെ അധ്യാപകർക്ക് അക്കാദമിക പിന്തുണ നൽകി അവരെ മികച്ച ചോദ്യ നിർമ്മാതാക്കളാക്കുക എന്നതും ഈ പദ്ധതിയുടെ ലക്ഷ്യമായിരുന്നു. ഓരോ ചോദ്യപേപ്പറും വ്യത്യസ്തരായ അധ്യാപകരാണ് തയ്യാറാക്കിയിരിക്കുന്നത് എന്നതുകൊണ്ടു തന്നെ ചിലപ്പോൾ ചില ചോദ്യങ്ങൾ ആവർത്തിച്ചു കണ്ടു എന്ന് വരാം. ചോദ്യങ്ങളുടെ നിലവാരത്തിലും ഈ വ്യത്യസ്തത കാണാവുന്നതാണ്. ഈ മാതൃകാ ചോദ്യപേപ്പറുകൾ എല്ലാവർക്കും ഉപകാരപ്രദമായിരിക്കും എന്ന വിശ്വാസത്തോടെ സമർപ്പിക്കുന്നു...

രമേഷ് എൻ കെ, പ്രോജക്ട് കോഡിനേറ്റർ

ജില്ലാ വിദ്യാഭ്യാസ പരിശീലന കേന്ദ്രം (ഡയറ്റ്) തൃശ്ശൂർ
എൽ.എസ്.എസ് മാതൃകാ പരീക്ഷ - ഫെബ്രുവരി 2021

Code No.

Question Paper Booklet Sl.No.	
----------------------------------	--

രജിസ്റ്റർ നമ്പർ

അക്കത്തിൽ
അക്ഷരത്തിൽ

സമയം : 1 1/2 : മണിക്കൂർ

ആകെ സ്കോർ : 50

Paper 1 പേപ്പർ 1

പൊതുനിർദ്ദേശങ്ങൾ :

- 10.15 am മുതൽ 12.00 pm വരെയാണ് പരീക്ഷ സമയം
The time of examination is from 10.15 pm to 12.00 pm
- ആദ്യത്തെ 15 മിനിറ്റ് സമാശ്വാസസമയമാണ്. ചോദ്യങ്ങൾ വായിച്ച് മനസിലാക്കുന്നതിന് ഈ സമയം ഉപയോഗപ്പെടുത്തേണ്ടതാണ്.
The first 15 minutes will be cool –off time. This time should be used for reading the questions carefully.
- പേപ്പർ ഒന്നിലെ ചോദ്യങ്ങൾ മൂന്ന് ഭാഗങ്ങളിലായി ഉൾപ്പെടുത്തിയിരിക്കുന്നു. പാർട്ട് (എ) ഒന്നാം ഭാഷ -മലയാളം, പാർട്ട് (ബി) - (ഇംഗ്ലീഷ്), പാർട്ട് (സി) -(പരിസരപഠനം), പാർട്ട് (ഡി) - (ഗണിതം), പാർട്ട് (ഇ) - (പൊതുവിജ്ഞാനം)
The questions from paper 1 are included in five parts Part A –Malayalam, Part B- English, Part C – EVS, Part D – Maths, Part E- General Knowledge
- എല്ലാ ചോദ്യങ്ങൾക്കും ചോദ്യപേപ്പറിൽ നൽകിയിരിക്കുന്ന സ്ഥലത്ത് ഉത്തരമെഴുതേണ്ടതാണ്.
Answer all the questions in the space provided in the question paper.
- വിദ്യാർത്ഥികൾ പരീക്ഷയ്ക്കായി രജിസ്റ്റർ ചെയ്ത മീഡിയത്തിലെ ബുക്ക്ലെറ്റിലാണ് ഉത്തരം എഴുതേണ്ടത്.
Candidates are requested to check the medium and answer the questions in their Booklet.

6. ബുക്ക്ലെറ്റിൽ ഏതെങ്കിലും വിധത്തിലുള്ള വ്യക്തി വിവരങ്ങളോ, അടയാളങ്ങളോ രേഖപ്പെടുത്താൻ പാടില്ല.

Identification marks or any other marks of such kind should be written on the booklet.

7. ബുക്ക്ലെറ്റ് ഇൻവിജിലേറ്ററെ ഏൽപ്പിച്ചതിനു ശേഷം മാത്രമേ പരീക്ഷ ഹാൾ വിട്ട് പുറത്ത് പോകുവാൻ പാടുള്ളൂ.

Candidates should handover the booklet to the invigilator before leaving the examination hall.

(പേപ്പർ - I) (പാർട്ട് -എ) മലയാളം

ആകെ സ്കോർ 10

- ❖ 1 മുതൽ 6 വരെ ചോദ്യങ്ങളാണ് ഉൾപ്പെടുത്തിയിരിക്കുന്നത്.
- ❖ 1 മുതൽ 5 വരെ ചോദ്യങ്ങൾ ഒബ്ജക്ടീവ് മാതൃകയിലുള്ളതും 6-ാമത്തെ ചോദ്യം വിശദമായി ഉത്തരമെഴുതേണ്ടതാണ്.

(Paper- I) (Part -B) English

Total Score : 10

- ❖ Questions from 7 to 12 are included in English Section.
- ❖ Score is recorded against each question .

(പേപ്പർ - I) (പാർട്ട് -സി) പരിസരപഠനം

ആകെ സ്കോർ 10

- ❖ 13 മുതൽ 18 വരെ പരിസരപഠനം ചോദ്യങ്ങളാണ് ഉൾപ്പെടുത്തിയിരിക്കുന്നത്.
- ❖ 13 മുതൽ 17 വരെയുള്ള വരെ ചോദ്യങ്ങൾ ഒബ്ജക്ടീവ് മാതൃകയിലുള്ളതാണ്
- ❖ ഓരോ ചോദ്യത്തിനും 1 സ്കോർ വീതം.

(പേപ്പർ - I) (പാർട്ട് -ഡി) ഗണിതം

ആകെ സ്കോർ 10

- ❖ 19 മുതൽ 24 വരെ ഗണിതചോദ്യങ്ങളാണ് ഉൾപ്പെടുത്തിയിരിക്കുന്നത്.
- ❖ ഓരോ ചോദ്യത്തിനു നേരെയും സ്കോർ രേഖപ്പെടുത്തിയിട്ടുണ്ട്.

(പേപ്പർ - I) (പാർട്ട് -ഇ) പൊതുവിജ്ഞാനം

ആകെ സ്കോർ 10

- ❖ 25 മുതൽ 34 വരെ പൊതുവിജ്ഞാനം ചോദ്യങ്ങളാണ് ഉൾപ്പെടുത്തിയിരിക്കുന്നത്.
- ❖ 25 മുതൽ 33 വരെയുള്ള വരെ ചോദ്യങ്ങൾ ഒബ്ജക്ടീവ് മാതൃകയിലുള്ളതാണ്
- ❖ ഓരോ ചോദ്യത്തിനും സ്കോർ രേഖപ്പെടുത്തിയിട്ടുണ്ട് .

Part – B

English

7. Complete the riddle below.

I am a seven letter word.

I start with 'B' ending with 'T'.

My meaning is bunch of flowers.

You are using me to welcome guests.

(score 1)

Ans :

8. Make a meaningful word from the letter given in columns.

(score 1)

R	N	P	I	H	F	E	D	S	I
---	---	---	---	---	---	---	---	---	---

Ans :

9. Find out the odd one from the words given below.

Gently, Swiftly, pleasantly, Pulled

(score 1)

Ans :

10. Choose correct word from the bracket.

To find a successor the king thought _____ an idea (of/on)

(score 1)

Ans :

11. Rearrange the sentence.

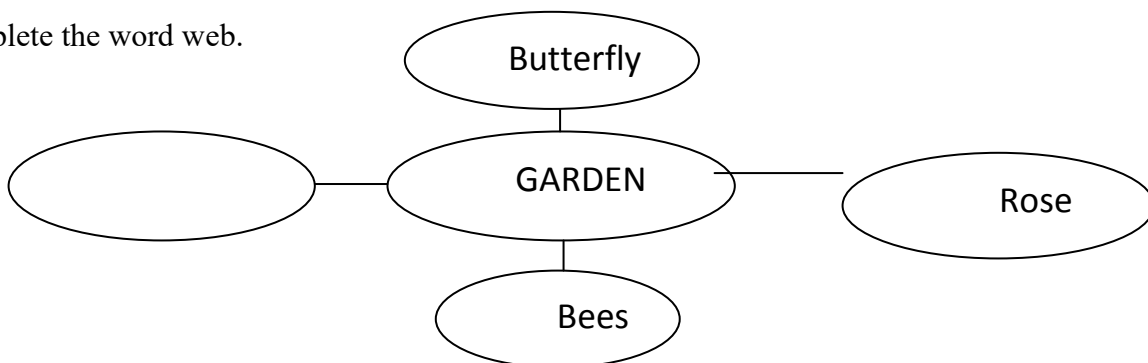
merchant/ was/ man/ cruel/ a/the

(score 1)

Ans :

12. Anut Arundathi told the story of king Vidyadhara to Anna. After hearing the story Anna was very much interested in gardening. She settled a "Beautiful Garden" in front of her house. Do you have a garden in your house?

a) Complete the word web.



(score 1)

Ans :

b) Fill in the blanks .

There is a _____ garden in front of the house.

(score 1)

Ans :

c) Describe your garden.

(score 3)

Ans :

Part – C

EVS

13. Find the odd one out ?

(Score 1)

- (a) Deer (b) Rabbit
(c) Fish (d) Peacock

Ans.

14. The planet which is known by the name Morning Star and Evening Star

(Score 1)

- (a) Sun (b) Venus (c) Mercury (d) Earth

Ans.

15. Find out the tree in which reticulate venation have not been seen?

(Score 1)

- (a) Jack Tree (b) Mango Tree (c) Coconut Tree (d) Tamarind Tree

Ans.

16. Choose the Folk Art from the given art forms.

(Score 1)

- (a) Kathakali (b) Thullal (c) Mohiniyattam (d) Theyyam


Ans.

17. India's National Flag was designed by whom? (Score 1)
(a) Subash Chandra Bose (b) Rabindranath Tagore
(c) Pingali Venkayya (d) Benkim Chandra Chatterji

Ans.

18. Analyse the picture and answer the following questions.

- (a) The given figure below shows the two states of water. Mention the third state? (Score 1)



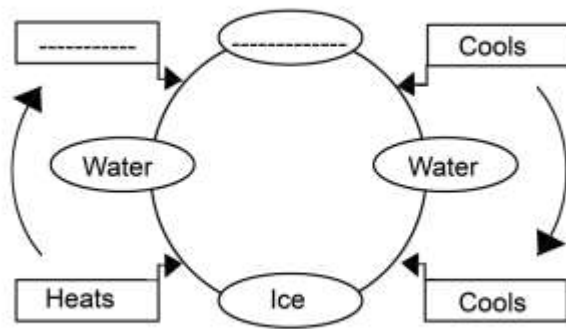
Ice

Water

Ans.

- (b) Complete the flow chart, which shows the different states of water.

(Score 2)



(c) Write any two peculiarities of liquid ?

(Score 2)

Part - D
MATHEMATICS

19. $3400 + 1071 = \dots\dots\dots$

Find the answer from the following

(Score 1)

- (a) between 3000 and 4000
- (b) between 4000 and 5000
- (c) between 4500 and 5000
- (d) between 5000 and 5600

Ans.

20. January 1, 2021 is Friday. Then how many Fridays are there in January ?

(Score 1)

- (a) 3
- (b) 4
- (c) 5
- (d) 6

Ans.

21. I am an even number between 1400 and 1500. The digit in the tens place is 5. One digit repeats itself. Who am I ?

(Score 1)

- (a) 1252
- (b) 1451
- (c) 1454
- (d) 1458

Ans.

22. How many hundreds are there in 3675?

(Score 1)

- (a) 3675
- (b) 36
- (c) 365
- (d) 300

Ans.

23. Babu bought a pen and pencil from a shop for Rs. 150. The pen is Rs. 110 more than the pencil. If so what is the price of the pen ?

(Score 1)

Ans.

24. Election 2021.

The following are the number of voters who came to the two booths of Anakkara GMLP School.

Booth 1		Booth 2	
Male	Female	Male	Female
824	525	645	508

(a) What is the total number of voters in each booth? (Score 2)

Ans.

(b) What is the difference between men and women in the second booth?

(Score 1)

Ans.

(c) In which booth did less men vote ? How many ?

(Score 1)

Ans.

(d) Vasu arrived the booth at 11.40. He spent 25 minutes in the booth.

What time did Vasu return from the booth?

(Score 1)

Ans.

Part – E
General Knowledge

Total Score : 10

25. Which historical monument is printed on 500 Rupees note ?

(Score 1)

Ans.

26. With the help of which satellite the Education channel 'Vickers' is running ?

(Score 1)

Ans.

27. Who is Governor of Kerala ?

(Score 1)

Ans.

28. Which is our state butterfly?

(Score 1)

Ans.

29. Whose autobiography is 'Ormayude Arakal' ?

(Score 1)

Ans.

30. Write another name for 'Krishnagadha'.

(Score 1)

Ans.

31. The Indian State in which the first case of Covid 19 reported ?

(Score 1)

Ans.

32. Which animal has more ribs ?

(Score 1)

Ans.

33. Which bird is known as 'farmer's friend' ?

(Score 1)

Ans.

34. Which country was participated in all the World Cup Football Tournament ?

(Score 1)

Ans.

ഉത്തരസൂചിക

എൽ .എസ്.എസ്. മാതൃക പരീക്ഷ 1
ജില്ലാ വിദ്യാഭ്യാസ പരിശീലന കേന്ദ്രം തൃശ്ശൂർ
2021

പാർട്ട് - എ
ഉത്തരസൂചിക - മലയാളം

ക്രമ നമ്പർ	ഉത്തരം	സ്കോർ
1	(b) കുട്ടി + ഉടുപ്പ്	1
2	സഹോദരിയും സഹോദരനും	1
3	(c) ലോകം	1
4	(c) അനുബന്ധം	1
5	(b) കാകൻ, ജനം, തുഷാരം, പുലരി	1
6	വിലയിരുത്തൽ സൂചകങ്ങൾ ❖ കത്തിന്റെ ഘടന ❖ ആശയം ❖ ഭാഷാ പ്രയോഗം ❖ വാക്യഘടന ❖ ആകർഷണീയത	1 1 1 1 1
	ആകെ	10

PART B

ENGLISH

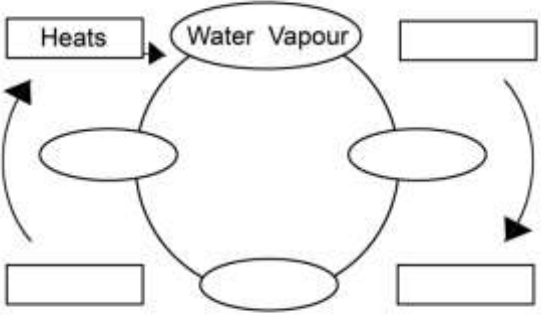
SL NO	Answer Key	Mark distribution
7	BOUQUET. hint : Unit 1 – seed of Truth	SCORE : 1
8	FRIENDSHIP. hint : Unit 2 – Paper boat	SCORE : 1

9	Pulled. hint : Unit 2 – Paper boat	SCORE : 1
10	Of hint : Unit 1 – seed of Truth	SCORE : 1
11	The Merchant was a Cruel man. hint : Unit 3 – Language of Birds	SCORE : 1
12	a) Write suitable word related to garden. b) Use appropriate word. c) Relevant context. Conveying ideas using suitable words. Proper sentence construction.	SCORE : 1 SCORE : 1 SCORE : 1 SCORE : 1 SCORE : 1 (Total = 1+1+3 = 5) SCORE : 5

Part - C

EVS

SL. No	Answer Key	Score
13	(c) Fish	1
14	(b) Venus	1
15	(c) Coconut Tree	1
16	(d) Theyyam	1
17	(c) Pingali Venkayya	1
18	(a) Water Vapour	1
	(b)	2

	 <p>(For two correct answers Score 2 For one correct answer Score 1)</p>	
	<p>(c) (If writes two peculiarities Score 2 If writes one peculiarity Score 1)</p>	2

Part – D

Maths

SL No	Answer Key	Score																																										
19	<p>(b) between 4000 and 5000 The number 4471 is between 4000 and 5000</p>	1																																										
20	<p>(c) 5</p> <table border="1" data-bbox="276 1413 1094 1655"> <thead> <tr> <th>Mon</th> <th>Tues</th> <th>Wed</th> <th>Thu</th> <th>Fri</th> <th>Sat</th> <th>Sun</th> </tr> </thead> <tbody> <tr> <td></td> <td></td> <td></td> <td></td> <td></td> <td>1</td> <td></td> </tr> <tr> <td></td> <td></td> <td></td> <td></td> <td></td> <td>8</td> <td></td> </tr> <tr> <td></td> <td></td> <td></td> <td></td> <td></td> <td>15</td> <td></td> </tr> <tr> <td></td> <td></td> <td></td> <td></td> <td></td> <td>22</td> <td></td> </tr> <tr> <td></td> <td></td> <td></td> <td></td> <td></td> <td>29</td> <td></td> </tr> </tbody> </table>	Mon	Tues	Wed	Thu	Fri	Sat	Sun						1							8							15							22							29		1
Mon	Tues	Wed	Thu	Fri	Sat	Sun																																						
					1																																							
					8																																							
					15																																							
					22																																							
					29																																							
21	(c) 1454	1																																										
22	(b) 36	1																																										
23	<p>Cost of pen = 130 Set aside 110 rupees $150 - 110 = 40 = 20 + 20$ Cost of pen = $110 + 20 = 130$ Cost of pencil = 20</p>	1																																										

24	(a)	$824 + 525 = 1349$ $645 + 508 = 1153$ $1349 + 1153 = 2502$ Or $824 + 524 + 645 + 508 = 2502$	2
	(b)	$645 - 508 = 137$	1
	(c)	Booth No – 2 Number of Male Voters – 508	1
	(d)	12.05	1

Part – E
General Knowledge

SL No	Answer Key	Score
25	Redfort	1
26	Edusat	1
27	Arif Muhammed Khan	1
28	Budhamayoori	1
29	Vaikkom Muhammed Basheer	1
30	Krishnappattu	1
31	Kerala	1
32	Snake	1
33	Owl	1
34	Brazil	1

എൽ .എസ്.എസ്. മാതൃക പരീക്ഷ 2
ജില്ലാ വിദ്യാഭ്യാസ പരിശീലന കേന്ദ്രം തൃശ്ശൂർ

പാർട്ട് - എ
മലയാളം

1. പ്രാചീന കവിത്രയത്തിൽപ്പെട്ട കവിയാണ് കൃഷ്ണഗാഥ രചിച്ചത്. കവി ആര് ?

(സ്കോർ 1)

ഉ.

2. ഒരു തൈ നടാം നമുക്കമ്മയ്ക്കുവേ 1

ഒരു തൈ നടാം കൊച്ചുമക്കൾക്കുവേ 1

ഒരു തൈ നടാം നൂറു കിളികൾക്കുവേ 1

ഒരു തൈ നടാം നല്ല നാളേയ്ക്കുവേ 1

അടുത്തിടെ അന്തരിച്ച പ്രശസ്ത കവയിത്രിയുടെ വരികളാണിത്.

കവയിത്രിയുടെ പേര്?

(സ്കോർ 1)

ഉ.

3. ചന്ദ്രന്റെ പകരം പദമാണ് അമ്പിളി. താഴെ തന്നിരിക്കുന്നതിൽ നിന്ന് മറ്റൊരു പദം കെ ത്തുക.

(സ്കോർ 1)

- (a) ജ്യോതിസ്സ് (b) സുരലോകം (c) ശശാങ്കൻ (d) അർക്കൻ

ഉ.

4. കൂട്ടത്തിൽ ചേരാത്തത് ?

(സ്കോർ 1)

(a) കുട്ടി + കുപ്പായം

(b) പള്ളി + കുടം

(c) വേനൽ + കിനാക്കൾ

(d) നല്ല + കാലം

ഉ.

5. അത്താഴം അത്തിപ്പഴത്തോളം എന്ന ചൊല്ലിന്റെ അർത്ഥം എന്ത് ?

(സ്കോർ 1)

- (a) അത്താഴം കഴിഞ്ഞ് അത്തിപ്പഴം കഴിക്കണം

(b) അത്താഴത്തിന് അത്തിപ്പഴം വേണം

(c) അത്താഴം ലഘുവായിരിക്കണം

(d) അത്താഴത്തിന് അത്തിപ്പഴം ആവശ്യമില്ല

6. ഗദ്യഭാഗം വായിച്ച് താഴെ തന്നിരിക്കുന്ന ചോദ്യങ്ങൾക്ക് ഉത്തരം എഴുതുക.

വെള്ളിക്കോൽ എന്ന പേര് കേട്ടാൽ വെള്ളികൊല്ലുള്ള കോലാണെന്നു തോന്നും. പക്ഷേ പേരിൽ മാത്രമേ വെള്ളി ഉള്ളൂ. ഇതിൽ വെള്ളിയുടെ അംശം പോലുമില്ല. ഏതാ 1960 കാലം വരെയും ഭാരം അളക്കാൻ ഉപയോഗിച്ചിരുന്ന ഒരു അളവുപകരണമാണ് വെള്ളിക്കോൽ. കാർഷികോത്പന്നങ്ങളും, മത്സ്യം, മാംസം തുടങ്ങിയവയും പിത്തളപാത്രങ്ങൾ തുടങ്ങി എല്ലാം തൂക്കി വിറ്റിരുന്നത് ഇത് ഉപയോഗിച്ചാണ്. അങ്ങാടിമരുന്നും മറ്റും തൂക്കാനും ഇത് ഉപയോഗിച്ചിരുന്നു. പ്രത്യേകിച്ച് ഇന്നത്തെപ്പോലെ കടകളില്ലാതിരുന്ന പഴയ കാലങ്ങളിൽ കച്ചവടക്കാർ വീടുകളിൽ വന്നാണ് വാണിഭം ചെയ്തിരുന്നത്. തൂക്കാനുള്ള അളവ് ഉപകരണമായി വെള്ളിക്കോലും കൈവശം ഉറപ്പാക്കും. കൊല്ലം നടക്കാൻ സൗകര്യപ്രദമായ ഉപകരണമാണിത്.

കോലിന്റെ വണ്ണമുള്ള ഭാഗത്ത് ഘനമുള്ള ഏതെങ്കിലും ലോഹം കൊടുത്ത് പൊതിയുമായിരുന്നു. ചെമ്പ്, ഇരുമ്പ് അങ്ങനെയുള്ള ലോഹങ്ങളാണ് കൂടുതലും ഉപയോഗിച്ചിരുന്നത്. മികച്ച വെള്ളിക്കോലുകളിൽ, കൂടുതൽ സ്ഥിരവും ദീർഘകാലത്തേക്ക് കൃത്യതയും ലഭിക്കാൻ ആദ്യകാലങ്ങളിൽ വെള്ളികൊലാണ് പൊതിഞ്ഞിരുന്നത് എന്ന് കരുതുന്നു. അതുകൊണ്ടാകാം വെള്ളിക്കോൽ എന്ന പേര് വന്നത്. ഇരുമ്പോ ചെമ്പോ ഉപയോഗിക്കുന്ന കോലുകൾക്കുപോലും വെള്ളിക്കോൽ എന്ന പേര് പ്രചാരത്തിലായത് അങ്ങനെയാണ്.

1. എന്താണ് വെള്ളിക്കോൽ ? (സ്കോർ 1)

ഉ.

2. കടകൾ ഇല്ലാതിരുന്ന പഴയ കാലത്ത് എങ്ങനെയാണ് സാധനങ്ങൾ വിൽക്കുകയും വാങ്ങുകയും ചെയ്തിരുന്നത് ? (സ്കോർ 1)

ഉ.

3. കച്ചവടം എന്നതിന് പകരമായി ഇവിടെ ഉപയോഗിച്ചിരിക്കുന്ന പദമേത് ? (സ്കോർ 1)

ഉ.

4. വീടുകളിൽ ചെന്ന് കച്ചവടം നടത്തുന്ന കച്ചവടക്കാർ തൂക്കാൻ വെള്ളിക്കോലാണ് ഉപയോഗിച്ചിരുന്നത്. കാരണമെന്ത് ? (സ്കോർ 1)

ഉ.

5. വെള്ളിക്കോലിന് ആ പേര് വരാൻ കാരണമെന്ത് ? (സ്കോർ 1)

ഉ.

Part – B

English

--

7. Make a meaningful word from the letter given in columns. (score 1)

N	D	R	G	E	I	N	A	G
---	---	---	---	---	---	---	---	---

Ans :

8. Choose correct word from the brackets. (score 1)

The girl is _____ at the Taj Mahal .

(watching, peeping, gazing)

Ans :

9. Complete the riddle below.

I am a singing bird.

Mostly you can hear my song at night. Who am I?

(score 1)

Ans :

10. Find out the odd one.

walking, talking, raining, running

(score 1)

Ans :

11. Rearrange the given words to get a meaningful sentence.

gently/ launched/ Anna/ boat/ her

(score 1)

Ans :

12. Ivan went to the forest to fetch the firewood. He was very tired. He was very hungry and thirsty.

(score 1)

a) What are the things you can see in the forest? Write the name of one animal.

Ans :

b) Fill in the blanks using suitable word from the bracket.

(score 1)

Tree gives us _____ (fruits/ light)

Ans :

c) What may be Ivan's thoughts?

(score 3)

Part – C

EVS

Total Score : 10

13. When " Amavasi" (New moon day) happens ?

(Score 1)

- (a) Sun – Earth – Moon
- (b) Sun – Moon – Earth
- (c) Moon – Sun – Earth
- (d) None of these

Ans.

14. In which struggle Gandhiji raised th slogan "Do or Die" ?

- a) Salt Satyagraha
- b) Champaran Satyagraha
- c) Kheda Satyagraha
- d) Quit India movement

(Score 1)

Ans.

15. Which group of plants belongs to Dicotyledon ? (score 1)
- a) Coconut tree, Banana tree, Ginger plant, Jack tree
 - b) Tamarind tree, Arecanut tree, Bamboo tree, Mango tree
 - c) Tamarind tree, Teak tree, Jack tree, Mango Tree
 - d) Palm tree, Coconut tree, Banana tree, Ginger plant

Ans.

16. Name the art form, which mocks at the evils of society with a pinch of humour? (Score 1)

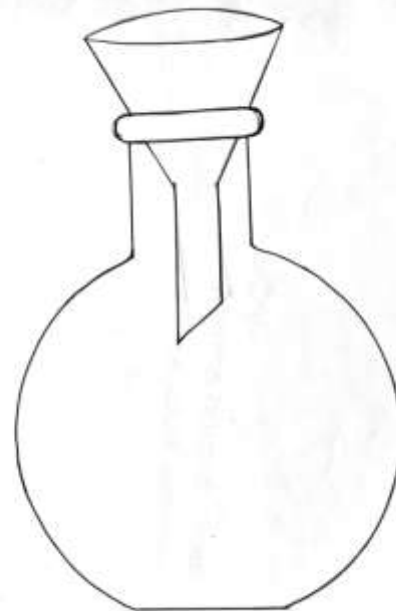
- a) Ottan Thullal
- b) Kathakali
- c) Mohiniyattam
- d) Bharathanatyam

Ans.

17.



Picture A



picture B

Analyse the above picture and find which bottle can fill the water easily.

(Score 1)

Ans.

18. Features of two freedom struggles led by Gandhiji are given below.

a) Identify and classify them.

(score 3)

- i) The struggle led by Gandhiji in 1918.
- ii) The first struggle for peasants led by Gandhiji.
- iii) The struggle to increase the wages of labourers.
- iv) To solve the miseries of peasants who cultivate Indigo.

b) Who ordered Jallian Wala bagh massacre?

(Score 1)

Ans.

c) Which day is observed as "Pravasi Day"?

(Score 1)

Ans.

Part - D
MATHEMATICS

Total Score : 10

19. What is the difference between the largest number and the smallest number that can be written with 3,4,7,0 at a time ?

(Score 1)

Ans.

20. Shibu has 90 notes of rupees 50 each in his hand . How many more rupees 50 notes are required to complete rupees 5000 ?

(Score 1)

Ans.

21. If the time of a clock seen in the mirror is 3.30 . What is the actual time?

(Score 1)

Ans.

22. Complete the pattern.

Who is next ?

28, 39, 50

37, 48, 59

46, 57, 68

— , — , —

(Score 1)

Ans.

23. If 2019 April 2 was Tuesday, on which day was the 17th ?

(Score 1)

Ans.

24. To the Health Center

Registration for Covid vaccination has started through Health Setu App.

First day		Second day	
Senior citizens	Officers	Senior citizens	Officers
572	345	685	308

(a) Total number of registered persons in two days?

(Score 2)

Ans.

(b) Find the day of maximum registration.

(Score 1)

Ans.

(c) Find the category of maximum registration on the second day.

(Score 1)

Ans.

(d) Registration started at 8.15 am on the first day and ended at 6.20 pm due to network failure. If so, what is the time taken for the registration on that day?

(Score 1)

Ans.

Part – E
General Knowledge

Total Score : 10

25. “Freedom is my birthright and I shall have it”. Whose words are these?

(Score 1)

Ans.

26. The word ‘CORONA’ was derived from which language ?

(Score 1)

Ans.

27. The chairman of Indian Space Research Organization (ISRO).

(Score 1)

Ans.

28. The diabetes prevention programme among children is?

(Score 1)

Ans.

29. For which sport India got Olympic gold for the first time?

(Score 1)

Ans.

30. The disease caused by the deficiency of Vitamin C ?

(Score 1)

Ans.

31. Government of kerala’s highest award in Literature ?

(Score 1)

Ans.

32. Who wrote “Geethanjali” ?

(Score 1)

Ans.

33. Which planet is known as 'Red Planet'? (Score 1)

Ans.

34. Name the solid state of water? (Score 1)

Ans.

എൽ .എസ്.എസ്. മാതൃക പരീക്ഷ 2
ജില്ലാ വിദ്യാഭ്യാസ പരിശീലന കേന്ദ്രം തൃശ്ശൂർ
2021

പാർട്ട് - എ
ഉത്തരസൂചിക - മലയാളം

ക്രമ നമ്പർ	ഉത്തരം	സ്കോർ
1	ചെറുശ്ശേരി	1
2	സുഗതകുമാരി	1
3	(c) ശശാങ്കൻ	1
4	(d) നല്ല + കാലം	1
5	(c) അത്താഴം ലഘുവായിരിക്കണം	1
6	<p>1. പഴയകാലത്ത് ഭാരം അളക്കാൻ ഉപയോഗിച്ചിരുന്ന ഒരു അളവുപകരണമാണ് വെള്ളിക്കോൽ.</p> <p>2. കച്ചവടക്കാരൻ വീടുകളിൽ വന്നാണ് കച്ചവടം നടത്തിയിരുന്നത്.</p> <p>3. വാണിഭം</p> <p>4. കൊടു നടക്കാൻ സൗകര്യപ്രദമായ ഉപകരണമായതുകൊണ്ട്.</p> <p>5. മികച്ച വെള്ളിക്കോലുകൾ കൂടുതൽ സ്ഥിരവും ദീർഘകാലത്തേക്ക് കൃത്യതയും ലഭിക്കാൻ ആദ്യ കാലങ്ങളിൽ വെള്ളിക്കോലാണ് പൊതിഞ്ഞിരുന്നത്. അതുകൊണ്ട് വെള്ളിക്കോൽ എന്ന പേര് വന്നത്.</p>	<p>1</p> <p>1</p> <p>1</p> <p>1</p> <p>1</p>

PART B**ENGLISH**

SL NO	Answer Key	Mark distribution
7	GARDENING hint : Unit 1 – seed of Truth	SCORE : 1
8	GAZING hint : Unit 2 – Paper boat	SCORE : 1
9	NIGHTINGALE hint : Unit 3 – LANGUAGE OF BIRDS	SCORE : 1
10	RAINING hint : Unit 3 – LANGUAGE OF BIRDS	SCORE : 1
11	Anna gently launched her boat. hint : Unit 2 Paper Boat	SCORE : 1
12	a) <ul style="list-style-type: none"> ➤ Proper sentence construction. ➤ Conveying ideas using suitable words. ➤ Relevant context related to the situation. b) Write the name of one animal. c) Use appropriate word.	SCORE : 1 SCORE : 1 SCORE : 1 (Total = 1+1+1 = 3) SCORE : 1 SCORE : 1 (Total = 1+1+3 = 5)

Part – C**EVS**

SL. No	Answer Key	Score
13	b) Sun – moon – earth	1
14	d) Quit India Movement	1
15	c) Tamarind tree, Teak tree, Jack tree, Mango tree	1
16	a) Ottanthullal	1
17	Picture A	1

a)

(Score : 3)

Champan Satyagraha	Ahmedabad textile mill strike
i) The first struggle for peasants led by Gandhiji. ii) To solve the miseries of peasants who cultivate Indigo.	i) The struggle led by Gandhiji in 1918. ii) The struggle to increase the wages of labourers.

- If writes the name of both satyagrahas correctly. (score 1)
- If writes two features of any one satyagraha correctly. (score 1)
- If writes two features of second satyagraha correctly. (score 1)
- If writes General Dyer correctly. (score 1)
- If writes January 9 correctly. (score 1)

Part – D

Maths

SI NO	Answer Key	Score																												
19	Large number – 7430 Small number – 3047 The difference – 4383	1																												
20	Just multiply the numbers and add zeros. $5 \times 9 = 45$ $= 4500$ $500 - 4500 = 500$ 50 notes of 10 out of 500.	1																												
21	8:30 Find out with mirror.	1																												
22	55,66,77 In column has 9 digit difference In row has 11 digit difference	1																												
23	<table border="1" style="width: 100%; border-collapse: collapse;"> <thead> <tr> <th>Sun</th> <th>Mon</th> <th>Tue</th> <th>Wed</th> <th>Thu</th> <th>Fri</th> <th>Sat</th> </tr> </thead> <tbody> <tr> <td></td> <td></td> <td>2</td> <td></td> <td></td> <td></td> <td></td> </tr> <tr> <td></td> <td></td> <td>9</td> <td></td> <td></td> <td></td> <td></td> </tr> <tr> <td></td> <td></td> <td>16</td> <td>17</td> <td></td> <td></td> <td></td> </tr> </tbody> </table>	Sun	Mon	Tue	Wed	Thu	Fri	Sat			2							9							16	17				
Sun	Mon	Tue	Wed	Thu	Fri	Sat																								
		2																												
		9																												
		16	17																											
24	(a) First day = $572 + 345 = 917$ Second Day = $685 + 308 = 993$ Total Number = $917 + 993 = 1910$ (b) Second day (Day 2) (c) Senior citizen – 685 (d) 10 hours and 5 minutes	2 1 1																												

	8.15 - 9.00 = 45 minute 9.00 - 12.00 = 3.00 hour 12.00 - 6.20 = <u>6.20</u> 9.65 – 10.05	1
--	---	---

Part – E
General Knowledge

SL No	Answer Key	Score
25	Balagangadhara Tilak	1
26	Latin	1
27	K. Sivan	1
28	Mittai	1
29	Hockey	1
30	Scurvy	1
31	Ezhuthachan Award	1
32	Rabindra Nath Tagore	1
33	Mars	1
34	Ice	1

എൽ.എസ്.എസ് മാതൃകാ ചോദ്യപേപ്പർ 3

2021 മാർച്ച്

മലയാളം

ഒറ്റവാകിൽ ഉത്തരമെഴുതാം.

- 1. ശക്തിയുടെ കവി എന്നറിയപ്പെടുന്നതാരാ? 1 സ്കോർ
- 2. മഞ്ഞുകാലം എന്ന പദത്തിന്റെ പകരം പദം എഴുതുക? 1 സ്കോർ
- 3. ചേർത്തെഴുതുക- അതി + ആഹ്ലാദം 1 സ്കോർ
- 4. പ്രാചീന കവിത്രയത്തിൽപെടാത്ത കവിയാര? 1 സ്കോർ

കുമാരനാശാൻ, കുഞ്ചൻനമ്പ്യാർ, ചെറുശ്ശേരി, എഴുത്തച്ഛൻ

- 5. താഴെ തന്നിരിക്കുന്നത് ആരുടെ കവിതയിലെ വരികളാണ്? 1 സ്കോർ
 പറഞ്ഞു നോക്കുക വെറുതെ,നിങ്ങൾ-
 കൈത്ര കിളിയുടെ പാട്ടറിയാം?
 എത്ര മരത്തിൻ തണലറിയാം?
 എത്ര പുഴയുടെ കുളിരറിയാം?

- 6. കാക്കപ്പുവ്വ്
 നെറ്റിയിൽ ചന്ദനപ്പെട്ടുമായി
 മുറ്റത്തു നിൽക്കുന്ന കൊച്ചുപുവേ
 നിന്നെ ഞാൻ നോവാതെ തൊട്ടിടഭേ
 നിൻമുഖമൊന്നു ഞാൻ കിടഭേ
 അർക്കനെ നോക്കി ചിരിച്ചിടുന്നു
 മുക്കുറ്റിതൻ മുഖം ചെറുയർത്തി
 അൻപിൽ നിവർന്നു വിരിഞ്ഞിടുന്നു
 ശംഖുപുഷ്പത്തിന്റെ നീലനേത്രം
 മോടിയിലാടിക്കിളിപ്പിടുന്നു
 വാടാത്ത മുല്ലയും മല്ലികയും
 ഏഴഴകുള്ള കറുപ്പുമേതോ
 നീലയും ചേരും നിറവുമായി
 നെറ്റിയിൽ ചന്ദനപ്പെട്ടുമായി-
 ഷട്ടു പോലുള്ള കവിളുമായി
 നാണം പുര ചിരിയുമായി
 നീമാത്രമേന്തേ കുനിഞ്ഞു നിൽക്കാൻ ?

സുഗതകുമാരി

കുട്ടുകാരെ, സുഗതകുമാരി ടീച്ചറുടെ 'കാകപ്പുവ' എന്ന കവിത വായിച്ചിട്ടില്ല. . . താഴെ കൊടുത്ത ചോദ്യങ്ങൾക്ക് കവിതയിൽ നിന്ന് ഉത്തരം കെ ത്തു.

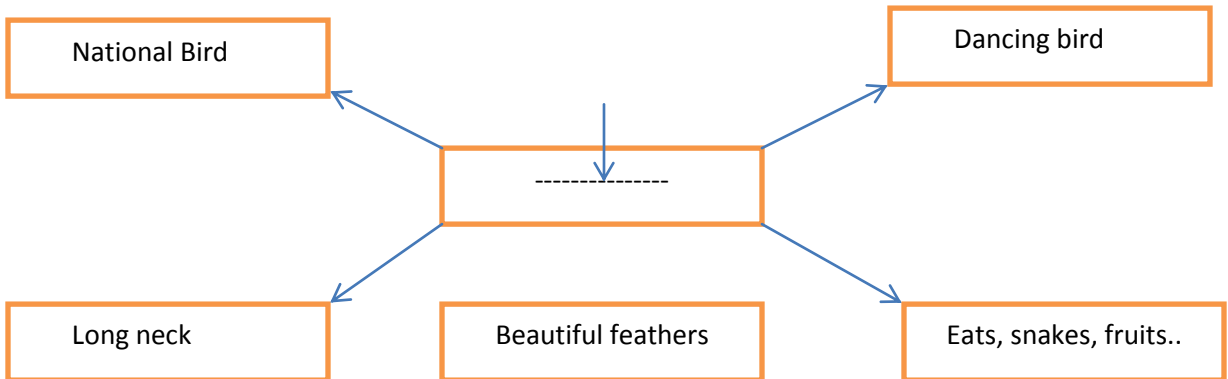
- 1 ആരെ നോക്കിയാണ് കൊച്ചു പുവ് ചിരിക്കുന്നത്? 1 സ്കോർ
- 2 എതു പുവിനാണ് നീലനേത്രങ്ങളുള്ളത്.? 1 സ്കോർ
- 3 ഈ കവിതയ്ക്ക് ആസ്വാദനക്കുറിപ്പ് തയ്യാറാക്കൂ 3 സ്കോർ

L.S.S EXAMINATION MODEL QUESTION PAPER 2021

PART B - ENGLISH

- 7 Choose the correct word from the bracket . Score :1
 The boy floats the Paperboats _____ the stream. (up, down)
8. Write the given words in the alphabetical order Score :1
 (Prize, price, prince, prayer, proclamation)
9. Rearrange the letters to make meaningful word Score :1

L	O	T	H	I	R	E	E	C	P
---	---	---	---	---	---	---	---	---	---
10. Find the odd one. Score :1
 (watering, sowing, sleeping, manuring, reaping)
11. All the birds have _____ Score :1
 (webbed feet, curved beak, wings, talons)
12. Description
 Can you write the name of the bird from the given clues and describe the bird.



Environmental Studies

13. Which is the largest habitat in land? (1score)

14. In kerala where did the salt satyagraha took place ? (1score)

15. To what category does the root of Ramacha belongs? (1score)

16. Who is the freedom fighter , known as Mobile library? (1score)

17. Find out the time taken for Rotation and Revolution respectively from the following? (1score)

- A. 24 hours, 28 days
- B. $365 \frac{1}{4}$ hours, 28 days
- C. 24 hours, $365 \frac{1}{4}$ days
- D. $365 \frac{1}{4}$ days, 24 hours

18. **UP ABOVE THE SKY**

India's artificial satellite EDUSAT is in the orbit

Mangalayan completed five years successfully

India's great jump in the field of space mission

(1score)

- A. What are the uses we get through these artificial satellite? Write down.
- B. Draw the picture of the new moon day and full moon day and explain it?

MATHEMATICS

TOTAL SCORE 10

19. 1ST JANUARY 2016 IS THURSDAY . what day is 1st march 2016 ? (score 1)

20 . The digits in a cars number are four consecutive numbers . the sum of the digit in thousand and ten place is 10 . can you find out the cars number ?

21. Complete the pattern :-

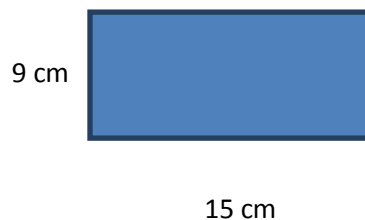
2928 , 2837 , 2746 , __ , __ (score 1)

22. Raju works in a factory . He starts his duty at 7 am & ends at 2.30 pm .
He takes 45 minutes break in between this time . Then what is his actual duty time ?

(score 1)

23. How many hundreds are added to 700 , to get 7000 ? (score 1)

24. Look at this figure :



(a) Find out the perimeter ? (score 1)

(b) What will be the length of the side of a square which has the same perimeter as that of the above rectangle ? (score 1)

(c) How many squares can be cut from the rectangle with having 3 cm for each side ? (score 1)

(d) If the length is doubled what will be the difference in perimeter of the new rectangle & the original one ? (score 2)

GENERAL KNOWLEDGE

Total score –10

25. Wicket is associated with which game ?
26. What is the national sport of india ?
27. who is Hockey wizard ?
28. what is the full name of Akkitham?
29. . Which is the largest desert in India?
30. Which is the longest river in India?
31. In which district is the Kerala Kalamandalam located?
32. whose autobiography is “Kanneerum Kinavum”?
33. Who is known as Netaji?
34. who first set foot on the moon?

ഉത്തര സൂചിക

എൽ.എസ്.എസ് മാതൃകാ ചോദ്യപേപ്പർ 2021 മാർച്ച്

മലയാളം

1. ഇടശ്ശേരി ഗോവിന്ദൻ നായർ
2. ഹേമന്തം
3. അത്യാഹ്ലാദം
4. കുമാരനാശാൻ
5. പി.മധുസൂദനൻ നായർ
6. .
 1. അർക്കനെ നോക്കിയാണ് കൊച്ചുപുവ് ചിരിക്കുന്നത്
 2. ശംഖു പുഷ്പത്തിനാണ് നീലനേത്രമുള്ളത്.

7. സൂചകങ്ങൾ

കവി പരിചയം

ആശയം

ഇഷ്ടപ്പെട്ട വരികൾ

പ്രയോഗ ഭംഗി, ശബ്ദ ഭംഗി

അഭിപ്രായം രേഖപ്പെടുത്തൽ

PART B - ENGLISH

7. Down
8. Prayer, Price, Prince, Prize, proclamation
9. Helicopter
10. sleeping
11. Wings
12. Peacock

Peacock is our national bird. It's feathers are very beautiful. It has long neck. It starts dancing when it sees dark clouds, in the sky, peacock eats snakes, fruits, grains, seeds, and worms.

Environmental Studies

Part-C

Answer key

13. Forest

14. Payyannur

15. Fibrous root system

16. Bhagat Singh

17. (1) 24 hours, 365 $\frac{1}{4}$ days

18. (A) Communication

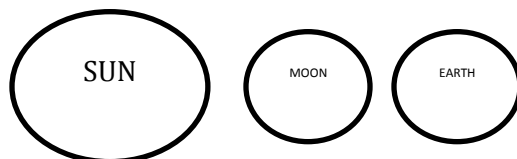
(1 mark)

Weather forecasting

Transportation

Education

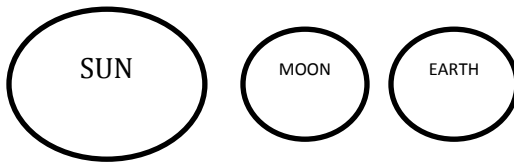
(B) 1. New moon day



When the part of the moon that does not get sunlight faces the earth. This day is called new moon day (Amavasya)

2. Full moon day

(Each one 2 marks)



The day on which the illuminated part of the moon is fully visible from the earth is called full moon day (Pournami)

Code 05 wky

SET A

MATHS

19. Monday
20. 4567
21. 2655 , 2564
22. 6 hours 45 minutes
23. 63 hundreds
- 24 (a) 48 cm
- (b) 12 cm
- (c) 15
- (d) 30 cm

GENERAL KNOWLEDGE

25. Cricket
26. Hockey
27. Dhyanchand
28. .Akkitham Achuthan Namboothiri

29. Thar desert

30. Ganga

31. Thrissur

32. .V T Batathiripad

33. Subash Chandra Boss

34. .Neel Amstrong

എൽ.എസ്.എസ് മാതൃകാ ചോദ്യപേപ്പർ 4

പാർട്ട് എ

മലയാളം

സമയം 25 മിനിറ്റ്

പത്തുമാർക്ക്

- ഒന്നു മുതൽ ആറു വരെ ചോദ്യങ്ങളാണ് മലയാളത്തിൽ ഉൾപ്പെടുത്തിയിട്ടുള്ളത്.
- ഓരോ ചോദ്യത്തിന് നേരെയും സ്കോർ രേഖപ്പെടുത്തിയിട്ടുണ്ട്.
- എല്ലാ ചോദ്യത്തിനും ചെദ്യപേപ്പറിൽനൽകിയിട്ടുള്ള സ്ഥലത്ത് ഉത്തരം എഴുതേണ്ടതാണ്.

1. ഏതു രാജാവിന്റെ ആജ്ഞ പ്രകാരം ആണ് ചെറുശ്ശേരി കൃഷ്ണഗാഥ എഴുതിയത്? 1 മാർക്ക്
2. നെഹ്റു ട്രോഫി വള്ളംകളി ആദ്യം ഏതു പേരിലാണ് അറിയപ്പെട്ടിരുന്നത്? 1 മാർക്ക്
3. ബീർബലിന്റെ യഥാർത്ഥ പേരെന്ത്? 1 മാർക്ക്
4. മഞ്ഞപ്പാവട എന്ന പുസ്തകം എഴുതിയതാരാണ്? 1 മാർക്ക്
5. ശരിയായ പദം ഏത്? 1 മാർക്ക്
അഞ്ചിതം അഞ്ജിതം
6. ശ്രീ. വള്ളത്തോൾ നാരായണമേനോന്റെ ജീവിതവുമായി ബന്ധപ്പെട്ട വിവരങ്ങളാണ് തന്നിട്ടുള്ളത്. അദ്ദേഹത്തിന്റെ ജീവചരിത്ര കുറിപ്പ് തയ്യാറാക്കൂ 5 മാർക്ക്

വള്ളത്തോൾ നാരായണമേനോൻ
 മാതാപിതാക്കൾ ... കുട്ടിപ്പാറുവമ്മ, മല്ലിശ്ശേരി ദാമോദരൻ ഇളയത്
 ജനനം :1878ഒക്ടോബർ 16, തിരുരിനടുത്ത് ചെന്നര വില്ലേജ് മരണം :1958മാർച്ച് 13
 കേരള കലാമണ്ഡലം സ്ഥാപകൻ ആധുനിക കവിത്രയത്തിൽ ഒരാൾ
പ്രധാന കൃതികൾ: ശിക്ഷണവും മകനും, അച്ഛനും മകളും. സാഹിത്യ മഞ്ജുരി, കൊച്ചുസീത, ബധിര
വിലാപം, മഗ്ദലനമറിയം. 1954ൽ പദ്മഭൂഷൻ പുരസ്കാരം

L S S Model Question Paper 2021

ENGLISH

(PART-1) (PART-2)

Total score –10

- Write the answers to the questions in the space provided in the questions paper.
 - The score for each question is give against it
 - Answer all questions
-

7. Rearrange the letters given below to get a meaningful word and complete the sentence given below (1score)

e	y	d	n	a	n	o
---	---	---	---	---	---	---

Ans. The king of the country was very much _____

8. Choose the odd one (1score)

Digging, Manuaring ,Climbing, Reaping

9. Answer the riddle given below (1score)

I can jump

You can see me near ponds and fields

I can live both on land and in water

Who am I ?

10. Fill in the blanks selecting suitable prepositions From the brackets below.(1score)

Anna pushed the paper boat _____ a stream (into,on,in)

11. Rearrange the given words to form meaningful sentences (1score)

The/ Pingala/ But/ Sprout/ it/ Didn't/ Sowed/ Seed

12. Read the passage carefully and answer the questions given below

India's first Prime Minister is Mr. Jawaharlal Nehru. He was also a great leader and freedom fighter. He was born Allahabad on November 14,1889. He loved children very much, so they call him " Chacha Nehru ". His birthday is celebrated as children's day in our country. Nehru wrote a number of books. His famous work is "The discovery of India" .

Que.1. Who is India's first prime minister (1score)

Ans. _____

Que.2. When was Nehru born? (1score)

Ans. _____

Que.3. Who called him Chacha Nehru? (1score)

Ans. _____

Que.4. Which is his famous work? (1score)

(Answer in a sentence)

Que.5. Give a suitable title to this paragraph.

Ans. _____

ENVIORMENTAL STUDIES

Part - c

Total score –10

-
- All questions should be answered in the space provided in the question paper
 - Question 13 to 18 are included in environmental studies
 - The score is recorded against each questions .
 - All the questions must be answered.
-

13. Find the odd one from the following

(a) Salamander (b) Frog (c) Nutes (d) Crocodile (score 1)

14 . In which part of the plant stored food for germination ? (score 1)

15. Which is the longest migrating bird ? (score 1)

16. what is the study of moon called ? (score 1)

17. Which is the fourth state of matter ? (score1)

18. You have studied about quit India in Indian freedom struggle.

Prepare a brief note on this event which diverts the way of our freedom struggle . (score 5)

Hints

- 1942 Bombay Congress Session
- Do or die
- August 9

Mathematics (EM)

19. .If 1st March 2021 is Monday, what day will be the last day of the same month ?

20. If a bus starts from cimbatore at 21:15 hours and reaches Ernamkulam at 6:00 hours the next day . How many hours will the bus take to travel ?
21. complete the pattern :
7684 , 7584 , 7484 , ---- , -----
22. What is the difference between XL and LX ?
23. . Name the shape with no corners and no sides?
24. Hari went to the market to sell his agricultural products. He sold 45 Kg ask ground for Rs. 32/kg , and 48 kg banana for Rs . 45 / kg.
- (a) How much money did he get ?
- Hari bought fertilisess for Rs. 1235 and grocery for Rs. 870 and returned home. He gave Rs. 300 for the jeep as transpotation cost (b) What amount did he spent ?
- (c) What is the balance amount he had ?

GENERAL KNOWLEDGE

Total score –10

25. The smallest district in Kerala?
26. Who is the first woman IPS officer in Kerala?
27. Who won the Vayalar award 2020?
28. Which is the first plastic free tourist destination in India?
29. How many Loksabha constituencies are there in Kerala?
30. Which was the first state in India to pass the sports bill?
31. Largest airport in Kerala is located at which district?

32. Which Indian state has achieved as the most complete digital state in the field of public education?

33. Which was the last state in India?

34. Which day is celebrated as Vayanadinam ?

ഉത്തരസൂചിക

എൽ.എസ്.എസ് മാതൃകാ ചോദ്യപേപ്പർ മെയ് 2021

പാർട്ട് എ

മലയാളം

1. ഉദയവർമ്മൻ കോലത്തിരി
2. പ്രൈം മിനിസ്റ്റേഴ്സ് ട്രോഫി
3. മഹേഷ് ഭാസ്
4. ഡോക്ടർ കെ ശ്രീകുമാർ
5. അഞ്ചിതം
6. ജീവചരിത്ര കുറിപ്പ് വിലയിരുത്തൽ സൂചകങ്ങൾ
 - ജനനവുമായി ബന്ധപ്പെട്ട വിവരങ്ങൾ (ജനന തീയതി, ജന്മ സ്ഥലം, മാതാപിതാക്കൾ)
 - കൃതികൾ, പുരസ്കാരങ്ങൾ, ലഭ്യമായ മറ്റുവിവരങ്ങൾ
 - മരണവുമായി ബന്ധപ്പെട്ട വിവരങ്ങൾ

ENGLISH

(PART-1) (PART-2)

7. Annoyed
8. Climbing
9. Frog
10. Into
11. Pingala Sowed the seed but it didn't Sprout
12. 1. Jawaharlal Nehru
2. He was born in November 14 1899
3. Children called him Chachaji

4. The discovery of India is his famous work

5. Jawaharlal Nehru / Chacha Nehru

13 . (d) Crocodile

14. cotyledons

15. Arctic turn

16. Celenology

17. Plasma

18. Quit India Movement

- In 1942 Jawaharlal Nehru presented the quit India resolution at the congress session held in Mumbai.
- Gandhiji call for a wide struggle for freedom.
- Do or die slogan of Gandhiji was taken up the people
- Every one including students joined in the struggle .
- We celebrate August 9 as Quit India day
- The word “Quit India “ means “ Quit from India “

(Write any 5 points $5 \times 1 = 5$)

Mathematics

19. Wednesday

20. 8 hours 45 minutes

21. 7384,7284,7184

22. 20

23. Circle

24. (a) 3600 (1440+2160)

(b) 2405 (1235+870+30)

(c) 1195

25. Alappuzha

26. R Sreelakha

27. Ezhacheri Ramachandran

28. Kumarakam

29. 20

30. Kerala
31. Eranakulam
32. Kerala
33. Telangana
34. June 19

എൽ.എസ്.എസ് മാതൃകാ പരീക്ഷ 5

(പേപ്പർ - I) (പാർട്ട് -എ)

മലയാളം

സമയം 25 മിനുട്ട്

ആകെ സ്കോർ 10

- ❖ 1 മുതൽ 5 വരെ ചോദ്യങ്ങൾ ഒബ്ജക്ടീവ് മാതൃകയിലുള്ളതും 6-ാമത്തെ ചോദ്യം വിശദമായി ഉത്തരമെഴുതേണ്ടതാണ്.
- ❖ എല്ലാ ചോദ്യങ്ങൾക്കും ചോദ്യപേപ്പറിൽ നൽകിയിരിക്കുന്ന സ്ഥലത്ത് ഉത്തരമെഴുതേണ്ടതാണ്.

1. വിശപ്പ് എന്ന കഥയുടെ രചയിതാവ് ആര് ?

എ) സുമംഗല

ബി) ഏറ്റുമാനൂർ സോമദാസൻ

സി) ഡോ. കെ ശ്രീകുമാർ

ഡി) കുഞ്ഞുണ്ണിമാസ്റ്റർ

(സ്കോർ 1)

2. ശരിയായ പദമേത് ?

എ) അനുബദ്ധം

ബി) അനുബന്ധം

സി) അനുബന്ദം

ഡി) അനുബന്തം

ഉ.

(സ്കോർ 1)

3. ശരിയായ ജോഡിയേത് ?

എ) കുറ്റിപ്പെൻസിൽ - ശ്രീനാരായണഗുരു

ബി) ഉപ്പ് - കുഞ്ചൻനമ്പ്യാർ

സി) മഞ്ഞുതുള്ളി - നിത്യചൈതന്യത്തി

ഡി) അനുകമ്പാദശകം - കുഞ്ഞുണ്ണിമാസ്റ്റർ

(സ്കോർ 1)

ഉ.

4. താഴെ പറയുന്ന പദങ്ങളെ അക്ഷരാർത്ഥാക്രമത്തിലാക്കുക ?

ഹർഷം, കാകൻ, നിലാവ്, അനുവാസരം, ശാഖി, മരിക, തുഷാരം, പത്തായം

(സ്കോർ 1)

ഉ.

5. ഭക്ഷണവുമായി ബന്ധപ്പെട്ട ഒരു പഴഞ്ചൊല്ല് എഴുതുക

(സ്കോർ 1)

6. പെയ്തിട്ടും പെയ്തിട്ടും
മതിയാകാതെത്തേ
പേമാരിക്കരിമുകിലേ നീ
നിന്നു ചിണുങ്ങുന്നു
നീയെന്തേ നാട്ടിടവഴിയിൽ
നിന്നു പതുങ്ങുന്നു
നീയെന്തേ പുരയുടെ മുകളിൽ
താളമടിക്കുന്നു
നീ പരതി തെങ്ങോലകളുടെ
തൊങ്ങലുലയ്ക്കുന്നു
നീയൂതി തളിർമാവുകളുടെ
പീലികൊഴിക്കുന്നു
നീയിനിയും പെയ്യാൻ നിന്നാൽ
മാരിക്കരിമുകിലേ
ഞാനെങ്ങനെ പോകും പറയൂ
പള്ളിക്കൂടത്തിൽ

- പി മധുസൂദനൻനായർ

1. കവിതയ്ക്ക് ഉചിതമായ തലക്കെട്ട് നൽകുക

(സ്കോർ 1)

2. 'മുകിൽ' എന്ന വാക്കിന് പകരം വരുന്ന പദം എഴുതുക

(സ്കോർ 1)

3. കവിത നിങ്ങൾക്കിഷ്ടമായില്ലേ ? ഇതിന് ഒരു ആസ്വാദനകുറിപ്പ് തയ്യാറാക്കാമോ ?

(സ്കോർ 3)

(Paper– I) (Part –B)
English

Total Score : 10

7. I am an old banyan tree. I am living near the shore of a (Score 1)

S		R			M
---	--	---	--	--	---

Answer.

8. Rearrange the letters to get a meaningful word. (Score 1)

K	D	O	G	N	I	M
---	---	---	---	---	---	---

Answer.

9. Can you solve the given riddle?

(Score 1)

“I am a four letter word.
Mother bird lays eggs in me.
Little birds are safe in me.
Who am I ? ”

Answer.

10. Rearrange the Sentence

(Score 1)

Vidyadhara/ a lot of/ The king/ time/ his garden/ tending/ spent.

Answer.

11. Find the odd one out.

(Score 1)

(Planting, Watering, Reaping, Roasting, Sowing)

Answer.

12. a) Describe the Picture

(Score 3)



Answer.

b) Add more lines

(Score 2)

I am an old banyan tree

As you can see

I am living near the shore

As you can see

.....

.....

.....

.....

(shade, shelter, fire wood)

- ❖ Questions from 13 to 18 are included in EVS Section.
- ❖ Score is recorded against each question .
- ❖ Answer all the questions in the space provided.

13. Why do the leaves of Water lily and Lotus float on the surface of the water ?

(Score 1)

Answer.

14. Identify the bird from the features ?

- a) Only bird that has two toes on each foot.
- b) A bird that cannot fly.
- c) A bird that hides its head in the ground when it seems enemies.

(Score 1)

Answer.

15. The phenomenon in which Moon come closer to the Earth is called _____

(Score 1)

Answer.

16.

water droplets appear on outside of the glass Why?

Answer.

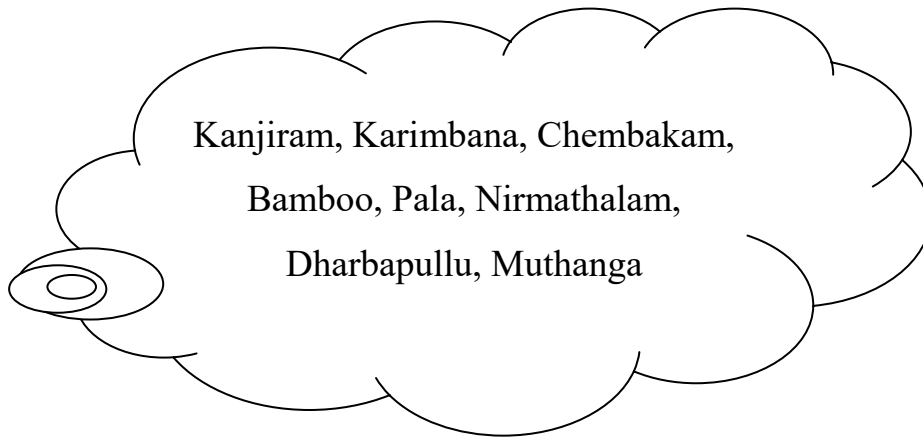
17. The following are statesmens to which struggle.

- i) Boycott foreign clothes.
- ii) Propagate Hindi language.
- iii) Avoid liquor.

(Score 1)

Answer.

18. The following are the plants found. when the teacher and children visited sacred groove as part of Green festival.



a) Classify the plants.

(Score 3)

-----	-----
	-

b) Make a note by comparing coconut and teak leaves?

(Score 2)

Answer.

c) What happens to the cotyledons when the plants grow? Why?

(Score 1)

Answer.

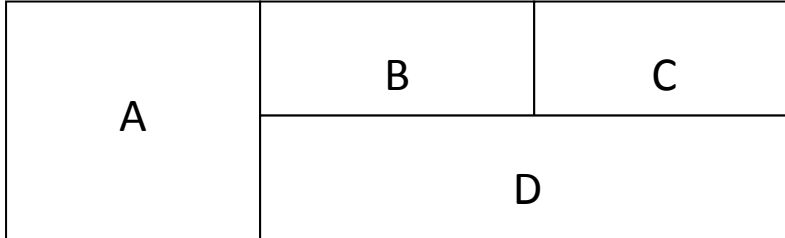
23. Soumya Travelled 4 hours 40 minutes in a bus and reached Ernakulam at 2.20 PM. Then at what time did Soumya start the Journey?

(Score 1)

Answer.

24.

(Score 1)



A is a Square and B,C,D are Rectangles. Perimeter of A is 32 cm. Length of D is double the side of A. B and C are equal rectangles in which length of C is half of D and Breadth of C is half of A.

a) Find the side of the square A.

(Score 1)

Answer.

b) Find the length of the rectangle D.

(Score 1)

Answer.

c) Find the perimeter of rectangle C.

(Score 1)

Answer.

d) Find the total perimeter of the rectangles B,C and D.

(Score 1)

Answer.

e) Find the perimeter of the largest rectangle.

(Score 1)

Answer.

(Paper– I) (Part –E)
General Knowledge

25. The World’s first complete educational satellite.

(Score 1)

- A. Edusat
B. Victers
C. Geosat
D. Chandrayan

Answer.

26. Who wrote the official language pledge of Kerala which starts as
എന്റെ ആകാശമാണ്...” (“My language is my Home, My Sky.”)

“എന്റെ ഭാഷ എന്റെ വീടാണ്,

(Score 1)

- A. O.N.V Kurup
B. M.T Vasudevan Nair
C. V Madhusoodhanan
D. Murukan Kattakkada

Answer.

27. By what name are the classes broadcast on the Kite Victers channel for public
school children ?

(Score 1)

- A. Kilikonjal
B. First bell
C. Whiteboard
D. Rasakkootu

Answer.

28. Who won the Vayalar award 2020 ?

(Score 1)

A. Ezhachery Ramachandran

B. M.T Vasudevan Nair

C. T Padmanabhan

D. Akkitham

Answer.

29. The 'Jnanapeedam' Award associated with _____

(Score 1)

A. Literature

B. Health

C. Sports

D. Cinema

Answer.

30. Who wrote the story of "Oru Kudayum Kunjupengalum"

(Score 1)

Answer.

31. The virus that causes Covid -19 disease?

(Score 1)

Answer.

32. Ozone day - _____

(Score 1)

Answer.

33. Kerala National park where Lion-tailed Monkey is seen?

(Score 1)

Answer.

34. A Project started by the sports department to identify and train sports talents from Children ?

(Score 1)

Answer.

**ഉത്തരസൂചിക
മലയാളം**

- 1. ഡോ.കെ.ശ്രീകുമാർ
- 2. അനുബന്ധം
- 3. മഞ്ഞുതുള്ളി - നിത്യചൈതന്യത്തി
- 4. അനുവാസരം, കാകൻ, തുഷാരം, നിലാവ്, പത്തായം, മരിക, ശാഖി, ഹർഷം
- 5. ഭക്ഷണവുമായി ബന്ധപ്പെട്ട ഏതെങ്കിലും പഴഞ്ചൊല്ല്

ഉദാ: അത്താഴം അത്തിപ്പുഴത്തോളം

അന്നബലം പ്രാണബലം

6. കവിതയുടെ ആശയത്തിനു

ഭയാജ്ഞിച്ച് തലകെട്ട്

മുകിൽ - മോലം

ആസ്വാദനക്കുറിപ്പ്.

സൂചകങ്ങൾ

കവിപരിചയം

ആശയം

രേഖീകരണം

പ്രയോഗരണം

സ്വന്തം അഭിപ്രായം

(Paper– I) (Part –B)
English

Total Score : 10

7. STREAM (Score 1)

8. KINGDOM (Score 1)

9. Nest (Score 1)

10. The king Vidyadhara spent a lot of time tending his garden. (Score 1)

11. Roasting (Score 1)

12. a)

❖ Using appropriate vocabulary (Score 1)

❖ Proper sequence of sentences (Score 1)

❖ Using Meaningful sentences (Score 1)

b)

❖ Keeps the rhythm (Score 1)

❖ Follows the pattern (Score 1)

(Paper– I) (Part –C)
EVS

Total Score : 10

13. Contains air sacks

14. Ostrich

15. Super moon

16. water vapour in the air cools and becomes water droplets

17. Non co-operation movement

18. a)

Taproot system	Fibrous root system
1. Kanjiram	1. Karimbana
2. Chembakam	2. Bamboo
3. Pala	3. Darba grass
4. Neermathalam	4. Muthanga

- b) The leaves which has parallel venation can easily tear.
- c) The plant uses the food in the cotyledons. So it shrink and decrease
in size

(Paper– I) (Part –D)
Mathematics

Total Score : 10

Answer Key

- | | |
|-----------------|---|
| 19. Friday | 1 |
| 20. MMXXI | 1 |
| 21. 59 | 1 |
| 22. 49 Hundreds | 1 |
| 115 Tens | |
| 4 Ones | |
| 23. 9.40 AM | 1 |
| 24. a) 8 CM | 1 |
| b) 16 CM | 1 |
| c) 24 CM | 1 |
| d) 48 CM | 1 |
| e) 64 CM | 1 |

(Paper– I) (Part –E)
General Knowledge

Total Score : 10

Answer Key

25. Edusat
26. M.T Vasudevan Nair
27. First bell
28. Ezhachery Ramachandran
29. Literature

30. Muttathu Varkey
31. Novel Corona Virus
32. September 16
33. Silent Valley
34. Kickoff

മലയാളം

മാർക്ക് : 10

1. ചില കവിതകളിലെ വരികളും കവികളുടെ പേരുമാണ് താഴെ കൊടുത്തിരിക്കുന്നത്. ഇവയിൽ ശരിയായ ജോഡി എത്? (1)

എ) ഓരോരോ രാവു കുള്ളിർമയേന്നും

ഓണനിലാവിനാലോളം തല്ലും - പി കുഞ്ഞിരാമൻ നായർ

ബി) ചിന്നും വെൺമുകിൽ കേസരം പോലെ

മിന്നും ചിങ്ങത്തെക്കാണുവാൻ മേലെ - ഇടപ്പള്ളി രാഘവൻപിള്ള

സി) പൊന്നിൻ കതിർകുലയേന്തി മെല്ലെ

വന്നുപോയ് വന്നുപോയ് ചിങ്ങമാസം - ജി ശങ്കരക്കുറുപ്പ്

ഡി) ഞങ്ങൾ മറന്നുപോയ് പാടുവാൻ ഭേതനുറു-

മന്നത്തെയോണപ്പതു മലർപ്പാട്ടുകൾ - സുഗതകുമാരി

ഉത്തരം:

2. താഴെ പറയുന്ന വാക്കുകൾ അക്ഷരമാല ക്രമത്തിൽ എഴുതുക. (1)

(മരിക, അപാരം, ഘടികാരം, മനം, ഏറ്റം)

ഉത്തരം:

3. അർത്ഥ വ്യത്യാസം എഴുതുക. (1)

എ) വൃദ്ധ = വൃദ്ധി =

ബി) കനിവ് = കിനാവ് =

ഉത്തരം:

4. ചേർത്തെഴുതുക (1)

മണിക്കൂറുകൾ + ഓളം

(മണിക്കൂറുകളോളം, മണിക്കൂറോളം, മണിക്കൂറുകൊളം, മണിക്കൂറുകളോളം)

ഉത്തരം:

5. 'വിളക്കേന്തിയ വനിത' എന്ന് വിശേഷിപ്പിക്കുന്ന സ്ത്രീ രത്നം ആര് ? (1)

(ലതാ മങ്കേഷ്കർ, സരോജിനി നായിഡു, ആനിബസന്റ്, ഫ്ളോറൻസ് നൈറ്റിംഗേൽ)

ഉത്തരം:

6. 1928 ഫെബ്രുവരി 28 നാണ് സർ.സി വി രാമൻ നോബൽ പുരസ്കാരം നേടിയ 'രാമൻ പ്രതിഭാസം' കെ ത്തി യത്. ആ ദിനത്തിന്റെ ഓർമ്മയ്ക്കായി ഫെബ്രുവരി 28 ഇന്ത്യയിൽ ദേശീയ ശാസ്ത്രദിനമായി ആഘോഷിക്കപ്പെടു ന്നു. കുട്ടികളിൽ ശാസ്ത്രാവബോധം വളർത്തുന്നതിന്റെ ഭാഗമായി കേരളത്തിലെ എല്ലാ വിദ്യാലയങ്ങളിലും വിപുലമായ പരിപാടികളാണ് നടത്തിക്കൊ ിരിക്കുന്നത്. ഇതിനോടനുബന്ധിച്ച് ജി എൽ പി എസ് ബാലു ശ്ലേരിയിൽ സംഘടിപ്പിച്ച പരിപാടിയുടെ നോട്ടീസ് താഴെ നൽകിയിരിക്കുന്നു.

ദേശീയ ശാസ്ത്രദിനാചരണം

കാര്യപരിപാടികൾ

പ്രാർത്ഥന : _____

സ്വാഗതം : പ്രധാനാധ്യാപിക

അധ്യക്ഷൻ : പഞ്ചായത്ത് പ്രസിഡന്റ്

ഉദ്ഘാടനം : വാർഡ് മെമ്പർ

നന്ദി : പി ടി എ പ്രസിഡന്റ്

ഉദ്ഘാടന പ്രസംഗത്തിൽ നിന്ന്

- സി വി രാമൻ 1930 ന് നോബൽ സമ്മാനം ലഭിച്ചു.
- ഊർജ്ജ സംരക്ഷണ വിദ്യാലയ പദ്ധതിയുടെ ഭാഗമായി വിദ്യാർത്ഥികൾക്കൊരു സോളാർലാബ്.
- ഈ വർഷത്തെ ശാസ്ത്രദിന വിഷയം 'ശാസ്ത്ര സാങ്കേതിക ക ുപിടുത്തങ്ങൾ വിദ്യാഭ്യാസ മേഖല യിൽ'

എ) ഇന്ത്യയിൽ ദേശീയ ശാസ്ത്രദിനമായി ആഘോഷിക്കുന്നതെന്ന് ?

ഉത്തരം:

ബി) 'വിദ്യാർത്ഥികൾക്കൊരു സോളാർ സ്റ്റുഡി ലാബ്' എത് പദ്ധതിയുടെ ഭാഗമാണ് ?

ഉത്തരം:

സി) ദേശീയ ശാസ്ത്രദിനാചരണത്തിനോടനുബന്ധിച്ച് ജി എൽ പി എസ് ബാലുഭദ്രശ്രീയിൽ നട

ത്തിയ പരിപാടിയുടെ പത്രവാർത്ത തയ്യാറാക്കുക.

ഉത്തരം:

English

7. Identify the character who says the following dialogue in the story 'Seed of Truth'(1)
'Atleast he will know you tried your best'
(King, Pingala's father, Pingala, Messenger)

Answer :

8. Find out the odd one
(1)
(Peeping, Pouncing, Gazing, Watching)

Answer :

9. Rearrange the words to get a meaningful sentence.
(1)
(Sailed, it, down, the stream)

Answer :

10. Fill in the blanks
(1)
Veena decorated her room -----
(bravely, softly, beautifully, loudly)

Answer :

11. Answer the riddle

(1)

I am the leader of the crew

I can command

I have a uniform

Who am I ?

Answer :

12. Picture of a garden



Anna Invites the boy to see her garden. They sing and dance in the garden.

This is my garden

I will plant it with care

Here are the seeds

I'll plant in there

The Sun will shine

The rain will fall

The seeds will sprout

And grow up tall

Answer :

a) Pick out the rhyming words from the poem

(1)

Answer :

b) Can you find out Anna's friend , who is hiding in the box (1)

L	T	E	U	B	F	T	L	R
---	---	---	---	---	---	---	---	---

Answer :

c) Make a description of the picture (3)

Answer :

13. Where is the food stored in a plant for the germination ? (1)
(Leaf, Plumule, Cotyledon, Radicle)

Answer :

14. Pick the odd one out ? (1)
(Ice, stone, wood, fire)

Answer :

15. If the fullmoon is on March 14, then what is the date for the next New Moon day ? (1)
(March 31, April 1, March 28, March 30)

Answer :

16. Why are wind mills built in wide open space ? (1)
(large number of wind mills can be built in wide open space, current distribution can be made easy, Provides strong winds)

Answer :

17. In the following options in which case the ice melts very slowly ? (1)
(In cold water, In hot water, In air, In Thermocol Box)

Answer :

18. Select necessary equipments from the list to conduct the experiments that proves air exerts pressure ? (1)
(Baloon, straw, stone, wood, water, glass , chalk, thread, sellotape)

a) Answer :

- b) Describe the experiment in detail ? (3)

Answer :

c) Write another feature of Air.

(1)

Answer :

Mathematics

19. The bank deposits of Babu and Sabu are given below as Currency Notes.

Currency	No.of Currencies	
	Babu	Sabu
2000	1	2
500	4	4
200	3	2
50	1	3

A) Find out the bank deposits of Babu and Sabu ?

(2)

Answer :

B) Manu deposited 128 more than the sum total deposited by Babu and Sabu. Find out the deposit of Manu ?

(1)

Answer :

- C) Kannan deposited twice the difference of the amount deposited by Babu and Sabu.
Find out the deposit of Kannan? (2)

Answer :

20. How many 3 digit numbers are there?

21. The given table is the part of a calendar. What is the sum of the 9 numbers in the square?

4		

Answer :

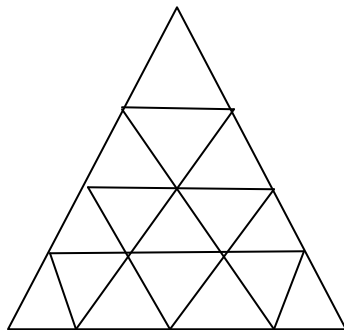
22. 15 students participated in speech competition in the school youth festival. Chest No is given to the 15 students. The Chest No of second student is 1456 what would be the Chest No of the last student ?

Answer :

23. What is the perimeter of the rectangle obtained by halving the width of this rectangle ?

Answer :

24. How many triangles are there in this picture ?



Answer :

General Knowledge

25. Find out the name of the Covid Vaccine developed by India ? (1)
(DPT, COVAXIN, BCG, Covishield)

Answer :

26. Which country is scheduled to take place FIFA world cup 2022 ? (1)
(England, Brazil, Germany, Qatar)

Answer :

27. 'Oru Thai nadam nammukkammakku vendi (1)
Oru Thai nadam kochu makkalkku vendi'
Who wrote these famous lines ?
(Balamaniyyamma, Sugathakumari, Madhavikutty, Lalithambika Antharjanam)

Answer :

28. In 2019 A state of India which has recently become two union territories, Find out its name ? (1)
(Arunachal Pradesh, Goa, Jammu and Kashmir, Chandigarh)

Answer :

29. As a part of Covid -19 Indian Railway developed a low cost ventilator system. What is that ? (1)
(Jeevan, Swabhimana, Santhwanam, Swajeevan)

Answer :

30. Among these which is not the work of Beypore Sultan ? (1)
(Aadujeevitham, Balyakalasakhi, Premalekhanam, Bhoomiyude Avakashikal)

Answer :

31. Which is the first Educational satellite of India ? (1)
(Edu-sat, G-sat, Met-sat, Astro-sat)

Answer :

32. '**Born in Kannur**' , '**An author**', '**Custodian of the mangroves**' which person is associated with these adjectives ? (1)
(Anil Panachooran, Kallen Pokkudan, N K Prasad, K A Rahman)

Answer :

33. Which of these is an organized action plan launched by the state of Kerala against the Covid – 19 epidemic ? (1)
 (Life mission, Ayush mission, Break the chain, Haritha Keralam)

Answer :

34. Who is the present Reserve Bank Governor ? (1)
 (Sunil Arora, Arvind Bobde, Shaktikanta Das, Ram Nath Kovind)

Answer :

ഉത്തരസൂചിക

- | | |
|---|---|
| 1) ഞങ്ങൾ മരണുപോയ് പാടുവാൻ ഭേദമില്ല | 1 |
| മനത്തെയോണപ്പതു മലർപ്പാട്ടുകൾ - സുഗതകുമാരി | |
| 2) അപാരം, ഏറ്റം, ഘടികാരം, മനം, മരിക | 1 |
| 3) വൃദ്ധ = വയോധിക, വയസ്സായ സ്ത്രീ | 1 |
| വൃദ്ധി = വളർച്ച | |
| കനിവ് = ദയ | |
| കിനാവ് = സ്വപ്നം | |
| 4) മണിക്കൂറുകളോളം | 1 |
| 5) ഫ്ലോറൻസ് നൈറ്റിംഗേൽ | 1 |
| 6) | |
| എ) ഫെബ്രുവരി 28 | 1 |
| ബി) ഉൾക്കൊള്ള സംരക്ഷണ വിദ്യാലയ പദ്ധതി | 1 |
| സി) സൂചകങ്ങൾ : പത്രവാർത്ത | 3 |
-
- | |
|----------------------------------|
| 1) അനുയോജ്യമായ തലക്കെട്ട് |
| 2) സ്ഥലം, തീയതി, സംഭവം തുടങ്ങിയവ |
| 3) ആശയവ്യക്തത |
| 4) അനുയോജ്യമായ ഭാഷ |

7. Pingala's Father (1)
8. Pouncing (1)
9. It sailed down the stream (1)
10. Beautifully (1)
11. CAPTAIN (1)
12. A) care there (1)
 Fall tall
- B) Butterfly (1)
- C) a. Making 5/4 relevant sentences (3)
 b. Making 3/2 relevant sentences (2)
 c. Making 1 relevant sentence (1)
13. Cotyledon (1)
14. Sun (1)
15. March 28 (1)
16. Provides strong winds (1)
17. In thermocol Box (1)
18. A) Thread, Straw, Balloon, Cellotape, Scissors (1)
- B) Pass a long thread through a straw piece. Tie both ends of the thread tightly to two poles of the straw. Blow air into a balloon and fix its middle part to the straw using Cellotape. Bring the balloon to the lower end of the thread and release it.
 Balloon moves like a rocket (3)
- C)
- The air needs space to be located.
 - The air can be pressurized.
19. A) Babu's deposit - Rs. 4650 (2)
 Sabu's deposit - Rs. 6550
- B) Manu's deposit - Babu + Sabu + 128 = 11328/ 1
- C) Kannan's deposit - (Sabu – Babu) 2 (2)
 - 1900 x 2 = 3800/
20. 900 (1)
21. 108 (1)
22. 1469 (1)

23. 30 cm (1)
24. 27 (1)

25. COVAXIN (1)
26. Qatar (1)
27. Sugathakumari (1)
28. Jammu and Kashmir (1)
29. Jeevan (1)
30. Aadujeevitham (1)
31. Edu-sat
32. Kallen Pokkudan
33. Break the Chain
34. Shaktikanta Das

(പേപ്പർ - I) (പാർട്ട് -എ)
മലയാളം

- ❖ 1 മുതൽ 5 വരെ ചോദ്യങ്ങൾ ഒബ്ജക്ടീവ് മാതൃകയിലുള്ളതും 6-ാമത്തെ ചോദ്യം വിശദമായി ഉത്തരമെഴുതേണ്ടതാണ്.
- ❖ എല്ലാ ചോദ്യങ്ങൾക്കും ചോദ്യപേപ്പറിൽ നൽകിയിരിക്കുന്ന സ്ഥലത്ത് ഉത്തരമെഴുതേണ്ടതാണ്.

1. പ്രാചീന കവിത്രയത്തിൽ പെടാത്തത് എത് ?

- എ) ചെറുശ്ശേരി
- ബി) ഉള്ളൂർ
- സി) കുഞ്ചൻ നമ്പ്യാർ
- ഡി) എഴുത്തച്ഛൻ

(സ്കോർ 1)

2. താഴെ കൊടുത്തിട്ടുള്ളവയിൽ നിന്ന് ചക്കയുമായി ബന്ധപ്പെട്ട കടകഥ കണ്ടെത്തുക.

- എ) അകമില്ല പുറമില്ല ഞെട്ടില്ലാ വട്ടയില
- ബി) ചുള്ളിക്കൊമ്പിൽ മഞ്ഞകിളി
- സി) ചെടിയിൽ കായ, കായയിൽ ചെടി
- ഡി) അച്ഛൻ മുളളൻ, അമ്മ മിനു മിനു, മോൾ മണിമണി

ഉ.

(സ്കോർ 1)

3. 'വിളക്കേന്തിയ വനിത' എന്നറിയപ്പെടുന്നത് ആര് ?

(സ്കോർ 1)

ഉ.

4. "സ്നേഹിക്കയില്ല ഞാൻ നോവുമാത്മാവിനെ

സ്നേഹിച്ചിടാത്തൊരു തത്ത്വശാസ്ത്രത്തെയും "

ഈ വരികൾ ആരുടേതാണ് ?

(സ്കോർ 1)

ഉ.

5 താഴെ കൊടുത്തിരിക്കുന്ന പദങ്ങൾ ചേർത്തെഴുതുക

(സ്കോർ 1)

കുരുന്ന് + ഇല

6. താഴെ കൊടുത്തിരിക്കുന്ന ഗദ്യഭാഗം ശ്രദ്ധാപൂർവ്വം വായിക്കുക. തുടർന്നു വരുന്ന ചോദ്യങ്ങൾക്ക് ഉത്തരമെഴുതുക

ലോകം നേരിടുന്ന പ്രധാന വെല്ലുവിളികളിൽ ഒന്നാണ് പരിസ്ഥിതി പ്രശ്നങ്ങൾ. എല്ലാ രാജ്യത്തും വളരെ ഗൗരവപൂർണ്ണമായി പരിസ്ഥിതി പ്രശ്നങ്ങൾ പഠിക്കുകയും അതിന്റെ വിപത്തുകൾ കുറയ്ക്കാനുള്ള വഴികൾ കണ്ടെത്താനും ശ്രമിച്ചു കൊണ്ടിരിക്കുകയാണ്. ഇന്ന് നമുക്ക് ചുറ്റും കാണുന്ന പാരിസ്ഥിതിക പ്രശ്നങ്ങളെ ഒന്നു വിലയിരുത്തി നോക്കാം. പ്ലാസ്റ്റിക് മാലിന്യങ്ങളുടേയും രാസവസ്തുക്കളുടേയും അശാസ്ത്രീയ സംസ്കരണവും ഉപയോഗവും പരിസ്ഥിതിയെ വിഷമയമാക്കുന്നു. മനുഷ്യന്റെ അനാരോഗ്യകരമായ കടന്നുകയറ്റം പ്രകൃതിയുടെ ശ്വാസകോശങ്ങളായ മരങ്ങളേയും ഒട്ടേറെ ജീവികളേയും നശിപ്പിക്കുമ്പോൾ നമ്മുടെ നിലനില്പ് തന്നെയാണ് ചോദ്യം ചെയ്യപ്പെടുന്നത്. പരിസ്ഥിതി സംരക്ഷണ അവബോധം വളർത്താൻ 1974 മുതൽ ഐക്യരാഷ്ട്രസഭ എല്ലാ വർഷവും ജൂൺ 5 ലോകപരിസ്ഥിതി ദിനമായി ആചരിക്കുന്നു. മരങ്ങളും കാടുകളും സംരക്ഷിക്കുക, വനപ്രദേശങ്ങൾ വിസ്തൃതമാക്കാൻ ശ്രമിക്കുക അതുവഴി ആഗോള പാരിസ്ഥിതിക സന്തുലനവും കാലാവസ്ഥ സുസ്ഥിരതയും ഉറപ്പാക്കുക എന്നതാണ് പരിസ്ഥിതി ദിനാചരണത്തിന്റെ ലക്ഷ്യം.

എ) ലോകപരിസ്ഥിതി ദിനം ആചരിക്കുന്നത് എന്ന് ?

(സ്കോർ 1)

ബി) തരൂ എന്ന വാക്കിന് പകരം ഗദ്യഭാഗത്ത് ഉപയോഗിച്ചിരിക്കുന്ന മറ്റൊരു പദം കണ്ടെത്തി എഴുതുക

(സ്കോർ 1)

സി) പരിസ്ഥിതി ദിനാചരണത്തോടനുബന്ധിച്ച് നിങ്ങളുടെ വിദ്യാലയത്തിൽ അവതരിപ്പിക്കുന്നതിന് ഒരു പ്രസംഗം തയ്യാറാക്കുക

(സ്കോർ 3)

(Paper– I) (Part –B)
English

7. Find the missing letters

(Score 1)

H			E			Y
---	--	--	---	--	--	---

Answer.

8. Find the odd one out.

(Score 1)

[Peeping, Gazing, Watching, Pouncing]

Answer.

9. Rearrange the Sentence

(Score 1)

The/ordered/king/his/stop/trees/men/to/cutting

Answer.

10. Rearrange the letters to get a meaningful word

(Score 1)

Anna said, “That _____ boy, he overturned my boat”

T	N	Y	H	G	U	A
---	---	---	---	---	---	---

Answer.

11. Find out the answer

“I am a four letter word

Water and sunlight ask me to rise

Farmers sow me in their farm

A little plant sleeps in me.

Who am I ?”

(Score 1)

Answer.

12.

a) Write the given words in alphabetical order to make a dictionary

[Palace, Prince, People, Pounce, Poor]

(Score 1)

Answer.

b) Ivan went to the forest and learned the language of birds from the Mother bird. That night he wrote his diary. Can you help him?

(Score 4)

Answer.

Paper I) (Part C)
EVS

13. Recognize the art form ?

(Score 1)

- ❖ Ancient art form in medieval Travancore.
- ❖ The first ceremony is the “katcha kettu”.
- ❖ The art form is associated with harvesting.
- ❖ The main instrument used is ‘Thappu’

Answer.

14. Which of the following is not a feature of Tap root system ?

(Score 1)

- i) The inner part of the stem is more thicker.
- ii) Reticulate Venation
- iii) Parallel Venation
- iv) Dicotyledons

Answer.

15. Which is the slogan exhorted by Gandhiji on Quit India Movement ?

(Score 1)

Answer.

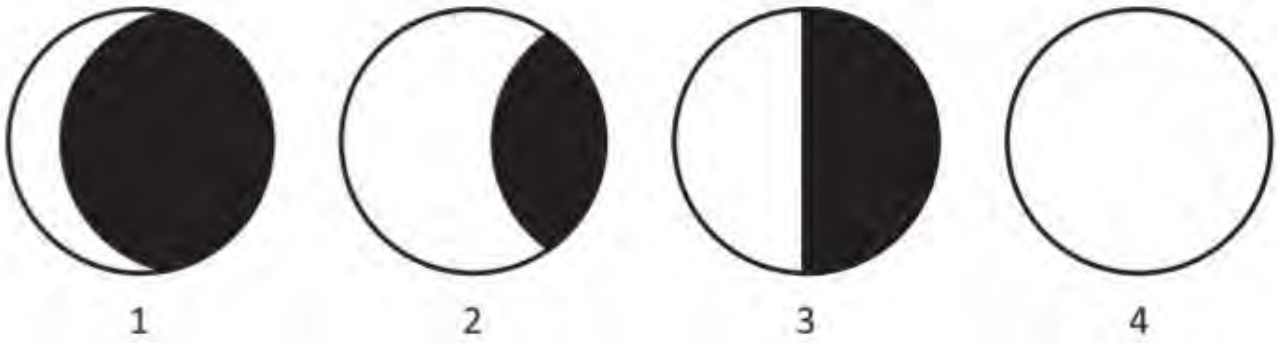
16. Find the odd one out.

(Score 1)

- a) Golden Oriole
- b) Yellow headed Black bird
- c) Arctic tern
- d) Naka Mohan

Answer.

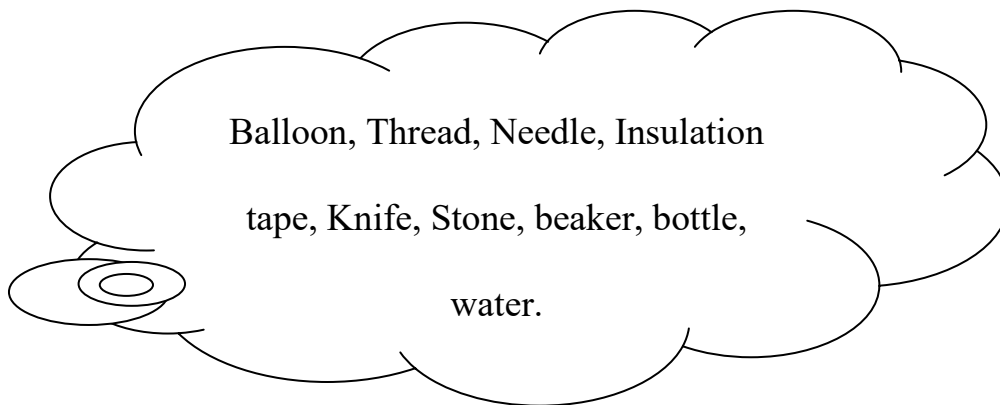
17. The following are the images of the moon being observed on different nights from new moon day to full moon day ? Which category indicates the correct order of the these ?



- a) 3,2,1,4
- b) 4,2,3,1
- c) 4,3,2,1
- d) 1,3,2,4

Answer.

18. As a Science club activity, Aarav and his friends lined up various experimental materials on the table.



What will be the experiment presented by Aarav to prove that air needs space to occupy ?

a) Which of the above test materials needed for this experiment ?

(Score 1)

Answer.

b) Explain the method of experiment? (Score 3)

Answer.

c) What is the conclusion reached by this experiment ?

(Score 1)

Answer.

(Paper I) (Part D)
Mathematics


19. The perimeter of a square is 32 cm. If we cut the square into half what will be the perimeter of one rectangle ?

[16 cm, 24 cm, 30 cm, 48 cm]

(Score 1)

Answer.

20. How many rectangles are there in the figure given below ?



(Score 1)

Answer.

21. The position of Seema in the Assembly line is 14th from the beginning and 16th from the last. How many students are there in the line ?

(Score 1)

Answer.

22. The total price of 1 kg Orange and 1 kg Apple is Rs.184. The cost of Apple is 36 rupees more than the Orange. Then find out the cost of 1 kg Orange ?

(Score 1)

Answer.

23. The Parasuram Express which is to be started at 4.20 AM, departed 1 hour 15 minutes late and travelled 4 hours 10 minutes and reached at Ernakulam. At what time does the Parasuram Express reach at Ernakulam ?

(Score 1)

Answer.

24. The amount received in wages for 4 workers in a farm is given below.

Latha	Karim	Ravi	Lali
Three 500 rupee notes	Two 2000 rupee notes	Sixteen 200 rupee notes	Seven 500 rupee notes
Eleven 200 rupee notes	Eleven 100 rupee notes	Twelve 100 rupee notes	Eight 200 rupee notes
Sixteen 50 rupee notes	Nineteen 50 rupee notes	Eighteen 20 rupee notes	
Thirteen 20 rupee notes.		Twenty nine 10 rupee notes	

- a) How much did each one receive ?

(Score 2)

Answer.

- b) Latha added a few rupees to her wage and deposited Rs. 5000 in the bank. If the deposited amount is in 500 rupee notes, how many 500 rupee notes will be there ?

(Score 1)

Answer.

- c) How much amount did Latha add to her wage to make it 5000 ?

(Score 1)

Answer.

d) How much was the total expense in wages ?

(Score 1)

Answer.

(Paper I) (Part E)
General Knowledge

25. International water day.

(Score 1)

A. March 22

B. September 5

C. October 2

D. June 16

Answer.

26. Which is not associated with Ernakulam District?

(Score 1)

a) Industrial capital of Kerala.

b) The first district to achieve complete literacy.

c) Queen of the Arabian sea.

d) The literal city of Kerala

Answer.

27. Recipient of the 2020 Rajiv Gandhi Khel Ratna award.

(Score 1)

A. Rohit Sharma

B. Sourav Ganguly

C. Virat Kohli

D. M.S Dhoni

Answer.

ഉത്തരസൂചിക
മലയാളം

- | | | |
|----|--|-----|
| 1. | ഉള്ളൂർ | (1) |
| 2. | അച്ഛൻ മുളളൻ, അമ്മ മിനുമിനു, മോൾ മണിമണി | (1) |
| 3. | ഫ്ലോറൻസ് നൈറ്റിംഗേൽ | (1) |
| 4. | വയലാർ | (1) |
| 5. | കുരുനില | (1) |
| 6. | എ) ജൂൺ 5 | (1) |

ബി) മരങ്ങളും കാടുകളും സംരക്ഷിക്കുക വനപ്രദേശം വിസ്തൃതമായും ആഗോളപാരിസ്ഥിതിക സംതുലനവും കാലാവസ്ഥ സുസ്ഥിരതയും ഉറപ്പാക്കുക. (1)

സി) പ്രസംഗം (3)

സൂചകങ്ങൾ

- അഭിസംബോധന
- വ്യക്തമായ ഭാഷ
- ലഘുവാക്യങ്ങൾ
- ആശയങ്ങളുടെ തുടർച്ച
- ഉപസംഹാരം

- | | |
|--|-----------|
| 7. HONESTY | (Score 1) |
| 8. Pouncing | (Score 1) |
| 9. The King ordered his men to stop cutting trees. | (Score 1) |
| 10. NAUGHTY | (Score 1) |
| 11. Seed | (Score 1) |
| 12. a) Palace, People, Poor, Pounce, Prince | (Score 1) |
| b) | |

- ❖ Use of suitable language and expressions (Score 2)
- ❖ Subjective element of the incident and how far it influences the child.
(Score 2)

13. Padayani
 14. iii) Parallel Venation
 15. Do or Die
 16. Yellow headed Black bird
 17. 1,3,2,4
 18. a) Balloon, water, bottle
 b)

Procedure : Take a balloon full of water. Insert the mouth of a empty bottle into the balloon and transfer the water to the bottle. The air in the bottle can be seen entering the balloon.

Observation : the Balloon inflates.

- c) Air needs space to occupy.

(Paper– I) (Part –D)
Mathematics

Total Score : 10

Answer Key

- | | |
|--------------------|---|
| 19. 24 cm | 1 |
| 20. 30 | 1 |
| 21. 29 | 1 |
| 22. Rs.74 | 1 |
| 23. 9.45 AM | 1 |
| 24. | |
| a) Latha – Rs.4760 | 2 |
| Karim – Rs. 6050 | |
| Ravi – Rs.5050 | |
| Lali – Rs. 5100 | |
| b) 10 | 1 |
| c) Rs.240 | 1 |
| d) Rs.20960 | 1 |

(Paper– I) (Part –E)
General Knowledge

Total Score : 10

Answer Key

- | | |
|--------------------------------|---|
| 25. March 22 | 1 |
| 26. The Literal city of Kerala | 1 |
| 27. Rohit Sarma | 1 |
| 28. PUBG | 1 |
| 29. Joseph Mundassery | 1 |
| 30. Vallathol Narayana menon | 1 |
| 31. Kerala | 1 |
| 32. Carbon dioxide | 1 |
| 33. Gaganyan | 1 |
| 34. Kerala Blasters | 1 |

മലയാളം

1. ഉദയവർമ രാജാവിന്റെ കൊട്ടാര സദസ്യനായിരുന്ന കവി ? (1)

ഉത്തരം :

2. കൂട്ടത്തിൽ ചേരാത്തത് എത് ? (1)

(പാൽ, കൗമുദി, ക്ഷീരം, ദുഗ്ധം)

ഉത്തരം :

3. 'എന്റെ പനിനീർച്ചെടി' എന്ന പദ്യഭാഗം എത് കവിതയുടെ ഭാഗമാണ് ? (1)

ഉത്തരം :

4. 'സുമംഗല' എന്ന തൂലികാനാമത്തിൽ അറിയപ്പെടുന്ന കവയത്രി ? (1)

ഉത്തരം :

5. 'കരുതൽ ധനം എടുത്ത് ചെലവഴിക്കരുത്' എന്ന ആശയം വരുന്ന കൃഷിചെല്ലപ്പ് എത് ? (1)

- a) വിത്തുകുത്തി ഉണ്ണരുത്
- b) കാണം വിറ്റും ഓണം ഉണ്ണണം
- c) വിത്താഴം ചെന്നാൽ പത്തായം നിറയും
- d) വിത്തിനൊത്ത വിള

ഉത്തരം :

6. . കനകചിലക കിലുങ്ങികിലുങ്ങി

കാഞ്ചന കാഞ്ചി കുലുങ്ങികുലുങ്ങി

കടമിഴികോണുകളിൽ സ്വപ്നം മയങ്ങി

കതിരുതിർ പുഷ്പഞ്ചിരി ചെഞ്ചു ിൽ തങ്ങി.

ഒഴുകുമുടയാടയിലൊളിയലകൾ ചിന്നി

അഴകൊരുടലാർന്ന പോലങ്ങനെ മിന്നി

മതിമോഹന ശുഭനർത്തനമാടുന്നയിമഹിതേ

മമ മൂന്നിൽ നിന്നു നീ മലയാള കവിതേ!

കാവ്യനർത്തകി.

(ചങ്ങമ്പുഴ കൃഷ്ണപിള്ള)

a) കവിതയിൽ 'ഭംഗി' എന്ന പദത്തിനു പകരം ഉപയോഗിച്ചിരിക്കുന്ന പദം ഏത് ?

(1)

ഉത്തരം :

b) എവിടെയാ സ്വപ്നം മയങ്ങിയത് ?

(1)

ഉത്തരം :

C) ഈ കവിതയ്ക്ക് ആസ്വാദനക്കുറിപ്പ് തയ്യാറാക്കുക ?

(3)

ഉത്തരം :

English

Score -10

7. Find out the word from the given clue. (1)

❖ A place on the coast where ship can be tied up and protected from the bad weather

H					O	
---	--	--	--	--	---	--

8. Choose the correct word. (1)

_____ animals crawl (All/Some)

9. Answer the riddle (1)

I sit on the head, who ruled the country

I have precious stones

Common people can't wear me

Who am I ?

Answer :

10. Write the word opposite in meaning to the word underlined in the space provided. (1)

Anna's aunt started for her office at dawn and returned home at _____

Answer :

11. Rearrange the activities of Cultivation in proper order.
(Reaping, Planting, Sowing, Watering, Manuring, Digging)

Answer :

12. Read the notice given below and answer the questions given below.

<p><u>Health Department</u></p> <p><u>Notice</u></p> <p>Covid Vaccination Camp</p> <p>Venue : Nirmalapuram LP School Auditorium</p> <p>Time : 10 am – 5 pm</p> <p>Date : 27.03.2021</p>
<p>For Senior citizens only</p>

a, Who conducts Covid Vaccination camp ? (1)

Answer :

b. Who are to be Vaccinated in this camp ? (1)

Answer :

c. Anna saw this notice and ran towards her aunt Arundhathi. Write the conversation between Anna and aunt Arundhathi. (3)

Anna :	_____
Arundhathi :	_____
Anna :	_____
Arundhathi :	_____

- 13) Which historical event is celebrated as its 100th anniversary on February 2021 ? (1)
(Salt Satyagraha, Chaurichaura Event, Champaran Satyagraha, Kheda Satyagraha)

Answer:

- 14) Find out the odd one ? (1)
(Salamander, Newt, Electri Ray, Caecilians)

Answer:

- 15) Which bird migrates longest ? (1)
(Golden Oriole, Nakamohan, Arctictern, Valukulukki)

Answer:

- 16) Which is unique classical dance form of Kerala ? (1)

Answer:

- 17) As part of which struggle Gandhiji first came to Kerala ? (1)

Answer:

- 18) Classify the following indications according to the movements of the earth. (3)

- Causing day & night
- Need 365^{1/4} days
- Rotates on its own axis
- Need 24 hours
- It rotates itself and revolves around the sun
- Causing Seasons

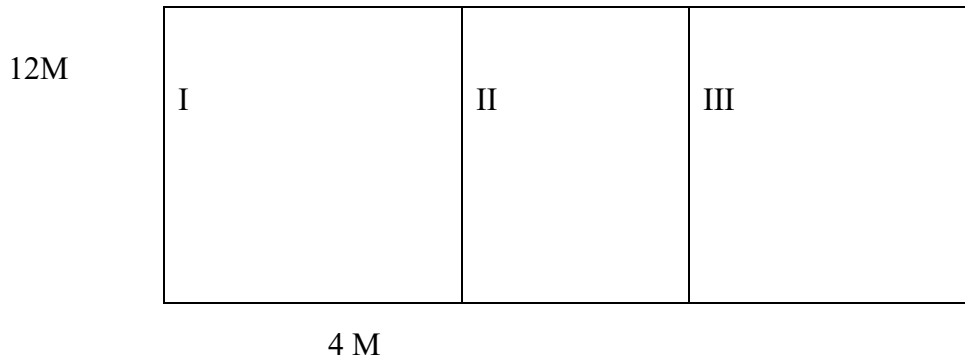
- b) Draw and mark the position of the sun, earth and moon on a fullmoon day.

Answer:

(1)

MATHS

19. Damu's farm is in rectangle shape. It is divided in to 3 parts. Part I and part II are in square shape.



What is the perimeter of Damu's farm?

2

a) How many meters of wire fence is required to fence 5 times about the farm?

1

b) A footpath of 1 meter width is build around the farm. Then what is the perimeter of outside footpath?

1

c) Next year farmer decided to divide the field in to 4 equal parts. The length of one part is 14 meter. What would be the perimeter of a single part ?

1

20. 347, 433,511, 239 from these numbers , identify the numbers, which is the sum of two numbers ?

(1055, 944, 933, 847)

2

21. 2020 Feb 1 is Friday , which day is March 1 ?

(Friday, Saturday, Sunday, Monday)

1

22. The sum of numbers from 1 to 40 ?

1

(400, 800, 500, 300)

answer

23. Find out the Missing one.

1

(CXX, CXXX, CXL, -----)

answer

24. Find out difference between the biggest 4 digit number and biggest 2 digit number.

(9090, 9099, 9909, 9900)

1

Answer:

DISTRICT INSTITUTE OF EDUCATION & TRAINING THRISSUR

LSS MODEL EXAM 2021

GENERAL KNOWLEDGE

25. Who got Ezhuthachan award in 2020 ? 1
(Akkitham, Paul Zacharia, Ezhacherry Ramachandran, Sachidhanadhan)

Answer :

26. Which is the smallest river in Kerala ? 1
(Periyar, Manjeswaram, Puzha, Neyyar, Pamba)

Answer :

27. Which image is appear on new 10 rupee note ? 1
(Mangalyaan, Redfort, Konark sun temple, Ellora caves)

Answer :

28. What is the name of online education programme started in Kerala due to covid – 19 pandemic ? 1
(Snehapoorvam, Aardram mission, First bell, Victers)

Answer :

29. Which mobile tracking tool is used for analyzing covid – 19 pandemic in India ? 1
(Aarogya Setu, Karunya, Aarogyabharat, Aayushman bharat)

Answer :

30. Who is the world famous footballer died on 25th November 2020 due to covid – 19 ? 1
(George Atkinson, Diego Maradona, Michael Durkin, Edwin Starver)

Answer :

31. Identify the book, which is not an autobiography ? 1
(My experiments with truth, The fall of a Sparrow, Letters from a father to his daughter, Wings of Fire)

Answer :

32. Name the Kerala Art form honoured by UNESCO in its heritage list and based on Sanskrit dramas. It's a mixture of Angika, Vachika, Sathwika and Aaharya. 1
(Kathakali, Koodiyattam, Krishnanattam, Mohiniyattam)

Answer :

33. Find out odd one 1
(Jupiter, Saturn, Titan, Mars)

Answer:

34. Who was the first person, used telescope systematically to observe celestial bodies ? 1
(Galileo Galilei, Issac Newton, Copernicus, Robert Hooke)

Answer:

ഉത്തരസൂചിക

1. ചെറുശ്ശേരി (1)
2. കൗമുദി (1)
3. ജന്മവാസന (1)
4. ലീല നമ്പൂതിരിപ്പാട് (1)
5. വിത്തുകുത്തി ഉണ്ണരുത് (1)

ആസ്വാദനക്കുറിപ്പ്

6. 1) അഴക് (1)
- 2) കടമിഴിക്കോണുകളിൽ (1)
- 3) കവി പരിചയം , ആശയം, ശബ്ദഭംഗി, പ്രയോഗഭംഗി, ഇഷ്ടപ്പെട്ട വരികൾ (3)
6. HARBOUR (1)
7. Some (1)
8. Crown (1)
9. Dusk (1)
10. Digging , Sowing, Planting, Watering, Manuring, Reaping (1)
11. A) Health Department (1)
- B) Senior citizens (1)

- 12.
- i) Convey messages properly (1)
 - ii) Continuity (1)
 - iii) Two or Three exchanges (1)

13. Chaurichaura
 14. Electric Ray
 15. Artictern
 16. Mohiniyattam
 17. Non-Corporation Movement

18. A) Rotation
- Causing day and night
 - Rotates on its own axis
 - Need 24 hours

Revolution

- Need $365\frac{1}{4}$ days
- It orbits itself and orbits the sun
- Causing Seasons
-



c) Rakesh sharma

19.

- a) Length - 28 m
- Width - 12 m
- Perimeter - $2(28 + 12) = 80$ m
- b) $80 \times 5 = 400$ m
- c) Length - 30m
- Width - 14 m
- Perimeter - $2(30 + 14) = 88$ m
- d) Length - 14m
- Width - $12 / 2 = 6$ m
- Perimeter - $2(14 + 6) = 40$ m

20. 944
21. Saturday
22. 400
23. CL
24. 9900
25. Paul Zacharia
26. Manjeswarm Puzha
27. Konark Sun temple
28. First bell
29. Aarogya Setu
30. Diego Maradona
31. Letters from a Father to his Daughter
32. Koodiyattam
33. Titan
34. Galileo Galilee

എൽ.എസ്.എസ് മാതൃക ചോദ്യപേപ്പർ 9

പേപ്പർ 1(പാർട്ട് എ)

മലയാളം

- 1 മുതൽ 6 വരെയുള്ള ചോദ്യങ്ങളാണ് മലയാളത്തിൽ ഉൾപ്പെടുത്തിയിരിക്കുന്നത്.
- ഓരോ ചോദ്യത്തിനു നേരെയും സ്കോർ രേഖപ്പെടുത്തിയിട്ടുണ്ട്

1. "പേടിപ്പിച്ചോടിക്കാൻ നോക്കി പുതം

പേടിക്കാതെങ്ങനെ നിന്നാളെ"-

മാതൃസന്ദേശത്തിന്റെ മനോഹരമായ ആവിഷ്കാരമാണ് പുതപ്പാട്ട് കേരളത്തിന് പുതപ്പാട്ട് എന്ന മഹത്തായ സൃഷ്ടി സമ്മാനിച്ച കവിയുടെ മുഴുവൻ പേര് എഴുതുക? (സ്കോർ-1)

2. താഴെ കൊടുത്തിരിക്കുന്ന പഴഞ്ചൊല്ലുകളിൽ വ്യത്യസ്തമായ ആശയം ഉൾക്കൊള്ളുന്നു ചൊല്ലി ഏത്? (സ്കോർ-1)

- * ഉഴുതുണ്ണുന്നവനെ തൊഴുതുണ്ണണം
- * എല്ലു മുറിയെ പണിചെയ്താൽ പല്ലു മുറിയെ തിന്നാം
- * പന്തിക്കുമുന്നിലും പടയ്ക്ക് പിന്നിലും
- * സമ്പത്തുകാലത്തു തൈപത്തു വെച്ചാൽ ആപത്തുകാലത്തു കാപത്തു തിന്നാം

3. ശരിയായ ചിഹ്നങ്ങൾ ചേർത്തെഴുതുക (സ്കോർ-1)

ഇത്ര ബുദ്ധിമതിയായ ഒരു അധ്യാപികയെ ലഭിച്ച നിങ്ങൾ ഭാഗ്യവാനാണ് ഇവർ ആരാണെന്ന് എന്തോടടു പറയില്ലേ

4. കൂട്ടത്തിൽ പെടാത്തത് ഏത്? (സ്കോർ-1)
വസന്തം, ശിശിരം, ശ്രാവണം, വർഷം

5. താഴെ കൊടുത്തിരിക്കുന്ന പദങ്ങൾ അക്ഷരമാലാക്രമത്തിൽ എഴുതുക (സ്കോർ-1)
ഉപായം, പുലരി, ഏറ്റം, ലഘുത്വം, നൗക, ഗതകാലം

6. (എ) കൊറോണകാലം മലയാളികളുടെ ആഹാരശീലം ആരോഗ്യം എന്നീ മേഖലകളിൽ വരുത്തിയ മാറ്റങ്ങൾ, നമ്മുടെ പഴയ നാട്ടുഭക്ഷണ സംസ്കാരവുമായി എത്രമാത്രം ബന്ധപ്പെട്ടിരിക്കുന്നു. ഒരു താരതമ്യം കുറിപ്പ് തയ്യാറാക്കുക. (സ്കോർ-3)

(ബി) നാട്ടുഭക്ഷണത്തിന്റെ മേന്മയുമായി ബന്ധപ്പെട്ട 'താളും തകരയും' എന്ന ലേഖനം ഏത് കൃതിയിൽ നിന്നെടുത്തിട്ടുള്ളതാണ്. (സ്കോർ-1)

(സി) പഴമകാർ ശീലമാക്കിയ ആഹാരരീതി ആരോഗ്യം പ്രദാനം ചെയ്യുന്നതായിരുന്നു. നല്ല ആഹാരശീലവുമായി ബന്ധപ്പെട്ട ഒരു പോസ്റ്റർ വാചകം എഴുതുക. (സ്കോർ-1)

(PART - B)
ENGLISH

Total Score :10

Write the answer to the questions in the space provided in the question paper

Question 7-12 are included in the English section.

The score for each question is given against it

Answer all the questions

7. a) Re-arrange the letters given below to get a meaningful word and complete the sentence. (Score 1)

E	S	N	E	G	R	M	E	S
---	---	---	---	---	---	---	---	---

He carries messages. He is a

- b) Find out the odd one. (Score 1)
(king, prince, princess, kingdom)
- c) Write a description about your favourite bird (Score 1)
8. Make matching pairs (Score 4)
- | | |
|-----------|-------|
| Fetch | Sound |
| Cultivate | dress |
| dirty | wood |
| horrible | crops |
9. I sail in the water (Score 1)
I am colourful
Children make me with paper, who am I?

--

10. Fill in the blanks with the opposite of the underlined word. (Score 1)
Ramu's father started work at and returned home at dusk.

11. Read the following phrase. Name of a bird is hidden in it. (Score 1)
Find it out and write in the space provided
'A gale in the night'

--

12. Complete the sentence with suitable word. (Score 1)
The king ordered his minister to give a
(proclamation, declaration)

(PART - C)

Environmental Science

13. Which one is not an amphibian.
a) Newts b) Salamander c) Fish d) Frog
14. Find out the wrong pair from the following

- a) National animal - Elephant
 b) National song - Bankim chandra chatterji
 c) National flag - Pingali Venkayya
 d) National fruit - Mango
- 15 Which among the following pair is for dicot plant?
 a) Pea bamboo
 b) Paddy green gram
 c) Green gram cashew nut
 d) Coconut beans
- 16 British Government introduced an act which gave them power to arrest and imprison anyone. They wanted imprisonment without trail for any length of time. This act is known as
- 17 Things have different states.
 Solid, liquid, gas and plasma.
 from the following list which one is the plasma state?
 (chair, honey, fire, steam)
- 18 Have you observed the fullmoon day and new moon day?
- a) Draw the position of the earth, the sun, the moon on the full moon day and describe it
 b) 13th January 2021 was a New moon day.
 When will be the next full moon day ?
 c) Which is the first artificial satellite launched by India?

Part-D
MATHEMATICS

-
- Questions 19 to 24 are based on the area of Mathematics.
 - Score for each question is indicated against them.
 - Answer all the questions.
-

19. The sum of 3 consecutive four digit numbers, is an odd number. Which of the following is the first number in the four digit numbers?

(6203, 7609, 5204, 8105)

20. How the next leap year can be written in Roman Number System ?

(MMXXIV, MMXII, MDXIV, MXIV)

21. 2nd June is Sangeetha's birthday. 1st may 2021 is Saturday. Which day of this year is Sangeetha's birthday?

22. Instead of deducting 2019 from a number, it was added and got 8465. From which number 2019 was to be deducted?

23. From the 3 corners of a triangle of sides 14cm each, triangles with sides of 2cm each, are cut off. What will be the perimeter of remaining new figure?

24.The following are the number of covid victims in Kerala in 5 consecutive days of January 2021,as published by the health department.The covid victims on the 4th day was 1075 less than that of 5th day.The number of 3rd day was 1576 less than that of 4th day.The number of 2nd day was 1000 more than that of 5th day.Covid affected on the first day was double the number of third day.The number of covid victims on the 5th day was 5815.

- a) find out the covid victims on each day?
b)Which day is the least number of covid victims?

Part E
GENERAL KNOWLEDGE

Questions 25 to 34 are included in the General Knowledge

The score is recorded against each question

- 25.The Indian cricketer who receive the Rajiv Gandhi Khelratna 2020? (Score 1)
a) Virender seh wag. b) Rohit Sharma
c)Virat Kohli d) Mahendra sing Dhoni
- 26.The scheme implemented by the Government to improve internet access in the state ? (Score 1)
a)K Phone b) I Phone
1) c) V I d)Jio Phone
- 27.The first Indian language which accorded the status of a classical language ? (Score 1)
a) Malayalam b)Telungu
c)Tamil d)Sanskrit
- 28.Which is the most hearing friendly district in Kerala ? (Score 1)
a) Thiruvananthapuram b) Thrissur
c)Palakkad d) Kozhikode
- 29.Who won the Nobel Prize for literature in 2020 ? (Score 1)
a) Louis Gluck b)Peterhand K
c)Robert .B . Wilson. d)Andriya . M .Ghens
- 30.The Minister of Kerala who won the ‘Leader of the year’ award of Vogue Magazine? (Score1)
a) V S Sunilkumar b) A K Balan
c) K K Shylaja d) E Chandrashekharan
31. A mobile application launched by RBI to identify currency notes for visually impaired persons ? (Score 1)
- 32.Who is the youngest mayor of the country ? (Score 1)
- 33.Which day is celebrated as National Kathakali day ? (Score 1)
34. Which record keeps track of the names of endangered species on earth? (Score 1)

ഉത്തരസൂചിക
മലയാളം-2

- | | |
|--|-----------|
| 1.ഇടശ്ശേരി ഭഗവാനന്ദൻ നായർ | (സ്കോർ-1) |
| 2.പന്തിക്കു മുന്നിലും പടയ്ക്കു പിന്നിലും | (സ്കോർ-1) |
| 3."ഇത്ര ബുദ്ധിമതിയായ ഒരു അധ്യാപികയെ ലഭിച്ച നിങ്ങൾ ഭാഗ്യവനാണ്.ഇവർ ആരാണെന്ന് എന്തോടൂ പറയില്ലേ? " | (സ്കോർ-1) |
| 4.ശ്രാവണം | (സ്കോർ-1) |
| 5.ഉപായം,ഏറ്റം,ഗതകാലം,നൗക,പുലരി,ലഘുത്വം | (സ്കോർ-1) |
| 6.(എ) താരതമ്യക്കുറിപ്പ് -സൂചകങ്ങൾ | |
| * വിഷയവുമായി ബന്ധപ്പെട്ട ആശയങ്ങളുടെ സമഗ്രത | |
| * താരതമ്യം ചെയ്ത് സ്വന്തം കാഴ്ചപ്പാട് അവതരിപ്പിച്ചിട്ടു | : |
| * ആശയങ്ങൾ പൂർവ്വപര ബന്ധത്തോടെ അവതരിപ്പിച്ചിട്ടു | : |
| | (സ്കോർ-3) |
| (ബി) കൈയെഴുത്തും തലേലെഴുത്തും | (സ്കോർ-1) |
| (സി) നല്ല ആഹാരശീലവുമായി ബന്ധപ്പെട്ട പോസ്റ്റർ വാചകം | (സ്കോർ-1) |

(PART - B)
ENGLISH

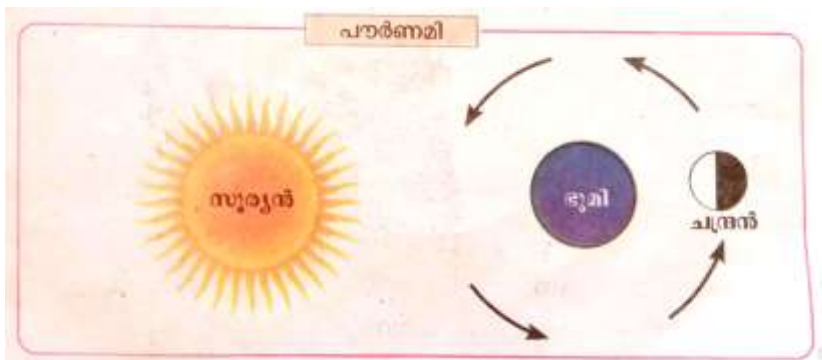
Total Score :10

Answer key

- | | | |
|-----|---|------------|
| 7. | | |
| | a) Messenger | (Score -1) |
| | b) kingdom | (Score -1) |
| | c) Parrot | (Score -3) |
| | <p>My favourite bird is parrot
 It is green in colour.
 It's beak is red.
 It eats nuts and grains
 It can speak very well.
 I like my bird very much</p> | |
| 8. | Fetch wood | (Score -1) |
| | Cultivate crops | |
| | dirty dress | |
| | horrible Sound | |
| 9. | Paper boat | (Score -1) |
| 10. | dawn | (Score -1) |
| 11. | Nightingale | (Score -1) |
| 12. | proclamation | (Score -1) |

(PART -C) ENVIRONMENTAL SCIENCE

- 13 c) Fish (Score -1)
14 a) National animal - Elephant (Score -1)
15 c) Green gram - cashew nut (Score -1)
16 Rowlatt act (Score -1)
- 17 fire (Score -1)



18 a)

In the picture, the sun, the earth and the moon are in a straight line. The part of the moon where sunlight falls faces the earth. The day on which the illuminated part of the moon is fully visible from the earth is called Full Moon Day (Pournami)

- b) January 28 (Score -1)
c) Aryabhata (Score -1)

MATHEMATICS

19. 8949 (score 1)
20. 6 hours 15 minutes (score 1)
21. 4269 (score 1)
22. 75 (score 1)
23. sunday (score 1)
24. a) Length = 40 m
breadth 10 m
Perimeter- $2(l+b)$ (score 1)
 $2(40+10)$
 $2 \times 50 = 100$ m (score 1)
- meters of wire required for 5 lines of fencing = $5 \times 100 = 500$ m (score 1)
- b) 4 squares (score 1)
- c) 25 m (score 1)

General Knowledge

25. Rohit Sharma SCORE-1
26. K Phone SCORE-1
27. Tamil SCORE-1
28. Thiruvananthapuram SCORE-1
29. Louis Gluck SCORE-1
30. K K Shylaja SCORE-1
31. Mani SCORE-1
32. Arya Rajendran SCORE-1
33. October 16 SCORE-1
34. Red data book SCORE-1

എൽ എസ് എസ് മാതൃക പരീക്ഷ - 10

പേജർ 1 (പാർട്ട് എ)

മലയാളം

- 1 മുതൽ 6 വരെയുള്ള ചോദ്യങ്ങളാണ് മലയാളത്തിൽ ഉൾപ്പെടുത്തിയിരിക്കുന്നത്.
- ഓരോ ചോദ്യത്തിനു നേരേയും സ്റ്റോർ രേഖപ്പെടുത്തിയിട്ടുണ്ട്.

1. "അരിയുണ്ടാ പൊരിയുണ്ടാ
അരവയറുണ്ടാലഴലുണ്ടാ"
ഈ വരികൾ ആരുടേതാണ്?

(1)

(കുമാരനാശാൻ, കുഞ്ഞുണ്ണിമാഷ്, വൈലോപ്പിള്ളി, കുഞ്ചൻനമ്പ്യാർ)

2. ഓട്ടൻതുളുപ്പ് എന്ന കലാരൂപത്തെക്കുറിച്ച് ശരിയല്ലാത്ത പ്രസ്താവന ഏത്?
(1)

- ഹാസ്യപ്രധാനമായ കലാരൂപമാണ് തുള്ളൽ.
- സാധാരണക്കാരുടേ കഥകളി എന്നറിയപ്പെടുന്നു.
- കുമാരനാശാനാണ് തുള്ളൽ പ്രസ്ഥാനത്തിന് ഉപജ്ഞാതാവ്.
- തരംഗിണി വൃത്തത്തിലാണ് ഓട്ടൻ തുള്ളൽ കൃതികൾ രചിച്ചിട്ടുള്ളത്.

3. ശരിയല്ലാത്ത പദം കണ്ടെത്തിയെഴുതുക?
(വൃശ്ചികം, സാന്ദ്രത, പാWTrതം, സംസ്കൃതം.)

(1)

4. സൂചനകളിൽ നിന്നും വ്യക്തിയെ തിരിച്ചറിയുക.

(1)

- കൊല്ലം ജില്ലയിലെ ചവറയിൽ ജനിച്ചു.
- അധ്യാപകൻ, കവി, ഗാനരചയിതാവ് എന്നീ നിലകളിൽ പ്രശസ്തൻ.
- 2007 ൽ ജ്ഞാനപീഠപുരസ്കാരം ലഭിച്ചു.
- ഭൂമിക്കൊരു ചരമഗീതം, ഉപ്പ് എന്നിവ പ്രധാന കൃതികളാണ്.

5. ആലപ്പുഴ ജില്ലയിലെ പുനമട കായലിൽ എല്ലാ വർഷവും ആഗസ്റ്റ് മാസത്തിലെ രണ്ടാം ശനിയാഴ്ച നടത്തുന്ന ജലമേളയുടെ ആദ്യകാല പേരെന്ത്?

(1)

6. ഭൂമിയുടെ കൂട.

ഇന്നലെ രാത്രിയൊരിടിവെട്ടിയതി-
നിന്നാദിത്യനുദിയ്ക്കും മുമ്പേ
പാരൊരു വെള്ളിക്കൂടയും നിർത്തി
പത്രാസോടെയിരിക്കുന്നു.
കുണന്നാണിക്കൂടയുടെ പേരിതു
കാണാൻ വളരെ കൗതുകം തന്നെ

ശരിയെന്നാലും കാണുന്നോർക്കൊരു
 ശങ്ക മനസ്സിലുദിച്ചേക്കാം
 ഇത്രപെരുത്തൊരുഭൂലോകത്തി-
 ന്നിചെറുകുടകൊണ്ടെന്താ കാര്യം?
 വെള്ളിക്കുടയാണെന്നാലും ശരി
 കൊള്ളണമല്ലോ മഴ മുഴുവൻ

(അക്കിത്തം അച്യുതൻ നമ്പൂതിരി)

- a) പിരിച്ചെഴുതുക - വെള്ളിക്കുട (1)
- b) സൂര്യൻ എന്ന പദത്തിന് സമാനമായ മറ്റൊരു പദം കവിതയിൽ നിന്ന് കണ്ടെത്തി എഴുതുക. (1)
- c) ഈ കവിതയക്ക് ഒരു ആസ്വാദനക്കുറിപ്പ് തയ്യാറാക്കുക. (3)

(PART - B)
ENGLISH

Write the answer to the questions in the space provided in the question paper
Question 7-12 are included in the English section.
The score for each question is given against it
Answer all the questions

- 7. a) Re-arrange the words to get a meaningful sentence.
 surprised/Ivan/talking/to/see/bird/was/a/ (score-1)
- b) Use suitable preposition.
 The merchant stared.....Ivan in disbelief.
 (at, to) (score-1)
- c) Arrange the events from the story ‘The language of birds’ in a proper order.
 Ivan goes to the forest.
 Ivan learns the language of birds.
 Ivan rules the country well.
 Ivan drives away the crows.
 Ivan marries the princess. (score-3)
- 8. “I gave the best soil and manure to it. But the seed did not grow”, Who said this?
 (The King, Father, Children, Pingala) (score-1)
- 9. Fill in the blanks with suitable preposition.
 Arun jumped.....the river.
 (in, into) (score-1)

10. Fill up the sentences with 'all' or 'some'.
- a)birds have talons.
- b)plants need water to grow. (score-1)
11. I am a five letter word.
The king put me on his head.
I start with 'C'
Who am I? (score-1)
12. Fill in the blanks by using rhyming words.
- a)colour is the symbol of peace.
- b)is flying in the sky.(score-1)

Part C
ENVIRONMENTAL SCIENCE

- Question 13 to 18 are based on the area of Environmental science.
- Score for each question is indicated against them.
- Answer all the questions.

13. Which one of the following is not an adaptation of a fish ? (score 1)

Fins help to swim in water
Ability to change the body colour according to the colour of water.
The slippery body helps to move in water.
They can breath the air of water with gills.

14. "Freedom is my birthright and I shall have it" Whose words are these? (score 1)
- Mahatma Gandhi
 - Sardar Vallabhai Patel
 - Balagangadhara Thilak
 - Gopalakrishna Gokhale

15. A bird's toes are seen joined by skin. (score 1)
That bird.....
- will be able to fly high
 - can swim in water
 - can snatch away its prey
 - helps to sit on the branch.

16. Find out the wrong pair. (score 1)

- Reticulate venation – yam leaf
- parallel venation – coconut leaf
- part which forms as stem – cotyledons
- rice grain - monocotyledonous

17. Which one of the following statements about New Moon is correct.

(score 1)

- Moon cannot be seen.
- Moon will be visible as a crescent
- moon will appear fully
- stars will be invisible.

18. “Flowing water has power”

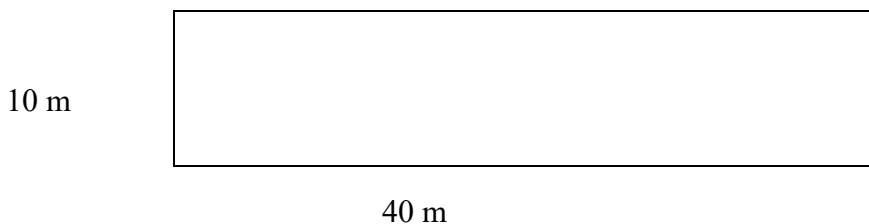
(score 5)

Write an experiment to prove this statement and prepare the record of the experiment. (Include all steps of experimental record)

Part D
MATHEMATICS

- Questions 19 to 24 are based on the area of Mathematics.
- Score for each question is indicated against them.
- Answer all the questions.

19. I am a four digit number. I am in between 8250 and 9250. (score1)
•Digit in the tens place is the double of 2.
•Digit in the thousands place is an even number.
•Digits in other places are the largest one digit number. Who am I ?
20. Manu reached Thrissur Railway station to go to Thiruvanthapuram. The Kerala Express, which is to be departed at 8.40, was late by 20 minutes. Manu reached Thiruvananthapuram at 15.15. How much time did the journey take? (score1)
21. Aravind has a bank deposit of 2846 rupees. Suma's deposit is the half of Aravind's deposit. What is the total deposit of both? (score1)
22. In Manimala L P School, students from register number 5019 to 5093 are appearing for LSS Examination. How many students are appearing LSS Exam in that school? (score1)
23. A month having 30 days includes 5 Sundays, 5 Mondays and the other days with 4 each. What day will be the 1st of the same month? (score1)
24. In connection with Agriculture Day LPS Pazhanchodu decided to make a vegetable garden. The length and breadth of the place are given as follows.



- a) How many metres of wire is required for putting up 5 lines of fencing around the vegetable garden? (score 3)
- b) The Agriculture club of the school decided to cultivate different varieties of vegetables. How many square shaped gardens with a side of 10m can be made in this place? (score1)
- c) It is decided to make one more square garden as with the same perimeter of the place. What is the length of its one side? (score1)

Part E
GENERAL KNOWLEDGE

Questions 25 to 34 are included in the General Knowledge

The score is recorded against each question

25. Who is the famous footballer who scored the controversial goal of 'God's hand'?

- a) Pele b) Lionel Messi
c) Diego Maradona. d) Ronaldo

(Score 1)

26. Which television channel of the legislative Assembly, Kerala came into existence in August 2020 ?

- a) Kairali b) Sabha T V
c) Victers d) Reporter

(Score 1)

27. Which project was started by Indian Railways to provide drinking water from air ?

- a) Panimegh b) Meghpani
c) Meghduth d) Duthmegha

(Score 1)

28. Which district in Kerala was hit by the Pettimudi tragedy ?

- a) Wayanad b) Idukki
c) Pathanamthitta d) Kozhikode

(Score 1)

29. Who won the Ezhuthachan award in 2020?

- a) Paul Zacharia b) Dr. M Leelavathy
c) Benyamin d) Madhusoodhanan Nair

(Score 1)

30. 22nd January is the birthday of a famous Malayalam poetess .Name the poetess who struggled for nature through her poetry ? (Score 1)

- a) K R Gouriamma. b) Sugathakumari
c) Balamaniamma d) K R Meera

31. What is the name of the first campaign launched by the Health Department of Kerala against Covid19 ?

(Score 1)

32. Who is the first Asian American to be elected as Vice President of United States ? (Score1)

33. Who is popularly known as 'Kerala Saigal'? (score 1)

34. Where will the Government of Kerala set up a life science park? (Score 1)

ജില്ലാ വിദ്യാഭ്യാസ പരിശീലനകേന്ദ്രം തൃശൂർ

എൽ എസ് എസ് മാതൃക പരീക്ഷ 2021

പേപ്പർ 1 (പാർട്ട് എ)

ഉത്തരസൂചിക - മലയാളം

സെറ്റ് 1

ആകെ സ്കോർ 10

- 1) വൈലോപ്പിള്ളി (സ്കോർ 1)
- 2) കൂമാരനാശാനാണ് തുള്ളൽ പ്രസ്ഥാനത്തിന്റെ ഉപജ്ഞാതാവ് (സ്കോർ 1)
- 3) പാണ്ടിത്യം (സ്കോർ 1)
- 4) ഒ. എൻ. വി കുറുപ്പ് (സ്കോർ 1)
- 5) പ്രൈം മിനിസ്റ്റേഴ്സ് ട്രോഫി (സ്കോർ 1)
- 6) a) വെള്ളി + കൂട (സ്കോർ 1)
- b) ആദിത്യൻ (സ്കോർ 1)
- c) ആസ്വാദനക്കുറിപ്പ് - വിലയിരുത്തൽ സൂചകങ്ങൾ വായനാസാമഗ്രി സംബന്ധിച്ച പ്രസക്ത വിവരങ്ങൾ ഉൾക്കൊള്ളിച്ചിട്ടുണ്ട്. (തലക്കെട്ട്, എഴുത്തുകാരന്, ആശയം) സ്വന്തം നിരീക്ഷണങ്ങൾ/ അഭിപ്രായങ്ങൾ രചനയിലെ സർഗ്ഗാത്മകത (ഭാവന, പ്രയോഗങ്ങൾ) (സ്കോർ 3)

ENGLISH

- 7.
 - a) Ivan was surprised to see a talking bird
 - b) at
 - c)
 - Ivan goes to the forest.
 - Ivan learns the language of birds.
 - Ivan drives away the crows.
 - Ivan marries the princess.
 - Ivan rules the country well.

8. Pingala

9 into

10. a) some

b) all

11. Crown

12. a) white

b) kite

ANSWER KEY

ENVIRONMENTAL STUDIES

13. Ability to change the body colour according to the colour of water. (Score1)

14. Balagangadhar Tilak (Score1)

15. can swim in water (Score1)

16. Part which forms stem – cotyledons (Score1)

17. moon cannot be seen. (Score1)

18. Aim : To find out flowing water has power. (Score1)

Materials needed : a round piece of a rubber chappal, (Score1)
plastic spoons, a road

Procedure: cut out a circular part from a worn out rubber chappal. (Score1)

Take some plastic spoons of same size. Fix the plastic spoons on the edge of the circular rubber part. Make a small hole at the centre of the rubber piece. Fix a road through the hole so that the device rotates freely.

Observation : Water wheel when the turning of the fall on it. If the speed (Score1)
of the flow of water is increased, the water wheel will turn around with more speed. The power of flowing water makes the water wheel to turn around.

Inference: flowing water has power. (Score1)

MATHEMATICS

19. 8949 (score 1)
20. 6 hours 15 minutes (score 1)
21. 4269 (score 1)
22. 75 (score 1)
23. sunday (score 1)
24. a) Length = 40 m
breadth 10 m
Perimeter- $2(l+b)$ (score 1)
 $2(40+10)$
 $2 \times 50 = 100$ m (score 1)
- meters of wire required for 5 lines of fencing = $5 \times 100 = 500$ m (score 1)
- b) 4 squares (score 1)
- c) 25 m (score 1)
25. Diego Maradona (SCORE-1)
26. Sabha T V (SCORE-1)
27. Meghduth (SCORE-1)
28. Idukki (SCORE-1)
29. Paul Zachariya (SCORE-1)
30. Sugathakumari (SCORE-1)
31. Break the Chain (SCORE-1)
32. Kamala Harris (SCORE-1)
33. Pappukutti Baghavathar (SCORE-1)
34. Thonnakkal (SCORE-1)

എൽ എസ് എസ് മാതൃക പരീക്ഷ 11

Part A
മലയാളം

- 1 മുതൽ 6 വരെയുള്ള ചോദ്യങ്ങളാണ് ഉൾപ്പെടുത്തിയിരിക്കുന്നത്.
- ഓരോ ചോദ്യത്തിന് നേരെയും സ്കോർ രേഖപ്പെടുത്തിയിട്ടുണ്ട്.
- എല്ലാ ചോദ്യങ്ങൾക്കും ഉത്തരം എഴുതേണ്ടതാണ്.

1. 'എത്ര കിളിയുടെ പാട്ടറിയാം' എന്ന കവിയുടെ രചയിതാവ് ആര് ?

- എ. ഒ എൻ വി കുറുപ്പ്
- ബി. പി മധുസൂദനൻ
- സി. സുഗതകുമാരി
- ഡി. ഇടശ്ശേരി

1Score

2. 'നക്ഷത്രമെണ്ണിക്കുക' എന്ന ശൈലിയുടെ അർത്ഥമെന്ത്?

- എ. ഓരോന്നും എണ്ണിത്തിട്ടപ്പെടുത്തുക
- ബി. ഓരോ നക്ഷത്രവും എണ്ണുക.
- സി. കഷ്ടപ്പെടുത്തുക
- ഡി. കഷ്ടപ്പാടുകൾ ഓർക്കുക

1 Score

3. വ്യാഹതി എന്ന പദത്തിന് സമാനപദമായി വരുന്നത് ഏത്?

- എ. മാർഗ്ഗം
- ബി. വഴി
- സി. തടസ്സം
- ഡി. അധികം

1 Score

4. കഥകളിയിൽ ഉപയോഗിക്കാത്ത വാദ്യമേത്

- എ. ചെല
- ബി. മദളം
- സി. ചേങ്ങില
- ഡി. ഇലത്താളം

1 Score

5. താഴെ പറയുന്നവയിൽ ശരിയല്ലാത്ത ജോഡി ഏത് ?

- എ. പൂതപ്പാട്ട് - ഇടശ്ശേരി
- ബി. മിറായിപ്പൊതി -സുമംഗല
- സി. കൃഷ്ണിയിലെ നാട്ടറിവുകൾ -മുരളീധരൻ തഴക്കര
- ഡി. പി.യുടെ ഓണക്കവിതകൾ - പാലാ നാരായണൻനായർ

1 Score

6. പത്രവാർത്ത തയ്യാറാക്കുക

കുമാരി എം എസ് ദേവനന്ദയെ അനുമോദിക്കൽ

മാന്യരെ,

കോവിഡ് മഹാമാരി വ്യാപിച്ച ഈ കാലഘട്ടത്തിൽ വീടുകളിൽ പച്ചക്കറിത്തോട്ടം നിർമ്മിക്കാൻ കനകക്കുന്ന് ഗവൺമെന്റ് എൽ പി സ്കൂളിലെ കുട്ടികൾക്ക് അധ്യാപകർ നിർദ്ദേശം നൽകുകയു ായി. ഏറ്റവും മികച്ച പച്ചക്കറിത്തോട്ടത്തിന് ക്യാഷ് അവാർഡ് നൽകി ആദരിക്കുമെന്ന് നിർദ്ദേശിച്ചിരുന്നു. അതിന്റെ അടിസ്ഥാനത്തിൽ നാലാം ക്ലാസ്സ് എ ഡിവിഷനിലെ ദേവനന്ദയെ തെരഞ്ഞെടുത്ത വിവരം അറിഞ്ഞിരിക്കുമല്ലോ. ദേവനന്ദയെ പി.ടി.എ യുടെ നേതൃത്വത്തിൽ അനുമോദിക്കാൻ തീരുമാനിച്ചിരിക്കുന്നു. അനുമോദനചടങ്ങിലും തുടർന്നുള്ള പരിപാടികളിലും ഏവരുടെയും സാന്നിധ്യം സാദരം ക്ഷണിച്ചു കൊള്ളുന്നു.

സ്ഥലം: സ്കൂൾ ഓഡിറ്റോറിയം

തിയതി: മാർച്ച് 30 ,2021
സമയം: രാവിലെ 10 മണി

എന്ന്
പി.ടി.എ പ്രസിഡ ്.

സ്വാഗതം: ശ്രീ.തോമസ് ജോസഫ് (ഹെഡ്മാസ്റ്റർ)
അധ്യക്ഷൻ: ശ്രീമതി. പുഷ്പ ശശി (പഞ്ചായത്ത് പ്രസിഡ ്)

ഉദ്ഘാടനം : കൃഷി ഓഫീസർ
ക്യാഷ് അവാർഡ് ദാനം: കൃഷി ഓഫീസർ
നന്ദി: പി.ടി.എ പ്രസിഡ ്.

സി. ഈ അനുഭവദന യോഗം നടന്നതിന്റെ പത്രവാർത്ത നമുക്ക് തയ്യാറാക്കിയാലോ.

5 Score

English

Write the answers to the questions in the space provided.

- Question 7 to 12 are included in English section.
- The score of each question is given against it.
- Answer all the questions.

7. King Vidyadhara was happy to see Pingala with an empty pot. He had distributed roasted seeds to all the children. So he announced Pingala as the prince. Re-arrange the letters to in box and complete the sentence given . Finally Pingala was happy to see his -----rewarded.

O	n	h	e	s	y	t
---	---	---	---	---	---	---

1 Score

8. Pingala was running back home from the palace to meet his father. On the road side he saw a crowd. People were talking very rudely to an old man who had lost his way. But the

old man was replying them very -----Pingala helped the man to reach his destination.

1 Score

Give the word Opposite in meaning to complete the story.

9. That day seemed brighter to Pingala.He was talking to himself. He was merrily speaking out some words.Supply the missing word.

Bright,sight,might -----

1 Score

10. Pingala was full of energy. He saw his friend Anna playing a language game of matching the pairs .He decided to help Anna.

Match the pairs.

Bird	-	Sail
King	-	perch
Boat	-	Move
Earth	-	Just

1 Score

11. At home Pingala narrated the entire story to his father.In return his father told him the wonderful story of a poor boy named Ivan and how he became the king.After telling the story Pingala's father asked him the following question .Help Pingala to answer the question by re-arranging the words.

What did the Nightingale Predict ?

a king/Ivan/The Nightingale/would/predicted/that/become

1 Score

12. At night Pingala sat down to write that day's diary.

Diary

5 Score

Part C
E.V.S

Total Score 10

Write the answers to the questions in the space provided.

- Question 13 to 18 are included in English section.
- The score of each question is given against it.
- Answer all the questions.

13. Which ecosystem is known as oxygen parlour

1 score

14. In Kerala which Bird Sanctuary is situated in Mangroves

1 score

a) Mangalavanam b) Iravikulam c) Peechi d) Vazhani

15. Which is the false statement

1 score

- a) The part that comes out first from the seed is called radical.
- b) The radical becomes root of the plant.
- c) Plumule grew into the leaf .
- d) Food stored in cotyledons.

16. Water vapour changes into water, when it

1 score

17 Thirur, Pothannore, Coimbatore.....these are some railway stations.

Which incident is related to these railway stations?

1 score

- a) Quit India Movement
- b) Wagon Tragedy
- c) Jallian Wallah Bagh Incident
- d) Salt Satyagraha

18. Classify the given art forms into classical and folk

a) Thiruvathira b) Kathakali c) Kummatii d) Mohiniyattam

a)

--	--

2 score

b) Write a description about the artform which is known as the King of arts

3 score

Part D
Mathematics

Write the answers to the questions in the space provided.

- Question 19 to 24 are based on the area of Mathematics.
- Score for each question is indicated against them.
- Answer all the questions in the space provided in the question paper.

Sunday	Monday	Tuesday	Wednesday	Thursday	Friday	Saturday
					☆	☆

19. A Calender without dates given below.The sum of the number in the

boxes with ☆ mark is 33 which day will be the 1st of this month?

1 Score

20. Sambhu his journey at 10.35 a m to buy some groceries and reached home after 2 hours and 45 minutes. At what time did he reach?

1 Score

21. What is the difference between the Roman numbers LX and XL?

- a. LX b. XX c. DX d. XD

22. Complete the pattern

$$2\ 1\ 2 = 5$$

$$3\ 2\ 3 = 8$$

$$4\ 3\ 4 = 11$$

$$5\ 4\ 5 = 14$$

$$\text{---} = \text{-----}$$

$$\text{---} = \text{-----}$$

$$\text{---} = \text{-----}$$

$$9\ 8\ 9 = \text{---} ?$$

- a. 21 b.18 c.25 d.26

1 Score

23. What is the number with 46 hundreds,213 tens,3 thousands and 136 Ones.

- a. 9866 b.3395 c.9686 d.11090

1 Score

24. The Bul-Bul Club members of the Sevana School decided to distribute one cotton bags to each students in that school. There are 150 students in that school. Three bags can be make with one metre cloth. The cost of one metre cotton cloth is Rs.30 the stitching charge for one bag Rs. 6 and Rs.1 for sticking the labels on it. The PTA offered Rs.2000 for it.

2 Score

1. (a) What is the length of cloth for making 150 bags?

- (b) Total amount of the cloth?

2. What is the cost of a bag?

1 score

3. Find out the total amount for making 150 bags?

1 Score

4. 5 Teachers decided to share the balance amount. How much money sponsored by each one?

1 Score

Part E
General Knowledge

Write the answers to the questions in the space provided.

- Question 25 to 34 are included in General Knowledge section.
- The score of each question is given against it.
- Answer all the questions.

25. India's first 'plastic free' tourist destination?

1 score

26. Image inscribed on the new 20 rupees note?

1 score

27. Which Victor's channel programme is awarded as the best national educational entertainment award 2020 - 2021?

1 score

28. The Airport where the plane crash took place in Kerala in 2020?

1 score

29. The winner of the Vayalar Award 2020?

1 score

Choose the Correct answer from the bracket given below:-

30. "My language is my home, The sky is mine....." Who wrote the official language pledge of Kerala ?

- a) M. T. Vasudevan Nair
- b) SugathaKumari
- c) O. N. V. Kuruppu
- d) Akkitham

1 score

31. The first Covid hospital in Kerala situated in -----

- a) Kollam
- b) Thrissur
- c) Kasargod
- d) Malappuram

1 score

32. The lady leader of Quit India struggle

- a) Sarojini Naidu b) Aruna Asaf Ali
- c) Accamma Cheriyan d) kuttimalu Amma

1 score

33. A bird known as 'Farmers Friend' ?

- a) Eagle. b) Peacock. C) Crow. D) Owl.

1 score

34. Sachin Tendulker is associated with the game of Cricket. Nihal Sarin is Associated with -----

- a) A football b) Chess C) Tennis D) Hocky

1 score

ഉത്തരസൂചിക.

- 1. പി മധുസൂദനൻ 1 Score
- 2. കഷ്ടപ്പെടുത്തുക 1 Score
- 3. തടസ്സം 1 Score
- 4. ചെ 1 Score

5. പി.യുടെ ഓണക്കവിതകൾ - പാലാ നാരായണൻനായർ 1 Score
6. അനുയോജ്യമായ തലക്കെട്ട് 1 Score
- സ്ഥലം, തീയതി, സംഭവം 2 Score
 - ആശയ വ്യക്തത 1 Score
 - അനുയോജ്യമായ ഭാഷ 1 Score
7. Ans. Honesty 1 Score
8. Ans. Politely 1 Score
9. Ans. Night 1 Score
10. Ans. Bird - Perch
King - Just
Boat - Sail
Earth - Move 1 Score
11. Ans. The nightingale predicted that Ivan would become a king. 1 Score
12. Ans. Indicators.
- Mentioning the date - 1 Score
 - Meaningful content - 2 Score
 - Maintaining the flow - 2 Score
13. Sacred groves(Kavukal) 1 score
14. (a) Mangalavanam 1 score
15. (c) Plumule grew into the leaf 1 score
16. Cools 1 score
17. (b) Wagon Tragedy 1 score
18. (a) Classify into classical arts and folk arts. 2 score

Classical arts	Folk Arts
----------------	-----------

Kathakali	Thiruvathira
Mohiniyattam	Kummati

b) Identifying Kathakali 1 score

c) Describing about 'Kathakali'. 2 score

*In Kathakali, dance, acting, music and the mudras are equally important.

* Costumes- Pacha, Kathi,Kari,Thadi

* Attakatha is the literary form of Kathakali.

(If any two indicators are correct – 2 score)

19. Thursday 1 Score

20. 1.20 pm or 13.20 1 Score

21. b. XX 1 Score

22. d. 26 1 Score

23. a.9866 1 Score

24.(i).(a) $150 \div 3 = 50$ m. 2 Score

(b) $50 \times 30 = 1500$ Rs.

(ii). $10+6+1 = 17$ Rs. 1 Score

(iii). $150 \times 17 = 2550$ 1 Score

(IV). $2550-2000 = 550 \div 5 = 110$ Rs. 1 Score

25. Kumarakam 1 score

26. Ellora Caves 1 score

27. First Bell 1 score

28. Karippur	1 score
29. Ezhacheri Ramachandran	1 score
30.a) M. T. Vasudevan Nair	1 score
31. (c).Kasargod.	1 score
32. (b).Aruna Asaf Ali	1 score
33. d) Owl	1 score
34. b) Chess	1 score

എൽ എസ് എസ് മാതൃക പരീക്ഷ 12

Part A

മലയാളം

- 1 മുതൽ 6 വരെയുള്ള ചോദ്യങ്ങളാണ് ഉൾപ്പെടുത്തിയിരിക്കുന്നത്.
- ഓരോ ചോദ്യത്തിന് നേരെയും സ്കോർ രേഖപ്പെടുത്തിയിട്ടുണ്ട്.
- എല്ലാ ചോദ്യങ്ങൾക്കും ഉത്തരം എഴുതേണ്ടതാണ്.

1. പിരിച്ചെഴുതുക: ഇത്യാദി

എ. ഇതി+ആദി

ബി. ഇത്യ+ആദി

സി. ഇത്തി+ആദി

ഡി. ഇതി+അദി

1Score

2. കൂട്ടത്തിൽപ്പെടാത്തത് കൃതി ഏത്?

എ. കുറ്റിപ്പെൻസിൽ.

ബി. അക്ഷരത്തെറ്റ്.

സി. കുട്ടേട്ടന്റെ കുറിപ്പുകൾ.

ഡി. അക്ഷരം.

1 Score

3. 'ഞങ്ങൾ മരന്നുപോയ പാടുവാൻ തേനുറു-

മന്നത്തെയോണപ്പുതുമലർപ്പാട്ടുകൾ

എന്നേ മരന്നുപോയ പൂക്കളെ തീർക്കുവാൻ

എന്നേ മരന്നുപോയ നിൻമുഖമോമനേ'

ഇത് ആരുടെ വരികളാണ്?

എ. ഇടപ്പള്ളി രാഘവൻപിള്ള.

ബി. സുഗതകുമാരി.

സി. ബാലാമണിയമ്മ.

ഡി. ജി.ശങ്കരക്കുറുപ്പ്.

1 Score

4. ശരിയായ പദം എടുത്തെഴുതുക

എ. അഞ്ജനം.

ബി. അഞ്ചനം.

സി. അജ്ഞനം.

ഡി. അഞ്ഞ്ഞനം

1 Score

5. അക്ബർ ചക്രവർത്തിയുടെ പണ്ഡിതസദസ്സ് ഏത് പേരിലറിയപ്പെടുന്നു.

1 Score

6. താഴെ കൊടുത്ത കവിത വായിക്കുക.

കേരളമേ, നിന്റെയോമനപ്പേർ കേൾക്കെ
 കോശ്മയിർ കൊള്ളുന്നെന്നുള്ളമെന്നും
 നീരാളപ്പച്ച വിരിച്ച വയലുകൾ-
 നീളെക്കിടക്കുമുൾ നാടുകളും
 വാരിളം പുല്ലണിക്കുന്നിൻ പുറങ്ങളും
 നീരറ്റ നീരലർപൊയ്കകളും
 പൂത്തിരി കത്തിച്ചു പാതിരാവും പിന്നെ
 പൂത്തിരുവാതിരപ്പൂനിലാവും
 മഞ്ഞക്കുറിയിട്ട മുവന്തിമാനവും
 മഞ്ഞുപുതച്ച പുലരികളും
 പുത്തനായുള്ള മുളകിൻ കൊടികളും
 തൈത്തങ്ങിനങ്ങളുമെന്നു വേ ...
 നിന്തിരുമേനിയിൽ പറ്റിയ പാഴായോ-
 രെന്നിനുമുദെ റരഴകു വേറെ.

കേരളഗാനം.

എസ് കെ പൊറ്റെക്കാട്

എ. 'ശരീരം' എന്നർത്ഥം വരുന്ന പദം കവിതയിൽ നിന്നും കെ ത്തി എഴുതുക?


1 Score

ബി. 'മഞ്ഞക്കുറിയിട്ട മുവന്തിമാനം' എന്നതുകൊ ള് അർത്ഥമാക്കുന്നതെന്ത്?

1 Score

സി. കവിതക്ക് ആസ്വാദനക്കുറിപ്പ് തയ്യാറാക്കുക.

Score 3



Part B
English

Write the answers to the questions in the space provided.

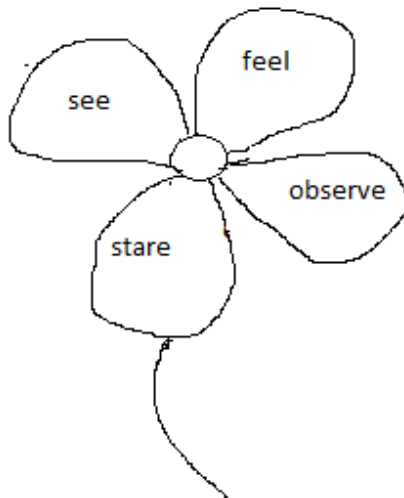
- Question 7 to 12 are included in English section.
- The score of each question is given against it.
- Answer all the questions.

7. Give a word similar in meaning to the word underlined
Sita collected flowers from the garden. She made a beautiful garland with the flowers.

.....
Ans:-

1 score

8. Find the odd one out
Anna was annoyed by the fat boy's behaviour. She looked at him sharply.



Ans:-

1 score

9. Minnu and Chinnu were playing a game with riddles. Can you answer the riddle?
Nobody can live without me
But nobody can see me
Who am I?

Ans:-

1 score

10. Latha spends most of her time at the river side. Watching the fish, she sang a song. Add lines to the song using the hints.
(dance, sing, run)

Yellow fish,yellow fish
Dance with me
White lotus,white lotus
Play with me

.....
.....
.....
.....

1 score

11.Complete the sentence using a suitable describing word.

The king lay on his..... bed

1 score

12.After many years Ivan met his old friend the nightingale once again.

Write down the possible conversation between them.

Ivan:-
Nightingale:- I am fine, you ?
Ivan:-
Nightingale:-
Ivan: How far is the Panchavan forest ?
Nightingale:-.....
Ivan:-....., bye.

5 score

Part C

E. V. S

Write the answers to the questions in the space provided.

- Question 13 to 18 are included in English section.
 - The score of each question is given against it.
 - Answer all the questions.
-

13. A plant which can produce new plant from leaf?

1 score

14. Which creature that can stay under water for a long time without breathing?

- a) Tortoise b) Water snake c) Earth worm d) Crocodile

1 score

15. Violation of Salt Law marked the beginning of which movement?

1 score

16. The Honourship given by the British king to Raja Ravi Varma in connection with his contribution in Painting?

1 score

17. Which is the star seen in day time?

1 score

18. Read the experiment that Chinnu done in her Science class.

Take a bottle. Fix a cork with one hole on the top of the bottle. Put a funnel in the hole of the cork without passing the air. Take a cup of water and pour it into the funnel.

They noticed that water struck in the funnel.

a) What are the materials used for the experiment? 1 score

b) What are the experimental results? 1 score

c) What are the inferences they reached out from this experiment? 2 score

d) What can we do, to get down the water in the funnel to the bottle?

1 score

L.S.S MODEL QUESTION PAPER - 2021

Part D

Mathematics

Write the answers to the questions in the space provided.

- Question 19 to 24 are based on the area of Mathematics.
- Score for each question is indicated against them.
- Answer all the questions in the space provided in the question paper.

19. In the last year there are 25 students admitted to the first standard at Puthenpally GLP School. The admission number of the last student was 6453. What was the admission number of the first student?

Score 1

20. Find out the next number of the given pattern?

8023, 7034, 6045, _____

Score 1

21. After 5 hours and 30 minutes journey Malu and her Family reached Wayanad At 2.15 pm. When did they start their journey?

- a. 8.45 am b. 8.15 am c. 7.45 am d. 8.00 am

Score 1

22. The perimeter of a Paddy field is 64 meter. If its four sides are equal.

What is the length of one side? a. 17m b.16m c.15m d.14

Score 1

23. What is the difference between the largest and the smallest four digit numbers that can be written using the digits 2, 5, 7 and 9 only once?

- a.5373 b.7273 c.6173 d.7173

Score 1

24. Sabu says, about the four months income which he got from plantain farm. He got Rs 2565/- at the month August and at October Rs. 275/- more than the month August. In September he got Rs. 265/- less than October and in November Rs.395/- more than September.

(a) List the income of each month?

Score 3

(b) Find out the total income which he got from the farm?

Score 1

(c).The cost of a Plantain Sapling is Rs.12/- .How much rupees he need to buy 125 Plantain Saplings?

Score 1

Part E
General Knowledge

Write the answers to the questions in the space provided.

- Question 25 to 34 are included in General Knowledge section.
- The score of each question is given against it.
- Answer all the questions.

25. The smallest river in Kerala

- a) Mancheswaram Puzha
c) Kunthi Puzha

- b) Valappattanam Puzha
d) Challiyar Puzha

1 score

26. Which animal does not belong to the National Emblem

- a) Lion b) Elephant c) Deer d) Ox

1 score

27. Who is the current Chief Election Commissioner of India? Score 1

28. Puthur Zoological Park is located in which District? Score 1

29. The first Open University in Kerala is named after which great Renaissance Leader?

- a) Swami Vivekananda
- b) Sree Narayana Guru
- c) Ayyankali
- d) Chattambi Swamikal

1 score

30. Who is the winner of Ezhuthachan Award in 2020?

1 score

31. Which is the first Indian state report the Corona Virus?

- a) Kerala
- b) Tamil Nadu
- c) Maharashtra
- d) Uttar Pradesh

1 score

32. Which is the organ of human body capable of Regeneration?

1 score

33. The gas that helps to burn?

- a) Hydrogen. b) Oxygen. C) Nitrogen. D) Carbon Dioxide.

1 score

34. Which country will host the 2022 Asian Games?

- a) Japan b) China c) Russia d) America

1 score

ഉത്തരസൂചിക.

- | | | |
|--------|---|-----------|
| 1. | ഇതി+ആദി | 1 Score |
| 2. | അക്ഷരം. | 1 Score |
| 3. | സുഗതകുമാരി. | 1 Score |
| 4. | അഞ്ജനം. | 1 Score |
| 5. | നവരത്നങ്ങൾ | 1 Score |
| 6. | എ. മേനി | 1 Score |
| | ബി. സന്ധ്യാസമയം | 1 Score |
| | സി. കവിയുടെ പേര്, കൃതി | 1 Score |
| | <ul style="list-style-type: none"> • കവിതയിലെ സൗന്ദര്യാംശങ്ങൾ
(പ്രയോഗങ്ങൾ, വർണനകൾ, ശബ്ദഭംഗി) | 1 Score |
| | <ul style="list-style-type: none"> • കവിതയുടെ പ്രമേയം | 1 Score |
| 7. | gathered | (1 score) |
| 8. | feel | (1 score) |
| 9. | air | (1 score) |
| 10. | keeps the rhythm | |
| | Meaningful creation | (1 score) |
| 11. | royal | (1 score) |
| 12. | Keeps the flow | (2 score) |
| | Meaningful content | (2 score) |
| | Overall integrity | (1 score) |
| | } | (5 score) |
| 13. | Nishagandhi, Waterlilly etc. | 1 score |
| 14. a) | Tortoise | 1 score |

15. Civil Disobedience Movement 1 score
16. Kaisar- i- Hind 1 score
17. Sun 1 score
- 18.
- a) Bottle, cork, funnel, cup, water 1 score
- b) Finding the experimental result
- Water struck in the funnel 1 score
- c) Air occupies space 1 score
- The water falls down only when the air goes out. 1 score
- d) Lifting the funnel. 1 score

19. 6429 1 Score

20. 5056 1 Score

21. (a). 8.45 am 1 Score

22. (b).16m 1 Score

23. (d).7173 1 Score

24.(a) 3 Score

Month	Income (Rs)
August	2565
September	2575
October	2840
November	2970

(b). $2565+2575+2840+2970=RS.10950/-$ 1 Score

(C). $125 \times 12 = Rs.1500/-$

or $125 \times 10 = 1250 +$

$$125 \times 2 = \underline{250}$$

Total -1500 Rs./-

1 Score

25. (a) Mancheswaram Puzha

1 score

26. c) Deer

1 score

27. Sunil Chandra

1 score

28. Thrissur

1 score

29. (b). Sree Narayana Guru

1 score

30. Paul Zacharia/ Zacharia.

1 score

31. (a). Kerala.

1 score

32. Liver.

1 score

33. b) Oxygen.

1 score

34. b) China.

1 score