

പാദവാർഷിക മൂല്യനിർണയം 2018-19

ക്ലാസ് : 5

സാമൂഹ്യശാസ്ത്രം

സമയം: 2 മണിക്കൂർ

നിർദ്ദേശങ്ങൾ

1. മൂല്യനിർണയ പ്രവർത്തനങ്ങൾ ആരംഭിക്കുന്നതിനു മുമ്പ് 16 മിനുട്ട് സമാശ്വാസ സമയമാണ്. ഈ സമയം ചോദ്യങ്ങൾ നന്നായി വായിച്ച് മനസ്സിലാക്കാനുള്ളതാണ്.
2. തന്നിട്ടുള്ള 8 പ്രവർത്തനങ്ങളിൽ ഏതെങ്കിലും 6 എണ്ണത്തിന് ഉത്തരമെഴുതിയാൽ മതി.
3. തെരഞ്ഞെടുക്കുന്ന 6 പ്രവർത്തനങ്ങളിലെ എ, ബി, സി എന്നിങ്ങനെ നൽകിയിട്ടുള്ള എല്ലാ ഉപചോദ്യങ്ങൾക്കും ഉത്തരം എഴുതേണ്ടതാണ്.

പ്രവർത്തനം - 1

- എ. ശിലായുഗകാലഘട്ടത്തിലെ സാമൂഹ്യതകളിൽപെടാത്തത് എടുത്തെഴുതുക.
- A. പരുക്കൻ കല്ലുകൾ ആയുധങ്ങളായി ഉപയോഗിച്ചു.
 - B. കൃഷിയുടെ ആരംഭം കുറിച്ചു.
 - C. വെങ്കലം കൊണ്ടുള്ള ഉപകരണങ്ങൾ ഉണ്ടാക്കി
 - D. മൃഗങ്ങളെ വേട്ടയാടി ഭക്ഷിച്ചു.
- നമ്മുടെ നിത്യജീവിതത്തിൽ ഒഴിവാക്കാനാവാത്ത ഒന്നാണ് തീയുടെ ഉപയോഗം. ശിലായുഗ കാലഘട്ടത്തിലാണ് മനുഷ്യൻ തീ ഉപയോഗിക്കാൻ തുടങ്ങിയത്. തീപ്പെട്ടിയുടെ കണ്ടുപിടുത്തത്തോടെ സുരക്ഷിതമായി തീ കൊണ്ടുനടക്കാവുന്ന തലത്തിലേക്ക് നാം ഉയർന്നു.
- ബി. തീ ഉപയോഗപ്പെടുത്തുന്നതിനു മുമ്പുള്ള കാലഘട്ടത്തിലെ മനുഷ്യജീവിതം... വിവരിക്കുക.
- സി. തീ കണ്ടുപിടിച്ചില്ലായിരുന്നെങ്കിൽ നാം ഇന്നു കാണുന്ന ലോഹ ഉപകരണങ്ങളൊന്നും തന്നെ നിർമ്മിക്കുവാൻ കഴിയുമായിരുന്നില്ല എന്നു പറയാൻ കാരണമെന്ത്?

പ്രവർത്തനം - 2

- 1498-ൽ വാസ്കോഡഗാമ ഇന്ത്യയിൽ എത്തിയതുമുതൽ 1947-ൽ ഇന്ത്യ സ്വതന്ത്രയാവുന്നതുവരെയുള്ള കാലത്തെ ഇന്ത്യാ ചരിത്രത്തിലെ പ്രധാന സംഭവങ്ങൾ താഴെ കൊടുക്കുന്നു.
- എ. പട്ടിക പൂർത്തിയാക്കുക.

വർഷം	സംഭവം	നൂറ്റാണ്ട്
CE 1498	വാസ്കോഡഗാമ ഇന്ത്യയിൽ എത്തി
CE 1600	ഇംഗ്ലീഷ് ഈസ്റ്റിന്ത്യാ കമ്പനി സ്ഥാപിച്ചു	16-ാം നൂറ്റാണ്ട്
CE 1757	പ്ലാസി യുദ്ധത്തിൽ ഇംഗ്ലീഷുകാർ വിജയിച്ചു
CE 1947	ഇന്ത്യ സ്വതന്ത്രമായി

- ബി. കൊല്ലവർഷം ആരംഭിച്ചത് CE 825-ൽ ആയിരുന്നു. ഇത് ഏത് നൂറ്റാണ്ടിലാണ്?
- സി. ഇപ്പോൾ ഏത് നൂറ്റാണ്ടാണ്?

പ്രവർത്തനം - 3

- എ. കുടുംബാംഗങ്ങളെ ഒരുമിച്ചു നിർത്തുന്ന നിരവധി ഘടകങ്ങൾ ഉണ്ട്. താഴെ തന്നിരിക്കുന്ന പ്രസ്താവനകളിൽ കുടുംബത്തിന്റെ സവിശേഷതകളിൽപെടാത്തവ എടുത്തഴുതുക.
 - A. പരിമിതമായ വലിപ്പം
 - B. കടമകൾ സ്വയം ഏറ്റെടുക്കുന്നു.
 - C. സ്നേഹം, വാത്സല്യം, സുരക്ഷിതത്വബോധം
 - D. പരസ്പരവിശ്വാസം ഇല്ലായ്മ
- ബി. അണുകുടുംബം, കുട്ടുകുടുംബം എന്നിവ എങ്ങനെ വ്യത്യാസപ്പെട്ടിരിക്കുന്നു എന്ന് വ്യക്തമാക്കുക.
- സി. നിങ്ങളുടെ കുടുംബം ഇവയിൽ ഏത് വിഭാഗത്തിൽപെടുന്നു? എന്തുകൊണ്ട്? വിശദീകരിക്കുക.

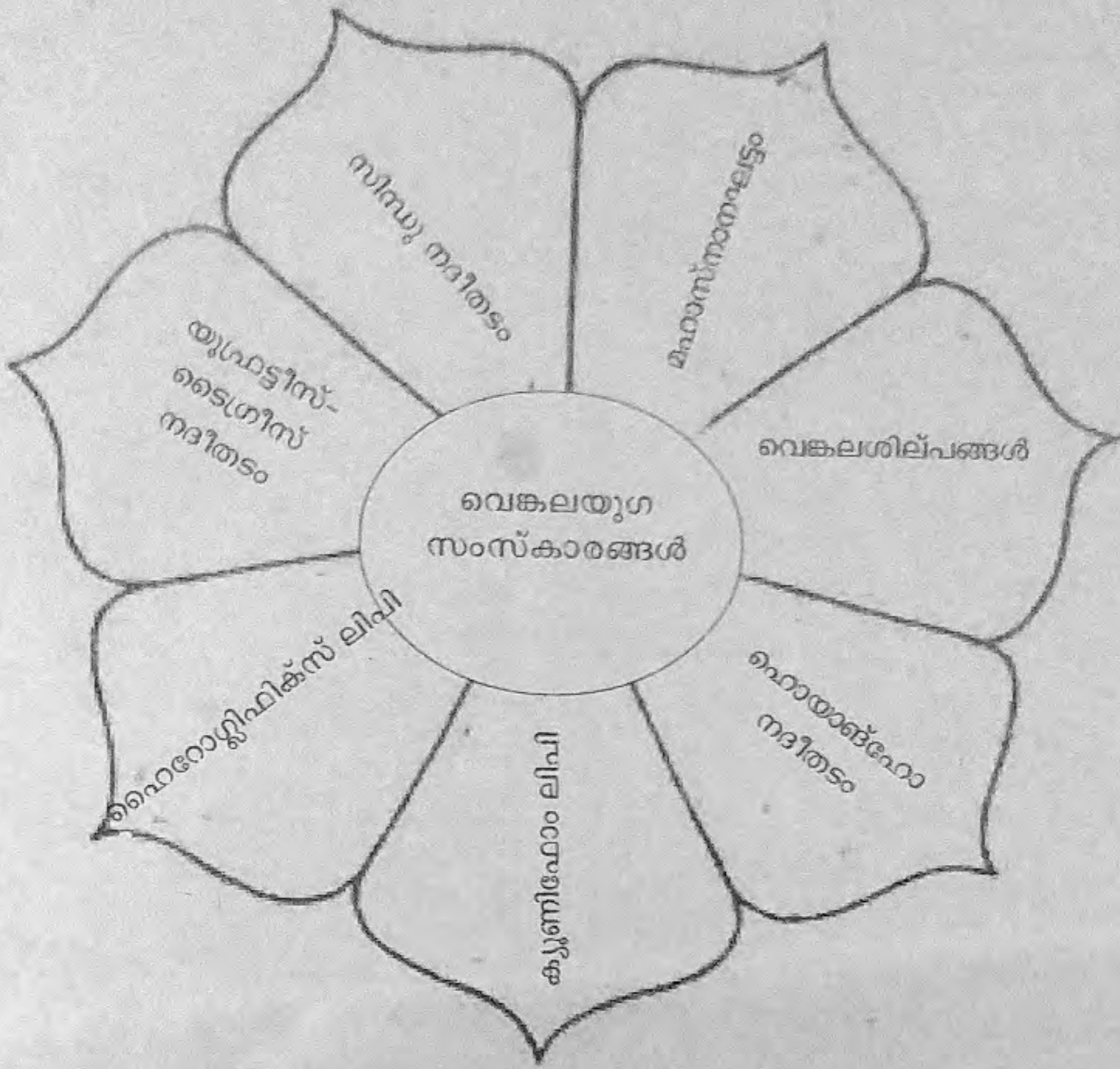
പ്രവർത്തനം - 4

- എ. കേന്ദ്രസർക്കാരും സംസ്ഥാന സർക്കാരും വാർഷിക ബജറ്റ് അവതരിപ്പിക്കുന്നത് ഒരു സാമ്പത്തിക വർഷത്തേയ്ക്കാണ്. താഴെ പറയുന്നതിൽ ഏതു കാലയളവാണ് ഇന്ത്യയിൽ സാമ്പത്തികവർഷമായി കണക്കാക്കുന്നത്?
 - A. ജനുവരി 1 മുതൽ ഡിസംബർ 31 വരെ
 - B. ഏപ്രിൽ 1 മുതൽ മാർച്ച് 31 വരെ
 - C. ജൂൺ 1 മുതൽ മെയ് 31 വരെ
 - D. ജൂലൈ 1 മുതൽ ജൂൺ 30 വരെ
- ബി. കുടുംബത്തിന്റെ സാമ്പത്തിക സുരക്ഷിതത്വം ഉറപ്പാക്കുന്നതിൽ താഴെപറയുന്നവയിൽ ശരിയായ പ്രസ്താവന ഏത്?
 - A. വരുമാനവും ചെലവും തുല്യം
 - B. വരുമാനം കുറവ്, ചെലവ് കൂടുതൽ
 - C. വരുമാനം കൂടുതൽ, ചെലവ് കുറവ്
 - D. ഇവയൊന്നുമല്ല.
- സി. മിതവ്യയശീലം കുടുംബത്തിലെ എല്ലാ അംഗങ്ങളും ശീലമാക്കേണ്ടതാണ്. കുട്ടികൾക്ക് മിതവ്യയം ശീലമാക്കുന്നതിന്റെ ഭാഗമായി ഏറ്റെടുക്കാവുന്ന പ്രവർത്തനങ്ങൾ കുറിക്കുക. (ആരാണ് അതിൽ കുറയരുത്)

പ്രവർത്തനം - 5

- എ. താഴെ തന്നിരിക്കുന്നവയിൽ ചരിത്രാതീതകാലവുമായി ബന്ധമില്ലാത്തത് ഏത്?
 - A. മൺപാത്രങ്ങൾ
 - B. താളിയോലകൾ
 - C. ശിലായുധങ്ങൾ
 - D. ഗുഹാചിത്രങ്ങൾ
- ബി. വിദ്യാലയത്തിൽ സ്ഥാപിക്കാൻ പോകുന്ന ചരിത്രമ്യൂസിയത്തിലേക്ക് ശേഖരിക്കാവുന്ന സാധനങ്ങളുടെ ഒരു ലിസ്റ്റ് തയ്യാറാക്കുക.

(കൃഷി, വീട്, കച്ചവടം, ഗതാഗതം, സമയം, അളവുകൾ, വസ്ത്രം, ആഭരണം, വിനോദം തുടങ്ങിയ മേഖലകൾ പരിഗണിക്കാം.)
- സി. ചരിത്രശേഷിപ്പുകൾ സംരക്ഷിക്കുന്നതിന്റെ പ്രാധാന്യം വ്യക്തമാക്കുക. (ഏതെങ്കിലും രണ്ടു കാര്യം കുറിക്കുക).



എ. സൂചനകളുടെ അടിസ്ഥാനത്തിൽ താഴെ തന്നിട്ടുള്ളവ പൂർത്തിയാക്കുക.

മെസോപ്പൊട്ടേമിയൻ സംസ്കാരം	ഇന്ദ്രജിപ്ഷ്യൻ സംസ്കാരം	ചൈനീസ് സംസ്കാരം	ഹാരപ്പൻ സംസ്കാരം
യൂഫ്രട്ടീസ് - ടൈഗ്രീസ് നദി	നൈൽ നദി നദീതടം നദീതടം
..... ലിപി ലിപി	വെങ്കല ശില്പങ്ങൾ	മഹാസ്മാരകഘട്ടം

ബി. വെങ്കലയുഗസവിശേഷതകളിൽ പെടാത്തത് ഏത്?

- A. ചെമ്പിനേക്കാൾ കടുപ്പമേറിയ വെങ്കലമുപയോഗിച്ച് ആയുധങ്ങൾ നിർമ്മിച്ചു.
- B. കാർഷികോല്പാദനത്തിൽ വർദ്ധനവ് ഉണ്ടായി.
- C. പുതിയ കാർഷിക ഉപകരണങ്ങളുടെ നിർമ്മാണവും ഉപയോഗവും വർദ്ധിച്ചു.
- D. ഇരുമ്പു കൊണ്ടുള്ള ആയുധങ്ങൾ ഉപയോഗപ്പെടുത്തി.

എ. രണ്ട് കുടുംബങ്ങളിലെ ജോലികളും അവ ആരൊക്കെയാണ് ചെയ്യുന്നതെന്നും താഴെ പട്ടികയായി കൊടുത്തിരിക്കുന്നു. ഇതിൽ ഏത് കുടുംബത്തിലെ രീതിയാണ് നിങ്ങൾക്ക് സ്വീകാര്യമായി തോന്നുന്നത്? എന്തുകൊണ്ട്?

A കുടുംബം

ജോലികൾ	അമ്മ	അച്ഛൻ	മകൻ	മകൾ
ഭക്ഷണം തയ്യാറാക്കൽ	✓			
ചെടികൾ നനയ്ക്കൽ		✓		
തുണി കഴുകൽ	✓			✓
മുറ്റം വൃത്തിയാക്കൽ	✓			
വീട് വൃത്തിയാക്കൽ	✓			✓
പാത്രം കഴുകൽ	✓			✓
സാധനങ്ങൾ വാങ്ങിക്കൊണ്ടുവരൽ	✓	✓	✓	

B കുടുംബം

ജോലികൾ	അമ്മ	അച്ഛൻ	മകൻ	മകൾ
ഭക്ഷണം തയ്യാറാക്കൽ	✓	✓		
ചെടികൾ നനയ്ക്കൽ		✓	✓	✓
തുണി കഴുകൽ	✓	✓	✓	✓
മുറ്റം വൃത്തിയാക്കൽ			✓	✓
വീട് വൃത്തിയാക്കൽ	✓	✓	✓	✓
പാത്രം കഴുകൽ	✓	✓	✓	✓
സാധനങ്ങൾ വാങ്ങിക്കൊണ്ടുവരൽ	✓	✓	✓	✓


ബി. സ്വന്തം കുടുംബത്തിലെ നിലവിലുള്ള അവസ്ഥ കൂടുതൽ മികച്ച രീതിയിൽ മാറ്റിയെടുക്കുന്നതിന് ഏറ്റെടുക്കുന്ന പ്രവർത്തനങ്ങൾ എന്തെല്ലാമാണ്? വിശദീകരിക്കുക.

പ്രവർത്തനം - 8


എ. ക്ലാസിൽ “എന്റെ വിദ്യാലയചരിത്രം” തയ്യാറാക്കിയിട്ടുണ്ടാകുമല്ലോ? ഇതിന് ധാരാളം ചരിത്ര സ്രോതസ്സുകൾ പ്രയോജനപ്പെടുത്തിയിട്ടുണ്ടാവും. എന്റെ വിദ്യാലയ ചരിത്രരചനയ്ക്ക് സഹായകമായ ഒരു ചരിത്ര സ്രോതസ്സിന്റെ പേരെഴുതുക.

ബി. താഴെ തന്നിരിക്കുന്ന ചിത്രങ്ങൾ എന്തെല്ലാം? ഏതേതുകാലവുമായി ബന്ധപ്പെട്ടിരിക്കുന്നു?

A

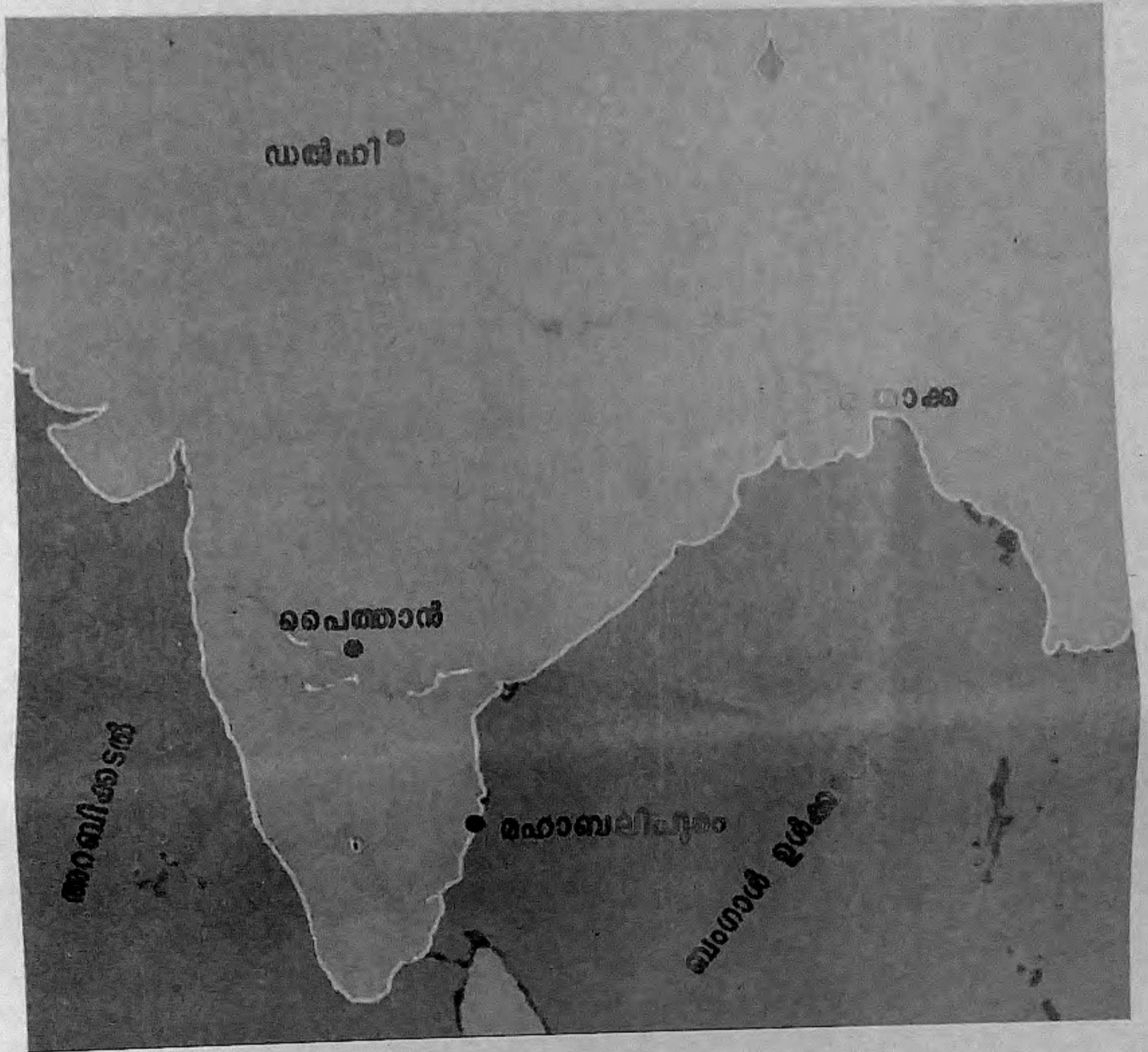


B



സി. ചരിത്രാതീതകാലവും ചരിത്രകാലവും തമ്മിലുള്ള ഏതെങ്കിലും രണ്ട് വ്യത്യാസം എഴുതുക.

ഭൂകാല ഇന്ത്യയിലെ പ്രധാന വാണിജ്യകേന്ദ്രങ്ങൾ



(ഇന്ത്യയുടെ രൂപരേഖ പൂർത്തീകരിച്ച് ഉത്തരക്കടലാസിനൊപ്പം തിരികെ നൽകേണ്ടതാണ്.)