

सर्व शिक्षा अभियान  
सब पढ़ें सब बढ़ें

**ഒന്നാം പാദവാർഷിക മൂല്യനിർണ്ണയം 2015-16**

സ്റ്റാൻറേർഡ് :IV

വിഷയം: ഗണിതം

സമയം : 2 മണിക്കൂർ  
ആകെ സ്കോർ : 25

നമ്പർ	പ്രവർത്തനത്തിന്റെ പേര്	ശ്രേഡ്
1	പ്രശ്നോത്തരി	
2	ലൈബ്രറിയും പുസ്തകങ്ങളും	
3	കലണ്ടർ കൗതുകം	
4	തീവണ്ടി സമയം	
5	കൈത്താങ്ങ്	
	ഓവറോൾ ശ്രേഡ്	

കുട്ടിയുടെ പേര് :

വിദ്യാലയത്തിന്റെ പേര് :

ടീച്ചറുടെ പേരും ഒപ്പും :

രക്ഷിതാവിന്റെ പേരും ഒപ്പും :

വിവേകപുരം എൽ പി സ്കൂളിൽ ഗണിത ക്ലബിന്റെ നേതൃത്വത്തിൽ നടന്ന പ്രശ്നോത്തരിയിൽ അനുവിന് ലഭിച്ച ചോദ്യങ്ങൾ താഴെ കൊടുക്കുന്നു. ശരിയായ ഉത്തരം കണ്ടെത്താൻ അനുവിനെ സഹായിക്കാമോ ?

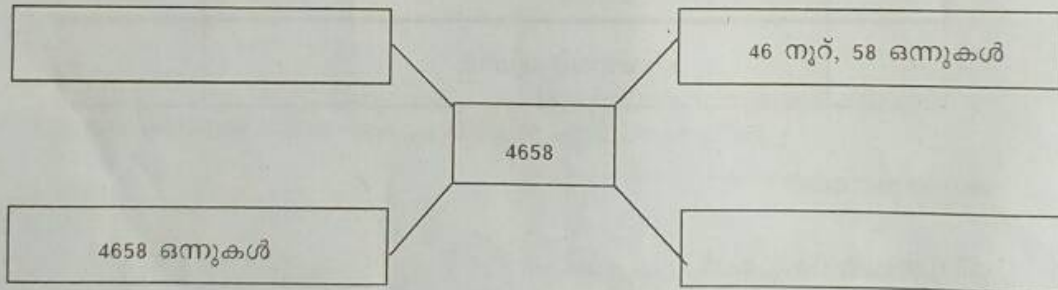
സംഖ്യ എഴുതുക

1. 7 ആയിരം, 8 നൂറ്, 1 പത്ത്, 5 ഒന്ന്.

2. 5 ആയിരം, 4 പത്ത്.

3. 6 ആയിരം, 18 പത്ത്, 7 ഒന്നുകൾ.

അടുത്ത ചോദ്യം 4658 നെ വ്യത്യസ്ത രീതിയിൽ എഴുതാനായിരുന്നു. അനുവിനെ സഹായിക്കാമോ ?



വിവേകപുരം എൽ പി സ്കൂളിലെ കുട്ടികൾ വായനാവാർത്തോടനുബന്ധിച്ച് സമീപ പ്രദേശങ്ങളിലെ ലൈബ്രറികൾ സന്ദർശിച്ചു. ഓരോ ലൈബ്രറിയിലേയും പുസ്തകങ്ങളുടെ എണ്ണം താഴെ കൊടുക്കുന്നു.

ലൈബ്രറിയുടെ പേര്	പുസ്തകങ്ങളുടെ എണ്ണം
ഗാന്ധിസ്മാരക ലൈബ്രറി	7815
വീര പഴശ്ശി ലൈബ്രറി	6342
വിവേകോദയം വായനശാല	7841
പുലരി ആർട്സ് ക്ലബ്ബ്	3879
നവചേതന ഗ്രന്ഥശാല	9103
സ്വാതിതിരുനാൾ ലൈബ്രറി	6378

1. ഏറ്റവും കൂടുതൽ പുസ്തകങ്ങളുള്ള ലൈബ്രറിയുടെ പേര്

2. ഏറ്റവും കുറവ് പുസ്തകങ്ങളുള്ള ലൈബ്രറിയുടെ പേര്

3. ലൈബ്രറിയിലെ പുസ്തകങ്ങളുടെ എണ്ണം കുറഞ്ഞതിൽ നിന്നും കൂടിയതിലേക്ക് എന്ന ക്രമത്തിൽ എഴുതുക.

വിവേകപുരം സ്കൂളിൽ ഗാന്ധിജയന്തി ആഘോഷത്തെക്കുറിച്ച് ആലോചന നടക്കുകയാണ്. പരിസ്ഥിതി ക്ലബ്ബിന്റെ ആഭിമുഖ്യത്തിൽ സേവനവാരം നടത്തണം. ഒരു കലണ്ടർ വേണം. മീനൂവിന് കിട്ടിയത് ഭാഗികമായി അച്ചടിപതിഞ്ഞതും കീറിയതുമായ ഒരു കലണ്ടറാണ്. ആ കലണ്ടറിന്റെ ഭാഗം താഴെ കൊടുക്കുന്നു.

2015 ഒക്ടോബർ

വ്യാഴം		ശനി
1		
	9	

1. 2015 ലെ ഗാന്ധിജയന്തി ഏത് ദിവസമാണ് ?

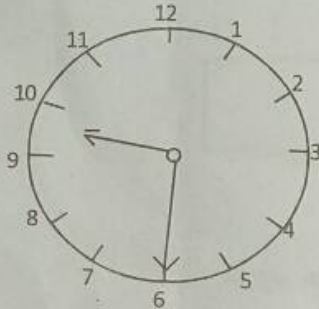
2. 2015 ഒക്ടോബർ മാസത്തെ ആദ്യ ഞായറാഴ്ച എത്രാം തിയ്യതിയിലായിരിക്കും ?

3. 2015 സെപ്തംബർ മാസം 29 - ൾ തിയ്യതി ഏത് ദിവസമാണ് ?

4. കലണ്ടർ ഭാഗത്തെ വിട്ടുപോയ കോളങ്ങൾ പൂരിപ്പിക്കുക.

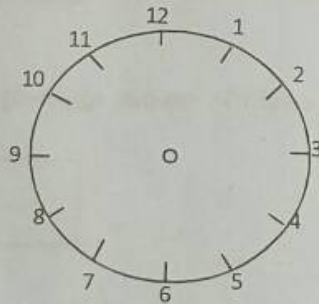
1. നേത്രാവതി എക്സ്പ്രസ്സ് രാവിലെ തിരുവനന്തപുരത്തു നിന്ന് പുറപ്പെട്ട സമയം ക്ലോക്കിൽ രേഖപ്പെടുത്തിയിരിക്കുന്നു.

ക്ലോക്ക് നോക്കി സമയം എഴുതുക.



2. നേത്രാവതി എക്സ്പ്രസ്സ് 14.10 ന് എറണാകുളത്ത് എത്തി. ഈ സമയം 12 മണിക്കൂർ ക്ലോക്കിൽ എത്രയായിരിക്കും ?

3. എറണാകുളത്ത് നിന്ന് 80 മിനിറ്റ് കൂടി യാത്ര ചെയ്ത് വണ്ടി തൃശൂർ സ്റ്റേഷനിലെത്തി. തൃശൂർ സ്റ്റേഷനിലെത്തിയ സമയം ക്ലോക്കിൽ വരച്ചു കാണിക്കുക.



4. നേത്രാവതി എക്സ്പ്രസ്സ് തിരുവനന്തപുരത്തുനിന്ന് തൃശൂർ എത്താൻ വേണ്ടി വന്ന ആകെ സമയം എഴുതുക.