

సంగ్రహణాత్మక మదింపు - 1 - 2016 - 2017

సాంఘికశాస్త్రం
(తెలుగు మీడియం)

పార్టు - ఎ & బి

తరగతి : 8)

(గరిష్ట మార్కులు: 80)

(సమయం : 2.45 గం॥

మార్కులు: 60

పార్టు - ఎ

సమయం: 2 గం॥

సూచనలు:

1. ప్రశ్నాపత్రము చదువుకోవడానికి 15 నిమిషములు, జవాబులు రాయడానికి 2.30 గంటలు కేటాయించబడినది.
2. పార్ట్-ఎ ప్రశ్నలకు జవాబు పత్రంలో జవాబులు రాయాలి.
3. పార్ట్-ఎ ప్రశ్నాపత్రాన్ని విద్యార్థులు తమ వెంట తీసుకువెళ్ళవచ్చును.
4. మ్యాప్ మరియు పార్ట్-బి (బిట్ పేపర్)ను జవాబు పత్రానికి జతచేసి, ఇన్విజిలేటరుకు ఇవ్వాలి.

* * *

సెక్షన్ - 1

సూచనలు: 1) ఈ క్రింది నాలుగు ప్రశ్నలకు సమాధానాలు వ్రాయండి.

2) ప్రతి ప్రశ్నకు 8 మార్కులు.

4X8=32

1. కొత్త పాఠశాలలు, కళాశాలలు నెలకొల్పటానికి పటాలు ఎలా ఉపయోగపడవచ్చో చెప్పండి ? దీని కోసం ఏ ఏ పటాలను అధ్యయనం చేయవలసి ఉంటుంది ?

(లేదా)

విదేశీ బట్టలు తగులబెడుతున్న దాంట్లో పాల్గొంటున్న విద్యార్థిగా మిమ్మల్ని మీరు ఊహించుకోండి. ఆ రోజు ఏమి జరిగి ఉంటుంది ? అప్పుడు మీ ఉద్వేగాలు ఎలా ఉంటాయో వివరించండి.

[Turn Over

2. అనంతపురం నెలసరి సగటు ఉష్ణోగ్రతలు క్రింది విధంగా ఉన్నవి.

నెల	గరిష్ట °C	కనిష్ట °C
జనవరి	30	17
ఫిబ్రవరి	33	19
మార్చి	37	22
ఏప్రిల్	39	26
మే	39	26
జూన్	35	25
జూలై	33	24
ఆగష్టు	33	24
సెప్టెంబరు	33	23
అక్టోబర్	32	23
నవంబర్	30	20
డిసెంబర్	29	18

పట్టిక ఆధారంగా క్రింది ప్రశ్నలకు జవాబులు రాయండి.

1. అనంతపురంలో సంవత్సరంలో అత్యధిక గరిష్ట ఉష్ణోగ్రత, అతి తక్కువ కనిష్ట ఉష్ణోగ్రతకు మధ్యగల తేడా ఎంత ?
2. అనంతపురంలో బాగా వేడిగా ఉండే మూడు నెలలు ఏవి ?
3. మే నెలలో గరిష్ట, కనిష్ట సగటు ఉష్ణోగ్రతలలో తేడా ఎంత ?
4. అనంతపురంలో నవంబర్లో ఎంత చలిగా ఉంటుంది ?

(లేదా)

బెంగాల్ విభజింపబడిన 1905 అక్టోబరు 16ను విషాద దినంగా పాటించారు. ఆ రోజు బెంగాల్లో ఎవరూ వంట చెయ్యలేదు. దుకాణాలు అన్నింటిని మూసివేశారు. కలకత్తాలో హర్తాళ్ ప్రకటించారు. ప్రజలు గంగానదిలో స్నానం చేసి 'వందేమాతరం' పాడుతూ వీధుల్లో ఊరేగారు. బెంగాల్ రెండు భాగాల ఐక్యతకు చిహ్నంగా ప్రజలు ఒకరికొకరు రాళ్ళీ కట్టుకున్నారు. ఆ రోజు సాయంత్రం 75,000 మంది ప్రజలు హాజరైన రెండు బహిరంగ సభలలో ఆనందమోహన్ బోస్, సురేంద్రనాథ్ బెనర్జీ ఉపన్యసించారు.

పై సమాచారం చదివి, క్రింది ప్రశ్నలకు జవాబులు రాయుము.

1. విషాద దినంగా పాటించిన రోజు ఏది ?
2. ప్రజలు ఏ నదిలో స్నానం చేసి, ఏ గీతం పాడారు ?
3. బెంగాల్ ఐక్యతకు చిహ్నంగా ప్రజలు ఏమి చేశారు ?
4. బహిరంగ సభలలో ఉపన్యసించినది ఎవరు ?

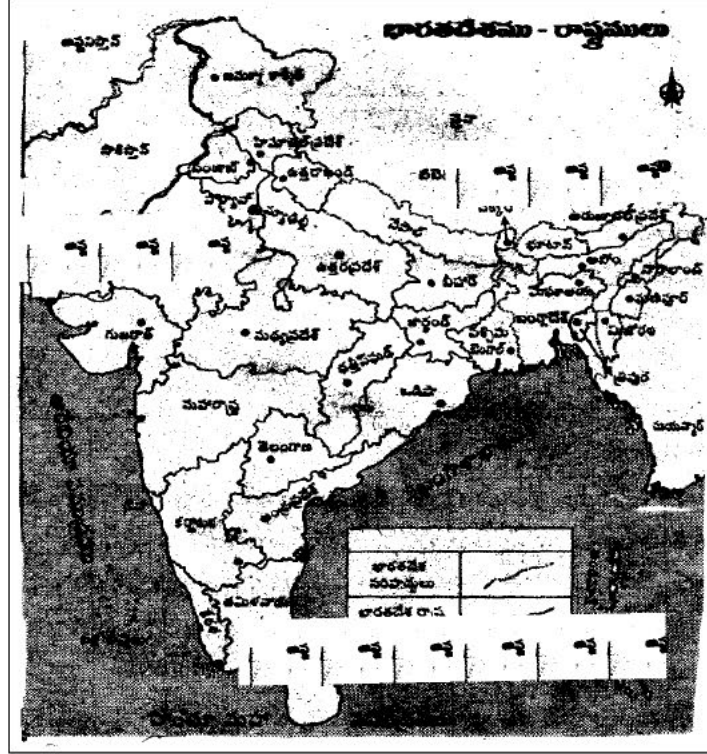
[Contd..on 3rd page

3. భోపాల్, ఢిల్లీ, ముంబాయి, సిమ్లాలో ఏ రెండు ప్రదేశాలు ఒకే రకమైన ఉష్ణోగ్రత తీరును కలిగి ఉంటాయి. ఈ రెండు ప్రదేశాల మధ్య పోలికలు, కారణాలు వివరించండి ?

(లేదా)

ఎందరో మహానుభావుల త్యాగాల ఫలితంగా సాధించుకున్న స్వాతంత్ర్య ఫలాలు నేడు అందరికీ అందాయా ? దీనిపై మీ అభిప్రాయం తెలపండి ?

4.



పైన ఇవ్వబడిన పటాన్ని చదివి, క్రింది ప్రశ్నలకు సమాధానాలిమ్ము.

1. బంగాళాఖాతంలో గల దీవులు ఏవి ?
2. ఆంధ్రప్రదేశ్ ఉత్తరాన ఉన్న రాష్ట్రాలు ఏవి ?
3. భారతదేశ ఈశాన్య దిక్కున గల రెండు రాష్ట్రాల పేర్లు రాయుము ?
4. భారతదేశ వాయువ్య సరిహద్దున గల దేశముల పేర్లు తెలుపుము ?

(లేదా)

- మీకివ్వబడిన భారతదేశ పటంలో 1. కోల్కత్తా 2. చెన్నై 3. ముంబై
4. అమరావతి లను గుర్తించుము.

[Turn Over

సెక్షన్ - 2

సూచనలు: 1) ఈ క్రింది ఐదు ప్రశ్నలకు సమాధానాలు వ్రాయండి.

2) ప్రతి ప్రశ్నకు 4 మార్కులు.

5×4=20

5. జమీందారులు చిన్న కోటల్లాంటి ఇళ్లలో ఉంటూ సైన్యాన్ని ఎందుకు కలిగి ఉండేవాళ్ళు ?
6. ప్రజల న్యాయమైన కోరికలకు అధికారులు ఒప్పుకోకపోతే ప్రజలు ఏం చేయాలి ?
7. బ్రిటీష్ వాళ్ళు తయారుచేసిన పటాలకు ఆల్ ఇండిస్ లేదా టాలమ్ తయారు చేసిన పటాల మధ్య భేదాలు ఏమిటి ?
8. మతతత్వం, లౌకికవాదంలోని సున్నితమైన అంశాలను వివరించండి ?
9. ఉష్ణోగ్రత, వర్షపాతం జీవితాలను ప్రభావితం చేస్తాయని ఎట్లు చెప్పగలవు ?

సెక్షన్ - 3

సూచనలు: 1) ఈ క్రింది నాలుగు ప్రశ్నలకు సమాధానాలు వ్రాయండి.

2) ప్రతి ప్రశ్నకు 2 మార్కులు.

4×2=8

10. భారతదేశంలో ఋతువులు ఎన్ని ? అవి ఏవి ?
11. దేశ విభజనకు దారితీసిన ఏవైనా రెండు ఘటనలు పేర్కొనుము ?
12. ఎస్కామోల సామూహిక జీవనాన్ని ప్రశంసించండి ?
13. భూగోళంపై భూమధ్యరేఖ, కర్కటరేఖ, మకరరేఖ, ఆర్కిటిక్ మరియు అంటార్కిటిక్ వలయాలను గీయండి ?

* * * * *

సంగ్రహణాత్మక మదింపు - 1 - 2016 - 2017

సాంఘికశాస్త్రం (తెలుగు మీడియం)

పార్టు - బి

తరగతి : 8)

(మార్కులు: 20)

(సమయం: 30 ని॥

విద్యార్థి పేరు:..... క్రమ సంఖ్య:.....

సామర్థ్యాలు	విషయావగాహన	ఇ.చ.వ్యా	సమాచార నైపుణ్యాలు	సామాజిక అంశాలపై ప్రతిస్పందన	పట నైపుణ్యాలు	ప్రశంస, సున్నితత్వం	మొత్తం
ప్రశ్నల సంఖ్య	5,6,7,10,11 పార్టు-బి 15-29, 33	1	2, 9	3	4, 13 పార్టు-బి 14, 30	8,12 పార్టు-బి 31,32	
కేటాయించిన మార్కులు	32	8	12	8	12	8	80
పొందిన మార్కులు							
గ్రేడు							

పార్టు - బి

సూచనలు: ఎ) సరియైన జవాబును బ్రాకెట్‌నందు గుర్తించుము.

బి) ప్రతి ప్రశ్నకు 1 మార్కు.

సి) కొట్టివేతలు, దిద్దడం పరిగణనలోనికి తీసుకొనబడవు. **20×1=20**

14. దీనియందు అనేక పటాలు ఉంటాయి. ()

ఎ) నోట్‌బుక్ బి) టెక్స్‌బుక్ సి) అట్లాస్ డి) మ్యాపు పుస్తకం

15. నార్వేను దేశము అని అంటారు. ()

ఎ) ఉదయించే సూర్యుడు బి) అర్ధరాత్రి సూర్యుడు
సి) సాయంకాల సూర్యుడు డి) మిట్టమధ్యాహ్న సూర్యుడు

16. మకర రేఖపై సూర్యుడు న ప్రకాశిస్తాడు. ()

ఎ) ఫిబ్రవరి 22 బి) మార్చి 21 సి) సెప్టెంబర్ 23 డి) డిసెంబర్ 22


[Turn Over

SET - II

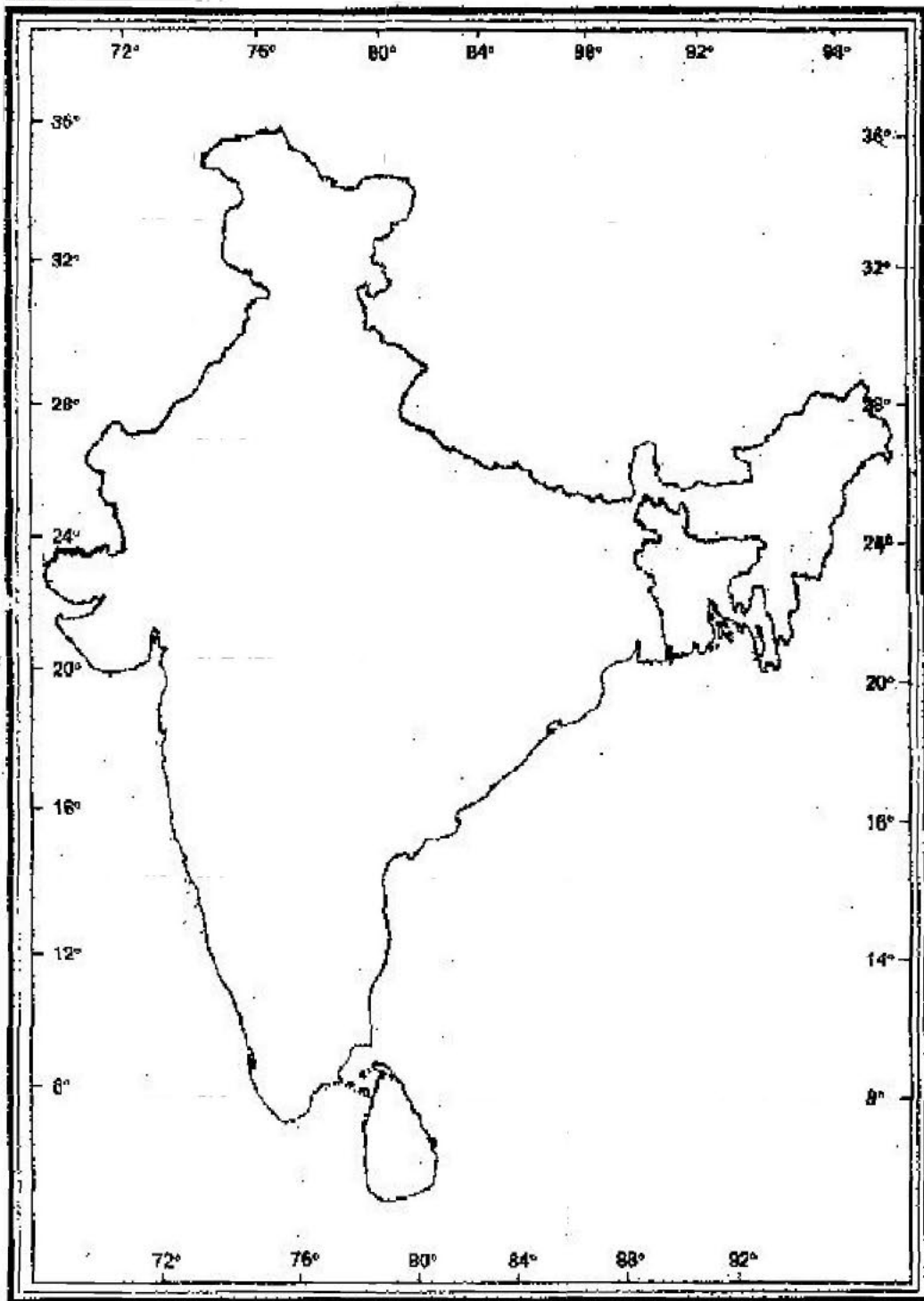
17. వోల్టేజీ కేంద్రం లో ఉన్నది. ()
 ఎ) అమెరికా బి) ఆస్ట్రేలియా
 సి) ఆర్కిటిక్ ప్రాంతం డి) అంటార్టికా
18. టండ్రా ప్రాంతాలలో సూర్యుడు ఉదయించని నెలలు ఏవి ? ()
 ఎ) ఫిబ్రవరి, మార్చి, ఏప్రిల్ బి) మే, జూన్, జూలై
 సి) ఆగష్టు, సెప్టెంబర్, అక్టోబర్ డి) నవంబర్, డిసెంబర్, జనవరి
19. ధృవ ప్రాంతాలలో రవాణాకు ఉపయోగించే స్లెడ్జ్ బళ్లను ()
 లాగుతాయి.
 ఎ) ఒంటెలు బి) ధృవపు ఎలుగుబంట్లు
 సి) సీల్ చేపలు డి) కుక్కలు
20. భూమి ఉపరితలానికి చేరుకునే సౌర వికిరణాన్ని అంటారు. ()
 ఎ) సూర్యపుటం బి) వికిరణం
 సి) పతన కోణం డి) పరావర్తనం
21. పటాల తయారీదారులకు పితామహుడు ()
 ఎ) అనాక్సిమాండర్ బి) గెరార్డ్స్ మెర్కటర్
 సి) ఆల్బ్రెచిట్ డి) టాలమీ
22. శాశ్వత భూమి శిస్తు విధానం ప్రవేశపెట్టిన గవర్నర్ జనరల్ ()
 ఎ) వారన్ హేస్టింగ్స్ బి) వెల్లెస్లీ సి) కార్న్వాలీస్ డి) డల్హౌసి
23. తెలంగాణాలో భూస్వాములను అని అంటారు. ()
 ఎ) పట్వారీ బి) పటేల్ సి) జమీందారు డి) దొర
24. 1800 ప్రాంతంలో రాయలసీమ 8 మంది పాలనలో ఉండేది. ()
 ఎ) పాలెగార్లు బి) జమీందార్లు
 సి) భూస్వాములు డి) సామంత రాజులు
25. కృష్ణా పత్రికను స్థాపించినవారు ()
 ఎ) ప్రకాశం పంతులు బి) ముట్టూరి కృష్ణారావు
 సి) దుగ్గిరాల గోపాలకృష్ణయ్య డి) గాడిచర్ల హరిసర్వోత్తమరావు

[Contd..on 3rd page

SET - II

26. భారత జాతీయ కాంగ్రెస్ తొలి సమావేశానికి అధ్యక్షత వహించినవారు. ()
 ఎ) ఎ.ఓ. హ్యూమ్ బి) సర్. ఆర్థర్ కాటన్
 సి) డబ్ల్యు.సి. బెనర్జీ డి) నౌరోజి
27. చౌరీచౌరా సంఘటన జరిగిన సంవత్సరం ()
 ఎ) 1922 బి) 1915 సి) 1920 డి) 1917
28. క్విట్ ఇండియా ఉద్యమ నినాదం ()
 ఎ) చావండి లేదా బ్రతకండి బి) చేయండి లేదా చావండి
 సి) చస్తూ బ్రతకండి డి) లెండి పోరాడండి
29. ముస్లింలీగ్ కావాలంటూ పట్టుబట్టింది. ()
 ఎ) ప్రత్యేక పాకిస్తాన్ బి) హిందూస్తాన్
 సి) బంగ్లాదేశ్ డి) పైవేవీ కావు
30. 
 పై సంఖ్యా రేఖ ఆధారంగా -5°C నుండి 5°C వరకు ఎన్ని డిగ్రీల ఉష్ణోగ్రత తేడా ఉంది ()
 ఎ) 0° బి) -5° సి) 5°C డి) 10°C
31. ధృవాల దగ్గర కంటే వద్ద ఎక్కువ వేడిగా ఉంటుంది. ()
 ఎ) కర్కటరేఖ బి) మకరరేఖ సి) భూమధ్యరేఖ డి) పైవన్నీ
32. బ్రిటీష్ పాలనలో ను దాదాబాయి నౌరోజి అధ్యయనం చేశారు. ()
 ఎ) ఆర్థిక ప్రభావం బి) మత ప్రభావం
 సి) సామాజిక ప్రభావం డి) పైవేవీ కావు
33. గాంధీజీ సంవత్సరంలో దక్షిణాఫ్రికా నుండి భారతదేశానికి తిరిగి వచ్చారు. ()
 ఎ) 1915 బి) 1920 సి) 1930 డి) 1945

* * * * *



* * * * *