

S-7

సర్వశిక్షా అభియాన్ - ఆంధ్రప్రదేశ్  
సంగ్రహణాత్మక మదింపు - I - 2017 - 2018

గణితం

(తెలుగు మీడియం)

తరగతి : 2)

(గరిష్ట మార్కులు : 50) (సమయం : 2-30 గం॥

విద్యా ప్రమాణాలు	సమస్య సాధన		కారణాలు చెప్పడం - నిరూపణలు చేయడం		వ్యక్తపరచడం		అనుసంధానం		ప్రాతినిధ్య పరచడం		మొత్తం	
	రాత	మౌఖికం	రాత	మౌఖికం	రాత	మౌఖికం	రాత	మౌఖికం	రాత	మౌఖికం	రాత	మౌఖికం
ప్రశ్నల సంఖ్య	6-11	1-5	--	12-16	17-20	--	--	21-25	26	27, 28		
కేటాయించిన మార్కులు	20	5		5	5			5	5	5	30	20
సాధించిన మార్కులు												
గ్రేడు												

విద్యార్థి పేరు ..... క్రమ సంఖ్య .....

I. సమస్య సాధన : (25 మార్కులు)

మౌఖికం (5 మార్కులు)

1. మూడంకెల సంఖ్యలలో చిన్నది ఏది ? 1
2. 5 ఒకట్లు, 7 పదులు సూచించు సంఖ్యను చెప్పండి? 1
3. పదుల స్థానంలో '7' గల ఒక సంఖ్యను చెప్పండి? 1
4. రెండు అంకెల మిక్కిలి పెద్ద సంఖ్య ఏది? 1
5. రమణ వద్ద 50 రూపాయలు, ఆనంద్ వద్ద 30 రూపాయలు ఉన్నాయి. ఎవరి వద్ద ఎక్కువ కలవు? 1

[ Turn Over...

రాత లెక్కలు (20 మార్కులు)

6. 847ను విస్తరించి వ్రాయండి.

3

7.  $600 + 50 + 7 =$  \_\_\_\_\_

3

8. 4,7,3 లతో ఏవైనా 5 మూడంకెల సంఖ్యలు వ్రాయండి?

5

9. 384 విస్తరణ రూపం \_\_\_\_\_

3

3 యొక్క స్థాన విలువ \_\_\_\_\_

8 యొక్క స్థాన విలువ \_\_\_\_\_

4 యొక్క స్థాన విలువ \_\_\_\_\_

10. 537లో 3 యొక్క సహజ విలువ \_\_\_\_\_

2

3 యొక్క స్థాన విలువ \_\_\_\_\_

11.  $900 + 50 + 6 =$  \_\_\_\_\_

4

<input type="text"/>	<input type="text"/>	<input type="text"/>
----------------------	----------------------	----------------------

+	<input type="text"/>	<input type="text"/>
---	----------------------	----------------------

	+	<input type="text"/>
--	---	----------------------

---



---



II. కారణాలు చెప్పడం, నిరూపణలు చేయడం.

మాఖికం (5 మార్కులు)

12. 

11	18	17	19
----	----	----	----

 లలో అతిపెద్ద సంఖ్య  1  
అతి చిన్న సంఖ్య

13. క్రమాన్ని పరిశీలించి తరువాత వచ్చు సంఖ్యలు చెప్పండి, కారణం చెప్పండి?  
400, 425, 450, \_\_\_\_\_, \_\_\_\_\_ 1

14. 6, 7, 4, 3, 9 1  
చిన్న సంఖ్య నుండి పెద్ద సంఖ్య       
పెద్ద సంఖ్య నుండి చిన్న సంఖ్య

15. పదుల స్థానంలో '0' ఉండే విధంగా వచ్చే మూడంకెల సంఖ్యలు మూడు చెప్పండి? 1  
16. అతి పెద్ద సంఖ్యను చెప్పండి? 1

62	52	32	42
----	----	----	----

III. వ్యక్తపరచడం :

రాత లెక్కలు (5 మార్కులు)

17. 407 ను అక్షరాలలో వ్రాయండి? 1  
18. మూడు వందల ఐదును అంకెలలో వ్రాయండి? 1  
19. గుర్తులను ఉపయోగించండి?  $246 = 200 \square + 40 \square + 6$  1  
20. 123లో ఎన్ని వందలు, ఎన్ని పదులు, ఎన్ని ఒకట్లు ఉన్నాయి? 2

[ Turn Over...

IV. అనుసంధానం :

మౌఖికం (5 మార్కులు)

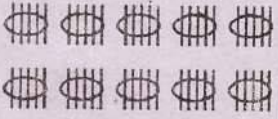
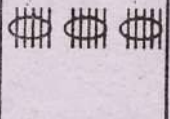

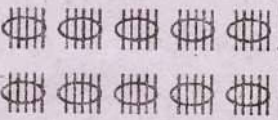

21.	705లో '0' స్థాన విలువ	367
22.	425కు ముందు సంఖ్య	వందలు
23.	$300+60+7$	8
24.	795లో 7 స్థానం	0
25.	821లో 8 సహజ విలువ	424

V. ప్రాతినిధ్యపరచడం :

రాత లెక్కలు (5 మార్కులు)

26. పుల్లల కట్టలను లెక్కించి, సంఖ్యను వ్రాయండి.

5

	+		+		=	
	+		+		=	

27. ఉపాధ్యాయుడు, స్నాప్, క్లాప్, ట్యాప్ శబ్దాలు చేసి వాటి ఆధారంగా ఏవైనా 3 సంఖ్యలు చెప్పించండి.

3

28. 350 రూపాయలకు ఏవ నోట్లు ఎన్ని ఇవ్వాలో చెప్పండి?

2