

S-3

సర్వశిక్షా అభియాన్ - ఆంధ్రప్రదేశ్
సంగ్రహణాత్మక మదింపు - I - 2017 - 2018

గణితం

www.tlm4all.com

(తెలుగు మీడియం)

తరగతి : 1)

(గరిష్ట మార్కులు : 50)

(సమయం : 2-30 గం॥

విద్యా ప్రమాణాలు	సమస్య సాధన		కారణాలు చెప్పడం - నిరూపణలు చేయడం		వ్యక్తపరచడం		అనుసంధానం		ప్రాతినిధ్య పరచడం		మొత్తం	
	రాత	మౌఖికం	రాత	మౌఖికం	రాత	మౌఖికం	రాత	మౌఖికం	రాత	మౌఖికం	రాత	మౌఖికం
ప్రశ్నల సంఖ్య	5-9	1-4	--	10-14	15-18	--	--	19	21	20		
కేటాయించిన మార్కులు	20	5		5	5			5	5	5	30	20
సాధించిన మార్కులు												
గ్రేడు												

విద్యార్థి పేరు క్రమ సంఖ్య

I. సమస్య సాధన : (25 మార్కులు)

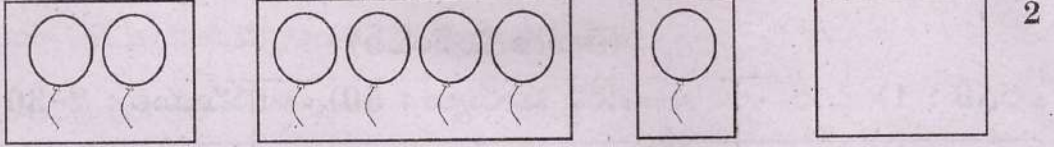
మౌఖికం (5 మార్కులు)

1. 7 ముందు వచ్చే సంఖ్య ఏది ? 1
2. పలక, నల్లబల్లలలో ఏది పెద్దది ? 1
3. 4,6ల మధ్య ఉన్న అంకె చెప్పండి ? 1
4. ఇటుక ఆకారంలో ఉండే వస్తువులు రెండు చెప్పండి. 2

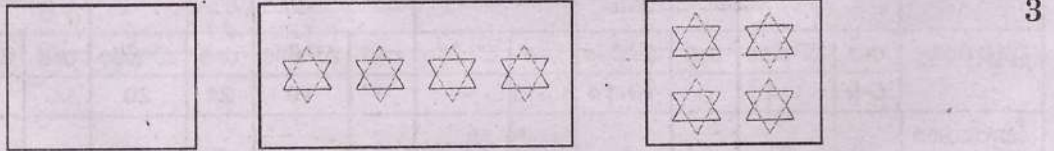
[Turn Over...

రాత ప్రశ్నలు (20 మార్కులు)

5. బొమ్మలు చూడండి. లెక్కించి గళ్ళలో సరైన సంఖ్యను వ్రాయండి?



$$\boxed{2} + \boxed{4} + \boxed{1} = \boxed{}$$



$$\boxed{} + \boxed{} = \boxed{}$$


6. ఖాళీ గడులలో అంకెలతో నింపండి.

2½

1	2				6			9
---	---	--	--	--	---	--	--	---

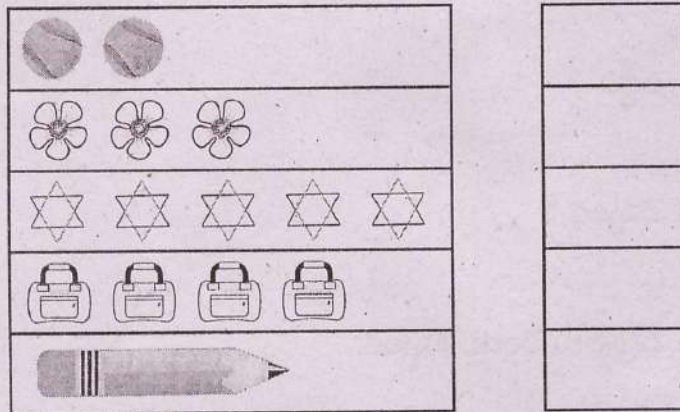
7. క్రింది పెన్సిళ్ళు లెక్కించండి మొత్తం పెన్సిళ్ళ సంఖ్యను వ్రాయండి.

2½

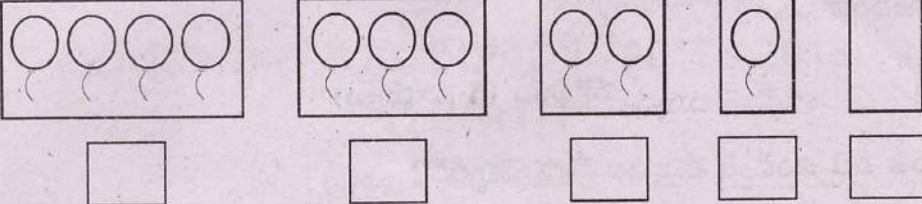


8. లెక్కించండి. సంఖ్యలు వ్రాయండి.

5



[Contd...3

9.  5

II. కారణాలు చెప్పడం - నిరూపణలు చేయడం.

మౌఖికం (5 మార్కులు)

10. 4, 8 లలో ఏది చిన్నది ? 1
11. 2, ---, 4 మధ్య సంఖ్య ఏది? 1
12. 6కు సున్న కలిపితే ఎంత వస్తుంది ? 1
13. 8 తరువాత వచ్చు అంకె ఏది ? 1
14. 6, 3 లలో ఏది పెద్దది ? 1


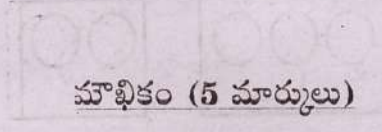

III. వ్యక్తపరచడం :

రాత లెక్కలు (5 మార్కులు)

15. 5ను అక్షరాలలో వ్రాయండి? 1
16. 7, 1, 3, 4 అంకెలను పెద్ద అంకె నుండి చిన్న అంకెకు వ్రాయండి? 2
17. "ఎనిమిది" ను అంకెగా వ్రాయండి? 1
18. "ఏమీలేదు" అనే దానిని దేనితో సూచిస్తారు? 1

[Turn Over...

IV. అనుసంధానం :



మాఖికం (5 మార్కులు)

19. బంతి వలె ఉండే 5 వస్తువుల పేర్లు చెప్పండి?

5

V. ప్రాతినిధ్యపరచడం :

మాఖికం (5 మార్కులు)

20. పాఠ్య పుస్తకంలోని పేజీ నెం:15లో గల చిత్రం చూపుతూ ఏమేమి ఎన్ని ఉన్నాయో చెప్పించండి?

రాత లెక్కలు (5 మార్కులు)

21. చిత్రంను చూసి \triangle , \square , \bigcirc ఈ ఆకారాలు ఎన్ని ఉన్నాయో లెక్కించి, వాటి ఎదురుగా వ్రాయండి?

