

## سبق نمبر ۸ : خلیات اور حیاتی ٹیکنالوجی

سوال نمبر ۱۔ (الف) : (کثیر متبادل سوالات) دیے گئے متبادلات میں سے صحیح متبادل کا حرف تہجی ضمنی سوال کے نمبر کے سامنے لکھئے۔ (ہر ایک کے لئے ایک نمبر)

(i) خلیوں کی ساخت، خلیوں کی اقسام اور خلیوں کے اندرونی حصوں کا مطالعہ۔۔۔۔۔۔۔۔۔۔ کہلاتا ہے۔

(a) حیاتیات	(b) خلیات	(c) خورد بینی حیاتیات	(d) حیاتی ٹیکنالوجی
-------------	-----------	-----------------------	---------------------

(ii) ساق خلیات۔۔۔۔۔۔۔۔۔۔ میں پائے جاتے ہیں۔

(a) آنتوں	(b) جگر	(c) مغز استخوان	(d) دماغ
-----------	---------	-----------------	----------

(iii) بیسی لس تھیورینجی نیسیس نامی بیکٹریا کے مخصوص جین سے۔۔۔۔۔۔۔۔۔۔ کپاس تیار کی جاتی ہے۔

(a) بی بی ٹی کپاس	(b) بی ایل کپاس	(c) بیکٹریائی کپاس	(d) حیاتی کپاس
-------------------	-----------------	--------------------	----------------

(iv) ذیابیطیس مرض کے علاج کے لیے انسولین نامی محرکاب۔۔۔۔۔۔۔۔۔۔ خورد بینی جاندار سے حاصل کیا جاتا ہے۔

(a) پروٹوزا	(b) چھپوند	(c) وائرس	(d) بیکٹریا
-------------	------------	-----------	-------------

(v) ڈی این اے فننگر پرنٹنگ تکنیک کا استعمال۔۔۔۔۔۔۔۔۔۔ میں ہوتا ہے۔

(a) خلوی سائنس	(b) جینیاتی سائنس	(c) فارنسک سائنس	(d) ماڈرن سائنس
----------------	-------------------	------------------	-----------------



## سبق نمبر ۸ : خلویات اور حیاتی ٹکنالوجی

سوال نمبر ۱۔ (ب) : (معروضی سوالات) درج ذیل سوالات حل کیجئے۔

(a) دی گئی نسبت کو پہچان کرنا مکمل نسبت مکمل کیجئے۔ یا۔ ارکان کے درمیان باہمی تعلق معلوم کیجئے۔ (ہر ایک کے لئے ایک نمبر)

(i) انسولین : ذیابیطیس : : انٹریوکن : \_\_\_\_\_

(ii) شہد کی مکھی : شہد کی کھی پالن : : کچھوا : \_\_\_\_\_

(iii) سورج مکھی : یورینیم اور آرسینک : : ڈی اینو کو کس : \_\_\_\_\_

(iv) سفید انقلاب : ڈیری کی صنعت : : سبز انقلاب : \_\_\_\_\_

(v) بی ٹی بیگن : تھیورینجی نیسیس : : گولڈن چاول : \_\_\_\_\_

(b) متفرق جز علیحدہ کیجئے۔ (ہر ایک کے لئے ایک نمبر)

(i) یوریا، میلاچیان، ڈی ڈی ٹی، کلوروپائریفائس

(ii) روہو، کٹلا، سانپ، جھینگا

(iii) نمک ملانا، تیل ملانا، پکانا، خشک کرنا

سوال نمبر ۱۔ (ب) : (معروضی سوالات) درج ذیل سوالات حل کیجئے۔  
**(c)** مناسب جوڑ لگائیے۔ (ہر ایک کے لئے ایک نمبر)

۲

گروپ الف	گروپ ب
(۱) ٹرانس جینک آلو	(a) انٹرفیران
(۲) کلوننگ	(b) خوردنی ٹیکہ
	(c) ڈولی بھیڑ
	(d) الفالفا

۱

گروپ الف	گروپ ب
(۱) انسولین	(a) کینسر
(۲) سو میٹوا سٹین	(b) انیمیا
	(c) بوناپن
	(d) ذیابٹیس

۳

گروپ الف	گروپ ب
(۱) سیل تھیراپی	(a) جگر
(۲) اعضاء کی پیوند کاری	(b) آنکھ
	(c) ذیابٹیس
	(d) بی ٹی کپاس

سوال نمبر ۱۔ (ب) : (معروضی سوالات) درج ذیل سوالات حل کیجئے۔

(d) صحیح یا غلط لکھئیے۔ (ہر ایک کے لئے ایک نمبر)

- (i) بالغ ساق خلیات کو انسانی خون سے حاصل کیا جاسکتا ہے۔
- (ii) منویہ اور بیض خلیے کے علاوہ جسم کے تمام خلیات جنسی خلیات کہلاتے ہیں۔
- (iii) بھارت میں ڈاکٹر ورگھس کورین کو سفید انقلاب کے بانی کہا جاتا ہے۔
- (iv) حیاتی ٹیکنالوجی کے ذریعے زراعت میں فصلوں کی مختلف اقسام تیار کی گئی ہیں۔
- (v) ذیابیطیس جیسے مرض کے علاج کے لئے پہلے گھوڑوں کے جسم سے انسولین حاصل کیا جاتا تھا۔

(e) نام لکھئیے۔ (ہر ایک کے لئے ایک نمبر)

- (i) خلیوں کی ساخت، خلیوں کی اقسام اور خلیوں کے اندرونی حصوں کا مطالعہ۔
- (ii) نیلا انقلاب کے لئے بھارتی حکومت کا اقدام۔
- (iii) جنیاتی اصلاح شدہ کپاس۔
- (iv) مرنے کے بعد عطیہ کئے جانے والے اعضاء۔

سوال نمبر ۲ (الف) : درج ذیل کی سائنسی وجوہات لکھئے۔ (ہر ایک کے لئے دو نمبر)

(i) انسانی جسم میں چند اعضاء بہت زیادہ اہمیت کے حامل ہیں۔

(ii) ڈی این اے فنکٹر پر نٹنگ تکنیک کا استعمال فارنسک سائنس میں ہوتا ہے۔

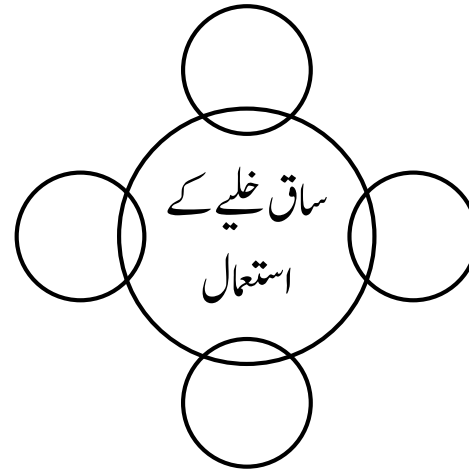
(iii) جنین ساق خلیے کو انسانی خلیات کا سرپرست خلیہ کہتے ہیں۔

(iv) حیاتی ٹیکنالوجی کے ذریعے زراعت کے شعبے میں فصل کی پیداوار اور تنوع بڑھایا گیا ہے۔

(v) ٹرانس جینک آلو کو خوردنی ٹیکہ کہا جاتا ہے۔

سوال نمبر ۲ (ب) : دی گئی ہدایتوں کے مطابق درج ذیل سوالات کے جوابات لکھئے۔ (ہر ایک کے لئے دو نمبر)

(i) خالی دائروں میں مناسب الفاظ لکھ کر خاکہ دوبارہ بنائیے۔



سوال نمبر ۲ (ب) : دی گئی ہدایتوں کے مطابق درج ذیل سوالات کے جوابات لکھئے۔ (ہر ایک کے لئے دو نمبر)

(ii) مختصر نوٹ لکھئے: ادویاتی نباتات کی اہمیت

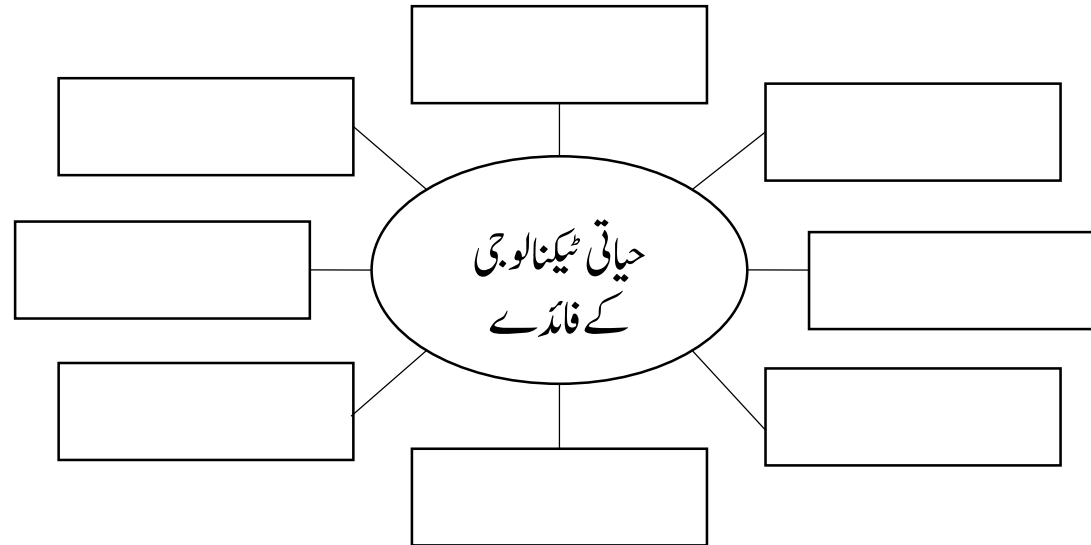
(iii) حیاتی ٹیکنالوجی کیا ہے؟ اس کی مختلف شاخوں کے نام لکھئے۔

(iv) زراعت کے میدان میں حیاتی ٹیکنالوجی کے فوائد بیان کیجئے۔

(v) کلوننگ کیا ہے؟ بہتر انسانی صحت کے لئے اس کے استعمال لکھئے۔

سوال نمبر ۳ : دی گئی ہدایتوں کے مطابق درج ذیل سوالات کے جوابات لکھئے۔ (ہر ایک کے لئے تین نمبر)

(i) درج ذیل خاکہ مکمل کیجئے۔



سوال نمبر ۳: دی گئی ہدایتوں کے مطابق درج ذیل سوالات کے جوابات لکھئے۔ (ہر ایک کے لئے تین نمبر)

(ii) ذیل کی جدول کی اصطلاحات کی وضاحت لکھئے۔

اصطلاح	وضاحت
(۱) انسولین	
(۲) جین تھراپی	
(۳) انٹرفیران	
(۴) خوردنی ٹیکہ	
(۵) ساق خلیہ	
(۶) اعضاء کی پیوندکاری	

(iii) پھلوں کو سال بھر استعمال کے لئے محفوظ کرنے کے مختلف طریقوں کے نام رواں خاکہ بنا کر لکھئے۔

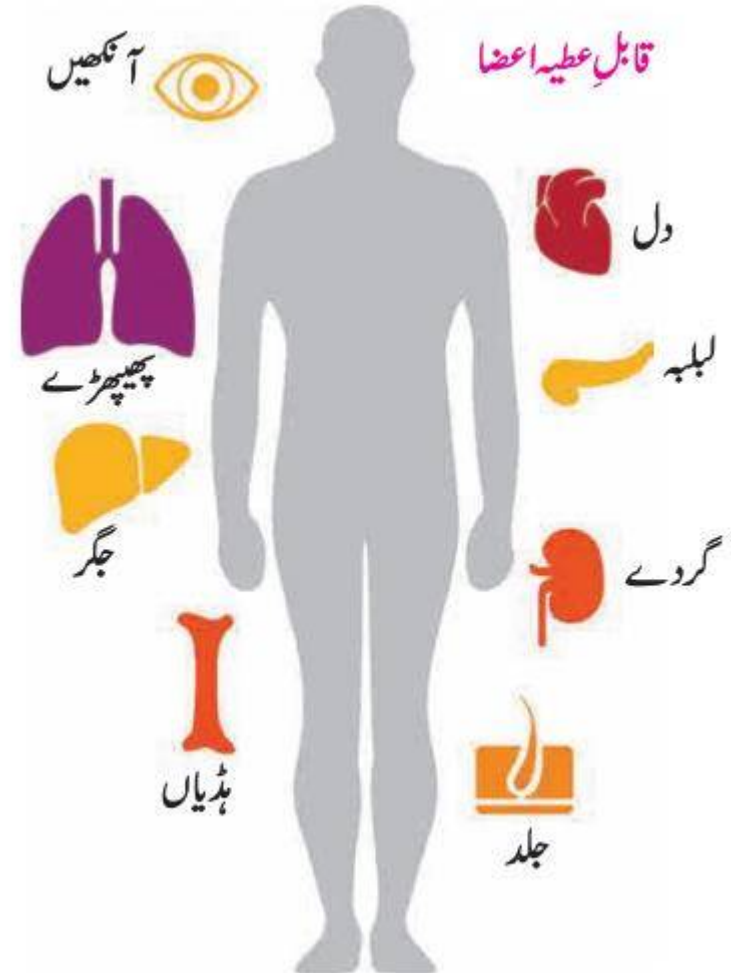
(iv) شعبہ زراعت میں سبز انقلاب کی اہمیت لکھئے۔



سوال نمبر ۳: دی گئی ہدایتوں کے مطابق درج ذیل سوالات کے جوابات لکھئے۔ (ہر ایک کے لئے تین نمبر)

(v) حشرات کش ادویات کے استعمال کے دوران احتیاطی تدابیر لکھئے۔

(vi) شکل میں درج معلومات کا بغور مشاہدہ کیجئے اور اس کی وضاحت اپنے الفاظ میں کیجئے۔



سوال نمبر ۳ : دی گئی ہدایتوں کے مطابق درج ذیل سوالات کے جوابات لکھئے۔ (ہر ایک کے لئے تین نمبر)

(vii) بی ٹی کپاس، بی ٹی بیگن اور گولڈن رائس کے استعمال کے فوائد لکھئے۔

(viii) ٹیکہ کیا ہے؟ انسانی زندگی میں ٹیکہ لگانے کی اہمیت لکھئے۔

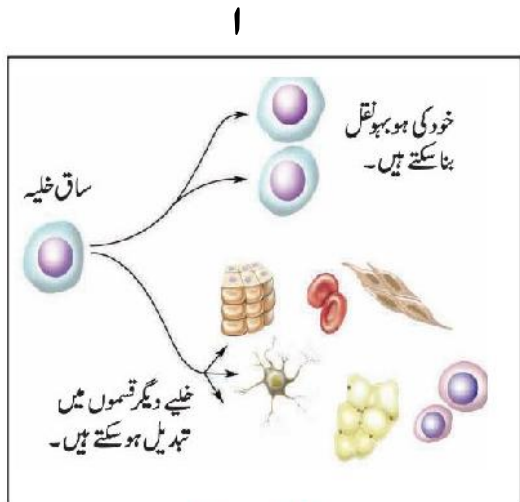
سوال نمبر ۴ : درج ذیل سوالات کے جوابات لکھئے۔ (ہر ایک کے لئے پانچ نمبر)

(i) ٹرانس جینک آکو تیار کرنے کے طریقے کا نامزد خاکہ بنائیے اور اس طریقے کی وضاحت و اہمیت لکھئے۔

(ii) مختلف مثالوں کے ذریعے انسانی زندگی میں حیاتی ٹیکنالوجی کی اہمیت و افادیت لکھئے۔

(iii) مچھلی پالن اور نامیاتی کھادوں کی تیاری کے طریقوں کی وضاحت لکھئے۔

(iv) ذیل سے کسی دو تصاویر کی شناخت کیجئے اور اس سے وابستہ معلومات تحریر کیجئے۔



ساق خلیہ سے علاج



ڈاکٹر ایس ایس سوامی ناتھن



ڈولی (کلوننگ)

## سبق نمبر ۹ : سماجی صحت

سوال نمبر ۱۔ (الف) : (کثیر متبادل سوالات) دیے گئے متبادلات میں سے صحیح متبادل کا حرف تہجی ضمنی سوال کے نمبر کے سامنے لکھئے۔ (ہر ایک کے لئے ایک نمبر)

(i) بڑھتی ہوئی آبادی، ملازمت اور کاروبار میں مقابلہ آرائی، انفرادی خاندان یہ۔۔۔۔۔۔۔۔۔۔ کی وجوہات ہیں۔

(a) لت	(b) ذہنی تناؤ	(c) ناقابل علاج بیماری	(d) گھریلو تنازات
--------	---------------	------------------------	-------------------

(ii) مختلف بیماریاں اور دماغی خلل والے معمر افراد کی صحیح دیکھ بھال نہیں ہونے سے۔۔۔۔۔۔۔۔۔۔ کی تعداد میں اضافہ ہو رہا ہے۔

(a) دو خانوں	(b) مریضوں	(c) بزرگوں کے گھروں	(d) ضعیف لوگوں
--------------	------------	---------------------	----------------

(iii) تھکن، سردرد، نیند نہ لگنا، کانوں میں آواز کا گونجنا، جوڑوں میں درد، بھولنا یہ۔۔۔۔۔۔۔۔۔۔ کی تابکار شعاعوں سے ہوتا ہے۔

(a) نیوکلیری اشیاء	(b) کمپیوٹر اسکرین	(c) سورج	(d) موبائل فون
--------------------	--------------------	----------	----------------

(iv) انسانی۔۔۔۔۔۔۔۔۔۔ نظام شراب نوشی سے بے حد متاثر ہوتا ہے۔

(a) استخراجی	(b) انہضامی	(c) تنفسی	(d) عصبی
--------------	-------------	-----------	----------

(v) دوسروں کا تخلیق کردہ ادب، سافٹ ویئر، ویڈیوز، موسیقی کا غلط استعمال یا غیر قانونی طور پر بیچنا۔۔۔۔۔۔۔۔۔۔ کہلاتا ہے۔

(a) چوری	(b) دھوکہ	(c) پائریسی	(d) سائبر جرم
----------	-----------	-------------	---------------

(vi)----- ذہنی تناؤ سے نجات پانے کا ایک بہترین طریقہ ہے۔

(a) شراب نوشی	(b) سیگریٹ نوشی	(c) مجلسِ قہقہہ	(d) نیند
---------------	-----------------	-----------------	----------

(vii) سائبر جرائم پر قابو پانے کے لئے----- قانون بنایا گیا ہے۔

(a) 2009 کا	(b) 2005 کا	(c) آرٹیکل 49	(d) اطلاعاتی ٹیکنالوجی کا قانون 2000
-------------	-------------	---------------	--------------------------------------

سوال نمبر ۱۔ (ب) : (معروضی سوالات) درج ذیل سوالات حل کیجئے۔

(a) دی گئی نسبت کو پہچان کرنا مکمل نسبت مکمل کیجئے۔ یا۔ ارکان کے درمیان باہمی تعلق معلوم کیجئے۔ (ہر ایک کے لئے ایک نمبر)

(i) لڑکیوں کو مذاق کا نشانہ بنانا: ذہنی تناؤ: نشیلی اشیاء کا استعمال: -----

(ii) لت پیدا کرنے والی اشیاء: منشیات: : کینسر پیدا کرنے والی اشیاء: -----

(iii) ہیکنگ کرنا: سائبر جرم: : دوسروں کے تخلیق کردہ ادب کی چوری: -----

(b) متفریق جز علیحدہ کیجئے۔ (ہر ایک کے لئے ایک نمبر)

(i) سماجی ماحول، سیاسی ماحول، آمدورفت کی سہولت، خلائی میشن

(ii) شراب نوشی، سگریٹ نوشی، پائریسی، منشیات

(iii) تھکن، سردرد، حادثات، کانوں میں آواز کا گونجنا

سوال نمبر ۱۔ (ب) : (معروضی سوالات) درج ذیل سوالات حل کیجئے۔

(c) مناسب جوڑ لگائیے۔ (ہر ایک کے لئے ایک نمبر)

۲

گروپ الف	گروپ ب
(۱) خود فکری	(a) ذہنی تناؤ کم کرنا
(۲) مجلس قبضہ	(b) قانون ۲۰۰۰
	(c) موبائل کا زیادہ استعمال
	(d) خود غرضی

۱

گروپ الف	گروپ ب
(۱) سائبر جرائم	(a) تمباکو کا زیادہ استعمال
(۲) لت	(b) سیلفی لینا
	(c) جوڑوں میں درد
	(d) کسی کے اے ٹی ایم سے پیسے نکالنا

سوال نمبر ۱ (ب) : (معروضی سوالات) درج ذیل سوالات حل کیجئے۔

(d) صحیح یا غلط لکھئیے۔ (ہر ایک کے لئے ایک نمبر)

- (i) اداسی اور احساسِ محرومی میں مبتلا افراد کے لئے مشاورت (کاؤنسلنگ) بہتر طریقہ ہے۔
- (ii) پرمسرت موسیقی سننے سے ذہنی تناؤ میں اضافی ہوتا ہے۔
- (iii) سلام ممبئی فاؤنڈیشن تمباکو سے آزاد سماج کے لئے کوشاں ہے۔

(e) نام لکھئیے۔ (ہر ایک کے لئے ایک نمبر)

- (i) موبائیل کی لت کے اثرات۔
- (ii) تناؤ کو کم کرنے کے طریقے۔
- (iii) سماجی صحت پر اثر انداز ہونے والی بیماریاں۔

سوال نمبر ۲ (الف) : درج ذیل کی سائنسی وجوہات لکھئے۔ (ہر ایک کے لئے دو نمبر)

(i) سماجی صحت کی بہتری کے لئے دوست اور رشتہ داروں کی محفل ہونا ضروری ہے۔

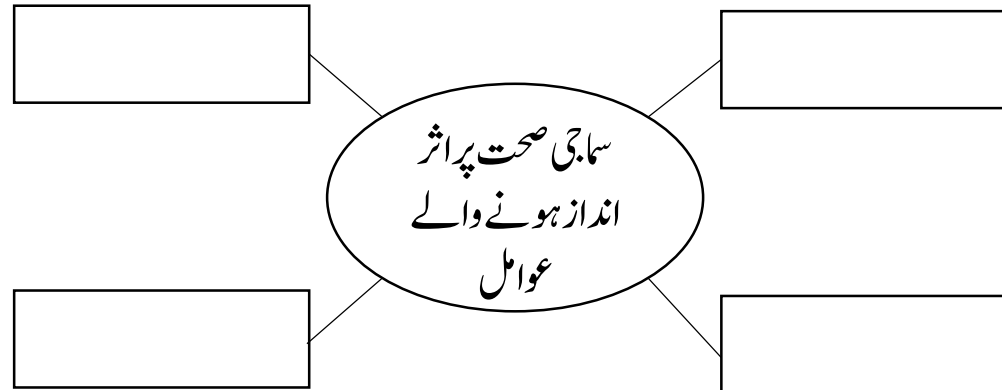
(ii) کم عمر کے بچوں میں نشے کی لت زیادہ نظر آ رہی ہے۔

(iii) ذہنی تناؤ کو کم کرنے کے لئے مجلسِ قہقہہ ایک اچھی مصروفیت ہے،

سوال نمبر ۲ (ب) : دی گئی ہدایتوں کے مطابق درج ذیل سوالات کے جوابات لکھئے۔ (ہر ایک کے لئے دو نمبر)

(i) مختصر نوٹ لکھئے: سائبر جرائم

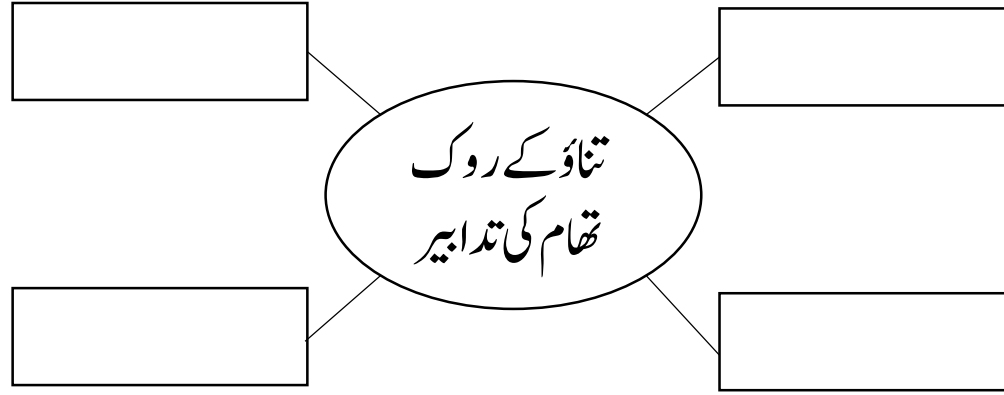
(ii) ذیل کا خاکہ مکمل کیجئے۔



سوال نمبر ۲ (ب) : دی گئی ہدایتوں کے مطابق درج ذیل سوالات کے جوابات لکھئے۔ (ہر ایک کے لئے دو نمبر)

(iii) ناقابلِ علاج بیماریوں کا بزرگوں کی سماجی سحت پر کونسا اثر ہوتا ہے۔

(iv) ذیل کا خاکہ مکمل کیجئے۔



سوال نمبر ۳ : دی گئی ہدایتوں کے مطابق درج ذیل سوالات کے جوابات لکھئے۔ (ہر ایک کے لئے تین نمبر)

(i) اپنی ذاتی رائے لکھئے: شراب کی لت میں مبتلا شخص کی اصلاح کاری ہونی چاہیے۔

(ii) جدید ٹیکنالوجی اور موبائل فون کا مسلسل استعمال کرنے والے افراد میں کونسی تبدیلیاں رونما ہوتی ہے۔

(iii) سائبر جرائم کیا ہیں؟ سائبر جرائم کے کنٹرول روم میں کتنے جانے والے کام لکھئے۔



سوال نمبر ۳: دی گئی ہدایتوں کے مطابق درج ذیل سوالات کے جوابات لکھئے۔ (ہر ایک کے لئے تین نمبر)

(iv) ذیل کی جدول کی اصطلاحات کی وضاحت لکھئے۔

اصطلاح	وضاحت
(۱) لت	
(۲) مجلسِ قہقہ	
(۳) خود فکری	
(۴) پائریسی	
(۵) رضا کار تنظیمیں	
(۶) قانون ۲۰۰۰	

ب



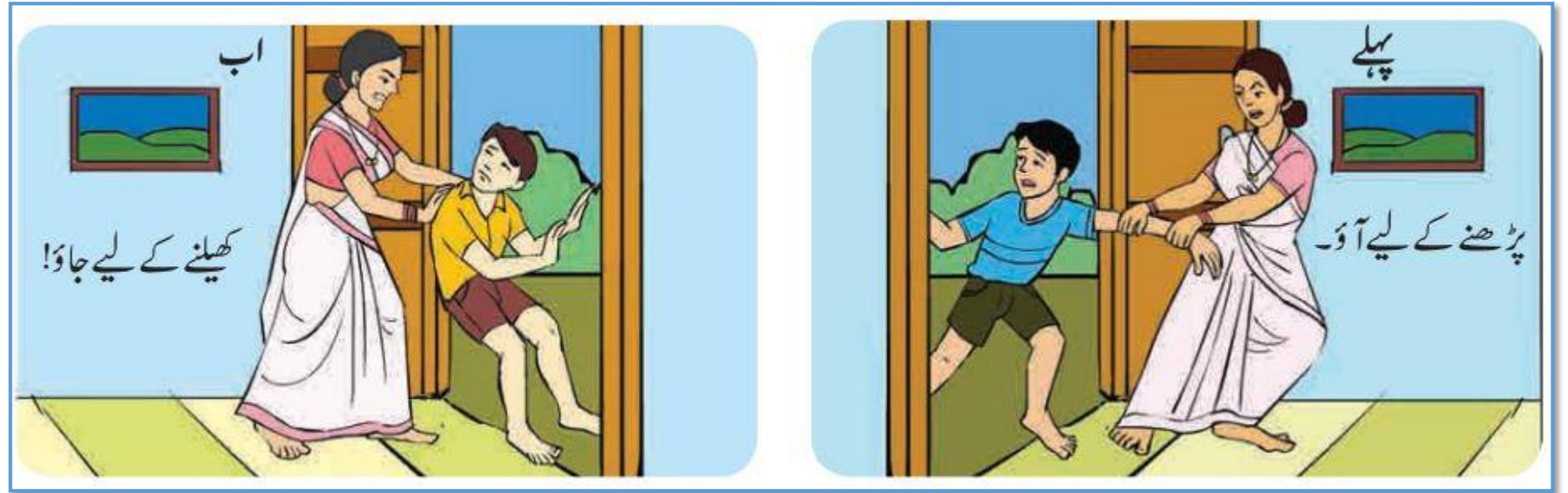
الف



(v) دی گئی اشکال کی وضاحت لکھئے۔

سوال نمبر ۳: دی گئی ہدایتوں کے مطابق درج ذیل سوالات کے جوابات لکھئے۔ (ہر ایک کے لئے تین نمبر)

(vi) شکل میں درج معلومات کا بغور مشاہدہ کیجئے اور اس کی وضاحت اپنے الفاظ میں کیجئے۔



(vii) سائبر جرائم کے تحت کس قسم کے جرائم میں اضافہ ہو رہا ہے۔

سوال نمبر ۴ : درج ذیل سوالات کے جوابات لکھئے۔ (ہر ایک کے لئے پانچ نمبر)

(i) سماجی صحت پر اثر انداز ہونے والے کوئی پانچ عوامل کی وضاحت لکھئے۔

(ii) ذیل کی تصاویر سے ہمیں کونسا پیغام حاصل ہوتا ہے۔۔

ب



الف



## Science - II

Questions Bank

### سبق نمبر ۱۰ آفات کا حسن انتظام

سوال نمبر ۱: (A) صحیح متبادل چن کر اس کے حرف تہجی کو ضمنی سوال کے نمبر کے سامنے لکھیے۔ (کثیر متبادل سوالات) ہر ایک کے لئے ایک نمبر

(1) ضلعی سطح پر آفت کے حسن انتظام اور باز آباد کاری کے منصوبوں پر عمل داری کے لیے۔۔۔۔۔ ایک ذمہ دارا تھاریٹی ہوتا ہے۔

(a) کارپوریٹر (b) ڈسٹرکٹ کلکٹر (c) گرام سبک (d) ہوم منسٹر

(2) مندرجہ ذیل میں انسان کی پیدا کردہ آفت کوئی ہے؟

(a) زلزلہ (b) سیلاب (c) شہاب و تاقب کا گرنا (d) زہریلی گیس کی رسائی

(3) آفات کے وقت۔۔۔۔۔ مسائل پیش آتے ہیں۔

(a) مقامی (b) عالمی (c) انتظامی (d) ذاتی

(4)۔۔۔۔۔ کا مرحلہ انتہائی صبر آزمائے کا ہوتا ہے۔

(a) آبادی کاری (b) دوبارہ استعمال (c) ضروری اشیاء (d) تعمیر نو

(5) انسانوں اور جانوروں کے مردہ اجسام کے سڑنے پر ہر طرف بدبو پھیل جاتی ہے۔ اسے۔۔۔۔۔ آفت کہتے ہیں۔

(a) ماحولیاتی (b) صحت سے متعلق (c) ضروری (d) ان میں سے کوئی نہیں

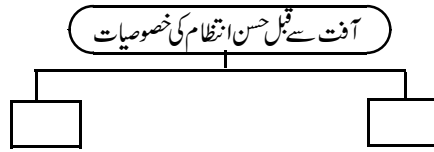
سوال نمبر ۲: (B) متفرق جز عمائدہ کیجئے۔ (معروضی سوالات) ہر ایک کے لئے ایک نمبر

(1) زلزلہ - طوفان - فساد - قحط سالی

(2) باہمی تعلق معلوم کیجئے۔

زہریلی گیس کا رساؤ: حادثاتی آفت : : جنگ : :۔۔۔۔۔

(3) درج ذیل جدول مکمل کیجئے۔



(4) مثالیں کیجئے

انسان کی پیدا کردہ آفت

سوال نمبر ۲: (A) سائنسی وجوہات لکھیے۔ (ہر ایک کے لئے دو نمبر)

(1) فسادات کے وقت شہروں، قصبوں یا گاؤں کا ماحول کشیدہ ہو جاتا ہے۔

(2) فرضی مشق (Mock drill) فائدہ مند ہے۔

(3) آفت کا موثر حسن انتظام مستقبل کے لیے آگہی فراہم کرتا ہے۔

سوال نمبر ۲: (B) مندرجہ ذیل سوالات کے جوابات لکھیے۔ (ہر ایک کے لئے دو نمبر)

(1) آفت کے حسن انتظام کے مقاصد کیا ہیں؟

(2) ذیل کی علامت کیا ناکا ہر کرتی ہے۔




(۲)



(۱)

(3) نیچے دی گئی شکل میں 'آفت سے قبل' اور 'آفت کے بعد' آپ کا حسن انتظام کیا ہوگا؟



(4) فرسٹ ایڈ باکس (First Aid Box) سے کیا مراد ہے؟

(5) نوٹ لکھیے۔

آفت کے حسن انتظام کا قانون 2005

سوال نمبر 3: مندرجہ ذیل سوالوں کے جواب لکھیے۔ (ہر ایک کے لئے تین نمبر)

- (۱) آفت کے آنے کے بعد ضلعی آفت کنٹرول روم کے کردار کی وضاحت کیجئے۔  
 (۲) دی گئی علامات (a) (b) (c) کی شناخت کیجئے۔ ان علامتوں کو نظر انداز کرنے پر کون سی آفات کا سامنا کرنا پڑ سکتا ہے۔



(a) (b) (c)

(۳) آفات کی اقسام پہچانیے۔

- (۱) انتہائی پسندی (۲) زمین کی جھج (۳) یرقان (۴) جنگل کی آگ (۵) قحط (۶) چوری  
 (۴) قوس میں دیے گئے الفاظ سے مناسب لفظ چن کر دیے گئے پیراگراف کو مکمل کیجئے۔

(صلاحیت ، بازآباد کاری ، اشیاء ، انسانی زندگی ، مقاصد ، معمول ، انتظامات ، حیوانات )

آفت کے حسن انتظام کے-----حسب ذیل ہیں۔ آفت سے-----کو بچانا ہم مقصد ہے۔ لوگوں کو آفت زدہ علاقے سے ہٹانے میں مدد کی جاتی ہے۔ آفت کا شکار لوگوں کو حکومت کی جانب سے ضروری-----فراہم کی جاتی ہے۔ تاکہ لوگوں کے دلوں میں آفت کے خوف کا احساس کم ہو جائے۔ آفت زندہ انسانی زندگی کو دوبارہ-----پر لایا جاتا ہے۔ آفت سے متاثر ہونے والے لوگوں کی-----مناسب طریقے سے کی جاتی ہے۔ علاوہ ازیں لوگوں میں مستقبل میں آنے والی آفتوں کا سامنا کرنے کے لئے حفاظتی اقدامات اختیار کرنے کی-----پیدا کی جاتی ہے۔

سوال نمبر 4: مندرجہ ذیل سوالوں کے جواب لکھیے۔ (ہر ایک کے لئے پانچ نمبر)

(۱) جدول مکمل کیجئے۔

آفت	علامتیں	اثرات	تدارک
(۱) سڑک حادثہ (۲) چٹان کا کھسکنا (۳) جنگل کی آگ (۴) پانی کی قلت (۵) سیلاب			

(۲) ذیل میں دی ہوئی شکلوں کا تعلق بتاتے ہوئے آفات کے حسن انتظام کے تعلق سے ہر ایک کی اہمیت اپنے الفاظ میں واضح کیجئے؟

