

ಒಟ್ಟು ಮುದ್ರಿತ ಪುಟಗಳ ಸಂಖ್ಯೆ : 16 ]

Total No. of Printed Pages : 16 ]

ಒಟ್ಟು ಪ್ರಶ್ನೆಗಳ ಸಂಖ್ಯೆ : 48 ]

Total No. of Questions : 48 ]

ಸಂಕೇತ ಸಂಖ್ಯೆ : **81-K**

Code No. : **81-K**

**C**

**CCE PR  
NSR & NSPR**

ವಿಷಯ : **ಗಣಿತ**

Question Paper Serial No. **100**

ಇಲ್ಲಿಂದ ಕತ್ತರಿಸಿ

**Subject : MATHEMATICS**

(ಕನ್ನಡ ಮಾಧ್ಯಮ / **Kannada Medium**)

(ಪುನರಾವರ್ತಿತ ಖಾಸಗಿ ಅಭ್ಯರ್ಥಿ / ಎನ್.ಎಸ್.ಆರ್. & ಎನ್.ಎಸ್.ಪಿ.ಆರ್.)

(**Private Repeater / NSR & NSPR**)

ದಿನಾಂಕ : 04. 07. 2022 ]

[ Date : 04. 07. 2022

ಸಮಯ : ಬೆಳಿಗ್ಗೆ 10-30 ರಿಂದ ಮಧ್ಯಾಹ್ನ 1-45 ರವರೆಗೆ ] [ Time : 10-30 A.M. to 1-45 P.M.

ಗರಿಷ್ಠ ಅಂಕಗಳು : 100 ]

[ Max. Marks : 100

**ಪರೀಕ್ಷಾರ್ಥಿಗಾಗಿ ಸಾಮಾನ್ಯ ಸೂಚನೆಗಳು :**

1. ಈ ಪ್ರಶ್ನೆಪತ್ರಿಕೆಯು ವಸ್ತುನಿಷ್ಠ ಮತ್ತು ವಿಷಯನಿಷ್ಠ ಮಾದರಿಯ ಒಟ್ಟು 48 ಪ್ರಶ್ನೆಗಳನ್ನು ಹೊಂದಿದೆ.
2. ಈ ಪ್ರಶ್ನೆಪತ್ರಿಕೆಯನ್ನು ಹಿಮ್ಮುಖ ಜಾಕೆಟ್ ಮೂಲಕ ಮೊಹರು (ಸೀಲ್) ಮಾಡಲಾಗಿದೆ. ಪರೀಕ್ಷೆ ಪ್ರಾರಂಭವಾಗುವ ಸಮಯಕ್ಕೆ ನಿಮ್ಮ ಪ್ರಶ್ನೆಪತ್ರಿಕೆಯ ಬಲಬದಿ ಪಾರ್ಶ್ವವನ್ನು ಕತ್ತರಿಸಿ, ಪ್ರಶ್ನೆಪತ್ರಿಕೆಯಲ್ಲಿ ಎಲ್ಲಾ ಪುಟಗಳು ಇವೆಯೇ ಎಂದು ಪರೀಕ್ಷಿಸಿಕೊಳ್ಳಿ.
3. ವಸ್ತುನಿಷ್ಠ ಮತ್ತು ವಿಷಯನಿಷ್ಠ ಮಾದರಿಯ ಪ್ರಶ್ನೆಗಳಿಗೆ ಕೊಟ್ಟಿರುವ ಸೂಚನೆಗಳನ್ನು ಪಾಲಿಸಿ.
4. ಬಲ ಭಾಗದಲ್ಲಿ ಕೊಟ್ಟಿರುವ ಅಂಕಗಳು ಪ್ರಶ್ನೆಗಳಿಗಿರುವ ಪೂರ್ಣ ಅಂಕಗಳನ್ನು ತೋರಿಸುತ್ತವೆ.
5. ಪ್ರಶ್ನೆಪತ್ರಿಕೆಯನ್ನು ಓದಿಕೊಳ್ಳಲು 15 ನಿಮಿಷಗಳ ಕಾಲಾವಕಾಶವು ಸೇರಿದಂತೆ, ಉತ್ತರಿಸಲು ನಿಗದಿಪಡಿಸಲಾದ ಸಮಯವನ್ನು ಪ್ರಶ್ನೆಪತ್ರಿಕೆಯ ಮೇಲ್ಭಾಗದಲ್ಲಿ ನೀಡಲಾಗಿದೆ.

100



**PR/NSR&NSPR-(C)-(100)-5539**



[ Turn over

TEAR HERE TO OPEN THE QUESTION PAPER  
ಪ್ರಶ್ನೆಪತ್ರಿಕೆಯನ್ನು ತೆರೆಯಲು ಇಲ್ಲಿ ಕತ್ತರಿಸಿ

Tear here

- I. ಕೆಳಗಿನ ಪ್ರಶ್ನೆಗಳಿಗೆ ಅಥವಾ ಅಪೂರ್ಣ ಹೇಳಿಕೆಗಳಿಗೆ ನಾಲ್ಕು ಪರ್ಯಾಯ ಉತ್ತರಗಳನ್ನು ನೀಡಲಾಗಿದೆ. ಅವುಗಳಲ್ಲಿ ಸೂಕ್ತವಾದ ಉತ್ತರವನ್ನು ಆರಿಸಿ, ಅದರ ಕ್ರಮಾಕ್ಷರದೊಡನೆ ಪೂರ್ಣ ಉತ್ತರವನ್ನು ಬರೆಯಿರಿ :



8 × 1 = 8

1.  $x - y = 8$  ಮತ್ತು  $3x - 3y = 16$  ಈ ರೇಖಾತ್ಮಕ ಸಮೀಕರಣಗಳ ಜೋಡಿಗಳು ಪ್ರತಿನಿಧಿಸುವ ರೇಖೆಗಳು



(A) ಛೇದಿಸುವ ರೇಖೆಗಳು

(B) ಸಮಾಂತರ ರೇಖೆಗಳು



(C) ಲಂಬ ರೇಖೆಗಳು

(D) ಐಕ್ಯಗೊಳ್ಳುವ ರೇಖೆಗಳು

2. 5, 3, 1, -1, .... ಈ ಸಮಾಂತರ ಶ್ರೇಣಿಯಲ್ಲಿ ಸಾಮಾನ್ಯ ವ್ಯತ್ಯಾಸ



(A) -2

(B) 2



(C) -3

(D) 5

3.  $x(x + 1) = 5$  ಇದು ಒಂದು



(A) ರೇಖಾತ್ಮಕ ಸಮೀಕರಣ


(B) ವರ್ಗ ಸಮೀಕರಣ

(C) ಘನ ಸಮೀಕರಣ




(D) ವರ್ಗ ಬಹುಪದೋಕ್ತಿ




4.  $1 + \tan^2 \theta$  ಗೆ ಸಮನಾದುದು 

(A)  $\operatorname{cosec}^2 \theta$


(B)  $\frac{1}{\operatorname{cosec}^2 \theta}$  

(C)  $\sec^2 \theta$

(D)  $-\sec^2 \theta$  

5.  $\cot 90^\circ$  ಯ ಬೆಲೆಯು


(A)  $\frac{1}{\sqrt{3}}$

(B) 1 


(C)  $\sqrt{3}$

(D) 0




6. ಮೂಲಬಿಂದು ಮತ್ತು ಬಿಂದು  $P(a, b)$  ಗಳ ನಡುವಿನ ದೂರವು 

(A)  $\sqrt{a^2 + b^2}$  ಮಾನಗಳು

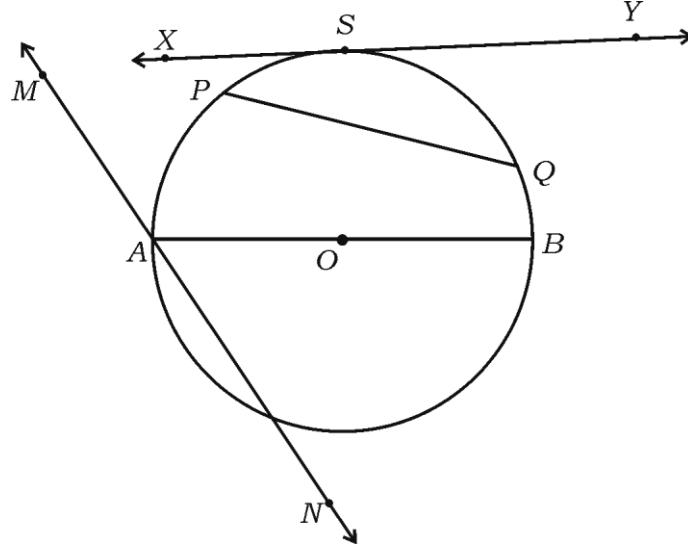
(B)  $\sqrt{a^2 - b^2}$  ಮಾನಗಳು 

(C)  $\sqrt{a + b}$  ಮಾನಗಳು

(D)  $\sqrt{a - b}$  ಮಾನಗಳು 



7. ಕೊಟ್ಟಿರುವ ಚಿತ್ರದಲ್ಲಿ ಛೇದಕವು



- (A)  $AB$  (B)  $PQ$   
 (C)  $XY$  (D)  $MN$



8. ತ್ರಿಜ್ಯ 'r' ಮಾನ ಆಗಿರುವ ಒಂದು ಗೋಳದ ಘನಫಲವು



- (A)  $\frac{2}{3} \pi r^2$  ಘನಮಾನಗಳು  
 (B)  $\frac{2}{3} \pi r^3$  ಘನಮಾನಗಳು  
 (C)  $\frac{4}{3} \pi r^3$  ಘನಮಾನಗಳು  
 (D)  $\frac{4}{3} \pi r^2$  ಘನಮಾನಗಳು



II. ಈ ಕೆಳಗಿನ ಪ್ರಶ್ನೆಗಳಿಗೆ ಉತ್ತರಿಸಿ :



8 × 1 = 8

9.  $a_1x + b_1y + c_1 = 0$  ಮತ್ತು  $a_2x + b_2y + c_2 = 0$  ಈ ರೇಖಾತ್ಮಕ ಸಮೀಕರಣಗಳ ಜೋಡಿಗಳು ಅಸ್ಥಿರವಾಗಿದ್ದರೆ, ಅವು ಹೊಂದಿರುವ ಪರಿಹಾರಗಳ ಸಂಖ್ಯೆ ಎಷ್ಟು ?

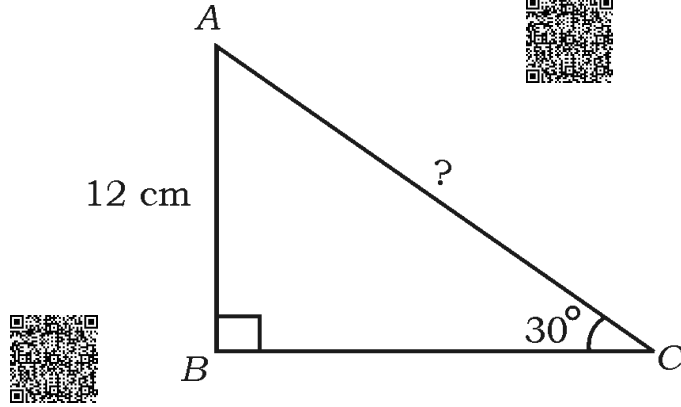
10. ಸಮಾಂತರ ಶ್ರೇಣಿ ಎಂದರೇನು ?



11. ಒಂದು ವರ್ಗ ಸಮೀಕರಣದ ಆದರ್ಶರೂಪವನ್ನು ಬರೆಯಿರಿ.



12. ಚಿತ್ರದಲ್ಲಿ  $ABC$  ಒಂದು ಲಂಬಕೋನ ತ್ರಿಭುಜ.  $\angle C = 30^\circ$  ಮತ್ತು  $AB = 12$  cm ಆದರೆ,  $AC$  ಯ ಉದ್ದವನ್ನು ಕಂಡುಹಿಡಿಯಿರಿ.





13.  $A(x_1, y_1)$  ಮತ್ತು  $B(x_2, y_2)$  ಬಿಂದುಗಳನ್ನು ಸೇರಿಸುವ ರೇಖಾಖಂಡವನ್ನು  $P$  ಬಿಂದುವು  $m_1 : m_2$  ಅನುಪಾತದಲ್ಲಿ ಆಂತರಿಕವಾಗಿ ವಿಭಾಗಿಸಿದೆ. 'P' ಬಿಂದುವಿನ ನಿರ್ದೇಶಾಂಕಗಳನ್ನು ಬರೆಯಿರಿ.



14. 4, 5, 5, 6, 7, 7, 6, 7, 5, 5. ಈ ದತ್ತಾಂಶಗಳ ಬಹುಲಕ (ರೂಢಿ ಬೆಲೆ) ಕಂಡುಹಿಡಿಯಿರಿ.



15. “ಮೂಲ ಸಮಾನುಪಾತತೆಯ ಪ್ರಮೇಯ” (ಥೇಲ್ಸ್ ಪ್ರಮೇಯ) ವನ್ನು ನಿರೂಪಿಸಿ. 
16. ಎರಡು ವೃತ್ತ ಪಾದದ ತ್ರಿಜ್ಯಗಳು  $r_1$  ಮತ್ತು  $r_2$ , ಎತ್ತರ ‘ $h$ ’ ಆಗಿರುವ ಶಂಕುವಿನ ಭಿನ್ನಕದ ಘನಫಲ (  $V$  ) ಯನ್ನು ಕಂಡುಹಿಡಿಯುವ ಸೂತ್ರ ಬರೆಯಿರಿ. 

III. ಈ ಕೆಳಗಿನ ಪ್ರಶ್ನೆಗಳಿಗೆ ಉತ್ತರಿಸಿ :



18 × 2 = 36


17. ಕೊಟ್ಟಿರುವ ಈ ಸಮೀಕರಣಗಳನ್ನು ವರ್ಜಿಸುವ ವಿಧಾನದಿಂದ ಬಿಡಿಸಿ :



$$2x + 3y = 7$$

$$2x + y = 5$$





18. 2, 5, 8, ..... ಈ ಸಮಾಂತರ ಶ್ರೇಣಿಯ 12 ನೇ ಪದವನ್ನು ಸೂತ್ರ ಉಪಯೋಗಿಸಿ ಕಂಡುಹಿಡಿಯಿರಿ. 

19. 7, 11, 15, ..... ಈ ಸಮಾಂತರ ಶ್ರೇಣಿಯ 16 ಪದಗಳವರೆಗಿನ ಮೊತ್ತವನ್ನು ಸೂತ್ರ ಉಪಯೋಗಿಸಿ ಕಂಡುಹಿಡಿಯಿರಿ.



ಅಥವಾ

- 3, 6, 9, .... ಈ ಸಮಾಂತರ ಶ್ರೇಣಿಯ ಎಷ್ಟು ಪದಗಳನ್ನು ಕೂಡಿದಾಗ ಮೊತ್ತ 165 ಆಗುತ್ತದೆ ಎಂದು ಕಂಡುಹಿಡಿಯಿರಿ. 

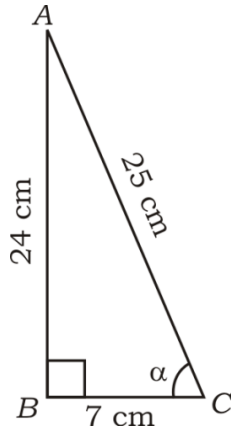
20.  $4x^2 - 12x + 9 = 0$  ಈ ಸಮೀಕರಣದ ಶೋಧಕದ ಬೆಲೆಯನ್ನು ಕಂಡುಹಿಡಿದು, ಮೂಲಗಳ ಸ್ವಭಾವವನ್ನು ಬರೆಯಿರಿ. 



21.  $x^2 - 3x + 1 = 0$  ಈ ಸಮೀಕರಣದ ಮೂಲಗಳನ್ನು ವರ್ಗಸಮೀಕರಣದ ಸೂತ್ರ ಉಪಯೋಗಿಸಿ ಕಂಡುಹಿಡಿಯಿರಿ.



22. ಚಿತ್ರದಲ್ಲಿ  $ABC$  ಒಂದು ಲಂಬಕೋನ ತ್ರಿಭುಜ  $AB = 24$  cm,  $BC = 7$  cm ಮತ್ತು  $AC = 25$  cm ಆದರೆ,  $\sin \alpha$  ಮತ್ತು  $\cos \alpha$  ಗಳ ಬೆಲೆಗಳನ್ನು ಬರೆಯಿರಿ.



23.  $P ( 2, 3 )$  ಮತ್ತು  $Q ( 4, 1 )$  ಈ ಬಿಂದುಗಳ ನಡುವಿನ ದೂರವನ್ನು 'ದೂರ ಸೂತ್ರ' ಉಪಯೋಗಿಸಿ ಕಂಡುಹಿಡಿಯಿರಿ.



ಅಥವಾ

- $A ( - 6, 10 )$  ಮತ್ತು  $B ( 3, - 8 )$  ಬಿಂದುಗಳನ್ನು ಸೇರಿಸುವ ರೇಖಾಖಂಡ  $AB$  ಯನ್ನು  $P ( - 4, 6 )$  ಬಿಂದುವು ವಿಭಾಗಿಸುವ ಅನುಪಾತವನ್ನು ಕಂಡುಹಿಡಿಯಿರಿ.



24. 8·4 ಸೆಂ.ಮೀ. ಉದ್ದವಿರುವ ಒಂದು ರೇಖಾಖಂಡವನ್ನು ಎಳೆದು, ಅದನ್ನು ಜ್ಯಾಮಿತಿ ರಚನೆಯಿಂದ 1 : 3 ಅನುಪಾತದಲ್ಲಿ ವಿಭಾಗಿಸಿ.



25. ಎರಡು ಸಂಖ್ಯೆಗಳ ಮೊತ್ತ 30 ಮತ್ತು ಅವುಗಳ ವ್ಯತ್ಯಾಸ 20 ಆದರೆ, ಆ ಸಂಖ್ಯೆಗಳನ್ನು

ಕಂಡುಹಿಡಿಯಿರಿ.



26. ಮೊದಲ 10 ಧನ ಬೆಸ ಪೂರ್ಣಾಂಕಗಳ ಮೊತ್ತ ಕಂಡುಹಿಡಿಯಿರಿ.



27.  $(x - 3)(x + 5) = 0$  ರ ಧನ ಮೂಲವನ್ನು ಕಂಡುಹಿಡಿಯಿರಿ.

28.  $2 \tan 48^\circ \cdot \tan 42^\circ = 2$  ಎಂದು ತೋರಿಸಿ.




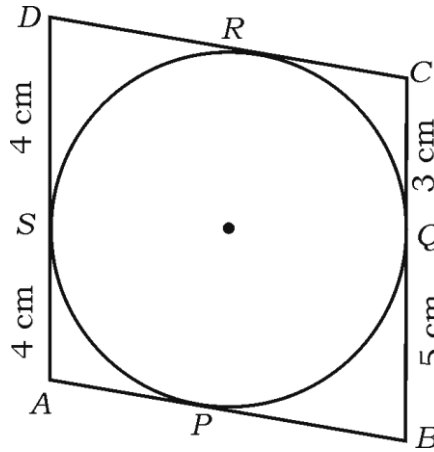
29. ಸಂಖ್ಯಾಶಾಸ್ತ್ರಕ್ಕೆ ಸಂಬಂಧಿಸಿದಂತೆ ದತ್ತ ಪ್ರಾಪ್ತಾಂಕಗಳ ಯಾವುದಾದರೂ ಎರಡು ಕೇಂದ್ರೀಯ ಪ್ರವೃತ್ತಿಯ ಅಳತೆಗಳನ್ನು ಹೆಸರಿಸಿ.

30. ಎರಡು ತ್ರಿಭುಜಗಳು ಸಮರೂಪವಾಗಬೇಕಾದರೆ ಇರುವ ನಿಬಂಧನೆಗಳನ್ನು ತಿಳಿಸಿ.



31.  $ABCD$  ಚತುರ್ಭುಜದಲ್ಲಿ ವೃತ್ತವು ಅಂತ್ಯಸ್ಥವಾಗಿದೆ.  $DS = 4$  cm,  $AS = 4$  cm,

$CQ = 3$  cm ಮತ್ತು  $BQ = 5$  cm ಆದಾಗ,  $AB + CD$  ಯನ್ನು ಕಂಡುಹಿಡಿಯಿರಿ.





32. 3 cm ತ್ರಿಜ್ಯವಿರುವ ಒಂದು ವೃತ್ತದಲ್ಲಿ 5 cm ಉದ್ದದ ಜ್ಯಾವನ್ನು ರಚಿಸಿ.



33. 21 cm ತ್ರಿಜ್ಯವಿರುವ ಒಂದು ವೃತ್ತದಲ್ಲಿ ಒಂದು ಕಂಸವು ವೃತ್ತಕೇಂದ್ರದಲ್ಲಿ 60° ಕೋನವನ್ನುಂಟು ಮಾಡಿದರೆ ಆ ಕಂಸದ ಉದ್ದವನ್ನು ಕಂಡುಹಿಡಿಯಿರಿ.



34. ಎತ್ತರ 10 cm ಮತ್ತು ತ್ರಿಜ್ಯ 7 cm ವಿರುವ ಒಂದು ನೇರ ವೃತ್ತಪಾದ ಸಿಲಿಂಡರಿನ ಪಾರ್ಶ್ವ ಮೇಲ್ಮೈ ವಿಸ್ತೀರ್ಣವನ್ನು ಕಂಡುಹಿಡಿಯಿರಿ.



IV. ಈ ಕೆಳಗಿನ ಪ್ರಶ್ನೆಗಳಿಗೆ ಉತ್ತರಿಸಿ :

9 × 3 = 27

35. ಒಂದು ಸಮಾಂತರ ಶ್ರೇಣಿಯ ಮೂರನೇ ಪದ 16 ಆಗಿದೆ ಮತ್ತು ಅದರ 7 ನೇ ಪದವು 5 ನೇ ಪದಕ್ಕಿಂತ 12 ಹೆಚ್ಚಾಗಿದ್ದರೆ, ಆ ಸಮಾಂತರ ಶ್ರೇಣಿಯನ್ನು ಕಂಡುಹಿಡಿಯಿರಿ.



36. ಮೂರು ವರ್ಷಗಳ ಹಿಂದಿನ ರೆಹಮಾನನ ವಯಸ್ಸು (ವರ್ಷಗಳಲ್ಲಿ) ಮತ್ತು 5 ವರ್ಷಗಳ ನಂತರದ ಅವನ ವಯಸ್ಸು, ಇವುಗಳ ವ್ಯುತ್ಕ್ರಮಗಳ ಮೊತ್ತ  $\frac{1}{3}$  ಆದರೆ, ಅವನ ಈಗಿನ ವಯಸ್ಸನ್ನು ಕಂಡುಹಿಡಿಯಿರಿ.



ಅಥವಾ

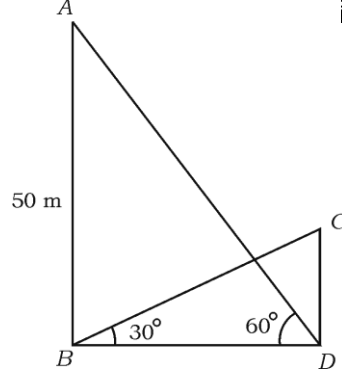
ಒಂದು ರೈಲು 360 km ದೂರವನ್ನು ಏಕರೂಪ ಜವದೊಂದಿಗೆ ಕ್ರಮಿಸುತ್ತದೆ. ಅದರ ಜವವು 5 km/h ಹೆಚ್ಚಾಗಿದ್ದರೆ, ಅಷ್ಟೇ ದೂರವನ್ನು ಕ್ರಮಿಸಲು ಅದು 1 ಗಂಟೆ ಕಡಿಮೆ ಸಮಯ ತೆಗೆದುಕೊಳ್ಳುತ್ತಿತ್ತು. ರೈಲಿನ ಜವವನ್ನು ಕಂಡುಹಿಡಿಯಿರಿ.



37.  $\frac{2 \cos (90^\circ - 30^\circ) + \tan 45^\circ - \sqrt{3} \cdot \operatorname{cosec} 60^\circ}{\sqrt{3} \sec 30^\circ + 2 \cos 60^\circ + \cot 45^\circ}$  ರ ಬೆಲೆಯನ್ನು ಕಂಡುಹಿಡಿಯಿರಿ.



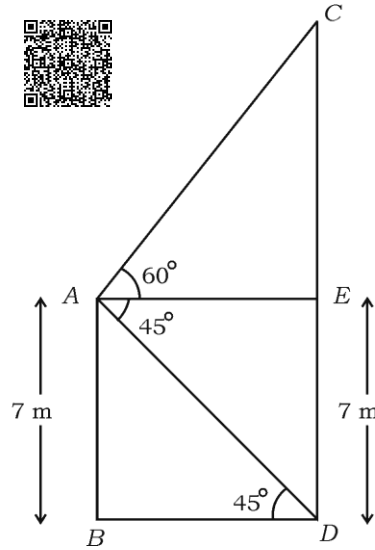
38. ಒಂದು ಗೋಪುರ ಮತ್ತು ಒಂದು ಕಟ್ಟಡ ಒಂದೇ ಸಮತಟ್ಟಾದ ನೆಲದ ಮೇಲೆ ನೇರವಾಗಿ ನಿಂತಿದೆ. ಗೋಪುರದ ಪಾದದಿಂದ ಕಟ್ಟಡದ ಮೇಲ್ತುದಿಯನ್ನು ನೋಡಿದಾಗ ಉನ್ನತ ಕೋನವು  $30^\circ$  ಮತ್ತು ಕಟ್ಟಡದ ಪಾದದಿಂದ ಗೋಪುರದ ಮೇಲ್ತುದಿಗೆ ಉನ್ನತಕೋನವು  $60^\circ$  ಇದೆ. ಗೋಪುರದ ಎತ್ತರ 50 m ಇದ್ದರೆ ಕಟ್ಟಡದ ಎತ್ತರ ಕಂಡುಹಿಡಿಯಿರಿ.



ಅಥವಾ

- ಒಂದು ಗೋಪುರ ಮತ್ತು ಒಂದು ಕಟ್ಟಡ ಒಂದೇ ಸಮತಟ್ಟಾದ ನೆಲದ ಮೇಲೆ ನೇರವಾಗಿ ನಿಂತಿವೆ. ಕಟ್ಟಡದ ಎತ್ತರ 7 m ಆಗಿದೆ. ಕಟ್ಟಡದ ಮೇಲ್ತುದಿಯ ಒಂದು ಬಿಂದುವಿನಿಂದ ಗೋಪುರದ ಮೇಲ್ತುದಿಗೆ ಉನ್ನತ ಕೋನವು  $60^\circ$  ಮತ್ತು ಅದರ ಪಾದಕ್ಕೆ ಅವನತ ಕೋನವು  $45^\circ$  ಆಗಿದೆ. ಗೋಪುರದ ಎತ್ತರ ಕಂಡುಹಿಡಿಯಿರಿ.

( $\sqrt{3} = 1.73$  ಎಂದು ಬಳಸಿ)



39.  $P(2, 3)$ ,  $Q(4, k)$  ಮತ್ತು  $R(6, -3)$  ಈ ಬಿಂದುಗಳು ಸರಳರೇಖಾಗತವಾಗಿದ್ದರೆ 'k' ಯ ಬೆಲೆಯನ್ನು ಕಂಡುಹಿಡಿಯಿರಿ.



ಅಥವಾ

ಒಂದು ವೃತ್ತಕೇಂದ್ರವು  $P(2, 3)$  ಆಗಿದ್ದು, ಆ ವೃತ್ತವು  $A(4, 3)$  ಮತ್ತು  $B(x, 5)$  ಬಿಂದುಗಳ ಮೂಲಕ ಹಾದು ಹೋದರೆ 'x' ನ ಬೆಲೆಯನ್ನು ಕಂಡುಹಿಡಿಯಿರಿ.



40. ಈ ಕೆಳಗೆ ನೀಡಿರುವ ದತ್ತಾಂಶಗಳಿಗೆ ನೇರ ವಿಧಾನದಿಂದ ಸರಾಸರಿಯನ್ನು ಕಂಡುಹಿಡಿಯಿರಿ :

ವರ್ಗಾಂತರ	ಆವೃತ್ತಿ
5 — 15	1
15 — 25	3
25 — 35	5
35 — 45	4
45 — 55	2



ಅಥವಾ

ಈ ಕೆಳಗಿನ ದತ್ತಾಂಶಗಳಿಗೆ ಮಧ್ಯಾಂಕವನ್ನು ಕಂಡುಹಿಡಿಯಿರಿ :



ವರ್ಗಾಂತರ	ಆವೃತ್ತಿ
0 — 20	6
20 — 40	9
40 — 60	10
60 — 80	8
80 — 100	7



41. ಈ ಕೆಳಗಿನ ಕೋಷ್ಟಕದಲ್ಲಿ ಒಂದು ಶಾಲೆಯ  $X$  ನೇ ತರಗತಿಯ 60 ವಿದ್ಯಾರ್ಥಿಗಳ ಎತ್ತರದ ಮಾಹಿತಿಯನ್ನು ನೀಡಲಾಗಿದೆ. ಈ ದತ್ತಾಂಶಗಳಿಗೆ ಕಡಿಮೆ ವಿಧಾನದ ಓಜೀವ್ ರಚಿಸಿ :



ವಿದ್ಯಾರ್ಥಿಗಳ ಎತ್ತರ $cm$ ಗಳಲ್ಲಿ	ವಿದ್ಯಾರ್ಥಿಗಳ ಸಂಖ್ಯೆ (ಸಂಚಿತ ಆವೃತ್ತಿ)
130 ಕ್ಕಿಂತ ಕಡಿಮೆ	04
140 ಕ್ಕಿಂತ ಕಡಿಮೆ	12
150 ಕ್ಕಿಂತ ಕಡಿಮೆ	30
160 ಕ್ಕಿಂತ ಕಡಿಮೆ	45
170 ಕ್ಕಿಂತ ಕಡಿಮೆ	56
180 ಕ್ಕಿಂತ ಕಡಿಮೆ	60



42. “ಬಾಹ್ಯ ಬಿಂದುವಿನಿಂದ ವೃತ್ತಕ್ಕೆ ಎಳೆದ ಸ್ಪರ್ಶಕಗಳ ಉದ್ದವು ಸಮವಾಗಿರುತ್ತದೆ” ಎಂದು ಸಾಧಿಸಿ.
43. 3 cm ತ್ರಿಜ್ಯದ ವೃತ್ತಕ್ಕೆ, ಸ್ಪರ್ಶಕಗಳ ನಡುವಿನ ಕೋನ  $60^\circ$  ಇರುವಂತೆ ಒಂದು ಜೊತೆ ಸ್ಪರ್ಶಕಗಳನ್ನು ರಚಿಸಿ.



V. ಈ ಕೆಳಗಿನ ಪ್ರಶ್ನೆಗಳಿಗೆ ಉತ್ತರಿಸಿ :

4 × 4 = 16

44. ಕೊಟ್ಟಿರುವ ರೇಖಾತ್ಮಕ ಸಮೀಕರಣಗಳ ಜೋಡಿಗೆ, ನಕ್ಷೆಯ ವಿಧಾನದಿಂದ ಪರಿಹಾರವನ್ನು ಕಂಡುಹಿಡಿಯಿರಿ :



$$2x - y = 7$$

$$x - y = 2$$



45.  $BC = 6$  cm,  $AB = 5$  cm ಮತ್ತು  $AC = 4.5$  cm ಇರುವಂತೆ ತ್ರಿಭುಜ  $ABC$  ಯನ್ನು

ರಚಿಸಿ, ನಂತರ ಮತ್ತೊಂದು ತ್ರಿಭುಜವನ್ನು ಅದರ ಬಾಹುಗಳು ತ್ರಿಭುಜ  $ABC$  ಯ ಅನುರೂಪ

ಬಾಹುಗಳ  $\frac{4}{3}$  ರಷ್ಟಿರುವಂತೆ ರಚಿಸಿ.




46.  $ABCD$  ಯ  $14$  cm ಬಾಹುವುಳ್ಳ ಚೌಕವಾಗಿದೆ.  $P, Q, R$  ಮತ್ತು  $S$  ಗಳು ಈ ಚೌಕದ

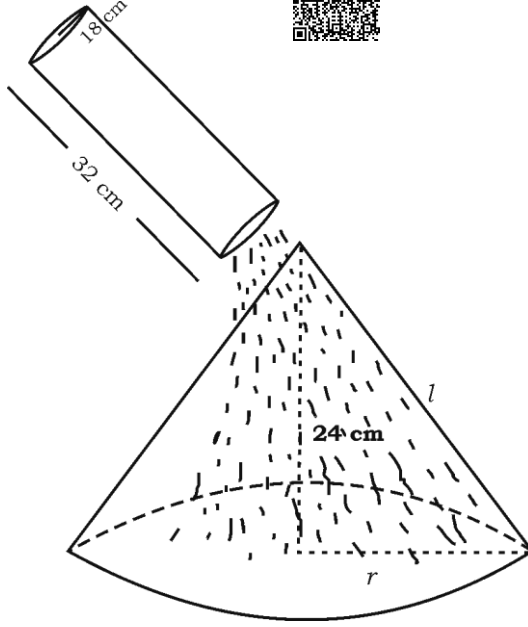
ಬಾಹುಗಳ ಮಧ್ಯಬಿಂದುಗಳಾಗಿವೆ. ಚೌಕದ ಬಾಹುಗಳ ಮಧ್ಯಬಿಂದುಗಳನ್ನು ಸ್ಪರ್ಶಿಸುವಂತೆ

ಚೌಕದ ಒಳಗೆ ವೃತ್ತವನ್ನು ಎಳೆಯಲಾಗಿದೆ.  $PQ, QR, RS$  ಮತ್ತು  $SP$  ವೃತ್ತದ ಕಂಸಗಳಾಗಿವೆ.

ಚಿತ್ರದಲ್ಲಿ ಛಾಯೆಗೊಳಿಸಿದ ಭಾಗದ ವಿಸ್ತೀರ್ಣವನ್ನು ಕಂಡುಹಿಡಿಯಿರಿ.

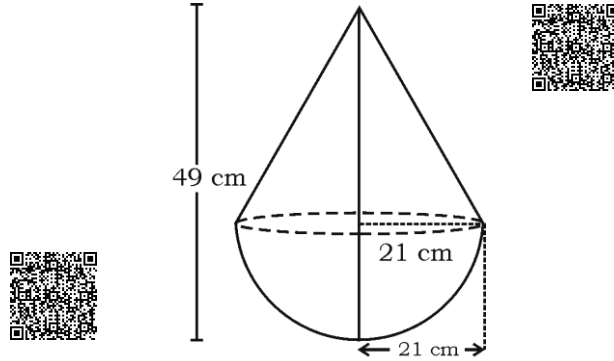


47. ಪಾದದ ತ್ರಿಜ್ಯ 18 cm ಮತ್ತು ಎತ್ತರ 32 cm ಇರುವ ಒಂದು ಸಿಲಿಂಡರಿನಾಕಾರದ ಪಾತ್ರೆಯಲ್ಲಿ ಪೂರ್ಣವಾಗಿ ಮರಳನ್ನು ತುಂಬಿದೆ. ಪಾತ್ರೆಯಲ್ಲಿರುವ ಮರಳನ್ನು ಪೂರ್ತಿಯಾಗಿ ನೆಲದ ಮೇಲೆ ಸುರಿದಾಗ ಅದು ಶಂಕುವಿನಾಕಾರದ ಮರಳಿನ ರಾಶಿಯನ್ನು ಉಂಟುಮಾಡಿದೆ. ಶಂಕುವಿನಾಕಾರದ ರಾಶಿಯ ಎತ್ತರವು 24 cm ಆದಾಗ, ಶಂಕುವಿನಾಕಾರದ ಮರಳಿನ ರಾಶಿಯ ಪಾದದ ತ್ರಿಜ್ಯ ಮತ್ತು ಓರೆ ಎತ್ತರವನ್ನು ಕಂಡುಹಿಡಿಯಿರಿ.



ಅಥವಾ

ಒಂದು ಅರ್ಧಗೋಳದ ಮೇಲೆ ಅದೇ ತ್ರಿಜ್ಯವನ್ನು ಹೊಂದಿರುವ ಒಂದು ಶಂಕುವನ್ನು ಕೂಡಿಸಿ ಒಂದು ಆಟಿಕೆಯನ್ನು ಚಿತ್ರದಲ್ಲಿ ತೋರಿಸಿದಂತೆ ಮಾಡಿದೆ. ಅವೆರಡರ ವೃತ್ತಾಕಾರದ ಪಾದದ ತ್ರಿಜ್ಯವು 21 cm ಆಗಿದೆ. ಆಟಿಕೆಯ ಒಟ್ಟು ಎತ್ತರವು 49 cm ಆಗಿದೆ. ಆ ಆಟಿಕೆಯ ಮೇಲ್ಮೈ ವಿಸ್ತೀರ್ಣವನ್ನು ಕಂಡುಹಿಡಿಯಿರಿ.



**VI. ಕೆಳಗಿನ ಪ್ರಶ್ನೆಗೆ ಉತ್ತರಿಸಿ :****1 × 5 = 5**

48. “ಎರಡು ತ್ರಿಭುಜಗಳಲ್ಲಿ ಅನುರೂಪ ಕೋನಗಳು ಸಮವಾದರೆ, ಅವುಗಳ ಅನುರೂಪ ಬಾಹುಗಳ ಅನುಪಾತಗಳು ಸಮ (ಅಥವಾ ಸಮಾನುಪಾತದಲ್ಲಿರುತ್ತದೆ) ಆದ್ದರಿಂದ ಆ ತ್ರಿಭುಜಗಳು ಸಮರೂಪವಾಗಿರುತ್ತವೆ.” ಎಂದು ಸಾಧಿಸಿ.



