

ಒಟ್ಟು ಮುದ್ರಿತ ಪುಟಗಳ ಸಂಖ್ಯೆ : 12 ]

Total No. of Printed Pages : 12 ]

ಒಟ್ಟು ಪ್ರಶ್ನೆಗಳ ಸಂಖ್ಯೆ : 38 ]

Total No. of Questions : 38 ]

**A**

**CCE RR**

Question Paper Serial No. **600**

यहाँ से काटिए

ಸಂಕೇತ ಸಂಖ್ಯೆ : **85-H**

Code No. : **85-H**

ವಿಷಯ : ಸಮಾಜ ವಿಜ್ಞಾನ

**Subject : SOCIAL SCIENCE**

( ಹಿಂದಿ ಭಾಷಾಂತರ/ Hindi Medium )

( ಪುನರಾವರ್ತಿತ ಶಾಲಾ ಅಭ್ಯರ್ಥಿ / Regular Repeater )

ದಿನಾಂಕ : 30. 06. 2022 ]

[ Date : 30. 06. 2022

ಸಮಯ : ಬೆಳಿಗ್ಗೆ 10-30 ರಿಂದ ಮಧ್ಯಾಹ್ನ-1-45 ರವರೆಗೆ ] [ Time : 10-30 A.M. to 1-45 P.M.

ಗರಿಷ್ಠ ಅಂಕಗಳು : 80 ]

[ Max. Marks : 80

**परीक्षार्थियों के लिए सामान्य सूचनाएँ :**

1. इस प्रश्नपत्र में वस्तुनिष्ठ एवं गैर-वस्तुनिष्ठ प्रकार के कुल 38 प्रश्न हैं ।
2. यह प्रश्नपत्र रिवर्स जैकेट द्वारा सील किया हुआ है । परीक्षा प्रारंभ होने के समय आप प्रश्नपत्र के दाएँ भाग को काटकर खोलें तथा जाँच करें कि सभी पृष्ठ अक्षुण्ण हैं ।
3. सभी वस्तुनिष्ठ तथा गैर-वस्तुनिष्ठ प्रकार के प्रश्नों के लिए दिए गए निर्देशों का पालन करें ।
4. प्रश्नों के निर्धारित अंक उसके दाहिनी ओर हाशिये में दिए गए हैं ।
5. प्रश्नों के उत्तर देने के लिए अधिकतम समय इस पृष्ठ के ऊपर में दिया गया है जिसमें प्रश्नपत्र पढ़ने का 15 मिनट भी शामिल है ।

600



**RR (A)-(600)-13025**



[ Turn over

TEAR HERE TO OPEN THE QUESTION PAPER

प्रश्नपत्र को खोलने के लिए यहाँ फाड़ें

Tear here

I. निम्नलिखित प्रश्नों / अपूर्ण कथनों प्रत्येक के लिए चार विकल्प दिये गये हैं। उनमें केवल एक सही अथवा सबसे अधिक उपयुक्त है। सही विकल्प चुनकर पूर्ण उत्तर क्रमाक्षर सहित लिखें।

8 × 1 = 8



1. प्रथम अंग्लो-मराठा युद्ध के बाद पेशवा होनेवाला व्यक्ति है



(A) नारायण राव



(B) माधव राव II

(C) नाना फडनवीस



(D) रघुनाथ राव ।

2. अपवहन (Drain) सिद्धांत की व्याख्या की गई थी



(A) दादाभाई नौरोजी द्वारा



(B) महात्मा गाँधी द्वारा



(C) ए०ओ० ह्यूम द्वारा



(D) बाल गंगाधर तिलक द्वारा ।



3. वह देश जो अपनी विदेश नीति में गुटनिरपेक्ष नीति ग्रहण किया था, है



(A) अमेरिका



(B) रूस



(C) चीन

(D) भारत ।



4. अन्नामलाई वन्य जीव अभयारण्य किस राज्य में है ?



(A) कर्नाटक




(B) केरल



(C) तमिलनाडु

(D) तेलंगाना ।



5. किसी देश में एक वर्ष में उत्पन्न माल तथा सेवा का मूल्य कहलाता है



(A) प्रति व्यक्ति आय

(B) विकास



(C) राष्ट्रीय आय



(D) मानव विकास सूचक ।



6. भारत में उपभोक्ता संरक्षण अधिनियम चालू किया गया था सन्



(A) 1962 में



(B) 1968 में



(C) 1976 में

(D) 1986 में ।



7. एक महत्वपूर्ण महिला आंदोलन है



(A) मद्य निषेध आंदोलन



(B) अस्पृश्यता निवारण आंदोलन

(C) मजदूर आंदोलन



(D) कृषकों का आंदोलन ।



8. भगतान के बिना मजदूरी का सर्वोत्तम उदाहरण है



(A) सड़क किनारे व्यापार



(B) अपनी संतुष्टि हेतु रंगाई

(C) उद्योगों में कार्य



(D) विद्यालयों में शिक्षक के रूप में कार्य ।



II. निम्नलिखित प्रश्नों के प्रत्येक उत्तर एक वाक्य में दें :



8 × 1 = 8

9. विश्व उपभोक्ता आंदोलन के इतिहास में मार्च 15, 1962 क्यों एक महत्वपूर्ण दिन है ?

10. उष्ण कटिबंधीय पतझड़ वनों को क्यों मानसूनी वन के रूप में जाना जाता है ?



11. चिपको आंदोलन का महत्वपूर्ण प्रभाव क्या था ?



12. गर्मी के मौसम में भारत में अत्यधिक तापक्रम का क्या कारण है ?



13. सहायक संधि (Subsidiary Alliance) का कार्यान्वयन कौन किया था ?



14. कौन समझौता दूसरा अंग्लो-मैसूर युद्ध का अंत किया था ?



15. 1962 में भारत पर किस पड़ोसी देश ने आक्रमण किया था ?

16. किसने कहा था “भारत का यथार्थ विकास गाँवों का विकास है” ?



III. निम्नलिखित प्रश्नों के प्रत्येक उत्तर दो से चार वाक्यों / बिंदुओं में दें :  $8 \times 2 = 16$


17. बक्सर के युद्ध के परिणामों का उल्लेख करें ।



18. 1961 में कैसे गोवा पूर्तगालियों से मुक्त हुआ था ?



19. भारत की विदेश नीति किन कारकों द्वारा प्रभावित है ?



अथवा



दूसरा विश्वयुद्ध के बाद कौन-सी मुख्य समस्याएँ उभरीं ?

20. असंगठित क्षेत्र के श्रमिकों द्वारा सामना की गयी चुनौतियों की सूची बनाइए ।



अथवा



महत्वपूर्ण पर्यावरण आंदोलनों की सूची बनाइए ।



21. भारत के मुख्य भू-आकृतिक विभाजन क्या हैं ?



22. मृदा अपरदन के कारण कौन से हैं ?



23. आर्थिक विकास के उद्देश्यों का उल्लेख करें ।


24. बैंक खाते के प्रकार कौन से हैं ?



IV. निम्नलिखित प्रश्नों के प्रत्येक उत्तर छह वाक्यों / बिंदुओं में दें :

9 × 3 = 27

25. भारतीयों पर ब्रिटिश शिक्षा का कैसा प्रभाव पड़ा ?



अथवा



अंग्रेजों के विरुद्ध संगोली रायन्ना ने कैसे लड़ाई की थी ?

26. आर्य समाज के लक्ष्य कौन से हैं ?



27. '1857 की क्रांति बहुत कारणों से असफल रही ।' स्पष्ट करें ।

28. रूस के साथ भारत के संबंध को स्पष्ट करें ।





29. स्वतंत्र भारत द्वारा अस्पृश्यता उन्मूलन में कौन से कदम उठाये गये हैं ?



30. उद्योगों के स्थानीकरण को प्रभावित करनेवाले कारक कौन से हैं ?



अथवा

किसी देश के विकास में परिवहन के महत्व को स्पष्ट करें ।

31. बाढ़ों के प्रभाव कौन से हैं ?



32. उत्पादन के घटकों की पूर्ति में परिवर्तन हेतु कारण कौन हैं ?



अथवा

पंचायत राज प्रणाली के मुख्य लक्षण क्या हैं ?



33. बैंक के कार्यों का उल्लेख करें ।



अथवा

उद्यमी के लक्षणों का उल्लेख करें ।



V. निम्नलिखित प्रश्नों के प्रत्येक उत्तर लगभग आठ वाक्यों / बिंदुओं में दें :  $4 \times 4 = 16$



34. भारतीय स्वतंत्रता संग्राम में सुभाष चंद्र बोस की भूमिका स्पष्ट करें ।



35. भारतीय स्वतंत्रता संग्राम में विभिन्न जनजातीय आंदोलनों को स्पष्ट करें ।



अथवा



भारतीय राष्ट्रीय आंदोलन में आमूल परिवर्तनवादियों की भूमिका स्पष्ट करें ।



36. महिलाओं की स्थिति में सुधार हेतु सरकार द्वारा लिए गए कदम कौन से हैं ?



37. भारत में प्रचलित कृषि के विभिन्न प्रकारों की सूची बनायें ।



VI. 38. भारत का रेखा मानचित्र खींचकर निम्न को चिह्नित करें :

1 + 4 = 5

a)  $82\frac{1}{2}^{\circ}$  पूर्वी अक्षांश



b) नर्मदा नदी



c) नई मंगलूरु बंदरगाह



d) भाखरा-नांगल परियोजना ।



केवल दृष्टिबाधित परीक्षार्थियों के लिए विकल्प प्रश्न : ( प्रश्न सं० 38 के बदले में )

बहुउद्देशीय नदी घाटी परियोजनाओं के मुख्य लक्ष्य का उल्लेख करें ।



5



