

**FIRST YEAR HIGHER SECONDARY EXAMINATION**  
**SAMPLE QUESTION PAPER**  
**ECONOMICS**

---

Answer any 8 questions from 1 to 10

(8×1 = 8)

1. Name the institution derived instead of planning commission?
  - a) Finance commission
  - b) U.G.C
  - c) Niti Aayog
  - d) Higher education commission
2. The item included in primary sector from the following
  - a) Electricity
  - b) Health
  - c) Trade
  - d) Mining
3. The HDI rank of India in 2022
  - a) 133
  - b) 134
  - c) 135
  - d) 136
4. Odd one out
  - a) Height
  - b) Weight
  - c) Mark
  - d) Family size
5. Which is the positional average from the following
  - a) Mean
  - b) Median
  - c) Range
  - d) QD
6.  $\sum(x-\bar{x}) = \dots\dots\dots$ 
  - a) 0
  - b) -1
  - c) 2
  - d) 1
7. Paasche's price index based on .....

  - a) Current year quantity
  - b) Base year quantity
  - c) Both a & b
  - d) None of these

8. Jail cost of living index is related with
  - a) VKRV Rao
  - b) PC Mahalanobis
  - c) Findlay shirras
  - d) Dadabai naoroji
9. Population growth rate is higher in
  - a) India
  - b) China
  - c) Pakistan
  - d) Afganistan

10. If actual value of a population is 1000, sample value is 800. Find out sampling error

- a) 1000
- b) 800
- c) 200
- d) 8000

Answer any 4 questions from 11 to 15


(4×2 = 8)

11. Find simple aggregative price index

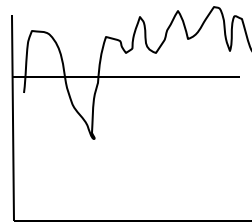
items	Price in 2021	Price in 2022
A	90	95
B	40	60
C	30	35

12. What are the steps towards making a project?

13. Observe the diagram and identify the poverty .



a) .....



b) .....

14. Convert the following classes into exclusive class

Class	Frequency
10 – 15	2
16 – 21	4
22 – 27	6
28 - 33	8

15. Write any four measures taken by the Govt to improve agricultural marketing

Answer any 4 questions from 16 to 20

(4×3 = 12)

16. “index numbers are treated as economic barometer”. What are the uses of index numbers

17. Categorise the following in to suitable heading

Teacher, head load worker, farmer, street vendor, doctor, engineer

Formal sector	.....
•	•
•	•
•	•

18. What are the similarities in development strategies of India, China and Pakistan.

19. Statistics have inevitable role in economics. Discuss

20. What are the qualities of a good questionnaire?

Answer any 4 questions from 21 to 25

(4×4 =12)

21. Draw pie diagram from the following data

faculty	science	Arts	commerce	total
Number of students	2100	1010	2390	5500

22. Draw the scatter diagrams for the following
- Perfect positive correlation
  - No correlation
  - Negative correlation
  - Perfect negative correlation
23. What are the important common objectives of five year plans in India? Explain
24. We completed 31 years of reforms – suggest positive and negative impact of liberalization
25. Non sampling errors are more serious than sampling error. Based on this explain non sampling errors

Answer any 4 questions from 21 to 25

(4×5 =20)

26. Write a short note on liberalization adopted in financial sector reforms and industrial reforms.
27. Draw less than ogive and more than ogive from the following data. Locate median

Marks	0 – 10	10 - 20	20 - 30	30 - 40	40 – 50
Number of students	5	12	14	10	8

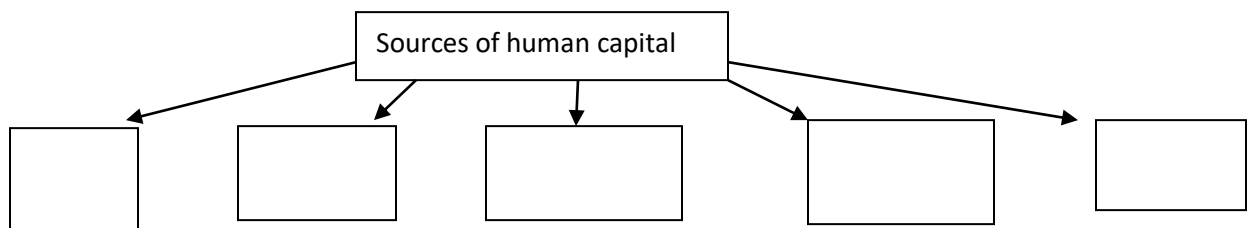
28. Prepare an article about the importance of Diversification into productive activities the risk from agriculture ( hints :- animal husbandry, fisheries, horticulture, other livlyhood activities)

29. The marks of 20 students in economics are given below. Based on complete the given table  
Marks: -

5	7	10	13	15	12	18	19	25	35
45	23	32	40	29	38	48	21	39	43

Class	frequency	Lower limit	Upper limit	Mid value	Class interval
0 – 10					
10 – 20					
20 – 30					
30 – 40					
40 - 50					

30. Complete the following flow chart and explain



Answer any 2 questions from 31 to 33

(2×8 =16)

31. Critically evaluate the various poverty alleviation programs implemented in India.
32. Calculate mean median, and mode from the following data

mark	Number of students
Less than 20	4
Less than 40	11
Less than 60	21
Less than 80	35
Less than 100	43
Less than 120	48
Less than 140	50

33. Define sustainable development. Explain the various strategies for sustainable development

ഒന്നാം വർഷ ഹയർ സെക്കൻഡറി പരീക്ഷ

മാതൃകാ ചോദ്യപേപ്പർ

ഇക്കണോമിക്സ്

1 മുതൽ 10 വരെയുള്ള ഏതെങ്കിലും 8 ചോദ്യങ്ങൾക്ക് ഉത്തരം നൽകുക

1. ആസൂത്രണ കമ്മീഷൻ പകരം ഉരുത്തിരിഞ്ഞ സ്ഥാപനത്തിന്റെ പേര്?

a) ധനകാര്യ കമ്മീഷൻ

ബി) യു.ജി.സി

സി) നിതി ആയോഗ്

d) ഉന്നത വിദ്യാഭ്യാസ കമ്മീഷൻ

2. താഴെ പറയുന്നവയിൽ നിന്ന് പ്രാഥമിക മേഖലയിൽ ഉൾപ്പെടുത്തിയിരിക്കുന്ന ഇനം

a) വൈദ്യുതി

ബി) ആരോഗ്യം

c) വ്യാപാരം

d)

3.

2022- ലെ ഇന്ത്യയുടെ എച്ച്ഡിഐ റാങ്ക്

a) 133

b) 134

സി) 135

d) 136

4. വിചിത്രമായ ഒന്ന്

a) ഉയര

b) ഭാരം

സി) മാർക്ക്

d) കുടുംബ വലുപ്പം

5 താഴെപ്പറയുന്നവയിൽ നിന്നുള്ള പൊസിഷണൽ ശരാശരി ഏതാണ്

എ) ശരാശരി ബി) മീഡിയൻ

സി) പരിധി d) QD

6.  $f(x-x) =$

a) 0 b) -1

c) 2 d) 1

7. പാഷയുടെ വിലസൂചികയെ അടിസ്ഥാനമാക്കിയുള്ളത്.....

a) നിലവിലെ വർഷത്തെ അളവ്

b) അടിസ്ഥാന വർഷത്തിന്റെ അളവ്

c) a & b രണ്ടും

d) ഇവയൊന്നും ഇല്ല

8. ജയിൽ ചെലവ് സൂചിക ഇതുമായി ബന്ധപ്പെട്ടിരിക്കുന്നു

a) വികെആർവി റാവു

ബി) പിസി മഹലനോബിസ്

സി) ഫിൻഡ്ലേ ഷിറാസ്

ഡി) ദാദാബായ് നവറോജി

9. ജനസംഖ്യാ വളർച്ചാ നിരക്ക് കൂടുതലാണ്

a) ഇന്ത്യ

b) ചൈന

സി) പാകിസ്ഥാൻ

d) അഫ്ഗാനിസ്ഥാൻ

10. ജനസംഖ്യയുടെ യഥാർത്ഥ മൂല്യം 1000 ആണെങ്കിൽ, സാമ്പിൾ മൂല്യം 800 ആണ്. സാമ്പിൾ പിശക് കണ്ടെത്തുക

a) 1000 b) 800

സി) 200 ഡി) 8000

**11 മുതൽ 15 വരെയുള്ള ഏതെങ്കിലും 4 ചോദ്യങ്ങൾക്ക് ഉത്തരം നൽകുക**

11. ലളിതമായ അഗ്രഗേറ്റീവ് വില സൂചിക കണ്ടെത്തുക

12. ഒരു പ്രോജക്ട് നിർമ്മിക്കുന്നതിനുള്ള ഘട്ടങ്ങൾ എന്തൊക്കെയാണ്?

13. ഡയഗ്രാം നിരീക്ഷിച്ച് ദാരിദ്ര്യം തിരിച്ചറിയുക.

14. ഇനിപ്പറയുന്ന ക്ലാസുകളെ എക്സ്ക്ലൂസീവ് ക്ലാസാക്കി മാറ്റുക

15. കാർഷിക വിപണനം മെച്ചപ്പെടുത്തുന്നതിന് സർക്കാർ സ്വീകരിച്ച ഏതെങ്കിലും നാല് നടപടികൾ എഴുതുക

**16 മുതൽ 20 വരെയുള്ള ഏതെങ്കിലും 4 ചോദ്യങ്ങൾക്ക് ഉത്തരം നൽകുക. (4x3 = 12)**

16. "ഇൻഡക്സ് നമ്പറുകളെ സാമ്പത്തിക ബാരോമീറ്ററായി കണക്കാക്കുന്നു". സൂചിക നമ്പറുകളുടെ ഉപയോഗങ്ങൾ എന്തൊക്കെയാണ്

17. ഇനിപ്പറയുന്നവ അനുയോജ്യമായ തലക്കെട്ടിലേക്ക് തരംതിരിക്കുക

അധ്യാപകൻ, ചുമട്ടുതൊഴിലാളി, കർഷകൻ, വഴിയോരക്കച്ചവടക്കാരൻ, ഡോക്ടർ, എഞ്ചിനീയർ

18. ഇന്ത്യ, ചൈന, പാകിസ്ഥാൻ എന്നിവയുടെ വികസന തന്ത്രങ്ങളിലെ സമാനതകൾ എന്തൊക്കെയാണ്.

19. സാമ്പത്തിക ശാസ്ത്രത്തിൽ സ്ഥിതിവിവരക്കണക്കുകൾക്ക് അനിവാര്യമായ പങ്കുണ്ട്. ചർച്ച ചെയ്യുക

20. ഒരു നല്ല ചോദ്യാവലിയുടെ ഗുണങ്ങൾ എന്തൊക്കെയാണ്?

**21 മുതൽ 25 വരെയുള്ള ഏതെങ്കിലും 4 ചോദ്യങ്ങൾക്ക് ഉത്തരം നൽകുക**

21. ഇനിപ്പറയുന്ന ഡാറ്റയിൽ നിന്ന് പൈ ഡയഗ്രാം വരയ്ക്കുക

22. ഇനിപ്പറയുന്നവയ്ക്കായി സ്റ്റാറ്റർ ഡയഗ്രാമുകൾ വരയ്ക്കുക

a) പെർഫെക്റ്റ് പോസിറ്റീവ് കോറിലേഷൻ

b) പരസ്പര ബന്ധമില്ല

സി) നെഗറ്റീവ് കോറിലേഷൻ

ഡി) പെർഫെക്റ്റ് നെഗറ്റീവ് കോറിലേഷൻ

23. ഇന്ത്യയിലെ പഞ്ചവത്സര പദ്ധതികളുടെ പ്രധാന പൊതു ലക്ഷ്യങ്ങൾ എന്തൊക്കെയാണ്? വിശദീകരിക്കാൻ

24. ഞങ്ങൾ 31 വർഷത്തെ പരിഷ്കാരങ്ങൾ പൂർത്തിയാക്കി- ഉദാരവൽക്കരണത്തിന്റെ ഗുണപരവും

പ്രതികൂലവുമായ പ്രത്യാഘാതങ്ങൾ നിർദ്ദേശിക്കുക, സാമ്പിൾ ചെയ്യാത്ത പിശകുകൾ സാമ്പിൾ പിശകിനേക്കാൾ ഗുരുതരമാണ്. ഇതിന്റെ അടിസ്ഥാനത്തിൽ നോൺ സാമ്പിൾ വിശദീകരിക്കുക

25. സാമ്പിൾ ചെയ്യാത്ത പിശകുകൾ സാമ്പിൾ പിശകിനേക്കാൾ ഗുരുതരമാണ്. ഇതിന്റെ അടിസ്ഥാനത്തിൽ നോൺ സാമ്പിൾ വിശദീകരിക്കുക

26. സാമ്പത്തിക മേഖലയിലെ പരിഷ്കാരങ്ങളിലും വ്യാവസായിക പരിഷ്കാരങ്ങളിലും സ്വീകരിച്ച ഉദാരവൽക്കരണത്തെക്കുറിച്ച് ഒരു ചെറിയ കുറിപ്പ് എഴുതുക.

27. ഇനിപ്പറയുന്ന ഡാറ്റയിൽ നിന്ന് ഒഗിവിനെക്കാൾ കുറവും ഒഗിവിനെക്കാൾ കൂടുതലും വരയ്ക്കുക. മീഡിയൻ കണ്ടെത്തുക

28. അപകടസാധ്യതയുള്ള ഉൽപാദന പ്രവർത്തനങ്ങളിലേക്കുള്ള വൈവിധ്യവൽക്കരണത്തിന്റെ പ്രാധാന്യത്തെക്കുറിച്ച് ഒരു ലേഖനം തയ്യാറാക്കുക

കൃഷിയിൽ നിന്ന് (സൂചനകൾ:- മൃഗസംരക്ഷണം, മത്സ്യബന്ധനം, ഹോർട്ടികൾച്ചർ, മറ്റ് ഉപജീവന പ്രവർത്തനങ്ങൾ)

29. സാമ്പത്തിക ശാസ്ത്രത്തിലെ 20 വിദ്യാർത്ഥികളുടെ മാർക്ക് ചുവടെ നൽകിയിരിക്കുന്നു. നൽകിയിരിക്കുന്ന പട്ടിക പൂർത്തിയാക്കുന്നതിന്റെ അടിസ്ഥാനത്തിൽ

30. ഇനിപ്പറയുന്ന ഘോഷാർത്ഥ് പൂർത്തിയാക്കി വിശദീകരിക്കുക

31 മുതൽ 33 വരെയുള്ള ഏതെങ്കിലും 2 ചോദ്യങ്ങൾക്ക് ഉത്തരം നൽകുക

31. ഇന്ത്യയിൽ നടപ്പിലാക്കിയ വിവിധ ദാരിദ്ര്യ നിർമ്മാർജ്ജന പരിപാടികൾ വിമർശനാത്മകമായി വിലയിരുത്തുക. ഇനിപ്പറയുന്ന ഡാറ്റയിൽ നിന്ന് ശരാശരി മീഡിയനും മോഡും കണക്കാക്കുക

32. ഇനിപ്പറയുന്ന ഡാറ്റയിൽ നിന്ന് ശരാശരി മീഡിയൻ, മോഡ് എന്നിവ കണക്കാക്കുക

33. സുസ്ഥിര വികസനം നിർവ്വചിക്കുക. സുസ്ഥിര വികസനത്തിനുള്ള വിവിധ തന്ത്രങ്ങൾ വിശദീകരിക്കുക

**Prepared By**

**GROUP 2**

**SAMEER P C:PPMHSS KOTTUKKARA**

**KARTHIK P K:HMSHSS THURAKKAL**

**MALATHY K:GHSS THADATHILPARAMBA**

**SUDEVINI P:GBHSS MANJERI**

**FATHIMA SUHRA B:MAJLIS HSS VENGADU**

**MOHAMMED ALI SHIHAB :GHSS KUZHIMANNA**

**SHIHABUDHEEN K:MIC HSS ATHANIKKAL**

**ABDUL RAHOOF C K:GHSS VAZHAKKAD**

**SAIFULLA MULANCHIPULAKKAL:GHSS KADUNGAPURAM**

**AMRUTHA T V :MA'DIN HSS MALAPPURAM**