

SECOND YEAR HIGHER SECONDARY EXAMINATION
PART III
ECONOMICS

SCORE: 80
TIME: 2 1/2 hrs
Cool-off time: 15 minutes

Answer any 8 questions from 1 to 10. Each Carries 1 Score

1. The General Theory of Employment, interest and Money was written by
a. Marshall b. Adam Smith c. J M Keynes d. J B Say

2. Which of the following takes the shape of Rectangular Hyperbola?
a. TVC b. TFC c. AVC d. AFC

3. Micro Economics is also known as
a. General theory b. Price Theory c. Income Theory d. None of the above

4. when TP is maximum MP becomes
a. +ve b. 0 c. -ve d. Infinity

5. $GDP + NFIA =$ _____
a. GNP b. NNP c. PI d. PDI

6. The value of balance budget multiplier is
a. 0 b. 1 c. > 1 d. < 1

7. Profit is the difference between
a. $TR - TC$ b. $TR - TVC$ c. $TR - TFC$ d. $MR - MC$

8. The Want satisfying power of a commodity is known as
a. Demand b. Supply c. Utility d. Elasticity

9. In a centrally planned economy all important decisions are taken by
a. Government b. Market c. Central Bank d. Commercial bank

10. $1 - MPC =$ _____
a. MPS b. APC c. MPC d. APS

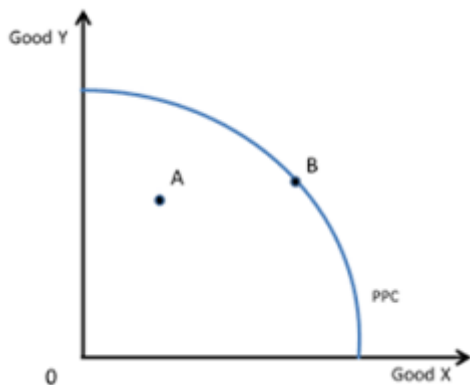
Answer any 4 questions from 11 – 15. Each carries 2 scores

11. Define stock and flow with example
12. Distinguish between short run and long run
13. The price of a commodity increases from 60 to 70. As a result of this demand decreases from 100 to 80. Calculate Price elasticity of demand.
14. Differentiate between devaluation and depreciation
15. Define liquidity trap

Answer any 4 questions from 16 to 20. Each carries 3 scores

16. What are the objectives of government budget?

17. Identify the curve given below. What does the points A and B represents?



18. Mention the features of perfect competition

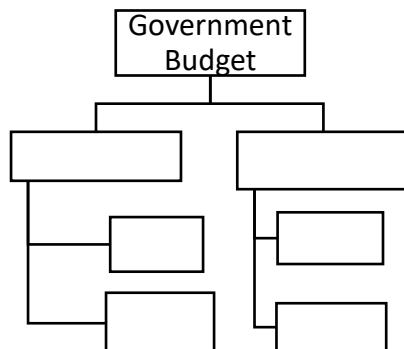
19. When $QD = 800 - 4P$, $QS = 600 + 4P$. Find equilibrium price and quantity?

20. Explain paradox of thrift.

Answer any 4 questions from 21 to 25. Each carries 4 scores.

21. Distinguish between price floor and price ceiling.

22. Complete the chart



23. Complete the following.

M1 = _____

M2 = _____

M3 = _____

M4 = _____

24. Define flexible exchange rate system with the help of diagram

25. What is budget? What are the different measures of government budget deficit?

Answer any 4 questions from 26-30. each carries 5 scores.

26. If $P1=4, P2=2, M=40$.

a. Write the budget line equation

b. Find vertical and horizontal intercept

c. Draw budget line

d. What is the slope of the budget line

27. Diagrammatically explain the profit maximisation conditions of perfect competition

28. Explain the circular flow of income and expenditure with the help of a diagram. Identify the real flow and money flow.

29. Find out the policy tools adopted by the RBI to control the money supply in the economy.

30. Is GDP a good indicator of welfare?. Comment your answer

Answer any 4 questions from 31-33. Each carries 8 scores.

31. Write the methods of measuring National Income.

32. Write the features of Indifference curve. Diagrammatically explain the optimal choice of the consumer.

33. Complete the following chart

Q	TFC	TVC	TC	AFC	AVC	SAV	SMC
0	60		60				
1			90				
2			100				
3			105				
4			116				
5			135				
6			180				

SECOND YEAR HIGHER SECONDARY EXAMINATION
PART III
ECONOMICS

PART – 1

SCORE: 80
TIME: 2 1/2 hrs
Cool off time: 15 minutes

1 മുതൽ 10 വരെയുള്ള ചോദ്യങ്ങളിൽ ഏതെങ്കിലും 8 എണ്ണം എഴുതുക. 1 സ്കോർ വീതം

1. ദി ജനറൽ തിയറി ഓഫ് എംപ്ലോയ്മെന്റ് , ഇൻററസ്റ്റ് ആൻഡ് മണി എന്ന പുസ്തകം എഴുതിയത് ആര് ?
a. മാർഷൽ b. ആദം സ്മിത്ത് c. ജെ എം കെയ്ൻസ് d. ജെ ബി സെ
2. താഴെ കൊടുത്തിരിക്കുന്നതിൽ റെക്റ്റാംഗുലർ ഹൈപ്പർബോള ആകൃതിയിൽ ഉള്ളത് ഏതാണ് ?
a. TVC b. TFC c. AVC d. AFC
3. സൂക്ഷ്മസാമ്പത്തികശാസ്ത്രം അറിയപ്പെടുന്നത്?
a. ജനറൽ തിയറി b. വില സിദ്ധാന്തം c. വരുമാന സിദ്ധാന്തം d. ഇവ ഒന്നുമല്ല
4. TP പരമാവതി ആകുമ്പോൾ MP _____
a. +ve b. പൂജ്യം c. -ve d. ഇൻഫിനിറ്റി
5. GDP + NFIA = _____
a. GNP b. NNP c. PI d. PDI
6. സന്തുലിത ബജറ്റ് ഗുണകത്തിന്റെ മൂല്യം
a. 0 b. 1 c. >1 d. <1
7. ലാഭം ഇവ തമിലുള്ള വ്യത്യാസമാണ്
a. TR - TC b. TR - TVC c. TR - TFC d. MR – MC
8. ആവശ്യങ്ങളെ തൃപ്തിപ്പെടുത്താനുള്ള ഒരു വസ്തുവിന്റെ കഴിവാണ്
a. ചോദനം b. പ്രദാനം c. ഉപയുക്തത d. ഇലാസ്തികത
9. കേന്ദ്രീകൃത ആസൂത്രിത സമ്പദ് വ്യവസ്ഥയിൽ എല്ലാ തീരുമാനങ്ങളും എടുക്കുന്നത്
a. ഗവൺമെന്റ് b. കമ്പോളം c. കേന്ദ്രബാങ്ക് d. വാണിജ്യബാങ്ക്
10. $1 - MPC =$ _____
a. MPS b. APC c. MPC d. APS

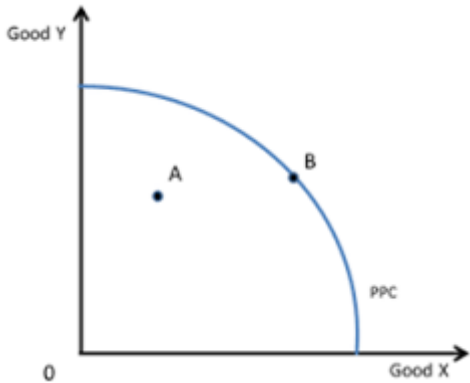
11 മുതൽ 15 വരെയുള്ള ചോദ്യങ്ങളിൽ ഏതെങ്കിലും 4 എണ്ണം എഴുതുക. 2

സ്കോർ വീതം

- 11. ചരങ്ങളും പ്രവാഹങ്ങളും ഉദാഹരണ സഹിതം നിർവചിക്കുക
- 12. ഹ്രസ്വകാലവും ദീർഘകാലവും തമ്മിലുള്ള വ്യത്യാസം എഴുതുക
- 13. ഒരു സാധനത്തിന്റെ വില 60 രൂപയിൽ നിന്നും 70 രൂപയായി വർദ്ധിച്ചു. അതിന്റെ ഫലമായി ചോദനം 100 ൽ നിന്നും 80 ആയി കുറയുന്നു. വില ഇലാസ്തികത കാണുക.
- 14. ഡീവാലുവേഷനും ഡിപ്രീസിയേഷനും തമ്മിലുള്ള വ്യത്യാസം എഴുതുക
- 15. ദ്രവത്വകേണി നിർവ്വചിക്കുക

16 മുതൽ 20 വരെയുള്ള ചോദ്യങ്ങളിൽ ഏതെങ്കിലും 4 എണ്ണം എഴുതുക . 3 സ്കോർ വീതം

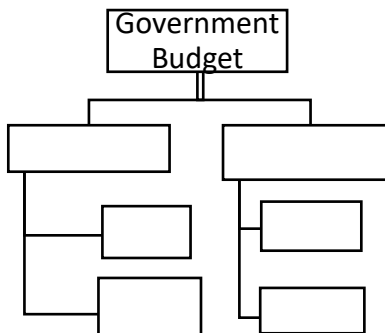
- 16. ഗവൺമെന്റ് ബജറ്റിന്റെ ലക്ഷ്യങ്ങൾ എന്തെല്ലാം
- 17. താഴെ തന്നിരിക്കുന്ന വക്രത്തെ തിരിച്ചറിഞ്ഞ് A, B ബിന്ദുക്കൾ എന്തിനെ പ്രതിനിധാനം ചെയ്യുന്നുവെന്ന് വ്യക്തമാക്കുക



- 18. പൂർണകീടമത്സര കമ്പോളത്തിന്റെ സവിശേഷതകൾ എന്തെല്ലാം?
- 19. $QD = 800 - 4P$, $QS = 600 + 4P$ ആയാൽ സന്തുലിത വിലയും സന്തുലിത അളവും കണ്ടെത്തുക
- 20. സമ്പാദ്യത്തിന്റെ വിരോധാഭാസം വിശദീകരിക്കുക

21 മുതൽ 25 വരെയുള്ള ചോദ്യങ്ങളിൽ ഏതെങ്കിലും 4 എണ്ണത്തിന് ഉത്തരമെഴുതുക . 4 സ്കോർ വീതം

- 21. തറവിലയും വിലപരിധിയും തമ്മിലുള്ള വ്യത്യാസങ്ങൾ എന്തെല്ലാം ?
- 22. ചാർട്ട് പൂർത്തീകരിക്കുക



23. പൂർത്തിയാക്കുക

- M1 = _____
- M2 = _____
- M3 = _____
- M4 = _____

24. ചിത്രത്തിന്റെ സഹായത്തോടെ അയവുള്ള വിനിമയനിരക്ക് വിവരിക്കുക

25. ബജറ്റ് എന്നാൽ എന്ത്? ഗവൺമെന്റ് ബഡ്ജറ്റിന്റെ വിവിധ കമ്മികൾ ഏവ?

26 മുതൽ 30 വരെയുള്ള ചോദ്യങ്ങളിൽ ഏതെങ്കിലും 4 എണ്ണത്തിന് ഉത്തരമെഴുതുക. 5 സ്കോർ വീതം

26. $P_1=4, P_2=2, M=40$ എങ്കിൽ

- a. ബജറ്റ് രേഖയുടെ സമവാക്യം എഴുതുക
- b. വെർട്ടിക്കൽ ഇൻറർസെപ്റ്റും ഹോറിസോണ്ടൽ ഇൻറർസെപ്റ്റും കാണുക
- c. ബജറ്റ് ലൈൻ വരയ്ക്കുക
- d. ബജറ്റ് ലൈനിന്റെ ചരിവ് കാണുക

27. ചിത്രത്തിന്റെ സഹായത്തോടെ പൂർണ്ണകിടമത്സര കമ്പോളത്തിന്റെ ലാഭം പരമാവധിയാക്കുന്ന വ്യവസ്ഥകൾ വിവരിക്കുക

28. ചിത്രത്തിന്റെ സഹായത്തോടെ വരുമാനത്തിന്റെ ചാക്രികപ്രവാഹം വിവരിക്കുക. യഥാർത്ഥ പ്രവാഹവും പണ പ്രവാഹവും തിരിച്ചറിയുക

29. സമ്പദ് വ്യവസ്ഥയിൽ പണപ്രധാനം നിയന്ത്രിക്കുന്നതിന് RBI സ്വീകരിക്കുന്ന നയങ്ങൾ കണ്ടെത്തുക.

30. GDP യുടെ വർദ്ധനവ് ക്ഷേമത്തിന്റെ സൂചകമാണോ? നിങ്ങളുടെ അഭിപ്രായം രേഖപ്പെടുത്തുക

31 മുതൽ 33 വരെയുള്ള ചോദ്യങ്ങളിൽ ഏതെങ്കിലും 2 എണ്ണത്തിന് ഉത്തരമെഴുതുക. 8 മാർക്ക് വീതം

31. ദേശീയ വരുമാനം അളക്കുന്നതിനുള്ള രീതികൾ എഴുതുക

32. നിസ്സംഗതാവക്രത്തിന്റെ പ്രത്യേകതകൾ എഴുതുക. ഉപഭോക്താവിന്റെ അനുകൂലതമ തിരഞ്ഞെടുപ്പ് ചിത്രസഹായത്തോടെ വിവരിക്കുക.

33. പട്ടിക പൂർത്തിയാക്കുക

Q	TFC	TVC	TC	AFC	AVC	SAV	SMC
0	60		60				
1			90				
2			100				
3			105				
4			116				
5			135				
6			180				