

**SECOND YEAR EXAMINATION**

**SAMPLE QUESTION PAPER**

Part III  
**ECONOMICS**

**Time: 2 ½ Hours**  
**Cool-off time: 15 Minutes**

**Maximum : 80 Scores**

**General Instructions to Candidates.**

- There is a ‘Cool off time’ of 15 minutes in addition to the writing time.
- Use the ‘Cool of time’ to get familiar with questions and to plan your answers
- Read questions carefully before answering.
- Read the instructions carefully.
- Calculations, figures and graphs should be shown in the answer sheet itself.
- Malayalam version of the questions is also provided.
- Give equations wherever necessary.
- Electronic devices except non programmable calculators are not allowed in the examination hall.

**വിദ്യാർത്ഥികൾക്കുള്ളപൊതുനിർദ്ദേശങ്ങൾ**

- നിർദ്ദിഷ്ടസമയത്തിന്പുറമെ 15 മിനിട്ടു ‘കൂൾഓഫ് ടൈം’ ഉണ്ടായിരിക്കും
- ‘കൂൾഓഫ് ടൈം’ ചോദ്യങ്ങൾ പരിചയപ്പെടാനും ഉത്തരങ്ങൾ ആസൂത്രണം ചെയ്യാനും ഉപയോഗിക്കുക
- ഉത്തരങ്ങൾ എഴുതുന്നതിനുമുമ്പ് ചോദ്യങ്ങൾ ശ്രദ്ധാപൂർവ്വമായി വായിക്കണം
- നിർദ്ദേശങ്ങൾ മുഴുവനും ശ്രദ്ധാപൂർവ്വമായി വായിക്കണം
- കണക്കുകൂട്ടലുകൾ, ചിത്രങ്ങൾ, ഗ്രാഫുകൾ എന്നിവ ഉത്തരക്കടലാസിൽ തന്നെ ഉണ്ടായിരിക്കണം
- ചോദ്യങ്ങൾ മലയാളത്തിലും നൽകിയിട്ടുണ്ട്
- ആവശ്യമുള്ള സ്ഥലത്തു സമവാക്യങ്ങൾ കൊടുക്കണം
- പ്രോഗ്രാമുകൾ ചെയ്യാനാകാത്ത കാൽക്കുലേറ്ററുകൾ ഒഴികെയുള്ള ഒരു ഇലക്ട്രോണിക് ഉപകരണവും പരീക്ഷാഹാളിൽ ഉപയോഗിക്കുവാൻ പാടുള്ളതല്ല

**Answer any 10 question from 1 to 12 each carries**

State whether True or False

1. Working of market mechanism is the key feature of capitalistic economy.

കമ്പോള സംവിധാനത്തിന്റെ പ്രവർത്തനം പ്രധാന സവിശേഷതയായി വരുന്നത് മുതലാളിത്ത സമ്പദ്വ്യവസ്ഥയിലാണ്.

2. The usual shape of PPC is convex to the origin.

ഉത്പാദന സാധ്യത വക്രം കോൺവെക്സ് ആകൃതിയിലുള്ളതാകുന്നു.

3. The price taking behavior is a features of

a.monopoly b.perfect competition c.oligopoly d.monopolistic competetion

വില സ്വീകരിക്കൽ പെരുമാറ്റ രീതി സവിശേഷതയായി വരുന്നത്

a. കുത്തക കമ്പോളത്തിൽ b. സമ്പൂർണ്ണ കിട മത്സര കമ്പോളത്തിൽ c. ഒളിഗോപൊളി കമ്പോളത്തിൽ d. കുത്തക മത്സര കമ്പോളത്തിൽ

4. The shape of AFC curve is

a.U shaped b.inverted U shape c.rectangular hyperbola d.horizontal

AFC വക്രത്തിന്റെ ആകൃതി താഴെ പറയുന്നവയിൽ ഏതാണ്?

a. U ആകൃതി b.ഇൻവെർട്ടഡ് U ആകൃതി c. റെക്റ്റാങ്കുലർ ഹൈപ്പർ ബോള d. തിരശ്ചീനം

5. ഓപ്പറേഷൻ പ്രളയവുമായി ബന്ധപ്പെട്ടിരിക്കുന്നു..... The shape of demand curve  $Q = a - bp$  is.....

$Q = a - bp$  എന്ന ചോദന വക്രത്തിന്റെ ചരിവ്..... ആകുന്നു.

6. Rise in demand due to fall in price is known as.....

വില കുറയുമ്പോൾ ചോദനം വർധിക്കുന്നതിനെ അറിയപ്പെടുന്നത്.....

7. Macro economics is also known as

a. price theory b.demand theory c.theory of income and a employment d.cost theory

സ്ഥൂല സാമ്പത്തിക ശാസ്ത്രം..... എന്നും അറിയപ്പെടുന്നു

a. വിലാസിദ്ധാന്തം b. ചോദനസിദ്ധാന്തം c. വരുമാനം തൊഴിൽ സിദ്ധാന്തം d. ചിലവ് സിദ്ധാന്തം

8. If GDP stands for Nominal GDP, 'gdp' stands for real GDP then GDP deflator equal to

a.  $\frac{gdp}{GDP}$  b.  $\frac{GDP}{gdp}$  c.  $\frac{GDP}{gdp} * 100$  d. None of these

GDP എന്നത് നാമമാത്ര GDP യും, gdp എന്നത് യഥാർത്ഥ GDP യുമാണെങ്കിൽ GDP ഡിഫ്ലേറ്റർ

a.  $\frac{gdp}{GDP}$  b.  $\frac{GDP}{gdp}$  c.  $\frac{GDP}{gdp} * 100$  d. ഇതൊന്നുമല്ല

9. Difference between gross investment and depreciation is

a. inventory b. saving c. consumption d. net investment

മൊത്ത നിക്ഷേപവും തേയ്മാനവും തമ്മിലുള്ള വ്യത്യാസമാണ്

a. ഇൻവെൻറ്ററി b. സമ്പാദ്യം c. ഉപഭോഗം d. അറ്റ നിക്ഷേപം

10 wear and tear of capital due to continuous use

a. depreciation b. money flow c. real flow d. investment

തുടരുപയോഗം മൂലമുണ്ടാകുന്ന മൂലധന ശോഷണം

a. തേയ്മാനം b. പണമൊഴുക്ക് c. യഥാർത്ഥ ഒഴുക്ക് d. നിക്ഷേപം

11. Policy taken by RBI to protected the economy from external shocks

a. sterilisation b. CRR c. SLR d. money multiplier

ബാഹ്യ ഇടപെടലുകൾ മൂലം സംഭവിക്കുന്ന പ്രത്യാഘാതങ്ങളിൽ നിന്നും സമ്പാദ്യ വ്യവസ്ഥയെ സംരക്ഷിക്കുന്ന റബ്ബി യുടെ നയമാണ്

a. സ്റ്റെറിലൈസേഷൻ b. CRR c. SLR d. പണ ഗുണകം

12. The rate at which one currency is exchange for another currency

a. rate of interest b. exchange rate c. rate of inflation d. unemployment rate

ഒരു കറൻസി മറ്റൊരു കറൻസി യുമായി വിനിമയം ചെയ്യപ്പെടുന്ന നിരക്ക്

a. പലിശ നിരക്ക് b. വിനിമയ നിരക്ക് c. പണപ്പെരുപ്പ നിരക്ക് d. തൊഴിലില്ലായ്മ നിരക്ക്

Answer any six questions from 13 to 18. Each carries 2 scores

13. The price per unit of a commodity increases from rupees 10 to 20. As a result the demand in the market decreases from 200 unit to 100 units based on the about information calculate price elasticity of demand.

ഒരു യൂണിറ്റ് സാധനത്തിന്റെ വില 10 രൂപയിൽ നിന്ന് 20 രൂപയായി വർദ്ധിച്ചപ്പോൾ കമ്പോളത്തിൽ അതിന്റെ ചോദനം 200 യൂണിറ്റിൽ നിന്ന് 100 യൂണിറ്റായി കുറഞ്ഞു. എങ്കിൽ വില ഇലാസ്തിക ചോദനം കണ്ടു പിടിക്കുക.

14. Graphically illustrate market equilibrium

'കമ്പോള സന്തുലിതാവസ്ഥ ' ഗ്രാഫിന്റെ സഹായത്താൽ വിശദീകരിക്കുക

15. Distinguish between stock and flow

ശേഖരവും പ്രവാഹവും തമ്മിലുള്ള വ്യത്യാസം എഴുതുക

16. Identify difficulties of barter system

ബാർട്ടർ സമ്പ്രദായത്തിന്റെ പോരായ്മകൾ എന്തെല്ലാം?

17. What do you mean by marginal propensity to consume

സീമാന്ത ഉപഭോഗ പ്രവണത ( mpc) എന്നത് കൊണ്ട് അർത്ഥമാക്കുന്നത് എന്ത്?

18. What is the difference between devaluation and revaluation

അവമൂലനം ( devaluation) മൂല്യവർധനവും ( revaluation) തമ്മിലുള്ള വ്യത്യാസം എന്ത്?

19. Explain now the exchange rate is fix head under the fixed exchange rate system

സ്ഥിര വിനിമയ നിരക്കിൽ എങ്ങിനെയാണ് വിനിമയ നിരക്ക് നിർണ്ണയിക്കുന്നത്?

Answer any 5 questions from 20 to 25 each carries 3 scores

20.During the covid 19 pandemic period a there was a huge decrease in GDP of our country. Draw this change with the help of PPC.

കോവിഡ് 19 മഹാമാരി കാലഘട്ടത്തിൽ ഇന്ത്യയുടെ GDP യിൽ കുറവ് സംഭവിച്ചു. ഉത്പാദന സാധ്യതാ വക്രത്തിന്റെ സഹായത്തോടെ ഈ വ്യതിയാനം വരയ്ക്കുക.

21.a. What is perfect competition?

b.list out two features of perfect competition?

a.സമ്പൂർണ്ണ കിടമത്സരം എന്നാൽ എന്ത്?

b. സമ്പൂർണ്ണ കിടമത്സര കമ്പോളത്തിന്റെ ഏതെങ്കിലും 2 സവിശേഷതകൾ എഴുതുക

22. Complete the following

a.  $M1 = CU + \dots\dots\dots$

b.  $M2 = M1 + \dots\dots\dots$

c.  $M3 = \dots + \dots$

d.  $M4 = \dots + \dots$

വിട്ടു പോയത് പൂരിപ്പിക്കുക

a.  $M1 = CU + \dots$

b.  $M2 = M1 + \dots$

c.  $M3 = \dots + \dots$

d.  $M4 = \dots + \dots$

23. Government performs various functions through budget. Write objectives of the government budget

ഗവണ്മെന്റ് ബഡ്ജറ്റിലൂടെ പ്രധാനപ്പെട്ട പല ധർമ്മങ്ങളും നിർവഹിക്കുന്നു. ഗവണ്മെന്റ് ബഡ്ജറ്റിന്റെ ലക്ഷ്യങ്ങൾ ഏവ?

24. There are three linkages through which open economies establish economic relation with the rest of the world explain the linkages

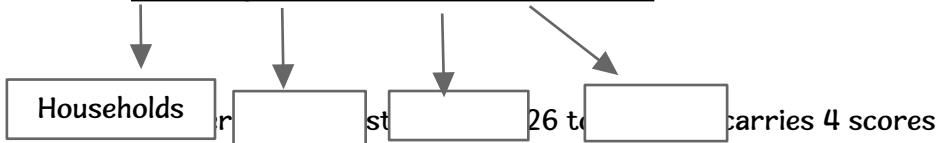
തുറന്ന സമ്പദ് വ്യവസ്ഥകൾ തമ്മിൽ സാമ്പത്തിക ബന്ധം സ്ഥാപിക്കുന്നതിനു മൂന്ന് മാർഗങ്ങൾ ഉണ്ട്. വിശദീകരിക്കുക.

25. Complete the flow chart

Major sectors of an economy

25. താഴെ കൊടുത്തിരിക്കുന്ന ചാർട്ട് പൂർത്തീകരിക്കുക

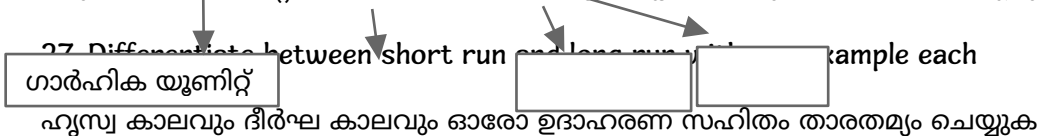
സമ്പദ് വ്യവസ്ഥയിലെ വിവിധ മേഖലകൾ



26. Explain any four factors affecting demand for a commodity

ഒരു സാധനത്തിന്റെ ചോദനത്തെ ബാധിക്കുന്ന ഏതെങ്കിലും 4 ഘടകങ്ങൾ എഴുതുക.

27. Differentiate between short run and long run. Give an example each



28. Diagrammatically illustrate the impact of price ceiling and a price floor

വില പരിധിയും താങ്ങു വിലയും ചിത്രത്തിന്റെ സഹായത്താൽ വിവരിക്കുക

29. Equilibrium income is determined by aggregate demand and I'll create supply explain the components of aggregate demand

സന്തുലിത വരുമാനം കണക്കാക്കുന്നത് സഞ്ചിത ചോദനവും സഞ്ചിത പ്രദാനവുമാണ്. സഞ്ചിത ചോദനത്തിന്റെ ഘടകങ്ങൾ വ്യക്തമാക്കുക.

ഗാർഹിക യൂണിറ്റ്

m 30 to 33 each carries 5 score

on a firm will not produce output level in cases under a)  $P > MC$  and b)  $P < MC$ . If so what are the conditions of profit maximizing output in the SR. Give diagrammatic illustration.

സമ്പൂർണ്ണ കിട മത്സരത്തിൽ ഒരു ഉത്പാദകൻ താഴെ പറയുന്ന സാഹചര്യത്തിൽ ഉത്പാദനം നിർത്തിവയ്ക്കുന്നു.

a)  $P > MC$  and b)  $P < MC$

അങ്ങനെയെങ്കിൽ ഹ്രിസ്വകാലത്തിൽ ലാഭം പരമാവധി ആകുവാനുള്ള സാധ്യതകൾ ഡയഗ്രാമത്തിന്റെ സഹായത്തോടെ വിശദമാക്കുക. ജോലി

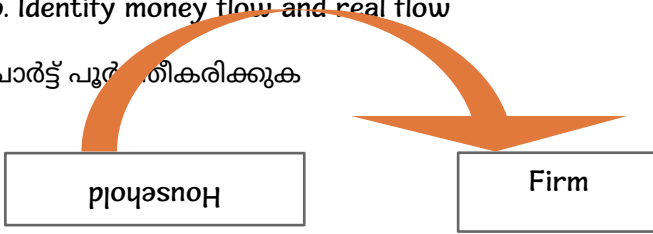
31. Complete the flow chart

a.

Factors of productond

b. Identify money flow and real flow

ചാർട്ട് പൂർത്തിയാക്കുക



a.

b. പണപ്രവഹത്തെ പ്രമാണമാക്കി പ്രവാഹത്തെക്കുറിച്ചും കണ്ടെത്തുക.



32. Write a note on the motives behind the demand for money

- 1.transaction motive
- 2.precautionary motive
- 3.speculative motive

സ്ഥാപനം

പണം കൈവശം വയ്ക്കുന്നതിനു പുറകിലുള്ള പ്രേരകങ്ങൾ എന്തെല്ലാം?

- 1. കൈമാറ്റ പ്രേരകം
- 2. മുൻകരുതൽ പ്രേരകം
- 3. ഊഹകച്ചവട പ്രേരകം

33. Describe the important components of budget

ബഡ്ജറ്റിന്റെ പ്രധാനപ്പെട്ട ഘടകങ്ങളെ വിശദീകരിക്കുക.

Answer any two questions from 34 to 36.Each carries 8 marks

34. a. Identify three methods of measuring national income

b. Explain any two methods of measuring national income

- a. ദേശീയ വരുമാനം കണക്കാക്കുന്നതിനുള്ള മൂന്ന് രീതികൾ ഏതെല്ലാം
- b. ഏതെങ്കിലും രണ്ട് രീതികൾ വിശദീകരിക്കുക

35. That are regarding production and cost structure of a firm is given below:

Output	TC	TFC	TVC	AFC	MC	AC	AUC
0	60						
1	80						
2	90						

3	95						
4	105						
5	125						

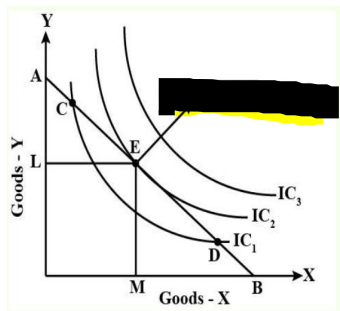
a. If TFC is 60 complete the table

b. On the same set of axis plot TFC, TUC, and MC

a. TFC 60 ആയാൽ പട്ടിക പൂർത്തിയാക്കുക.

b. TFC, TUC, MC എന്നിവ ഒരു ഗ്രാഫിൽ തന്നെ വരച്ച് അടയാളപ്പെടുത്തുക.

36. Given the ഡയഗ്രാം



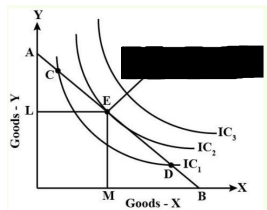
a. Identify

- 1) AB
- 2) Point E

b. Elaborate the properties of IC

c. Point C is not the equilibrium point of consumer. Do you agree? Explain.

a. തന്നിരിക്കുന്ന ഡയഗ്രാമിൽ താഴെ തന്നിരിക്കുന്ന പോയിന്റുകൾ ഏതെന്ന് തിരിച്ചറിയുക



- 1) AB
- 2) Point എന്റെ

b. ഉദാസീനതാ വക്രത്തിന്റെ സവിശേഷതകൾ എഴുതുക.



c. പോയിന്റ് C ഉപഭാഷാകതാവിന്റെ സന്തുലിത ബിന്ദുവല്ല. ഈ പ്രസ്താവനയോട് നിങ്ങൾ യോജിക്കുന്നുണ്ടോ? വിവരിക്കുക.

Second Year Sample Question Paper Prepared by :

- 1.MEERA JOSE, PEN NO: 195637, ST. TERESA'S CGHSS ERNAKULAM
- 2.ASHA VARGHESE. T, PEN NO: 195981, ST. ANTONY'S HSS ERNAKULAM
- 3.PREETHI. P, ACS EMHSS KALoor
- 4.ZEENATH U. A, PEN NO: 740369, GHSS FOR GIRLS ERNAKULAM
- 5.JISHA K JOY, PEN NO: 912990, GHSS ELAKUNNAPPUZHA EKM
- 6.NISHA B, PEN NO: 195966, SNHSS THRIKKANARUATTOM
- 7.SINI.P. D, PEN NO: 652256, ST. MARY'S CGHSS MARKET ROAD, EKM
- 8.JOHNy JOHN P, PEN NO: 194576 , ST. MARY'S HSS THALAKKODE, MULANRHURUTHY
- 9.MANJU K M, PEN NO: 879830, ST. AUGUSTINE'S GHSS KUZHUppILLY
- 10.ANESHA A U, PEN NO: 355295, GOVT. HSS KADAMAKKUDY
- 11.RASEENA P A, PEN NO: 399519, HIHSS EDAVENAKKAD.

