

A

സമഗ്ര ശിക്ഷാ കേരളം  
പാദവാർഷിക മൂല്യനിർണ്ണയം 2023-24  
സാമൂഹ്യശാസ്ത്രം

സമയം: 2 മണിക്കൂർ

ക്ലാസ്: 5

നിർദ്ദേശങ്ങൾ

1. മൂല്യനിർണ്ണയ പ്രവർത്തനങ്ങൾ ആരംഭിക്കുന്നതിനു മുമ്പ് 15 മിനുട്ട് സമാശ്വാസ സമയമാണ്. ഈ സമയം പ്രവർത്തനങ്ങൾ നന്നായി വായിച്ച് മനസ്സിലാക്കാനുള്ളതാണ്.
2. തന്നിട്ടുള്ള 8 പ്രവർത്തനങ്ങളിൽ ഏതെങ്കിലും 6 എണ്ണത്തിന് ഉത്തരമെഴുതിയാൽ മതി.
3. തിരഞ്ഞെടുക്കുന്ന 6 പ്രവർത്തനങ്ങളിലെയും എല്ലാ ഉപപ്രവർത്തനങ്ങൾക്കും ഉത്തരം എഴുതേണ്ടതാണ്.

പ്രവർത്തനം 1

ചിത്രം നിരീക്ഷിക്കൂ...

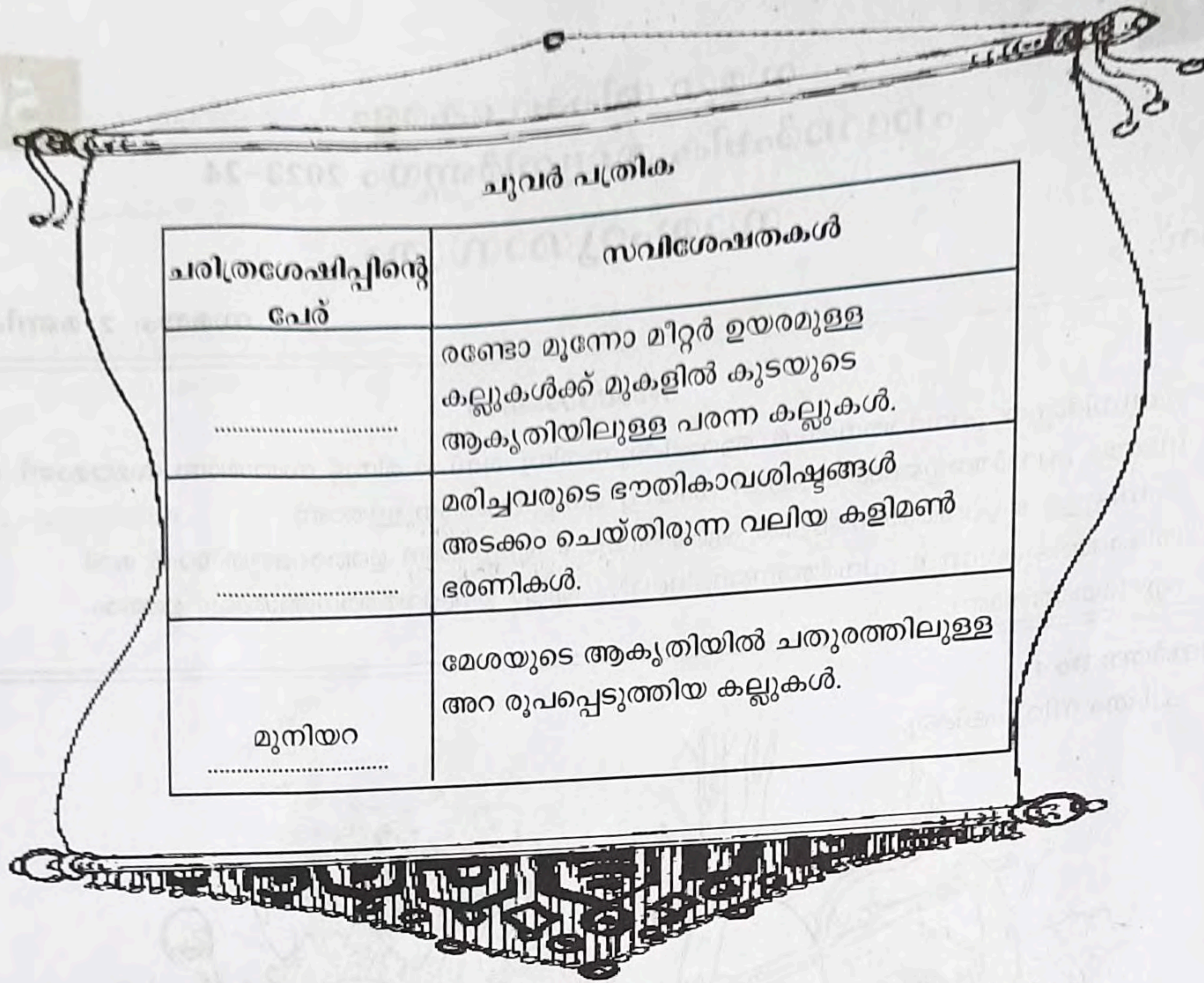


മനുഷ്യർക്ക് ആനയുടേതു പോലെ വലിയ ശരീരമോ, പുലിയുടേതു പോലെ കുർത്തനഖങ്ങളോ, കാട്ടുപോത്തിന്റെ കരുത്തോ ഇല്ല.

- എ) കാട്ടിൽ താമസിച്ചിരുന്ന ആദിമ മനുഷ്യന് ഉപകരണങ്ങളും ആയുധങ്ങളും ആവശ്യമായി വന്നത് എന്തിനൊക്കെ വേണ്ടിയിരുന്നിരിക്കും?
- ബി) ആദിമ മനുഷ്യൻ ഉപയോഗിച്ചിരുന്ന പ്രധാന ആയുധം ഏതായിരുന്നു?

പ്രവർത്തനം 2

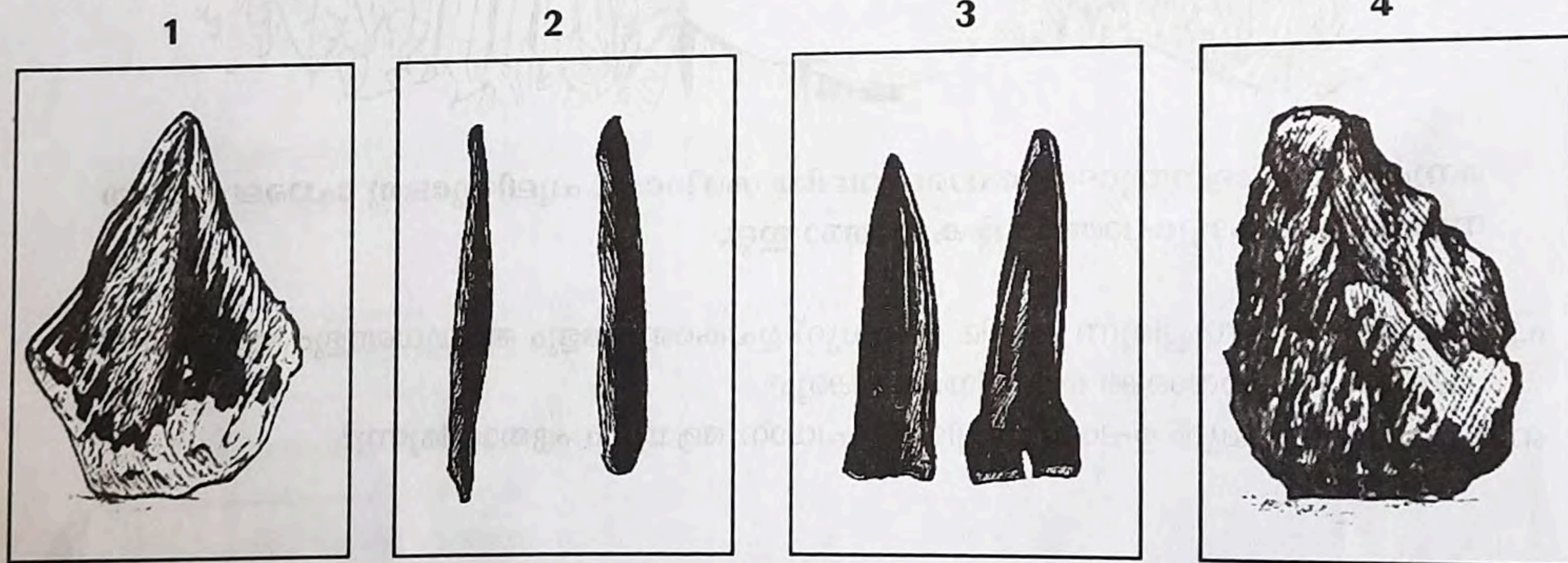
എ. പ്രാചീന കാലത്ത് നിലനിന്നിരുന്ന ശവസംസ്കാര സമ്പ്രദായങ്ങളുമായി ബന്ധപ്പെട്ട് അഞ്ചാം ക്ലാസ്സിലെ സാമൂഹ്യശാസ്ത്ര ക്ലാസിൽ കുട്ടികൾ തയ്യാറാക്കിയ ചുവർപത്രികയുടെ സവിശേഷതകൾ തിരിച്ചറിഞ്ഞ് പട്ടിക പൂർത്തിയാക്കുക.



ബി. സ്കൂളിലെ സാമൂഹ്യശാസ്ത്ര ക്ലബിന്റെ ആഭിമുഖ്യത്തിൽ തയ്യാറാക്കുന്ന ചരിത്ര മ്യൂസിയത്തിലേക്ക് ശേഖരിക്കാവുന്ന ഏതെങ്കിലും മൂന്ന് ചരിത്രസാമഗ്രികളുടെ പേരെഴുതുക.

**പ്രവർത്തനം 3**

ചിത്രം നിരീക്ഷിക്കുക



- എ) ഇവയിൽ പ്രാചീന ശിലായുധങ്ങൾ ഏതൊക്കെ?
- ബി) പ്രാചീന ശിലായുധങ്ങളിൽ നിന്ന് നവീന ശിലായുധങ്ങളിലുണ്ടായ മാറ്റങ്ങൾ എന്തെല്ലാമായിരുന്നു?
- സി) മനുഷ്യൻ ആദ്യമായി കൃഷി ചെയ്തു തുടങ്ങിയത് ഏത് കാലഘട്ടത്തിലാണ്?

1198 - 1199 കർക്കടകം - വിഷു 2023 ആഗസ്റ്റ് 1945 (1900൧൧൦ - ൧൦൧൧൦) 1445 (൧൦൦൦൦ - ൦൦൦൦൦)						
ഞായർ	തിങ്കൾ	ചൊവ്വ	ബുധൻ	വ്യാഴം	വെള്ളി	ശനി
SUNDAY	MONDAY	TUESDAY	WEDNESDAY	THURSDAY	FRIDAY	SATURDAY
		1	2	3	4	5
6	7	8	9	10	11	12
13	14	15	16	17	18	19
20	21	22	23	24	25	26
27	28	29	30	31		

- എ. ജനുവരി മാസത്തിൽ തുടങ്ങുന്ന ക്രിസ്തുവർഷ കലണ്ടറാണ് പൊതുവായി കാലഗണനയ്ക്ക് ഉപയോഗിക്കുന്നത്. കലണ്ടറിൽ ഉപയോഗിക്കുന്ന മറ്റ് വർഷക്രമങ്ങൾ എഴുതുക.
- ബി. ഒരു നൂറ്റാണ്ട് എത്ര വർഷമാണ്?
- സി. നൂറ്റാണ്ടിന്റെ കാലയളവ് പൂർത്തിയാക്കുക.

19-ാം നൂറ്റാണ്ട്

1801 ജനുവരി 01  
മുതൽ 1900  
ഡിസംബർ 31  
വരെ

20-ാം നൂറ്റാണ്ട്

.....

21-ാം നൂറ്റാണ്ട്

2001 ജനുവരി 01  
മുതൽ 2100  
ഡിസംബർ 31  
വരെ

പ്രവർത്തനം 5

പ്രാചീന ശിലായുഗം മുതൽ വെങ്കലയുഗം വരെയുള്ള കാലഘട്ടത്തിൽ മനുഷ്യജീവിതത്തിൽ നിരന്തരം ഒട്ടേറെ പുരോഗതി ഉണ്ടായി. താഴെ പറയുന്ന മാറ്റങ്ങൾ മനുഷ്യജീവിതത്തിലുണ്ടായത് ഏതേത് കാലഘട്ടങ്ങളിലാണ്?

- എ) 1. മൃഗങ്ങളെ ഇണക്കി വളർത്തി; വാസസ്ഥലങ്ങൾ ഉണ്ടാക്കി.
- 2. വേട്ടയാടി കിട്ടുന്ന മൃഗങ്ങളുടെ മാംസം ഭക്ഷണമായി ഉപയോഗിച്ചു; തീ ഉപയോഗിക്കാൻ തുടങ്ങി.


3. ഈയവും ചെമ്പും ഉരുക്കിച്ചേർത്ത് പുതിയൊരു ലോഹസങ്കരം നിർമ്മിച്ചു.

4. ചെമ്പുകൊണ്ടുള്ള ആയുധങ്ങളും ഉപകരണങ്ങളും ഉപയോഗിച്ചു.

വെങ്കലയുഗം

ബി) വെങ്കലയുഗത്തിൽ കൃഷി മെച്ചപ്പെടുകയും കാർഷികോൽപാദനത്തിൽ വർദ്ധനവുണ്ടാവുകയും ചെയ്തു. കാർഷിക മേഖലയിൽ തുടർന്നുണ്ടായ മാറ്റങ്ങൾ എന്തൊക്കെയാണ്?

പ്രവർത്തനം 6



എ) സമൂഹത്തിലെ ചിട്ടകളും മര്യാദകളും ജീവിതരീതികളും ആദ്യമായി നാം പഠിക്കുന്നത് കുടുംബത്തിൽ നിന്നാണ്. കുടുംബ രൂപീകരണം നടക്കുന്നത് ഏതെല്ലാം രീതിയിലാണ്?

1	രക്തബന്ധത്തിലൂടെ
2	.....
3	ദത്തദൂക്കലിലൂടെ

ബി) വ്യത്യസ്ത സവിശേഷതകൾ ഉൾക്കൊള്ളുന്നതാണ് കുടുംബം. 'എ' കോളത്തിലെ സവിശേഷതകളെ 'ബി' കോളത്തിലെ സൂചനകളുമായി യോജിപ്പിച്ചെഴുതുക.

എ. സവിശേഷതകൾ	ബി. സൂചനകൾ
ദേശഭാഷകൾക്ക് അതീതം	ചുമതലകൾ നിർവഹിക്കൽ
പരിമിതമായ വലുപ്പം	സ്നേഹം, വാത്സല്യം, സുരക്ഷിതത്വ ബോധം
വൈകാരിക ബന്ധങ്ങൾ	അംഗങ്ങളുടെ എണ്ണത്തിൽ കുറവ്
ഉത്തരവാദിത്വ ബോധം	എല്ലായിടത്തും കുടുംബമുണ്ട്

**പ്രവർത്തനം 7**

കുടുംബങ്ങളുടെ വരുമാന സ്രോതസ്സുകൾ വ്യത്യസ്തമാണ്. ലഭിക്കുന്ന പ്രതിഫലവും വ്യത്യസ്തമാണ്.

എ) താഴെ പറയുന്നവയ്ക്ക് ലഭിക്കുന്ന പ്രതിഫലം ഏതാണെന്ന് എഴുതുക.

1. കെട്ടിടം ഒരു വർഷത്തേക്ക് നിശ്ചിത തുകയ്ക്കായി വിട്ടു കൊടുത്തിരിക്കുന്നു.
2. നിർമ്മാണ തൊഴിലാളികൾ കെട്ടിടം പണിതു.
3. ഒരു നിശ്ചിത സംഖ്യ ഒരു നിശ്ചിത കാലത്തേക്ക് ബാങ്കിൽ നിക്ഷേപിച്ചിട്ടുണ്ട്.
4. പട്ടണത്തിൽ പോലീസ് ഓഫീസറായി ജോലി ചെയ്യുന്നു.
5. ഗ്രാമത്തിൽ മഹിളാ പ്രധാൻ ഏജന്റായി ജോലി നോക്കുന്നു.

കൂലി
കമ്മീഷൻ

ബി) നിങ്ങളുടെ കുടുംബത്തിലെ ഏതെങ്കിലും രണ്ട് ചെലവുകൾ എഴുതുക.

**പ്രവർത്തനം 8**



**ഭിംബെഡ്ക ഗുഹാചിത്രങ്ങൾ**

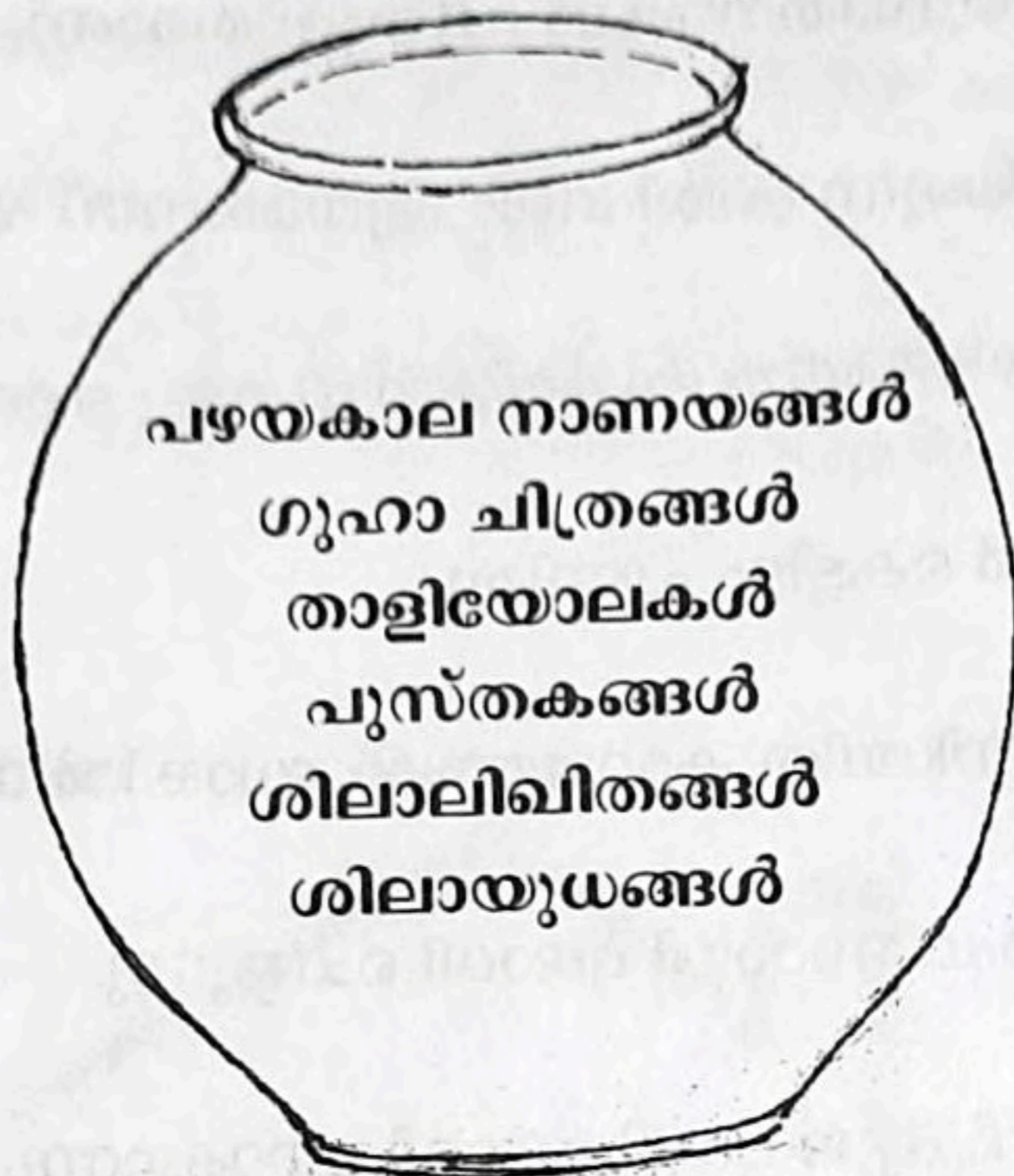
പ്രാചീന ശിലായുഗത്തിലെ ഈ ഗുഹാചിത്രങ്ങൾക്ക് ഒൻപതിനായിരത്തിലധികം വർഷത്തെ പഴക്കമുണ്ട്. എഴുത്തുവിദ്യ രൂപപ്പെടുന്നതിന് മുമ്പുള്ള ഈ കാലഘട്ടം ചരിത്രാതീത കാലം എന്നറിയപ്പെടുന്നു.

എ) എന്താണ് ചരിത്ര കാലം?

ബി) മനുഷ്യ ജീവിതത്തെക്കുറിച്ച് മനസ്സിലാക്കുന്നതിന് വിവിധ ചരിത്ര സ്രോതസ്സുകൾ ഉപയോഗിക്കുന്നു. തന്നിരിക്കുന്ന ചരിത്ര സ്രോതസ്സുകളിൽ ചിലത് ചരിത്രകാലത്തെയും ചിലത് ചരിത്രാതീതകാലത്തെയുമാണ്. അവയെ പട്ടികപ്പെടുത്തുക.

വിവിധ ചരിത്ര സ്രോതസ്സുകൾ

ചരിത്രാതീത കാലം
.....
ഗൃഹാ ചിത്രങ്ങൾ



ചരിത്ര കാലം
.....
പുസ്തകങ്ങൾ
ശിലാലിഖിതങ്ങൾ
.....

