

കൃത്യയുടെ പേര്	ക്രമ നമ്പർ	പ്രവർത്തനങ്ങൾ	ലഭിച്ച ഗ്രേഡ്
വിദ്യാലയത്തിന്റെ പേര്	1	കളിക്കാം ജയിക്കാം	
ഡിവിഷൻ	2	സമയം കണ്ടെത്താം	
രക്ഷിതാവിന്റെ ഒപ്പ്	3	കലാമേള	
അധ്യാപകന്റെ ഒപ്പ്	4	കലണ്ടറിലെ ഗണിതം	
	5	അടയാളത്തോടും	
	6	സ്കൂൾ വാർഷികം	
	ഓവറോൾ ഗ്രേഡ്		

നിർദ്ദേശങ്ങൾ

- ◆ ആദ്യത്തെ 15 മിനിറ്റ് പ്രവർത്തനങ്ങൾ നന്നായി വായിച്ചു മനസ്സിലാക്കാനുള്ള സമയമാണ്.
- ◆ ആറ് ചോദ്യങ്ങളിൽ അഞ്ചെണ്ണത്തിന് ഉത്തരം എഴുതിയാൽ മതി.
- ◆ തിരഞ്ഞെടുക്കുന്ന പ്രവർത്തനങ്ങളിലെ ഉപചോദ്യങ്ങൾക്കെല്ലാം ഉത്തരമെഴുതണം.

പ്രവർത്തനം - 1 കളിക്കാം ജയിക്കാം

എ) നേഹയും ആദിലും സംഖ്യാകാർഡുകൾ ഉപയോഗിച്ച് കളിക്കുകയാണ്. നേഹയുടെ കൈയിലുള്ള കാർഡുകൾക്ക് തുല്യമായ സംഖ്യകൾ ആദിലിന്റെ കാർഡുകളിൽ നിന്നും കണ്ടെത്തി ഒഴിഞ്ഞ കളങ്ങളിൽ എഴുതുക.



3×5	8×10	6×6	5×5	4×2

25	36	8	15	80
----	----	---	----	----



ബി) പൂവിന്റെ നടുവിലുള്ള സംഖ്യയ്ക്ക് തുല്യമായി വരുന്ന ഇതളുകൾക്ക് നിറം കൊടുക്കുക.



പ്രവർത്തനം - 2 സമയം കണ്ടെത്താം

അനു ഗണിതമേളയിൽ മോഡൽ നിർമാണമത്സരത്തിൽ പങ്കെടുക്കുകയാണ്.

മത്സരം ആരംഭിച്ചത് 9.30 നാണ്

എ) കളത്തിലെ സമയത്തിനനുസരിച്ച് ക്ലോക്കിൽ സൂചികൾ വരച്ചു ചേർക്കുക

09:30



ബി) അനു നിർമാണം പൂർത്തിയാക്കിയ സമയം ക്ലോക്കിൽ നോക്കി കളത്തിലെഴുതുക.

.....




സി) നിർമാണം പൂർത്തിയാക്കാൻ അനു എത്ര സമയം എടുത്തു?

..... മണിക്കൂർ മിനിട്ട്

ഡി) 9.30 ന് ആരംഭിച്ച മത്സരം 3 മണിക്കൂർ കഴിഞ്ഞ് അവസാനിച്ചുവെങ്കിൽ മത്സരം അവസാനിച്ച സമയം എഴുതുക.

.....

ഇ) ഈ സമയം ക്ലോക്കിൽ സൂചികൾ വരച്ച് കാണിക്കുക.



പ്രവർത്തനം - 3 കലാമേള

സ്കൂൾ കലോത്സവത്തിൽ ആതിരയും കുട്ടുകാരും നൃത്തമത്സരത്തിൽ പങ്കെടുക്കുന്നുണ്ട്. അതിനാവശ്യമായ സാധനങ്ങൾ വാങ്ങാൻ ആതിര അമ്മയോടൊപ്പം കടയിലെത്തി.



വാങ്ങിയ സാധനങ്ങളുടെ ബില്ല് ചുവടെ തന്നിരിക്കുന്നു. കടയിൽ പ്രദർശിപ്പിച്ച വില നോക്കി ബില്ല് പൂർത്തിയാക്കുക.


ഫാൻസി സ്റ്റോർ				
ബിൽ നം. 478		തീയതി : 29.10.2022		
പേര് : ആതിര				
ക്രമ നം	ഇനം	എണ്ണം	ഒന്നിന്റെ വില (രൂപയിൽ)	ആകെ
1	മുത്തുമാല	7	4	28
2	കമ്മൽ (സെറ്റ്)	5	6
3	കിരീടം	2
4	വള	2
ആകെ			

പ്രവർത്തനം - 4 കലണ്ടറിലെ ഗണിതം

എ) 2022 നവംബർ മാസത്തെ കലണ്ടറിലെ ഒരു ഭാഗമാണ് താഴെ കാണുന്നത്. ആദ്യത്തെ ബുധനാഴ്ച 2 ാം തീയതി ആണ്. മറ്റ് ബുധനാഴ്ചകൾ ഏതൊക്കെ തീയതികളിലാണ്?

 വിദ്യാഭ്യാസ കലണ്ടർ 2022-23 						
2022 നവംബർ						
ബുധൻ	ബുധൻ	ബുധൻ	ബുധൻ	ബുധൻ	ബുധൻ	ബുധൻ
•	•		2			
				•	•	•

ബി) കലണ്ടറിലെ ഭാഗമാണ് താഴെ കൊടുത്തിരിക്കുന്നത്. മറ്റു തീയതികൾ കൂടി കണ്ടെത്തി എഴുതുക.



സി) 2022 നവംബർ 15 മുതൽ 18 വരെയാണ് കലാമേള നടന്നത്. കലാമേള എത്ര ദിവസം ഉണ്ടായിരുന്നു?

പ്രവർത്തനം - 5 അടുക്കളത്തൊട്ടം

സ്കൂളിൽ അടുക്കളത്തൊട്ടം ഉണ്ടാക്കുകയാണ്. അതിന് കൃഷി ഭവനിൽ നിന്നും പച്ചക്കറിവിത്തുകൾ കൊണ്ടുവന്നു. ഓരോ പായ്ക്കറ്റിലെയും വിത്തുകളുടെ എണ്ണം ചിത്രത്തിൽ ഉണ്ട്. ഏതിനും വിത്തുകളാണ് കൂടുതൽ ഉള്ളത്? കണ്ടെത്തി എഴുതുക.

പടവലം



പായ്ക്കറ്റിന്റെ എണ്ണം

ഒരു പായ്ക്കറ്റിലെ വിത്തുകളുടെ എണ്ണം

ആകെ വിത്തുകൾ

മത്തൻ

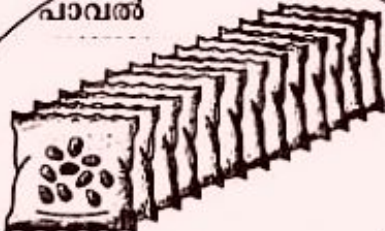


പായ്ക്കറ്റിന്റെ എണ്ണം

ഒരു പായ്ക്കറ്റിലെ വിത്തുകളുടെ എണ്ണം

ആകെ വിത്തുകൾ

പാവൽ



പായ്ക്കറ്റിന്റെ എണ്ണം

ഒരു പായ്ക്കറ്റിലെ വിത്തുകളുടെ എണ്ണം

ആകെ വിത്തുകൾ

പയർ



പായ്ക്കറ്റിന്റെ എണ്ണം


ഒരു പായ്ക്കറ്റിലെ വിത്തുകളുടെ എണ്ണം

ആകെ വിത്തുകൾ

ഏതിനും വിത്തുകളാണ് കൂടുതൽ?

പ്രവർത്തനം - 6 സ്കൂൾ വാർഷികം

സ്കൂൾ വാർഷികത്തിനുവേണ്ടി കസേരകൾ നിരത്തിയിടുമ്പോൾ 3-ാം ക്ലാസ്സുകാരാണ്.



എ) 5 വരികളിലായി കസേരകൾ നിരത്തി. ഒരു വരിയിൽ 6 കസേര വീതം ഉണ്ട്. ഇപ്പോൾ എത്ര കസേരകൾ നിരത്തി?

എല്ലാ കുട്ടികൾക്കും കസേര തികയാത്തതിനാൽ 6 കസേര വീതം 4 വരികളിൽ കൂടി നിരത്തി.

ബി) പുതിയതായി എത്ര കസേരകളാണ് നിരത്തിയത്?

സി) ഇപ്പോൾ ആകെ എത്ര വരികളിൽ കസേരകൾ ഉണ്ട്?

ഡി) ആകെ എത്ര കസേരകൾ ഉണ്ട്?