

ക്ലാസ് : 7

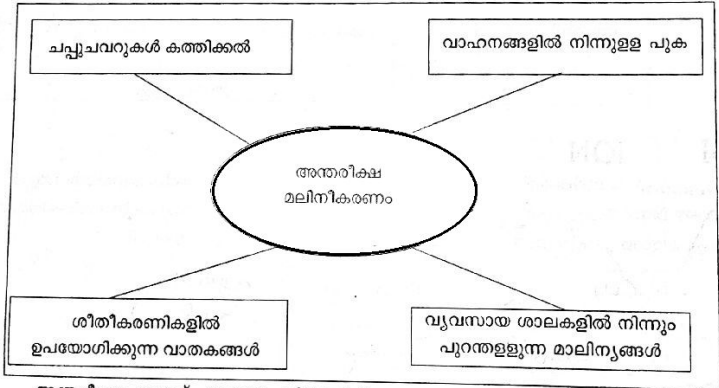
നിർദ്ദേശങ്ങൾ

1. മൂല്യനിർണയ പ്രവർത്തനങ്ങൾ ആരംഭിക്കുന്നതിനു മുമ്പ് 15 മിനിറ്റ് സമാശ്വാസ സമയമാണ്. ഈ സമയം ചോദ്യങ്ങൾ നന്നായി വായിച്ച് മനസ്സിലാക്കാനുള്ളതാണ്.
2. തന്നിട്ടുള്ള 10 പ്രവർത്തനങ്ങളിൽ 8 എണ്ണത്തിന് ഉത്തരമെഴുതിയാൽ മതി.
3. തിരഞ്ഞെടുക്കുന്ന 8 പ്രവർത്തനങ്ങളിലേയും എല്ലാ ഉപപ്രവർത്തനങ്ങൾക്കും ഉത്തരം എഴുതേണ്ടതാണ്.

പ്രവർത്തനം - 1

ഭൂമിയെ ഒരു പുതപ്പുപോലെ പൊതിഞ്ഞു സംരക്ഷിക്കുന്ന വാതകപാളിയാണ് വായുമണ്ഡലം അഥവാ അന്തരീക്ഷം.

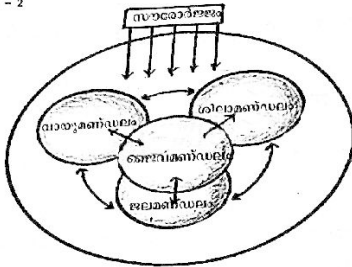
എ) അന്തരീക്ഷത്തെ മലിനമാക്കുന്ന ചില സാഹചര്യങ്ങളാണ് ചുവടെ നൽകിയിരിക്കുന്നത്.



അന്തരീക്ഷം നമുക്ക് ഏതെല്ലാം വിധത്തിൽ പ്രയോജനപ്പെടുന്നു? പട്ടിക പൂർത്തിയാക്കൂ.

- ◆ ഭൂമിയെ ഒരു പുതപ്പുപോലെ പൊതിഞ്ഞു സംരക്ഷിക്കുന്നു.
- ◆
- ◆
- ◆
- ◆

ബി) അന്തരീക്ഷ മലിനീകരണം തടയുന്നതിനുവേണ്ടി ജനങ്ങളെ ബോധവൽക്കരിക്കുന്നതിനായി തയ്യാറാക്കുന്ന പ്ലക്കാർഡിന് അനുയോജ്യമായ വാക്യം എഴുതൂ.



എ) ചിത്രം നിരീക്ഷിക്കൂ.

ബൈബിമൺഡലം നിലനിൽക്കുന്നത് വായുമൺഡലം, ശിലാമൺഡലം, ജലമൺഡലം, എന്നീ മൂന്ന് മൺഡലങ്ങളുടെയും പരസ്പര പ്രവർത്തനഫലമായിട്ടാണ്. നമ്മുടെ ജീവിതത്തിൽ ഓരോ മൺഡലത്തിന്റെയും പ്രാധാന്യം എത്രത്തോളമാണെന്ന് കണ്ടെത്തി എഴുതൂ.

വായുമൺഡലം

ശിലാമൺഡലം

ജലമൺഡലം

വരുമാനം ലഭിക്കാൻ സഹായിക്കുന്ന തൊഴിലുകളാണ് സാമ്പത്തിക പ്രവർത്തനങ്ങൾ.

താഴെ തന്നിരിക്കുന്ന പ്രവർത്തനങ്ങളെ വിവിധ മേഖലകളിലായി തിരിച്ച് പട്ടിക പൂർത്തിയാക്കുക.

എ) പഞ്ചസാര ഉൽപ്പാദനം, ഗതാഗതം, കരിമ്പ്കൃഷി, വ്യാപാരം, ഘൃതയിലകൃഷി.

.....	വിതീയ മേഖല
.....
.....

ആസൂത്രണത്തോടടുത്തുള്ള പ്രവർത്തനങ്ങൾ നമ്മുടെ ഭക്ഷ്യോൽപ്പാദനത്തിലും തൊഴിലവസരങ്ങളിലും ഗണ്യമായ വർദ്ധനവുണ്ടാക്കി.

എ) ഇന്ത്യയിൽ ഭക്ഷ്യോൽപ്പാദനം വർദ്ധിച്ചിട്ടും ചിലപ്രദേശങ്ങളിൽ ദാരിദ്ര്യം നിലനിൽക്കുന്നു. എന്തൊക്കെയാവും അതിന്റെ കാരണങ്ങൾ?

1.
2.

ബി) എല്ലാവിഭാഗം ജനങ്ങൾക്കും ഭക്ഷ്യസുരക്ഷ ഉറപ്പാക്കേണ്ടതുണ്ട്. ഭക്ഷ്യസുരക്ഷ എന്നതുകൊണ്ട് അർത്ഥമാക്കുന്നതെന്ത്?

സി) സ്വന്തമായി വരുമാനമില്ലാത്ത 65 വയസ്സിനുമേൽ പ്രായമുള്ളവർക്ക് പ്രയോജനം ലഭിക്കാനായി സർക്കാർ നടപ്പിലാക്കിയ പദ്ധതി എന്തുപേരിൽ അറിയപ്പെടുന്നു?

പ്രവർത്തനം - 5

ശിലാമണ്ഡലം, ജലമണ്ഡലം, വായുമണ്ഡലം എന്നിവയിൽ എന്തെങ്കിലും ഒരു മണ്ഡലത്തിൽ ഉണ്ടാകുന്ന ആഘാതം മറ്റു മണ്ഡലങ്ങളെയും ബാധിക്കും.

എ) ജലമണ്ഡലത്തിന്റെ നിലനിൽപ്പിനാധാരമായ ശിലാമണ്ഡലം, ജലമണ്ഡലം, വായുമണ്ഡലം എന്നിവ സംരക്ഷിക്കപ്പെടേണ്ടതിന്റെ ആവശ്യകത വ്യക്തമാക്കുന്ന ഒരു പോസ്റ്റർ തയ്യാറാക്കുക.

പോസ്റ്ററിൽ എന്തെല്ലാം ഉൾപ്പെടുത്താം?

- ആകർഷകമായ തലക്കെട്ട്
- ചിത്രം
- സന്ദേശം
- ആശയസൂചനകൾ
- മ്യൂസിക്കിതം

പ്രവർത്തനം - 6

ഒരു പ്രദേശത്തിലെ വിവരങ്ങളെ സംബന്ധിച്ച കൃത്യമായ അളവുകൾ, അവയുടെ സ്ഥാനം എന്നിവ തിട്ടപ്പെടുത്തി തോതിന്റെയും ദിശയ്ക്കിന്റെയും അടിസ്ഥാനത്തിൽ തയ്യാറാക്കുന്നതാണ് പ്ലാനുകൾ.

എ) ഒരു പ്രദേശത്തിന്റെ പ്രത്യേകതകൾ ചുവടെ കൊടുത്തിരിക്കുന്നു. ഈ വിവരങ്ങളെ അടിസ്ഥാനപ്പെടുത്തി പ്രസ്തുത പ്രദേശത്തിന്റെ പ്ലാൻ തയ്യാറാക്കുക.

- ◆ പ്രദേശത്തിന്റെ നീളം 10 കി.മീ., വീതി 8 കി.മീ.
- ◆ പ്രദേശത്തിന്റെ വടക്കുകിഴക്കുഭാഗത്ത് വിദ്യാലയവും അതിന്റെ സമീപത്തായി കൃഷിയിടവും സ്ഥിതി ചെയ്യുന്നു.
- ◆ പ്രദേശത്തിന്റെ വടക്കുപടിഞ്ഞാറുഭാഗത്തായി പാർപ്പിടങ്ങൾ സ്ഥിതി ചെയ്യുന്നു.
- ◆ പ്രദേശത്തിന്റെ വടക്കുനിന്നും തെക്കോട്ട് പാർപ്പിട സമുച്ചയത്തിന് സമാന്തരമായി ടാറിട്ട റോഡ് പോകുന്നു.
- ◆ പ്രദേശത്തിന്റെ കിഴക്കുനിന്ന് പടിഞ്ഞാറോട്ട് ഒരു നദി ഒഴുകുന്നു.

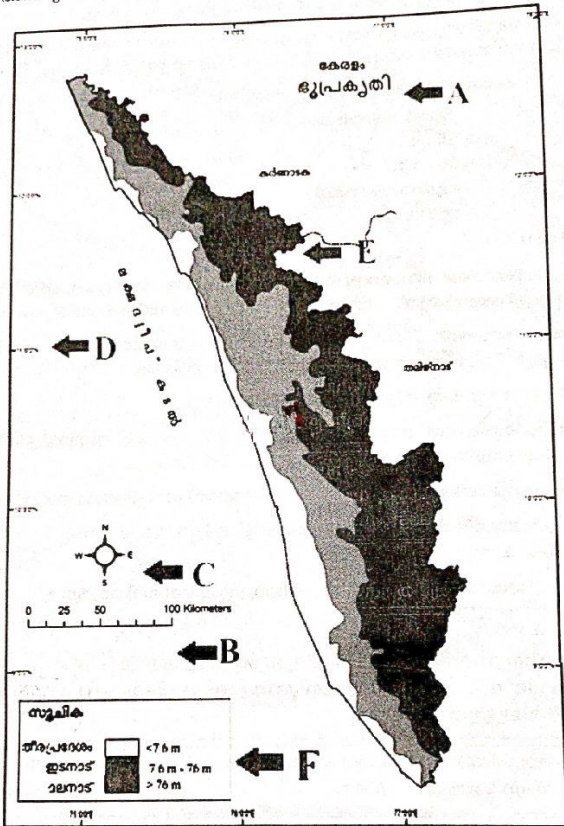
പ്രവർത്തനം - 7

കേരളസമൂഹത്തിൽ നിലനിന്നിരുന്ന ജാതിവ്യവസ്ഥയും പുരുഷാധിപത്യ കാഴ്ചപ്പാടും മൂലം വിവിധ വിഭാഗങ്ങളിൽപ്പെട്ട സ്ത്രീകളുടെ കഷ്ടതകളും അവശതകളും വ്യത്യസ്ത സാദാചരണങ്ങളായിരുന്നു.

കാസർഗോഡ് ജില്ലയിലെ ചീമേനിയിൽ നടന്ന തോൽവിറക് സമരം.	കണ്ണൂർ ജില്ലയിലെ കണ്ടകൈ ഗ്രാമത്തിൽ നടന്ന മേച്ചിൽപുല്ലു് സമരം.
തൊഴിലെടുക്കുന്ന അവർണവിഭാഗത്തിലുൾപ്പെട്ട സ്ത്രീകൾക്ക് സവർണത്തിൽ നിന്നാണ് ചൂഷണവും സാമൂഹ്യ വിവേചനവും അനുഭവിക്കേണ്ടി വന്നത്.	നമ്പൂതിരി സ്ത്രീകൾ വിടിനുള്ളിൽ ഒരുക്കപ്പെട്ടു.

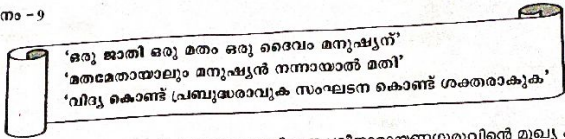
- എ) 'മേച്ചിൽപുല്ലു്' സമരത്തിന് നേതൃത്വം നൽകിയ വനിത ആരാണ്?
- ബി) സ്ത്രീ പുരുഷസമത്വത്തിലധിഷ്ഠിതമായ സമൂഹത്തെ രൂപപ്പെടുത്തുന്നതിനായി നിങ്ങൾക്ക് മുന്നോട്ട് വയ്ക്കാവുന്ന നിർദ്ദേശങ്ങൾ എന്തെല്ലാം?

ഭൂപടങ്ങളിലെ അവശ്യഘടകങ്ങൾ ഭൂപടവായനയെ സഹായിക്കുന്നു.



എ) തന്നിരിക്കുന്ന കേരളത്തിന്റെ രൂപരേഖ പരിശോധിച്ച് ഭൂപടങ്ങളിലെ അവശ്യ ഘടകങ്ങൾ ഏതെല്ലാം എന്ന് കണ്ടെത്തി എഴുതുക.

- A.
- B.
- C.
- D.
- E.
- F.



കേരളത്തിലെ സാമൂഹ്യപരിഷ്കർത്താവായിരുന്ന ശ്രീനാരായണഗുരുവിന്റെ മുഖ്യ കാഴ്ചപ്പാടുകൾ കളാണ് മേൽസൂചിപ്പിച്ചവ.

എ) ശ്രീനാരായണഗുരുവിന്റെ സാമൂഹ്യപരിഷ്കരണ പ്രവർത്തനങ്ങളെക്കുറിച്ച് ലഘൂകൂറിപ്പ് തയ്യാറാക്കുക.

(പ്രവർത്തനങ്ങൾ, ലക്ഷ്യം, പ്രസ്ഥാനം - എന്നിവ കുറിപ്പിൽ ഉൾപ്പെടുത്തുക)

സാമൂഹ്യ പരിഷ്കരണ പ്രസ്ഥാനങ്ങളിലൂടെ ആർജിച്ച പുരോഗതിയാണ് കേരളത്തെ മുന്നോട്ട് നയിച്ചത്.

- എ) സാമൂഹ്യ പരിഷ്കരണ പ്രവർത്തനങ്ങളിലൂടെ കേരളത്തിലുണ്ടായ നേട്ടങ്ങൾ എന്തെല്ലാമാണ്?
- ബി) സാമൂഹിക ഉണർവിന് പ്രചോദനമേകി കേരളത്തിൽ പ്രവർത്തിച്ച മിഷണറി സംഘങ്ങൾ ഏതെല്ലാമായിരുന്നു?